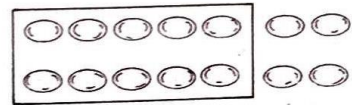
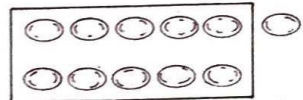
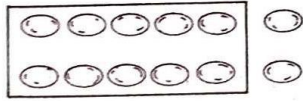




โจทย์ปัญหาการบวก ลบระคน



วันเสาร์นิตดาเก็บไข่ไก่ได้ 12 ฟอง
วันอาทิตย์เก็บได้ 11 ฟอง วันจันทร์
เก็บได้ 14 ฟอง รวมสามวันนิตดา
เก็บไข่ไก่ได้กี่ฟอง

๑. โจทย์ถามอะไร

รวมสามวันนิตดาเก็บไข่ไก่ได้กี่ฟอง

๒. โจทย์บอกอะไรบ้าง

- วันเสาร์เก็บไข่ไก่ได้ 12 ฟอง
- วันอาทิตย์เก็บได้ 11 ฟอง
- วันจันทร์เก็บได้ 14 ฟอง

๓. วันเสาร์เก็บไข่ไก่ได้ 12 ฟอง วันอาทิตย์เก็บได้ 11 ฟอง

รวมสองวันเก็บไข่ไก่ได้กี่ฟอง

$$12 + 11 = 23 \text{ ฟอง}$$

$$12 + 10 \text{ ได้ } 22$$

$$12 + 11 \text{ ได้ } 23$$

๔. ได้คำตอบที่โจทย์ต้องการหรือยัง เพราะอะไร

ยัง เพราะยังไม่ได้รวมไข่ไก่ที่เก็บได้ในวันจันทร์

๕. วันจันทร์ เก็บไข่ไก่ได้กี่ฟอง

14 ฟอง


๖. รวมสามวันเก็บไข่ไก่ได้กี่ฟอง

$$23 + 14 = 37 \text{ ฟอง}$$

$$23 + 10 \text{ ได้ } 33$$

$$23 + 14 \text{ ได้ } 37$$





วิภาดาตัดกระดาษสีไว้พับเป็นรูปสัตว์
58 แผ่น เป็นกระดาษสีแดง 20 แผ่น
กระดาษสีฟ้า 13 แผ่น นอกนั้นเป็น
กระดาษสีขาว วิภาดามีกระดาษสีขาว
กี่แผ่น

๑. โจทย์ถามอะไร

มีกระดาษสีขาวกี่แผ่น

๒. โจทย์บอกอะไรบ้าง

- มีกระดาษสี 3 สี รวมทั้งหมด 58 แผ่น
- เป็นสีแดง 20 แผ่น
- เป็นสีฟ้า 13 แผ่น
- ที่เหลือเป็นสีขาว

๓. จะหาว่ากระดาษสีขาวมีกี่แผ่น ได้อย่างไร

- นำจำนวนกระดาษสีทั้งหมดลบออกด้วยจำนวนกระดาษสีแดง
และสีฟ้า

๔. กระดาษสีแดง 20 แผ่น กระดาษสีฟ้า 13 แผ่น รวมเป็นกระดาษ
กี่แผ่น

$$20 + 13 = 33 \text{ แผ่น}$$

$$20 + 10 \text{ ได้ } 30$$

$$20 + 13 \text{ ได้ } 33$$

๕. “มีกระดาษสีทั้งหมด 58 แผ่น เป็นกระดาษสีแดงและสีฟ้ารวมกัน
33 แผ่น ที่เหลือเป็นกระดาษสีขาว มีกระดาษสีขาวกี่แผ่น” จะหาได้
อย่างไรว่ามีกระดาษสีขาวกี่แผ่น

นำ 33 ไปลบออกจาก 58

๖. กระดาษสีขาวมีกี่แผ่น

$$58 - 33 = 25 \text{ แผ่น}$$

$$53 - 33 \text{ ได้ } 20$$

$$58 - 33 \text{ ได้มากกว่า } 20$$

ใบงานกลุ่มที่

ให้นักเรียนแสดงวิธีทำเพื่อหาคำตอบ

ฉันมีเงิน 55 บาท แม่ให้อีก 30 บาท ซื้อขนมไป 20 บาท ฉันเหลือเงินกี่บาท

ประโยคสัญลักษณ์

วิธีทำ

.....

.....

.....

.....

.....

ตอบ

ตรวจคำตอบ

ใบงานกลุ่มที่

ให้นักเรียนแสดงวิธีทำเพื่อหาคำตอบ

แม่มีเงิน 45 บาท ให้อูไป 25 บาท พ่อให้แม่อีก 30 บาท แม่มีเงินกี่บาท

ประโยคสัญลักษณ์

วิธีทำ

.....

.....

.....

.....

.....

ตอบ

ตรวจคำตอบ

ใบงานกลุ่มที่

ให้นักเรียนแสดงวิธีทำเพื่อหาคำตอบ

ฉันมีส้ม 35 ผล แบ่งให้เพื่อน 20 ผล ให้พี่ไป 10 ผล ฉันเหลือส้มกี่ผล

ประโยคสัญลักษณ์

วิธีทำ

.....

.....

.....

.....

.....

ตอบ

ตรวจคำตอบ

ใบงานกลุ่มที่

ให้นักเรียนแสดงวิธีทำเพื่อหาคำตอบ

ฉันมีขนม 25 ชิ้น แม่ให้อีก 10 ชิ้น ซื้อเพิ่มอีก 14 ชิ้น ฉันมีขนมรวมกี่ชิ้น

ประโยคสัญลักษณ์

วิธีทำ

.....

.....

.....

.....

.....

ตอบ

ตรวจคำตอบ