

# หนังสือเรียน รายวิชาบังคับ

# วิทยาศาสตร์

ระดับมัธยมศึกษาตอนปลาย (พว31001)

หลักสูตรการศึกษาอกระบบระดับการศึกษาขั้นพื้นฐาน  
พุทธศักราช 2551



สำนักงานส่งเสริมการศึกษานอกระบบและการศึกษาตามอัธยาศัย  
สำนักงานปลัดกระทรวงศึกษาธิการ กระทรวงศึกษาธิการ  
เอกสารทางวิชาการลำดับที่ 11/2554

หนังสือเรียนสาระความรู้พื้นฐาน

# รายวิชา วิทยาศาสตร์

( พว 31001 )

ระดับมัธยมศึกษาตอนปลาย

(ฉบับปรับปรุง พ.ศ. 2560)

หลักสูตรการศึกษานอกระบบระดับการศึกษาขั้นพื้นฐาน

พุทธศักราช 2551



สำนักงานส่งเสริมการศึกษานอกระบบและการศึกษาตามอัธยาศัย

สำนักงานปลัดกระทรวงศึกษาธิการ

กระทรวงศึกษาธิการ

## ห้ามจำหน่าย

หนังสือเรียนเล่มนี้จัดพิมพ์ด้วยเงินงบประมาณแผ่นดินเพื่อการศึกษาตลอดชีวิตสำหรับประชาชน  
ลิขสิทธิ์เป็นของ สำนักงาน กศน. สำนักงานปลัดกระทรวงศึกษาธิการ

เอกสารทางวิชาการลำดับที่ 11/2554

หนังสือเรียนสาระความรู้พื้นฐาน

**รายวิชา วิทยาศาสตร์ ( พว 31001 )**

**ระดับมัธยมศึกษาตอนปลาย**

**ฉบับปรับปรุง พ.ศ. 2560**


ลิขสิทธิ์เป็นของ สำนักงาน กศน. สำนักงานปลัดกระทรวงศึกษาธิการ  
เอกสารทางวิชาการลำดับที่ 11/2554

## คำนำ

กระทรวงศึกษาธิการได้ประกาศใช้หลักสูตรการศึกษาจากระบบระดับการศึกษาขั้นพื้นฐาน พุทธศักราช 2551 เมื่อวันที่ 18 กันยายน พ.ศ. 2551 แทนหลักเกณฑ์และวิธีการจัดการศึกษาออกโรงเรียน ตามหลักสูตรการศึกษาขั้นพื้นฐาน พุทธศักราช 2544 ซึ่งเป็นหลักสูตรที่พัฒนาขึ้นตามหลักปรัชญาและความเชื่อพื้นฐานในการจัดการศึกษาออกโรงเรียนที่มีกลุ่มเป้าหมายเป็นผู้ใหญ่มีการเรียนรู้และสั่งสมความรู้ และประสบการณ์อย่างต่อเนื่อง

ในปีงบประมาณ 2554 กระทรวงศึกษาธิการได้กำหนดแผนยุทธศาสตร์ในการขับเคลื่อนนโยบายทางการศึกษาเพื่อเพิ่มศักยภาพและขีดความสามารถในการแข่งขันให้ประชาชนได้มีอาชีพที่สามารถสร้างรายได้ที่มั่นคงและมั่นคง เป็นบุคลากรที่มีวินัย เปี่ยมไปด้วยคุณธรรมและจริยธรรม และมีจิตสำนึกรับผิดชอบต่อตนเองและผู้อื่น สำนักงาน กศน. จึงได้พิจารณาทบทวนหลักการ จุดหมาย มาตรฐาน ผลการเรียนรู้ที่คาดหวัง และเนื้อหาสาระ ทั้ง 5 กลุ่มสาระการเรียนรู้ ของหลักสูตรการศึกษาจากระบบระดับการศึกษาขั้นพื้นฐาน พุทธศักราช 2551 ให้มีความสอดคล้องตอบสนองนโยบายกระทรวงศึกษาธิการ ซึ่งส่งผลให้ต้องปรับปรุงหนังสือเรียน โดยการเพิ่มและสอดแทรกเนื้อหาสาระเกี่ยวกับอาชีพ คุณธรรม จริยธรรมและการเตรียมพร้อม เพื่อเข้าสู่ประชาคมอาเซียน ในรายวิชาที่มีความเกี่ยวข้องสัมพันธ์กัน แต่ยังคงหลักการและวิธีการเดิมในการพัฒนาหนังสือให้ผู้เรียนศึกษาค้นคว้าความรู้ด้วยตนเอง ปฏิบัติกิจกรรม ทำแบบฝึกหัด เพื่อทดสอบความรู้ความเข้าใจ มีการอภิปรายแลกเปลี่ยนเรียนรู้กับกลุ่มหรือศึกษาเพิ่มเติมจากภูมิปัญญาท้องถิ่น แหล่งการเรียนรู้และสื่ออื่น

การปรับปรุงหนังสือเรียนในครั้งนี้ ได้รับความร่วมมืออย่างดียิ่งจากผู้ทรงคุณวุฒิในแต่ละสาขาวิชา และผู้เกี่ยวข้องในการจัดการเรียนการสอนที่ศึกษาค้นคว้า รวบรวมข้อมูลองค์ความรู้จากสื่อต่าง ๆ มาเรียบเรียงเนื้อหาให้ครบถ้วนสอดคล้องกับมาตรฐาน ผลการเรียนรู้ที่คาดหวัง ตัวชี้วัดและกรอบเนื้อหาสาระของรายวิชา สำนักงาน กศน. ขอขอบคุณผู้มีส่วนเกี่ยวข้องทุกท่านไว้ ณ โอกาสนี้ และหวังว่าหนังสือเรียนชุดนี้จะเป็นประโยชน์แก่ผู้เรียน ครู ผู้สอน และผู้เกี่ยวข้องในทุกระดับ หากมีข้อเสนอแนะประการใด สำนักงาน กศน. ขออ้อมรับด้วยความขอบคุณยิ่ง



(นายประเสริฐ บุญเรือง)

เลขาธิการ กศน.

พฤษภาคม 2554

## สารบัญ

หน้า

|  |     |
|--|-----|
| คำนำ   |     |
| คำแนะนำการใช้หนังสือเรียน                              |     |
| โครงสร้างรายวิชา (พว 31001) วิทยาศาสตร์                |     |
| บทที่ 1 ทักษะทางวิทยาศาสตร์ และกระบวนการทางวิทยาศาสตร์ | 1   |
| บทที่ 2 โครงการงานวิทยาศาสตร์                          | 28  |
| บทที่ 3 เซลล์  | 39  |
| บทที่ 4 พันธุกรรมและความหลากหลายทางชีวภาพ              | 57  |
| บทที่ 5 เทคโนโลยีชีวภาพ                                | 79  |
| บทที่ 6 ทรัพยากรธรรมชาติและสิ่งแวดล้อม                 | 88  |
| บทที่ 7 ธาตุ สมบัติของธาตุและธาตุกัมมันตรังสี          | 123 |
| บทที่ 8 สมการเคมี และปฏิกิริยาเคมี                     | 141 |
| บทที่ 9 โปริติน คาร์โบไฮเดรต และไขมัน                  | 158 |
| บทที่ 10 ปีโตรเลียมและพอลิเมอร์                        | 176 |
| บทที่ 11 สารเคมีกับชีวิตและสิ่งแวดล้อม                 | 210 |
| บทที่ 12 แรงแและการเคลื่อนที่                          | 228 |
| บทที่ 13 เทคโนโลยีอวกาศ                                | 252 |
| บทที่ 14 อาชีพช่างไฟฟ้า                                | 278 |
| เฉลยแบบฝึกหัดท้ายบท                                    | 316 |
| บรรณานุกรม   | 322 |
| คณะผู้จัดทำ  | 326 |

## คำแนะนำการใช้หนังสือเรียน

หนังสือเรียนสาระความรู้พื้นฐาน รายวิชาวิทยาศาสตร์ ระดับมัธยมศึกษาตอนปลาย รหัส พว 31001 เป็นหนังสือเรียนที่จัดทำขึ้น สำหรับผู้เรียนที่เป็นนักเรียนนอกระบบ

ในการศึกษาหนังสือเรียนสาระความรู้พื้นฐาน รายวิชาวิทยาศาสตร์ ผู้เรียนควรปฏิบัติดังนี้

1. ศึกษาโครงสร้างรายวิชาให้เข้าใจในหัวข้อและสาระสำคัญ ผลการเรียนรู้ที่คาดหวัง และ ขอบข่ายเนื้อหาของรายวิชานั้น ๆ โดยละเอียด

2. ศึกษารายละเอียดเนื้อหาของแต่ละบทอย่างละเอียด และทำกิจกรรมตามที่กำหนด แล้ว ตรวจสอบกับแนวตอบกิจกรรมตามที่กำหนด ถ้าผู้เรียนตอบผิดควรกลับไปศึกษาและทำความเข้าใจ ในเนื้อหาใหม่ให้เข้าใจ ก่อนที่จะศึกษาเรื่องต่อไป

3. ปฏิบัติกิจกรรมท้ายเรื่องของแต่ละเรื่อง เพื่อเป็นการสรุปความรู้ ความเข้าใจของเนื้อหาในเรื่อง นั้น ๆ อีกครั้ง และการปฏิบัติกิจกรรมของแต่ละเนื้อหาแต่ละเรื่อง ผู้เรียนสามารถนำไปตรวจสอบกับครูและ เพื่อน ๆ ที่ร่วมเรียนในรายวิชาและระดับเดียวกันได้

4. หนังสือเรียนเล่มนี้มี 14 บท

บทที่ 1 ทักษะทางวิทยาศาสตร์ และกระบวนการทางวิทยาศาสตร์

บทที่ 2 โครงงานวิทยาศาสตร์

บทที่ 3 เซลล์

บทที่ 4 พันธุกรรมและความหลากหลายทางชีวภาพ

บทที่ 5 เทคโนโลยีชีวภาพ

บทที่ 6 ทรัพยากรธรรมชาติและสิ่งแวดล้อม

บทที่ 7 ธาตุ สมบัติของธาตุและธาตุกัมมันตรังสี

บทที่ 8 สมการเคมี และปฏิกิริยาเคมี

บทที่ 9 โพรตีน คาร์โบไฮเดรต และไขมัน

บทที่ 10 ปีโตรเลียมและพอลิเมอร์

บทที่ 11 สารเคมีกับชีวิตและสิ่งแวดล้อม

บทที่ 12 แรงและการเคลื่อนที่

บทที่ 13 เทคโนโลยีอวกาศ

บทที่ 14 อาชีพช่างไฟฟ้า



# โครงสร้างรายวิชา (พว 31001) วิทยาศาสตร์

## สาระสำคัญ

1. กระบวนการทางวิทยาศาสตร์และเทคโนโลยี เรื่อง ธรรมชาติของวิทยาศาสตร์ กระบวนการทางวิทยาศาสตร์ วิธีการทางวิทยาศาสตร์ ทักษะกระบวนการทางวิทยาศาสตร์ เจตคติทางวิทยาศาสตร์ เทคโนโลยี และโครงการวิทยาศาสตร์
2. สิ่งมีชีวิตและสิ่งแวดล้อม เรื่อง เซลล์ พันธุกรรมและความหลากหลายทางชีวภาพ เทคโนโลยีชีวภาพ ทรัพยากรธรรมชาติและสิ่งแวดล้อม
3. สารเพื่อชีวิต เรื่อง ธาตุและสมบัติของธาตุ กัมมันตภาพรังสี สมการเคมีและปฏิกิริยาเคมี โปรตีน คาร์โบไฮเดรตและไขมัน ปิโตรเลียมและพอลิเมอร์ สารเคมีกับสิ่งมีชีวิตและสิ่งแวดล้อม
4. แรงแและพลังงานเพื่อชีวิต เรื่อง แรงแและการเคลื่อนที่ พลังงานเสียง
5. ดาราศาสตร์เพื่อชีวิต เรื่อง เทคโนโลยีอวกาศ

## ผลการเรียนรู้ที่คาดหวัง

1. ใช้ความรู้และกระบวนการทางวิทยาศาสตร์ วิธีการทางวิทยาศาสตร์ ทักษะกระบวนการทางวิทยาศาสตร์ เจตคติทางวิทยาศาสตร์  
การทำโครงการวิทยาศาสตร์และนำไปใช้ได้
2. อธิบายเกี่ยวกับการแบ่งเซลล์ พันธุกรรมและการถ่ายทอดทางพันธุกรรม การผ่าเหล่า ความหลากหลายทางชีวภาพ เทคโนโลยีชีวภาพ การใช้ประโยชน์ และผลกระทบที่เกิดจากการใช้เทคโนโลยี ชีวภาพต่อสังคม และสิ่งแวดล้อมได้
3. อธิบายเกี่ยวกับปัญหาที่เกิดจากการใช้ทรัพยากรธรรมชาติ และสิ่งแวดล้อมในระดับท้องถิ่น ประเทศและโลกปรากฏการณ์ทางธรณีวิทยาที่มีผลกระทบต่อชีวิต และสิ่งแวดล้อม วางแผนและปฏิบัติร่วมกับชุมชนเพื่อป้องกัน และแก้ไขปัญหาทรัพยากรธรรมชาติ และสิ่งแวดล้อมได้
4. อธิบายเกี่ยวกับ โครงสร้างอะตอมตารางธาตุ สมการและปฏิกิริยาเคมีที่พบในชีวิตประจำวัน คาร์โบไฮเดรต ไขมัน และโปรตีน ปิโตรเลียมและผลิตภัณฑ์ พอลิเมอร์ สารเคมีกับชีวิต การนำไปใช้และผลกระทบต่อชีวิตและสิ่งแวดล้อมได้
5. อธิบายเกี่ยวกับแรงแและความสัมพันธ์ของแรงแกับการเคลื่อนที่ในสนามโน้มถ่วง สนามแม่เหล็ก สนามไฟฟ้า การเคลื่อนที่แบบต่าง ๆ และการนำไปใช้ประโยชน์ได้

6. อธิบายเกี่ยวกับ สมบัติ ประโยชน์และมลภาวะจากเสียง ประโยชน์และโทษของธาตุกัมมันตรังสี ต่อชีวิตและสิ่งแวดล้อมได้

7. ศึกษา ค้นคว้าและอธิบายเกี่ยวกับการใช้เทคโนโลยีอวกาศในการศึกษาปรากฏการณ์ต่างๆ บน โลกและในอวกาศ

8. อธิบาย ออกแบบ วางแผน ทดลอง ทดสอบ ปฏิบัติการเรื่องไฟฟ้าได้อย่างถูกต้องและปลอดภัย คิด วิเคราะห์ เปรียบเทียบข้อดี ข้อเสีย ของการต่อวงจรไฟฟ้าแบบอนุกรม แบบขนาน แบบผสม ประยุกต์ และเลือกใช้ความรู้ และทักษะอาชีพช่างไฟฟ้า ให้เหมาะสมกับด้านบริหารจัดการและการบริการ เพื่อนำไปสู่การจัดทำโครงการงานวิทยาศาสตร์

### ขอบข่ายเนื้อหา

บทที่ 1 ทักษะทางวิทยาศาสตร์ และกระบวนการทางวิทยาศาสตร์

บทที่ 2 โครงการงานวิทยาศาสตร์

บทที่ 3 เซลล์

บทที่ 4 พันธุกรรมและความหลากหลายทางชีวภาพ

บทที่ 5 เทคโนโลยีชีวภาพ

บทที่ 6 ทรัพยากรธรรมชาติและสิ่งแวดล้อม

บทที่ 7 ธาตุ สมบัติของธาตุและธาตุกัมมันตรังสี

บทที่ 8 สมการเคมี และปฏิกิริยาเคมี

บทที่ 9 โปรตีน คาร์โบไฮเดรต และไขมัน

บทที่ 10 ปิโตรเลียมและพอลิเมอร์

บทที่ 11 สารเคมีกับชีวิตและสิ่งแวดล้อม

บทที่ 12 แรงและการเคลื่อนที่

บทที่ 13 เทคโนโลยีอวกาศ

บทที่ 14 อาชีพช่างไฟฟ้า



## บทที่ 1

### ทักษะทางวิทยาศาสตร์และกระบวนการทางวิทยาศาสตร์

#### สาระสำคัญ

วิทยาศาสตร์เป็นเรื่องของการเรียนรู้เกี่ยวกับธรรมชาติ โดยมนุษย์ใช้ทักษะต่างๆ สืบค้นและตรวจสอบ ทดลองเกี่ยวกับปรากฏการณ์ทางธรรมชาติ และนำผลที่ได้มาจัดให้เป็นระบบ และตั้งขึ้นเป็นทฤษฎี ซึ่งทักษะทางวิทยาศาสตร์ ประกอบด้วยกัน 13 ทักษะ

ในการดำเนินการหาคำตอบเรื่องใดเรื่องหนึ่งนอกจากจะต้องใช้ทักษะทางวิทยาศาสตร์แล้ว ในการหาคำตอบจะต้องมีการกำหนดลำดับขั้นตอนอย่างเป็นระบบตั้งแต่ต้นจนจบเรียกลำดับขั้นตอนในการหาคำตอบเหล่านี้ว่า กระบวนการทางวิทยาศาสตร์ ซึ่งประกอบด้วย 5 ขั้นตอน

#### ผลการเรียนรู้ที่คาดหวัง

เรื่องที่ 1 อธิบายธรรมชาติของวิทยาศาสตร์และทักษะทางวิทยาศาสตร์

เรื่องที่ 2 อธิบายขั้นตอนกระบวนการทางวิทยาศาสตร์

เรื่องที่ 3 อธิบายและบอกวิธีการใช้วัสดุและอุปกรณ์ทางวิทยาศาสตร์

#### ขอบข่ายเนื้อหา

เรื่องที่ 1 ธรรมชาติของวิทยาศาสตร์และทักษะทางวิทยาศาสตร์

เรื่องที่ 2 กระบวนการทางวิทยาศาสตร์

เรื่องที่ 3 วัสดุ และ อุปกรณ์ทางวิทยาศาสตร์

## เรื่องที่ 1 ธรรมชาติของวิทยาศาสตร์และทักษะทางวิทยาศาสตร์

วิทยาศาสตร์เป็นเรื่องของการเรียนรู้เกี่ยวกับธรรมชาติ โดยมนุษย์ใช้กระบวนการสังเกต สำรวจ ตรวจสอบ ทดลองเกี่ยวกับปรากฏการณ์ทางธรรมชาติ และนำผลมาจัดเป็นระบบหลักการ แนวคิดและทฤษฎี ดังนั้น ทักษะวิทยาศาสตร์ จึงเป็นการปฏิบัติ เพื่อให้ได้มาซึ่งคำตอบในข้อสงสัยหรือข้อสมมติฐานต่าง ๆ ของมนุษย์ตั้งไว้

ทักษะทางวิทยาศาสตร์ ประกอบด้วย

1. การสังเกต เป็นวิธีการ ได้มาของข้อสงสัย รับรู้ข้อมูล พิจารณาข้อมูล จากปรากฏการณ์ทางธรรมชาติที่เกิดขึ้น
2. ตั้งสมมติฐาน เป็นการการระดมความคิด สรุปลักษณะที่คาดว่าจะป็นคำตอบของปัญหาหรือข้อสงสัยนั้น ๆ
3. ออกแบบการทดลอง เพื่อศึกษาผลของตัวแปรที่ต้องศึกษา โดยควบคุมตัวแปรอื่น ๆ ที่อาจมีผลต่อตัวแปรที่ต้องการศึกษา
4. ดำเนินการทดลอง เป็นการจัดการกระทำกับตัวแปรที่กำหนด ซึ่งได้แก่ ตัวแปรต้น ตัวแปรตาม และตัวแปรที่ต้องควบคุม
5. รวบรวมข้อมูล เป็นการบันทึกรวบรวมผลการทดลองหรือผลจากการกระทำของตัวแปรที่กำหนด
6. แปลและสรุปผลการทดลอง

ทักษะกระบวนการทางวิทยาศาสตร์ประกอบด้วย 13 ทักษะ ดังนี้

### 1. ทักษะขั้นมูลฐาน 8 ทักษะ ได้แก่

- 1.1 ทักษะการสังเกต (Observing)
- 1.2 ทักษะการวัด (Measuring)
- 1.3 ทักษะการจำแนกหรือทักษะการจัดประเภทสิ่งของ (Classifying)
- 1.4 ทักษะการใช้ความสัมพันธ์ระหว่างสเปซกับเวลา (Using Space/Relationship)
- 1.5 ทักษะการคำนวณและการใช้จำนวน (Using Numbers)
- 1.6 ทักษะการจัดกระทำและสื่อความหมายข้อมูล (Communication)
- 1.7 ทักษะการลงความเห็นจากข้อมูล (Inferring)
- 1.8 ทักษะการพยากรณ์ (Predicting)

### 2. ทักษะขั้นสูงหรือทักษะขั้นผสม 5 ทักษะ ได้แก่

- 2.1 ทักษะการตั้งสมมติฐาน (Formulating Hypthesis)
- 2.2 ทักษะการควบคุมตัวแปร (Controlling Variables)
- 2.3 ทักษะการตีความและลงข้อสรุป (Interpreting data)

#### 2.4 ทักษะการกำหนดนิยามเชิงปฏิบัติการ (Defining Operationally)

#### 2.5 ทักษะการทดลอง (Experimenting)

รายละเอียดทักษะกระบวนการทางวิทยาศาสตร์ทั้ง 13 ทักษะ มีรายละเอียดโดยสรุปดังนี้

**ทักษะการสังเกต (Observing)** หมายถึง การใช้ประสาทสัมผัสทั้ง 5 ในการสังเกต ได้แก่ ใช้ตา ดูรูปร่าง ใช้หู ฟังเสียง ใช้ลิ้น ชิมรส ใช้จมูกดมกลิ่น และใช้ผิวหนังสัมผัสความร้อนเย็น หรือใช้มือจับต้อง ความอ่อนแข็ง เป็นต้น การใช้ประสาทสัมผัสเหล่านี้จะใช้ทีละอย่างหรือหลายอย่างพร้อมกัน เพื่อรวบรวม ข้อมูลก็ได้โดยไม่เพิ่มความคิดเห็นของผู้สังเกตลงไป

**ทักษะการวัด (Measuring)** หมายถึง การเลือกและการใช้เครื่องมือวัดปริมาณของสิ่งของ ออกมาเป็นตัวเลขที่แน่นอนได้อย่างเหมาะสม และถูกต้อง โดยมีหน่วยกำกับเสมอในการวัด เพื่อหาปริมาณ ของสิ่งที่วัดต้องฝึกให้ผู้เรียนหาคำตอบ 4 คำ คือ จะวัดอะไร วัดทำไม ใช้เครื่องมืออะไรวัดและจะวัดได้ อย่างไร

**ทักษะการจำแนกหรือทักษะการจัดประเภทสิ่งของ (Classifying)** หมายถึง การแบ่งพวก หรือการเรียงลำดับวัตถุ หรือสิ่งที่อยู่ในปรากฏการณ์ โดยการหาเกณฑ์หรือสร้างเกณฑ์ในการจำแนกประเภท ซึ่งอาจใช้เกณฑ์ความเหมือนกัน ความแตกต่างกัน หรือความสัมพันธ์กันอย่างใดอย่างหนึ่งก็ได้ ซึ่งแล้วแต่ ผู้เรียนจะเลือกใช้เกณฑ์ใด นอกจากนี้ควรสร้างความคิดรวบยอดให้เกิดขึ้นด้วยว่าของกลุ่มเดียวกันนั้น อาจแบ่งออกได้หลายประเภท ทั้งนี้ขึ้นอยู่กับเกณฑ์ที่เลือกใช้ และวัตถุชิ้นหนึ่งในเวลาเดียวกันจะต้องอยู่เพียง ประเภทเดียวเท่านั้น

**ทักษะการใช้ความสัมพันธ์ระหว่างสเปซกับเวลา (Using Space/Relationship)** หมายถึง การหาความสัมพันธ์ระหว่างมิติต่างๆ ที่เกี่ยวกับสถานที่ รูปทรง ทิศทาง ระยะทาง พื้นที่ เวลา ฯลฯ เช่น การหาความสัมพันธ์ระหว่าง สเปซกับสเปซ คือ การหารูปร่างของวัตถุ โดยสังเกตจากเงาของวัตถุ เมื่อให้แสงตกกระทบวัตถุในมุมต่างๆกัน ฯลฯ

การหาความสัมพันธ์ระหว่าง เวลากับเวลา เช่น การหาความสัมพันธ์ระหว่างจังหวะการแกว่งของ ลูกตุ้มนาฬิกา กับจังหวะการเดินของชีพจร ฯลฯ

การหาความสัมพันธ์ระหว่าง สเปซกับเวลา เช่น การหาค่าตำแหน่งของวัตถุที่เคลื่อนที่ไปเมื่อเวลา เปลี่ยนไป ฯลฯ

**ทักษะการคำนวณและการใช้จำนวน (Using Numbers)** หมายถึง การนำเอาจำนวนที่ได้ จากการวัด การสังเกต และการทดลองมาจัดกระทำให้เกิดค่าใหม่ เช่น การบวก ลบ คูณ หาร การหาค่าเฉลี่ย การหาค่าต่างๆ ทางคณิตศาสตร์ เพื่อนำค่าที่ได้จากการคำนวณ ไปใช้ประโยชน์ในการแปลความหมาย และการลงข้อสรุป ซึ่งในทางวิทยาศาสตร์เราต้องใช้ตัวเลขอยู่ตลอดเวลา เช่น การอ่านเทอร์โมมิเตอร์ การดวงสาร ต่าง ๆ เป็นต้น

### ทักษะการจัดกระทำและสื่อความหมายข้อมูล (Communication)

หมายถึงการนำเอาข้อมูล ซึ่งได้มาจากการสังเกต การทดลอง ฯลฯ มาจัดกระทำเสียใหม่ เช่น นำมาจัดเรียงลำดับ หาค่าความถี่ แยกประเภท คำนวณหาค่าใหม่ นำมาจัดเสนอในรูปแบบใหม่ ตัวอย่างเช่น กราฟ ตาราง แผนภูมิ แผนภาพ วงจร ฯลฯ การนำข้อมูลอย่างใดอย่างหนึ่ง หรือหลาย ๆ อย่างเช่นนี้เรียกว่า การสื่อความหมายข้อมูล

**ทักษะการลงความเห็นจากข้อมูล (Inferring)** หมายถึง การเพิ่มเติมความคิดเห็นให้กับข้อมูลที่มีอยู่อย่างมีเหตุผลโดยอาศัยความรู้หรือประสบการณ์เดิมมาช่วย ข้อมูลอาจจะได้จากการสังเกต การวัด การทดลอง การลงความเห็นจากข้อมูลเดียวกันอาจลงความเห็นได้หลายอย่าง

**ทักษะการพยากรณ์ (Predicting)** หมายถึง การคาดคะเนหาคำตอบล่วงหน้าก่อนการทดลองโดยอาศัยข้อมูลที่ได้จากการสังเกต การวัด รวมไปถึงความสัมพันธ์ระหว่างตัวแปรที่ได้ศึกษามาแล้ว หรืออาศัยประสบการณ์ที่เกิดขึ้น ๆ

**ทักษะการตั้งสมมุติฐาน (Formulating Hypothesis)** หมายถึง การคิดหาคำคำตอบล่วงหน้าก่อนจะทำการทดลอง โดยอาศัยการสังเกต ความรู้ ประสบการณ์เดิมเป็นพื้นฐาน คำตอบที่คิดล่วงหน้ายังไม่เป็นหลักการ กฎ หรือทฤษฎีมาก่อน คำตอบที่คิดไว้ล่วงหน้านี้ มักกล่าวไว้เป็นข้อความที่บอกความสัมพันธ์ระหว่างตัวแปรต้นกับตัวแปรตามเช่น ถ้าแมลงวัน ไปไข่บนก้อนเนื้อ หรือขยะเปียกแล้วจะทำให้เกิดตัวหนอน

**ทักษะการควบคุมตัวแปร (Controlling Variables)** หมายถึง การควบคุมสิ่งอื่น ๆ นอกเหนือจากตัวแปรอิสระ ที่จะทำให้ผลการทดลองคลาดเคลื่อน ถ้าหากว่าไม่ควบคุมให้เหมือน ๆ กัน และเป็นการป้องกันเพื่อมิให้มีข้อโต้แย้ง ข้อผิดพลาดหรือตัดความไม่น่าเชื่อถือออกไป

ตัวแปรแบ่งออกเป็น 3 ประเภท คือ

1. ตัวแปรอิสระหรือตัวแปรต้น
2. ตัวแปรตาม
3. ตัวแปรที่ต้องควบคุม

### ทักษะการตีความและลงข้อสรุป (Interpreting data)

ข้อมูลทางวิทยาศาสตร์ ส่วนใหญ่จะอยู่ในรูปของลักษณะตาราง รูปภาพ กราฟ ฯลฯ การนำข้อมูลไปใช้จึงจำเป็นต้องตีความให้สะดวกที่จะสื่อความหมายได้ถูกต้องและเข้าใจตรงกัน

**การตีความหมายข้อมูล** คือ การบรรยายลักษณะและคุณสมบัติ

**การลงข้อสรุป** คือ การบอกความสัมพันธ์ของข้อมูลที่มีอยู่ เช่น ถ้าความดันน้อย น้ำจะเดือดที่อุณหภูมิต่ำหรือน้ำจะเดือดเร็ว ถ้าความดันมากน้ำจะเดือดที่อุณหภูมิต่ำหรือน้ำจะเดือดช้าลง

**ทักษะการกำหนดนิยามเชิงปฏิบัติการ (Defining Operationally)** หมายถึง การกำหนดความหมาย และขอบเขตของคำต่าง ๆ ที่มีอยู่ในสมมุติฐานที่จะทดลองให้มีความรัดกุม เป็นที่เข้าใจตรงกัน

และสามารถสังเกตและวัดได้ เช่น “ การเจริญเติบโต ” หมายความว่าอย่างไร ต้องกำหนดนิยามให้ชัดเจน เช่น การเจริญเติบโตหมายถึง มีความสูงเพิ่มขึ้น เป็นต้น

**ทักษะการทดลอง ( Experimenting )** หมายถึง กระบวนการปฏิบัติการโดยใช้ทักษะต่าง ๆ เช่น การสังเกต การวัด การพยากรณ์ การตั้งสมมุติฐาน ฯลฯ มาใช้ร่วมกัน เพื่อหาคำตอบ หรือทดลองสมมุติฐานที่ตั้งไว้ ซึ่งประกอบด้วยกิจกรรม 3 ขั้นตอน

1. การออกแบบการทดลอง
2. การปฏิบัติการทดลอง
3. การบันทึกผลการทดลอง

การใช้กระบวนการวิทยาศาสตร์ แสวงหาความรู้ หรือแก้ปัญหาอย่างสม่ำเสมอ ช่วยพัฒนาความคิดสร้างสรรค์ทางวิทยาศาสตร์ เกิดผลผลิตหรือผลิตภัณฑ์ทางวิทยาศาสตร์ เกิดผลผลิตหรือผลิตภัณฑ์ทางวิทยาศาสตร์ ที่แปลกใหม่ และมีคุณค่าต่อการดำรงชีวิตของมนุษย์มากขึ้น

**คุณลักษณะของบุคคลที่มีจิตวิทยาศาสตร์ 6 ลักษณะ**

1. เป็นคนที่มีเหตุผล
  - 1) จะต้องเป็นคนที่ยอมรับ และเชื่อในความสำเร็จของเหตุผล
  - 2) ไม่เชื่อ โชคลาง คำทำนาย หรือสิ่งศักดิ์สิทธิ์ต่าง ๆ
  - 3) ค้นหาสาเหตุของปัญหาหรือเหตุการณ์และหาความสัมพันธ์ของสาเหตุกับผลที่เกิดขึ้น
  - 4) ต้องเป็นบุคคลที่สนใจปรากฏการณ์ต่าง ๆ ที่เกิดขึ้น และจะต้องเป็นบุคคลที่พยายามค้นหาคำตอบว่า ปรากฏการณ์ต่าง ๆ นั้นเกิดขึ้นได้อย่างไร และทำไมจึงเกิดเหตุการณ์เช่นนั้น
2. เป็นคนที่มีความอยากรู้อยากเห็น
  - 1) มีความพยายามที่จะแสวงหาความรู้ในสถานการณ์ใหม่ ๆ อยู่เสมอ
  - 2) ตระหนักถึงความสำคัญของการแสวงหาข้อมูลเพิ่มเติมเสมอ
  - 3) จะต้องเป็นบุคคลที่ชอบซักถาม ค้นหาความรู้โดยวิธีการต่าง ๆ อยู่เสมอ
3. เป็นบุคคลที่มีใจกว้าง
  - 1) เป็นบุคคลที่กล้ายอมรับการวิพากษ์วิจารณ์จากบุคคลอื่น
  - 2) เป็นบุคคลที่จะรับรู้และยอมรับความคิดเห็นใหม่ ๆ อยู่เสมอ
  - 3) เป็นบุคคลที่เต็มใจที่จะเผยแพร่ความรู้และความคิดให้แก่บุคคลอื่น
  - 4) ตระหนักและยอมรับข้อจำกัดของความรู้ที่ค้นพบในปัจจุบัน
4. เป็นบุคคลที่มีความซื่อสัตย์ และมีใจเป็นกลาง
  - 1) เป็นบุคคลที่มีความซื่อตรง อุดมคุณ ยุติธรรม และละเอียดรอบคอบ
  - 2) เป็นบุคคลที่มีความมั่นคง หนักแน่นต่อผลที่ได้จากการพิสูจน์
  - 3) สังเกตและบันทึกผลต่าง ๆ อย่างตรงไปตรงมา ไม่ลำเอียง หรือมีอคติ

## 5. มีความเพียรพยายาม

- 1) ทำกิจกรรมที่ได้รับมอบหมายให้เสร็จสมบูรณ์
- 2) ไม่ท้อถอยเมื่อผลการทดลองล้มเหลว หรือมีอุปสรรค
- 3) มีความตั้งใจแน่วแน่ต่อการค้นหาความรู้

## 6. มีความละเอียดรอบคอบ

- 1) รู้จักใช้วิจารณญาณก่อนที่จะตัดสินใจใด ๆ
- 2) ไม่ยอมรับสิ่งหนึ่งสิ่งใดจนกว่าจะมีการพิสูจน์ที่เชื่อถือได้
- 3) หลีกเลี่ยงการตัดสินใจ และการสรุปผลที่ยังไม่มีการวิเคราะห์แล้วเป็นอย่างดี

## เรื่องที่ 2 กระบวนการทางวิทยาศาสตร์

การดำเนินการเรื่องใดเรื่องหนึ่งจะต้องมีการกำหนดขั้นตอน อย่างเป็นลำดับตั้งแต่ต้นจนแล้วเสร็จตามจุดประสงค์ที่กำหนด

กระบวนการทางวิทยาศาสตร์ จึงเป็นแนวทางการดำเนินการ โดยใช้ทักษะวิทยาศาสตร์มาใช้ในการจัดการ ซึ่งมีลำดับขั้นตอน 5 ขั้นตอน ดังนี้

1. การกำหนดปัญหา
2. การตั้งสมมติฐาน
3. การทดลองและรวบรวมข้อมูล
4. การวิเคราะห์ข้อมูล
5. การสรุปผล

**ขั้นตอนที่ 1** การกำหนดปัญหา เป็นการกำหนดหัวเรื่องที่จะศึกษาหรือปฏิบัติการแก้ปัญหาเป็นปัญหาที่ได้มาจากการสังเกต จากข้อสงสัยในปรากฏการณ์ต่าง ๆ ที่พบเห็น เช่น ทำไมต้นไม้ที่ปลูกไว้ใบเหี่ยวเฉา ปัญหาหมอนอนมาจะกึ่งมะม่วงแก้ไขได้อย่างไร ปรากฏคชขายพันธุ์ได้อย่างไร

ตัวอย่างการกำหนดปัญหา

ป่าไม้หลายแห่งถูกทำลายอยู่ในสภาพที่ไม่สมดุล หน้าดินเกิดการพังทลาย ไม่มีต้นไม้หรือวัชพืชหญ้าปกคลุมดิน เมื่อฝนตกลงมาน้ำฝนจะกัดเซาะหน้าดินไปกับกระแสน้ำแต่บริเวณพื้นที่มีวัชพืชและหญ้าปกคลุมดินจะช่วยดูดซับน้ำฝนและลดอัตราการไหลของน้ำ ดังนั้นผู้ดำเนินการจึงสนใจอยากทราบว่า อัตราการไหลของน้ำจะขึ้นอยู่กับสิ่งที่จะช่วยดูดซับน้ำหรือไม่ โดยทดลองใช้แผ่นใยขัดเพื่อทดสอบอัตรา การไหลของน้ำ จึงจัดทำโครงการ การทดลอง การลดอัตราไหลของน้ำโดยใช้แผ่นใยขัด

**ขั้นตอนที่ 2** การตั้งสมมติฐานและการกำหนดตัวแปรเป็นการคาดคะเนคำตอบของปัญหาใดปัญหาหนึ่งอย่างมีเหตุผล โดยอาศัยข้อมูลจากการสังเกต การศึกษาจากเอกสารที่เกี่ยวข้อง การพบผู้รู้



ในเรื่องนั้น ๆ ฯลฯ และกำหนดตัวแปรที่เกี่ยวข้องกับการทดลอง ได้แก่ ตัวแปรต้น ตัวแปรตาม ตัวแปรควบคุม

#### ตัวอย่าง สมมติฐาน

แผ่นใยขัดช่วยลดอัตราการไหลของน้ำ (ทำให้น้ำไหลช้าลง)

ตัวแปร

ตัวแปรต้น คือ แผ่นใยขัด

ตัวแปรตาม คือ ปริมาณน้ำที่ไหล

ตัวแปรควบคุม คือ ปริมาณน้ำที่เทหรือรด

**ขั้นตอนที่ 3** การทดลองและรวบรวมข้อมูล เป็นการปฏิบัติการทดลองค้นหาความจริงให้สอดคล้องกับสมมติฐานที่ตั้งไว้ในขั้นตอนการตั้งสมมติฐาน (ขั้นตอนที่ 2) และรวบรวมข้อมูลจากการทดลองหรือปฏิบัติการนั้นอย่างเป็นระบบ

#### ตัวอย่าง

การออกแบบการทดลอง

วัสดุอุปกรณ์ จัดเตรียมวัสดุอุปกรณ์ โดยจัดเตรียม กระบะ จำนวน 2 กระบะ

- ทรายสำหรับใส่กระบะทั้ง 2 ให้มีปริมาณเท่า ๆ กัน
- กิ่งไม้จำลอง สำหรับปักในกระบะทั้ง 2 จำนวนเท่า ๆ กัน
- แผ่นใยขัด สำหรับปูบนพื้นทรายกระบะใดกระบะหนึ่ง
- น้ำ สำหรับเทลงในกระบะทั้ง 2 กระบะปริมาณเท่า ๆ กัน

**ขั้นตอนที่ 4** การวิเคราะห์ข้อมูลและทดสอบสมมติฐานเป็นการนำข้อมูลที่รวบรวมได้จากขั้นตอนการทดลองและรวบรวมข้อมูล (ขั้นตอนที่ 3) มาวิเคราะห์หาความสัมพันธ์ของข้อเท็จจริงต่าง ๆ เพื่อนำมาอธิบายและตรวจสอบกับสมมติฐานที่ตั้งไว้ในขั้นตอนการตั้งสมมติฐาน (ขั้นตอนที่ 2) ถ้าผลการวิเคราะห์ไม่สอดคล้องกับสมมติฐาน สรุปได้ว่าสมมติฐานนั้นไม่ถูกต้อง ถ้าผลวิเคราะห์สอดคล้องกับสมมติฐาน ตรวจสอบหลายครั้งได้ผลเหมือนเดิมก็สรุปได้ว่าสมมติฐานและการทดลองนั้นเป็นจริง สามารถนำไปอ้างอิงหรือเป็นทฤษฎีต่อไป

#### ตัวอย่าง

วิธีการทดลอง นำทรายใส่กระบะทั้ง 2 ให้มีปริมาณเท่า ๆ กัน ทำเป็นพื้นลาดเอียง

กระบะที่ 1 วางแผ่นใยขัดในกระบะทรายแล้วปักกิ่งไม้จำลอง

กระบะที่ 2 ปักกิ่งไม้จำลองโดยไม่มีแผ่นใยขัด

ทดลองเทน้ำจากฝักบัวที่มีปริมาณน้ำเท่า ๆ กัน พร้อม ๆ กัน ทั้ง 2 กระบะ การทดลอง

ควรทดลองมากกว่า 1 ครั้ง เพื่อให้ได้ผลการทดลองที่มีความน่าเชื่อถือ

ผลการทดลอง

กระบอกที่ 1 (มีแผ่นใยขัด) น้ำที่ไหลลงมาในกระบอก จะไหลอย่างช้า ๆ เหลือปริมาณน้อย พื้นทรายไม่พัง กิ่งไม้จำลองไม่ล้ม

กระบอกที่ 2 (ไม่มีแผ่นใยขัด) น้ำที่ไหลลงสู่พื้นกระบอกจะไหลอย่างรวดเร็ว พร้อมพัดพาเอากิ่งไม้จำลองมาด้วย พื้นทรายพังทลายจำนวนมาก

**ขั้นตอนที่ 5** การสรุปผล เป็นการสรุปผลการศึกษา การทดลอง หรือการปฏิบัติการนั้น ๆ โดยอาศัยข้อมูลและการวิเคราะห์ข้อมูลจากขั้นตอนการวิเคราะห์ข้อมูล (ขั้นตอนที่ 4) เป็นหลัก สรุปผลการทดลอง

จากการทดลองสรุปได้ว่าแผ่นใยขัดมีผลต่อการไหลของน้ำ ทำให้น้ำไหลได้อย่างช้าลง รวมทั้งช่วยให้กิ่งไม้จำลองยึดติดกับทรายในกระบอกได้ ซึ่งต่างจากกระบอกที่มีแผ่นใยขัดที่น้ำไหลอย่างรวดเร็ว และพัดพาเอากิ่งไม้และทรายลงไปด้วย

เมื่อดำเนินการเสร็จสิ้น 5 ขั้นตอนนี้แล้ว ผู้ดำเนินการต้องจัดทำเป็นเอกสารรายงานการศึกษา การทดลองหรือการปฏิบัติการนั้นเพื่อเผยแพร่ต่อไป

## เทคโนโลยี และการนำเทคโนโลยีไปใช้

### เทคโนโลยี

**เทคโนโลยี (Technology)** หมายถึง ความรู้ วิชาการรวมกับความรู้วิธีการและความชำนาญที่สามารถนำไปปฏิบัติให้เกิดประโยชน์สูงสุด สนองความต้องการของมนุษย์เป็นสิ่งที่มนุษย์พัฒนาขึ้น เพื่อช่วยในการทำงานหรือแก้ปัญหาต่าง ๆ เช่น อุปกรณ์, เครื่องมือ, เครื่องจักร, วัสดุ หรือ แม้กระทั่งที่ไม่ได้เป็นสิ่งของที่จับต้องได้ เช่น ระบบหรือกระบวนการต่าง ๆ เทคโนโลยี มีความสัมพันธ์กับการดำรงชีวิตของมนุษย์มาเป็นเวลานาน เป็นสิ่งที่มนุษย์ใช้แก้ปัญหาพื้นฐาน ในการดำรงชีวิต เช่น การเพาะปลูก ที่อยู่อาศัย เครื่องนุ่งห่ม ยารักษาโรค ในระยะแรกเทคโนโลยีที่นำมาใช้ เป็น เทคโนโลยีพื้นฐาน ไม่สลับซับซ้อนเหมือนดังปัจจุบัน การเพิ่มของประชากร และข้อจำกัดด้านทรัพยากรธรรมชาติ รวมทั้งมีการพัฒนาความสัมพันธ์กับต่างประเทศเป็นปัจจัยด้านเหตุสำคัญในการนำและพัฒนาเทคโนโลยีมาใช้มากขึ้น

### เทคโนโลยีในการประกอบอาชีพ

1. เทคโนโลยีกับการพัฒนาอุตสาหกรรม การนำเทคโนโลยีมาใช้ในการผลิต ทำให้ประสิทธิภาพในการผลิตเพิ่มขึ้น ประหยัดแรงงาน ลดต้นทุนและ รักษาสภาพแวดล้อม เทคโนโลยีที่มีบทบาทในการพัฒนาอุตสาหกรรมในประเทศไทย เช่น คอมพิวเตอร์ และอิเล็กทรอนิกส์ การสื่อสาร เทคโนโลยีชีวภาพ และพันธุกรรม วิศวกรรม เทคโนโลยีเลเซอร์ การสื่อสาร การแพทย์ เทคโนโลยีพลังงาน เทคโนโลยีวัสดุศาสตร์ เช่น พลาสติก แก้ว วัสดุก่อสร้าง โลหะ

2. เทคโนโลยีกับการพัฒนาด้านการเกษตร ใช้เทคโนโลยีในการเพิ่มผลผลิต ปรับปรุงพันธุ์ เป็นต้น เทคโนโลยีมีบทบาทในการพัฒนาอย่างมาก แต่ทั้งนี้การนำเทคโนโลยีมาใช้ในการพัฒนาจะต้องศึกษาปัจจัย

แวดล้อมหลายด้าน เช่น ทรัพยากรสิ่งแวดล้อม ความเสมอภาคในโอกาสการแข่งขันทางเศรษฐกิจและสังคม เพื่อให้เกิดความ ผสมกลมกลืนต่อการพัฒนาประเทศชาติและส่วนอื่น ๆ อีกมาก

### เทคโนโลยีที่ใช้ในชีวิตประจำวัน

การนำเทคโนโลยีมาใช้ในชีวิตประจำวันของมนุษย์มีมากมาย เนื่องจากการได้รับการพัฒนาทางด้านเทคโนโลยีกันอย่างกว้างขวาง เช่น การส่งจดหมายผ่านทางอินเทอร์เน็ต การหาความรู้ผ่านอินเทอร์เน็ต การพูดคุยและแลกเปลี่ยนความคิดเห็นกัน การอ่านหนังสือผ่านอินเทอร์เน็ต ล้วนแต่เป็นเทคโนโลยีที่มีความก้าวหน้าอย่างรวดเร็ว เป็นการประหยัดเวลาและสามารถหาความรู้ต่าง ๆ ได้รวดเร็วยิ่งขึ้น

เทคโนโลยีก่อเกิดผลกระทบต่อสังคมและในพื้นที่ที่มีเทคโนโลยีเข้าไปเกี่ยวข้องในหลายรูปแบบ เทคโนโลยีได้ช่วยให้สังคมหลาย ๆ แห่งเกิดการพัฒนาทางเศรษฐกิจมากขึ้นซึ่งรวมทั้งเศรษฐกิจโลกในปัจจุบัน ในหลาย ๆ ขั้นตอนของการผลิตโดยใช้เทคโนโลยีได้ก่อให้เกิดผลผลิตที่ไม่ต้องการ หรือเรียกว่ามลภาวะ เกิดการสูญเสียทรัพยากรธรรมชาติและเป็นการทำลายสิ่งแวดล้อม เทคโนโลยีหลาย ๆ อย่างที่ถูกนำมาใช้มีผลต่อค่านิยม และวัฒนธรรมของสังคม เมื่อมีเทคโนโลยีใหม่ ๆ เกิดขึ้นก็มักจะถูกตั้งคำถามทางจริยธรรม

### เทคโนโลยีที่เหมาะสม

คำว่าเทคโนโลยีที่เหมาะสม หมายความว่าเหมาะสมต่อสภาพเศรษฐกิจ สังคม และความต้องการของประเทศ เทคโนโลยีบางเรื่องเหมาะสมกับบางประเทศ ทั้งนี้ขึ้นอยู่กับสถานะของแต่ละประเทศ

1. ความจำเป็นที่นำเทคโนโลยีมาใช้ในประเทศไทย ประชาชนส่วนใหญ่เป็นเกษตรกร รายได้จากผลผลิตทางการเกษตรมีมากกว่ารายได้่ออื่น และประมาณร้อยละ 80 ของประชากรอาศัยอยู่ในชนบท ดังนั้น การนำเทคโนโลยีมาใช้จึงเป็นเรื่องจำเป็น โดยเฉพาะอย่างยิ่งเทคโนโลยีทางการเกษตร สินค้าทางการเกษตร ส่วนใหญ่ส่งออกจำหน่ายต่างประเทศในลักษณะวัตถุดิบ เช่น การขายเมล็ดโกโก้ให้ต่างประเทศ แล้วนำไปผลิตเป็นช็อกโกแลต หากตั้งโรงงานในประเทศไทยต้องใช้เทคโนโลยีเข้ามามีบทบาทในการพัฒนาการแปรรูป

2. เทคโนโลยีที่เหมาะสม มีผู้รู้หลายท่านได้ตีความหมายของคำว่า “เหมาะสม” ว่าเหมาะสมกับอะไรต่อเศรษฐกิจระยะเวลาหรือระดับเทคโนโลยีที่เหมาะสม คือ เทคโนโลยีที่สามารถนำมาใช้ให้เกิดประโยชน์ต่อการดำเนินกิจการต่าง ๆ และสอดคล้องกับความรู้ ความสามารถ ประสิทธิภาพ สภาพแวดล้อม วัฒนธรรมสิ่งแวดล้อม และกำลังเศรษฐกิจของคนทั่วไป

### เทคโนโลยีที่เกี่ยวข้อง ได้แก่

1. การตัดต่อยีน (genetic engineering) เทคโนโลยีดีเอ็นเอสายผสม (recombinant DNA) และเทคโนโลยีโมเลกุลเครื่องหมาย (molecular markers)
2. การเพาะเลี้ยงเซลล์ และการเพาะเลี้ยงเนื้อเยื่อ (cell and tissue culturing) พืช และสัตว์
3. การใช้ประโยชน์จุลินทรีย์บางชนิดหรือใช้ประโยชน์จากเอนไซม์ของจุลินทรีย์

## เทคโนโลยีชีวภาพทางการเกษตร

ได้แก่การพัฒนาการเกษตร ด้านพืช และสัตว์ ด้วยเทคโนโลยีชีวภาพ

1. การปรับปรุงพันธุ์พืชและการผลิตพืชพันธุ์ใหม่ (crop Improvement) เช่น พืชไร่ พืชผัก ไม้ดอก
2. การผลิตพืชพันธุ์ดีให้ได้ปริมาณมาก ๆ ในระยะเวลาอันสั้น (micropropagation)
3. การผสมพันธุ์สัตว์และการปรับปรุงพันธุ์สัตว์ (breeding and upgrading of livestock)
4. การควบคุมศัตรูพืชโดยชีววิธี (biological pest control) และจุลินทรีย์ที่ช่วยรักษาสภาพแวดล้อม
5. การปรับปรุงขบวนการการผลิตอาหารให้มีประสิทธิภาพและมีความปลอดภัยต่อผู้บริโภค
6. การริเริ่มค้นคว้าหาทรัพยากรธรรมชาติมาใช้ประโยชน์ (search for utilization of unused resources) และการสร้างทรัพยากรใหม่

## เรื่องที่ 3 วัสดุและอุปกรณ์ทางวิทยาศาสตร์

**อุปกรณ์ทางวิทยาศาสตร์** คือ เครื่องมือที่ใช้ทั้งภายในและภายนอกห้องปฏิบัติการเพื่อใช้ทดลองและหาคำตอบต่าง ๆ ทางวิทยาศาสตร์

### ประเภทของเครื่องมือทางวิทยาศาสตร์

1. ประเภททั่วไป เช่น บีกเกอร์ หลอดทดสอบ ไพเพต บิวเรต กระบอกตวง หลอดหยดสาร แท่งแก้วคนสาร ซึ่งอุปกรณ์เหล่านี้ผลิตขึ้นจากวัสดุที่เป็นแก้วเนื่องจากป้องกันการทำปฏิกิริยากับสารเคมี นอกจากนี้ยังมี เครื่องชั่งแบบต่าง ๆ กล้องจุลทรรศน์ ตะเกียงแอลกอฮอล์ เป็นต้น ซึ่งอุปกรณ์เหล่านี้มีวิธีใช้งานที่แตกต่างกันออกไป ตามลักษณะของงาน
2. ประเภทเครื่องมือช่าง เป็นอุปกรณ์ที่ใช้ได้ทั้งภายในห้องปฏิบัติการ และภายนอกห้องปฏิบัติการ เช่น เวอร์เนีย คีม และแปรง เป็นต้น
3. ประเภทสิ้นเปลือง และสารเคมี เป็นอุปกรณ์ทางวิทยาศาสตร์ที่ใช้แล้วหมดไปไม่สามารถนำกลับมาใช้ได้อีก เช่น กระดาษกรอง กระดาษลิตมัส และสารเคมี

### การใช้อุปกรณ์ทางวิทยาศาสตร์ประเภทต่าง ๆ

#### 1. การใช้งานอุปกรณ์วิทยาศาสตร์ประเภททั่วไป

##### บีกเกอร์(BEAKER)

บีกเกอร์มีหลายขนาดและมีความจุต่างกัน โดยที่ข้างบีกเกอร์จะมีตัวเลขระบุความจุของบีกเกอร์ ทำให้ผู้ใช้สามารถทราบปริมาตรของของเหลวที่บรรจุอยู่ได้อย่างคร่าว ๆ และบีกเกอร์มีความจุตั้งแต่ 5 มิลลิลิตรจนถึงหลาย ๆ ลิตร อีกทั้งยังเป็นแบบสูง แบบเตี้ย และแบบรูปทรงกรวย (conical beaker) บีกเกอร์จะมีปากงอเหมือนปากนกซึ่งเรียกว่า spout ทำให้การเทของเหลวออกได้โดยสะดวก spout ทำให้สะดวกในการวางไม้แก้วซึ่งยื่นออกมาจากฝาที่ปิดบีกเกอร์ และ spout ยังเป็นทางออกของไอน้ำหรือแก๊ส เมื่อทำการระเหยของเหลวในบีกเกอร์ที่ปิดด้วยกระดาษฟิคา (watch glass)

การเลือกขนาดของบีกเกอร์เพื่อใส่ของเหลวที่ขึ้นขึ้นอยู่กับปริมาณของเหลวที่จะใส่ โดยปกติให้ระดับของเหลวอยู่ต่ำกว่าปากบีกเกอร์ประมาณ 1 - 1 ½ นิ้ว

### ประโยชน์ของบีกเกอร์

1. ใช้สำหรับต้มสารละลายที่มีปริมาณมาก ๆ
2. ใช้สำหรับเตรียมสารละลายต่าง ๆ
3. ใช้สำหรับตกตะกอนและใช้ระเหยของเหลวที่มีฤทธิ์กัดกร่อนน้อย



### หลอดทดสอบ ( TEST TUBE )

หลอดทดสอบมีหลายชนิดและหลายขนาด ชนิดที่มีปากและไม่มีปาก ชนิดธรรมดาและชนิดทนไฟ ขนาดของหลอดทดสอบระบุได้ 2 แบบ คือ ความยาวกับเส้นผ่าศูนย์กลางริมนอกหรือขนาดความจุเป็นปริมาตร ดังแสดงในตารางต่อไปนี้

| ความยาว * เส้นผ่าศูนย์กลางริมนอก<br>(มิลลิเมตร) | ความจุ<br>(มิลลิลิตร) |
|---|-----------------------|
| 75 * 11   | 4                     |
| 100 * 12  | 8                     |
| 120 * 15  | 14                    |
| 120 * 18  | 18                    |
| 150 * 16  | 20                    |
| 150 * 18  | 27                    |

หลอดทดสอบส่วนมากใช้สำหรับทดลองปฏิกิริยาเคมีระหว่างสารต่าง ๆ ที่เป็นสารละลาย ใช้ต้มของเหลวที่มีปริมาตรน้อย ๆ โดยมี test tube holder จับกันร้อนมือ

หลอดทดสอบแบบทนไฟจะมีขนาดใหญ่ และหนักกว่าหลอดธรรมดา ใช้สำหรับเผาสารต่าง ๆ ด้วยเปลวไฟโดยตรงในอุณหภูมิที่สูง หลอดชนิดนี้ไม่ควรนำไปใช้สำหรับทดลองปฏิกิริยาเคมีระหว่างสารเหมือนหลอดธรรมดา

### ไพเพต (PIPETTE)

ไพเพตเป็นอุปกรณ์ที่ใช้ในการวัดปริมาตรได้อย่างใกล้เคียง มีอยู่หลายชนิด แต่โดยทั่วไปที่มีใช้อยู่ในห้องปฏิบัติการมีอยู่ 2 แบบ คือ Volumetric pipette หรือ Transfer pipette และ Measuring pipette Transfer pipette ซึ่งใช้ในการวัดปริมาตรได้เพียงค่าเดียว คือถ้าหาก Transfer pipette จุ 25 มล. ก็จะใช้วัด

ปริมาตรของของเหลวได้เฉพาะ 25 มล. เท่านั้น Transfer pipette มีหลายขนาดตั้งแต่ 1 มล. ถึง 100 มล. ถึงแม้ไพเพตชนิดนี้จะใช้วัดปริมาตรได้อย่างใกล้เคียงความจริงก็ตาม แต่ก็ยังมีข้อผิดพลาดซึ่งขึ้นอยู่กับขนาดของไพเพต เช่น

Transfer pipette ขนาด 10 มล. มีความผิดพลาด 0.2%

Transfer pipette ขนาด 30 มล. มีความผิดพลาด 0.1%

Transfer pipette ขนาด 50 มล. มีความผิดพลาด 0.1%



Transfer pipette ใช้สำหรับส่งผ่านของสารละลาย ที่มีปริมาตรตามขนาดของไพเพต เมื่อปล่อยสารละลายออกจากไพเพตแล้ว ห้ามเป่าสารละลายที่ตกค้างอยู่ที่ปลายของไพเพต แต่ควรแตะปลายไพเพตกับข้างภาชนะเหนือระดับสารละลายภายในภาชนะนั้นประมาณ 30 วินาที เพื่อให้สารละลายที่อยู่ข้างในไพเพตไหลออกมาอีก ไพเพตชนิดนี้ใช้ได้ง่ายและเร็วกว่าบิวเรต Measuring pipette หรือ Graduated pipette (บางทีเรียกว่า Mohr pipette) จะมีขีดบอกปริมาตรต่าง ๆ ไว้ ทำให้สามารถใช้ได้อย่างกว้างขวาง คือสามารถใช้แทน Transfer pipette ได้ แต่ใช้วัดปริมาตรได้แน่นอนน้อยกว่า Transfer pipette และมีความผิดพลาดมากกว่า เช่น

Measuring pipette ขนาด 10 มล. มีความผิดพลาด 0.3%

Measuring pipette ขนาด 30 มล. มีความผิดพลาด 0.3%

### บิวเรต (BURETTE)

บิวเรตเป็นอุปกรณ์วัดปริมาตรที่มีขีดบอกปริมาตรต่าง ๆ และมีก๊อกสำหรับเปิด-ปิด เพื่อบังคับการไหลของของเหลว บิวเรตเป็นอุปกรณ์ที่ใช้ในการวิเคราะห์ มีขนาดตั้งแต่ 10 มล. จนถึง 100 มล. บิวเรตสามารถวัดปริมาตรได้อย่างใกล้เคียงความจริงมากที่สุด แต่ก็ยังมีความผิดพลาดอยู่เล็กน้อย ซึ่งขึ้นอยู่กับขนาดของบิวเรต เช่น

บิวเรตขนาด 10 มล. มีความผิดพลาด 0.4%

บิวเรตขนาด 25 มล. มีความผิดพลาด 0.24%

บิวเรตขนาด 50 มล. มีความผิดพลาด 0.2%

บิวเรตขนาด 100 มล. มีความผิดพลาด 0.2%





## เครื่องชั่ง ( BALANCE )

โดยทั่วไปจะมี 2 แบบคือ แบบ triple - beam และ แบบ equal - arm

### แบบ triple-beam balance

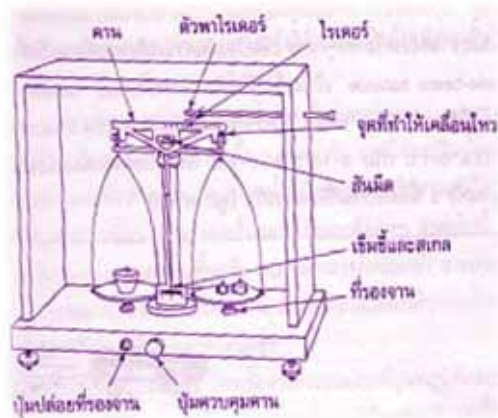
เป็นเครื่องชั่งชนิด Mechanical balance อีกชนิดหนึ่งที่มีราคาถูกและใช้ง่าย แต่มีความไวน้อย เครื่องชั่งชนิดนี้มีแขนข้างขวาอยู่ 3 แขนและในแต่ละแขนจะมีขีดบอกร้าน้ำหนักไว้เช่น 0 - 1.0 กรัม, 0 - 10 กรัม, 0 - 100 กรัม และยังมีตุ้มน้ำหนักสำหรับเลื่อนไปมาได้อีกด้วย แขนทั้ง 3 นี้ติดกับเข็มชี้อันเดียวกัน



### วิธีการใช้เครื่องชั่งแบบ (Triple - beam balance)

1. ตั้งเครื่องชั่งให้อยู่ในแนวระนาบ แล้วปรับให้แขนของเครื่องชั่งอยู่ในแนวระนาบโดยหมุนสกรูให้เข็มชี้ตรงขีด 0
2. วางขวดบรรจุสารบนจานเครื่องชั่ง แล้วเลื่อนตุ้มน้ำหนักบนแขนทั้งสาม เพื่อปรับให้เข็มชี้ตรงขีด 0 อ่านน้ำหนักบนแขนเครื่องชั่งจะเป็นน้ำหนักของขวดบรรจุสาร
3. ถ้าต้องการชั่งสารตามน้ำหนักที่ต้องการก็บวกน้ำหนักของสารกับน้ำหนักของขวดบรรจุสารที่ได้ในข้อ 2 แล้วเลื่อนตุ้มน้ำหนักบนแขนทั้ง 3 ให้ตรงกับน้ำหนักที่ต้องการ
4. เติมสารที่ต้องการชั่งลงในขวดบรรจุสารจนเข็มชี้ตรงขีด 0พอดี จะได้น้ำหนักของสารตามต้องการ
5. นำขวดบรรจุสารออกจากจานของเครื่องชั่งแล้วเลื่อนตุ้มน้ำหนักทุกอันให้อยู่ที่ 0 ทำความสะอาดเครื่องชั่งหากมีสารเคมีหกบนจานหรือรอบๆ เครื่องชั่ง

## แบบ equal-arm balance



เป็นเครื่องชั่งที่มีแขน 2 ข้างยาวเท่ากันเมื่อวัดระยะจากจุดหมุน ซึ่งเป็นสันนิต ขณะที่แขนของเครื่องชั่งอยู่ในสมดุลเมื่อต้องการหาน้ำหนักของสารหรือวัตถุ ให้วางสารนั้นบนจานด้านหนึ่งของเครื่องชั่ง ตอนนี้แขนของเครื่องชั่งจะไม่อยู่ในภาวะที่สมดุลจึงต้องใส่ค้อนน้ำหนัก เพื่อปรับให้แขนเครื่องชั่งอยู่ในสมดุล

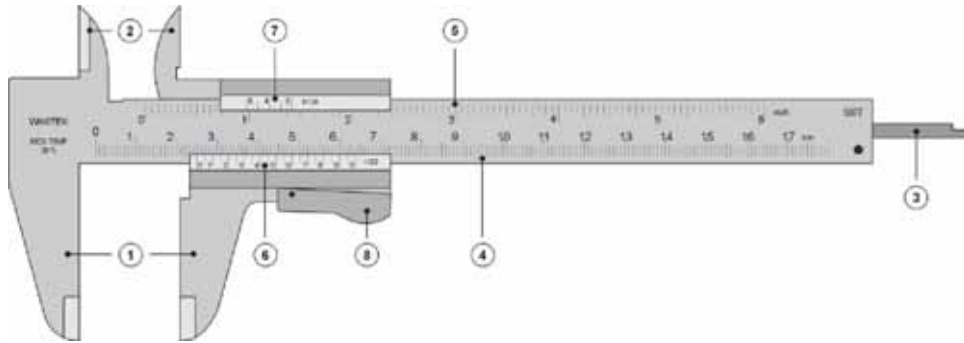
### วิธีการใช้เครื่องชั่งแบบ (Equal - arm balance)

1. จัดให้เครื่องชั่งอยู่ในแนวระดับก่อน โดยการปรับสกรูที่ขาตั้งแล้วหาสเกลศูนย์ของเครื่องชั่ง เมื่อไม่มีวัตถุอยู่บนจาน ปล่อยที่รองจาน แล้วปรับให้เข็มชี้ที่เลข 0 บนสเกลศูนย์
2. วางขวดบรรจุสารบนจานด้านซ้ายมือและวางค้อนน้ำหนักบนจานทางขวามือของเครื่องชั่ง โดยใช้คีมคีบ
3. ถ้าเข็มชี้มาทางซ้ายของสเกลศูนย์แสดงว่าขวดซึ่งสารเบาว่าค้อนน้ำหนัก ต้องยกปุ่มควบคุมคานขึ้น เพื่อตรึงแขนเครื่องชั่งแล้วเติมค้อนน้ำหนักอีก ถ้าเข็มชี้มาทางขวาของสเกลศูนย์แสดงว่าขวดซึ่งสารเบาว่าค้อนน้ำหนัก ต้องยกปุ่มควบคุมคานขึ้น เพื่อตรึงแขนเครื่องชั่งแล้วเอาค้อนน้ำหนักออก
4. ในกรณีที่ค้อนน้ำหนักไม่สามารถทำให้แขนทั้ง 2 ข้างอยู่ในระนาบได้ ให้เลื่อนไรเตอร์ไปมา เพื่อปรับน้ำหนักทั้งสองข้างให้เท่ากัน
5. บันทึกน้ำหนักทั้งหมดที่ชั่งได้
6. นำสารออกจากขวดใส่สาร แล้วทำการชั่งน้ำหนักของขวดใส่สาร
7. น้ำหนักของสารสามารถหาได้โดยนำน้ำหนักที่ชั่งได้ครั้งแรกลบน้ำหนักที่ชั่งได้ครั้งหลัง
8. หลังจากใช้เครื่องชั่งเสร็จแล้วให้ทำความสะอาดจาน แล้วเอาค้อนน้ำหนักออกและเลื่อนไรเตอร์ให้อยู่ที่ตำแหน่งศูนย์

### 2.การใช้งานอุปกรณ์วิทยาศาสตร์ประเภทเครื่องมือช่าง

#### เวอร์เนีย (VERNIER )

เป็นเครื่องมือที่ใช้วัดความยาวของวัตถุทั้งภายใน และภายนอกของชิ้นงาน เวอร์เนียคาลิเปอร์ มีลักษณะทั่วไป ดังรูป



### ส่วนประกอบของเวอร์เนีย

|                 |   |
|-----------------|---|
| สเกลหลัก 4 - 5  | เป็นสเกลไม้บรรทัดธรรมดา ซึ่งเป็นมิลลิเมตร (mm) และนิ้ว (inch) |
| สเกลเวอร์เนีย 6 | ซึ่งจะเลื่อนไปมาไต่บนสเกลหลัก                                 |
| ปากวัด 1        | ใช้หนีบวัตถุที่ต้องการวัดขนาด                                 |
| ปากวัด 2        | ใช้วัดขนาดภายในของวัตถุ                                       |
| แกน 3           | ใช้วัดความลึก   |
| ปุ่ม 7          | ใช้กดเลื่อนสเกลเวอร์เนียไปบนสเกลหลัก                          |
| สกรู 8          | ใช้ยึดสเกลเวอร์เนียให้ติดกับสเกลหลัก                          |

### การใช้เวอร์เนีย

#### 1. ตรวจสอบเครื่องมือวัด ดังนี้

- 1.1 ใช้ผ้าเช็ดทำความสะอาด ทุกชิ้นส่วนของเวอร์เนียก่อนใช้งาน
- 1.2 คลายสล็อตสกรู แล้วทดลองเลื่อนเวอร์เนียสเกลไป - มาเบา ๆ เพื่อตรวจสอบว่าสามารถใช้งานได้คล่องตัวหรือไม่
- 1.3 ตรวจสอบปากวัดของเวอร์เนีย โดยเลื่อนเวอร์เนียสเกลให้ปากเวอร์เนียวัดนอกเลื่อนชิดติดกัน จากนั้นยกเวอร์เนียขึ้นส่องดูว่า บริเวณปากเวอร์เนีย มีแสงสว่างผ่านหรือไม่ ถ้าไม่มีแสดงว่าสามารถใช้งานได้ดี กรณีที่มีแสงสว่างสามารถลอดผ่านได้ แสดงว่าปากวัดชำรุดไม่ควรนำมาใช้วัดขนาด

#### 2. การวัดขนาดงาน ตามลำดับขั้นดังนี้

- 2.1 ทำความสะอาดบริเวณผิวงานที่ต้องการวัด
- 2.2 เลือกใช้ปากวัดงานให้เหมาะสมกับลักษณะงานที่ต้องการ เช่น ถ้าต้องการวัดขนาดภายนอก เลือกใช้ปากวัดนอก วัดขนาดด้านในชิ้นงานเลือกใช้ปากวัดใน ถ้าต้องการวัดขนาดงานที่เป็นช่องเล็ก ๆ ใช้บริเวณส่วนปลายของปากวัดนอก ซึ่งมีลักษณะเหมือนคีมมีดทั้ง 2 ด้าน
- 2.3 เลื่อนเวอร์เนียสเกลให้ปากเวอร์เนียสัมผัสชิ้นงาน ควรใช้แรงกดให้พอดีถ้าใช้แรงมากเกินไป จะทำให้ขนาดงานที่อ่านไม่ถูกต้องและปากเวอร์เนียจะเสียรูปทรง

2.4 ขณะวัดงาน สายตาต้องมองตั้งฉากกับตำแหน่งที่อ่าน แล้วจึงอ่านค่า

3. เมื่อเลิกปฏิบัติงาน ควรทำความสะอาด ชะโลมด้วยน้ำมัน และเก็บรักษาด้วยความระมัดระวัง ในกรณีที่ไม้ได้ใช้งานนาน ๆ ควรใช้วาสลีนทาส่วนที่จะเป็นสนิม

### คีม (TONG)

คีมมีอยู่หลายชนิด คีมที่ใช้กับขวดปริมาตรเรียกว่า flask tong คีมที่ใช้กับบีกเกอร์เรียกว่า beaker tong และคีมที่ใช้กับเบ้าเคลือบเรียกว่า crucible tong ซึ่งทำด้วยนิเกิลหรือโลหะเจือเหล็กที่ไม่เป็นสนิม แต่อย่านำ crucible tong ไปใช้จับบีกเกอร์หรือขวดปริมาตรเพราะจะทำให้ลื่นตกแตกได้

### 3. การใช้งานอุปกรณ์วิทยาศาสตร์ประเภทสิ้นเปลืองและสารเคมี

กระดาษกรอง (FILTER PAPER) เป็นกระดาษที่กรองสารที่อนุภาคใหญ่ออกจากของเหลว ซึ่งมีขนาดของอนุภาคที่เล็กกว่า

กระดาษลิตมัส (LITMUS) เป็นกระดาษที่ใช้ทดสอบสมบัติความเป็นกรด - เบสของของเหลว กระดาษลิตมัสมีสองสีคือสีแดงหรือสีชมพู และสีน้ำเงินหรือสีฟ้า วิธีใช้คือการสัมผัสของเหลวลงบนกระดาษ ถ้าหากของเหลวมีสภาพเป็นกรด ( $\text{pH} < 4.5$ ) กระดาษจะเปลี่ยนจากสีน้ำเงินเป็นสีแดง และในทางกลับกันถ้าหากของเหลวมีสภาพเป็นเบส ( $\text{pH} > 8.3$ ) กระดาษจะเปลี่ยนจากสีแดงเป็นสีน้ำเงิน ถ้าหากเป็นกลาง ( $4.5 \leq \text{pH} \leq 8.3$ ) กระดาษทั้งสองจะไม่เปลี่ยนสี

สารเคมี หมายถึง สารที่ประกอบด้วยธาตุเดียวกันหรือสารประกอบจากธาตุต่างๆรวมกันด้วยพันธะเคมีซึ่งในห้องปฏิบัติการจะมีสารเคมีมากมาย

#### ห้องปฏิบัติการทางวิทยาศาสตร์ (LAB)

ในการทำการทดลองทางวิทยาศาสตร์นั้นผู้ทดลองควรทำการทดลองในห้องปฏิบัติการ เนื่องจากว่าภายในห้องปฏิบัติการปราศจากสิ่งรบกวนจากภายนอก อาทิเช่น กระแสลม ฝุ่นละออง ซึ่งตัวแปรเหล่านี้ อาจทำให้ผลการทดลองคลาดเคลื่อนได้

#### ลักษณะของห้องปฏิบัติการ

1) ห้องปฏิบัติการที่มีขนาดเท่ากันทุกห้อง จะช่วยให้การจัดการต่าง ๆ ภายในห้องปฏิบัติการทำได้สะดวก เนื่องจากสามารถจัดการให้ เป็นไปในแนวทางเดียวกันและมีความสะดวกในการปรับเปลี่ยนได้ดีกว่าห้องปฏิบัติการที่มีขนาดแตกต่างกัน

2) ห้องปฏิบัติการที่เป็นสี่เหลี่ยมจัตุรัสจะช่วยให้การดูแล การให้คำแนะนำและการอำนวยความสะดวกทำได้อย่างทั่วถึง ลักษณะห้องปฏิบัติการที่ดีต้องไม่มีชอกและมุมต่าง ๆ และไม่ควรมีเสาอยู่ภายในห้อง

3) ห้องปฏิบัติการที่เป็นสี่เหลี่ยมผืนผ้า ต้องมีลักษณะห้องไม่ยาวหรือแคบเกินไป จนทำให้มุมมองจากโต๊ะสารคดีหน้าชั้นเรียนแคบมาก หรือหน้าชั้นและหลังชั้นเรียนอยู่ห่างกันเกินไป โดยทั่วไปควรมีสัดส่วนของด้านกว้างต่อด้านยาวไม่เกิน 1 : 1.2

4) พื้นของห้องปฏิบัติการต้องไม่มีรอยต่อหรือมีรอยต่อน้อยที่สุด พื้นห้องควรทำด้วยวัสดุที่ทนต่อสารเคมี ไขมันและน้ำมัน ได้ดี ไม่ลื่นเมื่อเปียกน้ำ และพื้นห้องไม่ควรมีสีอ่อนมากเนื่องจากจะเกิดรอยเปื้อนได้ง่าย หรือมีสีเข้มมากจนทำให้ความสว่างของห้องลดน้อยลง

### ความปลอดภัยในการใช้ห้องปฏิบัติการ

- (1) ระมัดระวังในการทำปฏิบัติการและทำปฏิบัติการอย่างตั้งใจ ไม่เล่นหยอกล้อกัน
- (2) เรียนรู้ตำแหน่งที่เก็บและศึกษาการใช้งานของอุปกรณ์ที่เกี่ยวข้องกับความปลอดภัย เช่น ตู้ยา ที่ล้างตาหรือก๊อกน้ำ เครื่องดับเพลิง ที่กดสัญญาณ ไฟไหม้ (ถ้ามี) และทางออกฉุกเฉิน
- (3) อ่านคู่มือปฏิบัติการให้เข้าใจก่อนลงมือปฏิบัติ แต่ถ้าไม่เข้าใจขั้นตอนใดหรือยังไม่เข้าใจการใช้งานของอุปกรณ์ทดลองใด ๆ ก็จะต้องปรึกษากรูจนเข้าใจก่อนลงมือทำปฏิบัติการ
- (4) ปฏิบัติตามคู่มืออย่างเคร่งครัด ในกรณีที่ต้องการทำปฏิบัติการนอกเหนือจากที่กำหนด จะต้องได้รับอนุญาตจากครูก่อนทุกครั้ง
- (5) ไม่ควรทำปฏิบัติการอยู่ในห้องปฏิบัติการเพียงคนเดียว เพราะถ้ามีอุบัติเหตุเกิดขึ้นก็จะไม่มีผู้ให้ความช่วยเหลือ
- (6) ไม่รับประทานอาหารหรือดื่มเครื่องดื่มในห้องปฏิบัติการ และไม่ใช้เครื่องแก้วหรืออุปกรณ์ทำปฏิบัติการเป็นภาชนะใส่อาหารและเครื่องดื่ม
- (7) ดูแลความสะอาดและความเป็นระเบียบบนโต๊ะทำปฏิบัติการตลอดเวลาให้มีเฉพาะคู่มือปฏิบัติการและอุปกรณ์จัดบนที่เท่านั้นอยู่บนโต๊ะทำปฏิบัติการ ส่วนกระเป๋าหนังสือและเครื่องใช้อื่น ๆ ต้องเก็บไว้ในบริเวณที่จัดไว้ให้
- (8) อ่านคู่มือการใช้อุปกรณ์ทดลองทุกชนิดก่อนใช้งาน ถ้าเป็นอุปกรณ์ไฟฟ้าจะต้องให้มือแห้งสนิทก่อนใช้ การถอดหรือเสียบเต้าเสียบต้องจับที่เต้าเสียบเท่านั้นอย่าจับที่สายไฟ
- (9) การทดลองที่ใช้ความร้อนจากตะเกียงและแก๊ส ต้องทำด้วยความระมัดระวังเป็นพิเศษ ไม่รินของเหลวที่ติดไฟง่ายใกล้เปลวไฟ ไม่มองลงในภาชนะขณะที่ตั้งไฟ ขณะเผาสารในหลอดทดลองต้องหันปากหลอดไปในบริเวณที่ไม่มีผู้อื่นอยู่ และดับตะเกียงหรือปิดแก๊สทันทีเมื่อเลิกใช้งาน
- (10) สารเคมีทุกชนิดในห้องปฏิบัติการเป็นอันตราย ไม่สัมผัส ชิม หรือสูดดมสารเคมีใด ๆ นอกจากจะได้รับคำแนะนำที่ถูกต้องแล้ว และไม่นำสารเคมีใด ๆ ออกจากห้องปฏิบัติการ
- (11) ตรวจสอบสลากที่ปิดขวดสารเคมีทุกครั้งก่อนนำมาใช้ รินหรือตักสารออกมาในปริมาณที่พอใช้เท่านั้น ไม่เทสารเคมีที่เหลือกลับขวดเดิม และไม่เทน้ำลงในกรด

(12) การทำปฏิบัติการชีววิทยา จะต้องทำตามเทคนิคปลอดเชื้อตลอดเวลาด้วยการล้างมือด้วยสบู่ ก่อนและหลังทำปฏิบัติการ ทำความสะอาดโต๊ะทำปฏิบัติการให้ปลอดเชื้อก่อนและหลังปฏิบัติการ และใช้เทคนิคเฉพาะในการหยิบจับจุลินทรีย์ ถ้ามีปัญหาด้านสุขภาพเกี่ยวกับระบบภูมิคุ้มกัน ต้องแจ้งให้ครูทราบ ก่อนทำปฏิบัติการ

(13) เมื่อเกิดอุบัติเหตุหรือมีความผิดปกติใด ๆ เกิดขึ้นให้รายงานครูทันทีและดำเนินการปฐมพยาบาลอย่างถูกวิธีด้วย

(14) เมื่อทำการทดลองเสร็จแล้ว ต้องทำความสะอาดเครื่องมือและเก็บเข้าที่เดิมทุกครั้ง ทำความสะอาดโต๊ะปฏิบัติการและสอดเก้าอี้เข้าใต้โต๊ะ ล้างมือด้วยสบู่และน้ำก่อนออกจากห้องปฏิบัติการ

#### การทำความสะอาดบริเวณที่ปนเปื้อนสารเคมี

อุบัติเหตุจากสารเคมีในห้องปฏิบัติการเป็นสิ่งที่เกิดขึ้นได้ตลอดเวลา ถ้าทำปฏิบัติการโดยขาดความระมัดระวัง แต่เมื่อเกิดขึ้นแล้วจะต้องรีบกำจัดสารเคมีที่ปนเปื้อนและทำความสะอาดอย่างถูกวิธี เพื่อป้องกันอันตรายจากสารเหล่านั้น สารเคมีแต่ละชนิดมีสมบัติและความเป็นอันตรายแตกต่างกัน จึงต้องมีความรู้ความเข้าใจเกี่ยวกับการทำความสะอาดบริเวณที่ปนเปื้อนสารเคมีเหล่านั้น ซึ่งมีข้อแนะนำดังต่อไปนี้

(1) สารที่เป็นของแข็ง ควรใช้แปรงกวาดสารมารวมกัน ตักสารใส่ในกระดวยแข็งแล้วนำไปทำลาย

(2) สารละลายกรด ควรใช้น้ำล้างบริเวณที่มีสารละลายกรดหกเพื่อทำให้กรดเจือจางลง และใช้สารละลายโซเดียมไฮดรอกไซด์เจือจางล้างเพื่อทำลายสภาพกรด แล้วล้างด้วยน้ำอีกครั้ง

(3) สารละลายเบส ควรใช้น้ำล้างบริเวณที่มีสารละลายเบสหกและซับน้ำให้แห้ง เนื่องจากสารละลายเบสที่หกบนพื้นจะทำให้พื้นบริเวณนั้นลื่น ต้องทำความสะอาดลักษณะดังกล่าวหลาย ๆ ครั้ง และถ้ายังไม่หายลื่นอาจต้องใช้ทรายโรยแล้วเก็บกวาดทรายออกไป

(4) สารที่เป็นน้ำมัน ควรใช้ผงซักฟอกล้างสารที่เป็นน้ำมันและไขมันจนหมดคราบน้ำมันและพื้น ไม่ลื่นหรือทำความสะอาดโดยใช้ทรายโรยเพื่อซับน้ำมันให้หมดไป

(5) สารที่ระเหยง่าย ควรใช้ผ้าเช็ดบริเวณที่สารหกหลายครั้งจนแห้ง และในขณะที่เช็ดจะต้องมีการป้องกันไม่ให้สัมผัสผิวหนังหรือสูดไอของสารเข้าร่างกาย

(6) สารปรอท กวาดสารปรอทกองรวมกันแล้วใช้เครื่องดูดเก็บรวบรวมไว้ในกรณีที่มีพื้นที่สารปรอทหกมีรอยแตกหรือรอยร้าวจะมีสารปรอทแทรกเข้าไปอยู่ข้างในต้องปิดรอยแตกหรือรอยร้าวนั้นด้วยการทาซีเมนต์หรืออุดกาว เพื่อป้องกันการระเหยของปรอท หรืออาจใช้ผงกำมะถัน โรยบนปรอท เพื่อให้เกิดเป็นสารประกอบซัลไฟด์ แล้วเก็บกวาดอีกครั้งหนึ่ง



## กิจกรรมที่ 1 ทักษะทางวิทยาศาสตร์



ภาพ ก



ภาพ ข

ภาพแสดงทรัพยากรธรรมชาติที่เคยมีอย่างสมบูรณ์ได้ทำลายจนร่อยหรอไปแล้ว ให้ศึกษาภาพและสรุปผลการเกิดความแตกต่างกันของภาพสมุดกิจกรรม โดยใช้ทักษะทางวิทยาศาสตร์ตามหัวข้อต่อไปนี้

1. จากการสังเกตภาพเห็นข้อแตกต่างในเรื่องใดบ้าง
2. ตั้งสมมติฐานของสาเหตุความแตกต่างกันทางธรรมชาติ

จากภาพดังกล่าวสามารถตั้งสมมติฐาน และหาสาเหตุความแตกต่างทางธรรมชาติอะไรบ้าง

### แบบทดสอบบทที่ 1

#### เรื่อง ทักษะกระบวนการทางวิทยาศาสตร์

คำชี้แจง จงเลือกคำตอบที่ถูกต้องที่สุด

1. ค่าน้ำที่บ้าน 3 เดือนที่ผ่านมาสูงกว่าปกติ จากข้อความเกิดจากทักษะข้อใด
  - ก. สังเกต
  - ข. ตั้งปัญหา
  - ค. ตั้งสมมติฐาน
  - ง. ออกแบบการทดลอง
2. จากข้อ 1 นักเรียนพบว่า ท่อประปารั่วจึงทำให้ค่าน้ำสูงกว่าปกตินักเรียนใช้วิธีการทางวิทยาศาสตร์ข้อใดในการตรวจสอบข้อเท็จจริง
  - ก. ตั้งปัญหา
  - ข. ตั้งสมมติฐาน
  - ค. ออกแบบการทดลอง
  - ง. สรุปผล

3. ลักษณะนิสัยของนักวิทยาศาสตร์ข้อใดที่ทำให้งานประสบความสำเร็จ
- ชอบจดบันทึก
  - รักการอ่าน
  - ชอบค้นคว้า
  - ความพยายามและอดทน
4. น้อยสวมเสื้อสีดำเดินทาง 2 กิโลเมตร และเปลี่ยนเสื้อตัวใหม่เป็นสีขาวเดินในระยะทางเท่ากันและวัดอุณหภูมิจากตัวเองหลังเดินทางทั้ง 2 ครั้ง ปรากฏว่าไม่เท่ากัน ปัญหาของน้อยคือข้อใด
- สีดำมีความร้อนมากกว่ากัน
  - สีมีผลต่ออุณหภูมิของร่างกายหรือไม่
  - สีดำร้อนกว่าสีขาว
  - สวมเสื้อสีขาวเย็นกว่าสีดำ
5. แก้วเลี้ยงแมว 2 ตัว ตัวที่ 1 กินนมกับปลาอย่างและข้าวสวย ตัวที่ 2 กินปลาทุกกับข้าวสวย 4 สัปดาห์ต่อมา ปรากฏว่าแมวทั้งสองตัวมีน้ำหนักเพิ่มขึ้นเท่ากัน ปัญหาของแก้วก่อนการทดลองคือข้อใด
- ปลาอะไรที่แมวชอบกิน
  - แมวชอบกินปลาทุกหรือปลาอย่าง
  - ชนิดของอาหารมีผลต่อการเจริญเติบโตหรือไม่
  - ปลาทุกทำให้แมวสองตัวน้ำหนักเพิ่มขึ้นเท่ากัน
6. ด้อยทำเสื้อเปื้อนด้วยคราบอาหารจึงนำไปซัก ด้วยผงซักฟอก A ปรากฏว่าไม่สะอาด จึงนำไปซักด้วยผงซักฟอก B ปรากฏว่าสะอาด ก่อนการทดลองด้อยตั้งปัญหาว่าอย่างไร
- ชนิดของผงซักฟอกมีผลต่อการลบรอยเปื้อนหรือไม่
  - ผงซักฟอก A ซักผ้าได้สะอาดกว่าผงซักฟอก B
  - ผงซักฟอกใดซักได้สะอาดกว่ากัน
  - ถ้าใช้ผงซักฟอก B จะซักได้สะอาดกว่าผงซักฟอก A
7. นำน้ำ 400 ลูกบาศก์เซนติเมตรใส่ลงในภาชนะ ทองแดง และสังกะสี อย่างละเท่าๆกัน ต้มให้เดือด ปรากฏว่าน้ำในภาชนะอลูมิเนียมเดือดก่อนน้ำในภาชนะสังกะสี การทดลองนี้ตั้งสมมติฐานว่าอย่างไร
- ถ้าต้มน้ำเดือดในปริมาณที่เท่ากันน้ำจะเดือดในเวลาเดียวกัน
  - ถ้าต้มน้ำเดือดด้วยภาชนะที่ทำด้วยอลูมิเนียม ดังนั้น น้ำจะเดือดเร็วกว่าการต้มด้วยภาชนะสังกะสี
  - ถ้าต้มน้ำที่ทำด้วยภาชนะโลหะชนิดเดียวกันน้ำจะเดือดในเวลาเดียวกัน
  - ถ้าต้มน้ำเดือดด้วยภาชนะที่ต่างชนิดกันน้ำจะเดือดในเวลาต่างกัน

8. จากปัญหา “ชนิดของเสียงจะมีผลต่อการเจริญเติบโตของไก่หรือไม่” ควรจะตั้งสมมติฐานว่าอย่างไร
- จังหวะของเพลงมีผลต่อการเจริญเติบโตของไก่หรือไม่
  - ไก่ที่ชอบฟังเพลงจะโตดีกว่าไก่ที่ไม่ฟังเพลง
  - ถ้าไก่ฟังเพลงไทยเดิมจะโตดีกว่าไก่ที่ฟังเพลงสากล
  - ไก่ที่ฟังเพลงสากลและเพลงไทยเดิมจะโตเท่ากัน
9. จากปัญหา “ผงซักฟอกมีผลต่อการเจริญเติบโตของผักกระเฉดหรือไม่” สมมติฐาน ก่อนการทดลองคือข้อใด
- ถ้าใช้ผงซักฟอกเทลงในน้ำดั่งนั้นผักกระเฉดจะเจริญเติบโตดี
  - พืชจะเจริญเติบโตดีเมื่อใส่ผงซักฟอก
  - ผงซักฟอกมีสารทำให้ผักกระเฉดเจริญเติบโตได้ดี
  - ผักกระเฉดจะเจริญเติบโตหรือไม่ถ้าขาดผงซักฟอก
10. นิ่งใช้สำลึกรองน้ำ น้อยใช้ใยบวบกรองน้ำ 2 คน ใช้วิธีการทดลองเดียวกันทั้ง 2 คน ใช้สมมติฐานร่วมกันในข้อใด
- สาร ข้อใดกรองน้ำได้ใสกว่ากัน
  - น้ำใสสะอาดด้วยสำลึและใยบวบ
  - ถ้าไม่ใช้ใยบวบและสำลึน้ำจะไม่ใสสะอาด
  - ถ้าใช้ใยบวบกรองน้ำดั่งนั้นน้ำจะใสสะอาดกว่าใช้สำลึ
11. เมื่อใส่น้ำแข็งลงในแก้ว แล้วตั้งทิ้งไว้สักครู่จะพบว่ารอบนอกของแก้วมีหยดน้ำเกาะอยู่เต็ม ข้อใดเป็นผลจากการสังเกต และบันทึกผล
- มีหยดน้ำขนาดเล็กและขนาดใหญ่เกาะอยู่จำนวนมากที่ผิวแก้ว
  - ไอน้ำในอากาศกลั่นตัวเป็นหยดน้ำเกาะอยู่รอบๆแก้ว
  - แก้วน้ำร้อนเป็นเหตุให้น้ำซึมออกมาที่ผิวนอก
  - หยดน้ำที่เกิดเป็นกระบวนการเดียวกับการเกิดน้ำค้าง
12. กระบวนการทางวิทยาศาสตร์ขั้นตอนใด ที่จะนำไปสู่การสรุปผล และการศึกษาต่อไป
- การตั้งสมมติฐานและการออกแบบการทดลอง
  - การสังเกต
  - การรวบรวมข้อมูล
  - การหาความสัมพันธ์ของข้อเท็จจริง
13. ในการออกแบบการทดลองจะต้องยึดอะไรเป็นหลัก
- สมมติฐาน
  - ข้อมูล
  - ปัญหา
  - ข้อเท็จจริง

14. สมมติฐานทางวิทยาศาสตร์จะเปลี่ยนเป็นทฤษฎีได้เมื่อใด
- เป็นที่ยอมรับโดยทั่วไป
  - อธิบายได้กว้างขวาง
  - ทดสอบแล้วเป็นจริงทุกครั้ง
  - มีเครื่องมือพิสูจน์
15. อุปกรณ์ต่อไปนี้ ข้อใดเป็นอุปกรณ์สำหรับหาปริมาตรของสาร
- หลอดคณิศยา
  - กระบอกตวง
  - เครื่องชั่งสองแขน
  - ถูกทั้งข้อ ก. และข้อ ข.
16. ในกระบวนการทางวิทยาศาสตร์ ถ้าหากผลการทดลองที่ได้จากการทดสอบสมมติฐาน ไม่สอดคล้องกับสมมติฐาน จะต้องทำอย่างไร
- สังเกตใหม่
  - ตั้งปัญหาใหม่
  - ออกแบบการทดลองใหม่
  - เปลี่ยนสมมติฐาน
17. ข้อใดเรียงลำดับขั้นตอนของวิธีการทางวิทยาศาสตร์ได้ถูกต้อง
- การตั้งสมมติฐาน การรวบรวมข้อมูล การทดลอง และสรุปผล
  - การตั้งสมมติฐาน การสังเกตและปัญหา การตรวจสอบสมมติฐานและการทดลอง และสรุปผล
  - การสังเกตและปัญหา การทดลองและตั้งสมมติฐาน การตรวจสอบสมมติฐาน และสรุปผล
  - การสังเกตและปัญหา การตั้งสมมติฐาน การตรวจสอบสมมติฐานการทดลอง และสรุปผล
18. นักวิทยาศาสตร์จะสรุปผลการทดลองได้อย่างมีความเชื่อมั่นเมื่อใด
- ออกแบบการทดลองที่มีการควบคุมตัวแปรต่างๆ อย่างรัดกุมมากที่สุด
  - กำหนดปัญหาและตั้งสมมติฐานที่ดี
  - รวบรวมข้อมูลจากแหล่งต่างๆ มาเปรียบเทียบกับผลการทดลองได้ถูกต้องตรงกัน
  - ผลการทดลองสอดคล้องตามทฤษฎีที่มีอยู่เดิม
19. วิธีการทางวิทยาศาสตร์ขั้นตอนใด ที่ถือว่าเป็นความก้าวหน้าทางวิทยาศาสตร์อย่างแท้จริง
- การตั้งปัญหาและการตั้งสมมติฐาน
  - การตรวจสอบสมมติฐาน
  - การตั้งสมมติฐาน
  - การตั้งปัญหา

20. ข้อใดเป็นลักษณะของสมมติฐานที่ดี

- ก. สามารถอธิบายปัญหาได้หลายแง่หลายมุม
- ข. ครอบคลุมเหตุการณ์และปรากฏการณ์ต่างๆ ภายในสภาพแวดล้อมเดียวกัน
- ค. สามารถแก้ปัญหาที่สงสัยได้อย่างชัดเจน
- ง. สามารถอธิบายปัญหาต่างๆ ได้แจ่มชัด

21. “ แม่เหล็กไฟฟ้าจะดูดจำนวนตะปูได้มากขึ้นใช่หรือไม่ ถ้าแม่เหล็กไฟฟ้านั้นมีจำนวนแบตเตอรี่เพิ่มขึ้น ”

จากข้อความข้างต้น ข้อใดกล่าวถึงตัวแปรได้ถูกต้อง

- ก. ตัวแปรอิสระ คือ จำนวนแบตเตอรี่
- ข. ตัวแปรอิสระ คือ จำนวนตะปูที่ถูกดูด
- ค. ตัวแปรตาม คือ จำนวนแบตเตอรี่
- ง. ตัวแปรตาม คือ ชนิดของแบตเตอรี่

22. “ การงอกของเมล็ดข้าวโพด ในเวลาที่ต่างกันขึ้นอยู่กับปริมาณของน้ำที่เมล็ดข้าวโพดได้รับ ใช่หรือไม่ ”

จากข้อความข้างต้น ข้อใดกล่าวถึงตัวแปรได้ถูกต้อง

- ก. ตัวแปรอิสระ คือ ความสมบูรณ์ของเมล็ดข้าวโพด
- ข. ตัวแปรตาม คือ เวลาในการงอกของเมล็ดข้าวโพด
- ค. ตัวแปรที่ต้องควบคุม คือ ปริมาณน้ำ
- ง. ถูกทุกข้อที่กล่าวมา

23. ให้นักเรียนเรียงลำดับขั้นตอนการตั้งสมมติฐาน ต่อไปนี้

1. จากปัญหาที่ศึกษาบอกได้ว่าตัวแปรใดเป็นตัวแปรต้น และตัวแปรใดเป็น ตัวแปรตาม
2. ตั้งสมมติฐานในรูป “ ถ้า...ดังนั้น ”
3. ศึกษาธรรมชาติของตัวแปรต้นต่างๆ ที่มีผลต่อตัวแปรตามมากที่สุดอย่างมีหลักการและเหตุผล
4. บอกตัวแปรต้นที่อาจจะมีผลต่อตัวแปรตาม

- ก. ข้อ 1 , 2 , 3 และ 4 ตามลำดับ
- ข. ข้อ 1 , 4, 3 และ 2 ตามลำดับ
- ค. ข้อ 4 , 2 , 3 และ 1 ตามลำดับ
- ง. ข้อ 4 , 1 , 3 และ 2 ตามลำดับ

24. พิจารณาข้อความต่อไปนี้ว่า ข้อความใดเป็นการตั้งสมมติฐาน

- ก. ขณะเปิดขวดมีเสียงดังป๊อ๊ก
- ข. ฟองก๊าซที่พุ่งขึ้นมา คือ ก๊าซคาร์บอน ไดออกไซด์
- ค. เครื่องดื่มที่แช่ไว้ในตู้เย็นจะมีรสหวาน
- ง. ทุกข้อเป็นสมมติฐานทั้งหมด

25. การกำหนดนิยามเชิงปฏิบัติการที่ดีควรมีลักษณะอย่างไร

- ก. มีความชัดเจน
- ข. ทำการวัดได้
- ค. สังเกตได้
- ง. ถูกทั้ง ข้อ ก ข และ ค

26. ถ้านักเรียนจะกำหนดนิยามเชิงปฏิบัติการ ” การเจริญเติบโตของไก่ ” นักเรียนจะมีวิธีการกำหนดนิยามเชิงปฏิบัติการ โดยคำนึงถึงข้อใดเป็นเกณฑ์

- ก. ตรวจสอบจากความสูงของไก่ที่เพิ่มขึ้น
- ข. น้ำหนักไก่ที่เพิ่มขึ้น
- ค. ความยาวของปีกไก่
- ง. ถูกทุกข้อ

27. ข้อใดคือความหมายของคำว่า “ การทดลอง ”

- ก. การทดลองมี 3 ขั้นตอน คือการออกแบบการทดลอง การปฏิบัติการทดลอง และการบันทึกผล การทดลอง
- ข. เป็นการตรวจสอบที่มาและความสำคัญของปัญหาที่ศึกษา
- ค. เป็นการตรวจสอบสมมุติฐานที่ตั้งไว้ว่าถูกต้องหรือไม่
- ง. ถูกทั้งข้อ ก. และข้อ ค.

28. ถ้านักเรียนต้องการจะตรวจสอบว่าดินต่างชนิดกันจะอุ้มน้ำได้ในปริมาณที่ต่างกันอย่างไร นักเรียนตั้งสมมุติฐานได้ว่าอย่างไร

- ก. ถ้าชนิดของดินมีผลต่อปริมาณน้ำที่อุ้มน้ำไว้ ดังนั้นดินเหนียวจะอุ้มน้ำได้มากกว่าดินร่วนและดินร่วนจะอุ้มน้ำไว้ได้มากกว่าดินทราย
- ข. ดินต่างชนิดกันยอมอุ้มน้ำไว้ได้ต่างกันด้วย
- ค. ดินที่มีเนื้อดินละเอียดจะอุ้มน้ำได้ดีกว่าดินเนื้อหยาบ
- ง. ถูกทุกข้อที่กล่าวมา



จากข้อมูลต่อไปนี้ให้ตอบคำถามข้อ 29 และข้อ 30

จากการทดลองละลายสาร A ที่ละลายในของเหลว B ณ อุณหภูมิต่าง ๆ ดังนี้

| อุณหภูมิของเหลว B<br>(องศาเซลเซียส) | ปริมาณของสาร A ที่ละลาย ในของเหลว B<br>( g ) |
|-------------------------------------|--|
| 20                                  | 5  |
| 30                                  | 10   |
| 40                                  | 20   |
| 50                                  | 40   |

29. ที่อุณหภูมิ 20 องศาเซลเซียส สาร A ละลายในของเหลว B ได้กี่กรัม

ก. ละลายได้ 20 กรัม

ข. ละลายได้ 15 กรัม

ค. ละลายได้ 10 กรัม

ง. ละลายได้ 5 กรัม

30. จากข้อมูลในตาราง เมื่ออุณหภูมิสูงขึ้น การละลายของสาร A เป็นอย่างไร

ก. สาร A ละลายในสาร B ได้น้อยลง

ข. สาร A ละลายในสาร B ได้มากขึ้น

ค. อุณหภูมิไม่มีผลต่อการละลายของสาร A

ง. ไม่สามารถสรุปได้เพราะข้อมูลมีไม่เพียงพอ

## แบบทดสอบ ทักษะวิทยาศาสตร์

### คำชี้แจง

จงนำตัวอักษรหน้าทักษะต่าง ๆ ไปเติมหน้าข้อที่สัมพันธ์กัน

- ก. ทักษะการสังเกต
- ข. ทักษะการวัด
- ค. ทักษะการคำนวณ
- ง. ทักษะการจำแนกประเภท
- จ. ทักษะการทดลอง

- .....1. ค.ญ.อริยากำลังทดสอบวิทยาศาสตร์
- .....2. ค.ญ.วิไล วัดอุณหภูมิของอากาศได้  $40^{\circ}\text{C}$
- .....3. ม้ามี 4 ขา สุนัข มี 4 ขา ไก่มี 2 ขา นกมี 2 ขา ช้างมี 4 ขา
- .....4. ค.ญ. พนิดา กำลังทดสอบเคมี
- .....5. ค.ช. สุบิน ใช้ตลับเมตรวัดความยาวของสนามตะกร้อ
- .....6. ค.ญ. พิจิตรแบ่งผลไม้ได้ 2 กลุ่ม คือ กลุ่มรสเปรี้ยวและรสหวาน
- .....7. วรรณนิภา ดูภาพยนตร์วิทยาศาสตร์ 3 มิติ
- .....8. ค.ญ. นันทพร หยดสารละลายไอโอดีน ลงบนข้าวเหนียวที่เตรียมไว้
- .....9. รูปทรงกระบอกมีความสูงประมาณ 4 นิ้ว ผิวเรียบ
- .....10. นักวิทยาศาสตร์แบ่งพืชออกเป็น 2 พวก คือ พืชใบเลี้ยงเดี่ยวและพืชใบเลี้ยงคู่

กิจกรรม ที่ 1 กระบวนการทางวิทยาศาสตร์

ให้นักศึกษาออกแบบแก้ปัญหาจากสถานการณ์ต่อไปนี้

โดยมีอุปกรณ์ ดังนี้ เมล็ดถั่ว ถ้วยพลาสติก กระดาษทิชชู น้ำ กระดาษสีดำ

- กำหนดปัญหา.....
- การตั้งสมมติฐาน.....
- การกำหนดตัวแปร
- ตัวแปรต้น.....
- ตัวแปรตาม.....
- ตัวแปรควบคุม.....

การทดลอง

.....

.....

.....

.....

.....

.....

.....

วิเคราะห์ข้อมูลและทดสอบสมมติฐาน

.....

.....

.....

.....

.....

.....

.....

.....

สรุปผลการทดลอง

.....

.....

.....

.....

.....

## บทที่ 2

### โครงการวิทยาศาสตร์

#### สาระสำคัญ

โครงการวิทยาศาสตร์เป็นกิจกรรมเกี่ยวกับวิทยาศาสตร์ ซึ่งเป็นกิจกรรมที่ต้องใช้กระบวนการทางวิทยาศาสตร์ ในการศึกษาค้นคว้า โดยผู้เรียนจะเป็นผู้ดำเนินการด้วยตนเองทั้งหมด ตั้งแต่เริ่มวางแผนในการศึกษาค้นคว้า การเก็บรวบรวมข้อมูล จนถึงการแปลผล สรุปผล และการเสนอผลการศึกษา โดยมีผู้อำนวยการเป็นผู้ให้คำปรึกษา

#### ผลการเรียนรู้ที่คาดหวัง

1. อธิบายประเภทเลือกหัวข้อ วางแผน วิธีนำเสนอและประโยชน์ของโครงการได้
2. วางแผนและทำโครงการวิทยาศาสตร์ได้
3. อธิบายและบอกแนวทางในการนำผลจากโครงการไปใช้ได้

#### ขอบข่ายเนื้อหา

เรื่องที่ 1 ประเภทโครงการวิทยาศาสตร์

เรื่องที่ 2 ขั้นตอนการทำโครงการวิทยาศาสตร์

เรื่องที่ 3 การนำเสนอโครงการวิทยาศาสตร์

## เรื่องที่ 1 ประเภทของโครงการวิทยาศาสตร์

โครงการวิทยาศาสตร์เป็นกิจกรรมเกี่ยวกับวิทยาศาสตร์และเทคโนโลยี ซึ่งเป็นกิจกรรมที่ต้องใช้กระบวนการทางวิทยาศาสตร์ในการศึกษาค้นคว้า โดยผู้เรียนจะเป็นผู้ดำเนินการด้วยตนเองทั้งหมด ตั้งแต่เริ่มวางแผนในการศึกษาค้นคว้า การเก็บรวบรวมข้อมูล จนถึงเรื่องการแปลผล สรุปผล และเสนอผลการศึกษา โดยมีผู้ชำนาญการเป็นผู้ให้คำปรึกษา

ลักษณะและประเภทของโครงการวิทยาศาสตร์ จำแนกได้เป็น 4 ประเภท ดังนี้

1. โครงการประเภทสำรวจ เป็นโครงการที่มีลักษณะเป็นการศึกษาเชิงสำรวจ รวบรวมข้อมูลแล้วนำข้อมูลเหล่านั้นมาจัดกระทำและนำเสนอในรูปแบบต่าง ๆ ดังนั้น ลักษณะสำคัญของโครงการประเภทนี้ คือ ไม่มีการจัดทำหรือกำหนดตัวแปรอิสระที่ต้องการศึกษา
2. โครงการประเภททดลอง เป็นโครงการที่มีลักษณะกิจกรรมที่เป็นการศึกษาหาคำตอบของปัญหาใดปัญหาหนึ่งด้วยวิธีการทดลอง ลักษณะสำคัญของโครงการนี้คือต้องมีการออกแบบการทดลองและดำเนินการทดลองเพื่อหาคำตอบของปัญหาที่ต้องการทราบหรือเพื่อตรวจสอบสมมติฐานที่ตั้งไว้ โดยมีการจัดกระทำกับตัวแปรต้นหรือตัวแปรอิสระ เพื่อผลลัพธ์ที่เกิดขึ้นกับตัวแปรตาม และมีการควบคุมตัวแปรอื่น ๆ ที่ไม่ต้องการศึกษา
3. โครงการประเภทการพัฒนาหรือประดิษฐ์ เป็นโครงการที่มีลักษณะกิจกรรมที่เป็นการศึกษาเกี่ยวกับการประยุกต์ ทฤษฎี หรือหลักการทางวิทยาศาสตร์ เพื่อประดิษฐ์เครื่องมือ เครื่องใช้ หรืออุปกรณ์เพื่อประโยชน์ใช้สอยต่าง ๆ ซึ่งอาจเป็นการประดิษฐ์ของใหม่ ๆ หรือปรับปรุงของเดิมที่มีอยู่ให้มีประสิทธิภาพสูงขึ้น ซึ่งจะรวมไปถึงการสร้างแบบจำลองเพื่ออธิบายแนวคิด
4. โครงการประเภทการสร้างทฤษฎีหรืออธิบาย เป็นโครงการที่มีลักษณะกิจกรรมที่ผู้ทำจะต้องเสนอแนวคิด หลักการ หรือทฤษฎีใหม่ ๆ อย่างมีหลักการทางวิทยาศาสตร์ในรูปของสูตรสมการหรือคำอธิบายอาจเป็นแนวคิดใหม่ที่ยังไม่เคยนำเสนอ หรืออาจเป็นการอธิบายปรากฏการณ์ในแนวใหม่ก็ได้ ลักษณะสำคัญของโครงการประเภทนี้ คือ ผู้ทำจะต้องมีพื้นฐานความรู้ทางวิทยาศาสตร์เป็นอย่างดี ต้องค้นคว้าศึกษาเรื่องราวที่เกี่ยวข้องอย่างลึกซึ้งจึงจะสามารถสร้างคำอธิบายหรือทฤษฎีได้

## กิจกรรมที่ 1 โครงการงาน

1) ให้นักศึกษาพิจารณาชื่อโครงการต่อไปนี้แล้วตอบว่าเป็นโครงการประเภทใด โดยเขียนคำตอบลงในช่องว่าง

1. แปรลงกระดานไร้ฝุ่น                      โครงการงาน.....
2. ยาขี้ครองเท้าจากเปลือกมังคุด        โครงการงาน.....
3. การศึกษาบริเวณป่าชายเลน            โครงการงาน.....
4. พฤติกรรมลองผิดลองถูกของนกพิราบ โครงการงาน.....
5. บ้านยุคนิวเคลียร์                        โครงการงาน.....
6. การศึกษาคุณภาพน้ำในแม่น้ำเจ้าพระยาโครงการ.....
7. เครื่องส่งสัญญาณกันขโมย            โครงการงาน.....
8. สาหร่ายสีเขียวแกมน้ำเงินปรับสภาพน้ำเสียจากนาุ้ง โครงการ.....
9. ศึกษาพฤติกรรมการเรียนรู้แบบมีเงื่อนไขของหนูขาว โครงการ.....
10. ศึกษาวงจรชีวิตของตัวด้วง            โครงการงาน.....

2) ให้นักศึกษาอธิบายความสำคัญของโครงการวิทยาศาสตร์ว่ามีความสำคัญอย่างไร

.....

.....

.....

.....

.....

.....

.....

.....

.....

.....

## เรื่องที่ 2 ขั้นตอนการทำโครงการวิทยาศาสตร์

การทำกิจกรรมโครงการเป็นการทำกิจกรรมที่เกิดจากคำถามหรือความอยากรู้อยากเห็นเกี่ยวกับเรื่องต่าง ๆ ดังนั้น การทำโครงการจึงมีขั้นตอน ดังนี้

### 1. ขั้นสำรวจหรือตัดสินใจเลือกเรื่องที่จะทำ

การตัดสินใจเลือกเรื่องที่จะทำโครงการควรพิจารณาถึงความพร้อมในด้านต่าง ๆ เช่น แหล่งความรู้เพียงพอที่จะศึกษาหรือขอคำปรึกษา มีความรู้และทักษะในการใช้เครื่องมืออุปกรณ์ต่าง ๆ ที่ใช้ในการศึกษา มีผู้ทรงคุณวุฒิรับเป็นที่ปรึกษา มีเวลา และงบประมาณเพียงพอ

## 2. ชั้นศึกษาข้อมูลที่เกี่ยวข้องกับเรื่องที่น่าสนใจทำ

การศึกษาข้อมูลที่เกี่ยวข้องกับเรื่องที่น่าสนใจทำ จะช่วยให้ผู้เรียน ได้แนวคิดที่จะกำหนดขอบข่ายเรื่องที่จะศึกษาค้นคว้าให้เฉพาะเจาะจงมากขึ้นและยัง ได้ความรู้ เรื่องที่จะศึกษาค้นคว้าเพิ่มเติมจนสามารถออกแบบการศึกษา ทดลอง และวางแผนดำเนินการทำโครงการวิทยาศาสตร์อย่างเหมาะสม

## 3. ชั้นวางแผนดำเนินการ

การทำโครงการวิทยาศาสตร์ไม่ว่าเรื่องใดจะต้องมีการวางแผนอย่างละเอียด รอบคอบ และมีการกำหนดขั้นตอนในการดำเนินงานอย่างรัดกุม ทั้งนี้เพื่อให้การดำเนินงานบรรลุจุดมุ่งหมายหรือเป้าหมายที่กำหนดไว้ ประเด็นที่ต้องร่วมกันคิดวางแผนในการทำโครงการมีดังนี้ คือ ปัญหา สาเหตุของปัญหา แนวทาง และวิธีการแก้ปัญหาที่สามารถปฏิบัติได้ การออกแบบการศึกษาทดลองโดยกำหนดและควบคุมตัวแปร วัสดุอุปกรณ์และสารเคมี เวลา และสถานที่ที่จะปฏิบัติงาน

## 4. ชั้นเขียนเค้าโครงของโครงการวิทยาศาสตร์

การเขียนเค้าโครงของโครงการวิทยาศาสตร์มีรายละเอียด ดังนี้

- 4.1 ชื่อโครงการ เป็นข้อความสั้น ๆ กระชับ ชัดเจน สื่อความหมายตรง และมีความเฉพาะเจาะจงว่าจะศึกษาเรื่องใด
- 4.2 ชื่อผู้ทำโครงการ เป็นผู้รับผิดชอบโครงการ ซึ่งอาจเป็นรายบุคคลหรือกลุ่มก็ได้
- 4.3 ชื่อที่ปรึกษาโครงการ ซึ่งเป็นอาจารย์หรือผู้ทรงคุณวุฒิก็ได้
- 4.4 ที่มาและความสำคัญของโครงการ เป็นการอธิบายเหตุผลที่เลือกทำโครงการนี้ ความสำคัญของโครงการ แนวคิด หลักการ หรือทฤษฎีที่เกี่ยวข้องกับโครงการ
- 4.5 วัตถุประสงค์โครงการ เป็นการบอกจุดมุ่งหมายของงานที่จะทำ ซึ่งควรมีความเฉพาะเจาะจงและเป็นสิ่งที่สามารถวัดและประเมินผลได้
- 4.6 สมมติฐานของโครงการ (ถ้ามี) สมมติฐานเป็นคำอธิบายที่คาดไว้ล่วงหน้า ซึ่งจะผิดหรือถูกก็ได้ สมมติฐานที่ดีควรมีเหตุผลรองรับ และสามารถทดสอบได้
- 4.7 วัสดุอุปกรณ์และสิ่งที่ต้องใช้ เป็นการระบุวัสดุอุปกรณ์ที่จำเป็นใช้ในการดำเนินงานว่ามีอะไรบ้าง ได้มาจากไหน
- 4.8 วิธีดำเนินการ เป็นการอธิบายขั้นตอนการดำเนินงานอย่างละเอียดทุกขั้นตอน
- 4.9 แผนปฏิบัติการ เป็นการกำหนดเวลาเริ่มต้นและเวลาเสร็จงานในแต่ละขั้นตอน
- 4.10 ผลที่คาดว่าจะได้รับ เป็นการคาดการณ์ผลที่จะได้รับจากการดำเนินงานไว้ล่วงหน้า ซึ่งอาจได้ผลตามที่คาดไว้หรือไม่ก็ได้
- 4.11 เอกสารอ้างอิง เป็นการบอกแหล่งข้อมูลหรือเอกสารที่ใช้ในการศึกษาค้นคว้า

## 5. ขั้นลงมือปฏิบัติ

การลงมือปฏิบัติเป็นขั้นตอนที่สำคัญตอนหนึ่งในการทำโครงการเนื่องจากเป็นการลงมือปฏิบัติจริงตามแผนที่ได้กำหนดไว้ในเค้าโครงของโครงการ อย่างไรก็ตามการทำโครงการจะสำเร็จได้ด้วยดี ผู้เรียนจะต้องคำนึงถึงเรื่องความพร้อมของวัสดุอุปกรณ์ และสิ่งอื่น ๆ เช่น สมุดบันทึก กิจกรรมประจำวัน ความละเอียดรอบคอบและความเป็นระเบียบในการปฏิบัติงาน ความประหยัดและความปลอดภัยในการปฏิบัติงาน ความน่าเชื่อถือของข้อมูลที่ได้จากการปฏิบัติงาน การเรียงลำดับก่อนหลังของงานส่วนย่อย ๆ ซึ่งต้องทำแต่ละส่วนให้เสร็จก่อนทำส่วนอื่นต่อไปในขั้นลงมือปฏิบัติจะต้องมีการบันทึกผล การประเมินผล การวิเคราะห์ และสรุปผลการปฏิบัติ

## 6. ขั้นเขียนรายงานโครงการ

การเขียนรายงานการดำเนินงานของโครงการ ผู้เรียนจะต้องเขียนรายงานให้ชัดเจน ใช้ศัพท์เทคนิคที่ถูกต้อง ใช้ภาษากระทัดรัด ชัดเจน เข้าใจง่าย และต้องครอบคลุมประเด็นสำคัญ ๆ ทั้งหมดของโครงการ ได้แก่ ชื่อโครงการ ชื่อผู้ทำโครงการ ชื่อที่ปรึกษา บทคัดย่อ ที่มาและความสำคัญของโครงการ จุดมุ่งหมาย สมมติฐาน วิธีดำเนินงาน ผลการศึกษาค้นคว้า ผลสรุปของโครงการ ข้อเสนอแนะ คำขอบขอบคุณบุคลากรหรือหน่วยงานและเอกสารอ้างอิง

## 7. ขั้นเสนอผลงานและจัดแสดงผลงานโครงการ

หลังจากทำโครงการวิทยาศาสตร์เสร็จแล้วจะต้องนำผลงานที่ได้มาเสนอและจัดแสดง ซึ่งอาจทำได้หลายรูปแบบ เช่น การจัดนิทรรศการ การประชุมทางวิชาการ เป็นต้น ในการเสนอผลงานและจัดแสดงผลงานโครงการวิทยาศาสตร์ ควรนำเสนอให้ครอบคลุมประเด็นสำคัญ ๆ ทั้งหมดของโครงการ

### กิจกรรมที่ 2

1. วางแผนจัดทำโครงการวิทยาศาสตร์ที่น่าสนใจอยากรู้มา 1 โครงการ โดยดำเนินการ ดังนี้
  - 1) ระบุประเด็นที่สนใจ/อยากรู้/อยากแก้ไขปัญหา (1 ประเด็น)
    - ระบุเหตุผลที่สนใจ/อยากรู้/อยากแก้ไขปัญหา (ทำไม)
    - ระบุแนวทางที่สามารถแก้ไขปัญหานี้ได้ (ทำได้)
    - ระบุผลดีหรือประโยชน์ทางการแก้ไขโดยใช้กระบวนการที่ระบุ (พิจารณาข้อมูลจากข้อ 1) มาเป็นชื่อโครงการ
  - 2) ระบุชื่อโครงการที่ต้องการแก้ไขปัญหาหรือทดลอง
  - 3) ระบุเหตุผลของการทำโครงการ (มีวัตถุประสงค์อย่างไร ระบุเป็นข้อ ๆ)
  - 4) ระบุตัวแปรที่ต้องการศึกษา (ตัวแปรต้น ตัวแปรตาม และตัวแปรควบคุม)
  - 5) ระบุความคาดเดา (สมมติฐาน) ที่ต้องการพิสูจน์



2. จากข้อมูลตามข้อ 1) ให้นักศึกษาเขียนเค้าโครงโครงการตามประเด็น ดังนี้

- 1) ชื่อโครงการ (จาก 2).....
- 2) ที่มาและความสำคัญของโครงการ (จาก 1).....
- 3) วัตถุประสงค์ของโครงการ (จาก 3).....
- 4) ตัวแปรที่ต้องการศึกษา (จาก 4).....
- 5) สมมติฐานของโครงการ (จาก 5).....
- 6) วัสดุอุปกรณ์และงบประมาณที่ต้องใช้
  - 6.1 วัสดุอุปกรณ์.....
  - 6.2 งบประมาณ.....
- 7) วิธีดำเนินงาน (ทำอย่างไร)
- 8) แผนการปฏิบัติงาน (ระบุกิจกรรม วันเดือนปี และสถานที่ที่ปฏิบัติงาน)

| กิจกรรม | วันเดือนปี | สถานที่ปฏิบัติงาน | หมายเหตุ |
|---------|------------|-------------------|----------|
|         |            |                   |          |

- 9) ผลที่คาดว่าจะได้รับ (ทำโครงการนี้แล้วมีผลอย่างไรบ้าง)
  - 10) เอกสารอ้างอิง (ใช้เอกสารใดบ้างประกอบในการค้นคว้าหาความรู้ในการทำโครงการนี้)
3. นำเค้าโครงที่จัดทำแล้วเสร็จไปขอคำปรึกษาจากอาจารย์ที่ปรึกษา แล้วขออนุมัติดำเนินงาน
4. ดำเนินตามแผนปฏิบัติงานที่กำหนดในเค้าโครงโครงการ พร้อมบันทึกผล
- 1) สภาพปัญหาและแนวทางแก้ไข (ถ้ามี) ในแต่ละกิจกรรม
  - 2) ผลการทดลองทุกครั้ง

### เรื่องที่ 3 การนำเสนอโครงการวิทยาศาสตร์

การแสดงผลงานจัดได้ว่าเป็นขั้นตอนสำคัญอีกประการหนึ่งของการทำโครงการเรียกได้ว่าเป็นงานขั้นสุดท้ายของการทำโครงการวิทยาศาสตร์และเทคโนโลยี เป็นการแสดงผลผลิตของความคิด และการปฏิบัติการทั้งหมดที่ผู้ทำโครงการได้ทุ่มเทเวลาไป และเป็นวิธีการที่จะทำให้ผู้อื่นรับรู้และเข้าใจถึงผลงานนั้น ๆ มีผู้กล่าวว่า การวางแผนออกแบบเพื่อจัดแสดงผลงานนั้นมีความสำคัญเท่า ๆ กับการทำโครงการนั่นเอง ผลงานที่ทำจะดียอดเยี่ยมเพียงใด แต่ถ้าการจัดแสดงผลงานทำได้ไม่ดี ก็เท่ากับไม่ได้แสดงความดีเยี่ยมของผลงานนั้นนั่นเอง

การแสดงผลงานนั้นอาจทำได้ในรูปแบบต่าง ๆ กัน เช่น การแสดงในรูปแบบนิทรรศการ ซึ่งมีการจัดแสดงและการอธิบายด้วยคำพูด หรือในรูปแบบของการจัดแสดงโดยไม่มีคำอธิบายประกอบหรือในรูปของการรายงานปากเปล่า ไม่ว่าจะแสดงผลงานจะอยู่ในรูปแบบใด ควรจะจัดให้ครอบคลุมประเด็นสำคัญดังต่อไปนี้

1. ชื่อโครงการ ชื่อผู้ทำโครงการ ชื่อที่ปรึกษา
2. คำอธิบายถึงเหตุจูงใจในการทำโครงการ และความสำคัญของโครงการ
3. วิธีการดำเนินการ โดยเลือกเฉพาะขั้นตอนที่เด่นและสำคัญ
4. การสาธิตหรือแสดงผลที่ได้จากการทดลอง
5. ผลการสังเกตและข้อมูลเด่น ๆ ที่ได้จากการทำโครงการ

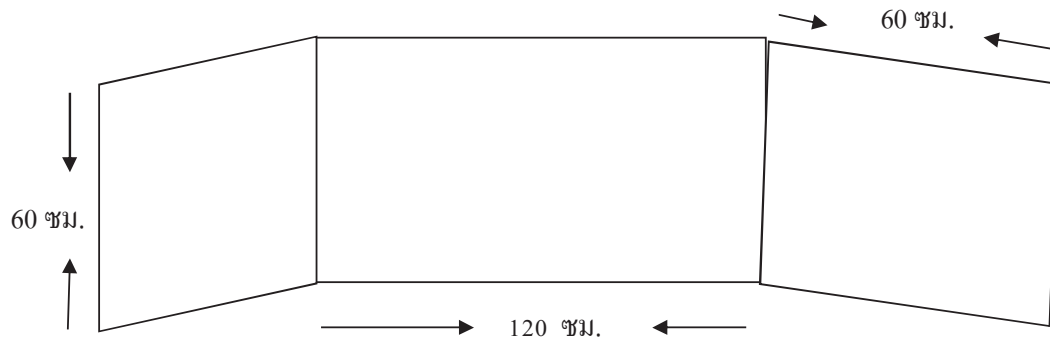
ในการจัดนิทรรศการ โครงการนั้น ควรได้คำนึงถึงสิ่งต่าง ๆ ต่อไปนี้

1. ความปลอดภัยของการจัดแสดง
2. ความเหมาะสมกับเนื้อที่จัดแสดง
3. คำอธิบายที่เขียนแสดงควรเน้นประเด็นสำคัญ และสิ่งที่น่าสนใจเท่านั้น โดยใช้ข้อความกะทัดรัด ชัดเจน และเข้าใจง่าย
4. ดึงดูดความสนใจผู้เข้าชม โดยใช้รูปแบบการแสดงที่น่าสนใจ ใช้สีที่สดใส เน้นจุดที่สำคัญหรือใช้วัสดุต่างประเภทในการจัดแสดง
5. ใช้ตารางและรูปภาพประกอบ โดยจัดวางอย่างเหมาะสม
6. สิ่งที่แสดงทุกอย่างต้องถูกต้อง ไม่มีการสะกดผิดหรืออธิบายหลักการที่ผิด
7. ในกรณีที่เป็นสิ่งประดิษฐ์ สิ่งนั้นควรอยู่ในสภาพที่ทำงานได้อย่างสมบูรณ์

ในการแสดงผลงาน ถ้าผู้นำผลงานมาแสดงจะต้องอธิบายหรือรายงานปากเปล่าหรือคำถามต่าง ๆ จากผู้ชมหรือต่อกรรมการตัดสิน โครงการ การอธิบายตอบคำถาม หรือรายงานปากเปล่านั้น ควรได้คำนึงถึงสิ่งต่าง ๆ ต่อไปนี้

1. ต้องทำความเข้าใจกับสิ่งที่อธิบายเป็นอย่างดี
2. คำนึงถึงความเหมาะสมของภาษาที่ใช้กับระดับผู้ฟัง ควรให้ชัดเจนและเข้าใจง่าย
3. ควรรายงานอย่างตรงไปตรงมา ไม่อ้อมค้อม
4. พยายามหลีกเลี่ยงการอ่านรายงาน แต่อาจจดหัวข้อสำคัญ ๆ ไว้ เพื่อช่วยให้การรายงานเป็นไปตามขั้นตอน
5. อย่าท่องจำรายงานเพราะทำให้ดูไม่เป็นธรรมชาติ
6. ขณะที่รายงานควรมองตรงไปยังผู้ฟัง
7. เตรียมตัวตอบคำถามที่เกี่ยวกับเรื่องนั้น ๆ
8. ตอบคำถามอย่างตรงไปตรงมา ไม่จำเป็นต้องกล่าวถึงสิ่งที่ไม่ได้ถาม
9. หากติดขัดในการอธิบาย ควรยอมรับโดยดี อย่ากลบเกลื่อน หรือหาทางหลีกเลี่ยงเป็นอย่างอื่น
10. ควรรายงานให้เสร็จภายในระยะเวลาที่กำหนด
11. หากเป็นไปได้ควรใช้สื่อประเภทโสตทัศนูปกรณ์ ประกอบการรายงานด้วย เช่น แผ่นใส หรือสไลด์ เป็นต้น

ข้อควรพิจารณาและคำนึงถึงประเด็นต่าง ๆ ที่กล่าวมาในการแสดงผลงานนั้น จะคล้ายคลึงกันในการแสดงผลงานทุกประเภท แต่อาจแตกต่างกันในรายละเอียดปลีกย่อยเพียงเล็กน้อย สิ่งสำคัญก็คือพยายามให้การแสดงผลงานนั้นดึงดูดความสนใจผู้ชม มีความชัดเจน เข้าใจง่าย และมีความถูกต้องในเนื้อหาการทำแผนสำหรับแสดงโครงการให้ใช้ไม้อัดมีขนาดดังรูป



ติดบานพับมีหัวรับและขอสับทำมุมฉากกับตัวแผงกลาง

ในการเขียนแบบโครงการควรคำนึงถึงสิ่งต่อไปนี้

1. ต้องประกอบด้วยชื่อโครงการ ชื่อผู้ทำโครงการ ชื่อที่ปรึกษา คำอธิบายย่อ ๆ ถึงเหตุจูงใจในการทำโครงการ ความสำคัญของโครงการ วิธีดำเนินการเลือกเฉพาะขั้นตอนที่สำคัญ ผลที่ได้จากการทดลองอาจแสดงเป็นตาราง กราฟ หรือรูปภาพก็ได้ ประโยชน์ของโครงการ สรุปผล เอกสารอ้างอิง
2. จัดเนื้อหาให้เหมาะสม ไม่แน่นจนเกินไปหรือน้อยจนเกินไป
3. คำอธิบายควรกะทัดรัด ชัดเจน เข้าใจง่าย
4. ใช้สีสดใส เน้นจุดสำคัญ เป็นการดึงดูดความสนใจ
5. อุปกรณ์ประเภทสิ่งประดิษฐ์ควรอยู่ในสภาพที่ทำงานได้อย่างสมบูรณ์

### กิจกรรมที่ 3

ให้นักศึกษาพิจารณาข้อมูลจากกิจกรรมที่ 2 มาสรุปผลการศึกษาทดลองในรูปแบบของรายงานการศึกษาทดลองตามประเด็นดังต่อไปนี้

- 1) ชื่อโครงการ.....
- 2) ผู้ทำโครงการ.....
- 3) ชื่ออาจารย์ที่ปรึกษา.....
- 4) คำนำ
- 5) สารบัญ

- 6) บทที่ 1 บทนำ
- ที่มาและความสำคัญ
  - วัตถุประสงค์
  - ตัวแปรที่ศึกษา
  - สมมติฐาน
  - ประโยชน์ที่คาดว่าจะได้รับ
- 7) บทที่ 2 เอกสารที่เกี่ยวข้องกับการทำโครงการ
- 8) บทที่ 3 วิธีการศึกษา/ทดลอง
- วัสดุอุปกรณ์
  - งบประมาณ
  - ขั้นตอนการดำเนินงาน
  - แผนปฏิบัติงาน
- 9) บทที่ 4 ผลการศึกษา/ทดลอง
- การทดลองได้ผลอย่างไรบ้าง
- 10) บทที่ 5 สรุปผลและข้อเสนอแนะ
- ข้อสรุปผลการทดลอง
  - ข้อเสนอแนะ
- 11) เอกสารอ้างอิง

## แบบทดสอบบทที่ 2

### เรื่อง การทำโครงการวิทยาศาสตร์

จงเลือกวงกลมล้อมรอบข้อคำตอบที่ถูกต้องที่สุดเพียงข้อเดียว

1. โครงการวิทยาศาสตร์คืออะไร

- ก. แบบร่างทักษะในวิชาวิทยาศาสตร์
- ข. การวิจัยเล็ก ๆ เรื่องใดเรื่องหนึ่งในวิชาวิทยาศาสตร์
- ค. ธรรมชาติของวิชาวิทยาศาสตร์
- ง. การศึกษาเพื่อหาความรู้โดยใช้กระบวนการทางวิทยาศาสตร์ในการแก้ปัญหา

2. โครงการวิทยาศาสตร์มีกี่ประเภท

- ก. 4 ประเภท
- ข. 5 ประเภท
- ค. 6 ประเภท
- ง. 7 ประเภท

3. โครงการวิทยาศาสตร์แบบใดที่เหมาะสมที่สุดกับนักศึกษาระดับมัธยมศึกษาตอนปลาย

- ก. โครงการสำรวจ
- ข. โครงการทฤษฎี
- ค. โครงการทดลอง
- ง. โครงการพัฒนา, หรือประดิษฐ์

4. ขั้นตอนใดไม่จำเป็นต้องมีในโครงการวิทยาศาสตร์ประเภทสำรวจ

- ก. ตั้งปัญหา
- ข. สรุปผล
- ค. สมมติฐาน
- ง. การกำหนดตัวแปร

5. กำหนดให้สิ่งต่อไปนี้ควรตั้งปัญหาอย่างไร น้ำบริสุทธิ์ น้ำหวาน น้ำเกลือ ชนิดละ 10 ลูกบาศก์

เซนติเมตร ตะเกียงแอลกอฮอล์ เทอร์โมมิเตอร์ ปิกเกอร์ หลอดทดลองขนาดกลาง หลอดฉีดยา

- ก. น้ำทั้งสามชนิดมีน้ำหนักเท่ากัน
- ข. น้ำทั้งสามชนิดมีรสชาติต่างกัน
- ค. น้ำทั้งสามชนิดมีจุดเดือดที่ต่างกัน
- ง. น้ำทั้งสามชนิดมีความใสที่ต่างกัน

6. จากคำถามข้อ 5 อะไรคือ ตัวแปรต้น

- ก. ความร้อนจากตะเกียงแอลกอฮอล์
- ข. ความบริสุทธิ์ของน้ำทั้งสามชนิด
- ค. ขนาดของหลอดทดลอง
- ง. อุณหภูมิของห้องขณะทดลอง

7. ผลการทดลองทางวิทยาศาสตร์ที่น่าเชื่อถือได้ต้องเป็นอย่างไร

- ก. สรุปผลได้ชัดเจนด้วยตนเอง
- ข. ทำซ้ำหลาย ๆ ครั้งและผลเหมือนเดิมทุกครั้ง
- ค. ครูที่ปรึกษารับประกันผลงาน
- ง. ใช้อุปกรณ์วิทยาศาสตร์ในการทดลองเป็นจำนวนมาก

8. สิ่งใดบ่งบอกว่าโครงการวิทยาศาสตร์ที่จัดทำนั้นมีคุณค่า
- ก. ประโยชน์ที่ได้รับ
  - ข. ข้อเสนอแนะ
  - ค. ขั้นตอนการทำงาน
  - ง. รูปแบบการทำโครงการ
9. การจัดทำโครงการวิทยาศาสตร์ควรเริ่มต้นอย่างไร
- ก. เรื่องที่เป็นที่นิยมทำกันในปัจจุบัน
  - ข. เรื่องที่แปลก ๆ ใหม่ ๆ ยังไม่มีใครทำ
  - ค. เรื่องที่เป็นประโยชน์ใกล้ ๆ ตัว
  - ง. เรื่องที่ลงทุนมาก
10. โครงการวิทยาศาสตร์ ที่ถูกต้องสมบูรณ์ต้องเป็นอย่างไร
- ก. ใช้ทักษะกระบวนการทางวิทยาศาสตร์
  - ข. ใช้วิธีค้นคว้าจากห้องสมุด
  - ค. ใช้วิธีหาคำตอบจากการซักถามผู้รู้
  - ง. ใช้อุปกรณ์ทดลองทางวิทยาศาสตร์

## บทที่ 3

### เซลล์

#### สาระสำคัญ

ร่างกายมนุษย์ พืช และสัตว์ ต่างประกอบด้วยเซลล์ จึงต้องเรียนรู้เกี่ยวกับเซลล์พืช และเซลล์สัตว์ กลไกและการรักษาคุณภาพของพืชสัตว์และมนุษย์ป้องกันดูแลรักษา ภูมิคุ้มกันร่างกาย กระบวนการแบ่งเซลล์

#### ผลการเรียนรู้ที่คาดหวัง

1. อธิบายรูปร่าง ส่วนประกอบ ความแตกต่าง ระบบการทำงาน การรักษาคุณภาพของเซลล์พืช และเซลล์สัตว์ได้
2. อธิบายการรักษาคุณภาพของพืชและสัตว์ และมนุษย์ และการนำความรู้ไปใช้
3. ศึกษา สืบค้นข้อมูลและอธิบายกระบวนการแบ่งเซลล์แบบ ไมโทซิส และ โมโอซิสได้

#### ขอบข่ายเนื้อหา

เรื่องที่ 1 เซลล์

เรื่องที่ 2 กระบวนการแบ่งเซลล์ แบบไมโทซิส และ โมโอซิส

## เรื่องที่ 1 เซลล์

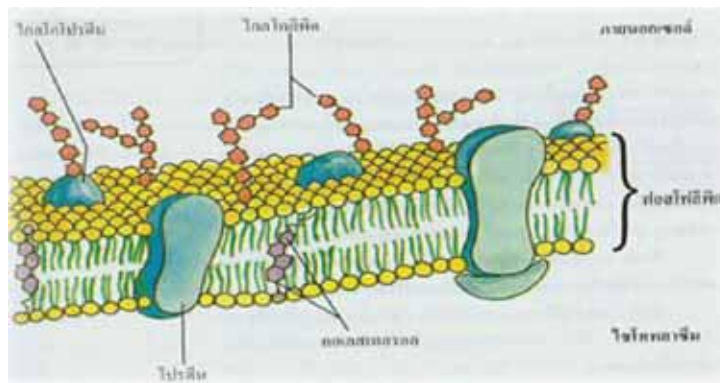
เซลล์ (Cell) หมายถึง หน่วยที่เล็กที่สุดของสิ่งมีชีวิต ซึ่งจะทำหน้าที่เป็นโครงสร้างหน้าที่ของการประสานและการเจริญเติบโตของสิ่งมีชีวิต

### โครงสร้างพื้นฐานของเซลล์

เซลล์ทั่วไปถึงจะมีขนาด รูปร่าง และหน้าที่แตกต่างกันอย่างไรก็ตาม แต่ลักษณะพื้นฐานภายในเซลล์มักไม่แตกต่างกัน ซึ่งจะประกอบด้วยโครงสร้างพื้นฐานที่คล้ายคลึงกัน ดังนี้

**1. ส่วนห่อหุ้มเซลล์** เป็นส่วนของเซลล์ที่ทำหน้าที่ห่อหุ้มองค์ประกอบภายในเซลล์ให้คงรูปอยู่ได้ ได้แก่

**1.1 เยื่อหุ้มเซลล์ (Cell membrane)** เยื่อหุ้มเซลล์มีชื่อเรียกได้หลายอย่าง เช่น พลาสมาเมมเบรน (Plasma membrane) ไซโทพลาสติก เมมเบรน (Cytoplasmic membrane) เยื่อหุ้มเซลล์ประกอบด้วยโปรตีนประมาณ 60% ลิพิดประมาณ 40% โปรตีนส่วนใหญ่เป็นโปรตีนที่อยู่ร่วมกับคาร์โบไฮเดรต (Glycoprotein) และโปรตีนเมือก (Mucoprotein) ส่วนลิพิดส่วนใหญ่จะเป็นฟอสโฟลิพิด (Phospholipid) และคอเลสเตอรอล (Cholesterol) การเรียงตัวของโปรตีนและลิพิดจัดเรียงตัวเป็นสารประกอบเชิงซ้อน โดยมีลิพิดอยู่ตรงกลาง และโปรตีนหุ้มอยู่ทั้งสองด้าน ชั้นของลิพิดจัดเรียงตัวเป็น 2 ชั้น โดยหันด้านที่มีประจุออกด้านนอก และหันด้านที่ไม่มีประจุ (Nonpolar) เข้าด้านในการเรียงตัว ในลักษณะเช่นนี้ เรียกว่า ยูนิท เมมเบรน (Unit membrane)



ภาพแสดงเยื่อหุ้มเซลล์



### หน้าที่ของเยื่อหุ้มเซลล์ คือ

1. ห่อหุ้มส่วนของโพรโทพลาสซึมที่อยู่ข้างใน ทำให้เซลล์แต่ละเซลล์แยกออกจากกัน นอกจากนี้ยังหุ้มอแกเนลล์ อีกหลายชนิดด้วย

2. ช่วยควบคุมการเข้าออกของสารต่างๆ ระหว่างภายในเซลล์และสิ่งแวดล้อม เรียกว่า มีคุณสมบัติเป็น เซมิเพอร์มีเอเบิล เมมเบรน (Semipermeable membrane) ซึ่งจะยินยอมให้สารบางชนิดเท่านั้น ที่ผ่านเข้าออกได้ ซึ่งการผ่านเข้าออกจะมีอัตราเร็วที่แตกต่างกัน

**1.2 ผนังเซลล์ (Cell wall)** เป็นส่วนที่อยู่นอกเซลล์ พบได้ในสิ่งมีชีวิตหลายชนิด เช่น เซลล์พืช สาหร่าย แบคทีเรีย และรา ผนังเซลล์ทำหน้าที่ป้องกันและให้ความแข็งแรงแก่เซลล์ โดยที่ผนังเซลล์เป็นส่วนที่ไม่มีชีวิตของเซลล์ ผนังเซลล์พืชประกอบด้วยสารพวกเซลลูโลส เพกทิน ลิกนิน คิวทิน และซูเบอร์ริน เป็นองค์ประกอบอยู่ การติดต่อระหว่างเซลล์พืชอาศัยพลาสโมเดสมตา (Plasmodesmata) เป็นสายใยของไซโทพลาสซึมในเซลล์หนึ่งที่จะทะลุผ่านผนังเซลล์เชื่อมต่อกับไซโทพลาสซึมของอีกเซลล์หนึ่ง ซึ่งเกี่ยวข้องกับการลำเลียงสารระหว่างเซลล์

**1.3 สารเคลือบเซลล์ (Cell coat)** เป็นสารที่เซลล์สร้างขึ้นมาเพื่อห่อหุ้มเซลล์อีกชั้นหนึ่ง เป็นสารที่มีความแข็งแรง ไม่ละลายน้ำ ทำให้เซลล์คงรูปร่างได้ และช่วยลดการสูญเสียน้ำ

ในเซลล์สัตว์ สารเคลือบเซลล์เป็นสารพวกไกลโคโปรตีน (Glycoprotein) โดยเป็นโปรตีนที่ประกอบด้วย Simple protein (โปรตีนที่เมื่อสลายตัวแล้วให้กรดอะมิโนอย่างเดียว) กับคาร์โบไฮเดรต สารเคลือบเซลล์นี้เป็นส่วนสำคัญที่ทำให้เซลล์ชนิดเดียวกันจดจำกันได้ และเกาะกลุ่มกันเป็นเนื้อเยื่อเป็นอวัยวะขึ้น ถ้าหากสารเคลือบเซลล์นี้ผิดปกติไปจากเดิมเป็นผลให้เซลล์จดจำกันไม่ได้ และขาดการติดต่อประสานงานกัน เซลล์เหล่านี้จะทำหน้าที่ผิดปกติไป เช่น เซลล์มะเร็ง (Cancer cell) เซลล์มะเร็งเป็นเซลล์ที่มีความผิดปกติหลาย ๆ ประการ แต่ที่สำคัญประการหนึ่ง คือ สารเคลือบเซลล์ ผิดไปจากเดิม ทำให้การติดต่อและประสานงานกับเซลล์อื่นๆ ผิดไปด้วย เป็นผลให้เกิดการแบ่งเซลล์อย่างมากมาย และไม่สามารถควบคุมการแบ่งเซลล์ได้ จึงเกิดเป็นเนื้อร้ายและเป็นอันตรายต่อชีวิต เนื่องจากเซลล์มะเร็งต้องใช้พลังงานและสารจำนวนมาก จึงรุกรานเซลล์อื่น ๆ ให้ได้รับอันตราย

ในพวกเห็ด รา มีสารเคลือบเซลล์หรือผนังเซลล์เป็นสารพวกไคติน (Chitin) ซึ่งเป็นสารประเภทเดียวกันกับเปลือกกุ้ง และแมลง ไคตินจัดเป็นคาร์โบไฮเดรตชนิดหนึ่ง ซึ่งประกอบด้วยหน่วยย่อยคือ N - acetyl glucosamine มาเชื่อมเกาะกันด้วย B - 1 , 4 glycosidic bond

สารเคลือบเซลล์หรือผนังเซลล์ของพวกสาหร่ายไดอะตอม (Diatom) มีสารซิลิกา (Silica) ซึ่งเป็นสารพวกแก้วประกอบอยู่ทำให้มองดูเป็นเงาแวววาว

## 2. โพรโทพลาสซึม (Protoplasm)

โพรโทพลาสซึม เป็นส่วนของเซลล์ที่อยู่ภายในเยื่อหุ้มเซลล์ทั้งหมด ทำหน้าที่เกี่ยวข้องกับการเจริญและการดำรงชีวิตของเซลล์ โพรโทพลาสซึมของเซลล์ต่าง ๆ จะประกอบด้วยธาตุที่คล้ายคลึงกัน 4 ธาตุหลักคือ คาร์บอน ไฮโดรเจน ออกซิเจน และไนโตรเจน ซึ่งรวมกันถึง 90% ส่วนธาตุที่มีน้อยก็คือ ทองแดง สังกะสี

อะลูมิเนียม โคบอลต์ แมงกานีส โมลิบดีนัม และโบรอน ธาตุต่าง ๆ เหล่านี้จะรวมตัวกันเป็นสารประกอบต่าง ๆ ที่จำเป็นต่อการดำรงชีวิตของเซลล์ และสิ่งมีชีวิต

**ไซโทพลาสซึม ประกอบด้วย 2 ส่วน คือ ไซโทพลาสซึม (Cytoplasm) และนิวเคลียส (Nucleus)**

**2.1 ไซโทพลาสซึม (Cytoplasm)** คือส่วนของไซโทพลาสซึมที่อยู่นอกนิวเคลียส โดยทั่วไปประกอบด้วย

**2.1.1 ออร์แกเนลล์ (Organelle)** เป็นส่วนที่มีชีวิต ทำหน้าที่คล้ายๆ กับอวัยวะของเซลล์ แบ่งเป็นพวกที่มีเยื่อหุ้ม และพวกที่ไม่มีเยื่อหุ้ม

**ออร์แกเนลล์ที่มีเยื่อหุ้ม (Membrane bounded organelle) ได้แก่**

**1) ไมโทคอนเดรีย (Mitochondria)** พบครั้งแรกโดยคอลลิกเกอร์ (Kolliker) ไมโทคอนเดรียส่วนใหญ่จะมีรูปร่างกลม ท่อนสั้น ท่อนยาว หรือกลมรีคล้ายรูปไข่ โดยทั่วไปมีขนาด เส้นผ่านศูนย์กลางประมาณ 0.2 - 1 ไมครอน และยาว 5 - 7 ไมครอน ประกอบด้วยสารโปรตีน ประมาณ 60-65 % และลิพิดประมาณ 35 - 40% ไมโทคอนเดรียเป็นออร์แกเนลล์ที่มีเยื่อหุ้ม 2 ชั้น (Double unit membrane) โดยเนื้อเยื่อชั้นนอกเรียบมีความหนาประมาณ 60 - 70 อังตรอม เยื่อชั้นในพับเข้าด้านในเรียกว่า คริสตี (Cristae) มีความหนาประมาณ 60 - 80 อังตรอม ภายในไมโทคอนเดรียมีของเหลวซึ่งประกอบด้วยสารหลายชนิด เรียกว่า มาทริกซ์ (Matrix) ไมโทคอนเดรียนอกจากจะมีสารประกอบเคมีหลายชนิดแล้ว ยังมีเอนไซม์ที่สำคัญในการสร้างพลังงานจากการหายใจ โดยพบเอนไซม์ ที่เกี่ยวข้องกับวัฏจักรเครบส์ (Krebs cycle) ในมาทริกซ์ และพบเอนไซม์ในระบบขนส่งอิเล็กตรอน (Electron transport system) ที่คริสตีของเยื่อชั้นใน นอกจากนี้ยังพบเอนไซม์ในการสังเคราะห์ DNA สังเคราะห์ RNA และโปรตีนด้วย

จำนวนของไมโทคอนเดรียในเซลล์แต่ละชนิด จะมีจำนวนไม่แน่นอนขึ้นอยู่กับชนิดและกิจกรรมของเซลล์ โดยเซลล์ที่มีเมตาบอลิซึมสูง จะมีไมโทคอนเดรียมาก เช่น เซลล์ตับ เซลล์ไต เซลล์กล้ามเนื้อหัวใจ เซลล์ต่อมต่าง ๆ เซลล์ที่มีเมตาบอลิซึมต่ำ เช่น เซลล์ผิวหนัง เซลล์เยื่อเกี่ยวพันจะมีไมโทคอนเดรียน้อย การที่ไมโทคอนเดรีย มี DNA เป็นของตัวเอง จึงทำให้ไมโทคอนเดรียสามารถทวีจำนวนได้ และยังสามารถสังเคราะห์โปรตีนที่จำเป็นต่อการทำงานของไมโทคอนเดรียได้

หน้าที่ของไมโทคอนเดรีย คือเป็นแหล่งสร้างพลังงานของเซลล์โดยการหายใจ ระดับเซลล์ ในช่วงวัฏจักรเครบส์ ที่มาทริกซ์และระบบขนส่งอิเล็กตรอนที่คริสตี

**2) เอนโดพลาสมิกเรติคูลัม (Endoplasmic reticulum : ER)** เป็นออร์แกเนลล์ที่มี เยื่อหุ้ม 2 ชั้น ประกอบด้วยโครงสร้างระบบท่อที่มีการเชื่อมประสานกันทั้งเซลล์ ส่วนของท่อยังติดต่อกับเยื่อหุ้มเซลล์ เยื่อหุ้มนิวเคลียสและกอลจิบอดีด้วย ภายในท่อมีของเหลวซึ่งเรียกว่า ไฮยาโลพลาสซึม (Hyaloplasm) บรรจุอยู่

**เอนโดพลาสมิกเรติคูลัมแบ่งออกเป็น 2 ชนิด คือ**

**2.1) เอนโดพลาสมิกเรติคูลัมชนิดเรียบ (Smooth endoplasmic reticulum : SER)** เป็นชนิดที่ไม่มีไรโบโซมเกาะ มีหน้าที่สำคัญคือลำเลียงสารต่าง ๆ เช่น RNA ลิพิด โปรตีนสังเคราะห์สาร

พวกไขมัน และสเตอรอยด์ฮอร์โมน นอกจากนี้ เอนโดพลาสมิกเรติคูลัมชนิดเรียบในเซลล์ตับ ยังช่วยในการกำจัดสารพิษบางอย่างอีกด้วย

### 2.2) เอนโดพลาสมิกเรติคูลัมชนิดขรุขระ (Rough endoplasmic reticulum : RER)

เป็นชนิดที่มีไรโบโซม (Ribosome) มาเกาะที่ผิวด้านนอก มีหน้าที่สำคัญคือ การสังเคราะห์ โปรตีนของ ไรโบโซมที่เกาะอยู่และลำเลียงสาร ซึ่งได้แก่ โปรตีนที่สร้างได้ และสารอื่น ๆ เช่น ลิพิด ชนิดต่าง ๆ

3) กอลจิบอดี (Golgi body) มีชื่อเรียกที่แตกต่างกันหลายอย่างคือ กอลจิคอมเพลกซ์ (Golgi complex) กอลจิแอฟพาราตัส (Golgi apparatus) ดิกไทโอโซม (Dictyosome) มีรูปร่างลักษณะเป็นถุงแบน ๆ หรือเป็นท่อเรียงซ้อนกันเป็นชั้น ๆ มีจำนวนไม่แน่นอน โดยทั่วไปจะพบในเซลล์สัตว์ที่มีกระดูก สันหลังมากกว่าในสัตว์ไม่มีกระดูกสันหลัง มีหน้าที่สำคัญ คือ เก็บสะสมสารที่เซลล์สร้างขึ้นก่อนที่จะปล่อยออกนอกเซลล์ ซึ่งสารส่วนใหญ่เป็นสารโปรตีน มีการจัดเรียงตัวหรือจัดสภาพใหม่ ให้เหมาะสมกับสภาพของการใช้งาน กอลจิบอดีเกี่ยวข้องกับการสร้างอะโครโซม (Acrosome) ซึ่งอยู่ที่ ส่วนหัวของสเปิร์มโดยทำหน้าที่เจาะไข่เมื่อเกิดการปฏิสนธิ นอกจากนี้ยังเกี่ยวกับการสร้างเนมาโทซิสต์ (Nematocyst) ของไฮดราอีกด้วย

4) ไลโซโซม (Lysosome) เป็นออร์แกเนลล์ที่มีเมมเบรนห่อหุ้มเพียงชั้นเดียว พบครั้งแรกโดยคริสเตียน เดอ ดูฟ (Christain de Duve) รูปร่างวงรี เส้นผ่านศูนย์กลางประมาณ 0.15-0.8 ไมครอน พบเฉพาะในเซลล์สัตว์เท่านั้น โดยพบมากในฟาโกไซติกเซลล์ (Phagocytic cell) เช่น เซลล์เม็ดเลือดขาว และ เซลล์ในระบบเรติคูลูโลแอนโดทีเลียล (Reticuloendothelial system) เช่น ตับ ม้าม นอกจากนี้ยังพบไลโซโซมจำนวนมากในเซลล์ที่ได้รับบาดเจ็บหรือมีการสลายตัวเอง เช่น เซลล์ส่วนหางของลูกอ๊อด เป็นต้น ไลโซโซมมีเอนไซม์หลายชนิด จึงสามารถย่อยสลายต่าง ๆ ภายในเซลล์ได้ดี จึงมีหน้าที่สำคัญ 4 ประการ คือ

1. ย่อยสลายอนุภาคและโมเลกุลของสารอาหารภายในเซลล์
2. ย่อยหรือทำลายเชื้อโรคและสิ่งแปลกปลอมต่าง ๆ ที่เข้าสู่ร่างกายหรือเซลล์ เช่น เซลล์เม็ดเลือดขาวกิน และย่อยสลายเซลล์แบคทีเรีย
3. ทำลายเซลล์ที่ตายแล้ว หรือ เซลล์ที่มีอายุมากโดยเยื่อของไลโซโซมจะฉีกขาดได้ง่ายแล้วปล่อยเอนไซม์ออกมาย่อยสลายเซลล์ดังกล่าว
4. ย่อยสลายโครงสร้างต่าง ๆ ของเซลล์ในระยะที่เซลล์มีการเปลี่ยนแปลงและมีเมตาเมอร์-โฟซิส (Metamorphosis) เช่น ในเซลล์ส่วนหางของลูกอ๊อด

5) แวกิวโอล (Vacuole) เป็นออร์แกเนลล์ที่มีลักษณะเป็นถุงมีเมมเบรนซึ่งเรียกว่า โทโนพลาสต์ (Tonoplast) ห่อหุ้ม ภายในมีสารต่าง ๆ บรรจุอยู่

แวกิวโอลแบ่งออกเป็น 3 ชนิด คือ

5.1) แซปแวกิวโอล (Sap vacuole) พบเฉพาะในเซลล์พืชเท่านั้น ภายในบรรจุของเหลว ซึ่งส่วนใหญ่เป็นน้ำ และสารละลายอื่น ๆ ในเซลล์พืชที่ยังอ่อน ๆ อยู่ แซปแวกิวโอล จะมีขนาดเล็ก รูปร่าง

ค่อนข้างกลม แต่เมื่อเซลล์แก่ขึ้น แวกิวโอลชนิดนี้จะมีขนาดใหญ่เกือบเต็มเซลล์ ทำให้ ส่วนของนิวเคลียส และไซโทพลาซึมส่วนอื่น ๆ ถูกดันไปอยู่ทางด้านข้างด้านใดด้านหนึ่งของเซลล์

**5.2) ฟูดแวกิวโอล (Food vacuole)** พบในโปรโตซัวพวกอะมีบา นอกจากนี้ ยังพบในเซลล์เม็ดเลือดขาว และฟาโกไซติก เซลล์ (Phagocytic cell) อื่น ๆ ด้วยฟูดแวกิวโอลเกิดจากการนำอาหารเข้าสู่เซลล์หรือการกินแบบฟาโกไซโทซิส (Phagocytosis) ซึ่งอาหารนี้จะทำการย่อยโดยน้ำย่อยจากไลโซโซมต่อไป

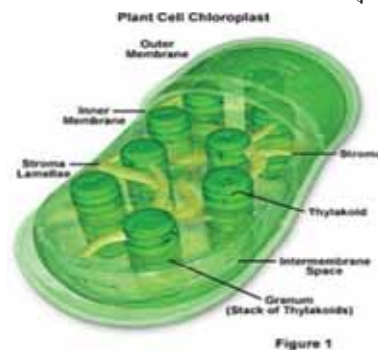
**5.3) คอนแทรกไทล์แวกิวโอล (Contractile vacuole)** พบในโปรโตซัวน้ำจืด หลายชนิด เช่น อะมีบา พารามีเซียม ทำหน้าที่ขับถ่ายน้ำที่มากเกินไปเกินความต้องการ และของเสียที่ละลายน้ำออกจากเซลล์ และควบคุมสมดุลน้ำภายในเซลล์ให้พอเหมาะด้วย

**6) พลาสติด (Plastid)** เป็นออร์แกเนลล์ที่พบได้ในเซลล์พืชและสาหร่ายทั่วไป ยกเว้นสาหร่ายสีเขียวแกมน้ำเงิน ในโปรโตซัว พบเฉพาะพวกที่มีเส้น เช่น ยูกลีนา วอลวอกซ์ เป็นต้น โดยแบ่งออกเป็น 3 ชนิด คือ

**6.1) ลิวโคพลาสต์ (Leucoplast)** เป็นพลาสติดที่ไม่มีสี พบตามเซลล์ผิวของใบ และเนื้อเยื่อสะสมอาหารพวก แป้ง โปรตีน

**6.2) โครโมพลาสต์ (Chromoplast)** เป็นพลาสติดที่มีรงควัตถุสีอื่นๆ นอกจากสีเขียว เช่น แคโรทีน (Carotene) ให้สีส้มและแดง แซนโทฟิลล์ (Xanthophyll) ให้สีเหลืองน้ำตาล โครโมพลาสต์พบมากในผลไม้สุก เช่น มะละกอกอ มะเขือเทศ กลีบของดอกไม้

**6.3) คลอโรพลาสต์ (Chloroplast)** เป็นพลาสติดที่มีสีเขียว ซึ่งส่วนใหญ่เป็นสารคลอโรฟิลล์ ภายในคลอโรพลาสต์ประกอบด้วย ส่วนที่เป็นของเหลวเรียกว่า สโตรมา (Stroma) มีเอนไซม์ที่เกี่ยวข้องกับการสังเคราะห์ด้วยแสงแบบที่ไม่ต้องใช้แสง (Dark reaction) มี DNA RNA ไรโบโซม และเอนไซม์อีกหลายชนิดปะปนกันอยู่ อีกส่วนหนึ่งเป็นเยื่อที่เรียงซ้อนกัน เรียกว่า กรานา (Grana) ระหว่างกรานาจะมีเยื่อเมมเบรนเชื่อมให้กรานาติดต่อกัน เรียกว่า อินเตอร์กรานา (Intergrana) ทั้งกรานาและอินเตอร์กรานาเป็นที่อยู่ของคลอโรฟิลล์ รงควัตถุอื่น ๆ และพวกเอนไซม์ ที่เกี่ยวข้องกับการสังเคราะห์ด้วยแสงแบบที่ต้องใช้แสง (Light reaction) บรรจุอยู่ หน้าที่สำคัญของ คลอโรพลาสต์ก็คือ การสังเคราะห์ด้วยแสง (Photosynthesis) โดยแสงสีแดงและแสงสีน้ำเงิน เหมาะสม ต่อการสังเคราะห์ด้วยแสงมากที่สุด



ภาพแสดง คลอโรพลาสต์

### ออร์แกเนลล์ที่ไม่มีเยื่อหุ้ม (Nonmembrane bounded organelle)

1) **ไรโบโซม (Ribosome)** เป็นออร์แกเนลล์ขนาดเล็กพบได้ในสิ่งมีชีวิตทั่วไป ประกอบด้วยสารเคมี 2 ชนิด คือ กรดไรโบนิวคลีอิก (Ribonucleic acid : RNA) กับโปรตีนอยู่รวมกันเรียกว่า ไรโบนิวคลีโอโปรตีน (Ribonucleoprotein) ไรโบโซมมีทั้งที่อยู่เป็นอิสระในไซโทพลาซึมและ เกาะอยู่บนเอนโดพลาสมิกเรติคูลัม (พบเฉพาะในเซลล์ยูคาริโอตเท่านั้น) พวกที่เกาะอยู่ที่เอนโดพลาสมิกเรติคูลัมจะพบมากในเซลล์ต่อมที่สร้างเอนไซม์ต่าง ๆ พลาสมาเซลล์เหล่านี้จะสร้างโปรตีนที่นำไปใช้นอกเซลล์เป็นสำคัญ

2) **เซนทริโอล (Centriole)** มีลักษณะคล้ายท่อทรงกระบอก 2 อันตั้งฉากกัน พบเฉพาะในเซลล์สัตว์และโพรทิสต์บางชนิด มีหน้าที่เกี่ยวกับการแบ่งเซลล์ เซนทริโอลแต่ละอัน จะประกอบด้วยชุดของไมโครทิวบูล (Microtubule) ซึ่งเป็นหลอดเล็ก ๆ 9 ชุด แต่ละชุดมี 3 ซับไฟเบอร์ (Subfiber) คือ A B และ C บริเวณตรงกลางไม่มีไมโครทิวบูล จึงเรียกรวมๆ ว่า 9+0 เซนทริโอล มี DNA และ RNA เป็นของตัวเอง ดังนั้นจึงสามารถจำลองตัวเองและสร้างโปรตีนขึ้นมาใช้เองได้

2.1.2 **ไซโทพลาสมิก อินคลูชัน (Cytoplasmic inclusion)** หมายถึง สารที่ไม่มีชีวิตที่อยู่ในไซโทพลาซึม เช่น เม็ดแป้ง (Starch grain) เม็ดโปรตีน หรือพวกของเสียที่เกิดจากกระบวนการเมตาบอลิซึม เช่น ผลึกของแคลเซียม ออกซาเลต (Calcium oxalate) ซึ่งเกิดจากปฏิกิริยาของแคลเซียมกับกรดออกซาลิก (Oxalic acid) เพื่อทำลายพิษของกรดดังกล่าว

### 2.2 นิวเคลียส

นิวเคลียสค้นพบโดย รอเบิร์ต บราวน์ นักพฤกษศาสตร์ชาวอังกฤษ เมื่อปี ค.ศ. 1831 มีลักษณะเป็นก้อนทึบแสงเด่นชัด อยู่บริเวณกลาง ๆ หรือค่อนข้างข้างใดข้างหนึ่งของเซลล์ เซลล์โดยทั่วไปจะมี 1 นิวเคลียส เซลล์พาราไมซีตมี 2 นิวเคลียส ส่วนเซลล์พวกกล้ำเนื้อลาย เซลล์เวสเซล (Vessel) ที่เกี่ยวข้องกับการผลิตลาเทกซ์ในพืชชั้นสูง และเซลล์ของราที่เส้นใยไม่มีผนังกันจะมีหลายนิวเคลียส เซลล์เม็ดเลือดแดงของสัตว์เลี้ยงลูกด้วยน้ำนม และเซลล์ซิฟทิวบ์ของโพลีเอมที่แก่เต็มที่จะไม่มีนิวเคลียส นิวเคลียสมีความสำคัญเนื่องจากเป็นที่อยู่ของสารพันธุกรรม จึงมีหน้าที่ควบคุมการทำงานของเซลล์ โดยทำงานร่วมกับไซโทพลาซึม

#### สารประกอบทางเคมีของนิวเคลียส ประกอบด้วย

1. **ดีออกซีไรโบนิวคลีอิก แอซิด (Deoxyribonucleic acid)** หรือ DNA เป็นส่วนประกอบของโครโมโซมในนิวเคลียส

2. **ไรโบนิวคลีอิก แอซิด (Ribonucleic acid)** หรือ RNA เป็นส่วนที่พบในนิวเคลียสโดยเป็นส่วนประกอบของนิวคลีโอไลต์

3. **โปรตีน** ที่สำคัญคือ โปรตีนฮิสโตน (Histone) โปรตีนโพรตามีน (Protamine) ซึ่งเป็นโปรตีนเบสิก (Basic protein) ทำหน้าที่เชื่อมเกาะอยู่กับ DNA ส่วนโปรตีนเอนไซม์ส่วนใหญ่จะเป็นเอนไซม์ในกระบวนการสังเคราะห์กรดนิวคลีอิก และเมตาบอลิซึมของกรดนิวคลีอิก และเอนไซม์ในกระบวนการไกลโคไลซิส ซึ่งเป็นกระบวนการสร้างพลังงานให้กับนิวเคลียส

## โครงสร้างของนิวเคลียสประกอบด้วย 3 ส่วน คือ

1. **เยื่อหุ้มเซลล์ (Nuclear membrane)** เป็นเยื่อบาง ๆ 2 ชั้น เรียงซ้อนกัน ที่เยื่อนี้จะมีรู เรียกว่า นิวเคลียร์พอร์ (Nuclear pore) หรือ แอนนูลัส (Annulus) มากมาย รูเหล่านี้ทำหน้าที่เป็นทางผ่าน ของสารต่าง ๆ ระหว่างไซโทพลาสซึมและนิวเคลียส นอกจากนี้เยื่อหุ้มนิวเคลียสยังมีลักษณะเป็นเยื่อเลือกผ่าน เช่นเดียวกับเยื่อหุ้มเซลล์ เยื่อหุ้มนิวเคลียสชั้นนอกจะติดต่อกับเอนโดพลาสมิกเรติคูลัมและมีไรโบโซมมาเกาะเพื่อทำหน้าที่ลำเลียงสารต่าง ๆ ระหว่างนิวเคลียสและไซโทพลาสซึมด้วย

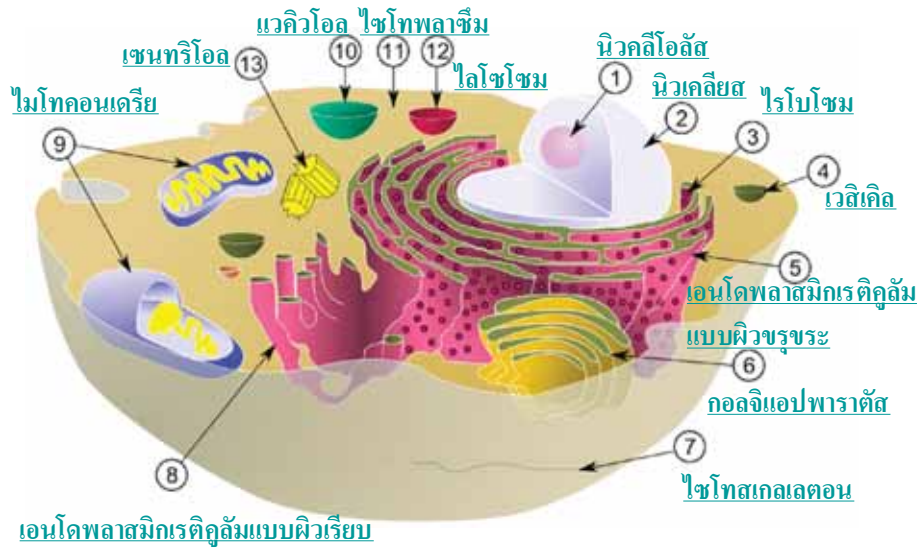
2. **โครมาทิน (Chromatin)** เป็นส่วนของนิวเคลียสที่ย่อมดัดสี เป็นเส้นในเล็ก ๆ พันกันเป็นร่างแห เรียกร่างแหโครมาทิน (Chromatin network) โดยประกอบด้วย โปรตีนหลายชนิด และ DNA ในการย้อมสี โครมาทินจะดัดสีแตกต่างกัน ส่วนที่ดัดสีเข้มจะเป็นส่วนที่ไม่มีจีน (Gene) อยู่เลย หรือมีก็น้อยมาก เรียกว่า เฮเทอโรโครมาทิน (Heterochromatin) ส่วนที่ย้อมดัดสีจาง เรียกว่า ยูโครมาทิน (Euchromatin) ซึ่งเป็นที่อยู่ของจีน ในขณะที่เซลล์กำลังแบ่งตัว ส่วนของโครโมโซมจะหดสั้นเข้าและมีลักษณะเป็นแท่งเรียกว่า โครโมโซม (Chromosome) และโครโมโซมจะจำลองตัวเองเป็นเส้นคู่ เรียกว่า โครมาทิด (Chromatid) โครโมโซมของสิ่งมีชีวิตแต่ละชนิดจะมีจำนวนแน่นอน เช่น ของคนมี 23 คู่ (46 แท่ง) แมลงหวี่ 4 คู่ (8 แท่ง) แมว 19 คู่ (38 แท่ง) หมู 20 คู่ (40 แท่ง) มะละกอ 9 คู่ (18 แท่ง) กาแฟ 22 คู่ (44 แท่ง) โครโมโซมมีหน้าที่ควบคุมกิจกรรมต่าง ๆ ของเซลล์และควบคุมการถ่ายทอดลักษณะทางพันธุกรรมของสิ่งมีชีวิตทั่วไป เช่น หมูเถื่อน สีดาว สีผิว ความสูง และการเกิดรูปร่างของสิ่งมีชีวิต เป็นต้น

3. **นิวคลีโอลัส (Nucleolus)** เป็นส่วนของนิวเคลียสที่มีลักษณะเป็นก้อนอนุภาคหนาทึบ ค้นพบโดยฟอนตานา (Fontana) เมื่อปี ค.ศ. 1781 (พ.ศ. 2224) นิวคลีโอลัสพบเฉพาะเซลล์ของพวกยูคาริโอตเท่านั้น เซลล์ต่อสุจิ เซลล์เม็ดเลือดแดงที่เจริญเติบโตเต็มที่ของสัตว์เลี้ยงลูกด้วยน้ำนมและเซลล์ไฟเบอร์ของกล้ามเนื้อ จะไม่มีนิวคลีโอลัส นิวคลีโอลัสประกอบด้วย โปรตีน และ RNA โดยโปรตีนเป็นชนิดฟอสโฟโปรตีน (Phosphoprotein) จะไม่พบโปรตีนฮิสโตนเลย ในเซลล์ที่มีกิจกรรมสูงจะมีนิวคลีโอลัสขนาดใหญ่ ส่วนเซลล์ที่มีกิจกรรมต่ำ จะมีนิวคลีโอลัสขนาดเล็ก นิวคลีโอลัสมีหน้าที่ในการสังเคราะห์ RNA ชนิดต่าง ๆ และถูกนำออกทางรูของเยื่อหุ้มนิวเคลียส เพื่อสร้างเป็นไรโบโซมต่อไป ดังนั้น นิวคลีโอลัส จึงมีความสำคัญต่อการสร้างโปรตีนเป็นอย่างมาก เนื่องจากไรโบโซมทำหน้าที่สร้างโปรตีน



แผนผังโครงสร้างของเซลล์





ภาพเซลล์สัตว์ทั่วไป ประกอบด้วยออร์แกเนลล์ต่าง ๆ

## เรื่องที่ 2 กระบวนการแบ่งเซลล์

การแบ่งเซลล์มี 2 ขั้นตอน คือ

### 1. การแบ่งนิวเคลียส (Karyokinesis) จะมี 2 แบบ คือ

1.1 การแบ่งแบบ ไมโทซิส (Mitosis)

1.2 การแบ่งแบบ ไมโอซิส (Meiosis)

### 2. การแบ่งไซโทพลาซึม (Cytokinesis) มี 2 แบบ คือ

2.1 แบบที่เชื่อมหุ้มเซลล์คอดกั้วจาก 2 ข้าง เข้าใจกลางเซลล์ เรียกว่า Furrow type ซึ่งพบในเซลล์สัตว์

2.2 แบบที่มีการสร้างเซลล์เพลท (Cell plate) มาก่อตัว บริเวณกึ่งกลางเซลล์ขยายไป 2 ข้างของเซลล์ เรียกว่า Cell plate type ซึ่งพบในเซลล์พืช

### การแบ่งเซลล์แบบไมโทซิส (Mitosis)

การแบ่งเซลล์แบบไมโทซิส เป็นการแบ่งเซลล์ เพื่อเพิ่มจำนวนเซลล์ของร่างกาย ในการเจริญเติบโต ในสิ่งมีชีวิตหลายเซลล์ หรือในการแบ่งเซลล์ เพื่อการสืบพันธุ์ ในสิ่งมีชีวิตเซลล์เดียว และหลายเซลล์บางชนิด เช่น พืช

- ไม่มีการลดจำนวนชุดโครโมโซม ( $2n$  ไป  $2n$  หรือ  $n$  ไป  $n$ )
- เมื่อสิ้นสุดการแบ่งเซลล์จะได้ 2 เซลล์ใหม่ที่มีโครโมโซมเท่าๆ กัน และเท่ากับเซลล์ตั้งต้น
- พบที่เนื้อเยื่อเจริญปลายยอด ปลายราก แคมเบียม ของพืชหรือเนื้อเยื่อผิวหนัง ไชกระดูกในสัตว์ การสร้างสเปิร์ม และไข่ของพืช



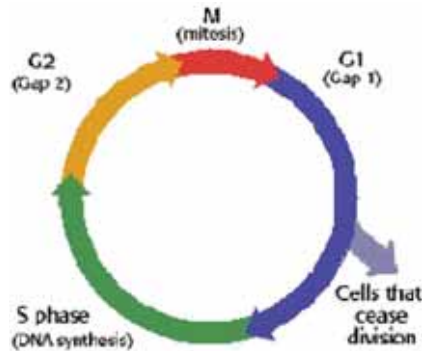
- มี 5 ระยะ คือ อินเตอร์เฟส (interphase) โพรเฟส (prophase) เมทาเฟส (metaphase) แอนาเฟส (anaphase) และเทโลเฟส (telophase)

## วัฏจักรของเซลล์ (cell cycle)

วัฏจักรของเซลล์ หมายถึง ช่วงระยะเวลาการเปลี่ยนแปลงของเซลล์ ในขณะที่เซลล์มีการแบ่งตัว ซึ่งประกอบด้วย 2 ระยะ ได้แก่ การเตรียมตัวให้พร้อม ที่จะแบ่งตัว และกระบวนการแบ่งเซลล์

### 1. ระยะอินเตอร์เฟส (Interphase)

ระยะนี้เป็นระยะเตรียมตัว ที่จะแบ่งเซลล์ในวัฏจักรของเซลล์ แบ่งออกเป็น 3 ระยะย่อย คือ








- ระยะ G1 เป็นระยะก่อนการสร้าง DNA ซึ่งเซลล์มีการเจริญเติบโตเต็มที่ ระยะนี้จะมีการสร้างสารบางอย่าง เพื่อใช้สร้าง DNA ในระยะต่อไป
- ระยะ S เป็นระยะสร้าง DNA (DNA replication) โดยเซลล์มีการเจริญเติบโต และมีการสังเคราะห์ DNA อีก 1 ตัว หรือมีการจำลองโครโมโซม อีก 1 เท่าตัว แต่โครโมโซมที่จำลองขึ้น ยังติดกับท่อนเก่า ที่ปมเซนโทรเมียร์ (Centromere) หรือไคเนโตคอร์ (Kinetochore) ระยะนี้ใช้เวลานานที่สุด
- ระยะ G2 เป็นระยะหลังสร้าง DNA ซึ่งเซลล์มีการเจริญเติบโต และเตรียมพร้อม ที่จะแบ่งโครโมโซม และไซโทพลาสซึมต่อไป

### 2. ระยะ M (M - phase)

ระยะ M (M-phase) เป็นระยะที่มีการแบ่งนิวเคลียส และแบ่งไซโทพลาสซึม ซึ่งโครโมโซม จะมีการเปลี่ยนแปลงหลายขั้นตอน ก่อนที่จะถูกแบ่งแยกออกจากกัน ประกอบด้วย 4 ระยะย่อย คือ โพรเฟส เมทาเฟส แอนาเฟส และเทโลเฟส

ในเซลล์บางชนิด เช่น เซลล์เนื้อเยื่อเจริญของพืช เซลล์ไขกระดูก เพื่อสร้างเม็ดเลือดแดง เซลล์บุผิว พบว่า เซลล์จะมีการแบ่งตัว อยู่เกือบตลอดเวลา จึงกล่าวได้ว่า เซลล์เหล่านี้ อยู่ในวัฏจักรของเซลล์ตลอด แต่เซลล์บางชนิด เมื่อแบ่งเซลล์แล้ว จะไม่แบ่งตัวอีกต่อไป นั่นคือ เซลล์จะไม่เข้าสู่วัฏจักรของเซลล์อีก จนกระทั่งเซลล์ชราภาพ (Cell aging) และตายไป (Cell death) ในที่สุด แต่เซลล์บางชนิด จะพักตัวชั่วคราว ระยะเวลาหนึ่ง ถ้าจะกลับมาแบ่งตัวอีก ก็จะเข้าสู่วัฏจักรของเซลล์ต่อไป ซึ่งขั้นตอนต่างๆ ในการแบ่งเซลล์แบบไมโทซิส ดังตาราง

| ระยะการแบ่ง  | การเปลี่ยนแปลงที่สำคัญ   |
|--|--|
| อินเตอร์เฟส (Interphase)  | <ul style="list-style-type: none"> <li>เพิ่มจำนวน โครโมโซม (Duplication) ขึ้นมาอีกชุดหนึ่ง และติดกันอยู่ที่เซนโทรเมียร์ (1 โครโมโซม มี 2 โครมาทิด)</li> <li>มีการเปลี่ยนแปลงทางเคมีมากที่สุด (metabolic stage)</li> <li>เซนทริโอล แบ่งเป็น 2 อัน</li> <li>ใช้เวลานานที่สุด , โครโมโซมมีความยาวมากที่สุด</li> </ul>   |
| โพรเฟส (Prophase)         | <ul style="list-style-type: none"> <li>โครมาทิดหดสั้น ทำให้มองเห็นเป็นแท่งชัดเจน</li> <li>เยื่อหุ้มนิวเคลียสและนิวคลีโอลัสหายไป</li> <li>เซนทริโอลเคลื่อนไป 2 ข้างของเซลล์ และสร้างไมโทติกสปินเดิล ไปเกาะที่เซนโทรเมียร์ ระยะนี้จึงมีเซนทริโอล 2 อัน</li> </ul>  |
| เมทาเฟส (Metaphase)      | <ul style="list-style-type: none"> <li>โครโมโซมเรียงตัวตามแนวกึ่งกลางของเซลล์</li> <li>เหมาะต่อการนับโครโมโซม และศึกษารูปร่างโครงสร้างของโครโมโซม</li> <li>เซนโทรเมียร์จะแบ่งครึ่ง ทำให้โครมาทิดเริ่มแยกจากกัน</li> <li>โครโมโซมหดสั้นมากที่สุด สะดวกต่อการเคลื่อนที่</li> </ul>   |
| แอนาเฟส (Anaphase)      | <ul style="list-style-type: none"> <li>โครมาทิดถูกดึงแยกออกจากกัน กลายเป็นโครโมโซมอิสระ</li> <li>โครโมโซมภายในเซลล์เพิ่มเป็น 2 เท่าตัว หรือจาก <math>2n</math> เป็น <math>4n</math> (tetraploid)</li> <li>มองเห็นโครโมโซม มีรูปร่างคล้ายอักษรรูปตัว V, J, I</li> <li>ใช้เวลาสั้นที่สุด</li> </ul>  |
| เทโลเฟส (Telophase)     | <ul style="list-style-type: none"> <li>โครโมโซมลูก (daughter chromosome) จะไปรวมอยู่ชั่วคราวข้างในของเซลล์</li> <li>เยื่อหุ้มนิวเคลียส และนิวคลีโอลัสเริ่มปรากฏ</li> <li>มีการแบ่งไซโทพลาสซึม เซลล์สัตว์ เยื่อหุ้มเซลล์คอดเข้าไป บริเวณกลางเซลล์ เซลล์พืช เกิดเซลล์เพลท (Cell plate) กั้นแนวกลางเซลล์ ขยายออกไปติดกับผนังเซลล์เดิม</li> <li>ได้ 2 เซลล์ใหม่ เซลล์ละ <math>2n</math> เหมือนเดิมทุกประการ</li> </ul> |

ตารางแสดง ลักษณะขั้นตอนการเปลี่ยนแปลงในระยะการแบ่งเซลล์แบบ Mitosis

## การแบ่งเซลล์แบบไมโอซิส (Meiosis)

การแบ่งเซลล์แบบไมโอซิส เป็นการแบ่งเซลล์เพื่อสร้างเซลล์สืบพันธุ์ของสัตว์ ซึ่งเกิดในวัยเจริญพันธุ์ของสิ่งมีชีวิต โดยพบในอัณฑะ (Testes) รังไข่ (Ovary) และเป็นการแบ่ง เพื่อสร้างสปอร์ (Spore) ในพืช ซึ่งพบในอับละอองเรณู (Pollen sac) และอับสปอร์ (Sporangium) หรือโคน (Cone) หรือในออวูล (Ovule) มีการลดจำนวนชุดโครโมโซมจาก  $2n$  เป็น  $n$  ซึ่งเป็นกลไกหนึ่ง ที่ช่วยให้ จำนวนชุดโครโมโซมคงที่ ในแต่ละสปีชีส์ ไม่ว่าจะ เป็นโครโมโซม ในรุ่นพ่อ - แม่ หรือรุ่นลูก - หลานก็ตาม

การแบ่งเซลล์แบบไมโอซิส มี 2 ขั้นตอน คือ

### 1. ไมโอซิส I (Meiosis - I)

ไมโอซิส I (Meiosis - I) หรือ Reductional division ขั้นตอนนี้จะมีการแยก homologous chromosome ออกจากกันมี 5 ระยะย่อย คือ

- Interphase - I
- Prophase - I
- Metaphase - I
- Anaphase - I
- Telophase - I

### 2. ไมโอซิส II (Meiosis - II)

ไมโอซิส II (Meiosis - II) หรือ Equational division ขั้นตอนนี้จะมีการแยกโครมาทิด ออกจากกัน มี 5 ระยะย่อย คือ

- Interphase - II
- Prophase - II
- Metaphase - II
- Anaphase - II
- Telophase - II

เมื่อสิ้นสุดการแบ่งจะได้ 4 เซลล์ที่มีโครโมโซมเซลล์ละ  $n$  (Haploid) ซึ่งเป็นครึ่งหนึ่งของเซลล์ตั้งต้น และเซลล์ที่ได้เป็นผลลัพธ์ ไม่จำเป็นต้องมีขนาดเท่ากัน

## ขั้นตอน ในการแบ่งเซลล์แบบไมโอซิส

### Meiosis - I มีขั้นตอน ดังนี้

#### Interphase - I

• มีการสังเคราะห์ DNA อีก 1 เท่าตัว หรือมีการจำลองโครโมโซม อีก 1 ชุด และยังคงติดกันอยู่ที่ปมเซนโทรเมียร์ ดังนั้น โครโมโซม 1 ท่อน จึงมี 2 โครมาทิด

**Prophase - I**

- เป็นระยะที่ใช้เวลานานที่สุด
- มีความสำคัญ ต่อการเกิดวิวัฒนาการ ของสิ่งมีชีวิตมากที่สุด เนื่องจากการแปรผันของยีนเกิดขึ้น
- โครโมโซมที่เป็นคู่กัน (Homologous Chromosome) จะมาเข้าคู่ และแนบชิดติดกัน เรียกว่า เกิดไซแนปซิส (Synapsis) ซึ่งคู่ของโฮโมโลกัส โครโมโซม ที่เกิดไซแนปซิสกันอยู่นั้น เรียกว่า ไบแวลนต์ (Bivalent) ซึ่งแต่ละไบแวลนต์มี 4 โครมาทิดเรียกว่า เทแทรด (Tetrad) ในคน มีโครโมโซม 23 คู่ จึงมี 23 ไบแวลนต์
- โฮโมโลกัส โครโมโซม ที่ไซแนปซิสกัน จะผละออกจากกัน บริเวณกลาง ๆ แต่ตอนปลาย ยังไขว้กันอยู่ เรียกว่า เกิดไคแอสมา (Chiasma)
- มีการเปลี่ยนแปลงชิ้นส่วน โครมาทิด ระหว่างโครโมโซมที่เป็น โฮโมโลกัสกัน กับบริเวณที่เกิดไคแอสมา เรียกว่า ครอสซิงโอเวอร์ (Crossing over) หรืออาจมีการเปลี่ยนแปลง ชิ้นส่วนของโครมาทิด ระหว่างโครโมโซม ที่ไม่เป็นโฮโมโลกัสกัน (Nonhomologous chromosome) เรียกว่า ทรานสโลเคชัน (Translocation) กรณีทั้งสอง ทำให้เกิดการผันแปรของยีน (Gene variation) ซึ่งทำให้เกิดการแปรผันของลักษณะสิ่งมีชีวิต (Variation)

**Metaphase - I**

ไบแวลนต์จะมาเรียงตัวกัน อยู่ในแนวกึ่งกลางเซลล์ (โฮโมโลกัส โครโมโซม ยังอยู่กันเป็นคู่ ๆ)

**Anaphase - I**

- ไมโทติก สปินเดิล จะหดตัวดึงให้ โฮโมโลกัส โครโมโซม ผละแยกออกจากกัน
- จำนวนชุด โครโมโซมในเซลล์ ภายใต้นี้ยังคงเป็น  $2n$  เหมือนเดิม ( $2n$  เป็น  $2n$ )

**Telophase - I**

โครโมโซมจะไปรวมอยู่ แต่ละขั้วของเซลล์ และในเซลล์บางชนิด ในระยะนี้ จะมีการสร้างเยื่อหุ้มนิวเคลียส มาล้อมรอบโครโมโซม และแบ่งไซโทพลาสซึม ออกเป็น 2 เซลล์ เซลล์ละ  $n$  แต่ในเซลล์บางชนิดจะไม่แบ่งไซโทพลาสซึม โดยจะมีการเปลี่ยนแปลง ของโครโมโซม เข้าสู่ระยะ โพรเฟส II เลย

**Meiosis - II มีขั้นตอน ดังนี้****Interphase - II**

- เป็นระยะพักตัว ซึ่งมีหรือไม่มีก็ได้ ขึ้นอยู่กับชนิดของเซลล์
- ไม่มีการสังเคราะห์ DNA หรือจำลองโครโมโซมแต่อย่างใด

**Prophase - II**

- โครมาทิดจะหดสั้นมากขึ้น
- ไม่มีการเกิดไซแนปซิส ไคแอสมา ครอสซิงโอเวอร์ แต่อย่างใด

**Metaphase - II**

- โครมาทิดมาเรียงตัว อยู่ในแนวกึ่งกลางเซลล์

**Anaphase - II**

- มีการแยกโครมาทิดออกจากกัน ทำให้จำนวนชุดโครโมโซมเพิ่มจาก  $n$
- เป็น  $2n$  ช่วงขณะ

**Telophase - II**

- มีการแบ่งไซโทพลาสซึม จนได้เซลล์ใหม่ 4 เซลล์ ซึ่งแต่ละเซลล์ มีโครโมโซม เป็น  $n$
- ใน 4 เซลล์ที่เกิดขึ้นนั้น จะมียีนเหมือนกันอย่างละ 2 เซลล์ ถ้าไม่เกิดครอสซิงโอเวอร์ หรืออาจจะมียีนต่างกันทั้ง 4 เซลล์ ถ้าเกิดครอสซิงโอเวอร์ หรืออาจมียีนต่างกันทั้ง 4 เซลล์ถ้าเกิด ครอสซิงโอเวอร์

**ตารางแสดงลักษณะขั้นตอนการแบ่งเซลล์ในระยะต่างๆของการแบ่งเซลล์แบบ Meiosis**

| ระยะ           | การเปลี่ยนแปลงสำคัญ  |
|----------------|--|
| อินเตอร์เฟส I  | จำลองโครโมโซมขึ้นมาอีก 1 เท่าตัว แต่ละโครโมโซม ประกอบด้วย 2 โครมาทิด   |
| โพรเฟส I       | โซโมไลกัสน์ โครโมโซม มาจับคู่แบบชิดกัน (synapsis) ทำให้มีกลุ่มโครโมโซม กลุ่มละ 2 ท่อน (bivalent) แต่ละกลุ่ม ประกอบด้วย 4 โครมาทิด(tetrad) และเกิดการแลกเปลี่ยน ชิ้นส่วนของโครมาทิด (crossing over) |
| เมตาเฟส I      | คู่ของโซโมไลกัสน์ โครโมโซม เรียงตัวอยู่ตามแนวศูนย์กลางของเซลล์   |
| แอนาเฟส I      | โซโมไลกัสน์ โครโมโซม แยกคู่ออกจากกัน ไปยังแต่ละข้างของขั้วเซลล์  |
| ทีโลเฟส I      | เกิดนิวเคลียสใหม่ 2 นิวเคลียส แต่ละนิวเคลียส มีจำนวนโครโมโซม เป็นแฮพลอยด์ ( $n$ )  |
| อินเตอร์เฟส II | เป็นระยะพักชั่วคราว แต่ไม่มีการจำลอง โครโมโซมขึ้นมาอีก   |
| โพรเฟส II      | โครโมโซมหดสั้นมาก ทำให้เห็นแต่ละโครโมโซม มี 2 โครมาทิด   |
| เมตาเฟส II     | โครโมโซมจะมาเรียงตัว อยู่แนวศูนย์กลางของเซลล์  |
| แอนาเฟส II     | เกิดการแยกของโครมาทิด ที่อยู่ในโครโมโซมเดียวกัน ไปยังขั้วแต่ละข้างของเซลล์ ทำให้โครโมโซม เพิ่มจาก $n$ เป็น $2n$  |
| ทีโลเฟส II     | เกิดนิวเคลียสใหม่เป็น 4 นิวเคลียส และแบ่งไซโทพลาสซึม เกิดเป็น 4 เซลล์ สมบูรณ์ แต่ละเซลล์ มีจำนวนโครโมโซม เป็นแฮพลอยด์ ( $n$ ) หรือ เท่ากับครึ่งหนึ่งของเซลล์เริ่มต้น                               |

**ข้อเปรียบเทียบการแบ่งเซลล์แบบไมโทซิสและไมโอซิส**

| ไมโทซิส  | ไมโอซิส   |
|--|---|
| 1. โดยทั่วไป เป็นการแบ่งเซลล์ของร่างกาย เพื่อเพิ่มจำนวนเซลล์ เพื่อการเจริญเติบโต หรือการสืบพันธุ์ในสิ่งมีชีวิตเซลล์เดียว | 1. โดยทั่วไป เกิดกับเซลล์ ที่จะทำหน้าที่ ให้กำเนิดเซลล์สืบพันธุ์ จึงเป็นการแบ่งเซลล์ เพื่อสร้างเซลล์สืบพันธุ์ |
| 2. เริ่มจาก 1 เซลล์แบ่งครั้งเดียวได้เป็น 2 เซลล์ใหม่   | 2. เริ่มจาก 1 เซลล์ แบ่ง 2 ครั้ง ได้เป็น 4 เซลล์ใหม่  |

| ไมโทซิส  | ไมโอซิส  |
|--|--|
| 3. เซลล์ใหม่ที่เกิดขึ้น 2 เซลล์ สามารถแบ่งตัวแบบไมโทซิสได้อีก                        | 3. เซลล์ใหม่ที่เกิดขึ้น 4 เซลล์ ไม่สามารถแบ่งตัวแบบไมโอซิสได้อีก แต่อาจแบ่งตัวแบบไมโทซิสได้  |
| 4. การแบ่งแบบไมโทซิส จะเริ่มเกิดขึ้นตั้งแต่ ระยะไซโทค และสืบเนื่องกันไปตลอดชีวิต     | 4. ส่วนใหญ่จะแบ่งไมโอซิส เมื่ออวัยวะสืบพันธุ์เจริญเต็มที่แล้ว หรือเกิดในไซโทค ของสาหร่ายและราบางชนิด   |
| 5. จำนวนโครโมโซม หลังการแบ่งจะเท่าเดิม (2n) เพราะไม่มีการแยกคู่ ของโฮโมโลกัสโครโมโซม | 5. จำนวนโครโมโซม จะลดลงครึ่งหนึ่งในระยะไมโอซิส เนื่องจากการแยกคู่ ของโฮโมโลกัสโครโมโซม ทำให้เซลล์ใหม่มีจำนวนโครโมโซมครึ่งหนึ่งของเซลล์เดิม (n) |
| 6. ไม่มีไซแนปซิส ไม่มีไคแอสมา และไม่มีครอสซิงโอเวอร์                                 | 6. เกิดไซแนปซิส ไคแอสมา และมักเกิดครอสซิงโอเวอร์   |
| 7. ลักษณะของสารพันธุกรรม (DNA) และโครโมโซมในเซลล์ใหม่ ทั้งสองจะเหมือนกันทุกประการ    | 7. ลักษณะของสารพันธุกรรม และโครโมโซมในเซลล์ใหม่ อาจเปลี่ยนแปลง และแตกต่างกัน ถ้าเกิดครอสซิงโอเวอร์   |



## เรื่อง เซลล์

จงทำเครื่องหมาย ○ หน้าคำตอบที่ถูกต้องเพียงข้อเดียว

1. โครงสร้างของเซลล์ใดทำหน้าที่ควบคุมการผ่านเข้าออกของสาร
 

|              |                   |
|--------------|-------------------|
| ก. ผนังเซลล์ | ข. เยื่อหุ้มเซลล์ |
| ค. เซลล์คัม  | ง. ไลโซโซม        |
2. อวัยวะชนิดใดเป็นที่เก็บสะสมสารสีที่ไม่ละลายน้ำ
 

|                 |                 |
|-----------------|-----------------|
| ก. แวคิวโอ      | ข. คลอโรพลาสต์  |
| ค. อะไมโลพลาสต์ | ง. อีริโอพลาสต์ |
3. โครงสร้างใดของเซลล์ที่ทำให้เซลล์พืชคงรูปร่างอยู่ได้แม้ว่าเซลล์นั้นจะได้รับน้ำมากเกินไป
 

|              |                   |
|--------------|-------------------|
| ก. ผนังเซลล์ | ข. เยื่อหุ้มเซลล์ |
| ค. นิวเคลียส | ง. ไซโทพลาซึม     |
4. โครงสร้างที่ทำหน้าที่เปรียบได้กับสมองของเซลล์ได้แก่ข้อใด
 

|              |                |
|--------------|----------------|
| ก. นิวเคลียส | ข. คลอโรพลาสต์ |
| ค. เซนทริโอล | ค. ไรโบโซม     |
5. โครงสร้างใดของเซลล์มีเฉพาะในเซลล์ของพืชเท่านั้น
 

|              |                   |
|--------------|-------------------|
| ก. ผนังเซลล์ | ข. เยื่อหุ้มเซลล์ |
| ค. นิวเคลียส | ง. ไซโทพลาซึม     |
6. อวัยวะในเซลล์ชนิดใดไม่มีเยื่อหุ้มล้อมรอบ
 

|                                   |  |
|-----------------------------------|--|
| ก. ไมโทคอนเดรียและไรโบโซม         |  |
| ข. คลอโรพลาสต์และกอลจิ แอพพาราตัส |  |
| ค. ผนังเซลล์และไรโบโซม            |  |
| ง. แวคิวโอและไมโทคอนเดรีย         |  |
7. อวัยวะในเซลล์ชนิดใดเกี่ยวข้องกับการสร้างผนังเซลล์
 

|                           |                     |
|---------------------------|---------------------|
| ก. ไมโทคอนเดรีย           | ข. ไรโบโซม          |
| ค. เอนโดพลาสมิก เรติคูลัม | ง. กอลจิ แอพพาราตัส |
8. การแบ่งเซลล์หมายถึงข้อใด
 

|                               |                   |
|-------------------------------|-------------------|
| ก. แบ่งนิวเคลียส              | ข. แบ่งไซโทพลาซึม |
| ค. แบ่งนิวเคลียสและไซโทพลาซึม | ง. แบ่งผนังเซลล์  |
9. ข้อใดต่อไปนี้เป็นการศึกษาต่างไปจากกลุ่ม
 

|             |              |
|-------------|--------------|
| ก. โครโมโซม | ข. โครมาทิน  |
| ค. โครมาทิด | ง. โครโมนีมา |





18. การแบ่งเซลล์แบบไมโอซิสมีความสำคัญต่อวิวัฒนาการของสิ่งมีชีวิตอย่างไร
- ก. เป็นการดำรงลักษณะเดิมของสิ่งมีชีวิต
  - ข. เป็นการลดจำนวนโครโมโซมลง
  - ค. เป็นการกระจายลักษณะสิ่งมีชีวิตให้หลากหลาย
  - ง. เป็นการทำให้สิ่งมีชีวิตแข็งแรงกว่าเดิม
19. การสืบพันธุ์แบบใดมีโอกาสเกิดการแปรผันทางพันธุกรรมได้มากที่สุด
- ก. แบบไม่อาศัยเพศ เพราะมีไมโอซิส
  - ข. แบบไม่อาศัยเพศ เพราะมีไมโอซิสและเกิดครอสซิงโอเวอร์
  - ค. แบบอาศัยเพศ เพราะมีไมโทซิส
  - ง. แบบอาศัยเพศ เพราะมีไมโอซิส และเกิดครอสซิงโอเวอร์
20. ข้อใดกล่าวถูกต้องที่สุด
- ก. การแบ่งนิวเคลียสแบบไมโทซิส มีการจับคู่ของฮอมอโลกัสโครโมโซม
  - ข. การแบ่งนิวเคลียสแบบไมโทซิสโครโมโซมในเซลล์ใหม่ต่างไปจากเดิม
  - ค. การแบ่งนิวเคลียสแบบไมโทซิสเกิดเฉพาะสิ่งมีชีวิตที่สืบพันธุ์แบบไม่อาศัยเพศเท่านั้น
  - ง. การแบ่งนิวเคลียสแบบไมโทซิส จะได้เซลล์ใหม่ที่เหมือนเดิมทุกประการ

\*\*\*\*\*

## บทที่ 4

### พันธุกรรมและความหลากหลายทางชีวภาพ

#### สาระสำคัญ

สิ่งมีชีวิตย่อมมีลักษณะเฉพาะของแต่ละสปีชีส์ สิ่งมีชีวิตสปีชีส์เดียวกันย่อมมีความแตกต่างกันน้อยกว่าสิ่งมีชีวิตต่างสปีชีส์ ความแตกต่างเหล่านี้เป็นผลจากพันธุกรรมที่ต่างกัน สิ่งมีชีวิตชนิดเดียวกันจะมีลักษณะคล้ายกัน ซึ่งความแตกต่างเหล่านี้ก่อให้เกิดความหลากหลายของสิ่งมีชีวิต หรือความหลากหลายทางชีวภาพ

#### ผลการเรียนรู้ที่คาดหวัง

1. อธิบายกระบวนการถ่ายทอดทางพันธุกรรม การแปรผันทางพันธุกรรม การผ่าเหล่า และการเกิดความหลากหลายทางชีวภาพ
2. อธิบายลักษณะทางพันธุกรรมได้
3. อธิบายความหลากหลายทางชีวภาพและการจัดหมวดหมู่สิ่งมีชีวิตได้

#### ขอบข่ายเนื้อหา

- เรื่องที่ 1 การถ่ายทอดลักษณะทางพันธุกรรม
- เรื่องที่ 2 ความหลากหลายทางชีวภาพ

## เรื่องที่ 1 การถ่ายทอดลักษณะทางพันธุกรรม

### ลักษณะทางพันธุกรรม

สิ่งมีชีวิตแต่ละชนิดมีลักษณะเฉพาะตัว ทำให้สิ่งมีชีวิตแตกต่างกัน เช่น ลักษณะสีผิว ลักษณะเส้นผม ลักษณะสีตา สีและกลิ่นของดอกไม้ รสชาติของผลไม้ เสียงของนกชนิดต่าง ๆ ลักษณะเหล่านี้จะถูกส่งผ่านจากพ่อแม่ ไปยังลูกได้ หรือส่งผ่านจากคนรุ่นหนึ่ง ไปยังรุ่นต่อไป ลักษณะที่ถูกถ่ายทอดนี้ เรียกว่า ลักษณะทางพันธุกรรม (genetic character) การที่จะพิจารณาว่าลักษณะใดลักษณะหนึ่งเป็นลักษณะทางพันธุกรรมนั้นต้องพิจารณาหลาย ๆ รุ่น เพราะลักษณะบางอย่างไม่ปรากฏในรุ่นลูกแต่ปรากฏในรุ่นหลาน

ลักษณะต่าง ๆ ในสิ่งมีชีวิตที่เป็นลักษณะทางพันธุกรรม สามารถถ่ายทอดจากรุ่นหนึ่งไปยังรุ่นต่อไป โดยผ่านทางเซลล์สืบพันธุ์ เป็นหน่วยกลางในการถ่ายทอดเมื่อเกิดการปฏิสนธิระหว่างเซลล์ไข่ของแม่ และเซลล์อสุจิของพ่อ

สิ่งมีชีวิตชนิดหนึ่ง มีลักษณะเฉพาะตัวที่แตกต่างจากลักษณะของสิ่งมีชีวิตชนิดอื่น ๆ เราจึงอาศัยคุณสมบัติเฉพาะตัวที่ไม่เหมือนกันในการระบุชนิดของสิ่งมีชีวิต



ลูกแมวได้รับการถ่ายทอด

ลักษณะพันธุกรรมจากพ่อแม่



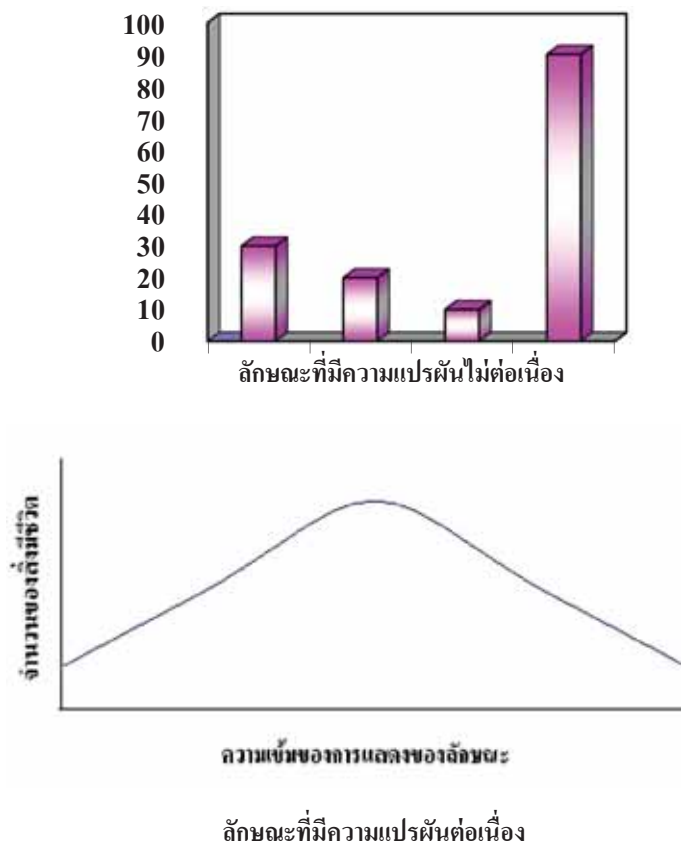
ผลไม้ชนิดต่าง ๆ

แม้ว่าสิ่งมีชีวิตชนิดเดียวกันยังมีลักษณะที่แตกต่างกัน เช่น คนจะมีรูปร่าง หน้าตา กิริยาท่าทาง เสียงพูด ไม่เหมือนกัน เราจึงบอกได้ว่าเป็นใคร แม้ว่าจะเป็นฝาแฝดร่วมไข่คล้ายกันมาก เมื่อพิจารณาจริงแล้วจะไม่เหมือนกัน ลักษณะของสิ่งมีชีวิต เช่น รูปร่าง สีผิว สีและกลิ่นของดอกไม้ รสชาติของผลไม้ ลักษณะเหล่านี้สามารถมองเห็นและสังเกตได้ง่าย แต่ลักษณะของสิ่งมีชีวิตบางอย่างสังเกตได้ยาก ต้องใช้วิธีซับซ้อนในการสังเกต เช่น หมูเลือด สติปัญญา เป็นต้น

### ความแปรผันของลักษณะทางพันธุกรรม

ความแปรผันของลักษณะทางพันธุกรรม (genetic variation) หมายถึง ลักษณะที่แตกต่างกัน เนื่องจากพันธุกรรมที่ไม่เหมือนกัน และสามารถถ่ายทอดไปสู่รุ่นลูกได้ โดยลูกจะได้รับการถ่ายทอดลักษณะทางพันธุกรรมมาจากพ่อครั้งหนึ่งและได้รับจากแม่อีกครั้งหนึ่ง เช่น ลักษณะเส้นผม สีของตา หมูเลือด ซึ่งแบ่งออกเป็น 2 แบบ คือ

1. **ลักษณะที่มีความแปรผันแบบต่อเนื่อง (continuous variation)** เป็นลักษณะทางพันธุกรรมที่ไม่สามารถแยกความแตกต่างได้ชัดเจน ลักษณะพันธุกรรมเช่นนี้ มักเกี่ยวข้องกันทางด้านปริมาณ เช่น ความสูง
2. **น้ำหนักรูปร่าง สีผิว** ลักษณะที่มีความแปรผันต่อเนื่องเป็นลักษณะที่ได้รับอิทธิพลจากพันธุกรรมและสิ่งแวดล้อมร่วมกัน



2. ลักษณะที่มีความแปรผันแบบไม่ต่อเนื่อง (discontinuous variation) เป็นลักษณะทางพันธุกรรมที่สามารถแยกความแตกต่างได้อย่างชัดเจน ไม่แปรผันตามอิทธิพลของสิ่งแวดล้อม ลักษณะทางพันธุกรรมเช่นนี้เป็นลักษณะที่เรียกว่า ลักษณะทางคุณภาพ ซึ่งเกิดจากอิทธิพลทางพันธุกรรมเพียงอย่างเดียว เช่น ลักษณะหมู่เลือด ลักษณะเส้นผม ความถนัดของมือ จำนวนชั้นตา เป็นต้น

#### กิจกรรม ลักษณะทางพันธุกรรม

1. ให้ผู้เรียนสำรวจลักษณะทางพันธุกรรมที่ปรากฏในตัวผู้เรียนและคนในครอบครัวอย่างน้อย 3 รุ่น เช่น ปู่ย่า ตายาย พ่อแม่ พี่น้อง ว่ามีลักษณะใดที่เหมือนกันบ้าง
2. ระบุว่าลักษณะที่เหมือนกันนั้นปรากฏในสมาชิกคนใดของครอบครัวบันทึกผลลงในตารางบันทึกผลการสำรวจ
3. นำเสนอและอธิบายผลการสำรวจลักษณะทางพันธุกรรมที่ถ่ายทอดในครอบครัว

### ตารางผลการสำรวจลักษณะที่ปรากฏในเครือญาติ

| ลักษณะที่สังเกต   | ลักษณะที่ปรากฏในตัวนักเรียน | เหมือนพ่อ | เหมือนแม่ | เหมือนปู่ | เหมือนย่า | เหมือนตา | เหมือนยาย | เหมือนพี่ชายหรือน้องชาย | เหมือนพี่สาวหรือน้องสาว |
|-------------------|-----------------------------|-----------|-----------|-----------|-----------|----------|-----------|-------------------------|-------------------------|
| 1. เส้นผม         |                             |           |           |           |           |          |           |                         |                         |
| 2. ลี้น           |                             |           |           |           |           |          |           |                         |                         |
| 3. ดั้งหู         |                             |           |           |           |           |          |           |                         |                         |
| 4. หน้งตา         |                             |           |           |           |           |          |           |                         |                         |
| 5. ลักยิ้ม        |                             |           |           |           |           |          |           |                         |                         |
| 6. สีผม           |                             |           |           |           |           |          |           |                         |                         |
| 7. ความถนัดของมือ |                             |           |           |           |           |          |           |                         |                         |

หมายเหตุ ใช้เครื่องหมาย ✓ มีลักษณะเหมือนกัน

- ผู้เรียนมีลักษณะทางพันธุกรรมแต่ละลักษณะเหมือนเครือญาติคนใดบ้าง จะสรุปผลข้อมูลนี้ได้ อย่างไร

#### การศึกษาการถ่ายทอดลักษณะทางพันธุศาสตร์

เกรเกอร์ เมนเดล (Gregor Mendel) เป็นบาทหลวงชาวออสเตรีย ด้วยความเป็นคนรักธรรมชาติ รู้จักวิธีการปรับปรุงพันธุ์พืช และสนใจด้านพันธุกรรม เมนเดลได้ผสมถั่วลันเตา เพื่อศึกษาการถ่ายทอดลักษณะทางพันธุกรรมลักษณะภายนอกของถั่วลันเตาที่เมนเดลศึกษามีหลายลักษณะ แต่เมนเดลได้เลือกศึกษาเพียง 7 ลักษณะ โดยแต่ละลักษณะนั้นมีความแตกต่างกันอย่างชัดเจน เช่น ต้นสูงกับต้นเตี้ย ลักษณะเมล็ดกลมกับเมล็ดขรุขระถั่วที่เมนเดลนำมาใช้เป็นพ่อพันธุ์และแม่พันธุ์นั้นเป็นพันธุ์แท้ทั้งคู่ โดยการนำต้นถั่วลันเตาแต่ละสายพันธุ์มาปลูกและผสมภายในดอกเดียวกัน เมื่อต้นถั่วลันเตาออกฝัก นำเมล็ดแก่ไปปลูก จากนั้นรอจนกระทั่งต้นถั่วลันเตาเจริญเติบโต จึงคัดเลือกต้นที่มีลักษณะเหมือนพ่อแม่ นำมาผสมพันธุ์ต่อไปด้วยวิธีการเช่นเดียวกับครั้งแรกทำเช่นนี้ต่อไปอีกหลาย ๆ รุ่น จนได้เป็นต้นถั่วลันเตาพันธุ์แท้มีลักษณะเหมือนพ่อแม่ทุกประการ

จากการผสมพันธุ์ระหว่างต้นถั่วลันเตาที่มีลักษณะแตกต่างกัน 7 ลักษณะ เมนเดลได้ผลการทดลองดังตาราง

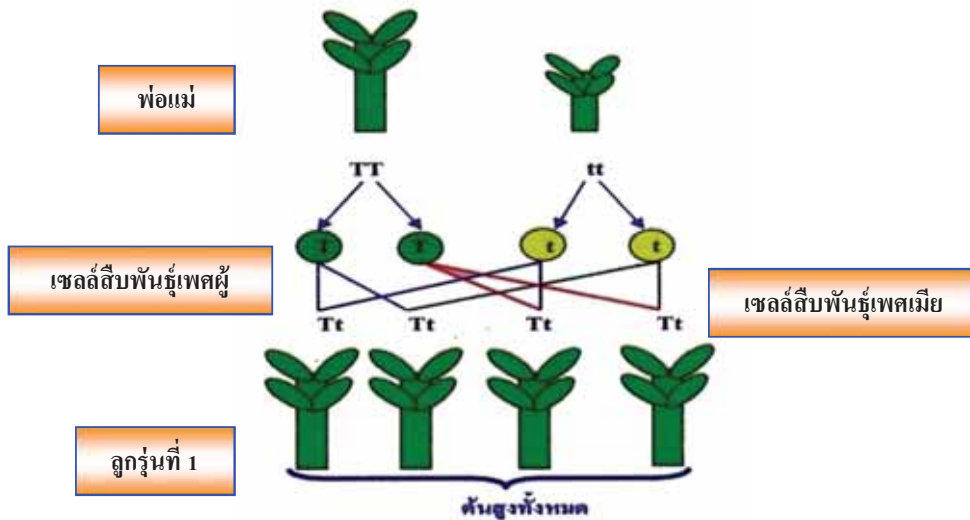
ตารางแสดงผลการทดลองของเมนเดล

| ลักษณะของพ่อแม่ที่ใช้ผสม            | ลักษณะที่ปรากฏ        |  |
|-------------------------------------|-----------------------|--|
|                                     | ลูกรุ่นที่ 1          | ลูกรุ่นที่ 2   |
| เมล็ดกลม X เมล็ดขรุขระ              | เมล็ดกลมทุกต้น        | เมล็ดกลม 5,474 เมล็ด<br>เมล็ดขรุขระ 1,850 เมล็ด      |
| เมล็ดสีเหลือง X เมล็ดสีเขียว        | เมล็ดสีเหลืองทุกต้น   | เมล็ดสีเหลือง 6,022 ต้น<br>เมล็ดสีเขียว 2,001 ต้น    |
| ฝักอวบ X ฝักแฟบ                     | ฝักอวบทุกต้น          | ฝักอวบ 882 ต้น<br>ฝักแฟบ 229 ต้น                     |
| ลักษณะของพ่อแม่ที่ใช้ผสม            | ลักษณะที่ปรากฏ        |  |
|                                     | ลูกรุ่นที่ 1          | ลูกรุ่นที่ 2   |
| ฝักสีเขียว X ฝักสีเหลือง            | ฝักสีเขียวทุกต้น      | ฝักสีเขียว 428 ต้น<br>ฝักสีเหลือง 152 ต้น            |
| ดอกเกิดที่ลำต้น X ดอกเกิดที่<br>ยอด | ดอกเกิดที่ลำต้นทุกต้น | ดอกเกิดที่ลำต้น 651 ต้น<br>ดอกเกิดที่เกิดยอด 207 ต้น |
| ดอกสีม่วง X ดอกสีขาว                | ดอกสีม่วงทุกต้น       | ดอกสีม่วง 705 ต้น<br>ดอกสีขาว 224 ต้น                |
| ต้นสูง X ต้นเตี้ย                   | ต้นสูงทุกต้น          | ต้นสูง 787 ต้น<br>ต้นเตี้ย 277 ต้น                   |

X หมายถึง ผสมพันธุ์

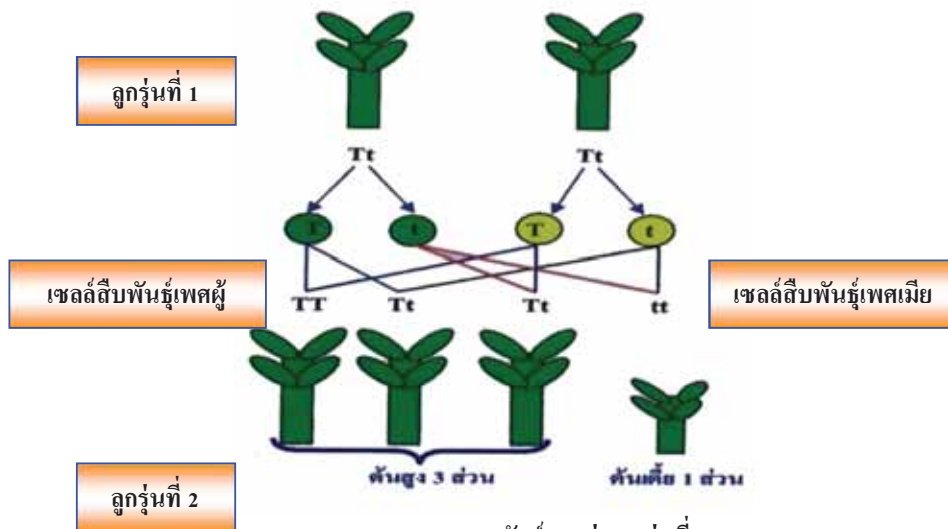
เมนเดลเรียกลักษณะต่าง ๆ ที่ปรากฏในลูกรุ่นที่ 1 เช่น เมล็ดกลม ลำต้นสูง เรียกว่า **ลักษณะเด่น** (dominance) ส่วนลักษณะที่ไม่ปรากฏในรุ่นลูกที่ 1 แต่กลับปรากฏในรุ่นที่ 2 เช่น เมล็ดขรุขระ ลักษณะต้นเตี้ย เรียกว่า **ลักษณะด้อย** (recessive) ซึ่งลักษณะแต่ละลักษณะในลูกรุ่นที่ 2 ให้อัตราส่วน ลักษณะเด่น : ลักษณะด้อย ประมาณ 3 : 1

จากสัญลักษณ์ตัวอักษรภาษาอังกฤษ (TT แทนต้นสูง, tt แทนต้นเตี้ย) แทนยีนที่กำหนด เขียนแผนภาพแสดงยีนที่ควบคุมลักษณะ และผลของการถ่ายทอดลักษณะในการผสมพันธุ์ระหว่างถั่วลันเตาต้นสูงกับถั่วลันเตาต้นเตี้ย และการผสมพันธุ์ระหว่างลูกรุ่นที่ 1 ได้ดังแผนภาพ



ผลของการผสมพันธุ์ระหว่างถั่วลันเตาต้นสูงกับถั่วลันเตาต้นเตี้ย

ในลูกรุ่นที่ 1 เมื่อยีน T ที่ควบคุมลักษณะต้นสูงซึ่งเป็นลักษณะเด่น เข้าคู่กับยีน t ที่ควบคุมลักษณะต้นเตี้ยซึ่งเป็นลักษณะด้อย ลักษณะที่ปรากฏจะเป็นลักษณะที่ควบคุมด้วยยีนเด่น ดังจะเห็นว่าลูกในรุ่นที่ 1 มีลักษณะต้นสูงหมดทุกต้น และเมื่อนำลูกรุ่นที่ 1 มาผสมกันเองจะเป็นดังแผนภาพ



ผลของการผสมพันธุ์ระหว่างลูกรุ่นที่ 1

ต่อมานักชีววิทยารุ่นหลังได้ทำการทดลองผสมพันธุ์ถั่วลันเตาและพืชชนิดอื่นอีกหลายชนิด แล้วนำมาวิเคราะห์ข้อมูลทางสถิติคล้ายกับที่เมนเดลศึกษา ทำให้มีการรื้อฟื้นผลงานของเมนเดล จนในที่สุดนักชีววิทยาจึงได้ให้การยกย่องเมนเดลว่าเป็นบิดาแห่งวิชาพันธุศาสตร์

### กิจกรรม การศึกษาการถ่ายทอดลักษณะทางพันธุศาสตร์

1. เหตุใดเมนเดลจึงต้องคัดเลือกพันธุ์แท่งก่อนที่จะทำการผสมพันธุ์
2. ถ้าหลังจากการผสมเกสรด้วยวิธีของเมนเดลแล้วมีแมลงบินมาผสมเกสรซ้ำจะเกิดปัญหาอย่างไรต่อการทดลองนี้หากนักเรียนเป็นเมนเดลจะแก้ปัญหาอย่างไร
3. จากการทดลองของเมนเดล ลักษณะใดของต้นถั่วลันเตา เป็นลักษณะเด่น และลักษณะใดเป็นลักษณะด้อย
4. จากการทดลองของเมนเดล อัตราส่วนของจำนวนลักษณะเด่นต่อลักษณะด้อย ในลูกรุ่นที่ 2 ที่ได้มีค่าประมาณเท่าไร
5. เพราะเหตุใดต้นถั่วลันเตาที่มียีน TT กับ Tt จึงแสดงลักษณะต้นสูงเหมือนกัน
6. สิ่งมีชีวิตที่มีลักษณะที่มองเห็นเหมือนกันจำเป็นจะต้องมีลักษณะของยีนเหมือนกันหรือไม่ อย่างไร
7. ในการผสมหนูตะเภาขนสีดำด้วยกัน ปรากฏว่าได้ลูกสีดำ 29 ตัว และสีขาว 9 ตัว ข้อมูลนี้บอกอะไรเราได้บ้าง
8. ถ้า B แทนยีนที่ควบคุมลักษณะขนสีดำ b แทนยีนที่ควบคุมลักษณะขนสีขาว หนูตะเภาคู่นี้ ควรมีลักษณะของยีนอย่างไร
9. ผสมถั่วลันเตาเมล็ดกลม (RR) และเมล็ดขรุขระ (rr) จงหาลักษณะของลูกรุ่นที่ 1

### หน่วยพันธุกรรม

#### โครโมโซมของสิ่งมีชีวิต

หน่วยพื้นฐานที่สำคัญของสิ่งมีชีวิต คือ เซลล์มีส่วนประกอบที่สำคัญ 3 ส่วน ได้แก่ นิวเคลียส ไซโทพลาสซึมและเยื่อหุ้มเซลล์ ภายในนิวเคลียสมีโครงสร้างที่สามารถติดสีได้ เรียกว่า โครโมโซม และพบว่าโครโมโซมมีความเกี่ยวข้องกับการถ่ายทอดลักษณะทางพันธุกรรม

โดยทั่วไปสิ่งมีชีวิตแต่ละชนิดหรือสปีชีส์ (species) จะมีจำนวนโครโมโซมคงที่ดังแสดงในตาราง

#### ตารางจำนวนโครโมโซมของเซลล์ร่างกายและเซลล์สืบพันธุ์ของสิ่งมีชีวิตบางชนิด

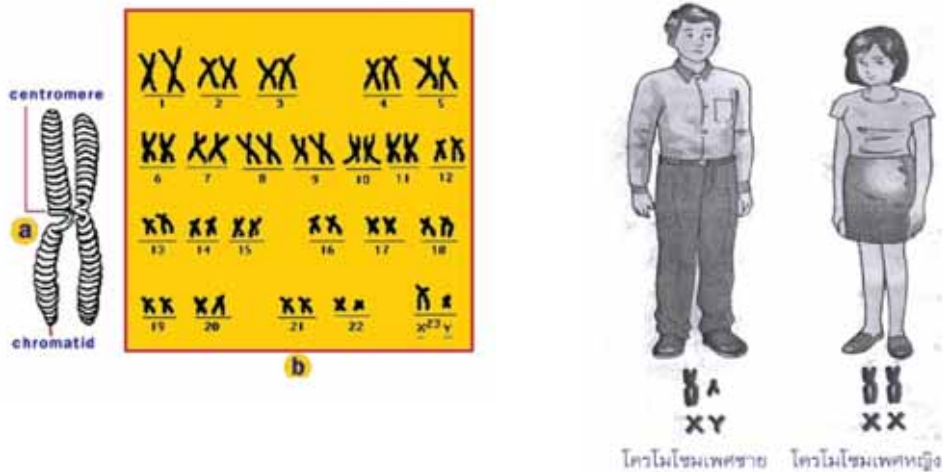
| ชนิดของสิ่งมีชีวิต | จำนวนโครโมโซม         |                         |
|--------------------|-----------------------|-------------------------|
|                    | ในเซลล์ร่างกาย (แท่ง) | ในเซลล์สืบพันธุ์ (แท่ง) |
| แมลงหวี่           | 8                     | 4                       |
| ถั่วลันเตา         | 14                    | 7                       |
| ข้าวโพด            | 20                    | 10                      |
| ข้าว               | 24                    | 12                      |
| อ้อย               | 80                    | 40                      |
| ปลากัด             | 42                    | 21                      |



| ชนิดของสิ่งมีชีวิต | จำนวนโครโมโซม         |                         |
|--------------------|-----------------------|-------------------------|
|                    | ในเซลล์ร่างกาย (แท่ง) | ในเซลล์สืบพันธุ์ (แท่ง) |
| คน                 | 46                    | 23                      |
| ชิมแปนซี           | 48                    | 24                      |
| ไก่                | 78                    | 39                      |
| แมว                | 38                    | 19                      |

โครโมโซมในเซลล์ร่างกายของคน 46 แท่ง นำมาจัดคู่ได้ 23 คู่ ซึ่งแบ่งได้เป็น 2 ชนิด คือ

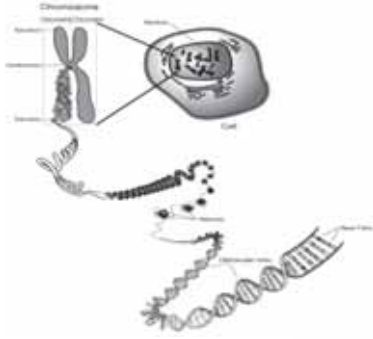
1. ออโตโซม (Autosome) คือ โครโมโซม 22 คู่ (คู่ที่ 1 - 22) ที่เหมือนกันทั้งเพศหญิงและเพศชาย
2. โครโมโซมเพศ (Sex Chromosome) คือ โครโมโซมอีก 1 คู่ (คู่ที่ 23) ในเพศหญิงและเพศชายจะต่างกัน เพศหญิงมีโครโมโซมเพศแบบ XX ส่วนเพศชายมีโครโมโซมเพศแบบ XY โดยโครโมโซม Y จะมีขนาดเล็กกว่าโครโมโซม X



## ยีน และ DNA

ยีน เป็นส่วนหนึ่งของโครโมโซม โครโมโซมหนึ่ง ๆ มียีนควบคุมลักษณะต่าง ๆ เป็นพัน ๆ ลักษณะยีน (gene) คือ หน่วยพันธุกรรมที่ควบคุมลักษณะต่าง ๆ จากพ่อแม่โดยผ่านทางเซลล์สืบพันธุ์ไปยังลูกหลาน ยีนจะอยู่เป็นคู่บนโครโมโซม โดยยีนแต่ละคู่จะควบคุมลักษณะที่ถ่ายทอดทางพันธุกรรมเพียงลักษณะหนึ่งเท่านั้น เช่น ยีนควบคุมลักษณะสีผิว ยีนควบคุมลักษณะถักขี้มียีนควบคุมลักษณะจำนวนชั้นตา เป็นต้น

ภายในยีนพบว่ามีสารเคมีที่สำคัญชนิดหนึ่ง คือ DNA ซึ่งย่อมาจาก Deoxyribonucleic acid ซึ่งเป็นสารพันธุกรรม พบในสิ่งมีชีวิตทุกชนิด ไม่ว่าจะเป็นพืช สัตว์ หรือแบคทีเรียซึ่งเป็นสิ่งมีชีวิตเซลล์เดียว เป็นต้น DNA เกิดจากการต่อกันเป็นเส้นโมเลกุลย่อยเป็นสายคล้ายบันไดเวียน ปกติจะอยู่เป็นเกลียวคู่



ที่มา (DNA. On-line. 2009)



ที่มา (sex chromosome. On - line. 2008)

### ดีเอ็นเอเป็นสารพันธุกรรมที่อยู่ภายในโครโมโซมของสิ่งมีชีวิต

ในสิ่งมีชีวิตแต่ละชนิดจะมีปริมาณ DNA ไม่เท่ากัน แต่ในสิ่งมีชีวิตเดียวกันแต่ละเซลล์มีปริมาณ DNA เท่ากัน ไม่ว่าจะ เป็นเซลล์กล้ามเนื้อ หัวใจ ตับ เป็นต้น

### ความผิดปกติของโครโมโซมและยีน

สิ่งมีชีวิตแต่ละชนิดมีลักษณะแตกต่างกัน อันเป็นผลจากการถ่ายทอดลักษณะทางพันธุกรรม แต่ในบางกรณีพบบุคคลที่มีลักษณะบางประการผิดไปจากปกติเนื่องจากความผิดปกติของโครโมโซมและยีน

**ความผิดปกติทางพันธุกรรมที่เกิดในระดับโครโมโซม** เช่น ผู้ป่วยกลุ่มอาการดาวน์ มีจำนวนโครโมโซมคู่ที่ 21 เกินกว่าปกติ คือ มี 3 แท่ง ส่งผลให้มีความผิดปกติทางร่างกาย เช่น ตาขี้ขึ้น ลิ้นจุกปาก ตั้งงมูกแบน นิ้วมือสั้นป้อม และมีการพัฒนาทางสมองช้า

**ความผิดปกติทางพันธุกรรมที่เกิดในระดับยีน** เช่น โรคธาลัสซีเมีย เกิดจากความผิดปกติของยีน ที่ควบคุมการสร้างฮีโมโกลบิน ผู้ป่วยมีอาการซีด ตาเหลือง ผิวหนังงกล้ำแดง ร่างกายเจริญเติบโตช้า และติดเชื้อง่าย



ก. ผู้ป่วยอาการดาวน์

ก. ที่มา (trisomy21. On - line. 2008)



ข. ผู้ป่วยที่เป็นโรคธาลัสซีเมีย

ข. ที่มา (ธาลัสซีเมีย. ออนไลน์. 2551)

ตาบอดสี เป็นความผิดปกติทางพันธุกรรมในระดับยีน ผู้ที่ตาบอดสีจะมองเห็นสีบางชนิด เช่น สีเขียว สีแดง หรือสีน้ำเงินผิดไปจากความเป็นจริง

คนที่ตาบอดสีส่วนใหญ่มักได้รับการถ่ายทอดทางพันธุกรรมจากพ่อแม่หรือบรรพบุรุษ แต่คนปกติ การเกิดตาบอดสีได้ ถ้าเซลล์เกี่ยวกับการรับสีภายในตาได้รับความกระทบกระเทือนอย่างรุนแรง ดังนั้น คนที่ตาบอดสีจึงไม่เหมาะแก่การประกอบอาชีพบางอาชีพ เช่น ทหาร แพทย์ พนักงานขับรถ เป็นต้น

### การกลายพันธุ์ (mutation)

การกลายพันธุ์เป็นการเปลี่ยนแปลงทางพันธุกรรมในระดับยีนหรือโครโมโซม ซึ่งเป็นผลมาจากการเปลี่ยนแปลงที่เกิดขึ้นกับดีเอ็นเอ ซึ่งมีผลต่อการสังเคราะห์โปรตีนในเซลล์ของสิ่งมีชีวิต โดยที่โปรตีนบางชนิดทำหน้าที่เป็นโครงสร้างของเซลล์และเนื้อเยื่อ บางชนิดเป็นเอนไซม์ควบคุมเมตาบอลิซึม การเปลี่ยนแปลงของดีเอ็นเอ อาจทำให้โปรตีนที่สังเคราะห์ได้ต่างไปจากเดิม ซึ่งส่งผลต่อเมตาบอลิซึมของร่างกาย หรือทำให้โครงสร้างและการทำงานของอวัยวะต่าง ๆ เปลี่ยนแปลงไป จึงทำให้ลักษณะที่ปรากฏเปลี่ยนแปลงไปด้วย

ชนิดของการกลายพันธุ์ จำแนกเป็น 2 แบบ คือ

1. การกลายพันธุ์ของเซลล์ร่างกาย (Somatic Mutation) เมื่อเกิดการกลายพันธุ์ขึ้นกับเซลล์ร่างกาย จะไม่สามารถถ่ายทอดไปยังลูกหลานได้
2. การกลายพันธุ์ของเซลล์สืบพันธุ์ (Genetic Mutation) เมื่อเกิดการกลายพันธุ์ขึ้นกับเซลล์สืบพันธุ์ ลักษณะที่กลายพันธุ์สามารถถ่ายทอดไปยังลูกหลานได้

สาเหตุที่ทำให้เกิดการกลายพันธุ์ อาจเกิดขึ้นได้จาก 2 สาเหตุใหญ่ ๆ คือ

1. การกลายที่เกิดขึ้นได้เองตามธรรมชาติ การกลายแบบนี้พบได้ทั้งคน สัตว์ พืช มักจะเกิดในอัตราที่ต่ำมาก และมีการเปลี่ยนแปลงอย่างช้า ๆ ค่อยเป็นค่อยไป ซึ่งการเปลี่ยนแปลงนี้ทำให้เกิดวิวัฒนาการของสิ่งมีชีวิต ทำให้เกิดสิ่งมีชีวิตใหม่ ๆ เกิดขึ้นตามวันเวลา
2. การกลายพันธุ์ที่เกิดจากการกระตุ้นจากรังสี แสงแดดและสารเคมี รังสีจะทำให้เส้นสายโครโมโซมเกิดหักขาด ทำให้ยีนเปลี่ยนสภาพ จากการศึกษาพบว่ารังสีเอกซ์ ทำให้แมลงหวี่เกิดกลายพันธุ์สูงกว่าที่เกิดตามธรรมชาติถึง 150 เท่า

โดยทั่วไปการกลายพันธุ์จะนำมาซึ่งลักษณะไม่พึงประสงค์ เช่น มะเร็งหรือโรคพันธุกรรมต่าง ๆ แต่การกลายพันธุ์บางลักษณะ ก็เป็นความแปลกใหม่ที่มนุษย์ชื่นชอบ เช่น ช้างเผือก เก้งเผือก หรือผลไม้ที่มีลักษณะผิดแปลกไปจากเดิม เช่น แดงโมและกล้วยที่เมล็ดลึบ หรือแอปเปิ้ลที่มีผลใหญ่กว่าพันธุ์ดั้งเดิม

ปัจจุบันนักวิทยาศาสตร์ใช้ประโยชน์จากรังสีเพื่อเร่งอัตราการเกิดการกลายพันธุ์ โดยการนำส่วนต่าง ๆ ของพืชมาฉายรังสี เช่นการฉายรังสีแกมมา กับเนื้อเยื่อจากหน่อหรือเหง้าของพุทธรักษา ทำให้ได้พุทธรักษาสายพันธุ์ใหม่หลายสายพันธุ์ พืชกลายพันธุ์อื่น ๆ ที่เกิดจากการฉายรังสีแกมมา ได้แก่ เบญจมาศ และปทุมมาที่มีของกลีบดอกเปลี่ยนแปลงไป จึงแดงมีใบลายและต้นเตี้ย เป็นต้น

การเปลี่ยนแปลงทางพันธุกรรมที่เกิดจากการกลายพันธุ์ก่อให้เกิดลักษณะใหม่ๆ ซึ่งต่างไปจากลักษณะเดิมที่มีอยู่ และลักษณะดังกล่าวสามารถถ่ายทอดไปยังรุ่นต่อไปได้ ก่อให้เกิดสิ่งมีชีวิตรุ่นลูกที่มีพันธุกรรมหลากหลายแตกต่างกัน

### กิจกรรม สืบค้นข้อมูลเกี่ยวกับการกลายพันธุ์

ให้ผู้เรียนสืบค้นและรวบรวมตัวอย่างและข้อมูลเกี่ยวกับการกลายพันธุ์ของสิ่งมีชีวิต แล้วนำเสนอและอภิปรายตามประเด็นต่อไปนี้

- การกลายพันธุ์เกิดขึ้นได้อย่างไร
- ประโยชน์และโทษของการกลายพันธุ์

## เรื่องที่ 2 ความหลากหลายทางชีวภาพ

ความหลากหลายทางชีวภาพของโลกมีมากมายมหาศาลตลอดเวลาความหลากหลายทางชีวภาพได้เกื้อหนุนให้ผู้คนดำรงชีวิตอยู่ โดยมีอากาศและน้ำที่สะอาด มียารักษาโรค มีอาหาร เครื่องนุ่งห่มเครื่องใช้ไม้สอยต่าง ๆ การสูญเสียชนิดพันธุ์ การสูญเสียระบบนิเวศ การสูญเสียพันธุกรรมไม่ได้เพียงแค่ทำให้โลกลดความร่ำรวยทางชีวภาพลง แต่ได้ทำให้ประชากรโลกสูญเสียโอกาสที่ได้อาศัยในสภาพแวดล้อมที่สวยงามและสะอาด สูญเสียโอกาสที่จะได้มียารักษาโรคที่ดี และสูญเสียโอกาสที่จะมีอาหารหล่อเลี้ยงอย่างพอเพียง

ความหลากหลายทางชีวภาพ คือ การที่มีสิ่งมีชีวิตมากมายหลากหลายสายพันธุ์และชนิดในบริเวณใดบริเวณหนึ่ง

### ประเภทของความหลากหลายทางชีวภาพ

ความหลากหลายทางชีวภาพแบ่งออกเป็น 3 ประเภท ดังนี้

1. ความหลากหลายของชนิด (Species diversity) เป็นจุดเริ่มต้นของการศึกษาเกี่ยวกับความหลากหลายทางชีวภาพเนื่องจากนักนิเวศวิทยาได้ศึกษาเกี่ยวกับกลุ่มสิ่งมีชีวิต ในพื้นที่ต่าง ๆ รวมถึงการศึกษาเกี่ยวกับการเปลี่ยนแปลงกลุ่มของสิ่งมีชีวิตในเขตพื้นที่นั้น เมื่อเวลาเปลี่ยนแปลงไป

2. ความหลากหลายทางพันธุกรรม (Genetic diversity) เป็นส่วนที่มีความเกี่ยวเนื่องมาจากความหลากหลายของชนิดและมีความสำคัญอย่างยิ่งต่อกลไกวิวัฒนาการของสิ่งมีชีวิต การปรากฏลักษณะของสิ่งมีชีวิตทุกชนิดจะถูกควบคุมโดยหน่วยพันธุกรรมหรือยีน และการปรากฏของยีนจะเกี่ยวข้องกับ การปรับตัวของสิ่งมีชีวิตที่ทำให้สิ่งมีชีวิตนั้นดำรงชีวิตอยู่ได้ และมีโอกาสถ่ายทอดยีนนั้นต่อไปยังรุ่นหลัง เนื่องจากในสิ่งมีชีวิตแต่ละชนิดจะมียีนจำนวนมาก และลักษณะหนึ่งลักษณะของสิ่งมีชีวิตนั้นจะมีหน่วยพันธุกรรมมากกว่าหนึ่งแบบ จึงทำให้สิ่งมีชีวิตชนิดเดียวกันมีลักษณะบางอย่างต่างกัน

3. ความหลากหลายของระบบนิเวศ (Ecological diversity) หรือ ความหลากหลายของภูมิประเทศ (Landscape diversity) ในบางถิ่นกำเนิดตามธรรมชาติที่เป็นลักษณะสภาพทางภูมิประเทศแตกต่างกันหลายแบบ

### กิจกรรม ความหลากหลายทางชีวภาพในท้องถิ่น

สำรวจและสืบค้นตามความสนใจ แล้วรวบรวมข้อมูลเพื่ออภิปรายร่วมกันว่า ในท้องถิ่นของผู้เรียน มีความหลากหลายทางความหลากหลายของชนิด ความหลากหลายทางพันธุกรรม และความหลากหลายของระบบนิเวศ อย่างไรบ้าง เลือกศึกษาความหลากหลายทางพันธุกรรมของสิ่งมีชีวิตในท้องถิ่น 1 ชนิด

- ในท้องถิ่นของผู้เรียนมีระบบนิเวศใดบ้าง
- ระบบนิเวศที่ผู้เรียนมีโอกาสได้สำรวจมีสิ่งมีชีวิตชนิดใดบ้าง พืชและสัตว์ชนิดใดที่พบมาก ผู้เรียนคิดว่าเหตุใดจึงพบสิ่งมีชีวิตเหล่านี้เป็นจำนวนมากในท้องถิ่น
- ตัวอย่างความหลากหลายทางพันธุกรรมของสิ่งมีชีวิตในท้องถิ่น 1 ชนิดที่ผู้เรียนศึกษาให้ข้อมูลที่นำเสนอใจอย่างไรบ้าง

จากกิจกรรมจำนวนชนิดของสิ่งมีชีวิตที่ผู้เรียนสำรวจพบ สะท้อนถึงความหลากหลายของสิ่งมีชีวิตในท้องถิ่น ผู้เรียนทราบได้อย่างไรว่าสิ่งมีชีวิตใดเป็นสิ่งมีชีวิตชนิดเดียวกัน และสิ่งมีชีวิตใดเป็นสิ่งมีชีวิตต่างชนิดกัน

### การจัดหมวดหมู่สิ่งมีชีวิต

อนุกรมวิธาน (Taxonomy) เป็นสาขาหนึ่งของวิชาชีววิทยาเกี่ยวกับการจัดหมวดหมู่สิ่งมีชีวิต

#### ประโยชน์ของอนุกรมวิธาน

เนื่องจากสิ่งมีชีวิตมีจำนวนมาก แต่ละชนิดก็มีลักษณะแตกต่างกันออกไป จึงทำให้เกิดความไม่สะดวกต่อการศึกษา จึงจำเป็นต้องจัดแบ่งสิ่งมีชีวิตออกเป็นหมวดหมู่ซึ่งจะทำให้เกิดประโยชน์ในด้านต่าง ๆ คือ

1. เพื่อความสะดวกที่จะนำมาศึกษา
2. เพื่อสะดวกในการนำมาใช้ประโยชน์
3. เพื่อเป็นการฝึกทักษะในการจัดจำแนกสิ่งต่าง ๆ ออกเป็นหมวดหมู่

#### หลักเกณฑ์ในการจัดจำแนกหมวดหมู่

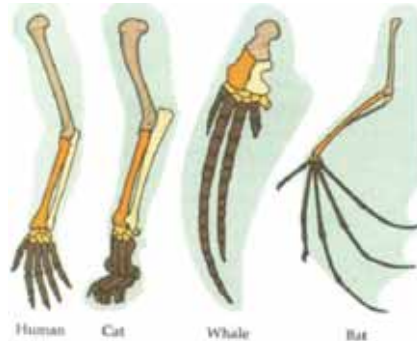
การจำแนกหมวดหมู่ของสิ่งมีชีวิต มีทั้งการรวบรวมสิ่งมีชีวิตที่มีลักษณะเหมือน ๆ กัน หรือคล้ายกันเข้าไว้ในหมวดหมู่เดียวกัน และจำแนกสิ่งมีชีวิตที่มีลักษณะต่างกันออกไว้ต่างหมวดหมู่

สำหรับการศึกษาในปัจจุบันได้อาศัยหลักฐานที่แสดงถึงความใกล้ชิดทางวิวัฒนาการด้านต่าง ๆ มาเป็นเกณฑ์ในการจัดจำแนก ดังนี้

1. เปรียบเทียบโครงสร้างภายนอกและภายในว่ามีความเหมือนหรือแตกต่างกันอย่างไร โดยทั่วไปจะใช้โครงสร้างที่เห็นเด่นชัดเป็นเกณฑ์ในการจัดจำแนกออกเป็นพวก ๆ เช่น การมีระยาง หรือขาเป็นข้อปล้อง มีขนเป็นเส้นเดี่ยว หรือเป็นแผงแบบขนนก มีเกล็ด เส้น หรือ หนวด มีกระดูกสันหลัง เป็นต้น

ถ้าโครงสร้างที่มีต้นกำเนิดเดียวกัน แม้จะทำหน้าที่ต่างกันก็จัดไว้เป็นพวกเดียวกัน เช่น กระดูกแขนของมนุษย์ กระดูกครีบของวาฬ ปีกนก ขาคู่หน้าของสัตว์สี่เท้า ถ้าเป็นโครงสร้างที่มีต้นกำเนิดต่างกัน แม้จะทำหน้าที่เหมือนกันก็จัดไว้คนละพวก เช่น ปีกนก และปีกแมลง

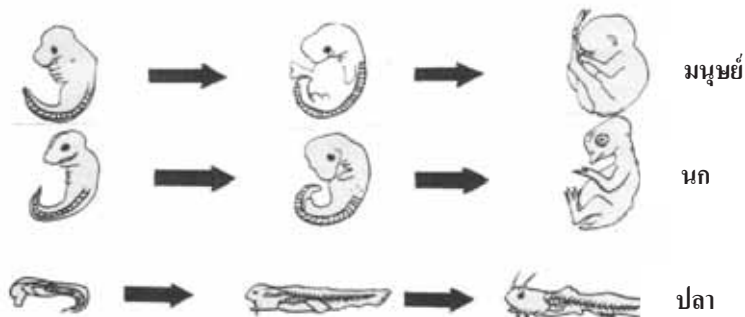
แสดงการเปรียบเทียบโครงสร้างที่มีต้นกำเนิดเดียวกัน



ที่มา (Homologous structures.On - line. 2008)

2. แบบแผนการเจริญเติบโตของเอ็มบริโอ สิ่งมีชีวิตทุกชนิดจะมีลำดับขั้นตอนการเจริญของเอ็มบริโอเหมือนกัน ต่างกันที่รายละเอียดในแต่ละขั้นตอนเท่านั้น และสิ่งมีชีวิตที่มีความคล้ายกันในระยะการเจริญของเอ็มบริโอมาก แสดงว่ามีวิวัฒนาการใกล้ชิดกันมาก

แสดงแบบแผนการเจริญเติบโตของตัวอ่อนของสัตว์บางชนิด



ที่มา (หลักการเจริญเติบโตของเอ็มบริโอ.ออน - ไลน์.2551)

3. ซากดึกดำบรรพ์ การศึกษาซากดึกดำบรรพ์ของสิ่งมีชีวิต ทำให้ทราบบรรพบุรุษของสิ่งมีชีวิตในปัจจุบันได้ และสิ่งมีชีวิตที่มีบรรพบุรุษร่วมกันก็จัดอยู่พวกเดียวกัน เช่น การจัดเอานกและสัตว์เลื้อยคลานไว้ในพวกเดียวกัน เพราะจากการศึกษาซากดึกดำบรรพ์ ของเทอราโนดอน (Pteranodon) ซึ่งเป็นสัตว์



เลื้อยคลานที่บินได้ และซากของอาร์เคออปเทอริกซ์ (Archaeopteryx) ซึ่งเป็นนกโบราณชนิดหนึ่ง มีขากรรไกรยาว มีฟัน มีปีก มีนิ้ว ซึ่งเป็นลักษณะของสัตว์เลื้อยคลาน จากการศึกษาซากดึกดำบรรพ์ดังกล่าว จึงให้เห็นว่านกมีวิวัฒนาการมาจากบรรพบุรุษที่เป็นสัตว์เลื้อยคลาน



**เทอราโนดอน (Pteranodon)**

ที่มา (Pteranodon. On - line. 2008)



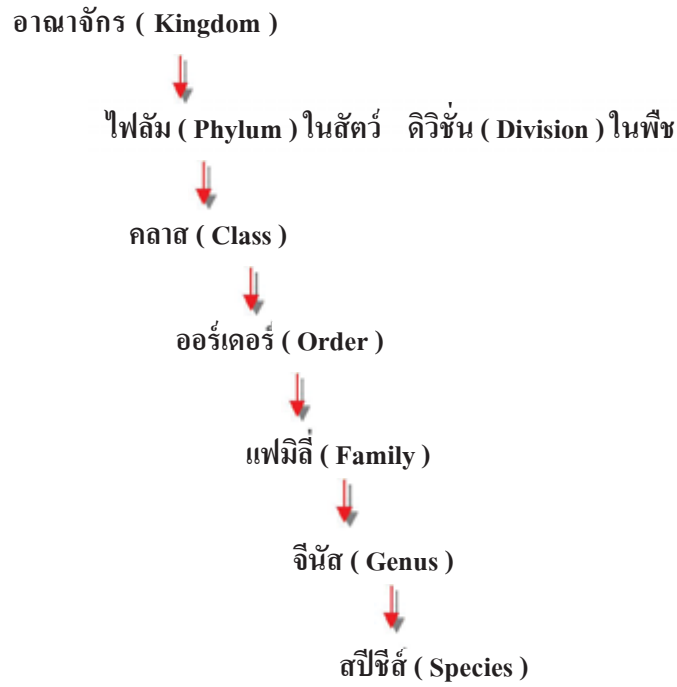
**อาร์เคออปเทอริกซ์ (Archaeopteryx)**

ที่มา (Archaeopteryx. On - line. 2008 )

4. ออร์แกนเนลล์ภายในเซลล์ โดยอาศัยหลักที่ว่าสิ่งมีชีวิตที่มีความใกล้ชิดกันมากย่อมมีสารเคมีและออร์แกนเนลล์ภายในเซลล์คล้ายคลึงกันด้วย ออร์แกนเนลล์ที่นำมาพิจารณาได้แก่ พลาสติด และสาร โปรตีนที่เซลล์สร้างขึ้น

### ลำดับในการจัดหมวดหมู่สิ่งมีชีวิต

นักวิทยาศาสตร์ได้ใช้เกณฑ์ต่าง ๆ มาใช้ในการจัดจำแนกสิ่งมีชีวิตเป็นหมวดหมู่ โดยเริ่มจากหมวดหมู่ใหญ่ไปหาหมวดหมู่ย่อยได้ ดังนี้



การจัด ไฟลัม (Phylum) ในสัตว์, ดิวิชัน (Division) ในพืช เป็นความเห็นของนักพฤกษศาสตร์ทั่วโลก

#### กิจกรรม การจัดหมวดหมู่สิ่งมีชีวิต

ให้ผู้เรียนศึกษาค้นคว้า พร้อมยกตัวอย่างลำดับในการจัดหมวดหมู่สิ่งมีชีวิต จากหน่วยใหญ่ไปหาหน่วยย่อย ของสิ่งมีชีวิตมา 3 ชนิดบันทึกลงในตาราง

| ระดับ   | สิ่งมีชีวิต          |                      |                      |
|---------|----------------------|----------------------|----------------------|
|         | สิ่งมีชีวิตชนิดที่ 1 | สิ่งมีชีวิตชนิดที่ 2 | สิ่งมีชีวิตชนิดที่ 3 |
|         | .....                | .....                | .....                |
| Kingdom |                      |                      |                      |
| Phylum  |                      |                      |                      |
| Class   |                      |                      |                      |
| Order   |                      |                      |                      |
| Family  |                      |                      |                      |
| Genus   |                      |                      |                      |
| Species |                      |                      |                      |



## ชื่อของสิ่งมีชีวิต

ชื่อของสิ่งมีชีวิตมีการตั้งขึ้นเพื่อใช้เรียก หรือระบุสิ่งมีชีวิต การตั้งชื่อสิ่งมีชีวิตมี 2 แบบ คือ

### 1. ชื่อสามัญ (Common name)

เป็นชื่อของสิ่งมีชีวิตตั้งขึ้นเพื่อใช้เรียกสิ่งมีชีวิตแตกต่างกันในแต่ละท้องถิ่น เช่น ฝรั่งภาคเหนือ ลำปาง เรียก บำมัน ลำพูนเรียก บำก้วย ภาคกลางเรียกฝรั่ง ภาคใต้เรียกชมพู่ ภาคตะวันออกเฉียงเหนือ เรียก บักเสี้ยน ฉะนั้นการเรียกชื่อสามัญอาจทำให้เกิดความสับสนได้ง่าย การตั้งชื่อสามัญ มักมีหลักเกณฑ์ในการตั้งชื่อ ได้แก่ ตั้งตามลักษณะรูปร่าง เช่น สาหร่ายหางกระรอก ว่านหางจระเข้ ตั้งตามถิ่นกำเนิด เช่น ผักตบชวา ขางอินเดีย กกอียิปต์ ตั้งตามที่อยู่เช่น ดาวทะเล ทากบก ตั้งตามประโยชน์ที่ได้รับ เช่น หอยมุก

### 2. ชื่อวิทยาศาสตร์ (Scientific name)

เป็นชื่อเพื่อใช้เรียกสิ่งมีชีวิตที่กำหนดขึ้นตามหลักสากล ซึ่งนักวิทยาศาสตร์ทั่วโลกรู้จัก คาโรลัส ลินเนียส นักธรรมชาติวิทยา ชาวสวีเดน เป็นผู้ริเริ่มในการตั้งชื่อวิทยาศาสตร์ให้กับสิ่งมีชีวิต โดยกำหนดให้สิ่งมีชีวิตประกอบด้วยชื่อ 2 ชื่อ ชื่อแรกเป็นชื่อ “จีนัส” ชื่อหลังเป็นคำระบุชนิดของสิ่งมีชีวิต คือ ชื่อ “สปีชีส์” การเรียกชื่อซึ่งประกอบด้วยชื่อ 2 ชื่อ เรียกว่า “การตั้งชื่อแบบทวินาม”

#### หลักการตั้งชื่อ

1. เป็นภาษาละติน (ภาษาละตินเป็นภาษาที่ตายแล้ว ไม่สามารถเปลี่ยนแปลงได้)
2. การเขียน หรือพิมพ์ชื่อวิทยาศาสตร์ เขียนด้วยอักษรภาษาอังกฤษ ชื่อแรกให้ขึ้นต้นด้วยตัวอักษรภาษาอังกฤษตัวพิมพ์ใหญ่ ชื่อหลังให้ขึ้นต้นด้วยภาษาอังกฤษตัวพิมพ์เล็ก เขียนได้ 2 แบบ

ถ้าเขียน หรือพิมพ์ด้วยตัวเอนไม่ต้องขีดเส้นใต้ เช่น ชื่อวิทยาศาสตร์ของคน *Homo sapiens*

ถ้าเขียน หรือพิมพ์ด้วยไม้ขีดตัวเอนต้องขีดเส้นใต้ชื่อ 2 ชื่อ โดยเส้นที่ขีดเส้นใต้ทั้งสองไม่ติดต่อกัน

Homo sapiens

3. อาจมีชื่อย่อของผู้ตั้งชื่อ หรือ ผู้ค้นพบตามหลังด้วยก็ได้ เช่น *Passer montanus* Linn.
4. ชื่อวิทยาศาสตร์อาจเปลี่ยนแปลงได้ ถ้ามีการค้นพบรายละเอียดเกี่ยวกับสิ่งมีชีวิตนั้นเพิ่มเติมภายหลัง การตั้งชื่อวิทยาศาสตร์ อาจตั้งโดยการพิจารณาจากสิ่งต่าง ๆ ที่เกี่ยวกับสิ่งมีชีวิต

#### 1. สภาพที่อยู่อาศัย

ผักนึ่ง มีชื่อวิทยาศาสตร์ว่า *Ipomoea aquatica* ชื่อ aquatica มาจากคำว่า aquatic ซึ่งหมายถึง น้ำ

#### 2. ถิ่นที่อยู่หรือถิ่นกำเนิด

มะม่วง มีชื่อวิทยาศาสตร์ว่า *Mangifera indica* ชื่อ indica มาจากคำว่า India ซึ่งเป็นต้นไม้มันมีถิ่นกำเนิดอยู่ในประเทศอินเดีย

#### 3. ลักษณะเด่นบางอย่าง

กุหลาบสีแดง มีชื่อวิทยาศาสตร์ว่า *Rosa rubra* ชื่อ rubra หมายถึง สีแดง

#### 4. ชื่อบุคคลที่ค้นพบ หรือชื่อผู้ที่เกี่ยวข้อง เช่น

ต้นเดี่ยวหรือ มีชื่อวิทยาศาสตร์ว่า *Bauhinia sanitwongsei* ชื่อ sanitwongsei เป็นชื่อที่ตั้งให้เป็นเกียรติแก่ผู้เกี่ยวข้อง ซึ่งเป็นนามสกุลของ ม.ร.ว. ใหญ่ สนิทวงศ์

#### กิจกรรม ชื่อวิทยาศาสตร์ของสิ่งมีชีวิต

1. ให้ผู้เรียนค้นคว้าชื่อวิทยาศาสตร์ของสิ่งมีชีวิตจากแหล่งเรียนรู้ต่าง ๆ คนละ 10 ชนิด โดยแบ่งเป็นพืช 5 ชนิด และสัตว์ 5 ชนิด

2. บันทึกการค้นคว้าลงในตาราง

| ลำดับที่ | ชื่อสิ่งมีชีวิต | ชื่อวิทยาศาสตร์ |
|----------|-----------------|-----------------|
| 1        |                 |                 |
| 2        |                 |                 |
| 3        |                 |                 |
| 4        |                 |                 |
| 5        |                 |                 |
| 6        |                 |                 |
| 7        |                 |                 |
| 8        |                 |                 |
| 9        |                 |                 |
| 10       |                 |                 |

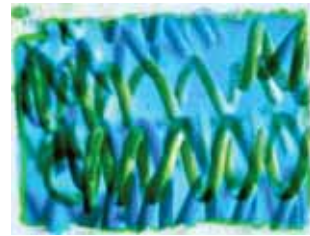
#### ความหลากหลายของสิ่งมีชีวิต

จากจุดเริ่มต้นของความหลากหลายทางชีวภาพบน โลกมนุษย์ เมื่อหลายพันล้านปีมาแล้ว จนกระทั่งปัจจุบัน สิ่งมีชีวิตได้วิวัฒนาการแยกออกเป็นชนิดต่าง ๆ หลายชนิด โดยแต่ละชนิดมีลักษณะการดำรงชีวิตต่าง ๆ เช่น บางชนิดมีลักษณะง่าย ๆ เหมือนชีวิตแรกเกิด บางชนิดมีลักษณะซับซ้อน บางชนิดดำรงชีวิตอยู่ในน้ำ บางชนิดดำรงชีวิตอยู่บนบก เป็นต้น ความหลากหลายของสิ่งมีชีวิตในปัจจุบัน ตามแนวความคิดของ อาร์ เอช วิทเทเคอร์ (R.H. whittaker) จำแนกสิ่งมีชีวิตออกเป็น 5 อาณาจักร คือ

##### 1. อาณาจักรมอเนอรา (Monera Kingdom)

สิ่งมีชีวิตในอาณาจักรมอเนอราเป็นสิ่งมีชีวิตชั้นต่ำ ในกลุ่มโพรคาริโอต ไม่มีเยื่อหุ้มนิวเคลียส มีโครงสร้างไม่ซับซ้อน เป็นสิ่งมีชีวิตเซลล์เดียว สิ่งมีชีวิตในอาณาจักรนี้ได้แก่ สาหร่ายสีเขียวแกมน้ำเงิน และแบคทีเรีย ซึ่งมีรูปร่างต่างกันออกไป เช่น เป็นแท่ง กลีบลูกเต๋า หรือต่อกันเป็นสายยาว แบคทีเรียบางชนิดทำให้เกิดโรค เช่น โรคบิด บาดทะยัก วัณโรค อหิวาตกโรค คอตีบ ไข้อีดำ-เขียว บางชนิดพบในปมรากถั่ว ที่เรียกว่า ไรโซเบียม (*Rhizobium sp.*) สามารถนำไนโตรเจนจากอากาศไปสร้างในตรด ซึ่งเป็นธาตุอาหาร

สำคัญของพืช ส่วนสาหร่ายสีเขียวแกมน้ำเงิน ที่รู้จักดี คือ สไปรูลินา (*Spirulina sp.*) ซึ่งมีโปรตีนสูง ใช้ทำอาหารเสริม



สิ่งมีชีวิตในอาณาจักรมอเนรา

ที่มา (Monera.On - line. 2008)

## 2. อาณาจักรโพรทิสตา (Protista Kingdom)



สิ่งมีชีวิตในอาณาจักรโพรทิสตา เป็นสิ่งมีชีวิตกลุ่ม ยูคาริโอต มีเยื่อหุ้มนิวเคลียส ส่วนใหญ่เป็นสิ่งมีชีวิตเซลล์เดียว สิ่งมีชีวิตในอาณาจักรนี้มีทั้งประเภทชั้นต่ำ เซลล์เดียวหรือหลายเซลล์ มีคลอโรพลาสต์ที่ใช้ในการสังเคราะห์แสง ได้แก่ สาหร่าย ซึ่งพบในน้ำจืดและน้ำเค็ม บางชนิดไม่สามารถมองด้วยตาเปล่า ต้องส่องด้วยกล้องจุลทรรศน์ เช่น อมีบา พารามีเซียม ยูกลีนา นอกจากนี้ยังพบสิ่งมีชีวิตที่เรียกว่า ราเมือก ซึ่งพบตามที่ชื้นแฉะ สิ่งมีชีวิตในอาณาจักรโพรทิสตาบางชนิดทำให้เกิดโรค เช่น พลาสโมเดียม (*Plasmodium sp.*) ทำให้เกิดโรคไข้มาลาเรีย สาหร่ายบางชนิดทำอาหารสัตว์ บางชนิดทำวุ้น เช่น สาหร่ายสีแดง



สิ่งมีชีวิตในอาณาจักรโพรทิสตา

ที่มา (Protista.On - line. 2008)

### 3. อาณาจักรฟังไจ (Fungi Kingdom)

สิ่งมีชีวิตในอาณาจักรฟังไจส่วนใหญ่เป็นสิ่งมีชีวิตที่ประกอบด้วยเซลล์หลายเซลล์ อาจมีเซลล์เดียว เช่น ยีสต์ที่ทำขนมปัง หรือใช้ในการหมักสุรา ไวน์ เบียร์ เป็นต้น บางชนิดมีหลายเซลล์ เช่น เห็ด มีการรวมตัวเป็นกลุ่มของเส้นใยหรืออัดแน่นเป็นกระจุก มีผนังเซลล์คล้ายพืช แต่ไม่มีคลอโรพลาสต์ สืบพันธุ์โดยการสร้างสปอร์ และดำรงชีวิตโดยการย่อยสลายสารอินทรีย์ โดยหลั่งน้ำย่อยออกมาย่อยอาหาร แล้วจึงดูดเอาโมเลกุลที่ถูกย่อยเข้าสู่เซลล์ ทำหน้าที่เป็นผู้ย่อยสลายในระบบนิเวศ



สิ่งมีชีวิตในอาณาจักรฟังไจ  
อาณาจักรฟังไจ (Kingdom  
ฟังไจ (Fungi. On - line. 2008)



สิ่งมีชีวิตในอาณาจักรพืช  
ที่มา (อาณาจักรพืช.ออน - ไลน์. 2551)

### 4. อาณาจักรพืช (Plantae Kingdom)

สิ่งมีชีวิตในอาณาจักรพืช เป็นสิ่งมีชีวิตหลายเซลล์ที่ประกอบกันเป็นเนื้อเยื่อ และเซลล์มีการเปลี่ยนแปลงไปทำหน้าที่เฉพาะอย่าง เช่น ราก ลำต้น ใบ มีคลอโรพลาสต์ ซึ่งเป็นรงควัตถุที่ใช้ในการสังเคราะห์ด้วยแสง โดยอาศัยพลังงานแสงจากดวงอาทิตย์ จึงมีหน้าที่เป็นผู้ผลิตในระบบนิเวศ พบทั้งบนบกและในน้ำ โดยพืชชั้นต่ำจะไม่มีท่อลำเลียง ได้แก่ มอส พืชชั้นสูงจะมีท่อลำเลียง เช่น หวาย หน่อไม้ หญ้า ถอดปล้อง ตีนตุ๊กแก ช้องนางคลี่ เฟิร์น สน ปรัง พืชใบเลี้ยงคู่ และพืชใบเลี้ยงเดี่ยว

### 5. อาณาจักรสัตว์ (Animalia Kingdom)

สิ่งมีชีวิตในอาณาจักรสัตว์ เป็นสิ่งมีชีวิตที่มีเนื้อเยื่อซึ่งประกอบด้วยเซลล์หลายเซลล์ ไม่มีผนังเซลล์ ภายในเซลล์ไม่มีคลอโรพลาสต์ ต้องอาศัยอาหารจากการกินสิ่งมีชีวิตชนิดอื่น ๆ ดำรงชีวิตเป็นผู้บริโภคในระบบนิเวศ สิ่งมีชีวิตในอาณาจักรนี้มีความสามารถในการตอบสนองต่อสิ่งเร้า บางชนิดเคลื่อนที่ไม่ได้ เช่น ฟองน้ำ ปะการัง กัลปังหา เป็นต้น

สิ่งมีชีวิตในอาณาจักรสัตว์แบ่งออกเป็น 2 กลุ่ม คือ

สัตว์ไม่มีกระดูกสันหลัง ได้แก่ ฟองน้ำ กัลปังหา แมงกะพรุน พยาธิต่าง ๆ ไส้เดือน หอย ปู แมลง  
หมึก ดาวทะเล

สัตว์มีกระดูกสันหลัง ได้แก่ ปลา สัตว์ครึ่งบกครึ่งน้ำ สัตว์เลื้อยคลาน สัตว์ปีก สัตว์เลี้ยงลูกด้วย  
น้ำนม



สิ่งมีชีวิตในอาณาจักรสัตว์

ที่มา (อาณาจักรสัตว์. ออน - ไลน์. 2551)

### กิจกรรม ความหลากหลายของสิ่งมีชีวิต

จากการศึกษา เรื่องความหลากหลายของสิ่งมีชีวิตให้ผู้เรียนสรุปผลการศึกษาลงในตารางข้างล่างนี้

ตาราง การแบ่งกลุ่มสิ่งมีชีวิต

| อาณาจักร | ลักษณะที่สำคัญ | ตัวอย่างสิ่งมีชีวิต | ความสำคัญ |
|----------|----------------|---------------------|-----------|
| มอเนอรา  |                |                     |           |
| โพรทิสตา |                |                     |           |
| ฟังไจ    |                |                     |           |
| พืช      |                |                     |           |
| สัตว์    |                |                     |           |

## คุณค่าของความหลากหลายทางชีวภาพ

ความหลากหลายทางชีวภาพมีคุณค่าและความสำคัญต่อการดำรงชีวิตของมนุษย์ ดังนี้

### 1. เป็นแหล่งปัจจัยสี่

ป่าไม้ซึ่งเป็นแหล่งรวมของความหลากหลายทางชีวภาพ เป็นแหล่งอาหารของมนุษย์ มาตั้งแต่สมัยดึกดำบรรพ์ มนุษย์ได้อาศัยอาหารที่ได้จากป่า เช่น นำพืช สัตว์ เห็ด มาเป็นอาหาร หรือทำยารักษาโรค มนุษย์สร้างที่อยู่อาศัยจากต้นไม้ในป่า พืชบางชนิด เช่น ต้นฝ้าย ฝู่น และไหม ใช้ทำเป็นเครื่องนุ่งห่ม เก็บฝืนมาทำเชื้อเพลิงเพื่อหุงหาอาหาร และให้ความอบอุ่น

เมื่อจำนวนประชากรเพิ่มขึ้นและมีเทคโนโลยีสูงขึ้น ทำให้ความหลากหลายทางชีวภาพของป่าไม้ถูกทำลายลง มนุษย์ต้องการที่อยู่มากขึ้น มีการตัดไม้ทำลายป่าเพิ่มขึ้น เพื่อให้มีผลผลิตเพียงพอกับความต้องการของมนุษย์ ทำให้การเกษตรและการเลี้ยงสัตว์เพียงหนึ่งหรือสองชนิดได้เข้าไปแทนที่ความหลากหลายทางชีวภาพของป่าไม้

### 2. เป็นแหล่งความรู้

ป่าเป็นแหล่งรวมความหลากหลายทางชีวภาพ เป็นแหล่งรวมพันธุกรรมของสิ่งมีชีวิต จึงเปรียบเสมือนห้องเรียนธรรมชาติ โดยเฉพาะความรู้ด้านชีววิทยา นอกจากนี้ยังเป็นแหล่งให้ การศึกษาวิจัยเกี่ยวกับสิ่งมีชีวิตทั้งหลายที่อยู่ในป่า ถ้าหากป่าหรือธรรมชาติถูกทำลายไป ความหลากหลายทางชีวภาพก็ถูกทำลายไปด้วย จะทำให้มนุษย์ขาดแหล่งเรียนรู้ที่สำคัญไปด้วย

### 3. เป็นแหล่งพักผ่อนหย่อนใจ

ความหลากหลายทางชีวภาพก่อให้เกิดทัศนียภาพที่งดงาม แตกต่างกันไปตามสภาวะของภูมิอากาศ ในบริเวณที่ภูมิอากาศเหมาะสมแก่การอยู่อาศัยก็จะมีพรรณ ไม้ นานาชนิด มีสัตว์ป่า แมลง ผีเสื้อ ช่วยให้ผู้รู้สึกสดชื่น สบายตา ผ่อนคลายความตึงเครียด และนอกจากนี้ยังปรับปรุงให้เป็นแหล่งท่องเที่ยวเชิงอนุรักษ์

### ความหลากหลายทางชีวภาพของประเทศไทยและท้องถิ่น

สิ่งมีชีวิตในโลกนี้มีประมาณ 5 ล้านชนิด ในจำนวนนี้มีอยู่ในประเทศไทย ประมาณร้อยละเจ็ด ประเทศไทยมีประชากรเพียงร้อยละหนึ่งของประชากร โลก ดังนั้น เมื่อเทียบสัดส่วนกับจำนวนประชากร ประเทศไทยจึงนับว่ามีความหลากหลายของสิ่งมีชีวิตอย่างมาก

สิ่งมีชีวิตในประเทศไทยมีหลากหลายได้มาก เนื่องจากมีสภาพทางภูมิศาสตร์ที่หลากหลายและแต่ละแหล่งล้วนมีปัจจัยที่เอื้อต่อการเจริญเติบโตของสิ่งมีชีวิต นับตั้งแต่ภูมิประเทศแถบชาย ฝั่งทะเล ที่ราบลุ่มแม่น้ำ ที่ราบลอนคลื่น และภูเขาที่มีความสูงหลากหลายตั้งแต่เนินเขาจนถึงภูเขาที่สูงชันถึง 2,400 เมตรจากระดับน้ำทะเล ประเทศไทยจึงเป็นแหล่งของป่าไม้ นานาชนิด ได้แก่ ป่าชายเลน ป่าพรุ ป่าเบญจพรรณ ป่าดิบ และป่าสนเขา

ในระยะเวลา 30 ปี ที่ผ่านมา ประเทศไทยสูญเสียพื้นที่ป่าเป็นจำนวนมหาศาล เนื่องจากหลายสาเหตุด้วยกัน เช่น การเพิ่มของประชากรทำให้มีการบุกเบิกป่าเพิ่มขึ้น การให้สัมปทานป่าไม้



ที่จำกัดการควบคุมอย่างเพียงพอ การตัดถนนเข้าพื้นที่ป่า การเกษตรเชิงอุตสาหกรรม การแพร่ของเทคโนโลยีที่ใช้ทำลายป่าไม้ได้อย่างรวดเร็ว และส่วนใหญ่เกิดขึ้นกับป่าบนภูเขาและป่าชายเลน ยังผลให้พืชและสัตว์สูญพันธุ์ อาทิ เนื้อสัตว์ นม ไข่ ปลา และสัตว์น้ำในน้ำจืดและน้ำเค็ม ในอนาคตอันใกล้นี้อีกเป็นจำนวนมาก อาทิ ควายป่า ละอง ละมั่ง เนื้อทราย กวางผา เลียงผา สมเสร็จ เสือลายเมฆ เสือโคร่ง และช้างป่า รวมทั้งนก สัตว์ครึ่งบกครึ่งน้ำ สัตว์เลื้อยคลาน แมลง และสัตว์น้ำอีกเป็นจำนวนมาก

การทำลายป่าก่อให้เกิดวิกฤตการณ์ทางธรรมชาติเพิ่มขึ้นเรื่อย ๆ แหล่งน้ำที่เคยอุดมสมบูรณ์ เริ่มลดน้อยลง ผืนป่าที่เหลืออยู่ไม่สามารถซับน้ำฝนที่ตกหนัก เกิดปรากฏการณ์น้ำท่วมฉับพลัน ยังผลให้เกิดความเสียหายแก่เศรษฐกิจ บ้านเรือน และความปลอดภัยของชีวิตคนและสัตว์เป็นอันมาก

ปัญหาความหลากหลายทางชีวภาพในประเทศไทย จึงเป็นปัญหาใหญ่และเร่งด่วนที่จะต้องช่วยกันแก้ไขด้วยการหยุดยั้งการสูญเสียระบบนิเวศป่าทุกประเภท การอนุรักษ์สิ่งที่เหลืออยู่และการฟื้นฟู ป่าเสื่อมโทรมให้กลับคืนสู่สภาพป่าที่มีความหลากหลายทางชีวภาพดั้งเดิม เพราะความหลากหลายเหล่านั้นเป็นพื้นฐานของการพัฒนาเศรษฐกิจและสังคมอย่างยั่งยืน

### การอนุรักษ์ความหลากหลายทางชีวภาพของท้องถิ่น

การอนุรักษ์ความหลากหลายทางชีวภาพของท้องถิ่น ทำได้หลายวิธี ดังนี้

1. จัดระบบนิเวศให้ใกล้เคียงตามธรรมชาติ โดยฟื้นฟูหรือพัฒนาพื้นที่เสื่อมโทรม ให้มีความหลากหลายทางชีวภาพไว้มากที่สุด
2. จัดให้มีศูนย์อนุรักษ์หรือพิทักษ์สิ่งมีชีวิตนอกถิ่นกำเนิด เพื่อเป็นที่พักพิงชั่วคราวที่ปลอดภัยก่อนนำกลับไปสู่ธรรมชาติ เช่น สวนพฤกษศาสตร์ ศูนย์เพาะเลี้ยงสัตว์น้ำเค็ม
3. ส่งเสริมการเกษตรแบบไร้สารพิษ และใช้ต้นไม้ล้อมรั้วบ้านหรือแปลงเกษตร เพื่อให้มีพืชและสัตว์หลากหลายชนิดมาอาศัยอยู่ร่วมกัน ซึ่งเป็นการอนุรักษ์ความหลากหลายทางชีวภาพได้

### กิจกรรม อนุรักษ์ความหลากหลายทางชีวภาพ

สืบค้นและรวบรวมข้อมูลเพื่ออภิปรายร่วมกัน เกี่ยวกับความสำคัญของความหลากหลายทางชีวภาพในท้องถิ่น

- การที่ประเทศไทยเป็นแหล่งที่มีความหลากหลายทางชีวภาพทำให้เราได้ประโยชน์อะไรบ้าง
- มีความจำเป็นมากน้อยเพียงใด ที่เราควรรักษาสภาพของความหลากหลายทางชีวภาพให้คงอยู่ได้นาน ๆ

## บทที่ 5

### เทคโนโลยีชีวภาพ

#### สาระสำคัญ

เทคโนโลยีชีวภาพ เป็นเทคโนโลยีที่นำเอาความรู้ทางชีววิทยามาใช้ประโยชน์ ในชีวิตประจำวัน แก่มนุษย์ตั้งแต่อดีต เช่น การผลิตขนมปัง น้ำส้มสายชู น้ำปลา ซีอิ๊ว และโยเกิร์ต เป็นต้น ซึ่งเป็น ภูมิปัญญาท้องถิ่นเกี่ยวกับเทคโนโลยีชีวภาพทั้งสิ้น รวมถึงการผลิต ยาปฏิชีวนะ ตลอดจนการปรับปรุงพันธุ์ พืช และพันธุ์สัตว์ชนิดต่าง ๆ ในปัจจุบัน

#### ผลการเรียนรู้ที่คาดหวัง

1. อธิบายเกี่ยวกับเทคโนโลยีชีวภาพ และประโยชน์ได้
2. อธิบายผลของเทคโนโลยีชีวภาพต่อชีวิตและสิ่งแวดล้อมได้
3. อธิบายบทบาทของภูมิปัญญาท้องถิ่นเกี่ยวกับเทคโนโลยีชีวภาพได้

#### ขอบข่ายเนื้อหา

- เรื่องที่ 1. ความหมายและความสำคัญของเทคโนโลยีชีวภาพ
- เรื่องที่ 2. ปัจจัยที่มีผลต่อเทคโนโลยีชีวภาพ
- เรื่องที่ 3. เทคโนโลยีชีวภาพในชีวิตประจำวัน
- เรื่องที่ 4. ภูมิปัญญาท้องถิ่นเกี่ยวกับเทคโนโลยีชีวภาพ
- เรื่องที่ 5. ประโยชน์และผลกระทบของเทคโนโลยีชีวภาพ



## เรื่องที่ 1 ความหมายและความสำคัญของเทคโนโลยีชีวภาพ

### เทคโนโลยีชีวภาพ (Biotechnology)

เทคโนโลยีชีวภาพ คือ การใช้ความรู้เกี่ยวกับสิ่งมีชีวิตและผลิตผลของสิ่งมีชีวิตให้เป็นประโยชน์กับมนุษย์ หรือการใช้เทคโนโลยีในการนำสิ่งมีชีวิตหรือชิ้นส่วนของสิ่งมีชีวิตมาพัฒนาหรือปรับปรุงพืช สัตว์ และผลิตภัณฑ์อื่น ๆ เพื่อประโยชน์เฉพาะตามที่เราต้องการ

### ความสำคัญของเทคโนโลยีชีวภาพ

ปัจจุบันมีการนำเทคโนโลยีชีวภาพมาใช้ประโยชน์อย่างกว้างขวาง เพื่อหาทางแก้ปัญหาสำคัญที่โลกกำลังเผชิญอยู่ทั้งด้านเกษตรกรรม อาหาร การแพทย์ และเภสัชกรรม ได้แก่

1. การลดปริมาณการใช้สารเคมีในเกษตรกรรม เพื่อลดต้นเหตุของปัญหาด้านสิ่งแวดล้อมด้วยการคิดค้นพันธุ์พืชใหม่ที่ต้านทานโรคและศัตรูพืช
2. การเพิ่มพื้นที่เพาะปลูกของโลก ด้วยการปรับปรุงพันธุ์พืชใหม่ที่ทนทานต่อภาวะแห้งแล้งหรืออุณหภูมิที่สูงหรือต่ำเกินไป
3. การเพิ่มผลผลิตทางการเกษตรของโลก ด้วยการปรับปรุงพันธุ์พืชและพันธุ์สัตว์ใหม่ที่ทนทานต่อโรคภัย และให้ผลผลิตสูงขึ้น
4. การผลิตอาหารที่ให้คุณค่าทางโภชนาการสูงขึ้น มีประโยชน์ต่อผู้บริโภคมากขึ้น เช่น อาหารไขมันต่ำ อาหารที่คงความสดได้นาน หรืออาหารที่มีอายุการบริโภคนานขึ้น โดยไม่ต้องใส่สารเคมี เป็นต้น
5. การค้นคว้าป้องกันและรักษาโรคติดต่อหรือโรคร้ายแรงต่างๆ ที่ยังไม่มีวิธีรักษาที่ได้ผล เช่น การคิดตัวยาหยุดยั้งการลุกลามของเนื้อเยื่อมะเร็งแทนการใช้สารเคมีทำลาย การคิดค้นวัคซีนป้องกันไวรัสตับต่าง ๆ หรือ วัคซีนป้องกันโรคไขหวัด 2009 เป็นต้น

### กิจกรรมที่ 5.1

ให้ผู้เรียนสรุปความสำคัญของเทคโนโลยีชีวภาพ ตามความเข้าใจของตนเอง บันทึกลงในสมุดกิจกรรม

.....

.....

.....

.....

.....

.....

.....

.....



## 2. ในการผลิตผลิตภัณฑ์ที่ต้องการนั้นต้องควบคุม สภาพทางกายอะไรบ้าง

.....

.....

.....

.....

.....

.....

.....

.....

.....

### เรื่องที่ 3 เทคโนโลยีชีวภาพในชีวิตประจำวัน

การนำเทคโนโลยีชีวภาพมาใช้ในชีวิตประจำวัน เป็นการนำความรู้เกี่ยวกับสิ่งมีชีวิตและผลผลิตของสิ่งมีชีวิต มาใช้ให้เป็นประโยชน์กับมนุษย์ในการดำรงชีวิตตั้งแต่อดีตจนถึงปัจจุบัน เช่น

การผลิตอาหาร เช่น น้ำปลา ปลาจืด ปลาต้ม ผักดอง น้ำบูดู น้ำส้มสายชู นมเปรี้ยว

การผลิตผงซักฟอกชนิดใหม่ที่มีเอนไซม์

การทำปุ๋ยจากวัสดุเหลือทิ้ง เช่น เศษผัก อาหาร ฟางข้าว มูลสัตว์

การแก้ไขปัญหาสิ่งแวดล้อม เช่น การใช้จุลินทรีย์ในการกำจัดขยะ หรือบำบัดน้ำเสีย

การแก้ไขปัญหาพลังงาน เช่น การผลิตแอลกอฮอล์ ชนิด เอทานอล ไร้น้ำ เพื่อผสมกับน้ำมันเบนซิน เป็น “แก๊สโซฮอล์” เป็นเชื้อเพลิงรถยนต์

การเพิ่มคุณค่าผลผลิตของอาหาร เช่น การทำให้โคและสุกรเพิ่มปริมาณเนื้อ การปรับปรุงคุณภาพน้ำมันในพืชคาโนล่า

การทำผลิตภัณฑ์จากไขมัน เช่น นม เนย น้ำมัน ยารักษาโรค ฯลฯ

การรักษาโรค และบำรุงสุขภาพ เช่น สมุนไพร

#### เทคโนโลยีชีวภาพที่นำมาใช้ประโยชน์ในประเทศไทย

ประเทศไทยได้มีการค้นคว้าทางด้านเทคโนโลยีชีวภาพ เพื่อทำประโยชน์ต่อประเทศ ซึ่งส่วนใหญ่จะเป็นเทคโนโลยีชีวภาพด้านการเกษตร เช่น

1. การเพาะเลี้ยงเนื้อเยื่อ ได้แก่ การขยายและปรับปรุงพันธุ์กล้วย กกล้วยไม้ ฝรั่ง ไม้ประดับ หล้าแฝก

2. การปรับปรุงพันธุ์พืช ได้แก่

การปรับปรุงพันธุ์มะเขือเทศ พริก ถั่วฝักยาว ให้ต้านทานต่อศัตรูพืช ด้วยเทคนิคการตัดต่อยีน

การพัฒนาพืชทนแล้ง ทนสภาพดินเค็ม และดินกรด เช่น ข้าว

การปรับปรุงและขยายพันธุ์พืชที่เหมาะสมกับเกษตรที่สูง เช่น สตรอเบอร์รี่ มันฝรั่ง  
การผลิตไหลสตรอเบอร์รี่สำหรับปลูกในภาคเหนือ และอีสาน

การพัฒนาพันธุ์พืชต้านทานโรค เช่น มะเขือเทศ มะละกอ

### 3. การพัฒนาและปรับปรุงพันธุ์สัตว์ ได้แก่

การขยายพันธุ์โคนมที่ให้น้ำนมสูงโดยวิธี ปฏิสนธิในหลอดแก้ว และการฝากถ่าย ตัวอ่อน

การลดการแพร่ระบาดของโรคสัตว์ โดยพัฒนาวิธีการตรวจวินิจฉัยที่รวดเร็ว เช่น การตรวจ  
พยาธิใบไม้ในตับในกระปือ การตรวจหาไวรัสสาเหตุโรคหัวเหลือง และจุดขาว จุดแดงในกึ่งกุลาคำ

### 4. การผลิตปุ๋ยชีวภาพ เช่น ปุ๋ยคอก ปุ๋ยหมัก จุลินทรีย์ตรึงไนโตรเจน และปุ๋ยสาหร่าย

5. การควบคุมโรคและแมลงโดยชีววิธี เช่น การใช้จุลินทรีย์ควบคุมโรคในแปลงปลูก  
มะเขือเทศ ขิง สตรอเบอร์รี่

การใช้เชื้อราบางชนิดควบคุมกำจัดโรครากเน่าของทุเรียนและผลไม้อื่น ๆ ควบคุมโรค  
ไส้เดือนฝอย รากปม

การใช้แบคทีเรียหรือสารสกัดจากแบคทีเรียในการควบคุมและกำจัดแมลง เช่น การใช้  
แบคทีเรียกำจัดลูกน้ำและยุงที่เป็นพาหะนำโรคไข้สมองอักเสบ และโรคมาลาเรีย

นอกจากด้านการเกษตรแล้ว ประเทศไทยยังมีการพัฒนาเทคโนโลยีชีวภาพ เพื่อประโยชน์  
ด้านอื่น ๆ อีก เช่น

การพัฒนาเทคโนโลยีลายพิมพ์ดีเอ็นเอ เพื่อการตรวจการปลอมปนข้าวหอมมะลิ และการตรวจ  
พันธุ์ปลาทุ่งน้ำ

### การวิจัย และพัฒนาทางการแพทย์ ได้แก่

การตรวจวินิจฉัยโรคไข้เลือดออก โรคทางเดินอาหาร

การพัฒนาวิธีการตรวจหาสารต่อต้านมาลาเรีย วัณโรค จากพืชและจุลินทรีย์

การพัฒนาการเลี้ยงเซลล์มนุษย์ และสัตว์

### การเพิ่มคุณภาพผลผลิตการเกษตร เช่น

การปรับลดสารโคเลสเตอรอลในไข่ไก่

การพัฒนาผลไม้ให้สุกช้า

การพัฒนาอาหารให้มีส่วนป้องกันและรักษาโรคได้ เช่น การศึกษาสารที่ช่วยเจริญเติบโตในน้ำนม  
ปัจจุบัน เทคโนโลยีชีวภาพถูกนำมาใช้ประโยชน์อย่างกว้างขวางก่อให้เกิดความหวังใหม่ ๆ ที่จะ  
พัฒนาสิ่งมีชีวิตต่าง ๆ ให้มีประสิทธิภาพและคุณภาพให้ดียิ่งขึ้น ดังนั้น จึงมีบทบาทสำคัญต่อคุณภาพชีวิต  
ของมนุษย์ด้วย ทั้งนี้ ควรติดตามข่าวสารความก้าวหน้าด้านเทคโนโลยีชีวภาพ รวมถึงความเสี่ยงที่อาจเกิด  
ผลกระทบต่อตนเองและสิ่งแวดล้อมและอ่านฉลากสินค้า ก่อนการตัดสินใจ

### กิจกรรมที่ 5.3

ให้ผู้เรียนค้นคว้าเพิ่มเติม เกี่ยวกับการนำเทคโนโลยีชีวภาพ มาใช้ประโยชน์ในชีวิตประจำวัน และในประเทศไทย แล้วทำรายงานส่งผู้สอน

#### เรื่องที่ 4 ภูมิปัญญาท้องถิ่นเกี่ยวกับเทคโนโลยีชีวภาพ

เทคโนโลยีชีวภาพที่เป็นภูมิปัญญาท้องถิ่นที่เก่าที่สุดในประวัติศาสตร์ของมนุษยชาติ ก็คือ เทคโนโลยีการหมัก (Fermentation Technology) โดยนำแบคทีเรียที่มีอยู่ตามธรรมชาติมาใช้ในกระบวนการถนอมอาหาร และแปรรูปอาหาร เช่น การทำ น้ำปลา ปลาร้า แหนม น้ำจืด เต้าเจี้ยว ซีอิ๊ว เต้าหู้ยี้ ผักและผลไม้ดอง น้ำส้มสายชู เหล้า เบียร์ ขนมหัง นมเปรี้ยว เป็นต้น ซึ่งผลิตภัณฑ์ที่ได้จากการหมักในลักษณะนี้อาจจะมีคุณภาพไม่แน่นอน หากต้องการปรับปรุงประสิทธิภาพในการหมัก หรือขยายกำลังผลิตให้สูงขึ้น และยังเสี่ยงต่อการปนเปื้อนของเชื้อโรค หรือจุลินทรีย์ที่สร้างสารพิษ

ในปัจจุบันสภาพเศรษฐกิจ และสังคมของชาวชนบท จะพึ่งพาแต่เฉพาะเทคโนโลยีระดับพื้นบ้านที่จัดเป็นภูมิปัญญาท้องถิ่นดั้งเดิมด้านเทคโนโลยีชีวภาพไม่ได้ จึงเป็นผลให้ในปัจจุบันมีการพัฒนาเทคโนโลยีชีวภาพเพิ่มขึ้นตามความต้องการของท้องถิ่น ซึ่งการที่ภูมิปัญญาเหล่านั้นจะพัฒนาได้จะต้องอาศัยนักพัฒนามาเป็นส่วนร่วมในการนำเทคโนโลยีมาแนะนำให้ชาวบ้านได้มีความรู้ และเข้าใจถึงการนำเทคโนโลยีเข้ามาใช้ในการประดิษฐ์คิดค้นสิ่งต่าง ๆ ที่ใช้ในการดำเนินงาน ความจำเป็นในการเลือกใช้ และปรับปรุงเทคโนโลยีบางชนิดให้มีสมรรถนะที่สูงขึ้น โดยเฉพาะในการเพิ่มประสิทธิภาพของการทำงาน ซึ่งขึ้นอยู่กับความรู้ และทักษะจากแหล่งภายนอก ดังนั้นภูมิปัญญาท้องถิ่นจำเป็นจะต้องอาศัยเทคโนโลยีมาประกอบเพื่อเพิ่มผลผลิตให้มากขึ้น เพื่อให้สามารถนำมาใช้ประโยชน์ได้อย่างกว้างขวาง เช่น ด้านอุตสาหกรรมอาหาร ด้านการแพทย์ ด้านการศึกษา เป็นต้น ซึ่งแต่ละท้องถิ่น จะพัฒนาภูมิปัญญาด้านเทคโนโลยีชีวภาพ แตกต่างกันตามสภาพภูมิประเทศ ภูมิอากาศ พฤติกรรมดำรงชีวิต วัตถุประสงค์ และการใช้ประโยชน์ โดยการศึกษา คิดค้น และทดลอง เป็นผลให้ในปัจจุบันเทคโนโลยีชีวภาพมีความก้าวหน้ามาก

ทั้งนี้การถ่ายทอดความรู้ เทคนิคการผลิต และทักษะการปฏิบัติ เป็นสิ่งสำคัญและจำเป็นต่อการสืบทอดภูมิปัญญาท้องถิ่นเกี่ยวกับเทคโนโลยีชีวภาพของคนรุ่นใหม่ ซึ่งจะก่อให้เกิดการแตกยอด และพัฒนาในรูปแบบใหม่ๆ ต่อไปในอนาคต

## กิจกรรมที่ 5.4

ให้ผู้เรียนรวมกลุ่มๆ ละ 4 - 5 คน ค้นคว้าเพิ่มเติม และสัมภาษณ์ผู้รู้เรื่องภูมิปัญญาท้องถิ่นเกี่ยวกับเทคโนโลยีชีวภาพ ที่นำมาใช้ในชีวิตประจำวันในชุมชน หรือท้องถิ่น โดยยกตัวอย่างวิธีการผลิต 1 ชนิด และทำรายงานส่งผู้สอน

### เรื่องที่ 5 ประโยชน์และผลกระทบของเทคโนโลยีชีวภาพ

#### ประโยชน์ของเทคโนโลยีชีวภาพ

ในปัจจุบันเทคโนโลยีชีวภาพได้ถูกนำมาใช้ประโยชน์ในด้านต่าง ๆ ได้แก่

#### 1. ด้านเกษตรกรรม

##### 1.1 การผสมพันธุ์สัตว์และการปรับปรุงพันธุ์สัตว์

การปรับปรุงพันธุ์สัตว์โดยการนำสัตว์พันธุ์ดีจากต่างประเทศซึ่งอ่อนแอ ไม่สามารถทนต่อสภาพอากาศของไทยมาผสมพันธุ์กับพันธุ์พื้นเมือง เพื่อให้ได้ลูกผสมที่มีลักษณะดีเหมือนกับพันธุ์ต่างประเทศที่แข็งแรง ทนทานต่อโรคและทนต่อสภาพภูมิอากาศของเมืองไทย และที่สำคัญคือ ราคาต่ำ

##### 1.2 การปรับปรุงพันธุ์พืชและการผลิตพืชพันธุ์ใหม่ เช่น พืชไร่ ผัก ไม้ดอก

##### 1.3 การควบคุมศัตรูพืชโดยชีววิธี

#### 2. ด้านอุตสาหกรรม

2.1 การถ่ายฝากตัวอ่อน ทำให้เพิ่มปริมาณและคุณภาพของโคนมและโคเนื้อ เพื่อนำมาใช้ในอุตสาหกรรมการผลิตเนื้อวัวและน้ำนมวัว

2.2 การผสมเทียมสัตว์บกและสัตว์น้ำ เพื่อเพิ่มปริมาณและคุณภาพสัตว์บกและสัตว์น้ำ ทำให้เกิดการพัฒนาด้านอุตสาหกรรมการแช่เย็นเนื้อสัตว์และการผลิตอาหารกระป๋อง

2.3 พันธุ์วิศวกรรม โดยนำผลิตผลของยีนมาใช้ประโยชน์และผลิตเป็นอุตสาหกรรม เช่น ผลิตยา ผลิตวัคซีน น้ำยาสำหรับตรวจวินิจฉัยโรค ยาต่อต้านเนื้องอก ฮอร์โมนอินซูลินรักษาโรคเบาหวาน ฮอร์โมนเร่งการเจริญเติบโตของคน เป็นต้น

2.4 ผลิตฮอร์โมนเร่งการเจริญเติบโตของสัตว์ โดยการนำยีนสร้างฮอร์โมนเร่งการเจริญเติบโตของวัวและของคนมาฉีดเข้าไปในรังไข่ที่เพิ่งผสมของหมู พบว่าหมูจะมีการเจริญเติบโตดีกว่าหมูปกติ

2.5 ผลิตสัตว์แปลงพันธุ์ให้มีลักษณะโตเร็ว เพิ่มผลผลิต หรือมีภูมิต้านทาน เช่น แกะที่ให้น้ำนมเพิ่มขึ้น ไก่ที่ต้านทานไวรัส

#### 3. ด้านการแพทย์

3.1 การใช้ยีนบำบัดโรค เช่น การรักษาโรคไขกระดูกที่สร้างฮีโมโกลบินผิดปกติ การดูแลรักษาเด็กที่ติดเชื้อง่าย การรักษาผู้ป่วยที่เป็นมะเร็ง เป็นต้น

3.2 การตรวจวินิจฉัยหรือตรวจพหะจากยีน เพื่อตรวจสอบโรคธาลัสซีเมีย โรคโลหิตจาง สภาวะปัญญาอ่อน ยีนที่อาจทำให้เกิดโรคมะเร็ง เป็นต้น

3.3 การใช้ประโยชน์จากการตรวจลายพิมพ์จากยีนของสิ่งมีชีวิต เช่น การสืบหาตัวผู้ต้องสงสัย ในคดีต่างๆ การตรวจสอบความเป็นพ่อ - แม่ - ลูกกัน การตรวจสอบพันธุ์สัตว์เศรษฐกิจต่าง ๆ

#### 4. ด้านอาหาร

4.1 เพิ่มปริมาณเนื้อสัตว์ทั้งสัตว์บกและสัตว์น้ำ สัตว์บก ได้แก่ กระบือ สุกร ส่วนสัตว์น้ำมีทั้ง สัตว์น้ำจืดและสัตว์น้ำเค็ม จำพวกปลา กุ้ง หอยต่าง ๆ ซึ่งเนื้อสัตว์เป็นแหล่งสาร โปรตีนที่สำคัญมาก

4.2 เพิ่มผลผลิตจากสัตว์ เช่น นำนมวัว ไข่เป็ด ไข่ไก่ เป็นต้น

4.3 เพิ่มผลิตภัณฑ์ที่แปรรูปจากผลผลิตของสัตว์ เช่น เนย นมผง นมเปรี้ยว และโยเกิร์ต เป็นต้น ทำให้เรามีอาหารหลากหลายที่ให้ประโยชน์มากมาย

#### 5. ด้านสิ่งแวดล้อม

5.1 การใช้จุลินทรีย์ช่วยรักษาสภาพแวดล้อม โดยการคัดเลือกและปรับปรุงพันธุ์จุลินทรีย์ให้มี ประสิทธิภาพในการย่อยสลายสูงขึ้น แล้วนำไปใช้กำจัดของเสีย

5.2 การค้นหาทรัพยากรธรรมชาติมาใช้ประโยชน์และการสร้างทรัพยากรใหม่

#### 6. ด้านการผลิตพลังงาน

6.1 แหล่งพลังงานที่ได้จากชีวมวล คือ แอลกอฮอล์ชนิดต่าง ๆ และอาซิโตน ซึ่งได้จากการ แปรรูป แป้ง น้ำตาล หรือเซลลูโลส โดยใช้จุลินทรีย์

6.2 แก๊สชีวภาพ คือ แก๊สที่เกิดจากการที่จุลินทรีย์ย่อยสลายอินทรีย์วัตถุ โดยไม่ต้องใช้ ออกซิเจน ซึ่งจะเกิดแก๊สมีเทนมากที่สุด (ไม่มีสี ไม่มีกลิ่นและติดไฟได้) แก๊สคาร์บอนไดออกไซด์ แก๊ส ไนโตรเจน แก๊สไฮโดรเจน ฯลฯ

#### ผลของเทคโนโลยีชีวภาพด้านการตัดต่อพันธุกรรม

การนำเทคโนโลยีการตัดต่อพันธุกรรมมาใช้ เพื่อให้จุลินทรีย์สามารถผลิตสารหรือผลิตภัณฑ์ บางชนิด หรือ ผลิตพืชที่ต้านทานต่อแมลงศัตรูพืช โรคพืช และยาปราบวัชพืช และปรับปรุงพันธุ์ให้มี ผลผลิตที่มีคุณภาพดีขึ้น ซึ่งสิ่งมีชีวิตที่ได้จากการตัดต่อพันธุกรรมนี้ เรียกว่า จีเอ็มโอ (GMO) เป็นชื่อย่อมา จากคำว่า Genetically Modified Organism

พืช จีเอ็มโอ ส่วนใหญ่ ได้แก่ ข้าวโพด และฝ้ายที่ต้านทานแมลง

ถั่วเหลืองต้านทานยาปราบศัตรูพืช

มะละกอ และ มันฝรั่งต้านทานโรค

แม้ว่าเทคโนโลยีชีวภาพนั้น มีประโยชน์ในการพัฒนา พันธุ์พืช พันธุ์สัตว์ ให้มีผลผลิตที่มีปริมาณ และคุณภาพสูง และมีต้นทุนการผลิตต่ำ ก็ตาม แต่ก็ยังไม่มีหลักฐานที่แน่นอนยืนยันได้ว่าพืชที่ตัดต่อยีน จะไม่ส่งผลกระทบต่อสภาพแวดล้อม และความหลากหลายทางชีวภาพ

ทั้งนี้ มีการทดสอบการปลูกพืช จีเอ็มโอ ทั่วโลก ดังนี้

1. พืชไร่ทนทานต่อสารเคมีกำจัดวัชพืช - เพื่อลดการใช้ยาปราบวัชพืชในปริมาณมาก
2. พืชไร่ทนทานต่อยาฆ่าแมลง กำจัดวัชพืช
3. พืชไร่ทนทานต่อไวรัส ได้แก่ มะละกอ และน้ำเต้า

#### ผลกระทบของการใช้เทคโนโลยีชีวภาพ

การพัฒนาเทคโนโลยีชีวภาพ ทำให้เกิดความหวาดกลัวในเรื่องความปลอดภัยของมนุษย์และจริยธรรมของเทคโนโลยีชีวภาพที่มีต่อสาธารณชน โดยกลัวว่ามนุษย์จะเข้าไปจัดระบบสิ่งมีชีวิต ซึ่งอาจจะทำให้เกิดความวิตกกังวลถึงสิ่งแวดล้อม และการแพทย์ หรืออาจนำไปสู่การขัดแย้งกับธรรมชาติของมนุษย์ เช่น การผลิตเชื้อโรคนิคร้ายแรง เพื่อใช้ในสงครามเชื้อโรค

การใช้สารพันธุกรรมของพืชจากประเทศกำลังพัฒนาเพื่อหวังผลกำไร

ดังนั้น การใช้เทคโนโลยีชีวภาพอย่างถูกต้อง และเหมาะสม จึงจะก่อให้เกิดความมั่นคงในการดำรงชีวิต แต่ถ้าใช้อย่างไม่มีความตระหนักถึงผลในด้านความปลอดภัยและไม่มีจริยธรรมต่อสาธารณชนแล้ว อาจเกิดผลกระทบได้

#### ผลกระทบของสิ่งมีชีวิต จีเอ็มโอ

พบว่าสิ่งมีชีวิต จีเอ็มโอ เคยส่งผลกระทบ ดังนี้

##### 1. ผลกระทบต่อความหลากหลายทางชีวภาพ

พบว่า พืชที่ตัดแต่งพันธุกรรมส่งผลกระทบต่อ แมลงที่ช่วยผสมเกสร และพบว่าแมลงเต่าทองที่เลี้ยงด้วยเพลี้ยอ่อนที่เลี้ยงในมันฝรั่งตัดต่อยีน วางไข่ น้อยลง 1 ใน 3 และมีอายุสั้นกว่าปกติครึ่งหนึ่ง เมื่อเปรียบเทียบกับแมลงเต่าทองที่เลี้ยงด้วยเพลี้ยอ่อนที่เลี้ยงด้วยมันฝรั่งทั่ว ๆ ไป

##### 2. ผลกระทบต่อชีวิตและสิ่งแวดล้อม

ผลกระทบของสิ่งมีชีวิต จีเอ็มโอ ต่อ ชีวิตของผู้บริโภคนั้น เคยเกิดขึ้นบ้างแล้ว โดยบริษัทผลิตอาหารเสริมประเภทวิตามิน บี 2 โดยใช้เทคนิคพันธุวิศวกรรม และนำมาขายในสหรัฐอเมริกา หลังจากนั้นพบว่าผู้บริโภคป่วยด้วยอาการกล้ามเนื้อผิดปกติ เกือบ 5000 คน โดยมีอาการเจ็บปวด และมีอาการทางระบบประสาทร่วมด้วย ทำให้มีผู้เสียชีวิต 37 คน และพิการอย่างถาวรเกือบ 1,500 คน

การศึกษาหาความรู้ เพื่อที่จะเรียนรู้และเข้าใจเกี่ยวกับเทคโนโลยีชีวภาพให้มากขึ้นนั้นควรติดตามข่าวสารความก้าวหน้า การใช้ประโยชน์ รวมถึงความเสี่ยงที่อาจเกิดผลกระทบต่อตนเอง และสิ่งแวดล้อมเพื่อกำหนดทางเลือกของตนเองได้อย่างปลอดภัย

#### กิจกรรมที่ 5.5

ให้ผู้เรียนศึกษาค้นคว้าเพิ่มเติม ในเรื่อง ความก้าวหน้าของเทคโนโลยีชีวภาพ ในปัจจุบัน แล้วจัดทำรายงานส่งผู้สอน



## บทที่ 6

### ทรัพยากรธรรมชาติและสิ่งแวดล้อม

#### สาระการเรียนรู้

ทรัพยากรธรรมชาติ เป็นสิ่งที่มีความสัมพันธ์กับชีวิตเราอย่างมากมาย ซึ่งมีผลต่อสิ่งมีชีวิต ฉะนั้นเราจำเป็นต้องศึกษาผลที่เกิดขึ้นกับสิ่งมีชีวิตและสิ่งแวดล้อมในระดับท้องถิ่น ประเทศ และโลก และหาแนวทางในการแก้ไขปัญหาทรัพยากรธรรมชาติและพัฒนาทรัพยากรธรรมชาติ

#### ผลการเรียนรู้ที่คาดหวัง

1. อธิบายกระบวนการเปลี่ยนแปลงแทนที่ของสิ่งมีชีวิตได้
2. อธิบายการใช้ทรัพยากรธรรมชาติ สภาพปัญหาสิ่งแวดล้อมในระดับท้องถิ่น ระดับประเทศและระดับโลกได้
3. อธิบายสาเหตุของปัญหาวางแผน และลงมือปฏิบัติได้
4. อธิบายการป้องกัน แก้ไข ฟื้นฟู อนุรักษ์และพัฒนาทรัพยากรธรรมชาติและสิ่งแวดล้อมได้
5. อธิบายปรากฏการณ์ของธรณีวิทยาที่มีผลกระทบต่อชีวิตและสิ่งแวดล้อม
6. อธิบาย ปรากฏการณ์ สภาวะโลกร้อน สาเหตุและผลกระทบต่อชีวิตมนุษย์

#### ขอบข่ายเนื้อหา

- เรื่องที่ 1 กระบวนการเปลี่ยนแปลงแทนที่ของสิ่งมีชีวิตและสิ่งแวดล้อมในชุมชน
- เรื่องที่ 2 การใช้ทรัพยากรธรรมชาติระดับท้องถิ่น ประเทศและระดับโลก
- เรื่องที่ 3 ปรากฏการณ์ทางธรณีวิทยาที่มีผลกระทบต่อสิ่งมีชีวิตและสิ่งแวดล้อม
- เรื่องที่ 4 ปัญหาและผลกระทบของระบบนิเวศและสภาพสิ่งแวดล้อมในชุมชน ท้องถิ่น ประเทศและโลก
- เรื่องที่ 5 แนวทางการแก้ไขปัญหาทรัพยากรธรรมชาติและสิ่งแวดล้อมในชุมชน
- เรื่องที่ 6 การวางแผนการพัฒนาทรัพยากรธรรมชาติและสิ่งแวดล้อม
- เรื่องที่ 7 สภาวะโลกร้อน สาเหตุและผลกระทบ การป้องกัน และแก้ปัญหาโลกร้อน

## เรื่องที่ 1 กระบวนการเปลี่ยนแปลงแทนที่ของสิ่งมีชีวิตและสิ่งแวดล้อมในชุมชน

การแทนที่ของสิ่งมีชีวิตในระบบนิเวศ

การแทนที่ของสิ่งมีชีวิต หมายถึง การเปลี่ยนแปลงของชนิดหรือชุมชนในระบบนิเวศตามกาลเวลา โดยเริ่มจากจุดที่ไม่มีสิ่งมีชีวิตอาศัยอยู่เลย จนกระทั่งเริ่มมีสิ่งมีชีวิตกลุ่มแรกเกิดขึ้น ซึ่งกลุ่มของสิ่งมีชีวิตกลุ่มแรกจะเป็นกลุ่มที่มีความทนทานสูง และวิวัฒนาการ ไปจนถึงสิ่งมีชีวิตกลุ่มสุดท้ายที่ เรียกว่า ชุมชนสมบูรณ์ (climax stage) การแทนที่ของสิ่งมีชีวิตแบ่งได้เป็น 2 ประเภท คือ

1. การเกิดแทนที่ชั้นบุกเบิก (Primary succession) การเกิดแทนที่จะเริ่มขึ้นในพื้นที่ที่ไม่เคยมีสิ่งมีชีวิตอาศัยอยู่มาก่อนเลย ซึ่งแบ่งออกได้ 2 ประเภท คือ

1.1 การเกิดแทนที่บนพื้นที่ว่างเปล่าบนบก มี 2 ลักษณะด้วยกัน คือ

การเกิดแทนที่บนพื้นหินที่ว่างเปล่า ซึ่งจะเริ่มจาก

ขั้นแรก จะเกิดสิ่งมีชีวิตเซลล์เดียว เช่นสาหร่ายสีเขียว หรือ ไลเคนบนก้อนหินนั้น ต่อมาหินนั้นจะเริ่มสึกกร่อน เนื่องจากความชื้นและสิ่งมีชีวิตบนก้อนหินนั้น ซึ่งจากการสึกกร่อนได้ทำให้เกิดอนุภาคเล็ก ๆ ของดินและทรายและเจือปนด้วยสารอินทรีย์ของซากสิ่งมีชีวิตสะสมเพิ่มขึ้น จากนั้นก็จะเกิดพืชจำพวกมอสตามมา

ขั้นที่สอง เมื่อมีการสะสมอนุภาคดินทราย และซากของสิ่งมีชีวิตและความชื้นมากขึ้น พืชที่เกิดต่อมาจึงเป็นพวกหญ้า และพืชล้มลุก มอสจะหายไป

ขั้นที่สาม เกิดไม้พุ่มและต้นไม้เข้ามาแทนที่ ซึ่งไม้ยืนต้นที่เข้ามาในตอนแรก ๆ จะเป็นไม้โตเร็ว ชอบแสงแดด จากนั้นพืชเล็ก ๆ ที่เกิดขึ้นก่อนหน้านี้ก็ค่อย ๆ หายไป เนื่องจากถูกบดบังแสงแดดจากต้นไม้ที่โตกว่า

ขั้นสุดท้าย เป็นขั้นที่สมบูรณ์ (climax stage) เป็นชุมชนของกลุ่มมีชีวิตรูปแบบที่เติบโตสมบูรณ์แบบมีลักษณะคงที่ มีความสมดุลในระบบคือ ต้นไม้ได้วิวัฒนาการไปเป็นไม้ใหญ่และมีสภาพเป็นป่าที่อุดมสมบูรณ์นั่นเอง

การเกิดแทนที่บนพื้นทรายที่ว่างเปล่า ขั้นต้น พืชที่จะเกิดขึ้นจะเป็นประเภทเถาไม้ - เลื้อย ที่หยั่งรากลงในบริเวณที่ชื้น ขั้นต่อไปก็จะเกิดเป็นลำต้นใต้ดินที่ยาวและสามารถแตกกิ่งก้านสาขาไปได้ไกลและเมื่อใต้ดินมีรากไม้ ก็เกิดมีอินทรีย์วัตถุมากขึ้น ทำให้ความสามารถในการอุ้มน้ำก็เพิ่มมากขึ้นและธาตุอาหารก็เพิ่มขึ้น และที่สุดก็เกิดไม้พุ่ม และไม้ใหญ่ตามมาเป็นขั้นตอนสุดท้าย

1.2 การแทนที่ในแหล่งน้ำ เช่น ในบ่อน้ำ ทะเลทราย หนอง บึง ซึ่งจะเริ่มต้นจาก

ขั้นแรก บริเวณพื้นก้นสระหรือหนองน้ำนั้นมีแต่พื้นทราย สิ่งมีชีวิตที่เกิดขึ้นคือ สิ่งมีชีวิตเล็ก ๆ ที่ล่องลอยอยู่ในน้ำ เช่นแพลงก์ตอน สาหร่ายเซลล์เดียว ตัวอ่อนของแมลงบางชนิด

ขั้นที่สอง เกิดการสะสมสารอินทรีย์ขึ้นบริเวณพื้นก้นสระ จากนั้นก็จะเริ่มเกิดพืชใต้น้ำประเภท สาหร่ายและสัตว์เล็ก ๆ ที่อาศัยอยู่บริเวณที่มีพืชใต้น้ำ เช่น พวกปลากินพืช หอยและตัวอ่อนของแมลง

ขั้นที่สาม ที่พื้นที่บนสระมีอินทรีย์สารทับถมเพิ่มมากขึ้นอันเกิดจากการตายของสาหร่าย เมื่อมีธาตุอาหารมากขึ้นที่พื้นก้นสระก็จะเกิดพีชีมิไบโพล์พื้นน้ำเกิดขึ้น เช่น กก พง อ้อ เตยน้ำ จากนั้นก็จะเกิดมีสัตว์จำพวก หอยโข่ง กบ เขียด กุ้ง หนอง ไล้เดือน และวิวัฒนาการมาจนถึงที่มีสัตว์มากชนิดขึ้น ปริมาณออกซิเจนก็จะถูกใช้มากขึ้น สัตว์ที่อ่อนแอก็จะตายไป

ขั้นที่สี่ อินทรีย์สารที่สะสมอยู่ที่บริเวณก้นสระจะเพิ่มมากขึ้น ในขณะที่สระจะเกิดการตื้นเขินขึ้นในหน้าแล้ง ในช่วงที่ตื้นเขินก็จะเกิดต้นหญ้าขึ้น สัตว์ที่อาศัยอยู่ในสระจะเป็นสัตว์ประเภทสะเทินน้ำสะเทินบกขั้นสุดท้าย ซึ่งเป็นขั้นสมบูรณ์แบบสระน้ำนั้นจะตื้นเขินจนกลายเป็นพื้นดินทำให้เกิดการแทนที่ พืชบกและสัตว์บกและวิวัฒนาการจนกลายเป็นป่าได้ในที่สุด ซึ่งกระบวนการแทนที่ของสิ่งมีชีวิตในระบบนิเวศจะต้องใช้เวลานานมากในการวิวัฒนาการของการแทนที่ทุกขั้นตอน

2. การแทนที่สิ่งมีชีวิตในขั้นทดแทน (Secondary succession) เป็นการเกิดการแทนที่ของสิ่งมีชีวิตอื่น ๆ ในพื้นที่เดิมที่ถูกเปลี่ยนแปลงไป เช่น บริเวณพื้นที่ป่าไม้ที่ถูกโค่นถาง ปรึบเป็นพื้นที่เพาะปลูก หรือพื้นที่ป่าไม้ที่เกิดไฟป่าในขั้นต้นของการแทนที่จะเกิดสิ่งมีชีวิตกลุ่มอื่นเกิดขึ้นแทนที่ทั้งที่เกิดขึ้นเองโดยธรรมชาติและการปลูกโดยมนุษย์ในขั้นที่เกิดขึ้นนั้น มักจะเริ่มด้วยหญ้า

การเปลี่ยนแปลงแทนที่ของสังคมสิ่งมีชีวิต

#### 1. ลักษณะการเปลี่ยนแปลงแทนที่เป็น ดังนี้

สิ่งแวดล้อมเดิมเปลี่ยนแปลงไป (condition change)

สิ่งมีชีวิตที่เข้ามาอาศัยอยู่นั้นมีการปรับตัวให้เหมาะสม (adaptation)

มีการคัดเลือกชนิดที่เหมาะสมเป็นการคัดเลือกโดยธรรมชาติ (natural selection)

#### 2. รูปแบบการแทนที่ มี 2 รูปแบบ คือ

degradtive succession ในกระบวนการแทนที่แบบนี้ อินทรีย์วัตถุ ซากสิ่งมีชีวิตต่าง ๆ ถูกใช้ไปโดย detritivore และ จุลินทรีย์

autotrophic succession เป็นสังคมใหม่พัฒนาขึ้นมาบนพื้นที่ว่างเปล่า

#### 3. กระบวนการเปลี่ยนแปลงแทนที่ เกิดได้ 3 ปัจจัยดังนี้

ก facilitation คือการแทนที่ที่เกิดจากการเปลี่ยนแปลงของปัจจัยทางกายภาพทำให้เหมาะสมกับสิ่งมีชีวิตชนิดใหม่ ที่จะเข้ามาอยู่ได้ จึงเกิดการแทนที่ขึ้น

ข Inhibition เป็นการแทนที่หลังเกิดการรบกวนทางธรรมชาติ หรือการตายของสปีชีส์เดิมเท่านั้น

ค Tolerance คือการแทนที่เนื่องจาก สปีชีส์ที่บุกรุกเข้ามาใหม่สามารถทนต่อระดับทรัพยากรที่เหลือน้อยแล้วนั้นได้ และสามารถเอาชนะสปีชีส์ก่อนนี้ได้

#### 4. ปัจจัยที่ทำให้เกิดการเปลี่ยนแปลงแทนที่

การเปลี่ยนแปลงแทนที่ที่เกิดโดยธรรมชาติได้แก่ ภูเขาไฟระเบิด แผ่นดินไหว ผืนดินกลายเป็นแหล่งน้ำ ฯลฯ

## เรื่องที่ 2 การใช้ทรัพยากรธรรมชาติระดับท้องถิ่น ประเทศและระดับโลก

ทรัพยากรธรรมชาติ (Natural resources) หมายถึง สิ่งปรากฏอยู่ตามธรรมชาติหรือสิ่งที่ขึ้นเอง อำนวยประโยชน์แก่มนุษย์และธรรมชาติด้วยกันเอง (ทวี ทองสว่าง และ ทศนีย์ ทองสว่าง, 2523:4) ถ้าสิ่งนั้น ยังไม่ให้ประโยชน์ต่อมนุษย์ก็ไม่ถือว่าเป็นทรัพยากรธรรมชาติ (เกษม จันทร์แก้ว, 2525:4)

การใช้คำว่า “ทรัพยากรธรรมชาติ” และคำว่า “สิ่งแวดล้อม” บางครั้งผู้ใช้อาจจะเกิดความสับสน ไม่ทราบว่า จะใช้คำไหนดี จึงนำพิจารณาว่าคำทั้งสองนี้มีความคล้ายคลึงและแตกต่างกันอย่างไร ในเรื่องนี้ เกษม จันทร์แก้ว (2525 : 7 - 8) ได้เสนอไว้ ดังนี้

1. ความคล้ายคลึงกัน ในแง่ที่พิจารณาจากที่เกิด คือ เกิดขึ้นตามธรรมชาติเหมือนกัน ทรัพยากรธรรมชาติและสิ่งแวดล้อมต่างเป็นสิ่งที่ให้ประโยชน์ต่อมนุษย์เช่นกัน มนุษย์รู้จักใช้ รู้จักคิดในการ นำทรัพยากรธรรมชาติมาใช้ และมนุษย์อาศัยอยู่ในทรัพยากรธรรมชาติต่าง ๆ ก็ให้เกิดการเปลี่ยนแปลง ทรัพยากรธรรมชาติ แล้วมนุษย์เรียกสิ่งต่าง ๆ ทั้งหมดว่า “สิ่งแวดล้อม” ความคล้ายคลึงกันของ คำว่า ทรัพยากรธรรมชาติและสิ่งแวดล้อมอยู่ที่ว่าทรัพยากรธรรมชาติเป็นส่วนหนึ่งของสิ่งแวดล้อม

2. ความแตกต่าง ทรัพยากรธรรมชาติเป็นสิ่งที่เกิดขึ้นเองตามธรรมชาติแต่สิ่งแวดล้อมนั้นประกอบด้วย ทรัพยากรธรรมชาติและสิ่งทีมนุษย์สร้างขึ้น โดยอาศัยทรัพยากรธรรมชาติ หากขาดทรัพยากรธรรมชาติ มนุษย์ไม่สามารถสร้างสิ่งแวดล้อมอื่น ๆ ได้เลย

### ประเภทของทรัพยากรธรรมชาติ

การแบ่งประเภทของทรัพยากรธรรมชาติ มีการแบ่งกันหลายลักษณะ แต่ในที่นี้ แบ่งโดยใช้เกณฑ์ ของการนำมาใช้ แบ่งออกเป็น 4 ประเภท ดังนี้

1. ทรัพยากรธรรมชาติที่ใช้แล้วไม่หมดสิ้น (Inexhaustible natural resources) เป็นทรัพยากรธรรมชาติที่เกิดขึ้นก่อนที่จะมีมนุษย์ เมื่อมีมนุษย์เกิดขึ้นมาสิ่งเหล่านี้ก็มีความจำเป็นต่อการ ดำรงชีวิตของมนุษย์ จำแนกเป็น 2 ประเภท ได้แก่

- 1.1 ประเภทที่คงสภาพเดิมไม่เปลี่ยนแปลง (Immutable) ได้แก่ พลังงานจากดวงอาทิตย์ ลม อากาศ ฝุ่น แม้กาลเวลาจะผ่านไปนานเท่าใดก็ตามสิ่งเหล่านี้ก็ยังคงไม่มีการเปลี่ยนแปลง

- 1.2 ประเภทที่เกิดการเปลี่ยนแปลง (Mutuable) การเปลี่ยนแปลงที่เกิดขึ้น เนื่องจากการใช้ประโยชน์ อย่างผิดวิธี เช่น การใช้ที่ดิน การใช้ทำโดยวิธีการที่ไม่ถูกต้อง ทำให้เกิดการเปลี่ยนแปลงทั้งทางด้านกายภาพ และด้านคุณภาพ

2. ทรัพยากรธรรมชาติที่ใช้แล้วทดแทนได้ (renewable natural resources) เป็นทรัพยากรธรรมชาติ ที่ใช้ไปแล้วสามารถเกิดขึ้นทดแทนได้ ซึ่งอาจจะเร็วหรือช้าขึ้นอยู่กับชนิดของทรัพยากรธรรมชาติประเภท นั้น ทรัพยากรธรรมชาติที่ใช้แล้วทดแทนได้ เช่น พืช ป่าไม้ สัตว์ป่า มนุษย์ ความสมบูรณ์ของดิน คุณภาพ ของน้ำและ ทศนีย์ภาพที่สวยงาม เป็นต้น

3. ทรัพยากรธรรมชาติสามารถนำมาใช้ใหม่ได้ (Recyclables natural resources) เป็นทรัพยากรธรรมชาติจำพวกแร่ธาตุที่นำมาใช้แล้วสามารถนำไปแปรรูปให้กลับไปสู่สภาพเดิมได้ แล้วนำกลับมาใช้ใหม่อีก (อุแก้ว ประกอบไวภกิจ เวิร์, 2525 : 208) เช่น แร่โลหะ ได้แก่ เหล็ก ทองแดง อะลูมิเนียม แก้ว ฯลฯ

4. ทรัพยากรธรรมชาติที่ใช้แล้วหมดสิ้นไป (Exhausting natural resources) เป็นทรัพยากรธรรมชาติที่นำมาใช้แล้วจะหมดไปจากโลกนี้ หรือสามารถเกิดขึ้นทดแทนได้ แต่ต้องใช้เวลายาวนานมาก ทรัพยากรธรรมชาติประเภทนี้ น้ำมันปิโตรเลียม ก๊าซธรรมชาติ และถ่านหิน เป็นต้น

#### ความสำคัญและผลกระทบของทรัพยากรธรรมชาติ

ทรัพยากรธรรมชาติมีความสำคัญต่อมนุษย์มากมายหลายด้านดังนี้

1. การดำรงชีวิต ทรัพยากรธรรมชาติเป็นต้นกำเนิดของปัจจัย 4 ในการดำรงชีวิตของมนุษย์ พบว่ามนุษย์จะต้องพึ่งพาทรัพยากรธรรมชาติเพื่อสนองความต้องการทางด้านปัจจัย 4 คือ อาหาร เครื่องนุ่งห่ม ที่อยู่อาศัย และยารักษาโรค

อาหารที่มนุษย์บริโภคแรกเริ่มส่วนหนึ่งได้จากทรัพยากรธรรมชาติ เช่น เผือก มัน ปลายน้ำจืด และปลาน้ำเค็ม เป็นต้น

เครื่องนุ่งห่ม แรกเริ่มมนุษย์ประดิษฐ์เครื่องนุ่งห่มจากทรัพยากรธรรมชาติ เช่น จากฝ้าย ป่าน ลินิน ขนสัตว์ ฯลฯ ที่มีอยู่ตามธรรมชาติ ต่อมาเมื่อจำนวนประชากรเพิ่มขึ้น ความต้องการเครื่องนุ่งห่มก็เพิ่มขึ้นด้วย จึงจำเป็นต้องปลูกหรือเลี้ยงสัตว์ เพื่อการทำเครื่องนุ่งห่มเอง และในที่สุดก็ทำเป็นอุตสาหกรรม

ที่อยู่อาศัย การสร้างที่อยู่อาศัยของชนเผ่าต่างๆจะพยายามหาทรัพยากรธรรมชาติ ที่มีอยู่ในท้องถิ่นมาเป็นองค์ประกอบหลักในการก่อสร้างที่อยู่อาศัยขึ้นมา ตัวอย่างเช่น ในเขตทะเลทรายที่แห้งแล้งและไร้พืชพรรณธรรมชาติ บ้านที่สร้างขึ้นอาจจะเจาะเป็นอุโมงค์ตามหน้าผา บ้านคนไทยในชนบทสร้างด้วยไม้ ไม้ไผ่ หลังคามุงด้วยจากหรือหญ้า เป็นต้น

ยารักษาโรค ตั้งแต่สมัยโบราณมนุษย์รู้จักนำพืชสมุนไพรมาใช้ในการรักษาโรค เช่น คนไทยใช้ฟ้าทะลายโจรรักษาโรคหวัด หอบ หืด หัวใจ ไพล ขมิ้น น้ำผึ้งใช้บำรุงผิว

2. การตั้งถิ่นฐานและการประกอบอาชีพ ทรัพยากรธรรมชาติเป็นพื้นฐานในการตั้งถิ่นฐานและประกอบอาชีพของมนุษย์ เช่น แถบลุ่มแม่น้ำหรือชายฝั่งทะเลที่อุดมสมบูรณ์ด้วยพืชและสัตว์ จะมีประชาชนเข้าไปตั้งถิ่นฐานและประกอบอาชีพทางการเกษตรกรรมประมง เป็นต้น

3. การพัฒนาทางเศรษฐกิจ จำเป็นต้องใช้ทรัพยากรธรรมชาติ

4. ความก้าวหน้าทางเทคโนโลยี การประดิษฐ์เครื่องมือ เครื่องใช้ เครื่องจักร เครื่องผ่อนแรง ต้องอาศัยทรัพยากรธรรมชาติ

5. การรักษาสมดุลธรรมชาติ ทรัพยากรธรรมชาติเป็นปัจจัยในการรักษาสมดุลธรรมชาติ

### กิจกรรมของมนุษย์ที่ส่งผลกระทบต่อสิ่งแวดล้อมและทรัพยากรธรรมชาติ ได้แก่

1. กิจกรรมทางด้านอุตสาหกรรม โดยไม่มีการคำนึงถึงสิ่งแวดล้อม มีการใช้ทรัพยากรธรรมชาติมากมาย และก่อให้เกิดมลพิษ ต่อสิ่งแวดล้อมเช่น อุตสาหกรรมเหมืองแร่ มีการเปิดหน้าดิน ก่อให้เกิดปัญหาการชะล้างพังทลายของดิน และปัญหาน้ำทิ้ง จากเหมืองลงสู่แหล่งน้ำ ก่อให้เกิดมลพิษทางน้ำ
2. กิจกรรมทางการเกษตร เช่น มีการใช้ยาฆ่าแมลงเพื่อเพิ่มผลผลิต ส่งผลให้เกิดอันตรายต่อสิ่งแวดล้อม และสุขภาพอนามัยของมนุษย์เนื่องจากการสะสมสารพิษ ไว้ในร่างกายของสิ่งมีชีวิต และสิ่งแวดล้อม ก่อให้เกิดอันตรายในระยะยาวและเกิดความสูญเสีย ทางด้านเศรษฐกิจ เนื่องจากการเจ็บป่วยของประชาชน และคุณภาพสิ่งแวดล้อมที่แย่ลง
3. กิจกรรมการบริโภคของมนุษย์ ส่งผลให้มีการใช้ทรัพยากรอย่างฟุ่มเฟือย ขาดการคำนึงถึงสิ่งแวดล้อม ก่อให้เกิดปัญหาสิ่งแวดล้อมตามมา เช่น ปริมาณขยะที่มากขึ้นจากการบริโภคของเรานี้ที่มากขึ้น ซึ่งยากต่อการกำจัด โดยเกิดจากการใช้ทรัพยากร อย่างไม่คุ้มค่า ทำให้ปริมาณทรัพยากรธรรมชาติ ลดน้อยลง เป็นต้น

### เรื่องที่ 3 ปรากฏการณ์ทางธรณีวิทยาที่มีผลกระทบต่อชีวิตและสิ่งแวดล้อม

#### ละอู

"ละอู" เป็นภาษาเขมร แปลว่า "ทะเล" เป็นปรากฏการณ์ทางธรรมชาติแต่มีพื้นที่กว้างกว่า 2,000 ไร่ ละอู เกิดจากน้ำฝนกัดเซาะ ยุบตัวหรือพังทลายของดิน เนื่องจากสภาพดินแข็งจะคงอยู่ไม่ยุบตัวเมื่อถูกลม กัดกร่อนจึงมีลักษณะเป็น รูปต่าง ๆ มองคล้ายกำแพงเมือง หน้าผา บ้างมีลักษณะเป็นแท่ง ๆ จึงทำให้ละอู มีความสวยงามและแปลกตาแตกต่างกันตามจินตนาการของแต่ละคน ซึ่งในทุก ๆ ปี ละอูจะเปลี่ยนรูปร่างของมัน ไปเรื่อย ๆ ตามแต่ลมและฝนที่ช่วยกันตบแต่งชั้นดิน และในบางพื้นที่ก็จะมีละอูที่ขึ้นอยู่กลางพื้นที่ ทำนาของชาวบ้านซึ่งสีน้ำตาลทองของละอู ตัดกับสีเขียวสดของต้นข้าว เป็นสิ่งที่สวยงามมาก ที่หาดูไม่ได้ ในกรุงเทพฯสวยงามได้รับขนานนามว่าเป็น แกรนแคนยอนของเมืองไทย เลขที่เดียว "ละอู" ที่จังหวัดสระแก้ว นี้จะมีลักษณะคล้ายกับ "แพะเมืองผี" ของจังหวัดแพร่ หรือ "เสาหินนาน้อย" (ฮ่อมจ้อม) จ.น่าน บางคนก็จะเรียกว่า "แพะเมืองผีแห่งใหม่" แต่ที่นี่จะมีละอูเยอะกว่าซึ่งจะมีละอู กระจายกันอยู่เป็นจุด ๆ ในพื้นที่ ประมาณ 2,000 ไร่ โดยจะแบ่งละอูออกเป็น โชน ๆ ซึ่งแต่ละ โชนก็จะมีละอูที่มีลักษณะสวยงามแตกต่างกัน สำหรับความเหมือนกันของ ละอู แพะเมืองผี และเสาหินนาน้อยก็คือ ทั้ง 3 แห่งล้วนเป็นปรากฏการณ์ ธรรมชาติที่เกิดจากการเปลี่ยนแปลงของเปลือกโลกจากการ ถล่มของหน้าดิน ส่วนที่แข็งแกร่งก็จะคงตัวอยู่ ด้านบน ทำหน้าที่เป็นค้ำหมวกเหล็กคุ้มกันชั้น กรวดทรายที่อ่อนกว่าด้านล่าง โดยมีลมและฝนช่วยกันทำ หน้าทีลป็นตบแต่งชั้นดินในเวลาสั้น ๆ ปี แปลกตาแตกต่างกันไป ไม่ว่าจะป็นรูปเจดีย์ ปราสาท ดอกเห็ด กำแพง หรือรูปอะไรก็สุดแท้ แต่ว่าคนที่มองจะจินตนาการ



ภาพลະลู่ อำเภอตาพระยา จังหวัดสระแก้ว

### ทฤษฎีการเคลื่อนที่ของแผ่นเปลือกโลก

นักวิทยาศาสตร์ได้พยายามศึกษาและรวบรวมข้อมูล เพื่อสรุปเป็นทฤษฎีอธิบายสาเหตุการเกิดของแผ่นดินไหว ในปัจจุบันทฤษฎีการเคลื่อนที่ของแผ่นเปลือกโลก (Plate Tectonics Theory) ได้รับความยอมรับมากที่สุด ทฤษฎีนี้พัฒนามาจากทฤษฎีว่าด้วยทวีปเลื่อน (Theory of Continental Drift) ของอัลเฟรด โลทาร์ เวเกเนอร์ (Alfred Lothar Wegener พ.ศ. 2423 - 2473 นักวิทยาศาสตร์ ชาวเยอรมัน) ซึ่งเสนอไว้เมื่อ พ.ศ. 2455 ต่อมา แฮร์รี แฮมมอนด์ เฮสส์ (Harry Hammond Hess พ.ศ. 2449 - 2512 นักธรณีวิทยา ชาวอเมริกัน) ได้เสนอแนวคิด ที่พัฒนาใหม่นี้ในทศวรรษ 2500

ทฤษฎีการเคลื่อนที่ของแผ่นเปลือกโลก ได้อธิบายว่า ปรากฏการณ์แผ่นดินไหวเกิดจากการเคลื่อนที่ของแผ่นเปลือกโลกเป็นลำดับขั้นตอน ดังนี้ เมื่อโลกแยกตัวจากดวงอาทิตย์มีสภาพเป็นกลุ่มก๊าซร้อน ต่อมาเย็นตัวลงเป็นของเหลวร้อน แต่เนื่องจากบริเวณ ผิวเย็นตัวลงได้เร็วกว่าจึงแข็งตัวก่อน ส่วนกลางของโลกยังคงประกอบด้วยของธาตุหนักหลอมเหลว ในทางธรณีวิทยา ได้แบ่งโครงสร้างของโลกออกเป็น 3 ส่วนใหญ่ๆ เรียกว่า เปลือกโลก (crust) เนื้อโลก (mantle) และแก่นโลก (core) เปลือกโลกเป็นส่วนที่เป็นของแข็งและเปราะ ห่อหุ้มอยู่ชั้นนอกสุด ของโลก จนถึงระดับความลึกประมาณ 50 กิโลเมตร เรียกอีกอย่างหนึ่งว่า ธรณีภาคชั้นนอก หรือลิโทสเฟียร์ (Lithosphere) ใต้ชั้นนี้ลงไปเป็นส่วนบนสุดของชั้นเนื้อโลก เรียกว่า ฐานธรณีภาค หรือแอสเทโนสเฟียร์ (asthenosphere) มีลักษณะเป็นหินละลายหลอมเหลวที่เรียกว่า หินหนืด (magma) มีความอ่อนตัวและยืดหยุ่นได้ อยู่ลึกจากผิวโลกลงไป 100 - 350 กิโลเมตร ใต้จากฐานธรณีภาคลงไป ยังคงเป็นส่วนที่เป็นเนื้อ โลกอยู่ จนกระทั่งถึงระดับความลึกประมาณ 2,900 กิโลเมตรจากผิวโลก จึงเปลี่ยน เป็นชั้นแก่นโลก ซึ่งแบ่งเป็น 2 ชั้นย่อย คือ แก่นโลกชั้นนอก และแก่นโลกชั้นใน โดยแก่นโลกชั้นในนั้นจะอยู่ลึกสุดจนถึงจุด ศูนย์กลางของโลก ที่ระดับความลึก 6,370 กิโลเมตร จากผิวโลกการเกิดแผ่นดินไหวนั้น ส่วนใหญ่จำกัดอยู่เฉพาะที่ชั้นของเปลือกโลก โดยที่เปลือกโลกไม่ได้เป็นชั้นเดียวกันทั้งหมด เนื่องจากว่าเมื่อของเหลวที่ร้อนจัดปะทะชั้นแผ่นเปลือกโลก ก็จะดันตัวออกมา แนวรอยแยกของ



แผ่นเปลือกโลกจึงเป็นแนวที่เปราะบางและเกิดเหตุการณ์แผ่นดินไหว และ ภูเขาไฟระเบิดมาก จากการบันทึกประวัติปรากฏการณ์แผ่นดินไหว ทำให้สามารถประมาณการแบ่งของแผ่นเปลือกโลกได้เป็น 15 แผ่นคือ

- แผ่นยูเรเชีย (Eurasian Plate)
- แผ่นแปซิฟิก (Pacific Plate)
- แผ่นออสเตรเลีย (Australian Plate)
- แผ่นฟิลิปปินส์ (Philippines Plate)
- แผ่นอเมริกาเหนือ (North American Plate)
- แผ่นอเมริกาใต้ (South American Plate)
- แผ่นสโกเชีย (Scotia Plate)
- แผ่นแอฟริกา (African Plate)
- แผ่นแอนตาร์กติก (Antarctic Plate)
- แผ่นนัสคา (Nazca Plate)
- แผ่นโคโคส (Cocos Plate)
- แผ่นแคริบเบียน (Caribbean Plate)
- แผ่นอินเดีย (Indian Plate)
- แผ่นฮวนเฟูกา (Juan de Fuca Plate)
- แผ่นอาหรับ (Arabian Plate)

แผ่นเปลือกโลกที่กล่าวมาแล้วไม่ได้อยู่นิ่ง แต่มีการเคลื่อนที่คล้ายการเคลื่อนย้ายวัตถุบนสายพานลำเลียงสิ่งของ จากผลการสำรวจท้องมหาสมุทรในช่วงทศวรรษ 2490 พบว่า มีแนวสันเขากลางมหาสมุทรรอบโลก (Global Mid Ocean Ridge) ซึ่งมีความยาวกว่า 50,000 กิโลเมตร กว้างกว่า 800 กิโลเมตร จากการศึกษาทางด้านธรณีวิทยา พบว่า หินบริเวณสันเขาเป็นหินใหม่ มีอายุน้อยกว่าหินที่อยู่ในแนวถัดออกมา จึงได้มีการตั้งทฤษฎีว่า แนวสันเขากลางมหาสมุทรนี้คือ รอยแตกกึ่งกลางมหาสมุทร รอยแตกนี้เป็นรอยแตกของแผ่นเปลือกโลก ซึ่งถูกแรงดันจากหินหนืดภายในเปลือกโลกดันออกจากกันทีละน้อย รอยแยกของแผ่นเปลือกโลกที่กล่าวมาแล้ว ทำให้เกิดการเคลื่อนที่ของแผ่นเปลือกโลกต่าง ๆ

การเคลื่อนที่ของแผ่นเปลือกโลกทำให้เกิดแผ่นดินไหวตามรอยต่อของแผ่นต่าง ๆ โดยสรุปแล้ว การเคลื่อนไหวระหว่างกันของเปลือกโลกมี 3 ลักษณะ ได้แก่ (1) บริเวณที่แผ่นเปลือกโลกแยกออกจากกัน (Divergence Zone) (2) บริเวณที่แผ่นเปลือกโลกชนกัน (Convergence Zone) และ (3) บริเวณที่แผ่นเปลือกโลกเคลื่อนที่พาดผ่านกัน (Transform or Fracture Zone)



### บริเวณที่แผ่นเปลือกโลกแยกออกจากกัน

ตัวอย่างที่เห็น ได้ชัด ได้แก่ การแยกตัวของสันเขากลางมหาสมุทรแอตแลนติก (Mid Atlantic Ridge) สันเขานี้เป็นส่วนหนึ่งของสันเขากลางมหาสมุทรรอบโลก มีแนวเริ่มต้นจากมหาสมุทรอาร์กติกลงมายังปลายทวีปแอฟริกา มีผลทำให้แผ่นอเมริกาเหนือเคลื่อนที่แยกออกจากแผ่นยูเรเชีย และแผ่นอเมริกาใต้เคลื่อนที่แยกออกจากแผ่นแอฟริกา ความเร็วของการเคลื่อนที่อยู่ระหว่าง 2-3 เซนติเมตรต่อปี ตัวอย่างของการเคลื่อนที่จะเห็น ได้จากการแยกตัวของแผ่นดินบริเวณภูเขาไฟคราฟลา (Krafla Volcano) ทางตะวันออกเฉียงเหนือของเกาะไอซ์แลนด์ แผ่นดินไหวที่เกิดขึ้นจากเหตุการณ์นี้จะมีลักษณะตื้นและมีทิศทางตามแนวแกนของการเคลื่อนที่ แผ่นดินไหวที่เกิดจากการแยกตัวนี้จะมีขนาดไม่เกิน 8 ตามมาตราริกเตอร์

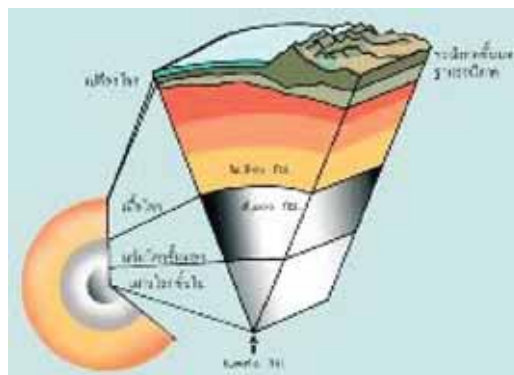
### บริเวณที่แผ่นเปลือกโลกชนกัน

เมื่อแผ่นเปลือกโลกแผ่นหนึ่งมุดตัวลงใต้อีกแผ่นหนึ่ง บริเวณที่แผ่นเปลือกโลกมุดตัวลง (Subduction Zone) จะเกิดร่องน้ำลึกและภูเขาไฟ แผ่นดินไหวอาจเกิดขึ้นที่ความลึกต่างกัน ได้ตั้งแต่ความลึกใกล้ผิวโลกจนถึงความลึกลงไปหลายร้อยกิโลเมตร (อาจลึกถึง 700 กิโลเมตร) การเคลื่อนที่แบบนี้จะก่อให้เกิดแผ่นดินไหวรุนแรงมากที่สุด โดยมีขนาดเกิน 9 ตามมาตราริกเตอร์ ตัวอย่างเช่น การเกิดแผ่นดินไหวในมลรัฐอะแลสกา ประเทศสหรัฐอเมริกา เกิดจากแผ่นแปซิฟิกชนกับแผ่นอเมริกาเหนือ และแผ่นดินไหวที่ประเทศชิลี เกิดจากแผ่นนัซกาชนและจมลงใต้แผ่นอเมริกาใต้

### บริเวณที่แผ่นเปลือกโลกเคลื่อนที่พาดผ่านกัน

แผ่นดินไหวที่เกิดขึ้นจะตื้น (อยู่ที่ความลึกประมาณ 25 กิโลเมตร) ขนาดไม่เกิน 8.5 ตามมาตราริกเตอร์ ตัวอย่างของแผ่นดินไหวประเภทนี้ได้แก่ แผ่นแปซิฟิก เคลื่อนที่พาดผ่านแผ่นอเมริกาเหนือ ทำให้เกิดรอยเลื่อนที่สำคัญคือ รอยเลื่อนแซนแอนเดรียส (San Andreas Fault) ในมลรัฐแคลิฟอร์เนีย ประเทศสหรัฐอเมริกา ที่รอยเลื่อนประเภทนี้ แผ่นผิวโลกจะเคลื่อนที่ผ่านกันในแนวราบ แต่มีการจมตัวหรือยกตัวสูงขึ้นน้อยกว่าการเคลื่อนที่ใน 2 ลักษณะแรก

การเกิดแผ่นดินไหวอาจเกิดจากการเคลื่อนตัวของแผ่นเปลือกโลกทั้ง 3 ลักษณะรวมกันก็ได้ ตัวอย่างเช่น แผ่นดินไหวที่มลรัฐเนวาดา ประเทศสหรัฐอเมริกา



ภาพแสดงโครงสร้างของโลก



ภาพแสดงการแบ่งแผ่นเปลือกโลก

### คลื่นแผ่นดินไหวคืออะไร

ขณะที่แผ่นเปลือกโลกยึดติดกันอยู่ แรงดันของของเหลวภายใต้แผ่นเปลือกโลกจะทำให้รอยต่อเกิดแรงเค้น (Stress) เปรียบเทียบได้กับการตัดไม้ ซึ่งไม้จะคดงอและสะสมแรงเค้นไปเรื่อย ๆ จนแรงเค้นเกินจุดแตกหัก ไม้ก็จะหักออกจากกัน ในทำนองเดียวกัน เมื่อเปลือกโลกสะสมแรงเค้นถึงจุดแตกหัก เปลือกโลกจะเคลื่อนที่สัมผัสกัน พร้อมทั้งปลดปล่อยพลังงานออกมา ทำให้เกิดการเปลี่ยนแปลงรูปร่างของเปลือกโลกและเกิดแรงสั่นสะเทือนเป็นคลื่นแผ่นดินไหว ซึ่งคนเราสามารถรู้สึกได้ และสร้างความเสียหายแก่สิ่งก่อสร้างทั่วไป การส่งผ่านพลังงานที่เปลือกโลกปลดปล่อยจากจุดหนึ่งไปยังจุดหนึ่ง เกิดจากการเคลื่อนตัวของอนุภาคของดิน การเคลื่อนตัวของอนุภาคของดินดังที่กล่าวมานี้จะมีลักษณะ คล้ายคลื่น จึงเรียกว่า คลื่นแผ่นดินไหว คลื่นแผ่นดินไหวมี 2 ประเภท คือ

**ประเภทแรก** เป็นคลื่นที่เกิดจากการอัดตัวที่เรียกว่า คลื่นอัดตัว (Compressional Wave) หรือ คลื่นปฐมภูมิ (Primary Wave : P - Wave) หากเรามองที่อนุภาคของดิน ณ จุดใดจุดหนึ่ง เมื่อแผ่นเปลือกโลกเคลื่อนที่เกิดแรงอัดขึ้น ทำให้อนุภาคของดินถูกอัดเข้าหากันอย่างรวดเร็ว การอัดตัวอย่างรวดเร็ว ของอนุภาคดินก่อให้เกิดแรงปฏิกิริยาภายใน ต่อต้านการหดตัว แรงปฏิกิริยานี้จะทำให้ดินขยายตัวออกอย่างรวดเร็ว ผ่านจุดที่เป็นสภาวะเดิม การขยายตัวของอนุภาคดินนี้ก็จะทำให้เกิดแรงอัดในอนุภาคถัดไป ทำให้เกิดปฏิกิริยาต่อเนื่องเป็นลูกโซ่ และแผ่รัศมีออกโดยรอบ คลื่นนี้จะเคลื่อนที่ด้วยความเร็ว 1.5 - 8 กิโลเมตร/วินาที

**ประเภทที่ 2** เป็นคลื่นที่เกิดจากการเปลี่ยนรูปร่างของอนุภาคแบบเฉือน เรียกว่า คลื่นเฉือน (Shear Wave หรือ คลื่นทุติยภูมิ (Secondary Wave : S - Wave) เช่นเดียวกับแรงอัดเมื่อแผ่นเปลือกโลกเคลื่อนที่ นอกจากแรงอัดแล้ว ยังเกิดแรงที่ทำให้อนุภาคของดิน เปลี่ยนรูปร่าง การเปลี่ยนรูปร่างของอนุภาคดินก่อให้เกิดแรงปฏิกิริยาภายในต่อต้านการเปลี่ยนรูปร่าง ซึ่งทำให้เกิดการเคลื่อนที่เป็นคลื่นแผ่รัศมีออกโดยรอบ คลื่นนี้จะเคลื่อนที่ด้วยความเร็วประมาณร้อยละ 60 - 70 ของคลื่นอัดตัว

โดยธรรมชาติคลื่นอัดตัวจะทำให้เกิดการสั่นสะเทือนในทิศทางเดียวกันกับที่คลื่น เคลื่อนที่ไป ส่วนคลื่นเฉือนจะทำให้พื้นดินสั่นสะเทือนในทิศทางตั้งฉากกับทิศทางการเคลื่อนที่ของคลื่น ถึงแม้ว่าความเร็วของคลื่นแผ่นดินไหวจะต่างกันมากถึง 10 เท่า แต่อัตราส่วนระหว่างความเร็วของคลื่นอัดตัว

กับความเร็วของคลื่นเนื้อก่อนข้างคงที่ ฉะนั้น นักวิทยาศาสตร์ด้านแผ่นดินไหวจึงสามารถคำนวณหาระยะทางถึงจุดศูนย์กลางของแผ่นดินไหวได้ โดยเอาเวลาที่คลื่นเนื้อมาถึง ลบด้วยเวลาที่คลื่นอัดตัวมาถึง (เวลาเป็นวินาที) คูณด้วยแฟกเตอร์ 8 จะได้ระยะทางโดยประมาณเป็นกิโลเมตร

$$(S - P) \times 8$$

S คือ เวลาที่คลื่นเนื้อเคลื่อนที่มาถึง

P คือ เวลาที่คลื่นอัดตัวเคลื่อนที่มาถึง

คลื่นแผ่นดินไหวจะเคลื่อนที่ไปรอบโลก ฉะนั้น หากเรามีเครื่องมือที่ละเอียดเพียงพอ ก็สามารถวัดการเกิดแผ่นดินไหว จากที่ไหนก็ได้บนโลก หลักการนี้ได้นำมาใช้ในการตรวจจับเรื่องการทดลองอาวุธปรมาณู เทคโนโลยีที่มีอยู่ในปัจจุบันสามารถตรวจจับ การระเบิดของอาวุธปรมาณู ที่ก่อให้เกิดการสั่นสะเทือนเทียบเท่ากับแผ่นดินไหวขนาด 3.5 ตามมาตราริกเตอร์

### เราใช้อะไรวัดขนาดของแผ่นดินไหว

ขนาดของแผ่นดินไหวสามารถวัดได้ด้วยเครื่องวัดความไหวสะเทือน (Seismograph) หลักการโดยสังเขปของเครื่องมือคือ มีตัวโครงยึดติดกับพื้นดิน เมื่อแผ่นดินมีการเคลื่อนที่ กระดาษกราฟที่ติดอยู่กับโครงจะเคลื่อนที่ตามแผ่นดิน แต่ลูกตุ้มซึ่งมีความเฉื่อยจะไม่เคลื่อนที่ตาม ปากกาที่ผูกติดกับลูกตุ้มก็จะเขียนกราฟลงบนกระดาษ และในขณะเดียวกัน กระดาษก็จะหมุนไปด้วยความเร็วคงที่ ทำให้ได้กราฟแสดงความสัมพันธ์ของขนาดการเคลื่อนที่ของแผ่นดินต่อหน่วยเวลา การวัดแผ่นดินไวนิยมวัดอยู่ 2 แบบ ได้แก่ การวัดขนาด (magnitude) และการวัดความรุนแรง (intensity) การวัดขนาดเป็นการวัดกำลังหรือพลังงานที่ปลดปล่อยในการเกิดแผ่นดินไหว ส่วนการวัดความรุนแรงเป็นการวัดผลกระทบของแผ่นดินไหว ณ จุดใดจุดหนึ่งที่มีต่อคน โครงสร้างอาคาร และพื้นดิน มาตรวัดแผ่นดินไวมียูหลายมาตรา ในที่นี้จะกล่าวถึงเฉพาะที่นิยมใช้ทั่วไป 3 มาตร ได้แก่ มาตราริกเตอร์ มาตรวัดขนาดโมเมนต์ และมาตราความรุนแรงเมอร์คัลลี

**ก. มาตราริกเตอร์** มาตราริกเตอร์วัดขนาดแผ่นดินไหวที่ได้รับความนิยมมากที่สุดในขณะนี้ ได้แก่ มาตราริกเตอร์ ซึ่งเสนอโดย ชาลส์ เอฟ. ริกเตอร์ (Charles F. Richter นักวิทยาศาสตร์ด้านแผ่นดินไหวชาวอเมริกัน) ใน พ.ศ. 2478 ริกเตอร์ ค้นพบว่า การวัดค่าแผ่นดินไหวที่ดีที่สุด ได้แก่ การวัดพลังงานจลน์ที่เกิดขึ้นในขณะเกิดแผ่นดินไหว ริกเตอร์ได้บันทึกคลื่นแผ่นดินไหวจากเหตุการณ์แผ่นดินไหวจำนวนมาก งานวิจัยของริกเตอร์แสดงให้เห็นว่า พลังงานแผ่นดินไหวที่สูงกว่าจะทำให้เกิดความสูงคลื่น (amplitude) ที่สูงกว่า เมื่อระยะทางห่างจากจุดที่เกิดแผ่นดินไหวเท่ากัน ริกเตอร์ ได้หาความสัมพันธ์ทางคณิตศาสตร์ระหว่างพลังงานกับความสูงคลื่น และปรับแก้ด้วยระยะทางจากศูนย์กลางการเกิดแผ่นดินไหว

$$ML = \log A + D$$

ML ขนาดของแผ่นดินไหว

A ความสูงคลื่นหน่วยเป็นมิลลิเมตร

D ตัวแปรปรับแก้ระยะทางจากศูนย์กลางแผ่นดินไหว ขึ้นอยู่กับสถานที่เกิดแผ่นดินไหว

**ข. มาตรฐานขนาดโมเมนต์** การวัดขนาด ด้วยมาตราริกเตอร์เป็นที่รู้จักกันอย่างแพร่หลาย แต่วิธีการของริกเตอร์ยังไม่แม่นยำนักในเชิงวิทยาศาสตร์ เมื่อมีสถานีตรวจวัดคลื่นแผ่นดินไหวมากขึ้นทั่วโลก ข้อมูลที่ได้แสดงว่า วิธีการของริกเตอร์ใช้ได้เฉพาะในช่วงความถี่และระยะทางหนึ่งเท่านั้น ใน พ.ศ. 2520 ฮิโร คะนะ โมะริ (Hiroo Kanamori นักธรณีฟิสิกส์ ชาวญี่ปุ่น) ได้เสนอวิธีวัดพลังงานโดยตรงจากการวัดการเคลื่อนที่ของรอยเลื่อน มาตรฐานการวัดขนาดของคะนะ โมะริ เรียกว่า มาตรฐานขนาดโมเมนต์ (Moment Magnitude Scale)

**ค. มาตรฐานความรุนแรงเมอร์คัลลี** นอกจากการวัดขนาดแผ่นดินไหว บางครั้งนักธรณีวิทยาใช้ มาตรฐานความรุนแรง (Intensity) เพื่ออธิบายผลกระทบที่แตกต่างกันของแผ่นดินไหว มาตรฐานความรุนแรงที่นิยมใช้กัน ได้แก่ มาตรฐานความรุนแรงเมอร์คัลลี (Mercalli Intensity Scale) ซึ่งมาตรฐานความรุนแรงเมอร์คัลลี กำหนดขึ้นครั้งแรกโดย กวีเซปเป เมอร์คัลลี (Giuseppe Mercalli) ชาวอิตาลี นักวิทยาศาสตร์ ด้านแผ่นดินไหวและภูเขาไฟ ใน พ.ศ. 2445 และต่อมาปรับปรุงโดยแฮร์รี วูด (Harry Wood) นักวิทยาศาสตร์ ด้านแผ่นดินไหว ชาวอเมริกัน และแฟรงค์ นิวแมนน์ (Frank Neumann) นักวิทยาศาสตร์ด้านแผ่นดินไหว ชาวอเมริกัน ใน พ.ศ. 2474 มาตรฐานความรุนแรงเมอร์คัลลีจัดลำดับขึ้นความรุนแรงตามเลขโรมันจาก I-XII

### แผ่นดินถล่ม (land slides)

แผ่นดินถล่มเป็นปรากฏการณ์ธรรมชาติของการสึกกร่อนชนิดหนึ่ง ที่ก่อให้เกิดความเสียหายต่อ บริเวณพื้นที่ที่เป็นเนินสูงหรือภูเขาที่มีความลาดชันมาก เนื่องจากขาดความสมดุลในการทรงตัวบริเวณดังกล่าว ทำให้เกิดการปรับตัวของพื้นดินต่อแรงดึงดูดของโลกและเกิดการเคลื่อนตัวขององค์ประกอบ ธรณีวิทยาบริเวณนั้นจากที่สูงลงสู่ที่ต่ำ แผ่นดินถล่มมักเกิดในกรณีที่มีฝนตกหนักมากบริเวณภูเขาและภูเขานั้นอุ้มน้ำไว้จนเกิดการอึดตัว จนทำให้เกิดการพังทลาย

### ประเภทของแผ่นดินถล่ม

แบ่งตามลักษณะการเคลื่อนตัวได้ 3 ชนิดคือ

1. แผ่นดินถล่มที่เคลื่อนตัวอย่างช้าๆ เรียกว่า Creep เช่น Surficial Creep
2. แผ่นดินถล่มที่เคลื่อนตัวอย่างรวดเร็วเรียกว่า Slide หรือ Flow เช่น Surficial Slide
3. แผ่นดินถล่มที่เคลื่อนตัวอย่างฉับพลัน เรียกว่า Fall Rock Fall

นอกจากนี้ยังสามารถแบ่งออกได้ตามลักษณะของวัสดุที่ร่วงหล่นลงมาได้ 3 ชนิด คือ

- แผ่นดินถล่มที่เกิดจากการเคลื่อนตัวของผิวน้ำดินของภูเขา
- แผ่นดินถล่มที่เกิดจากการเคลื่อนที่ของวัตถุที่ยังไม่แข็งตัว
- แผ่นดินถล่มที่เกิดจากการเคลื่อนตัวของชั้นหิน

## แผ่นดินถล่มในประเทศไทย

แผ่นดินถล่มในประเทศไทย ส่วนใหญ่มักเกิดภายหลังฝนตกหนักมากบริเวณภูเขาซึ่งเป็นต้นน้ำลำธาร บริเวณตอนบนของประเทศ โดยเฉพาะในภาคเหนือและภาคตะวันออกเฉียงเหนือ มีโอกาสเกิดแผ่นดินถล่มเนื่องมาจากพายุหมุนเขตร้อนเคลื่อนผ่านในระหว่างเดือนกรกฎาคมถึงสิงหาคม ในขณะที่ภาคใต้จะเกิดในช่วงฤดูมรสุมตะวันออกเฉียงเหนือ ระหว่างเดือนพฤศจิกายนถึงธันวาคม

### ปัจจัยที่ส่งเสริมความรุนแรงของแผ่นดินถล่ม

1. ปริมาณฝนที่ตกบนภูเขา
2. ความลาดชันของภูเขา
3. ความสมบูรณ์ของป่าไม้
4. ลักษณะทางธรณีวิทยาของภูเขา

### ลำดับเหตุการณ์ของการเกิดแผ่นดินถล่ม

เมื่อฝนตกหนักน้ำซึมลงไปดินอย่างรวดเร็ว ในขณะที่ดิน อิ่มน้ำ แรงยึดเกาะระหว่างมวลดินจะลดลง ระดับน้ำใต้ผิวดินสูงขึ้นจะทำให้แรงต้านทานการเลื่อนไถล ของดินลดลง เมื่อน้ำใต้ผิวดินมีระดับสูงก็จะไหลภายในช่องว่างของดิน ลงตามความชันของลาดเขา เมื่อมีการเปลี่ยนความชัน ก็จะเกิดเป็นน้ำผุด และเป็นจุดแรกที่มีการเลื่อนไถลของดิน เมื่อเกิดดินเลื่อนไถลแล้วก็จะเกิดต่อเนื่องขึ้นไปตามลาดเขา

### ปัจจัยสำคัญที่เป็นสาเหตุของการเกิดแผ่นดินถล่ม

- ลักษณะของดินที่เกิดจากการผุพังของหินบนลาดเขา
- ลาดเขาที่มีความลาดชันมาก (มากกว่า 30 เปอร์เซ็นต์)
- มีการเปลี่ยนแปลงสภาพป่า

## เรื่องที่ 4 ปัญหาและผลกระทบของระบบนิเวศและสภาพสิ่งแวดล้อมในชุมชนท้องถิ่นประเทศและโลก

ในปัจจุบันนี้สภาพปัญหาความอ่อนแอของระบบนิเวศของเมืองต่าง ๆ ในประเทศไทย ซึ่งเป็นผลพวงด้านหนึ่งจากการเติบโตของเมืองที่ไร้ระเบียบ และอีกด้านหนึ่งเกิดจากการพัฒนาเศรษฐกิจในอดีตที่นำเทคโนโลยีสมัยใหม่มาใช้ในการจัดหาและใช้ทรัพยากรในกระบวนการผลิต และรูปแบบของการบริโภคที่ไม่เหมาะสม ทำให้ทรัพยากรอันจำกัดของประเทศและสิ่งแวดล้อมธรรมชาติถูกใช้สอย และทำลายจนเสื่อมทั้งสภาพ ปริมาณและคุณภาพ จนเกือบหมดศักยภาพและยากที่จะฟื้นฟูขึ้นมาใหม่ ซ้ำยังก่อให้เกิดมลพิษหลาย ๆ ด้านพร้อมกัน สภาพการณ์ดังกล่าวจะยังคงความรุนแรงและเป็นปัญหาเร่งด่วนที่ต้องรีบดำเนินการแก้ไขและพัฒนาอย่างเป็นระบบ เนื่องจากการเพิ่มขึ้นของประชากรในเขตเมือง จะยังคงเพิ่มทวีขึ้นอย่างต่อเนื่องแบบแผนตลอดจนกระบวนการผลิตและการบริโภคที่ไม่เหมาะสมดั้งเดิมยังไม่อาจปรับเปลี่ยนแก้ไขได้โดยทันทีในระยะเวลาสั้น ๆ และประการที่สำคัญมาก คือ หากไม่รีบเร่งดำเนินการใด ๆ สภาพของระบบนิเวศที่เปราะบางในลักษณะที่เป็นอยู่ดังกล่าว โดยเฉพาะจากสาเหตุของการแพร่กระจาย

ของมลพิษ ทั้งมลพิษทางน้ำทางอากาศ ทางเสียงจากสารเคมี ของเสีย อันตรายต่าง ๆ และจากความสัมพันธ์กำลังกลายเป็นข้อจำกัดของการพัฒนาเมืองที่น่าอยู่อย่างยั่งยืน ทั้งทางด้านเศรษฐกิจ สังคม และกายภาพที่เป็นผลต่อสุขอนามัยของประชาชน

พอจะมีตัวอย่างที่ได้จากการศึกษาสภาวะด้านสิ่งแวดล้อมของเมืองหลายเมืองที่กำลังเติบโตที่ชี้ให้เห็นว่าการปล่อยมลพิษลดความเอาใจใส่ดูแลและปล่อยให้เกิดความขาดแคลนสาธารณูปโภคของเมือง หรือการขาดความเอาใจใส่ในการบำรุง รักษาระบบน้ำประปา และการสุขาภิบาล อันเป็นสิ่งจำเป็นต่อการดำรงชีพอย่างถูกสุขลักษณะของประชากรเมืองได้สร้างความเสียหายอย่างใหญ่หลวงต่อเศรษฐกิจได้เมื่อเกิดโรคระบาดร้ายแรง เช่น การระบาดของอหิวาตกโรคที่เกิดขึ้นในประเทศกลุ่มลาตินอเมริกาในช่วงปี ค.ศ. 1991 เป็นต้น ยังมีตัวอย่างที่แสดงให้เห็นว่า การเสื่อมโทรมของสภาพแวดล้อมของเมืองมีผลกระทบโดยตรงต่อสุขภาพของประชากรที่สามารถอ้างอิงได้อีกมาก จนรัฐบาลของหลายประเทศต้องหันมาให้ความสนใจตระหนักกับปัญหาของสภาวะแวดล้อม โดยเฉพาะของเมืองอย่างจริงจัง เพราะเหตุการณ์ความสูญเสียที่เกิดขึ้นในเมืองอื่นย่อมมีโอกาสเกิดขึ้นในเมืองของทุก ๆ ประเทศได้เช่นกัน ในทศวรรษที่ 21

ประเทศไทย (เช่นเดียวกับหลาย ๆ ประเทศ) กำลังเริ่มให้ความสำคัญกับแนวทางการพัฒนาเมืองแนวใหม่ คือ การพัฒนาเมืองที่น่าอยู่อย่างยั่งยืน อันเป็นแนว นโยบายเชิงยุทธศาสตร์ที่มีความสำคัญยิ่งต่อการพัฒนาพื้นที่เมือง เพราะการพัฒนาในแนวทางนี้จะต้องมีการดำเนินงานที่ประสานและสนับสนุนสอดคล้องซึ่งกันและกันในหลาย ๆ ด้าน และหลายสาขาพร้อม ๆ กันอย่างมีระบบเป็นเชิงองค์รวม (Holistic Approach) คือ เป็นกระบวนการพัฒนาที่มีการวางกรอบวิสัยทัศน์ และแนวทางพัฒนาที่สอดคล้องต้องกันทั้งในด้านประชากร ทรัพยากร สิ่งแวดล้อมตามธรรมชาติ และสภาพแวดล้อมอื่นๆ ทางกายภาพที่สร้างขึ้น (Built Environment) ทรัพยากรด้านศิลปะและวัฒนธรรม ความรู้ และวิทยาการสมัยใหม่ โดยเฉพาะการให้ความสำคัญกับการใช้ทรัพยากรธรรมชาติอย่างมีประสิทธิภาพ สนับสนุนกระบวนการฟื้นฟูและพัฒนาทรัพยากรที่สร้างทดแทนขึ้นใหม่ได้ และมีการอนุรักษ์สภาพแวดล้อมที่เหมาะสมเสริมสร้างจิตวิญญาณและคุณค่าของเมืองด้วยการให้ความสำคัญในด้านการดำรงรักษาฟื้นฟูศิลปะและวัฒนธรรมที่ดั้งเดิมที่เป็นเอกลักษณ์ของแต่ละท้องถิ่น และเปิดโอกาสให้ท้องถิ่นเข้าร่วมในขบวนการพัฒนาเพื่อยกระดับศักยภาพของตนเองเพื่อเป็นภูมิคุ้มกันแรงกดดันของการเปลี่ยนแปลงต่าง ๆ ที่เป็นผลของการจัดระเบียบใหม่ของโลกทางการค้าและเทคโนโลยี โดยมีกรอบกลยุทธ์เพื่อไปสู่ความเป็นเมืองที่น่าอยู่อย่างยั่งยืน ดังนี้

- มุ่งส่งเสริมการพัฒนาเมืองและชุมชนให้เป็นฐานของการพัฒนาอย่างยั่งยืน
- พื้นที่เมืองและชุมชนจะต้องเป็นสถานที่ ๆ คำนึงถึงความเชื่อมโยงระหว่างสิ่งแวดล้อม (ระบบนิเวศของเมือง) กับสุขภาพของประชาชน

- ใช้กลยุทธ์การพัฒนาแบบพหุภาคี ที่เปิดโอกาสให้กับการมีส่วนร่วมของประชาชนมากที่สุด

ดังตัวอย่างที่กล่าวถึงแล้วแต่ต้น การพัฒนาด้านกายภาพในพื้นที่ที่มีผลโดยตรงต่อสุขภาพของผู้อยู่อาศัย ดังนั้นในการกำหนดกรอบของการพัฒนา จึงควรคำนึงถึงวิธีการพัฒนาอย่างรอบคอบและสอดคล้องพอเพียงเนื่องจากสิ่งแวดล้อมที่มีการสร้างขึ้นในเมืองนั้น (Built - Environment) ประกอบขึ้นด้วยสิ่งแวดล้อมทั้ง



ภายนอกอาคารซึ่งหมายถึง พื้นที่นอกอาณาเขตของบ้านเรือน สิ่งปลูกสร้างอื่น สถานที่ประกอบการต่าง ๆ ในเขตหมู่บ้าน ชุมชน เมือง หรือชนบท และในสิ่งแวดล้อมภายในของบ้านเรือน และสิ่งปลูกสร้างอื่นที่ผู้คน เข้าใช้สอย และการใช้สอยนั้น อาจเป็นอันตรายต่อผู้ใช้เนื่องจากสิ่งแวดล้อมที่สร้างขึ้นนั้น ไม่เหมาะสมต่อการ ใช้งานปกติกลับกลายเป็นบ่อเกิดของเชื้อโรค โรคระบาด หรือเป็นสาเหตุที่ก่อให้เกิดการบาดเจ็บ หรือ แม้กระทั่งเป็นสาเหตุของการตายก่อนวัยอันสมควร ดังนั้นการสร้างสิ่งแวดล้อมขึ้นมา (Built – Environment) จึงต้องคำนึงถึงผลกระทบที่จะมีต่อสุขภาพของผู้ใช้งานภายใต้หลักที่ว่า “สิ่งแวดล้อมที่มนุษย์ สร้างขึ้นในชุมชน ไม่ว่าจะเป็นในอาคาร บ้านเรือน หรือในชุมชนระดับหมู่บ้านหรือในเมืองทุก ๆ ขนาดควร เป็นสิ่งแวดล้อมที่ปลอดภัยต่อการอยู่อาศัย ใช้งานเป็นที่ซึ่งภัยอันตรายจากสิ่งแวดล้อม ต้องมีโอกาสเกิดขึ้นได้ น้อยที่สุด และเป็นที่ยังไม่ควรเป็นต้นเหตุของการบาดเจ็บ การเจ็บไข้ได้ป่วยใด ๆ หรือเป็นสาเหตุของการ ตายก่อนวัยอันสมควร” ปัญหาที่เราจะทำให้เป็นไปตามความต้องการนี้ได้อย่างไร พบข้อสรุปที่สอดคล้อง ตรงกันกับหลักของเมืองที่มีสภาวะแวดล้อมที่เหมาะสมกับการอยู่อาศัยในลักษณะของเมืองนำอยู่นั้น มีการ จัดการด้านสิ่งแวดล้อมอย่างเหมาะสม มีประสิทธิภาพ สอดคล้องรองรับขนาดที่ขยายขึ้นของถิ่นฐานของ เมืองที่มีการขยายตัวของเศรษฐกิจเพิ่มมากขึ้น เป็นผลให้ต้องเพิ่มอุปสงค์ที่มีต่อทรัพยากรท้องถิ่น และนอก ท้องถิ่นเพราะการบริโภคที่เพิ่มขึ้นนี้ ต้องมีการจัดการอนุรักษ์รักษาทรัพยากรธรรมชาติที่มีอยู่อย่างจำกัด โดยเฉพาะอย่างยิ่งสำหรับทรัพยากรธรรมชาติบางอย่างที่ไม่อาจทดแทน ได้อย่างดีที่สุด และการจัดการกับ ของเสียที่ถูกขับถ่ายออกจากเมืองอย่างมีประสิทธิภาพ โดยมีงานหลักทั้ง 3 ประการที่เกี่ยวข้องกับการจัดการ ด้านสิ่งแวดล้อมของเมืองที่สำคัญ ได้แก่

1. การสงวนรักษาไว้ซึ่งทรัพยากรธรรมชาติหลัก โดยเฉพาะอย่างยิ่งการจัดการด้านน้ำ เพื่อให้ทุกคนได้รับน้ำสะอาดเพื่อการอุปโภคบริโภค และเพื่อการเพาะปลูกและแหล่งน้ำต่าง ๆ ได้รับการดูแลป้องกัน อย่างดีที่สุด
2. บรรดาของเสีย ขยะ ที่ขับถ่ายออกจากกิจกรรมของเมือง มีการขนถ่ายอย่างมีประสิทธิภาพ
3. ไม่ปล่อยให้มีการโยนภาระหรือต้นทุน ด้านสิ่งแวดล้อมที่เป็นภาระของบุคคลหรือธุรกิจ (ซึ่งเป็นต้นกำเนิดของมลภาวะนั้น) ให้กับผู้อื่น

### โลกาภิวัตน์และการเปลี่ยนแปลงระบบนิเวศเมือง

การจัดระเบียบใหม่ของเศรษฐกิจภายใต้เงื่อนไขข้อกำหนดของกระแสโลกาภิวัตน์ในช่วง 2 ทศวรรษที่ผ่านมา ได้มีอิทธิพลต่อกระแสการเลียนแบบแผนการลงทุน - การผลิตและการบริโภคจาก ต่างประเทศเป็นอย่างมาก การเอาอย่างที่ขาดความเข้าใจที่ถูกต้องนี้ ได้แผ่ขยาย และมีอิทธิพลเหนือ พฤติกรรมของชุมชนในท้องถิ่น สร้างความเชื่อมโยงทางด้านวัฒนธรรมในด้านการผลิตและในด้านการ บริโภคจากระดับท้องถิ่นกับระดับโลกที่เรียกความสัมพันธ์นี้ว่า Globalization ภายใต้ขบวนการนี้ การมุ่งเน้น ปรับปรุงให้ความสำคัญต่อการพัฒนาสภาพแวดล้อม ส่วนแนวคิดด้านการพัฒนาอย่างยั่งยืนที่มี ผลต่อการฟื้นฟูทางด้านของระบบนิเวศเมือง ทั้งทางด้านทรัพยากรและด้านสิ่งแวดล้อมตามธรรมชาติและ

ทางด้านสังคม - การเมือง เป็นเพียงเป้าหมายอันดับรอง พร้อม ๆ กับการเปลี่ยนแปลงอย่างมากมาย เพราะกระแสโลกาภิวัตน์นี้

ระบบนิเวศของเมืองก็เปลี่ยนแปลงเสื่อมสภาพลง แต่ในขณะเดียวกันการบริหารและการจัดการของท้องถิ่นส่วนใหญ่ยังไม่ดีสมรรถภาพและตามไม่ทันกับสถานการณ์ใหม่ ๆ ที่ปรับเปลี่ยนอย่างรวดเร็ว ผลตามมา คือ ปัญหาต่อการพัฒนาทางกายภาพของเมือง เช่น ปัญหาความขัดแย้งในการใช้ที่ดินสาธารณูปโภคและสาธารณูปการของเมืองไม่ทันและไม่พอเพียง การบำบัดของเสียไม่มีประสิทธิภาพ ชักนำปัญหาความเสื่อมโทรมของทรัพยากรธรรมชาติและสิ่งแวดล้อม ส่งผลกระทบต่อระบบนิเวศ และความสามารถในการพัฒนาอย่างยั่งยืนในอนาคตของเมืองและชุมชนชนบทต่าง ๆ ระบบนิเวศของเมืองตามความหมายที่เข้าใจกันอยู่หมายถึงการเกี่ยวข้องกับสัมพันธ์กัน ระหว่างสิ่งแวดล้อมที่สร้างขึ้น (Built Environment) กับผู้ใช้งานสิ่งแวดล้อมนั้น เราสามารถแบ่งสิ่งแวดล้อมนี้เป็น 2 กลุ่ม กลุ่มแรกคือ สิ่งแวดล้อมภายในอาคารและกลุ่มที่ 2 คือ สิ่งแวดล้อมนอกอาคาร และเฉพาะที่เกี่ยวกับปัญหาทางสุขภาพที่จะกล่าวถึงต่อไป

### อันตรายและที่มาของปัญหาของระบบนิเวศเมืองต่อสุขภาพประชากร

เราสามารถแบ่งอันตรายที่มีต่อสุขภาพของมนุษย์ที่เกิดจากสิ่งแวดล้อมได้เป็น 2 ส่วน คือ

- 1) สิ่งแวดล้อมภายในอาคาร
- 2) สิ่งแวดล้อมภายนอกอาคารในหมู่บ้านและในเมือง

#### 1. อันตรายต่อสุขภาพอันสืบเนื่องมาจากสภาวะแวดล้อมภายในของอาคาร

สภาวะแวดล้อมภายในบ้านอยู่อาศัย คือคุณภาพเกือบจะทั้งหมดจะพบว่ามีรูปแบบของอันตรายต่อสุขภาพเหมือน ๆ กันอยู่ 3 อย่าง คือ

- 1) น้ำสะอาดเพื่อการใช้สอยและระบบสุขาภิบาลที่ไม่พอเพียง
- 2) มลภาวะภายในอาคารมีระดับสูง
- 3) ความแออัดเกินมาตรฐานของการอยู่อาศัย มี 3 สาเหตุสำคัญ ที่สร้างความเสี่ยงต่อสุขภาพของผู้อยู่อาศัย

3.1 เชื้อโรคที่มากับน้ำ มีตัวเลขที่ระบุว่ามีการก่อกวนและเด็กกว่า 4 ล้านคนที่ต้องเสียชีวิตด้วยเหตุของโรคที่เกิดจากการขาดแคลนน้ำสะอาดเพื่อการบริโภคและสภาพของระบบสุขาภิบาลที่เลวร้ายภายในที่อยู่อาศัย

3.2 มลภาวะทางอากาศ ภายในอาคารที่มีมักจะเกิดจากผลของการเผาไหม้ของเชื้อเพลิงต่าง ๆ ที่ไม่สมบูรณ์ภายใน เตาไฟที่ไม่มีประสิทธิภาพและคุณภาพต่ำหรือจากระบบสร้างความอบอุ่นภายในบ้านเรือนที่ไม่มีประสิทธิภาพ ผลกระทบของมลภาวะทางอากาศต่อสุขภาพที่เกิดขึ้นภายในที่อยู่อาศัยจะรุนแรงมากหรือรุนแรงน้อยขึ้นอยู่กับระบบการระบายอากาศของอาคารที่ดีหรือไม่ดีด้วย รวมทั้งระยะเวลาที่ผู้อยู่อาศัยอยู่ภายใต้สภาวะเช่นนั้น และชนิดของเชื้อเพลิง ในกรณีของเชื้อเพลิงธรรมชาติ เช่น ฝืน จะพบว่าการเผาไหม้ก่อให้เกิดก๊าซคาร์บอนมอนนอกไซด์ ออกไซด์ของไนโตรเจน กำมะถันและสารเคมีอื่นอีก 5 - 6 ชนิด



ซึ่งล้วนแล้วแต่ทำอันตรายต่อระบบทางเดินหายใจได้ทั้งสิ้น

3.3 การออกแบบอาคารที่คำนึงถึงอันตรายต่อสุขภาพไว้ก็จะมีส่วนช่วยลดความเสียหายลงได้ด้วยความแออัดของการอยู่อาศัยมักจะทำให้เกิดการบาดเจ็บด้วย อุบัติเหตุ หรือการติดเชื้ออย่างรุนแรงของระบบทางเดินหายใจ โดยเฉพาะจากโรคนิวโมเนีย วัณโรค จะพบว่า การอยู่อาศัยที่มีลักษณะแออัดที่แต่ละคนมีเนื้อที่อยู่อาศัยเฉลี่ยต่ำกว่า 1 ตารางเมตรหรืออีกกรณีหนึ่งคือการอยู่อาศัยที่มีลักษณะแออัด เช่น อาศัยรวมกัน 2 - 3 คนต่อห้องพักอาศัย 1 ห้อง ก็จะทำให้การแพร่กระจายเชื้อโรคจากบุคคลหนึ่งไปยังผู้อื่นได้อย่างง่ายดาย นอกจากการติดเชื้อแล้ว พบว่า เหตุผสมผสานระหว่างความแออัดและคุณภาพที่ต่ำกว่ามาตรฐานของที่อยู่อาศัย เพิ่มอัตราการเสี่ยงต่ออุบัติเหตุภายในบ้านเรือนที่เกิดจากการลวกพอง ไฟไหม้ไฟและอุบัติเหตุไฟไหม้ ตัวเลขจากทั่วโลกพบว่า หนึ่งในสามของการตายที่มีสาเหตุจากอุบัติเหตุมาจากอุบัติเหตุภายในบ้านอยู่อาศัย

2. **สถานะแวดล้อมที่เป็นอันตรายในชุมชน** สำหรับหมู่บ้านหรือชุมชนใด ๆ ที่การจัดการด้านสิ่งแวดล้อมไม่พอเพียงมักจะเป็นผลให้เกิดความเสี่ยงสูงต่อสุขภาพอันเกิดจากเชื้อโรค บางชนิดที่ขยะเป็นบ่อเกิดเมื่อมีขยะมูลฝอยตกค้าง น้ำท่วมจากการขาดระบบระบายน้ำที่ดี และถนนที่ไม่สามารถใช้งานได้ในทุกลักษณะอากาศเป็นสาเหตุของอุบัติเหตุทั้งภายในและรอบ ๆ ของชุมชนในแต่ละปีความตายจากอุบัติเหตุบนท้องถนนมีจำนวนสูงถึง 885,000 ราย รวมทั้งยังมีผู้บาดเจ็บในจำนวนที่สูงกว่าอีกหลายเท่าตัว นอกจากนี้ที่กล่าวแล้วยังพบว่า อันตรายต่อสุขภาพทางกายยังจะเกิดจากที่ตั้งของชุมชนที่อยู่บนพื้นที่ที่โดยสภาพทางภูมิศาสตร์แล้วไม่เหมาะสมกับการเป็นที่ตั้งของชุมชนอยู่อาศัย ที่ตั้งชุมชนเหล่านี้ มักจะมีลักษณะเป็นที่ลาดชัน น้ำท่วมซ้ำซาก หรือเป็นทะเลทรายแห้งแล้ง มีประชากรยากจนหลายสิบล้านคนที่มีรายได้น้อยจนที่ไม่มีทางเลือกอื่นนอกจากต้องอยู่อาศัยในพื้นที่ดังกล่าว และมีความเสี่ยงต่อสุขภาพของตนอย่างหลีกเลี่ยงไม่ได้

## เรื่องที่ 5 แนวทางการแก้ไขปัญหาทรัพยากรธรรมชาติและสิ่งแวดล้อมในชุมชน

### ปัญหาสิ่งแวดล้อมในเขตเมือง

#### 1. ภาวะมลพิษ

##### อากาศเสีย

การแก้ไขปัญหาอากาศเสีย ปัจจุบันเน้นการแก้ปัญหาคันด้าและอากาศเสียจากรถยนต์ ซึ่งเป็นสาเหตุใหญ่ โดยมีการกำหนดค่ามาตรฐานสำหรับคันด้าที่ปล่อยออกจากท่อไอเสียของรถยนต์ที่ใช้ น้ำมันดีเซลและค่ามาตรฐานสำหรับก๊าซคาร์บอนมอนอกไซด์ที่ปล่อยออกจากท่อไอเสียของรถยนต์ที่ใช้ น้ำมันเบนซินไว้สำหรับควบคุมดูแลไม่ให้รถยนต์ปล่อยอากาศเสียเหล่านั้นเกินมาตรฐาน โดยมีสำนักงานตำรวจและกรมการขนส่งทางบกเป็นหน่วยงานควบคุม

การแก้ไขปัญหาให้ได้ผลอย่างจริงจังก็ต้องอาศัยความร่วมมือจากประชาชน โดยจะต้องมีความตื่นตัวและเข้าใจในปัญหาที่เกี่ยวกับอากาศเสีย ตลอดจนทราบถึงวิธีการป้องกันและแก้ไขปัญหาอย่างถูกต้อง

เช่น คูแลร์รักษาเครื่องยนต์ของรถยนต์ประเภทต่าง ๆ ให้อยู่ในสภาพดี ซึ่งนอกจากจะช่วยลดอากาศเสียแล้วยังช่วยประหยัดเชื้อเพลิงอีกด้วย สำหรับโรงงานอุตสาหกรรมก็ต้องเห็นใจผู้อาศัยข้างเคียงโดยไม่ปล่อยอากาศเสียที่มีปริมาณความเข้มข้นของสารมลพิษสูงเกินมาตรฐานที่กำหนดโดยกรมโรงงานอุตสาหกรรม นอกจากนี้ การปลูกต้นไม้จะช่วยในการกรองอากาศเสียได้ ดังนั้นจึงควรร่วมมือกันปลูกและดูแลรักษาต้นไม้ในเขตเมืองด้วย

## 2. ปัญหาทางสังคม

### ชุมชนแออัด

สำหรับปัญหาชุมชนแออัดซึ่งมักเกิดขึ้นในเมืองมากกว่าในชนบทนั้น หน่วยงานราชการหลักที่รับผิดชอบ คือ การเคหะแห่งชาติ และองค์กรท้องถิ่น (เช่น ในพื้นที่กรุงเทพมหานครองค์กรที่รับผิดชอบได้แก่ กรุงเทพมหานคร) โดยการปรับปรุงทั้งในด้านกายภาพ สังคม และเศรษฐกิจ ได้แก่ การปรับปรุงทางด้านสาธารณูปโภค เช่น ทางเท้า ทางระบายน้ำ ไฟฟ้า ประปา การจัดการขยะมูลฝอย การปรับปรุงสภาพแวดล้อมชุมชน การป้องกันอัคคีภัย รวมทั้งมีโครงการต่าง ๆ เช่น การฝึกอาชีพ โครงการหน่วยแพทย์เคลื่อนที่ และส่งเสริมให้ประชาชนท้องถิ่นได้มีส่วนร่วมในการแก้ไขปัญหาของชุมชน โดยการจัดตั้งคณะกรรมการชุมชนเพื่อทำหน้าที่แทนผู้อาศัยในชุมชน ในการประสานงานกับหน่วยงานที่เกี่ยวข้องในการพัฒนาชุมชนและเป็นแกนนำในการพัฒนาชุมชน นอกจากนี้การเคหะแห่งชาติยังมีการดำเนินงานในด้านความมั่นคงในการครอบครองที่ดิน เช่น ขอความร่วมมือเจ้าของที่ดินในการทำสัญญาให้ผู้อาศัยในชุมชนที่การเคหะแห่งชาติเข้าไปปรับปรุงได้อยู่อาศัยต่อไปอย่างน้อย 5 ปี เปรียบเทียบการออกกฎหมายเกี่ยวข้อง เช่น พระราชบัญญัติปรับปรุงชุมชนแออัด

นอกจากการแก้ไขปัญหาชุมชนแออัดโดยวิธีปรับปรุงทางด้านต่าง ๆ ดังกล่าวข้างต้นในที่ดินเดิมแล้วยังมีโครงการจัดหาที่อยู่ใหม่สำหรับชุมชนแออัดที่ประสบปัญหาความเดือดร้อนด้านที่อยู่อาศัยจากที่เดิม เช่น กรณีเพลิงไหม้ ถูกไล่ที่ ถูกเวนคืนที่ดิน เป็นต้น จึงเห็นได้ว่า การแก้ไขปัญหาชุมชนแออัดให้ได้ผลอย่างจริงจัง จำเป็นต้องได้รับความร่วมมือทั้งภาครัฐและภาคเอกชน

### การขาดแคลนพื้นที่สีเขียวและพื้นที่เพื่อการนันทนาการ

ปัญหาการขาดแคลนพื้นที่เพื่อการพักผ่อนหย่อนใจในเขตเมืองนั้น กรุงเทพมหานครนับว่าประสบปัญหารุนแรงที่สุด อันเนื่องมาจากเป็นศูนย์กลางของประเทศในทุก ๆ ด้าน เช่น การบริหารประเทศ การพาณิชย์ การศึกษา ในการแก้ไขปัญหาดังกล่าว รัฐมีนโยบายสนับสนุนให้พื้นที่ดังกล่าวที่มีอยู่เดิมคงสภาพไว้ให้มากที่สุด เช่น การเข้าไปดำเนินการในตำบลบางกะเจ้าและอีก 5 ตำบลใกล้เคียงเนื้อที่ประมาณ 9,000 ไร่ เพื่อรักษาสภาพแวดล้อมให้เป็นพื้นที่สีเขียวให้มากที่สุด และการเพิ่มจำนวนพื้นที่ดังกล่าว รัฐมีนโยบาย หากเป็นการย้ายอาคารสถานที่ออกไปจากที่ดินของรัฐ รัฐก็จะปรับปรุงบริเวณเดิมนั้นให้เป็นพื้นที่สีเขียวตัวอย่างของบริเวณหน้าวัดราชนัคดาราม โดยรื้ออาคาร โรงภาพยนตร์ศาลาเฉลิมไทยแล้วปรับปรุงพื้นที่ดังกล่าวให้มีสวนสาธารณะรวมอยู่ด้วย สำหรับโครงการต่อ ๆ ไป เช่น บริเวณกรมอุตุฯ นิคมวิทยา ถนนสุขุมวิท เรือนจำพิเศษกรุงเทพมหานคร ถนนมหาไชยบริเวณ โรงงานยาสูบ บริเวณโดยรอบป้อม-

พระสุเมรุ ถนนพระสุเมรุ ซึ่งมีโครงการจะย้ายออกไปแล้วจัดบริเวณให้เป็นสวนสาธารณะ ทำให้ประชาชนได้มีพื้นที่เพื่อการพักผ่อนหย่อนใจเพิ่มขึ้น ในส่วนของภาคเอกชนนั้น หากคำนึงถึงเรื่องนี้ก็สามารถจัดพื้นที่ให้โล่งว่างให้มากที่สุดเท่าที่จะทำได้

สำหรับการแก้ไขปัญหาในระยะยาวนั้น รัฐมีแนวทางการจัดการพื้นที่สีเขียวและนันทนาการทั่วประเทศ ในรูปของการจัดตั้งองค์กรเพื่อการจัดการพื้นที่สีเขียวฯ และสนับสนุน โครงการทั้งภาครัฐและเอกชนที่มีผลต่อพื้นที่สีเขียว และพื้นที่นันทนาการของชุมชน

### **แผ่นดินทรุด น้ำท่วม**

ปัญหาแผ่นดินทรุดเป็นปัญหาใหญ่ที่ต้องแก้ไขโดยรีบด่วน ดังนั้น ประชาชนจึงควรให้ความร่วมมือกับทางราชการ โดยการใช้ น้ำบาดาลอย่างประหยัดและมีประสิทธิภาพ รวมทั้งปฏิบัติตามพระราชบัญญัติ น้ำบาดาลอย่างเคร่งครัด ขณะนี้ได้มีการกำหนดมาตรการที่จะแก้ไขปัญหาแผ่นดินทรุดในบริเวณเขตพื้นที่ชั้นในของกรุงเทพมหานคร และเขตบางเขน เขตพระโขนง เขตบางกะปิ อำเภอพระประแดง และเขตอำเภอเมืองสมุทรปราการ โดยให้ยกเลิกใช้น้ำบาดาลในเขตวิกฤติที่มีอัตราการทรุดของพื้นดินสูงดังกล่าวและให้มีการลดการใช้น้ำบาดาลในพื้นที่อื่น ๆ ลงด้วย ซึ่งตามพระราชบัญญัติน้ำบาดาลกำหนดให้ผู้ที่ จะทำ การเจาะ น้ำบาดาล หรือ ใช้น้ำบาดาล หรือระบายน้ำลงในบ่อบาดาลจะต้องได้รับอนุญาตจากกรมทรัพยากรธรณี กระทรวงอุตสาหกรรมเสียก่อน ตลอดจนมีการกำหนดอัตราค่าธรรมเนียมการใช้น้ำบาดาลด้วย

### **ปัญหาสิ่งแวดล้อมในเขตชนบท**

#### **1. ความเสื่อมโทรมของทรัพยากรธรรมชาติ**

เมื่อความเสื่อมโทรมของทรัพยากรธรรมชาติมีสาเหตุหลักมาจากการกระทำของมนุษย์ การแก้ไขปัญหาจึงไม่เพียงพอแต่ต้องปลูกฝังจิตสำนึกให้กับประชาชนถึงเรื่องความสำคัญของทรัพยากรธรรมชาติและการรักษาให้คงอยู่ถาวรเพื่อลูกหลานเท่านั้น หากรัฐยังต้องดำเนินการแก้ไขปัญหาอย่างจริงจัง ทั้งในส่วนที่เกี่ยวกับการเพิ่มเนื้อที่ป่า ทั้งป่าไม้และป่าชายเลน โดยการสนับสนุนให้ภาคเอกชนเข้ามามีส่วนร่วม และวางแนวทางยับยั้งการบุกรุกทำลายทรัพยากรเหล่านั้น เช่น การจัดหาที่ทำกินให้ราษฎรในพื้นที่ป่าสงวนเสื่อมโทรมการป้องกันมิให้การทำนาถุ้งมาทำลายพื้นที่ป่าชายเลน การป้องกันมิให้เกิดปัญหามลพิษอันเกิดจากสารเคมี และจากการระบายน้ำโสโครกจากแหล่งชุมชนและโรงงานอุตสาหกรรมลงสู่แหล่งน้ำโดยมิได้ผ่านการบำบัดเสียก่อน ตลอดจนต้องให้มีการบังคับใช้มาตรการที่เด็ดขาดและมีประสิทธิภาพในการที่จะป้องกันการบุกรุกทำลายทรัพยากรธรรมชาติ

#### **2. มลพิษทางด้านสารพิษทางการเกษตร**

ในการดำเนินงานเพื่อแก้ไขปัญหามลพิษด้านสารพิษทางการเกษตรนั้น รัฐได้ดำเนินการในหลาย ๆ เรื่อง เริ่มตั้งแต่การปรับปรุงแก้ไขกฎหมาย ซึ่งช่องโหว่ของกฎหมายเดิมมีผลให้สารพิษหลายชนิดที่นำเข้าจากต่างประเทศสามารถนำมาใช้ได้อย่างอิสระ โดยไม่ต้องผ่านการควบคุมจากทางการ ดังนั้น ในปี พ.ศ. 2533 จึงได้มีการปรับปรุงแก้ไขการประกาศควบคุมวัตถุพิษเสียใหม่ โดยนำมาขอขึ้นทะเบียนจากทางการเสียก่อนจึงจะสามารถนำไปใช้ได้ นอกจากนี้ ในส่วนที่เกี่ยวข้องประชาชนโดยตรงก็มีการจัด

ฝึกอบรมการใช้สารพิษอย่างถูกต้องและปลอดภัย การเผยแพร่ความรู้เกี่ยวกับสารพิษแก่ประชาชนในรูปของสื่อต่าง ๆ เช่น สารคดีโทรทัศน์ โดยหวังว่าเมื่อประชาชนเกิดความรู้ ความเข้าใจเกี่ยวกับการใช้สารเคมีอย่างถูกต้องตามหลักวิชาการแล้วจะเป็นการช่วยลดมลพิษที่จะเกิดจากสารพิษทางการเกษตรได้อีกทางหนึ่งด้วย

## เรื่องที่ 6 การวางแผนพัฒนาทรัพยากรธรรมชาติและสิ่งแวดล้อม

ทรัพยากรธรรมชาติ หมายถึง สิ่งที่มีอยู่ตามธรรมชาติ ซึ่งได้แก่ อากาศ น้ำ ดิน แร่ธาตุ ป่าไม้ สัตว์ป่า พลังงานความร้อน พลังงานแสงแดด และอื่น ๆ มนุษย์ได้ใช้ทรัพยากรธรรมชาติในการดำรงชีวิต นับตั้งแต่เกิดจนกระทั่งตาย ทรัพยากรธรรมชาติจึงเป็นประโยชน์และมีความสำคัญอย่างยิ่งต่อมวลมนุษย์

สิ่งแวดล้อม หมายถึง สิ่งต่าง ๆ ทุกสิ่งที่อยู่ล้อมรอบตัวเราทั้งสิ่งที่มีชีวิตและไม่มีชีวิต สิ่งต่าง ๆ เหล่านี้อาจเป็นได้ทั้งสิ่งที่เกิดขึ้นโดยธรรมชาติและสิ่งที่มนุษย์สร้างขึ้น สิ่งแวดล้อมที่เกิดขึ้นโดยธรรมชาติ ได้แก่ บรรยากาศ น้ำ ดิน แร่ธาตุ พืชและสัตว์ ส่วนสิ่งแวดล้อมที่มนุษย์สร้างขึ้น ได้แก่ สาธารณูปการต่าง ๆ เช่น ถนน เขื่อนกั้นน้ำ ฝาย คูคลอง เป็นต้น

ทรัพยากรธรรมชาติและสิ่งแวดล้อมนั้นมีความสำคัญมากต่อการพัฒนาและความเจริญของประเทศ ตลอดจนถึงคุณภาพชีวิตที่ดีของประชาชน ประเทศที่มีทรัพยากรธรรมชาติอุดมสมบูรณ์และสิ่งแวดล้อมดี ก็จะส่งผลให้ประชาชนในประเทศนั้นมีคุณภาพชีวิตและความเป็นอยู่ที่ดีด้วยโดยไม่ต้องสงสัย

ปัจจุบัน ประเทศไทยมีปัญหาเกี่ยวกับความเสื่อมโทรมของทรัพยากรธรรมชาติและสิ่งแวดล้อมหลายประการ ซึ่งจำเป็นต้องแก้ไข เช่น เรื่องป่าไม้ถูกทำลาย น้ำในแม่น้ำลำคลองเน่าเสีย มลพิษของอากาศในพื้นที่บางแห่งมีมากจนถึงขีดอันตรายเหล่านี้เป็นต้น การแก้ไขในเรื่องเช่นนี้อาจทำได้ โดยการจัดการทรัพยากรธรรมชาติและสิ่งแวดล้อมอย่างถูกต้องโดยเร่งด่วน หลักการในการจัดการทรัพยากรธรรมชาติและสิ่งแวดล้อมอาจทำได้โดยพิจารณาเป็นเรื่อง ๆ ดังต่อไปนี้

### ทรัพยากรที่ใช้แล้วหมดไปได้แก่

น้ำมันปิโตรเลียมและก๊าซธรรมชาติ เป็นทรัพยากรธรรมชาติที่หมดสิ้นได้เมื่อหมดแล้วก็ไม่สามารถเกิดขึ้นมาใหม่ได้ หรือถ้าเกิดใหม่ก็ต้องใช้เวลานานหลายล้านปีจึงจะเกิดมีขึ้น แต่ในการใช้เราจะใช้หมดไปในวันเวลาอันรวดเร็ว การจัดการทรัพยากรประเภทนี้ จึงต้องเน้นให้ใช้อย่างประหยัด ใช้น้ำให้คุ้มค่าที่สุด และให้ได้ประโยชน์ที่สุด ไม่เผาทิ้งไปโดยเปล่าประโยชน์

สินแร่ เป็นทรัพยากรที่หมดสิ้นได้ และถ้าหมดสิ้นแล้วก็ยากที่จะทำให้มีใหม่ได้ การจัดการเกี่ยวกับสินแร่ทำได้โดยการใช้แร่อย่างฉลาดเพื่อให้แร่ที่ขุดขึ้นมาใช้ได้ประโยชน์มากที่สุด แร่ชนิดใดที่เมื่อใช้แล้วอาจนำกลับมาใช้ใหม่ได้อีกก็ให้นำมาใช้ ไม่ทิ้งให้สูญเปล่า นอกจากนั้น ยังต้องสำรวจหาแหล่งแร่ใหม่ ๆ อยู่เสมอ

ทรัพยากรที่ใช้ไม่หมดสิ้น มีอยู่ในธรรมชาติมากมายหลายชนิด เช่น ป่าไม้ สัตว์ป่า น้ำ ดิน และอากาศ

ป่าไม้ เป็นทรัพยากรไม่หมดสิ้น เพราะถ้าปลูกทำลาย ก็อาจปลูกป่าขึ้นมาทดแทนได้ การจัดการเกี่ยวกับป่าไม้ทำได้ โดยการรักษาป่าไม้ให้คงสภาพความเป็นป่า ถ้าตัดต้นไม้ลงเพื่อนำมาใช้ประโยชน์ก็ต้องปลูกใหม่เพื่อทดแทนเสมอ ไม้ที่ตัดจากป่าต้องใช้ได้คุ้มค่า และหาวัสดุอื่นมาใช้แทนเพื่อลดการใช้ไม้ลงให้มากที่สุด

สัตว์ป่า เป็นทรัพยากรไม่หมดสิ้น เพราะเพิ่มจำนวนได้ การจัดการเกี่ยวกับสัตว์ป่าทำได้ โดยการป้องกันและรักษาสัตว์ป่าให้คงอยู่ได้ ไม่สูญพันธุ์หมดไป ไม่ยอมให้สัตว์ป่าถูกทำลายถูกล่า ถูกฆ่ามากเกินไป หรือถึงกับสูญพันธุ์

น้ำ เป็นทรัพยากรไม่หมดสิ้น เพราะธรรมชาติจะนำน้ำกลับคืนมาใหม่ในรูปของน้ำฝน หลักการจัดการเรื่องน้ำก็คือ การควบคุมและรักษาน้ำธรรมชาติไว้ทั้งในรูปปริมาณและคุณภาพได้อย่างดี ไม่ปล่อยให้แห้งหายหรือน้ำเสีย ทั้งนี้ก็เพื่อให้คงมีน้ำใช้ตลอดเวลา

ดิน เป็นทรัพยากรไม่หมดสิ้น แต่เสื่อมสภาพได้ง่าย เพราะฝนและลมสามารถทำลายดินชั้นบนให้หมดไปได้โดยรวดเร็ว คนก็เป็นอีกสาเหตุหนึ่งที่ทำให้ดินเสื่อมสภาพได้มาก หลักการจัดการเรื่องดิน ได้แก่ การรักษาคุณภาพของดินให้คงความอุดมสมบูรณ์อยู่เสมอ โดยการรักษาดินชั้นบนให้คงอยู่ ไม่ปล่อยให้สารพิษลงในดินอันจะทำให้ดินเสีย

อากาศ เป็นทรัพยากรที่ไม่หมดสิ้น และมีอยู่มากมายที่เปลือกโลก หลักการจัดการกับอากาศ ได้แก่ การรักษาคุณภาพของอากาศไว้ให้บริสุทธิ์พอสำหรับหายใจ ไม่มีก๊าซพิษเจือปนอยู่ก๊าซพิษควันพิษในอากาศนี้เองที่ทำให้อากาศเสีย

วิธีการสำคัญที่ใช้ในการจัดการทรัพยากรธรรมชาติและสิ่งแวดล้อม ได้แก่ การออกกฎหมายควบคุมการจัดตั้งองค์กรเพื่อบริหารงาน การวางแผนพัฒนาสิ่งแวดล้อม การกำหนดมาตรฐานคุณภาพสิ่งแวดล้อม การศึกษาและจัดทำรายงานการประเมินผลกระทบสิ่งแวดล้อมจากโครงการพัฒนา ทั้งของภาครัฐและภาคเอกชนและการประชาสัมพันธ์และสิ่งแวดล้อมศึกษา ในวิธีการทั้งหลายทั้งปวงนี้ การออกกฎหมายซึ่งมีบทลงโทษที่เหมาะสมจะเป็นวิธีการสำคัญวิธีการหนึ่งสามารถช่วยให้การจัดการทรัพยากรธรรมชาติและสิ่งแวดล้อมประสบผลสำเร็จ ตัวอย่างของกฎหมายในเรื่องนี้มี อาทิเช่น พระราชบัญญัติสงวนและคุ้มครองสัตว์ป่า พระราชบัญญัติอุทยานแห่งชาติ พระราชบัญญัติป่าสงวนแห่งชาติ พระราชบัญญัติวัดภูมิพิสัย พระราชบัญญัติแร่ พระราชบัญญัติโรงงานแห่งชาติ พระราชบัญญัติการผังเมือง พระราชบัญญัติน้ำบาดาล และพระราชบัญญัติควบคุมอาคาร เป็นต้น การจัดองค์กรเพื่อการบริหารงานด้านการกำหนดนโยบายแผนการจัดการ การวางแผนงาน โครงการเป็นวิธีการหนึ่งของการจัดการทรัพยากรธรรมชาติและสิ่งแวดล้อมในระดับหน่วยงานปฏิบัติ

ในปัจจุบันมีหน่วยงานรับผิดชอบในด้านสิ่งแวดล้อมโดยตรง 3 หน่วยงานภายใต้กระทรวงวิทยาศาสตร์เทคโนโลยีและสิ่งแวดล้อม คือ สำนักงานนโยบายและแผนสิ่งแวดล้อม กรมควบคุมมลพิษและกรมส่งเสริมคุณภาพสิ่งแวดล้อม นอกจากนี้ยังได้มีการจัดตั้งสำนักงานสิ่งแวดล้อมภูมิภาคขึ้น 4 ภาค ในภาคเหนือ ภาคใต้ ภาคตะวันออกและภาคตะวันออกเฉียงเหนือ การวางแผนเพื่อแก้ไขปัญหาหรือพัฒนาทรัพยากรธรรมชาติและสิ่งแวดล้อมในแผนพัฒนาเศรษฐกิจและสังคมแห่งชาติ เป็นอีกวิธีหนึ่งที่จะให้การ

จัดการทรัพยากรธรรมชาติและสิ่งแวดล้อมสอดคล้องกับการพัฒนาเศรษฐกิจและสังคมของประเทศ การจัดทำแผนในลักษณะนี้ได้ดำเนินการมาตั้งแต่แผนพัฒนาฯ ฉบับที่ 4 ในแผนพัฒนาเศรษฐกิจและสังคมแห่งชาติ ฉบับที่ 7 (พ.ศ. 2536 - 2539) ได้มีการจัดทำแผนเพื่อจัดการทรัพยากรธรรมชาติและสิ่งแวดล้อมไว้ชัดเจนกว่าแผนที่แล้วมา โดยแยกเป็นแผนการบริหารและจัดการทรัพยากรธรรมชาติและแผนการพัฒนาสิ่งแวดล้อมเพื่อคุณภาพชีวิต วิธีการสำคัญอีกวิธีหนึ่งในการจัดการทรัพยากรธรรมชาติและสิ่งแวดล้อม ก็คือ การกำหนดมาตรฐานเพื่อการควบคุมภาวะมลพิษของประเทศและควบคุมแหล่งกำเนิด เพื่อให้คุณภาพสิ่งแวดล้อมอยู่ในระดับมาตรฐานที่กำหนดตัวอย่างของมาตรฐานคุณภาพสิ่งแวดล้อมที่กำหนดขึ้นแล้ว ได้แก่ มาตรฐานค่าควันทะกาศและค่ากักคาร์บอนมอนอกไซด์ที่ระบายออกจากท่อไอเสียของรถยนต์ มาตรฐานคุณภาพอากาศเสียที่ระบายออกจากโรงงาน มาตรฐานคุณภาพอากาศในบรรยากาศ มาตรฐานระดับเสียงของรถยนต์ รถจักรยานยนต์ และเรือ มาตรฐานและวิธีการตรวจสอบคุณภาพน้ำทะเล ชายฝั่ง มาตรฐานคุณภาพน้ำทิ้ง มาตรฐานควบคุมการระบายน้ำทิ้งจากอาคารบางประเภทและบางขนาด มาตรฐานคุณภาพน้ำดื่ม มาตรฐานวัตถุมีพิษในอาหารและเครื่องสำอาง การวางแผนพัฒนาสิ่งแวดล้อม ในแผนพัฒนาเศรษฐกิจและสังคมแห่งชาติ ประเทศไทยได้เริ่มมีแผนพัฒนาเศรษฐกิจและสังคมแห่งชาติมา ตั้งแต่ พ.ศ. 2504 แต่การวางแผนพัฒนาในระยะแรก ๆ ยังไม่ให้ความสำคัญกับปัญหาสิ่งแวดล้อมมากนัก โดยในแผนพัฒนาฯ ฉบับที่ 1 (พ.ศ. 2504 - 2509) แผนพัฒนาฯ ฉบับที่ 2 (พ.ศ. 2510 - 2514) และ แผนพัฒนาฯ ฉบับที่ 3 (พ.ศ. 2514 - 2519) ได้เน้นการระดมใช้ประโยชน์จากทรัพยากรธรรมชาติ โดยขาด การวางแผนการจัดการที่เหมาะสม ขาดการคำนึงถึงผลกระทบต่อสิ่งแวดล้อมจนในช่วงของปลายแผนพัฒนาฯ ฉบับที่ 3 ได้ปรากฏให้เห็นชัดถึงปัญหาความเสื่อมโทรมของทรัพยากรหลักของประเทศ โดยเฉพาะอย่างยิ่ง ป่าไม้ ดินแหล่งน้ำ และแร่ธาตุ รวมทั้งได้เริ่มมีการแพร่กระจายของมลพิษ ทั้งมลพิษทางน้ำ มลพิษทาง อากาศ เสียง กากของเสีย และสารอันตราย ดังนั้น ประเทศไทยจึงได้เริ่มให้ความสำคัญกับปัญหา สิ่งแวดล้อมมาตั้งแต่แผนพัฒนาฯ ฉบับที่ 4 เป็นต้นมา

#### **แผนพัฒนาฯ ฉบับที่ 4 (พ.ศ. 2520 - 2524)**

กำหนดแนวทางการฟื้นฟูบูรณะทรัพยากรที่ถูกทำลายและมีสภาพเสื่อมโทรม การกำหนดแนวทางการแก้ไขปัญหามลพิษอย่างกว้าง ๆ ไว้ในแผนพัฒนาฯ ด้านต่าง ๆ และได้ให้ความสำคัญกับปัญหา สิ่งแวดล้อมอย่างจริงจังขึ้น โดยได้มีการจัดทำนโยบายและมาตรการการพัฒนาสิ่งแวดล้อมแห่งชาติ 2524 ขึ้น ตามพระราชบัญญัติส่งเสริมและรักษาคุณภาพสิ่งแวดล้อมแห่งชาติ พ.ศ. 2518

#### **แผนพัฒนาฯ ฉบับที่ 5 (พ.ศ. 2525 - 2529)**

กำหนดแนวทางการจัดการสิ่งแวดล้อมให้ชัดเจนยิ่งขึ้น โดยการนำนโยบายและมาตรการการพัฒนาสิ่งแวดล้อมแห่งชาติที่ได้จัดทำขึ้นมาเป็นกรอบในการกำหนดแนวทาง มีการกำหนดมาตรฐานคุณภาพ สิ่งแวดล้อม กำหนดให้โครงการพัฒนาของรัฐขนาดใหญ่ต้องจัดทำรายงานการวิเคราะห์ผลกระทบต่อ สิ่งแวดล้อมรวมทั้งมีการจัดทำแผนการจัดการสิ่งแวดล้อมระดับพื้นที่ เช่น การพัฒนากลุ่มน้ำทะเลสาบสงขลา



การจัดการสิ่งแวดล้อมบริเวณชายฝั่งทะเลแต่ละวันออก การวางแผนการจัดการด้านสิ่งแวดล้อม เพื่อการพัฒนาภาคใต้ตอนบน

#### **แผนพัฒนาฯ ฉบับที่ 6 (พ.ศ. 2530 - 2534)**

ได้มีการปรับทิศทาง และแนวคิดในการพัฒนาทรัพยากรธรรมชาติและสิ่งแวดล้อมใหม่ โดยการนำเอาทรัพยากรธรรมชาติทุกประเภท ซึ่งได้แก่ ทรัพยากรที่ดิน ทรัพยากรป่าไม้ ทรัพยากรแหล่งน้ำ ทรัพยากรประมง และทรัพยากรธรณี และการจัดการมลพิษมาไว้ในแผนเดียวกัน ภายใต้ชื่อแผนพัฒนาทรัพยากรธรรมชาติและสิ่งแวดล้อม โดยให้ความสำคัญในเรื่องของการปรับปรุงการบริหารและการจัดการให้มีประสิทธิภาพอย่างเป็นระบบ และสนับสนุนให้มีการใช้เทคโนโลยีสมัยใหม่ เพื่อให้มีการนำเอาทรัพยากรธรรมชาติมาใช้ประโยชน์ได้อย่างมีประสิทธิภาพ ไม่ทำลายสิ่งแวดล้อมและไม่ก่อให้เกิดปัญหาหมอกพิษ และที่สำคัญคือ เน้นการส่งเสริมให้ประชาชน องค์กรและหน่วยงานในระดับท้องถิ่น มีการวางแผนการจัดการและการกำหนดแผนปฏิบัติการในพื้นที่ร่วมกับส่วนกลางอย่างมีระบบ โดยเฉพาะการกำหนดให้มีการจัดทำแผนพัฒนาทรัพยากรธรรมชาติและสิ่งแวดล้อมในระดับจังหวัดทั่วประเทศ

#### **แผนพัฒนาฯ ฉบับที่ 7 (พ.ศ. 2535 - 2539)**

การจัดการทรัพยากรธรรมชาติและสิ่งแวดล้อมยังคงเป็นการดำเนินงานอย่างต่อเนื่อง โดยการสนับสนุนองค์กรเอกชนประชาชน ทั้งในส่วนกลางและส่วนท้องถิ่น ให้เข้ามามีบทบาทในการกำหนดนโยบายและแผนการจัดการ การเร่งรัดการดำเนินงานตามแผนการจัดการทรัพยากรธรรมชาติและสิ่งแวดล้อมที่มีอยู่แล้ว การจัดตั้งระบบข้อมูลทรัพยากรธรรมชาติและสิ่งแวดล้อมให้เป็นระบบเดียวกัน เพื่อใช้ในการวางแผน การนำมาตราการด้านการเงินการคลังมาช่วยในการจัดการและการเร่งรัดการออกกฎหมายเกี่ยวกับการอนุรักษ์ทรัพยากรธรรมชาติ ตลอดจนการนำเอาเทคโนโลยีที่ทันสมัยมาใช้ในการควบคุมและแก้ไขปัญหาสิ่งแวดล้อม

#### **แผนพัฒนาฯ ฉบับที่ 8 (พ.ศ. 2540 - 2544)**

การฟื้นฟูบูรณะพื้นที่ป่าเพื่อการอนุรักษ์ให้ได้ร้อยละ 25 ของพื้นที่ประเทศและจัดทำเครื่องหมายแนวเขตพื้นที่ป่าอนุรักษ์ การรักษาพื้นที่ป่าชายเลนเพื่อรักษาความสมดุลของสภาวะแวดล้อมและความหลากหลายทางชีวภาพให้คงไว้ไม่ต่ำกว่า 1 ล้านไร่ ส่งเสริมการจัดการทรัพยากรธรรมชาติในรูปแบบของป่าชุมชนเพื่อการอนุรักษ์พัฒนาสภาวะแวดล้อมและคุณภาพชีวิตของชุมชน

#### **แผนพัฒนาฯ ฉบับที่ 9 (พ.ศ. 2545 - 2549)**

การพัฒนาปรับปรุงการจัดการให้เกิดความสมดุลระหว่างการใช้ประโยชน์กับการอนุรักษ์ฟื้นฟู ส่งเสริมการนำทรัพยากรไปใช้ประโยชน์ที่ยั่งยืน การบริหารจัดการทรัพยากรธรรมชาติและสิ่งแวดล้อมที่อาศัยกระบวนการมีส่วนร่วมของทุกภาคส่วนในสังคม มุ่งเน้นประสิทธิภาพ การกำกับควบคุมที่มีประสิทธิภาพ มีความโปร่งใส สุจริต

## แผนพัฒนาฯ ฉบับที่ 10 (พ.ศ. 2550 - 2554)

การพัฒนาด้านทรัพยากรธรรมชาติและสิ่งแวดล้อม คำนึงถึง “ความหลากหลายทางชีวภาพ” การพัฒนาอาชีพจะต้องให้ความสำคัญและคำนึงถึง “ระบบนิเวศน์” ชุมชนจะเป็นผู้ใช้และดูแลอนุรักษ์ ทรัพยากรธรรมชาติและสิ่งแวดล้อมอย่างเป็นธรรม

### เรื่องที่ 7 การปฏิบัติตนหรือการร่วมมือกับชุมชนในการป้องกันพัฒนาหรือแก้ไขปัญหา ทรัพยากรธรรมชาติและสิ่งแวดล้อม

#### แนวทางการอนุรักษ์และพัฒนาสภาพแวดล้อม

การอนุรักษ์ หมายถึง การรู้จักใช้ทรัพยากรธรรมชาติอย่างชาญฉลาด เพื่อให้มีประโยชน์ต่อมหาชนมากที่สุด และใช้ได้เป็นเวลานานที่สุด ทั้งนี้ ต้องให้มีการสูญเสียทรัพยากรน้อยที่สุด และจะต้องมีการกระจายการใช้ทรัพยากรให้เป็นไปโดยทั่วถึงกันด้วย

การพัฒนา หมายถึง การทำให้เจริญ การปรับปรุงเปลี่ยนแปลงไปในทางที่ทำให้เจริญขึ้น ซึ่งการที่จะทำให้เกิดการพัฒนาขึ้นได้นั้น จะต้องมีการวางแผนต้องอาศัยวิชาความรู้และเทคโนโลยีเข้ามาช่วย จึงจะทำให้การพัฒนานั้นบรรลุตามวัตถุประสงค์

#### ความจำเป็นที่จะต้องมีการอนุรักษ์และพัฒนาสภาพแวดล้อม

ทรัพยากรธรรมชาติและสภาพแวดล้อมที่พบอยู่ทั่วไปในท้องถิ่นหรือตามชุมชนต่าง ๆ ทั่วประเทศ นั้นที่สำคัญ ได้แก่ ดิน น้ำ อากาศ แร่ธาตุ ป่าไม้ และสัตว์ป่า ซึ่งล้วนแต่ให้คุณประโยชน์ทั้งสิ้น เหตุผลที่เราควรเร่งอนุรักษ์และพัฒนาสภาพแวดล้อม ก็เนื่องมาจากทรัพยากรธรรมชาติของประเทศเราได้ถูกทำลายลง มาจนขาดความสมดุล

#### แนวทางในการอนุรักษ์และพัฒนาสภาพแวดล้อม

**3.1 ระดับบุคคล** ประชาชนทุกคนควรมีจิตสำนึกที่ดีต่อแนวทางการอนุรักษ์และพัฒนา สภาพแวดล้อม ซึ่งมีวิธีการง่าย ๆ ดังต่อไปนี้

- 1) ต้องรู้จักประหยัด
- 2) ต้องรู้จักรักษา
- 3) ต้องรู้จักฟื้นฟูทรัพยากรให้ฟื้นตัวและรู้จักปรับปรุงให้ดีขึ้น
- 4) ช่วยกันส่งเสริมการผลิตและการใช้ทรัพยากรอย่างมีประสิทธิภาพ
- 5) ต้องรู้จักนำทรัพยากรที่ใช้แล้วมาผลิตใหม่
- 6) ต้องรู้จักนำทรัพยากรอื่น ๆ มาใช้แทนทรัพยากรที่มีราคาแพงหรือกำลังจะลดน้อยหมดสูญไป
- 7) ต้องช่วยกันค้นคว้าสำรวจหาแหล่งทรัพยากรใหม่ เพื่อนำมาใช้แทนทรัพยากรธรรมชาติที่หายาก
- 8) ต้องไม่ทำลายทรัพยากรธรรมชาติ
- 9) ต้องเต็มใจเข้ารับการอบรมศึกษา ให้เข้าใจถึงปัญหาและวิธีการอนุรักษ์ทรัพยากรธรรมชาติ



**3.2 ระดับชุมชน** เนื่องจากประชาชนแต่ละคนเป็นสมาชิกของชุมชนที่ตนอาศัยอยู่ ซึ่งลักษณะและสภาพของชุมชน จะมีผลกระทบมาถึงประชาชนในชุมชนนั้น ๆ ด้วย ทั้งที่เป็นสิ่งที่ดีและไม่ดี ในการอนุรักษ์ควรร่วมมือร่วมใจกัน ดังนี้

1. ประชาชนในชุมชนจะต้องตระหนักถึงการเข้าไปมีส่วนร่วมในการอนุรักษ์และพัฒนาสภาพแวดล้อมในชุมชนของตน
2. ประชาชนในชุมชนจะต้องมีความรู้ ความเข้าใจในเรื่องระบบของการจัดการ และสามารถแก้ไขปรับปรุงและเปลี่ยนแปลงสภาพแวดล้อมที่เสื่อมโทรมให้ดีขึ้น
3. จัดระบบวิธีการอนุรักษ์ และพัฒนาสภาพแวดล้อมในชุมชนของตนให้ประสานงานกับหน่วยของรัฐและเอกชน

### 3.3 ระดับรัฐบาล

1. รัฐบาลควรกำหนดนโยบาย และวางแนวทางการอนุรักษ์และพัฒนาสภาพแวดล้อมทั้งในระยะสั้นและระยะยาว เพื่อเป็นหลักการให้หน่วยงานและเจ้าหน้าที่ของรัฐที่เกี่ยวข้องได้ยึดถือปฏิบัติต่อไป
2. ในฐานะที่เป็นพลเมืองดีของชุมชนและของประเทศ ประชาชนไทยทุกคนควรปฏิบัติตนให้ถูกต้องตามกฎหมายข้อบังคับ หรือตามกฎหมายเกี่ยวกับสิ่งแวดล้อมที่สำคัญ
3. หน่วยงานของรัฐทั้งในท้องถิ่นและภูมิภาค จะต้องเป็นผู้นำและเป็นแบบอย่างที่ดีในการอนุรักษ์และพัฒนาสภาพแวดล้อม รวมทั้งจะต้องให้ความสนับสนุนและร่วมมือกับภาคเอกชนและประชาชนไปด้วย
4. เผยแพร่ข่าวสาร ข้อมูลกฎหมายท้องถิ่น และความรู้ทางด้านการอนุรักษ์และพัฒนาสภาพแวดล้อมทั้งทางตรงและทางอ้อม
5. หน่วยงานที่รับผิดชอบในท้องถิ่น ภูมิภาค ต้องริบเร่งดำเนินการแก้ไขฟื้นฟูสภาพแวดล้อมที่เสื่อมโทรมไปให้กลับสู่สภาพเช่นเดิม และหาทางป้องกันไม่ให้เกิดสภาพการณ์เช่นนั้นขึ้นซ้ำอีก

## เรื่องที่ 8 สภาวะโลกร้อน สาเหตุและผลกระทบ การป้องกันและการแก้ไขปัญหาโลกร้อน

### ภาวะโลกร้อน (Global Warming)

ภาวะโลกร้อน (Global Warming) หรือ ภาวะภูมิอากาศเปลี่ยนแปลง (Climate Change) เป็นปัญหาใหญ่ของโลกเราในปัจจุบัน สืบเกิดได้จาก อุณหภูมิ ของโลกที่สูงขึ้นเรื่อย ๆ สาเหตุหลักของปัญหานี้ มาจากก๊าซเรือนกระจก (Greenhouse gases) ปრაกฏการณ์เรือนกระจก มีความสำคัญกับโลก เพราะก๊าซจำพวกคาร์บอนไดออกไซด์ หรือ มีเทน จะกักเก็บความร้อนบางส่วนไว้ในโลก ไม่ให้สะท้อนกลับสู่บรรยากาศทั้งหมด มิฉะนั้น โลกจะกลายเป็นแบบดวงจันทร์ ที่ตอนกลางคืนหนาวจัด (และตอนกลางวันร้อนจัด เพราะไม่มีบรรยากาศ กรองพลังงาน จาก ดวงอาทิตย์) ซึ่งการทำให้โลกอุ่นขึ้นเช่นนี้ คล้ายกับหลักการของเรือนกระจก (ที่ใช้ปลูกพืช) จึงเรียกว่า ปრაกฏการณ์เรือนกระจก (Greenhouse Effect) แต่การเพิ่มขึ้นอย่างต่อเนื่องของ CO<sub>2</sub> ที่ออกมาจาก โรงงานอุตสาหกรรม รถยนต์ หรือการกระทำใดๆที่เผา เชื้อเพลิงฟอสซิล

(เช่น ถ่านหิน น้ำมัน ก๊าซธรรมชาติ หรือ สารประกอบไฮโดรคาร์บอน) ส่งผลให้ระดับปริมาณ CO<sub>2</sub> ในปัจจุบัน สูงเกิน 300 ppm (300 ส่วนในล้านส่วน) เป็นครั้งแรกในรอบกว่า 6 แสนปี ซึ่งคาร์บอนไดออกไซด์ที่มากขึ้นนี้ ได้เพิ่มการกักเก็บความร้อนไว้ในโลกของเรามากขึ้นเรื่อย ๆ จนเกิดเป็นภาวะโลกร้อน ดังเช่น ปัจจุบันภาวะโลกร้อนภายในช่วง 10 ปีนับตั้งแต่ปี พ.ศ. 2533 มาแล้ว ได้มีการบันทึกถึงปีที่มีอากาศร้อนที่สุดถึง 3 ปี คือ ปี พ.ศ. 2533, พ.ศ. 2538 และปี พ.ศ. 2540 แม้ว่าพยากรณ์การเปลี่ยนแปลงสภาพภูมิอากาศ ยังมีความไม่แน่นอนหลายประการ แต่การถกเถียงวิทยาศาสตร์ได้เปลี่ยนหัวข้อจากคำถามที่ว่า "โลกกำลังร้อนขึ้นจริงหรือ "เป็น" ผลกระทบจากการที่โลกร้อนขึ้นจะส่งผลร้ายแรงและต่อเนื่องต่อสิ่งที่มีชีวิตในโลกอย่างไร" ดังนั้น ยิ่งเราประวิงเวลาลงมือกระทำการแก้ไขออกไปเพียงใด ผลกระทบที่เกิดขึ้นก็จะยิ่งร้ายแรงมากขึ้นเท่านั้น และบุคคลที่จะได้รับผลกระทบมากที่สุดก็คือ ลูกหลานของพวกเราเอง

### สาเหตุ

ภาวะโลกร้อนเป็นภัยพิบัติที่มาถึง โดยที่เราทุกคนต่างทราบถึงสาเหตุของการเกิดเป็นอย่างดี นั่นคือ การที่มนุษย์เผาผลาญเชื้อเพลิงฟอสซิล เช่น ถ่านหิน น้ำมัน และก๊าซธรรมชาติ เพื่อผลิตพลังงาน เราต่างทราบดีถึงผลกระทบบางอย่างของภาวะโลกร้อน เช่น การละลายของน้ำแข็งในขั้วโลก ระดับน้ำทะเลที่สูงขึ้น ความแห้งแล้งอย่างรุนแรง การแพร่ระบาดของโรคร้ายต่างๆ อุทกภัย ปะการังเปลี่ยนสีและการเกิดพายุรุนแรงฉับพลัน โดยผู้ที่ได้รับผลกระทบมากที่สุด ได้แก่ ประเทศตามแนวชายฝั่ง ประเทศที่เป็นเกาะ และภูมิภาคที่กำลังพัฒนาอย่างเอเชียอาคเนย์ จากการทำงานของคณะกรรมการของรัฐบาลนานาชาติว่าด้วยเรื่องการเปลี่ยนแปลงสภาพภูมิอากาศที่เมืองคาร์ดิฟฟ์ ได้ร่วมมือกับองค์การสหประชาชาติ เฝ้าสังเกตผลกระทบต่าง ๆ และได้พบหลักฐานใหม่ที่แน่ชัดว่า จากการที่ภาวะโลกร้อนขึ้นในช่วง 50 กว่าปีมานี้ ส่วนใหญ่เป็นผลมาจากการกระทำของมนุษย์ ซึ่งส่งผลกระทบอย่างต่อเนื่องให้อุณหภูมิของโลกเพิ่มขึ้นในทุกหนทุกแห่ง ประมาณ 1.4 - 5.8 องศาเซลเซียส การเปลี่ยนแปลงสภาพภูมิอากาศไม่ได้เปลี่ยนแปลงไปที่ละเล็กละน้อย แต่เป็นการเปลี่ยนแปลงอย่างรุนแรงซึ่งเกิดขึ้นบ่อยครั้ง และมีความรุนแรงมากขึ้นเรื่อยๆ ตัวอย่างที่เห็นได้ชัดได้แก่ ความแห้งแล้งอย่างรุนแรง วาตภัย อุทกภัย พายุฝนฟ้าคะนอง พายุทอร์นาโด แผ่นดินถล่ม และการเกิดพายุรุนแรงฉับพลัน จากภาวะอันตรายเหล่านี้พบว่า ผู้ที่อาศัยอยู่ในเขตพื้นที่ที่เสี่ยงกับการเกิดเหตุการณ์ดังกล่าว ซึ่งได้รับผลกระทบมากกว่าพื้นที่ส่วนอื่น ๆ ยังไม่ได้รับการเอาใจใส่และช่วยเหลือเท่าที่ควร นอกจากนี้ ยังมีการคาดการณ์ว่า การที่อุณหภูมิของโลกสูงขึ้น เป็นเหตุให้ปริมาณผลผลิตเพื่อการบริโภคโดยรวมลดลง ซึ่งทำให้จำนวนผู้อดอยากหิวโหยเพิ่มขึ้นอีก 60 - 350 ล้านคนในประเทศไทยและฟิลิปปินส์ มีโครงการพลังงานต่าง ๆ ที่จัดตั้งขึ้น และการดำเนินงานของโครงการเหล่านี้ ได้ส่งผลกระทบต่อระบบนิเวศวิทยาอย่างเห็นได้ชัด ตัวอย่างเช่น การเปลี่ยนแปลงของฝนที่ไม่ตกตามฤดูกาล และปริมาณน้ำฝนที่ตกในแต่ละช่วงได้เปลี่ยนแปลงไป การบุกรุกและทำลายป่าไม้ที่อุดมสมบูรณ์ การสูงขึ้นของระดับน้ำทะเลและอุณหภูมิของน้ำทะเล ซึ่งส่งผลกระทบอย่างมากต่อระบบนิเวศ ตามแนวชายฝั่ง และจากการที่อุณหภูมิของน้ำทะเลสูงขึ้นนี้ ได้ส่งผลกระทบต่อ การเปลี่ยนสีของน้ำทะเล ดังนั้น แนวปะการังต่าง ๆ จึงได้รับผลกระทบและถูกทำลายเช่นกัน

ประเทศไทยเป็นตัวอย่างของประเทศที่มีชายฝั่งทะเลที่มีความยาวประมาณ 2,490 กิโลเมตร และเป็นแหล่งที่มีความสำคัญอย่างมากต่อเศรษฐกิจของประเทศ โดยเฉพาะอย่างยิ่ง การประมง การเพาะเลี้ยงสัตว์น้ำ และความไม่แน่นอนของฤดูกาล ที่ส่งผลกระทบต่อการทำเกษตรกรรม มีการคาดการณ์ว่า หากระดับน้ำทะเลสูงขึ้นอีกอย่างน้อย 1 เมตรภายในทศวรรษหน้า หาดทรายและพื้นที่ชายฝั่งในประเทศไทยจะลดน้อยลง สถานที่ตากอากาศชายทะเล รวมถึงอุตสาหกรรมการท่องเที่ยวในสถานที่ท่องเที่ยวต่างๆ เช่น พัทยา และ ระยองจะได้รับผลกระทบโดยตรง แม้แต่กรุงเทพมหานคร ก็ไม่สามารถหลีกเลี่ยงจากผลกระทบของระดับน้ำทะเลที่สูงขึ้นนี้เช่นกันปัญหาด้านสุขภาพ ก็เป็นเรื่องสำคัญอีกเรื่องหนึ่งที่ได้รับผลกระทบอย่างรุนแรง จากสภาพภูมิอากาศที่เปลี่ยนแปลงนี้ด้วย เนื่องจากอุณหภูมิและความชื้นที่สูงขึ้น ส่งผลให้มีการเพิ่มขึ้นของยุงมากขึ้น ซึ่งนำมาสู่การแพร่ระบาดของไข้มาลาเรียและ ไข้ส่า นอกจากนี้โรคที่เกี่ยวข้องกับน้ำ เช่น อหิวาตกโรค ซึ่งจัดว่าเป็นโรคที่แพร่ระบาดได้อย่างรวดเร็วโรคหนึ่งในภูมิภาคนี้ คาดว่าจะเพิ่มขึ้นอย่างรวดเร็วและต่อเนื่อง จากอุณหภูมิและความชื้นที่สูงขึ้น คนยากจนเป็นกลุ่มคนที่มีความเสี่ยงสูงต่อผลกระทบจากการเปลี่ยนแปลงนี้ ประกอบกับการให้ความรู้ในด้านการดูแลสุขภาพที่ดี ยังมีไม่เพียงพอ ปัจจุบันนี้สัญญาณเบื้องต้นของสภาพภูมิอากาศที่เปลี่ยนแปลงไป ได้ปรากฏขึ้นอย่างแจ่มชัด ดังนั้น สมควรหรือไม่ที่จะรองงกว่าจะค้นพบข้อมูลมากขึ้น หรือ มีความรู้ในการแก้ไขมากขึ้น ซึ่ง ณ เวลานั้นก็อาจสายเกินไปแล้วที่จะแก้ไขได้

### กลไกของสภาวะโลกร้อน

ในสภาวะปกติ โลกจะได้รับพลังงานประมาณ 99.95% จากดวงอาทิตย์ ในรูปแบบของการแผ่รังสีพลังงานที่เหลือมาจากความร้อนใต้พิภพซึ่งหลงเหลือจากการก่อตัวของโลกจากฝุ่นธุลีในอวกาศ และการสลายตัวของธาตุกัมมันตรังสีที่มีอยู่ในโลก ตั้งแต่เด็กคำบรรพมาโลกเราสามารถรักษาสมดุลของพลังงานที่ได้รับอย่างดีเยี่ยม โดยมีการสะท้อนความร้อน และการแผ่รังสีจากโลกจนพลังงานสุทธิที่ได้รับในแต่ละวันเท่ากับศูนย์ ทำให้โลกมีสภาพอากาศเหมาะสมต่อสิ่งมีชีวิตหลากหลาย กลไกหนึ่งที่ทำให้โลกเรารักษาพลังงานความร้อนไว้ได้คือ “ปรากฏการณ์เรือนกระจก” (greenhouse effect) ที่ทำหน้าที่ดัก และสะท้อนความร้อนที่โลกแผ่กลับออกไปในอวกาศให้กลับเข้าไปในโลกอีก หากไม่มีแก๊สกลุ่มนี้โลกจะไม่สามารถเก็บพลังงานไว้ได้ และจะมีอุณหภูมิแปรปรวนในแต่ละวัน แก๊สกลุ่มนี้จึงทำหน้าที่เสมือนผ้าห่มบาง ๆ ที่คลุมโลกที่หนาวเย็นแต่กลับกลายเป็นว่าในช่วงระยะเวลาหลายสิบล้านปีที่ผ่านมา โลกเราได้มีการสะสมแก๊สเรือนกระจกในชั้นบรรยากาศมากขึ้น เนื่องจากการเผาไหม้เชื้อเพลิงต่าง ๆ ที่ใช้ในกิจกรรมประจำวัน โดยเฉพาะอย่างยิ่งการเผาไหม้น้ำมันเชื้อเพลิงที่ขุดขึ้นมาจากใต้ดิน การเพิ่มขึ้นของแก๊สเรือนกระจกทำให้โลกไม่สามารถแผ่ความร้อนออกไปได้อย่างที่เคย ส่งผลให้อุณหภูมิของโลกเพิ่มมากขึ้นอย่างต่อเนื่อง เหมือนกับโลกเรามีผ้าห่มที่หนาขึ้นนั่นเอง

### ปรากฏการณ์เรือนกระจกคืออะไร?

“ปรากฏการณ์เรือนกระจก” (greenhouse effect) คือ ปรากฏการณ์ที่โลกมีอุณหภูมิสูงขึ้นเนื่องจากพลังงานแสงอาทิตย์ ในช่วงความยาวคลื่นอินฟราเรดที่สะท้อนกลับถูกดูดกลืนโดยโมเลกุลของไอน้ำ

คาร์บอนไดออกไซด์ (CO<sub>2</sub>) มีเทน (CH<sub>4</sub>) และ CFCs ไนตรัสออกไซด์ (N<sub>2</sub>O) ในบรรยากาศทำให้โมเลกุลเหล่านี้มีพลังงานสูงขึ้นมีการถ่ายเทพลังงานซึ่งกันและกันทำให้อุณหภูมิในชั้นบรรยากาศสูงขึ้นการถ่ายเทพลังงานและความยาวคลื่นของโมเลกุลเหล่านี้ต่อ ๆ กันไป ในบรรยากาศทำให้โมเลกุลเกิดการสั่นการเคลื่อนไหว ตลอดเวลาและมาชนถูกผิวหนังของเรา ทำให้เรารู้สึกร้อน ในประเทศในเขตหนาวมีการเพาะปลูกพืชโดยอาศัยการควบคุมอุณหภูมิความร้อน โดยใช้หลักการที่พลังงานความร้อนจากแสงอาทิตย์ส่องผ่านกระจก แต่ความร้อนที่อยู่ภายในเรือนกระจกไม่สามารถสะท้อนกลับออกมาทำให้อุณหภูมิภายในสูงขึ้นเหมาะแก่การเพาะปลูกของพืช จึงมีการเปรียบเทียบปรากฏการณ์ที่อุณหภูมิของโลกสูงขึ้นนี้ว่าภาวะเรือนกระจก (greenhouse effect) ก๊าซคาร์บอนไดออกไซด์ (CO<sub>2</sub>) เป็นก๊าซที่สะสมพลังงานความร้อนในบรรยากาศโลกไว้มากที่สุดและมีผลทำให้ อุณหภูมิของโลกสูงขึ้นมากที่สุดในบรรดาก๊าซเรือนกระจกชนิดอื่นๆ CO<sub>2</sub> ส่วนมากเกิดจากการกระทำของมนุษย์ เช่น การเผาไหม้เชื้อเพลิง, การผลิตซีเมนต์, การเผาไม้ทำลายป่า

ก๊าซที่ก่อให้เกิดปรากฏการณ์เรือนกระจก มีดังนี้

- คาร์บอนไดออกไซด์ (CO<sub>2</sub>) เกิดจากการเผาไหม้ต่าง ๆ
- มีเทน ซึ่งส่วนใหญ่เกิดจากการสลายตัวของอินทรีย์วัตถุ เช่น ขยะมูลฝอยที่ย่อยสลายได้ของเสีย อูจาระ
- ซีเอฟซี (CFC) เป็นสารประกอบสำหรับทำความเย็น พบในเครื่องทำความเย็นต่าง ๆ เป็นสิ่งที่อยู่ร่วมกับฟรอน และยังพบได้ในสเปรย์ต่าง ๆ อีกด้วย
- Nitrous Oxide (N<sub>2</sub>O) เป็นก๊าซมีพิษที่เกิดจากเครื่องยนต์ การเผาถ่านหิน และใช้ประกอบในรถยนต์เพื่อเพิ่มกำลังเครื่อง

ก๊าซเหล่านี้เช่น CFC จะทำปฏิกิริยากับรังสีอัลตราไวโอเล็ตและแตกตัวออกเป็นโมเลกุลคลอรีนและโมเลกุลต่างๆอีกหลายชนิด ซึ่งโมเลกุลเหล่านี้จะเป็นตัวทำลายโมเลกุลของออกซิเจนชนิดพิเศษหรือ O<sub>3</sub> บนชั้นบรรยากาศโอโซน ทำให้รังสีอัลตราไวโอเล็ต และอินฟราเรดส่องผ่านลงมายังพื้นโลกมากขึ้น ในขณะที่เดียวกันก๊าซเหล่านี้ก็กักรังสีไม่ให้ออกไปจากบรรยากาศโลก ด้วยว่าที่รังสีเหล่านี้เป็นพลังงานพวกมันจึงทำให้โลกร้อนขึ้น

- ก๊าซไฮโดรฟลูออโรคาร์บอน (HFCS)
- ก๊าซคลอโรฟลูออโรคาร์บอน (CFCS)
- ก๊าซซัลเฟอร์เฮกซะฟลูออไรด์ (SF<sub>6</sub>)

ก๊าซเหล่านี้สมควรที่จะต้องลดการปล่อยออกมา ซึ่งผู้ที่ลดการปล่อยก๊าซเหล่านี้ได้ก็คือ มนุษย์ทุกคน

ตารางแสดงแก๊สเรือนกระจกและแหล่งที่มา

| แก๊สเรือนกระจก                               | แหล่งที่มา  | ส่งผลให้โลกร้อนขึ้น (%) |
|--|---|-------------------------|
| แก๊สคาร์บอนไดออกไซด์ ( $CO_2$ )              | 1) จากแหล่งธรรมชาติ เช่น กระบวนการหายใจของสิ่งมีชีวิต<br>2) จากมนุษย์ เช่น การเผาไหม้เชื้อเพลิงจากโรงงานอุตสาหกรรมต่าง ๆ , การตัดไม้ทำลายป่า (ลดการดูดซับ $CO_2$ )  | 57                      |
| แก๊สมีเทน ( $CH_4$ )                         | 1) จากแหล่งธรรมชาติ เช่น จากการย่อยสลายของสิ่งมีชีวิต, การเผาไหม้ที่เกิดจากธรรมชาติ<br>2) จากมนุษย์ เช่น จากนาข้าว, แหล่งน้ำท่วม, จากการเผาไหม้เชื้อเพลิงประเภทถ่านหิน น้ำมัน และแก๊สธรรมชาติ                                     | 12                      |
| แก๊สไนตรัสออกไซด์( $N_2O$ )                  | 1) จากมนุษย์ เช่น อุตสาหกรรมที่ใช้กรดไนตริกในกระบวนการผลิต, อุตสาหกรรมพลาสติก, อุตสาหกรรมไนลอน, อุตสาหกรรมเคมี, การเผาไหม้เชื้อเพลิงจากซากพืชและสัตว์, ปุ๋ย, การเผาป่า<br>2) จากแหล่งธรรมชาติ - อยู่ในภาวะที่สมดุล                | 6                       |
| แก๊สที่มีส่วนประกอบคลอโรฟลูออโรคาร์บอน(CFCS) | จากมนุษย์ เช่น อุตสาหกรรมต่าง ๆ และอุปกรณ์เครื่องใช้ในชีวิตประจำวัน เช่น โฟม, กระจังสปริง, เครื่องทำความเย็น ; ตู้เย็น แอร์, ตัวทำลาย (แก๊สนี้จะรวมตัวทางเคมีได้ดีกับโอโซนทำให้โอโซนในชั้นบรรยากาศลดลงหรือเกิดรูรั่วในชั้น โอโซน) | 25                      |

ผลกระทบจากสภาวะโลกร้อน

แม้ว่าโดยเฉลี่ยแล้วอุณหภูมิของโลกจะเพิ่มขึ้นไม่มากนัก แต่ผลกระทบที่เกิดขึ้นจะส่งผลต่อเป็นทอด ๆ และจะมีผลกระทบกับโลกในที่สุด ขณะนี้ผลกระทบดังกล่าวเริ่มปรากฏให้เห็นแล้วทั่วโลก รวมทั้งประเทศไทย ตัวอย่างที่เห็นได้ชัด คือ การละลายของน้ำแข็งทั่วโลก ทั้งที่เป็นธารน้ำแข็ง (glaciers) แหล่งน้ำแข็งบริเวณขั้วโลก และในกรีนแลนด์ ซึ่งจัดว่าเป็นแหล่งน้ำแข็งที่ใหญ่ที่สุดในโลก น้ำแข็งที่ละลายนี้จะไปเพิ่มปริมาณน้ำในมหาสมุทร เมื่อประกอบกับอุณหภูมิเฉลี่ยของน้ำสูงขึ้น น้ำก็จะมีการขยายตัวร่วมด้วย ทำให้ปริมาณน้ำในมหาสมุทรทั่วโลกเพิ่มขึ้นเป็นทวีคูณ ทำให้ระดับน้ำทะเลสูงขึ้นมาก ส่งผลให้เมืองสำคัญๆ ที่อยู่ริมมหาสมุทรตกอยู่ใต้ระดับน้ำทะเลทันที มีการคาดการณ์ว่าหากน้ำแข็งดังกล่าวละลายหมดจะทำให้ระดับน้ำทะเลสูงขึ้น 6 - 8 เมตรทีเดียว ผลกระทบที่เริ่มเห็นได้ก็อีกประการหนึ่งคือ การเกิดพายุหมุน

ที่มีความถี่มากขึ้น และมีความรุนแรงมากขึ้นด้วย ดังเราจะเห็นได้จากข่าวพายุเฮอริเคนที่พัดเข้าถล่มสหรัฐหลายลูกในช่วงสองสามปีที่ผ่านมา แต่ละลูกก็สร้างความเสียหายในระดับหายนะทั้งสิ้น สาเหตุอาจอธิบายได้ในแง่พลังงาน กล่าวคือ เมื่อมหาสมุทรมียุณหภูมิสูงขึ้น พลังงานที่พายุได้รับก็มากขึ้นไปด้วย ส่งผลให้พายุมีความรุนแรงกว่าที่เคย นอกจากนั้น สภาวะโลกร้อนยังส่งผลให้บางบริเวณในโลกประสบกับสภาวะแห้งแล้งอย่างไม่เคยมีมาก่อน เช่นขณะนี้ได้เกิดสภาวะโลกร้อนรุนแรงขึ้นอีก เนื่องจากต้นไม้ในป่าที่เคยทำหน้าที่ดูดกลืนแก๊สคาร์บอนไดออกไซด์ได้ล้มตายลงเนื่องจากขาดน้ำ นอกจากจะไม่ดูดกลืนแก๊สต่อไปแล้วยังปล่อยคาร์บอนไดออกไซด์ออกมาจากกระบวนการย่อยสลายด้วย และยังมีสัญญาณเตือนจากภัยธรรมชาติอื่น ๆ อีกมาก ซึ่งหากเราสังเกตดี ๆ จะพบว่า เป็นผลจากสภาวะนี้ไม่น้อย

### ผลกระทบด้านนิเวศวิทยา

แถบขั้วโลกได้รับผลกระทบมากที่สุด และก่อให้เกิดการเปลี่ยนแปลงมากมาย โดยเฉพาะอย่างยิ่งภูเขาน้ำแข็ง ก้อนน้ำแข็งจะละลายอย่างรวดเร็ว ทำให้ระดับน้ำทะเลทางขั้วโลกเพิ่มขึ้น และไหลลงสู่ทั่วโลก ทำให้เกิดน้ำท่วมได้ทุกทวีป นอกจากนี้จะพลอยทำให้สัตว์ทางทะเลเสียชีวิตเพราะระบบนิเวศเปลี่ยนแปลง ส่วนทวีปยุโรป ในยุโรปใต้ภูมิประเทศจะกลายเป็นพื้นที่ลาดเอียงเกิดความแห้งแล้งในหลายพื้นที่ปัญหาอุทกภัยจะเพิ่มขึ้นเนื่องจากธารน้ำแข็งบนบริเวณยอดเขาสูงที่ปกคลุมด้วยหิมะจะละลายจนหมด ขณะที่ทวีปเอเชียอุณหภูมิจะสูงขึ้นเกิดฤดูกาลที่แห้งแล้ง มีน้ำท่วม ผลิตผลทางอาหารลดลง ระดับน้ำทะเลสูงขึ้น สภาวะอากาศแปรปรวน อาจทำให้เกิดพายุต่าง ๆ เข้าไปทำลายบ้านเรือนที่อยู่อาศัยของประชาชน ซึ่งปัจจุบันก็เห็นผลกระทบได้ชัด แต่แถบทวีปอเมริกาเหนืออุตสาหกรรมการผลิตอาหารจะได้รับผลประโยชน์เนื่องจากอากาศที่อุ่นขึ้น พร้อม ๆ กับทุ่งหญ้าใหญ่ของแคนาดา และทุ่งราบใหญ่สหรัฐอเมริกาจะล้มตาย เพราะความแปรปรวนของอากาศจะส่งผลต่อสัตว์ นักวิจัยได้มีการคาดประมาณอุณหภูมิผิวโลก ในอีก 100 ปีข้างหน้า หรือประมาณปี 2643 ว่าอุณหภูมิจะสูงขึ้นจากปัจจุบันราว 4.5 องศาเซลเซียส เนื่องจากคาดการณ์ว่าจะมีการปล่อยก๊าซคาร์บอนไดออกไซด์ถึงร้อยละ 63 และก๊าซมีเทนร้อยละ 27 ของก๊าซเรือนกระจก สำหรับประเทศไทยมียุณหภูมิสูงขึ้นประมาณ 1 องศาเซลเซียส ในช่วง 40 ปี อย่างไรก็ตามหากอุณหภูมิเพิ่มสูงขึ้น 2 - 4 องศาเซลเซียส จะทำให้พายุไต้ฝุ่นเปลี่ยนทิศทาง เกิดความรุนแรง และมีจำนวนเพิ่มขึ้นร้อยละ 10 - 20 ในอนาคต นอกจากนี้ฤดูร้อนจะขยายเวลายาวนานขึ้น ในขณะที่ฤดูหนาวจะสั้นลง

### ผลกระทบด้านเศรษฐกิจ

รัฐที่เป็นเกาะเล็ก ๆ ของทวีปอเมริกา จะได้รับผลจากระดับน้ำทะเลที่สูงขึ้นกัลดร่อนชายฝั่ง จะสร้างความเสียหายแก่ระบบนิเวศ แนวปะการังจะถูกทำลาย ปลาทะเลประสบปัญหา เนื่องจากระบบนิเวศที่แปรเปลี่ยนไป ธุรกิจท่องเที่ยวทางทะเลที่สำคัญจะสูญเสียรายได้มหาศาล นอกจากนี้ในเอเชียยังมีโอกาสร้อยละ 66 - 90 ที่อาจเกิดฝนกระหน่ำ และมรสุมอย่างรุนแรง รวมถึงเกิดความแห้งแล้งในฤดูร้อนที่ยาวนาน ทั้งนี้ในปี 2532 - 2545 ประเทศไทยเกิดความเสียหายจากอุทกภัย พายุ และภัยแล้ง คิดเป็นมูลค่าเสียหายทางเศรษฐกิจมากกว่า 70,000 ล้านบาท รายงาน “Global Deserts Outlook” ของโครงการสิ่งแวดล้อมแห่งสหประชาชาติ เนื่องในวันสิ่งแวดล้อมโลก 5 มิถุนายน ซึ่งว่าภายใน 50 ปีข้างหน้า ระบบนิเวศ ทางทะเลทราย

จะเปลี่ยนแปลงไป ทั้งด้านชีววิทยา เศรษฐกิจและวัฒนธรรม ปัจจุบันพืช และสัตว์ทางทะเลทราย คือ แหล่งทรัพยากรมีคุณค่าสำหรับผลิตยา และธัญญาหารใหม่ ๆ ที่ทำให้ไม่ต้องสิ้นเปลืองน้ำ และยังมีช่องทางเศรษฐกิจใหม่ ๆ ที่เป็นมิตรกับธรรมชาติ เช่นการทำฟาร์มกึ่ง และบ่อปลาในทะเลทรายรัฐอริโซนาและทะเลทรายเนเกฟ ในอิสราเอล อย่างไรก็ตามทะเลทรายที่มีอยู่ 12 แห่งทั่วโลกกำลังเผชิญปัญหาใหญ่ไม่ใช่เรื่องการขยายตัว แต่เป็นความแห้งแล้งเนื่องจากโลกร้อน ธารน้ำแข็งซึ่งส่งน้ำมาหล่อเลี้ยงทะเลทรายในอเมริกาใต้กำลังละลาย น้ำใต้ดินเค็มขึ้น รวมทั้งผลกระทบที่เกิดจากน้ำมีอุณหภูมิ ซึ่งหากไม่มีการลงมือป้องกันอย่างทันที่ ระบบนิเวศวิทยา และสัตว์ป่าในทะเลทรายจะสูญหายไปภายใน 50 ปีข้างหน้า ในอนาคตประชากร 500 ล้านคน ที่อาศัยอยู่ในเขตทะเลทรายทั่วโลกจะอยู่ไม่ได้อีกต่อไป เพราะอุณหภูมิสูงขึ้น และน้ำถูกใช้จนหมด หรือเค็มจนดื่มไม่ได้

### ผลกระทบด้านสุขภาพ

ภาวะโลกร้อน ไม่เพียงทำให้ระบบนิเวศเปลี่ยนแปลงไป แต่มีสิ่งซ่อนเร้นที่แอบแฝงมาพร้อมปรากฏการณ์นี้ด้วยว่า โลกร้อนขึ้นจะสร้างสภาวะที่พอเหมาะพอควร ให้เชื้อโรคเจริญเติบโตอย่างรวดเร็ว เดวิท พิเมินเทล นักนิเวศวิทยาแห่งมหาวิทยาลัยคอร์เนลในอเมริกา ระบุว่าโลกร้อนขึ้นจะก่อให้เกิดสภาพแวดล้อมที่เหมาะสมแก่การฟักตัวของเชื้อโรค และศัตรูพืชที่เป็นอาหารของมนุษย์บางชนิด โรคที่ฟักตัวได้ดีในสภาพร้อนขึ้นของโลก จะสามารถเพิ่มขึ้นมากในอีก 20 ปีข้างหน้า ทั้งจะมีการติดเชื้อเพิ่มมากขึ้นในโรคมาลาเรีย ไข้ส่า อหิวาตกโรค และอาหารเป็นพิษ นักวิทยาศาสตร์ในที่ประชุมองค์การอนามัยโลก และ London School of Hygiene and Tropical Medicine วิทยาลัยศึกษาด้านสุขอนามัยและเวชศาสตร์เขตร้อนของอังกฤษแถลงว่า ในแต่ละปีประชาชนราว 160,000 คน เสียชีวิตเพราะได้รับผลกระทบจากภาวะโลกร้อน ตั้งแต่โรคมาลาเรีย ไปจนถึงการขาดแคลนสุขอนามัยที่ดี และตัวเลขผู้เสียชีวิตนี้อาจเพิ่มขึ้นเกือบสองเท่าตัวในอีก 17 ปีข้างหน้า แถลงการณ์ของคณะแพทย์ระดับโลกระบุว่า เด็กในประเทศกำลังพัฒนาจัดอยู่ในกลุ่มเสี่ยงมากที่สุด เช่นในประเทศแถบแอฟริกา ละตินอเมริกา และเอเชียตะวันออกเฉียงใต้ ที่จะต้องเผชิญกับการแพร่ขยายของการขาดแคลนสุขอนามัย โรคท้องร่วง และ โรคมาลาเรีย ท่ามกลางอุณหภูมิโลกร้อนขึ้น น้ำท่วม และภัยแล้ง

### การป้องกัน

วิธีการช่วยป้องกันสภาวะ โลกร้อน ดังนี้

1. การลดระยะทาง
2. ปิดเครื่องปรับอากาศ
3. ลดระดับการใช้งานของเครื่องใช้ไฟฟ้า
4. Reuse
5. การรักษาป่าไม้
6. ลดการใช้น้ำมัน



### ตัวอย่างเช่น

1. ลดระยะทางใช้สำหรับการขนส่งอาหาร เนื่องจากมลพิษจากการขนส่งนั้นเป็นตัวการสำคัญมากที่สุดในการเพิ่มปริมาณ ก๊าซคาร์บอนไดออกไซด์ในบรรยากาศ ให้เราพยายามบริโภคอาหารที่ผลิต และปลูกในท้องถิ่น จะช่วยลดพลังงานที่ใช้สำหรับการขนส่งได้

2. ปิดเครื่องปรับอากาศใน โรงแรมที่เราได้เข้าพัก พร้อมทั้งอย่าให้พนักงานนำผ้าขนหนูที่ยังไม่สกปรกมากไปซัก โดยพึงระลึกว่าเราไม่ได้ช่วยให้โรงแรมประหยัดไฟฟ้า แต่เรากำลังช่วยโลกที่เราอาศัยอยู่

3. ลดระดับการใช้งานเครื่องใช้ไฟฟ้าลงแม้เพียงน้อยนิด เช่น เพิ่มความร้อนของเครื่องปรับอากาศในสำนักงาน หรือที่พักอาศัยลงสักหนึ่งองศา หรือปิดไฟขณะไม่ใช้งาน ปิดฝาหม้อที่มีอาหารร้อนอยู่ หรือลดจำนวนชั่วโมงการดูโทรทัศน์ หรือฟังวิทยุลง อาจลดค่าใช้จ่ายของเราไม่มากนัก แต่จะส่งผลกระทบต่อโลก

4. Reuse นำกระดาษ หรือภาชนะบรรจุอื่น ๆ กลับไปใช้ใหม่ พยายามซื้อสิ่งของที่มีอายุการใช้งานนาน ๆ จะช่วยลดการใช้พลังงานของโลกอย่างมากมาย

5. รักษาป่าไม้ให้ได้มากที่สุด และลด หรือลดการจัดซื้อสิ่งของ หรือเฟอร์นิเจอร์ต่าง ๆ ที่ทำจากไม้ที่ตัดเอามาจากป่า เพื่อปล่อยให้ต้นไม้ และป่าไม้เหล่านี้ได้ทำหน้าที่การเป็นปอดของโลกสืบไป

6. ลดการใช้น้ำมันจากการขับขี่ยานพาหนะ โดยปรับเปลี่ยนนิสัยการขับรถ เช่น ลดความเร็วในการขับรถลง ตรวจสอบสภาพลมในล้อรถให้เหมาะสม และค่อย ๆเหยียบคันเร่ง รถยนต์ เมื่อต้องการเร่งความเร็วและทดลองเดินให้มากที่สุด

### การแก้ปัญหาโลกร้อน

เราจะหยุดสภาวะโลกร้อนได้อย่างไร เป็นเรื่องที่น่าเป็นห่วงว่าเราคงไม่อาจหยุดยั้งสภาวะโลกร้อนที่กำลังจะเกิดขึ้นในอนาคตได้ ถึงแม้ว่าเราจะหยุดผลิตแก๊สเรือนกระจก โดยสิ้นเชิง ตั้งแต่บัดนี้ เพราะโลกเปรียบเสมือนเครื่องจักรขนาดใหญ่ที่มีกลไกเล็ก ๆ จำนวนมากทำงานประสานกัน การตอบสนองที่มีต่อการกระตุ้นต่าง ๆ จะต้องใช้เวลามากกว่าจะกลับเข้าสู่สภาวะสมดุล และแน่นอนว่า สภาวะสมดุลอันใหม่ที่จะเกิดขึ้นย่อมจะแตกต่างจากสภาวะปัจจุบันอย่างมาก แต่เราก็ยังสามารถบรรเทาผลอันร้ายแรงที่อาจจะเกิดขึ้นในอนาคต เพื่อให้ความรุนแรงลดลงอยู่ในระดับที่พอจะรับมือได้ และอาจจะชะลอปรากฏการณ์โลกร้อนให้ช้าลง กินเวลานานขึ้น สิ่งที่เราพอจะทำได้ตอนนี้ คือ พยายามลดการผลิตแก๊สเรือนกระจกลง และเนื่องจากเราทราบว่าแก๊สดังกล่าวมาจากกระบวนการใช้พลังงาน การประหยัดพลังงานจึงเป็นแนวทางหนึ่งในการลดอัตราการเกิดสภาวะโลกร้อนไปในตัว

### วิธีการแก้ปัญหาโลกร้อน มีดังนี้

1. เปลี่ยนหลอดไฟ การเปลี่ยนหลอดไฟจากหลอดไส้ เป็นหลอดฟลูออเรสเซนต์หนึ่งดวง จะช่วยลดคาร์บอนไดออกไซด์ได้ 150 ปอนด์ต่อปี

2. ขับรถให้น้อยลง หากเป็นระยะทางใกล้ ๆ สามารถเดิน หรือขี่จักรยานแทนได้ การขับรถยนต์เป็นระยะทาง 1 ไมล์ จะปล่อยคาร์บอนไดออกไซด์ 1 ปอนด์



3. รีไซเคิลให้มากขึ้น ลดขยะที่บ้านคุณให้ได้ครั้งหนึ่ง จะช่วยลดคาร์บอนไดออกไซด์ได้ถึง 2,400 ปอนด์ต่อปี
4. เชื้อลมยาง การขับรถโดยที่ยางมีลมน้อย อาจทำให้เปลืองน้ำมันขึ้นได้ถึง 3% จากปกติ น้ำมันทุก ๆ แกลลอนที่ประหยัดได้ จะลดคาร์บอนไดออกไซด์ได้ 20 ปอนด์
5. ใช้น้ำร้อนให้น้อยลง ในการทำน้ำร้อนใช้พลังงานในการต้มสูงมาก การปรับเครื่องทำน้ำอุ่นให้มีอุณหภูมิและแรงน้ำให้น้อยลง จะลดคาร์บอนไดออกไซด์ได้ 350 ปอนด์ต่อปี หรือการซักผ้าในน้ำเย็นจะลดคาร์บอนไดออกไซด์ได้ปีละ 500 ปอนด์
6. หลีกเลี้ยงผลิตภัณฑ์ที่มีบรรจุภัณฑ์เยอะ เพียงแค่ลดขยะของคุณเอง 10% จะลดคาร์บอนไดออกไซด์ได้ 1,200 ปอนด์ต่อปี
7. ปรับอุณหภูมิห้องของคุณ (สำหรับเมืองนอก) ในฤดูหนาว ปรับอุณหภูมิของ heater ให้ต่ำลง 2 องศา และในฤดูร้อน ปรับให้สูงขึ้น 2 องศา จะลดคาร์บอนไดออกไซด์ได้ 2,000 ปอนด์ต่อปี
8. ปลุกต้นไม้ การปลูกต้นไม้หนึ่งต้น จะดูดซับคาร์บอนไดออกไซด์ได้ 1 ตัน ตลอดอายุของมัน
9. ปิดเครื่องใช้ไฟฟ้าที่ไม่ใช้ ปิดทีวี คอมพิวเตอร์ เครื่องเสียง และเครื่องใช้ไฟฟ้าต่าง ๆ เมื่อไม่ใช้ จะลดคาร์บอนไดออกไซด์ได้นับพันปอนด์ต่อปี

## แบบฝึกหัดบทที่ 6

### แบบฝึกหัดเรื่อง ทรัพยากรธรรมชาติและสิ่งแวดล้อม

1. จงบอกกระบวนการเปลี่ยนแปลงของสิ่งมีชีวิตว่ามีกี่ประเภท อะไรบ้าง

.....

.....

.....

.....

.....

2. ละอู คืออะไร

.....

.....

.....

.....

.....

3. คลื่นแผ่นดินไหว คืออะไร

.....

.....

.....

.....

.....

4. จงอธิบายหลักการของเครื่องวัดความไหวสะเทือนของขนาดแผ่นดินไหวมาพอสังเขป

.....

.....

.....

.....

.....

5. การวัดแผ่นดินไหวมีกี่แบบ อะไรบ้าง

.....

.....

.....

.....

6. จงอธิบายปรากฏการณ์แผ่นดินถล่ม (land slides)

.....

.....

.....

.....

.....

7. แผ่นดินถล่มในประเทศไทยที่เกิดขึ้นในภาคเหนือ และภาคตะวันออกเฉียงเหนือ เกิดจากสาเหตุใด

.....

.....

.....

.....

.....

8. ปัจจัยสำคัญที่เป็นสาเหตุของการเกิดแผ่นดินถล่ม

.....  
.....  
.....  
.....  
.....

9. ปรากฏการณ์เรือนกระจก คืออะไร

.....  
.....  
.....  
.....  
.....

10. ก๊าซชนิดใดที่ก่อให้เกิดปรากฏการณ์เรือนกระจก

.....  
.....  
.....  
.....  
.....

11. ทรัพยากรธรรมชาติ หมายถึง

.....  
.....  
.....  
.....  
.....

12. ทรัพยากรธรรมชาติแบ่งออกเป็นกี่ประเภท อะไรบ้าง

.....  
.....  
.....  
.....  
.....

## บทที่ 7

### ธาตุ สมบัติของธาตุและธาตุกัมมันตภาพรังสี

#### สาระสำคัญ

ทฤษฎี โครงสร้าง และการจัดเรียงอิเล็กตรอนในอะตอม สมบัติของธาตุตามตารางธาตุ ประโยชน์ของตารางธาตุ สมบัติธาตุกัมมันตภาพรังสีและกัมมันตภาพรังสี ประโยชน์และผลกระทบจากธาตุกัมมันตภาพรังสี

#### ผลการเรียนรู้ที่คาดหวัง

อธิบายเกี่ยวกับโครงสร้างอะตอม ตารางธาตุ สมการและปฏิกิริยาเคมีที่พบในชีวิตประจำวัน

#### ขอบข่ายเนื้อหา

เรื่องที่ 1 ธาตุ

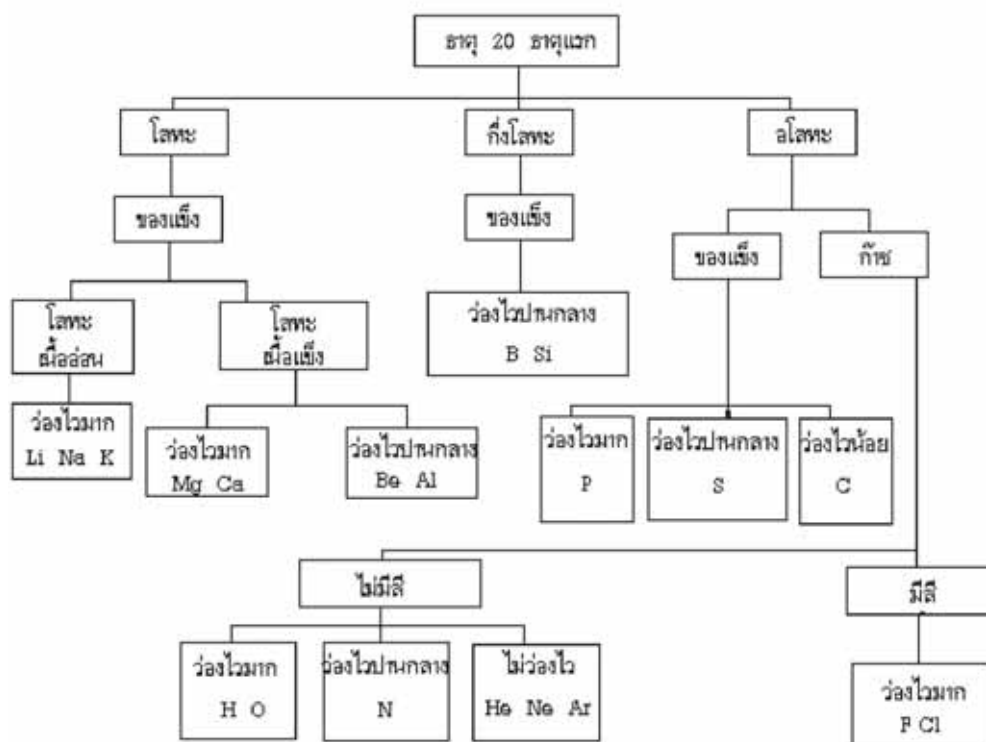
เรื่องที่ 2 ตารางธาตุ

เรื่องที่ 3 ธาตุกัมมันตภาพรังสี

## เรื่องที่ 1 ธาตุ

### ความหมายของธาตุ

ธาตุ สารเป็นสารบริสุทธิ์ที่มีโมเลกุลประกอบด้วยอะตอมชนิดเดียวกัน มีธาตุที่ค้นพบแล้ว 109 ธาตุ เป็นธาตุที่อยู่ในธรรมชาติ 89 ธาตุ เช่น โซเดียม (Na) แมกนีเซียม (Mg) คาร์บอน (C) ออกซิเจน (O) เป็นต้น



แผนผังการจัดธาตุ 20 ธาตุแรกออกเป็นหมวดหมู่

ตารางแสดงสมบัติบางประการของธาตุ เรียงตามมวลอะตอม

| ธาตุ       | สัญลักษณ์ | มวลอะตอม | ลักษณะที่อุณหภูมิปกติ | mp.( $^{\circ}\text{C}$ ) | d ( $\text{g}/\text{cm}^3$ ) | ความเป็นโลหะ-อโลหะ | ความว่องไวในการเกิดปฏิกิริยา |
|------------|-----------|----------|-----------------------|---------------------------|------------------------------|--------------------|------------------------------|
| ไฮโดรเจน   | H         | 1.008    | ก๊าซไม่มีสี           | -259                      | 0.07*                        | อโลหะ              | มาก                          |
| ฮีเลียม    | He        | 4.003    | ก๊าซไม่มีสี           | -272                      | 0.15*                        | โลหะ               | ไม่เกิด                      |
| ลิเทียม    | Li        | 6.94     | ของแข็งสีเงิน         | 180                       | 0.53                         | โลหะ               | มาก                          |
| เบริลเลียม | Be        | 9.01     | ของแข็งสีเงิน         | 1280                      | 1.45                         | โลหะ               | ปานกลาง                      |
| โบรอน      | B         | 10.81    | ของแข็งสีดำ           | 2030                      | 2.34                         | กึ่งโลหะ           | ปานกลาง                      |
| คาร์บอน    | C         | 12.01    | ของแข็งสีดำ           | 3730                      | 2.26                         | อโลหะ              | น้อย                         |

mp. = จุดหลอมเหลว d = ความหนาแน่น \* = ความหนาแน่นขณะเป็นของเหลว

จากตารางแสดงสมบัติของธาตุ ถ้าจัดธาตุเหล่านี้มาจัดเป็นพวกโดยอาศัยเกณฑ์ต่าง ๆ ตามตาราง จะแบ่งธาตุออกเป็น 3 กลุ่ม ดังนี้


**1. โลหะ (metal)** เป็นกลุ่มธาตุที่มีสมบัติเป็นตัวนำไฟฟ้าได้ นำความร้อนที่ดี เหนียว มีจุดเดือดสูง ปกติเป็นของแข็งที่อุณหภูมิห้อง (ยกเว้นปรอท) เช่น แคลเซียม อะลูมิเนียม เหล็ก เป็นต้น

**2. อโลหะ (non-metal)** เป็นกลุ่มธาตุที่มีสมบัติไม่นำไฟฟ้า มีจุดหลอมเหลวและจุดเดือดต่ำ เปรราะบาง และมีการแปรผันทางด้านคุณสมบัติทางกายภาพมากกว่าโลหะ

**3. กึ่งโลหะ (metalloid)** เป็นกลุ่มธาตุที่มีสมบัติก้ำกึ่งระหว่างโลหะและอโลหะ เช่น ธาตุซิลิคอน และเจอร์เมเนียม มีสมบัติบางประการคล้ายโลหะ เช่น นำไฟฟ้าได้บ้างที่อุณหภูมิปกติ และนำไฟฟ้าได้มากขึ้น เมื่ออุณหภูมิเพิ่มขึ้น เป็นของแข็ง เป็นมันวาวสีเงิน จุดเดือดสูง แต่เปราะแตกง่าย คล้ายอโลหะ เช่น ออกซิเจน กำมะถัน ฟอสฟอรัส เป็นต้น

### แบบจำลองอะตอม

เป็นที่ยอมรับกันแล้วว่าสารต่าง ๆ นั้นประกอบด้วยอะตอม แต่อย่างไรก็ตามยังไม่มีผู้ใดเคยเห็นรูปร่างที่แท้จริงของอะตอม รูปร่างหรือโครงสร้างของอะตอม จึงเป็นเพียงจินตนาการหรือมโนภาพที่สร้างขึ้นเพื่อให้สอดคล้องกับการทดลอง เรียกว่า “แบบจำลองอะตอม” ซึ่งจัดเป็นทฤษฎีประเภทหนึ่งแบบจำลองอะตอมอาจเปลี่ยนแปลงไปได้ ตามผลการทดลองหรือข้อมูลใหม่ ๆ เมื่อแบบจำลองอะตอมเดิมอธิบายไม่ได้ ดังนั้น แบบจำลองอะตอม จึงได้มีการแก้ไขพัฒนาหลายครั้งเพื่อให้สอดคล้องกับการทดลอง นักวิทยาศาสตร์ได้ใช้กล้องจุลทรรศน์อิเล็กตรอนที่มีกำลังขยายสูงมากร่วมกับคอมพิวเตอร์และถ่ายภาพที่เชื่อว่าเป็นภาพภายนอกของอะตอม



อะตอมของทองคำถ่ายภาพด้วยกล้องจุลทรรศน์อิเล็กตรอน

### แบบจำลองอะตอมของดอลตัน

ในปี พ.ศ. 2346 (ค.ศ.1803) จอห์น ดอลตัน (John Dalton) นักวิทยาศาสตร์ ชาวอังกฤษ ได้เสนอทฤษฎีอะตอม เพื่อใช้อธิบายเกี่ยวกับการเปลี่ยนแปลงของสารก่อนและหลังทำปฏิกิริยา รวมทั้งอัตราส่วนโดยมวลของธาตุที่รวมกันเป็นสารประกอบ ซึ่งสรุปได้ดังนี้



1. ธาตุประกอบด้วยอนุภาคเล็ก ๆ หลายอนุภาค อนุภาคเหล่านี้เรียกว่า “อะตอม” ซึ่งแบ่งแยกไม่ได้ และทำให้สูญหายไม่ได้
2. อะตอมของธาตุชนิดเดียวกันมีสมบัติเหมือนกัน เช่น มีมวลเท่ากัน แต่จะมีสมบัติต่างจากอะตอมของธาตุอื่น
3. สารประกอบเกิดจากอะตอมของธาตุมากกว่าหนึ่งชนิดทำปฏิกิริยาเคมีกันในอัตราส่วนที่เป็นเลขลงตัวน้อย ๆ

ทฤษฎีอะตอมของดอลตันใช้อธิบายลักษณะและสมบัติของอะตอมได้เพียงระดับหนึ่ง แต่ต่อมา นักวิทยาศาสตร์ค้นพบข้อมูลบางประการที่ไม่สอดคล้องกับทฤษฎีอะตอมของ ดอลตัน เช่น พบว่าอะตอมของธาตุชนิดเดียวกันอาจมีมวลแตกต่างกันได้ อะตอมสามารถแบ่งแยกได้



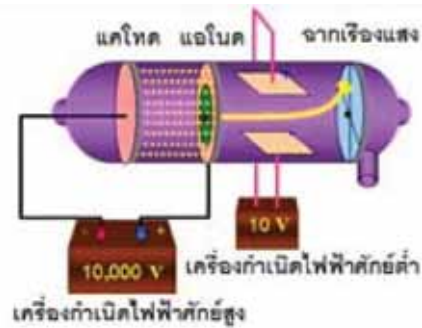
แบบจำลองอะตอมของดอลตัน

### แบบจำลองอะตอมของทอมสัน

เซอร์ โจเซฟ จอห์น ทอมสัน (J.J Thomson) นักวิทยาศาสตร์ชาวอังกฤษ ได้สนใจปรากฏการณ์ที่เกิดขึ้นในหลอดรังสีแคโทด จึงทำการทดลองเกี่ยวกับการนำไฟฟ้าของแก๊สขึ้นในปี พ.ศ. 2440 (ค.ศ. 1897) และได้สรุปสมบัติของรังสีไว้หลายประการ ดังนี้



1. รังสีแคโทดเดินทางเป็นเส้นตรงจากขั้วแคโทดไปยังขั้วแอโนด เนื่องจากรังสีแคโทดทำให้เกิดเงาของวัตถุได้ ถ้านำวัตถุไปขวางทางเดินของรังสี
2. รังสีแคโทดเป็นอนุภาคที่มีมวล เนื่องจากรังสีทำให้ใบพัดที่ขวางทางเดินของรังสีหมุนได้เหมือนลูกลมพัด
3. รังสีแคโทดประกอบด้วยอนุภาคที่มีประจุลบ เนื่องจากเบี่ยงเบนเข้าหาขั้วบวกของสนามไฟฟ้า



หลอดรังสีแคโทด

รังสีแคโทด เบี่ยงเบนเข้าหาขั้วบวกของสนามไฟฟ้า

จากผลการทดลองนี้ ทอมสันอธิบายได้ว่า อะตอมของโลหะที่ขั้วแคโทดเมื่อได้รับกระแสไฟฟ้าที่มีความต่างศักย์สูงจะปล่อยอิเล็กตรอนออกมาจากอะตอม อิเล็กตรอนมีพลังงานสูง และเคลื่อนที่ภายในหลอด ถ้าเคลื่อนที่ชนอะตอมของแก๊สจะทำให้อิเล็กตรอนในอะตอมของแก๊สหลุดออกจากอะตอม อิเล็กตรอนจากขั้วแคโทดและจากแก๊สซึ่งเป็นประจุลบจะเคลื่อนที่ไปยังขั้วแอโนด ขณะเคลื่อนที่ถ้ากระทบฉากที่ฉาบสารเรืองแสง เช่น ZnS ทำให้ฉากเกิดการเรืองแสง ซึ่งทอมสันสรุปว่ารังสีแคโทดประกอบด้วยอนุภาคที่มีประจุลบเรียกว่า “อิเล็กตรอน” และยังได้หาค่าอัตราส่วนประจุต่อมวล ( $e/m$ ) ของอิเล็กตรอนโดยใช้สยามแม่เหล็กและสนามไฟฟ้าช่วยในการหา ซึ่งได้ค่าประจุต่อมวลของอิเล็กตรอนเท่ากับ  $1.76 \times 10.8 \text{ C/g}$  ค่าอัตราส่วน  $e/m$  นี้จะมีค่าคงที่ ไม่ขึ้นอยู่กับชนิดของโลหะที่เป็นขั้วแคโทด และไม่ขึ้นอยู่กับชนิดของแก๊สที่บรรจุอยู่ในหลอดรังสีแคโทด แสดงว่าในรังสีแคโทดประกอบด้วยอนุภาคไฟฟ้าที่มีประจุลบเหมือนกันหมดคือ อิเล็กตรอน นั่นเอง ทอมสันจึงสรุปว่า “อิเล็กตรอนเป็นส่วนประกอบส่วนหนึ่งของอะตอมและอิเล็กตรอนของทุกอะตอมจะมีสมบัติเหมือนกัน”


### การค้นพบโปรตอน

ในปี พ.ศ. 2409 (ค.ศ. 1866) ออยเกน โกลด์ซ์ไตน์ นักวิทยาศาสตร์ชาวเยอรมัน ได้ทำการทดลองโดยเจาะรูที่ขั้วแคโทดในหลอดรังสีแคโทด พบว่าเมื่อผ่านกระแสไฟฟ้าเข้าไปในหลอดรังสีแคโทดจะมีอนุภาคชนิดหนึ่งเคลื่อนที่เป็นเส้นตรงไปในทิศทางตรงกันข้ามกับการเคลื่อนที่ของรังสีแคโทดผ่านรูของขั้วแคโทด และทำให้ฉากด้านหลังขั้วแคโทดเรืองแสงได้ โกลด์ซ์ไตน์ได้ตั้งชื่อว่า “รังสีแคแนล” (canal ray) หรือ “รังสีบวก” (positive ray) สมบัติของรังสีบวก มีดังนี้

1. เดินทางเป็นเส้นตรงไปยังขั้วแคโทด
2. เมื่อผ่านรังสีนี้ไปยังสนามแม่เหล็กและสนามไฟฟ้า รังสีนี้จะเบี่ยงเบนไปในทิศทางตรงข้ามกับรังสีแคโทด แสดงว่ารังสีนี้ประกอบด้วยอนุภาคที่มีประจุไฟฟ้าเป็นบวก
3. มีอัตราส่วนประจุต่อมวลไม่คงที่ ขึ้นอยู่กับชนิดของแก๊สในหลอด และถ้าเป็นแก๊สไฮโดรเจนรังสีนี้จะมีอัตราส่วนประจุต่อมวลสูงสุด เรียกอนุภาคบวกในรังสีแคแนลของไฮโดรเจนว่า “โปรตอน”



4. มีมวลมากกว่ารังสีแคโทด เนื่องจากความเร็วในการเคลื่อนที่ต่ำกว่ารังสีแคโทดทอมสันได้วิเคราะห์การทดลองของโกลด์ ชไตน์ และการทดลองของทอมสัน จึงเสนอแบบจำลองอะตอมว่า “อะตอมเป็นรูปทรงกลมประกอบด้วยเนื้ออะตอมซึ่งมีประจุบวกและมีอิเล็กตรอนซึ่งมีประจุลบกระจายอยู่ทั่วไป อะตอมในสภาพที่เป็นกลางทางไฟฟ้าจะมีจำนวนประจุบวกเท่ากับจำนวนประจุลบ”



แบบจำลองอะตอมของทอมสัน

#### แบบจำลองอะตอมของรัทเทอร์ฟอร์ด

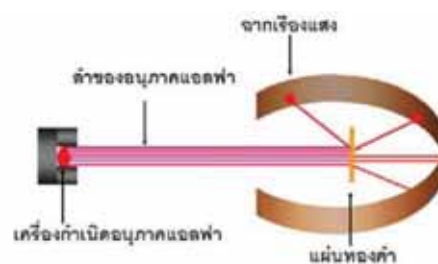

ในปี พ.ศ.2453 (ค.ศ.1910) เซอร์ เออร์เนสต์ รัทเทอร์ฟอร์ด (Sir Ernest Rutherford) ได้ศึกษาแบบจำลองอะตอมของทอมสัน และเกิดความสงสัยว่าอะตอมจะมีโครงสร้างตามแบบจำลองของทอมสันจริงหรือไม่ โดยตั้งสมมติฐานว่า

“ถ้าอะตอมมีโครงสร้างตามแบบจำลองของทอมสันจริง ดังนั้นเมื่อยิงอนุภาคแอลฟาซึ่งมีประจุไฟฟ้าเป็นบวกเข้าไปในอะตอม แอลฟาทุกอนุภาคจะทะลุผ่านเป็นเส้นตรงทั้งหมด เนื่องจากอะตอมมีความหนาแน่นสม่ำเสมอเหมือนกันหมดทั้งอะตอม”

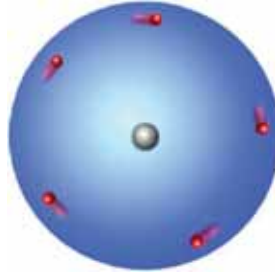


เพื่อพิสูจน์สมมติฐานนี้ รัทเทอร์ฟอร์ดได้ทำการทดลองยิงอนุภาคแอลฟาไปยังแผ่นทองคำบาง ๆ โดยมีความหนาไม่เกิน 10 - 4 cm โดยมีฉากสารเรืองแสงรองรับ ปรากฏผลการทดลอง ดังนี้

1. อนุภาคส่วนมากเคลื่อนที่ทะลุผ่านแผ่นทองคำเป็นเส้นตรง
2. อนุภาคส่วนน้อยเบี่ยงเบนไปจากเส้นตรง
3. อนุภาคส่วนน้อยมากสะท้อนกลับมาด้านหน้าของแผ่นทองคำ

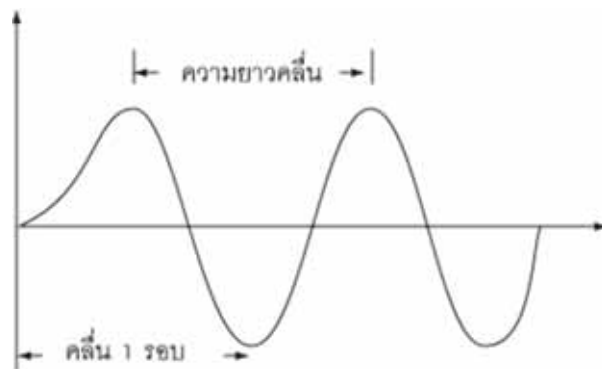


ถ้าแบบจำลองอะตอมของทอมสันถูกต้อง เมื่อยิงอนุภาคแอลฟาไปยังแผ่นทองคำบาง ๆ อนุภาคแอลฟาควรพุ่งทะลุผ่านเป็นเส้นตรงทั้งหมดหรือเบี่ยงเบนเพียงเล็กน้อย เพราะอนุภาคแอลฟามีประจุบวก จะเบี่ยงเบนเมื่อกระทบกับประจุบวกที่กระจายอยู่ในอะตอม แต่แบบจำลองอะตอมของทอมสันอธิบายผลการทดลองของรัทเทอร์ฟอร์ดไม่ได้ รัทเทอร์ฟอร์ดจึงเสนอแบบจำลองอะตอมขึ้นมาใหม่ ดังนี้



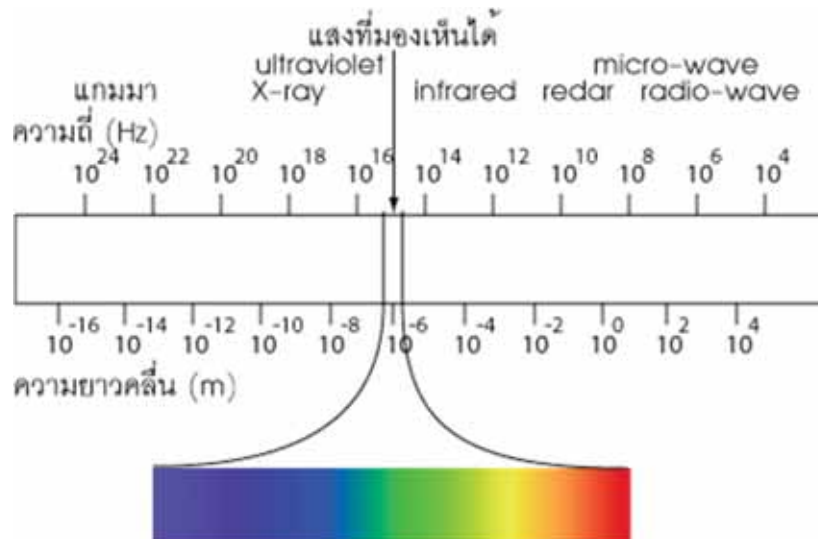
แบบจำลองอะตอมของรัทเทอร์ฟอร์ด

### แบบจำลองอะตอมของโบร์



จากแบบจำลองอะตอมของรัทเทอร์ฟอร์ดทำให้ทราบถึงการจัดโครงสร้างของอนุภาคต่าง ๆ ในนิวเคลียส แต่ไม่ได้อธิบายว่าอิเล็กตรอนรอบนิวเคลียสอยู่ในลักษณะใด นักวิทยาศาสตร์ในลำดับต่อมาได้หาวิธีทดลองเพื่อรวบรวมข้อมูลเกี่ยวกับตำแหน่งของอิเล็กตรอนที่อยู่รอบนิวเคลียส วิธีหนึ่งก็คือการศึกษาสมบัติและปรากฏการณ์ของคลื่นและแสง แล้วนำมาสร้างเป็นแบบจำลอง คลื่นชนิดต่าง ๆ เช่น คลื่นแสง คลื่นเสียง มีสมบัติสำคัญ 2 ประการ คือ ความยาวคลื่นและความถี่


คลื่นแสงเป็นคลื่นแม่เหล็กไฟฟ้าที่มีความถี่และความยาวคลื่นต่าง ๆ กัน ดังรูปต่อไปนี้



### แบบจำลองอะตอมแบบกลุ่มหมอก


อิเล็กตรอนเคลื่อนที่รอบนิวเคลียสอย่างรวดเร็ว ด้วยรัศมีไม่แน่นอนจึงไม่สามารถบอกตำแหน่งที่แน่นอนของอิเล็กตรอนได้บอกได้แต่เพียงโอกาสที่จะพบอิเล็กตรอนในบริเวณต่าง ๆ ปรากฏการณ์แบบนี้เรียกว่ากลุ่มหมอกของอิเล็กตรอน บริเวณที่มีกลุ่มหมอกอิเล็กตรอนหนาแน่นจะมีโอกาสพบอิเล็กตรอนมากกว่าบริเวณที่เป็นหมอกจาง

การเคลื่อนที่ของอิเล็กตรอนรอบนิวเคลียสอาจเป็นรูปทรงกลมหรือรูปอื่น ๆ ขึ้นอยู่กับระดับพลังงานของอิเล็กตรอน แต่ผลรวมของกลุ่มหมอกของอิเล็กตรอนทุกระดับพลังงาน



### การจัดเรียงอิเล็กตรอนในอะตอม

1. อิเล็กตรอนที่วิ่งอยู่รอบ ๆ นิวเคลียสนั้น จะอยู่กันเป็นชั้นๆตามระดับพลังงาน ระดับพลังงานที่อยู่ใกล้นิวเคลียสที่สุด (ชั้น K) จะมีพลังงานต่ำที่สุด และอิเล็กตรอนในระดับพลังงานชั้นถัดออกมาจะมีพลังงานสูงขึ้น ๆตามลำดับ พลังงานของอิเล็กตรอนของระดับชั้นพลังงาน  $K < L < M < N < O < P < Q$  หรือชั้นที่  $1 < 2 < 3 < 4 < 5 < 6 < 7$



2. ในแต่ละชั้นของระดับพลังงาน จะมีจำนวนอิเล็กตรอนได้ไม่เกิน  $2n^2$  เมื่อ  $n =$  เลขชั้น เลขชั้นของชั้น  $K=1, L=2, M=3, N=4, O=5, P=6$  และ  $Q=7$

ตัวอย่าง จำนวน  $e^-$  ในระดับพลังงานชั้น K มีได้ไม่เกิน  $2n^2 = 2 \times 1^2 = 2 \times 1 = 2$

จำนวน  $e^-$  ในระดับพลังงานชั้น N มีได้ไม่เกิน  $2n^2 = 2 \times 4^2 = 2 \times 16 = 32$

3. ในแต่ละระดับชั้นพลังงาน จะมีระดับพลังงานชั้นย่อยได้ไม่เกิน 4 ชั้นย่อย และมีชื่อเรียกชั้นย่อย ดังนี้ s , p , d , f

ในแต่ละชั้นย่อย จะมีจำนวน  $e^-$  ได้ไม่เกิน ดังนี้

ระดับพลังงานชั้นย่อย s มี  $e^-$  ได้ไม่เกิน 2 ตัว ระดับพลังงานชั้นย่อย p มี  $e^-$  ได้ไม่เกิน 6 ตัว ระดับพลังงานชั้นย่อย d มี  $e^-$  ได้ไม่เกิน 10 ตัว ระดับพลังงานชั้นย่อย f มี  $e^-$  ได้ไม่เกิน 14 ตัว เขียนเป็น  $s^2 p^6 d^{10} f^{14}$

| ระดับพลังงานชั้น<br>( n ) | มีจำนวน $e^-$<br>ไม่เกิน(ตัว) | มีชั้นย่อย<br>ไม่เกิน |
|---------------------------|-------------------------------|-----------------------|
| 1                         | 2                             | s                     |
| 2                         | 8                             | s , p                 |
| 3                         | 18                            | s , p , d             |
| 4                         | 32                            | s , p , d , f         |
| 5                         | 50                            | s , p , d , f         |
| 6                         | 72                            | s , p , d , f         |
| 7                         | 98                            | s , p , d , f         |

การจัดเรียงอิเล็กตรอน ให้จัดเรียง  $e^-$  ในระดับพลังงานชั้นย่อยโดยจัดเรียงลำดับตามลูกศร

|     |   |   |   |   |
|-----|---|---|---|---|
| K 1 | s |   |   |   |
| L 2 | s | p |   |   |
| M 3 | s | p | d |   |
| N 4 | s | p | d | f |
| O 5 | s | p | d | f |
| P 6 | s | p | d | f |
| Q 7 | s | p | d | f |

การจัดเรียงอิเล็กตรอนในอะตอม

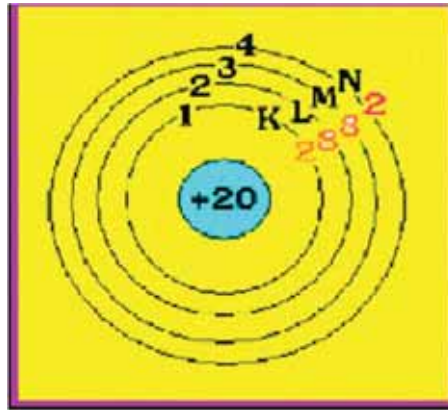
**ตัวอย่าง** จงจัดเรียงอิเล็กตรอนของธาตุ แคลเซียม (Ca)

ธาตุ Ca มีเลขอะตอม = 20 แสดงว่ามี p = 20 และมี e<sup>-</sup> = 20 ตัว (ดูเลขอะตอม จากตารางธาตุ) แล้วจัดเรียง e<sup>-</sup> ดังนี้

|     |                |                |   |   |
|-----|----------------|----------------|---|---|
| K 1 | s <sup>2</sup> |                |   |   |
| L 2 | s <sup>2</sup> | p <sup>6</sup> |   |   |
| M 3 | s <sup>2</sup> | p <sup>6</sup> | d |   |
| N 4 | s <sup>2</sup> | p              | d | f |
| O 5 | s              | p              | d | f |
| P 6 | s              | p              | d | f |
| Q 7 | s              | p              | d | f |

การจัดเรียง e<sup>-</sup> ของธาตุ Ca = 2 , 8 , 8 , 2

มีแผนผังการจัดเรียง e<sup>-</sup> ดังนี้ Ca มีจำนวน e<sup>-</sup> ในระดับพลังงานชั้นนอกสุด = 2 ตัว  
จำนวนอิเล็กตรอนในระดับพลังงานชั้นนอกสุด เรียกว่า เวเลนซ์อิเล็กตรอน (Valence electron)  
ดังนั้น Ca มีเวเลนซ์อิเล็กตรอน = 2



ตารางธาตุ (Periodic table of elements)

## เรื่องที่ 2 ตารางธาตุ (Periodic table of elements)

คือ ตารางที่นักวิทยาศาสตร์ได้รวบรวมธาตุต่าง ๆ ไว้เป็นหมวดหมู่ตามลักษณะ และคุณสมบัติที่เหมือนกัน เพื่อเป็นประโยชน์ในการศึกษาในแต่ละส่วนของตารางธาตุ โดยคาบ (Period) เป็นการจัดแถวของธาตุแนวราบ ส่วนหมู่ (Group) เป็นการจัดแถวของธาตุในแนวตั้ง ซึ่งมีรายละเอียดดังต่อไปนี้

|                   |      |       |      |     |      |       |        |     |     |      |     |     |     |     |  |  |  |  |        |   |     |
|-------------------|------|-------|------|-----|------|-------|--------|-----|-----|------|-----|-----|-----|-----|--|--|--|--|--------|---|-----|
| I A               |      |       |      |     |      |       |        |     |     |      |     |     |     |     |  |  |  |  | VIII A | 2 |     |
| 1                 | II A |       |      |     |      |       |        |     |     |      |     |     |     |     |  |  |  |  |        |   | He  |
| 3                 | 4    |       |      |     |      |       |        |     |     |      |     |     |     |     |  |  |  |  |        |   | 10  |
| 11                | 12   |       |      |     |      |       |        |     |     |      |     |     |     |     |  |  |  |  |        |   | 18  |
| Na                | Mg   | III B | IV B | V B | VI B | VII B | VIII B |     | IB  | II B |     |     |     |     |  |  |  |  |        |   | Ar  |
| 19                | 20   | 21    | 22   | 23  | 24   | 25    | 26     | 27  | 28  | 29   | 30  |     |     |     |  |  |  |  |        |   | 36  |
| K                 | Ca   | Sc    | Ti   | V   | Cr   | Mn    | Fe     | Co  | Ni  | Cu   | Zn  |     |     |     |  |  |  |  |        |   | Kr  |
| 37                | 38   | 39    | 40   | 41  | 42   | 43    | 44     | 45  | 46  | 47   | 48  |     |     |     |  |  |  |  |        |   | 54  |
| Rb                | Sr   | Y     | Zr   | Nb  | Mo   | Tc    | Ru     | Rh  | Pd  | Ag   | Cd  |     |     |     |  |  |  |  |        |   | Xe  |
| 55                | 56   | 57    | 72   | 73  | 74   | 75    | 76     | 77  | 78  | 79   | 80  |     |     |     |  |  |  |  |        |   | 86  |
| Cs                | Ba   | La    | Hf   | Ta  | W    | Re    | Os     | Ir  | Pt  | Au   | Hg  |     |     |     |  |  |  |  |        |   | Rn  |
| 87                | 88   | 89    | 104  | 105 | 106  | 107   | 108    | 109 | 110 | 111  | 112 |     |     |     |  |  |  |  |        |   | 118 |
| Fr                | Ra   | Ac    | Rf   | Db  | Sg   | Bh    | Hs     | Mt  | Ds  | Uuu  | Uub |     |     |     |  |  |  |  |        |   | Uuo |
|                   |      |       |      |     |      |       |        |     |     |      |     |     |     |     |  |  |  |  |        |   |     |
| Lanthanide Series | 58   | 59    | 60   | 61  | 62   | 63    | 64     | 65  | 66  | 67   | 68  | 69  | 70  | 71  |  |  |  |  |        |   |     |
|                   | Ce   | Pr    | Nd   | Pm  | Sm   | Eu    | Gd     | Tb  | Dy  | Ho   | Er  | Tm  | Yb  | Lu  |  |  |  |  |        |   |     |
| Actinide Series   | 90   | 91    | 92   | 93  | 94   | 95    | 96     | 97  | 98  | 99   | 100 | 101 | 102 | 103 |  |  |  |  |        |   |     |
|                   | Th   | Pa    | U    | Np  | Pu   | Am    | Cm     | Bk  | Cf  | Es   | Fm  | Md  | No  | Lr  |  |  |  |  |        |   |     |

ภาพตารางธาตุปัจจุบัน

1. ธาตุหมู่หลัก มีทั้งหมด 8 หมู่ 7 คาบ โดยธาตุที่อยู่ด้านซ้ายของเส้นขั้นบันได จะเป็นโลหะ (Metal) ส่วนทางด้านขวาเป็นอโลหะ (Non metal) ส่วนธาตุที่อยู่ติดกับเส้นขั้นบันไดนั้น จะเป็นกึ่งโลหะ (Metalloid)



- ธาตุทรานซิชัน มีทั้งหมด 8 หมู่ แต่หมู่ 8 มีทั้งหมด 3 หมู่ย่อย จึงมีธาตุต่างๆ รวม 10 หมู่ และมีทั้งหมด 4 คาบ ธาตุอินเนอร์ทรานซิชัน มี 2 คาบโดยมีชื่อเฉพาะเรียกคาบแรกว่าคาบแลนทาไนด์
- (Lanthanide series) และเรียกคาบที่สองว่า คาบแอกทิไนด์ (Actinide series) เพราะเป็นคาบที่อยู่ต่อมาจาก 57La (Lanthanum) และ 89Ac (Actinium) ตามลำดับ คาบละ 14 ตัวรวมเป็น 28 ตัว

### การจัดเรียงธาตุลงในตารางธาตุ

เมื่อทราบการจัดเรียงอิเล็กตรอนของธาตุต่าง ๆ แล้ว จะเห็นว่าสามารถจัดกลุ่มธาตุได้ง่ายขึ้น โดยธาตุที่มีระดับพลังงานเท่ากัน ก็จะถูกจัดอยู่ในคาบเดียวกัน ส่วนธาตุที่มีจำนวนอิเล็กตรอนในระดับพลังงานนอกสุดเท่ากัน ก็จะถูกจัดอยู่ในหมู่เดียวกัน ดังภาพ

|    |    |    |    |   |   |    |    |    |
|----|----|----|----|---|---|----|----|----|
| 1  |    |    |    |   |   |    |    | 8  |
| H  |    |    |    |   |   |    |    | He |
| Li | Be | B  | C  | N | O | F  | Ne |    |
| Na | Mg | Al | Si | P | S | Cl | Ar |    |

ภาพการจัดเรียงธาตุลงในตารางธาตุ

### ประเภทของธาตุในตารางธาตุ

**ธาตุโลหะ (Metal)** โลหะทรานซิชันเป็นต้นฉบับของโลหะ ธาตุโลหะเป็นธาตุที่มีสถานะเป็นของแข็ง (ยกเว้นปรอท ที่เป็นของเหลว) มีผิวที่มันวาว นำความร้อน และไฟฟ้าได้ดี มีจุดเดือดและจุดหลอมเหลวสูง (ช่วงอุณหภูมิระหว่างจุดหลอมเหลวกับจุดเดือดจะต่างกันมาก) ได้แก่ โซเดียม (Na) เหล็ก (Fe) แคลเซียม (Ca) ปรอท (Hg) อะลูมิเนียม (Al) แมกนีเซียม (Mg) สังกะสี (Zn) ดีบุก (Sn) เป็นต้น

**ธาตุอโลหะ (Non metal)** มีได้ทั้งสามสถานะ คุณสมบัติส่วนใหญ่จะตรงข้ามกับอโลหะ เช่น ผิวไม่มันวาว ไม่นำไฟฟ้า ไม่นำความร้อน จุดเดือดและจุดหลอมเหลวดำ เป็นต้น ได้แก่ คาร์บอน (C) ฟอสฟอรัส (P) กำมะถัน (S) โบรมีน (Br) ออกซิเจน (O<sub>2</sub>) คลอรีน (Cl<sub>2</sub>) ฟลูออรีน (F<sub>2</sub>) เป็นต้น

**ธาตุกึ่งโลหะ (Metalloid)** เป็นธาตุกึ่งตัวนำ คือ มันจะสามารถนำไฟฟ้าได้เฉพาะในภาวะหนึ่งเท่านั้น ธาตุกึ่งโลหะเหล่านี้จะอยู่บริเวณเส้นขั้นบันได ได้แก่ โบรอน (B) ซิลิคอน (Si) เป็นต้น

ธาตุกัมมันตภาพรังสี เป็นธาตุที่มีส่วนประกอบของนิวตรอน กับโปรตอน ไม่เหมาะสม ( $>1.5$ )  
ธาตุที่ 83 ขึ้นไป เป็นธาตุกัมมันตภาพรังสีทุกไอโซโทปมีครึ่งชีวิต

### สมบัติของธาตุตามตารางธาตุ

#### สมบัติของธาตุในแต่ละหมู่

#### ธาตุหมู่ I A หรือโลหะอัลคาไล (alkaline metal)

\* โลหะอัลคาไล ได้แก่ ลิเทียม โซเดียม โพแทสเซียม รูบิเดียม ซีเซียม และแฟรนเซียม มีสมบัติดังนี้ คือ  
เป็นโลหะอ่อน ใช้นิคมตัดได้

- เป็นหมู่โลหะมีความว่องไวต่อการเกิดปฏิกิริยามากที่สุด สามารถทำปฏิกิริยากับออกซิเจน  
ในอากาศ จึงต้องเก็บไว้ในน้ำมัน

- ออกไซด์และไฮดรอกไซด์ของโลหะอัลคาไลละลายน้ำได้สารละลายเบสแก่
- เมื่อเป็นไอออน จะมีประจุบวก
- มีจุดเดือดและจุดหลอมเหลวต่ำ มีความหนาแน่นต่ำเมื่อเทียบกับโลหะอื่น ๆ
- มีเวเลนซ์อิเล็กตรอน = 1

#### ธาตุหมู่ II A หรือโลหะอัลคาไลน์เอิร์ธ (alkaline earth)

โลหะอัลคาไลน์เอิร์ธ ได้แก่ เบริลเลียม แมกนีเซียม แคลเซียม สตรอนเซียม แบเรียม เรเดียม มีสมบัติดังนี้

- มีความว่องไวต่อการเกิดปฏิกิริยามาก แต่น้อยกว่าโลหะอัลคาไล
- ทำปฏิกิริยากับน้ำได้สารละลายเบส สารประกอบโลหะอัลคาไลน์เอิร์ธพบมากในธรรมชาติ
- โลหะอัลคาไลน์เอิร์ธมีความว่องไวแต่ยังน้อยกว่าโลหะอัลคาไล
- โลหะอัลคาไลน์เอิร์ธมีเวเลนซ์อิเล็กตรอน = 2

#### ธาตุหมู่ III

- ธาตุหมู่ III ได้แก่ B Al Ga In Tl มีสมบัติดังนี้ คือ
- มีเวเลนซ์อิเล็กตรอน = 3

#### ธาตุหมู่ IV

- ธาตุหมู่ IV ได้แก่ C Si Ge Sn Pb มีสมบัติดังนี้ คือ
- มีเวเลนซ์อิเล็กตรอน = 4

#### ธาตุหมู่ V

- ธาตุหมู่ V ได้แก่ N P As Sb Bi มีสมบัติดังนี้ คือ
- มีเวเลนซ์อิเล็กตรอน = 5



## ธาตุหมู่ VI

- ธาตุหมู่ VI ได้แก่ O S Se Te Po
- มีเวเลนซ์อิเล็กตรอน = 6

## ธาตุหมู่ VII หรือหมู่แฮโลเจน (Halogen group)

- หมู่ธาตุแฮโลเจน ได้แก่ ฟลูออรีน คลอรีน โบรมีน ไอโอดีน และแอสทาทีน
- เป็นหมู่โลหะที่ว่องไวต่อการเกิดปฏิกิริยามากที่สุด (F ว่องไวต่อการเกิดปฏิกิริยามากที่สุด)
- เป็นธาตุที่มีพิษทุกธาตุและมีกลิ่นแรง
- โมเลกุลของธาตุแฮโลเจนประกอบด้วย 2 อะตอม (Cl<sub>2</sub> Br<sub>2</sub> I<sub>2</sub>)
- แฮโลเจนไอออนมีประจุลบหนึ่ง (F<sup>-</sup> Cl<sup>-</sup> Br<sup>-</sup> I<sup>-</sup> At<sup>-</sup>)

## ธาตุหมู่ VIII หรือก๊าซเฉื่อย หรือก๊าซมีตระกูล (Inert gas )

- ก๊าซมีตระกูล ได้แก่ ฮีเลียม นีออน อาร์กอน คริปทอน ซีนอน และเรดอน
- มีเวเลนซ์อิเล็กตรอนเต็ม 8 อิเล็กตรอน จึงทำให้เป็นก๊าซที่ไม่ว่องไวต่อการเกิดปฏิกิริยา
- ก๊าซมีตระกูลอยู่เป็นอะตอมเดี่ยว แต่ยกเว้น Kr กับ Xe ที่สามารถสร้างพันธะได้

## ขนาดอะตอมของธาตุ

หน่วยพิโกเมตร

|          |          |          |          |          |          |          |          |          |          |          |          |          |          |          |          |          |          |
|----------|----------|----------|----------|----------|----------|----------|----------|----------|----------|----------|----------|----------|----------|----------|----------|----------|----------|
| H<br>1   |          |          |          |          |          |          |          |          |          |          |          |          |          |          |          |          | He<br>2  |
| Li<br>3  | Be<br>4  |          |          |          |          |          |          |          |          |          |          | B<br>5   | C<br>6   | N<br>7   | O<br>8   | F<br>9   | Ne<br>10 |
| Na<br>11 | Mg<br>12 |          |          |          |          |          |          |          |          |          |          | Al<br>13 | Si<br>14 | P<br>15  | S<br>16  | Cl<br>17 | Ar<br>18 |
| K<br>19  | Ca<br>20 | Sc<br>21 | Ti<br>22 | V<br>23  | Cr<br>24 | Mn<br>25 | Fe<br>26 | Co<br>27 | Ni<br>28 | Cu<br>29 | Zn<br>30 | Ga<br>31 | Ge<br>32 | As<br>33 | Se<br>34 | Br<br>35 | Kr<br>36 |
| Rb<br>37 | Sr<br>38 | Y<br>39  | Zr<br>40 | Nb<br>41 | Mo<br>42 | Tc<br>43 | Ru<br>44 | Rh<br>45 | Pd<br>46 | Ag<br>47 | Cd<br>48 | In<br>49 | Sn<br>50 | Sb<br>51 | Te<br>52 | I<br>53  | Xe<br>54 |
| Cs<br>55 | Ba<br>56 | La<br>57 | Hf<br>58 | Ta<br>59 | W<br>60  | Re<br>61 | Os<br>62 | Ir<br>63 | Pt<br>64 | Au<br>65 | Hg<br>66 | Tl<br>67 | Pb<br>68 | Bi<br>69 | Po<br>70 | At<br>71 | Rn<br>72 |

ขนาดอะตอมของธาตุต่าง ๆ

ขนาดของอะตอมนั้นถ้าจะพิจารณาถึงปัจจัยต่าง ๆ ที่ส่งผลกระทบต่อขนาดของอะตอมนั้น อาจแบ่งแยกออกได้เป็นข้อ เรียงตามลำดับความสำคัญได้ ดังนี้

1. จำนวนระดับพลังงาน
2. จำนวนโปรตอน
3. จำนวนอิเล็กตรอน

**ขนาดไอออนของธาตุ**

อะตอมของธาตุนั้น สามารถเกิดเป็นไอออนได้ เมื่อธาตุใดๆ เกิดเป็นไอออนแล้ว นอกจากจะทำให้มีประจุไฟฟ้าแล้ว ยังส่งผลให้ขนาดของอะตอมของธาตุนั้นๆ เปลี่ยนแปลงไปอีกด้วย โดยปกติประจุบวกจะมีขนาดอะตอมเล็กกว่าอะตอมเดิม เนื่องจากโปรตอนสามารถดึงอิเล็กตรอนได้มากขึ้น ส่วนประจุลบจะมีขนาดใหญ่กว่าอะตอมเดิม เนื่องจากโปรตอนดึงอิเล็กตรอนได้น้อยลง ดังแผนภาพ

| Group 1A                        | Group 2A                         | Group 3A                         | Group 6A                         | Group 7A                        |
|---------------------------------|----------------------------------|----------------------------------|----------------------------------|---------------------------------|
| Li <sup>+</sup> Li<br>0.68 1.52 | Be <sup>2+</sup> Be<br>0.31 1.17 | B <sup>3+</sup> B<br>0.23 0.88   | O O <sup>2-</sup><br>0.73 1.40   | F F <sup>-</sup><br>0.71 1.33   |
| Na <sup>+</sup> Na<br>0.97 1.86 | Mg <sup>2+</sup> Mg<br>0.66 1.40 | Al <sup>3+</sup> Al<br>0.51 1.43 | S S <sup>2-</sup><br>1.04 1.84   | Cl Cl <sup>-</sup><br>0.99 1.81 |
| K <sup>+</sup> K<br>1.23 2.27   | Ca <sup>2+</sup> Ca<br>0.99 1.97 | Ga <sup>3+</sup> Ga<br>0.62 1.22 | Se Se <sup>2-</sup><br>1.17 1.96 | Br Br <sup>-</sup><br>1.14 1.96 |
| Rb <sup>+</sup> Rb<br>1.47 2.47 | Sr <sup>2+</sup> Sr<br>1.33 2.15 | In <sup>3+</sup> In<br>0.81 1.63 | Te Te <sup>2-</sup><br>1.43 2.21 | I I <sup>-</sup><br>1.33 2.20   |

..... หน่วยพิโกเมตร

ลักษณะสำคัญของธาตุภายในหมู่เดียวกัน

ลักษณะสำคัญของธาตุภายในหมู่เดียวกัน

ธาตุซึ่งอยู่ในหมู่เดียวกันมีลักษณะสำคัญ ดังนี้

1. ธาตุที่อยู่ในหมู่เดียวกันมีจำนวนเวเลนซ์อิเล็กตรอนเท่ากัน จึงทำให้มีสมบัติคล้ายกัน เช่น ธาตุลิเทียม ( ${}_{3}\text{Li}$  มีการจัดอิเล็กตรอนเป็น 2, 1) และธาตุโซเดียม ( ${}_{11}\text{Na}$  มีการจัดอิเล็กตรอน เป็น 2, 8, 1) ต่างก็มีเวเลนซ์อิเล็กตรอนเท่ากับ 1 ทั้งสองธาตุจึงมีคุณสมบัติคล้ายกัน เป็นต้น

2. ธาตุในหมู่ย่อย A (IA - VIII A) ยกเว้นธาตุแทรนซิชัน มีเวเลนซ์อิเล็กตรอนเท่ากับเลขที่ของหมู่ เช่น ธาตุในหมู่ I จะมีเวเลนซ์อิเล็กตรอนเท่ากับ 1 ธาตุในหมู่ II จะมีเวเลนซ์อิเล็กตรอนเท่ากับ 2 เป็นต้น

3. ธาตุแทรนซิชันส่วนใหญ่มีเวเลนซ์อิเล็กตรอนเท่ากับ 2 ยกเว้นบางธาตุ เช่น Cr Cu เป็นต้น มีเวเลนซ์อิเล็กตรอนเท่ากับ 1

4. ธาตุในหมู่เดียวกันจะมีจำนวนระดับพลังงานไม่เท่ากัน โดยมีระดับพลังงานเพิ่มขึ้นจากบนลงล่าง เช่น  ${}_{3}\text{Li}$   ${}_{11}\text{Li}$   ${}_{19}\text{K}$   ${}_{37}\text{Rb}$   ${}_{55}\text{Cs}$  เป็นธาตุที่อยู่ในหมู่ที่ 1 จากบนลงล่าง มีจำนวนระดับพลังงานเท่ากับ 2 3 4 5 และ 6 ตามลำดับ

5. ธาตุในหมู่เดียวกันจากบนลงล่าง (จากคาบที่ 1 ถึงคาบที่ 7) จำนวนอิเล็กตรอนหรือจำนวนโปรตอนหรือเลขอะตอมจะเพิ่มขึ้น ดังนี้ 2, 8, 8, 18, 18, 32 ตามลำดับ เช่น ธาตุ หมู่ 1

H (Z = 1) Li (Z = 3) Na (Z = 11) K (Z = 19) Rb (Z = 37) Cs (Z = 55) Fr (Z = 87)

ลักษณะสำคัญของธาตุภายในคาบเดียวกัน

ธาตุซึ่งอยู่ภายในคาบเดียวกันมีลักษณะสำคัญ ดังนี้

1. ธาตุในคาบเดียวกันมีเวเลนซ์อิเล็กตรอนไม่เท่ากัน โดยมีเวเลนซ์อิเล็กตรอนเพิ่มขึ้นจากซ้ายไปขวา ดังนั้น ธาตุในคาบเดียวกันจึงมีสมบัติต่างกัน ยกเว้นธาตุแทรนซิชัน ซึ่งส่วนใหญ่มีจำนวนเวเลนซ์อิเล็กตรอนเท่ากับ 2 เท่ากัน จึงมีคุณสมบัติคล้ายกันทั้งในหมู่และในคาบเดียวกัน

2. ธาตุในคาบเดียวกันมีจำนวนระดับพลังงานเท่ากัน และเท่ากับเลขที่ของคาบ เช่น ธาตุในคาบที่ 2 ทุกธาตุ (Li ถึง Ne) ต่างก็มีจำนวนระดับพลังงานเท่ากับ 2 คือ ชั้น K (n = 1) และชั้น L (n = 2) เป็นต้น

### ประโยชน์ของตารางธาตุ

1. การจัดธาตุเป็นหมู่และคาบ ทำให้ทราบสมบัติของธาตุในหมู่เดียวกันได้
2. สามารถที่จะทราบสมบัติต่าง ๆ จากธาตุในหมู่เดียวกัน จากธาตุที่ทราบสมบัติต่าง ๆ แล้ว
3. นำไปทำนายสมบัติของธาตุต่าง ๆ ที่ยังไม่ทราบในปัจจุบันไว้ล่วงหน้าได้
4. ทำให้การศึกษาเรื่องสมบัติของธาตุ เป็นไปอย่างรวดเร็ว

### แบบทดสอบบทที่ 7

#### เรื่องธาตุและตารางธาตุ

คำชี้แจง ให้กาเครื่องหมาย X ทับอักษรหน้าคำตอบที่ถูกต้องที่สุด เพียงคำตอบเดียว

1. สมบัติที่ใช้ในการจำแนกสารข้อใดถูกต้องที่สุด
  - ก. โลหะเป็นธาตุที่สามารถนำไฟฟ้าได้ทุกสถานะ
  - ข. อโลหะทุกชนิดไม่สามารถนำไฟฟ้าได้
  - ค. ออกไซด์ของโลหะเมื่อละลายน้ำมีสมบัติเป็นเบส
  - ง. โลหะมีค่าพลังงานไอออไนส์ เพิ่มขึ้นตามเลขอะตอม
2. วัสดุชนิดใดและเพชรจัดอยู่ในข้อใด
 

|                      |                      |
|----------------------|----------------------|
| ก. ธาตุต่างชนิดกัน   | ข. อันธรูปของคาร์บอน |
| ค. ไอโซโทปของคาร์บอน | ง. สารประกอบคาร์บอน  |
3. ธาตุใดแสดงความเป็นเบสมากที่สุด
 

|                    |                                   |
|--------------------|-----------------------------------|
| ก. MgO             | ข. Al <sub>2</sub> O <sub>3</sub> |
| ค. SO <sub>2</sub> | ง. NO                             |
4. ในตารางธาตุนั้นธาตุทั้งหมดเรียงตามลำดับ
 

|                     |                |
|---------------------|----------------|
| ก. ขนาดอะตอม        | ข. มวลของอะตอม |
| ค. อะตอมมิกนัมเบอร์ | ง. แมสนัมเบอร์ |
5. ในหมู่ธาตุเฉื่อยเดียวกัน ธาตุใดทำปฏิกิริยาได้ดีที่สุด
 

|       |       |
|-------|-------|
| ก. He | ข. Ne |
| ค. Ar | ง. Kr |
6. สารประกอบออกไซด์ของธาตุ X มีสูตร XO แสดงว่าอย่างไร
 

|                                     |                               |
|-------------------------------------|-------------------------------|
| ก. ธาตุ X เป็นธาตุหมู่ 2            | ข. ธาตุ X เป็นธาตุหมู่ 6      |
| ค. ธาตุ X อยู่หมู่เดียวกับกับธาตุ O | ง. ธาตุ X มีวาเลนซ์อิเล็กตรอน |
7. ธาตุที่อยู่หมู่เดียวกัน จะมีสิ่งใดเท่ากัน
 

|                    |                           |
|--------------------|---------------------------|
| ก. จำนวนอิเล็กตรอน | ข. จำนวนโปรตอน            |
| ค. จำนวนนิวตรอน    | ง. จำนวนวาเลนซ์อิเล็กตรอน |

8. เหตุใดที่ใช้ฮีเลียมผสมกับออกซิเจน สำหรับผู้ที่ลงไปทำงานในทะเลลึก

ก. หาง่าย

ข. ราคาถูก

ค. ละลายในโลหิตน้อย

ง. รวมกับออกซิเจนได้ดี

9. ชาติเฉื่อยมีวาเลนซ์อิเล็กตรอนเท่าใด

ก. 2

ข. 8

ค. 18

ง. 2 หรือ 8

10. ชาติ X อยู่ในหมู่ 6 คาบที่ 3 ดังนั้นชาติ X มีเลขอะตอมเท่าใด

ก. 8

ข. 9

ค. 16

ง. 24

## บทที่ 8

### สมการเคมีและปฏิกิริยาเคมี

#### สาระสำคัญ

การเกิดสมการเคมีและปฏิกิริยาเคมี ปัจจัยที่มีผลต่อปฏิกิริยาเคมี ตลอดจนผลที่เกิดจากปฏิกิริยาเคมีต่อสิ่งแวดล้อม

#### ผลการเรียนรู้ที่คาดหวัง

1. อธิบายการเกิดสมการเคมีและปฏิกิริยาเคมีและดุลสมการเคมีได้
2. อธิบายปัจจัยที่มีผลต่อปฏิกิริยาเคมีได้
3. อธิบายผลที่เกิดจากปฏิกิริยาเคมีต่อชีวิตและสิ่งแวดล้อมได้

#### ขอบข่ายเนื้อหา

เรื่องที่ 1 สมการเคมี

เรื่องที่ 2 หลักการเขียนสมการเคมี

เรื่องที่ 3 ปฏิกิริยาเคมีที่พบในชีวิตประจำวัน

## เรื่องที่ 1 สมการเคมี

**สมการเคมี (Chemical equation)** คือ สิ่งที่เขียนให้ทราบถึงการเปลี่ยนแปลงทางเคมี ซึ่งเป็นตัวแทนของการเปลี่ยนแปลงทางเคมี แสดงให้เห็นว่าสารตั้งต้นใดทำปฏิกิริยากันแล้วเกิดเป็นสารผลิตภัณฑ์ใด สารตั้งต้นอยู่ทางซ้ายของลูกศร และสารผลิตภัณฑ์คือสารที่เกิดจากปฏิกิริยาเคมี จะอยู่ทางขวาของลูกศร สัญลักษณ์ในวงเล็บแสดงสถานะ ได้แก่

|              |     |                  |
|--------------|-----|------------------|
| G (gas)      | แทน | แก๊ส             |
| l (liquid)   | แทน | ของเหลว          |
| s (solid)    | แทน | ของแข็งหรือตะกอน |
| aq (aqueous) | แทน | สารที่ละลายในน้ำ |

สมการเคมีที่ดุลถูกต้องแล้ว ตัวเลขที่ใช้ในการดุล หมายถึง จำนวน โมลของสารตั้งต้นที่ทำปฏิกิริยาพอดีกันและจำนวน โมลของสารผลิตภัณฑ์ที่เกิดขึ้นในสมการนั้นสมการเคมี โดยทั่วไปแล้วจะใช้สัญลักษณ์แทนของธาตุต่าง ๆ มีลูกศรที่ชี้จากด้านซ้ายของสมการไปทางด้านขวา เพื่อบ่งบอกว่าสารตั้งต้น(reactant) ทางด้านซ้ายมือ ทำปฏิกิริยาเกิดสารใหม่ขึ้นมาเรียกว่าผลิตภัณฑ์ (product) ทางด้านขวามือ ดังนั้น จากสมการเคมีเราสามารถหาคำนวณหาได้ว่าใช้สารตั้งต้นเท่าไรแล้วจะได้ผลิตภัณฑ์ออกมาเท่าไร การเปลี่ยนแปลงทางเคมีสามารถอธิบายได้โดยใช้หลัก 3 ประการ ดังนี้

### กฎที่หนึ่ง : กฎทรงมวล (Law of Conservation of Mass)

กล่าวว่า “ ในการเปลี่ยนแปลงทางเคมี มวลของสสารจะไม่สูญหาย ” กล่าวคือ มวลของสสารก่อนและหลังการเปลี่ยนแปลงจะเท่ากัน

### กฎที่สอง : กฎสัดส่วนคงที่ (Law of Definite Proportions)

กล่าวว่า “ เมื่อธาตุมารวมตัวกันเกิดเป็นสารประกอบหนึ่งจะมีสัดส่วน โดยมวลคงที่ ”

### กฎที่สาม : กฎสัดส่วนพหุคูณ (Law of Multiple Proportions)

กล่าวว่า “ เมื่อธาตุรวมตัวกันเกิดเป็นสารประกอบได้มากกว่าหนึ่งชนิด ถ้าให้มวลอะตอมของธาตุหนึ่งคงที่ ”

จากกฎทรงมวล เราจึงต้องทำให้แต่ละข้างของสมการต้องมีจำนวนอะตอม และประจุที่เท่ากัน เรียกว่า การดุลสมการ ซึ่งมีข้อสังเกต ดังนี้

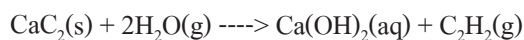
1. พยายามดุลธาตุที่เหมือนกันให้มีจำนวนอะตอมทั้งสองด้านเท่ากันก่อน
2. ในบางปฏิกิริยามีกลุ่มอะตอมให้ดุลเป็นกลุ่ม
3. ใช้สัมประสิทธิ์(ตัวเลขที่ไว้ข้างหน้าอะตอม)ช่วยในการดุลสมการ แล้วนับจำนวนอะตอม

แต่ละข้างให้เท่ากัน เช่น

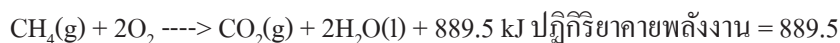




ในการเขียนสมการเคมี ถ้าให้สมบรูณ์ยิ่งขึ้น ควรบอกสถานะของสารแต่ละชนิดด้วยคือ ถ้าเป็นของแข็ง (solid) ใช้ตัวอักษรย่อว่า "s" ถ้าเป็นของเหลว (liquid) ใช้อักษรย่อว่า "l" เป็นก๊าซ (gas) ใช้อักษรย่อว่า "g" และถ้าเป็นสารละลายในน้ำ (aqueous) ใช้อักษรย่อว่า "aq" เช่น



7. การเขียนสมการบางครั้งจะแสดงพลังงานของปฏิกิริยาเคมีด้วยเช่น

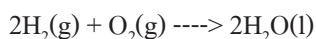


พิจารณาลักษณะของอะตอมของธาตุในสารตั้งต้นหรือในธาตุของผลิตภัณฑ์แล้ววิเคราะห์ลักษณะของการเปลี่ยนแปลง สูตรของสารตั้งต้นมาเป็นสูตรของผลิตภัณฑ์ อาจจำแนกประเภทของปฏิกิริยาเคมีได้เป็น 3 ประเภท ดังนี้

### 1. ปฏิกิริยาการรวมตัว (Combination)

ปฏิกิริยารวมตัวเกิดจากสาร โมเลกุลเล็กกว่ารวมกันเป็น โมเลกุลใหญ่ หรือเกิดจากธาตุทำปฏิกิริยากับธาตุได้สารประกอบ ดังตัวอย่างต่อไปนี้

ตัวอย่างที่ 1      แก๊ส  $\text{H}_2$  รวมกับแก๊ส  $\text{O}_2$  ได้น้ำ ( $\text{H}_2\text{O}$ )

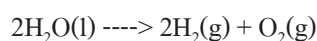


ตัวอย่างที่ 2       $2\text{Al}(\text{s}) + 3\text{Cl}_2(\text{g}) \text{ ----> } 2\text{AlCl}_3$

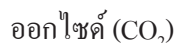
### 2. ปฏิกิริยาการแยกสลาย (Decomposition)

ปฏิกิริยาการแยกสลายเกิดจากสาร โมเลกุลใหญ่แยกสลายให้สาร โมเลกุลเล็กๆ ดังตัวอย่างต่อไปนี้

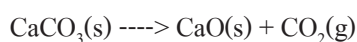
ตัวอย่างที่ 1      แยกน้ำด้วยกระแสไฟฟ้าให้แก๊ส  $\text{O}_2$  และ  $\text{H}_2$



ตัวอย่างที่ 2      เผาหินปูนด้วยแคลเซียมคาร์บอเนต ( $\text{CaCO}_3$ ) จะได้แคลเซียมออกไซด์ ( $\text{CaO}$ ) และแก๊สคาร์บอนไดออกไซด์ได้



เผา



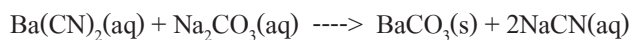
### 3. ปฏิกิริยาการแทนที่ (Replacement)

ปฏิกิริยาการแทนที่เป็นปฏิกิริยาที่สารหนึ่งเข้าไปแทนที่สารในอีกสารหนึ่ง

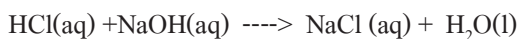
เช่น  $\text{Zn}(\text{s}) + \text{CuSO}_4 \text{ ----> } \text{ZnSO}_4 + \text{Cu}$

#### 4.ปฏิกิริยาการแลกเปลี่ยน มีหลายประเภทเช่น

ปฏิกิริยาคตะกอน เป็นปฏิกิริยาแลกเปลี่ยนชนิดหนึ่งซึ่งเมื่อแยกเขียนเป็นสมการไอออนจะพบว่ามีการตกตะกอนเช่น



ปฏิกิริยาสะเทิน (Neutralization Reaction) เป็นปฏิกิริยาแลกเปลี่ยนประเภทหนึ่ง เกิดกับปฏิกิริยาระหว่างกรดกับเบส ได้เกลือกับน้ำ เช่น



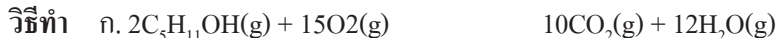
ปฏิกิริยาการเกิดแก๊ส (Gas Forming Reaction) เป็นปฏิกิริยาเคมี ที่เกิดผลิตภัณฑ์เป็นแก๊สสารตั้งต้นมักเป็นปฏิกิริยาการแลกเปลี่ยนระหว่างกรดหรือเบสกับสารเคมีอื่น

ปฏิกิริยารีดอกซ์ (Redox Reaction) เป็นปฏิกิริยาที่มีการถ่ายโอนอิเล็กตรอนกันหรือเป็นปฏิกิริยาที่มีการเปลี่ยนแปลงเลขออกซิเดชันของธาตุทั้งเพิ่มและลดในปฏิกิริยาเดียวกัน

**ตัวอย่าง** ในการสันดาปของเอทิลแอลกอฮอล์( $\text{C}_2\text{H}_5\text{OH}$ ) ดังนี้



ก.จงหาจำนวนโมลของก๊าซออกซิเจนที่ต้องใช้ในการสันดาปกับ 1 โมลของเอทิลแอลกอฮอล์



**วิธีทำที่ 1** จากสมการ  $\text{C}_2\text{H}_5\text{OH}_2$  โมล ?  $\text{O}_2 = 15$  โมล

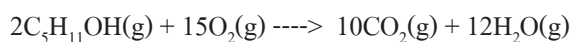
$$\text{C}_2\text{H}_5\text{OH} 1 \text{ โมล ? } \text{O}_2 = (15 \text{ mol} / 2 \text{ mol}) = 7.5 \text{ โมล}$$

**วิธีที่ 2**  $\text{mol}$  ของ  $\text{C}_2\text{H}_5\text{OH} / (\text{mol}$  ของ  $\text{O}_2) = 2 / 15$  (โมล)

$$(1 \text{ mol}) / (\text{mol } \text{O}_2) = 2 / 15$$

$$\text{โมลของ } \text{O}_2 = 15 / 2 \text{ โมล} = 7.5 \text{ โมล}$$

ข.จงหามวลของก๊าซคาร์บอนไดออกไซด์ที่เกิดขึ้นจากการใช้เอทิลแอลกอฮอล์มากเกินพอ แล้วเกิดก๊าซคาร์บอนไดออกไซด์ 22 กรัม



**วิธีที่ 1.** จากสมการ  $\text{CO}_2$  10 mol มาจาก  $\text{O}_2 = 15$  mol

$$\text{CO}_2 10 \text{ g} \text{ มาจาก } \text{O}_2 = 15? 22.4 \text{ dm}^3 \text{ STP}$$

$$\text{CO}_2 22 \text{ g} \text{ มาจาก } \text{O}_2 = (15 \times 22.4 / 10) \times (22 / 44) = 16.8 \text{ dm}^3$$

วิธีที่ 2. ให้  $O_2$  มีปริมาตร =  $x$  dm<sup>3</sup> STP มีจำนวน  $x/22.4$  mol

$CO_2$  22 g มีจำนวน =  $22/44 = 1/2$  mol

$$(\text{mol } O_2)/(\text{mol } CO_2) = 15/10$$

$$x/22.4 = 15/10$$

$$1/2 \text{ mol}$$

$$? X = 15/10 \cdot 1/2 \cdot 22.4 = 16.8 \text{ dm}^3$$

ปริมาตรของ  $O_2$  ที่ STP = 16.8 dm<sup>3</sup>

ตัวอย่าง นำฟอสเฟตโซเดียมไฮดรอกไซด์ ( $Na_3PO_4 \cdot xH_2O$ ) หนัก 3.615 g มาเผาจนสูญหายไป 2.055 g เมื่อเผาแล้วให้เหลือเกลือที่ปราศจากน้ำ จงหาค่า  $x$  ในสูตรสมการของผลิตภัณฑ์นั้น (มวลอะตอมของ H = 1, O = 16, Na = 23, P = 31)

วิธีทำ  $Na_3PO_4 \cdot xH_2O(s) \rightarrow Na_3PO_4(s) + xH_2O(g)$

$$\text{มวลโมเลกุลของ } Na_3PO_4 \cdot xH_2O = (164 + 18x)$$

จากสมการ  $Na_3PO_4 \cdot xH_2O$  1 mol เผาแล้วเกิด  $H_2O = x$  mol

$$Na_3PO_4 \cdot xH_2O \quad (164 + 18x) \text{ g} \text{ เผาแล้วเกิด } H_2O = x \cdot 18 \text{ g}$$

$$Na_3PO_4 \cdot xH_2O \quad 3.615 \text{ g} \text{ เผาแล้วเกิด } H_2O = (18 \cdot g \cdot 3.615 \text{ g}) / (164 + 18x) \text{ g}$$

$$\text{มวลของ } H_2O \text{ หนัก} = 65.07x / ((164 + 18x))$$

$$X = 12.00$$

ตัวอย่าง แร่ชนิดหนึ่งมี ZnS 79.55% นำแร่ชนิดนี้หนัก 445 g ไปทำปฏิกิริยากับก๊าซออกซิเจนจนสมบูรณ์

ดังสมการ



จงหาของก๊าซ  $O_2$  ที่ต้องใช้ทั้งหมด และหาปริมาตรของก๊าซ  $SO_2$  ที่ STP

(มวลอะตอมของ O = 16, S = 32, Zn = 65.39)

วิธีทำ  $2ZnS + 3O_2 \rightarrow 2Zn(s) + 2SO_2$

$$\text{แร่ } 100 \text{ g} \text{ มี } ZnS = 79.5 \text{ g}$$

$$\text{แร่ } 100 \text{ g} \text{ มี } ZnS = 79.5 \text{ g} \cdot 445 \text{ g} = 353.78 \text{ g}$$

$$100 \text{ g}$$

จากสมการ  $ZnS$  2 mol =  $O_2$  = 3 mol

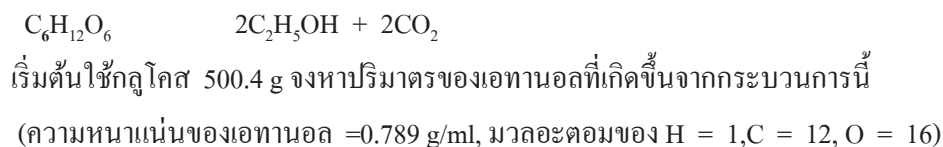
$$ZnS \quad 2 \cdot 97.39 \text{ g} = O_2 = 3 \cdot 32 \text{ g}$$

$$ZnS \quad 353.78 \text{ g} = O_2 = (3 \cdot 32 \text{ g} \cdot 353.78 \text{ g}) / (2 \cdot 97.38 \text{ g}) = 174.38 \text{ g}$$

$$\text{มวลของก๊าซ } O_2 = 174.38 \text{ g}$$

จากสมการ  $\text{ZnS } 2?97.39 \text{ g เกิด } \text{SO}_2 = 2?22.4 \text{ dm}^3$   
 $\text{ZnS } 353.78 \text{ g เกิด } \text{SO}_2 = (2?22.4\text{dm}^3?353.78\text{g})/(2?97.39\text{g})$   
 มวลของก๊าซ  $\text{SO}_2 = 81.37 \text{ dm}^3 \text{ STP}$

**ตัวอย่าง** การหมักเป็นกระบวนการทางเคมีอย่างซับซ้อนในการทำไวน์ โดยการใช้น้ำตาลหมักให้เปลี่ยนเป็นเอทานอลและก๊าซคาร์บอนไดออกไซด์



จากสมการ  $\text{C}_6\text{H}_{12}\text{O}_6 \quad 1 \text{ mol } \text{C}_2\text{H}_5\text{OH} = 2 \text{ mol}$

$$\text{C}_6\text{H}_{12}\text{O}_6 \quad 180 \text{ g } \text{C}_2\text{H}_5\text{OH} = 2?46 \text{ g}$$

$$\text{C}_6\text{H}_{12}\text{O}_6 \quad 500.4 \text{ g } \text{C}_2\text{H}_5\text{OH} = (2?46\text{g}?500.4)/180\text{g}$$

$$180 \text{ g}$$

$$\text{มวลของเอทานอล} = 255.79 \text{ g}$$

$$\text{แต่สูตร } d = M/V$$

$$\text{แทนค่า ; } 0.789 \text{ g/ml} = 255.76\text{g}/V$$

$$V = 255.76\text{g}/(0.789\text{g/ml}) = 324.16 \text{ ml}$$

$$\text{ปริมาตรของเอทานอล} = 324.16 \text{ ml}$$

## ปฏิกิริยาเคมี

**ปฏิกิริยาเคมี (chemical reaction)** หมายถึง การเปลี่ยนแปลงที่ทำให้เกิดสารใหม่ มีสมบัติต่างจากสารเดิม สารก่อนการเปลี่ยนแปลงเรียกว่า **สารตั้งต้น (reactant)** และสารที่เกิดขึ้นใหม่เรียกว่า **ผลิตภัณฑ์ (product)** ในขณะที่เกิดปฏิกิริยาเคมี นอกจากได้สารใหม่แล้วยังอาจเกิดการเปลี่ยนแปลงในด้านอื่นๆ อีกได้ เช่น การเปลี่ยนแปลงพลังงาน

### ประเภทของปฏิกิริยาเคมี

ปฏิกิริยาเคมีจำแนกได้ 3 ประเภท ดังนี้

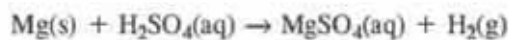
**1. ปฏิกิริยาการรวมตัว (combination)** เป็นปฏิกิริยาที่เกิดจากการรวมตัวของสารโมเลกุลเล็ก รวมกันเป็นสารโมเลกุลใหญ่ หรือเกิดจากการรวมตัวของธาตุ ซึ่งจะ ได้สารประกอบ ดังเช่น



2. ปฏิกิริยาการแยกสลาย (decomposition) เป็นปฏิกิริยาที่เกิดการแยกสลายของสาร โมเลกุลใหญ่ ให้ได้สาร โมเลกุลเล็กลง ดังเช่น



3. ปฏิกิริยาการแทนที่ (replacement) เป็นปฏิกิริยาการแทนที่ของสารหนึ่งเข้าไปแทนที่อีกสารหนึ่ง ดังเช่น



### ปัจจัยที่มีผลต่อการเกิดปฏิกิริยาเคมี

ปัจจัยที่มีผลต่อการเกิดปฏิกิริยาเคมี หมายถึงสิ่งที่จะมีผลทำให้ปฏิกิริยาเคมีเกิดขึ้นเร็วหรือช้า ได้แก่

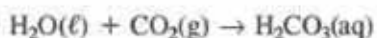
1. ความเข้มข้น สารละลายที่มีความเข้มข้นมากกว่าจะเกิดปฏิกิริยาได้เร็วกว่าสารละลายที่เจือจาง
2. พื้นที่ผิว ของแข็งที่มีพื้นที่ผิวมากกว่าจะเกิดปฏิกิริยาได้เร็วกว่า
3. อุณหภูมิ ที่ที่มีอุณหภูมิสูงกว่าจะเกิดปฏิกิริยาได้เร็วกว่าที่ที่มีอุณหภูมิต่ำกว่า
4. ตัวเร่งปฏิกิริยาหรือตัวคะตะไลต์ (catalyst) เป็นสารชนิดต่าง ๆ ที่สามารถทำให้เกิดปฏิกิริยาได้เร็วขึ้น

## เรื่องที่ 3 ปฏิกิริยาเคมีที่พบในชีวิตประจำวัน

ปฏิกิริยาเคมีเกิดจากสารทำปฏิกิริยากันแล้วได้สารใหม่ ซึ่งสารนั้นคือผลิตภัณฑ์ ผลิตภัณฑ์ที่ได้นั้นมีทั้งประโยชน์และโทษ รอบ ๆ ตัวเรามีปฏิกิริยาเกิดขึ้นมากมาย เช่น ปฏิกิริยาชีวเคมีในร่างกาย การเกษตรกรรม อุตสาหกรรม ตัวอย่างเหล่านี้ ล้วนเกี่ยวกับปฏิกิริยาเคมีทั้งสิ้น จึงเห็นได้ว่า ปฏิกิริยาเคมีมีความสำคัญต่อชีวิตอย่างยิ่ง

### ตัวอย่างปฏิกิริยาเคมีที่พบในชีวิตประจำวัน

4.1 ฝนกรด เมื่อเกิดฝนตกลงมา น้ำ ( $\text{H}_2\text{O}$ ) จะละลายแก๊สต่าง ๆ ที่อยู่ในอากาศตามธรรมชาติ เช่น แก๊สคาร์บอนไดออกไซด์ ( $\text{CO}_2$ ) แก๊สซัลเฟอร์ไดออกไซด์ ( $\text{SO}_2$ ) แก๊สไนโตรเจนไดออกไซด์ ( $\text{NO}_2$ ) เมื่อน้ำละลายแก๊สคาร์บอนไดออกไซด์ในอากาศ จะทำให้น้ำฝนมีสภาพเป็นกรดคาร์บอนิก ( $\text{H}_2\text{CO}_3$ ) ดังสมการ



เมื่อน้ำฝนที่มีสภาพเป็นกรดไหลไปตามภูเขาหินปูนก็จะทำปฏิกิริยากับแคลเซียมคาร์บอเนต ( $\text{CaCO}_3$ ) ในหินปูน และได้สารละลายแคลเซียมไฮโดรเจนคาร์บอเนต ( $\text{Ca}(\text{HCO}_3)_2$ ) ออกมา ดังสมการ



เมื่อสารละลายแคลเซียมไฮโดรเจนคาร์บอเนตไหลซึมไปตามเพดานถ้ำ น้ำจะระเหยไปเหลือแต่หินปูนเกาะจนกลายเป็นหินย้อยที่เพดานถ้ำ ถ้าสารละลายนี้หยดลงบนพื้นถ้ำ เมื่อน้ำระเหยไปจะกลายเป็นหินงอกต่อไป

สรุปปฏิกิริยาเคมีในการเกิดหินย้อยและหินงอก



#### 4.2 ถ่านไฟฉาย (Dry cell)

ถ่านไฟฉายเป็นเซลล์กัลวานิกที่ใช้ประโยชน์มากในปัจจุบัน ชั้นนอกสุดของถ่านไฟฉายจะมีกระดาษหรือโลหะห่อหุ้ม ชั้นถัดมาจะเป็นกล่อง (Zn) จะทำหน้าที่เป็นขั้วแอโนด ตรงกลางกล่อง (Zn) ใไว้บรรจุสารและ Zn จะทำหน้าที่เป็นขั้วแอโนดตรงกลางกล่อง Zn จะมีแท่งแกรไฟต์ ทำหน้าที่เป็นขั้วแคโทด ส่วนรอบ ๆ แท่งแกรไฟต์จะมีของผสมระหว่างผงถ่านแอมโมเนียมคลอไรด์ชั้น แมงกานีส (IV) ออกไซด์ และกาวบรรจุอยู่เป็นอิเล็กโทรไลต์ จะเห็นว่าในถ่านไฟฉาย ไม่ใช่ใช้อิเล็กโทรไลต์ที่เป็นของเหลว ทำให้สะดวกต่อการนำไปใช้งาน

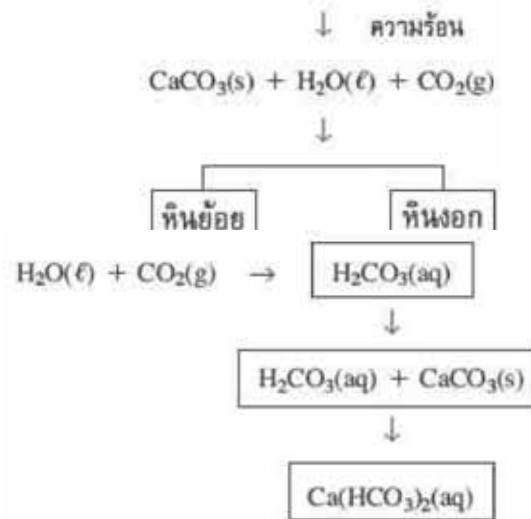
#### 4.3 เซลล์สะสมไฟฟ้าแบบตะกั่ว (Lead storage cell)

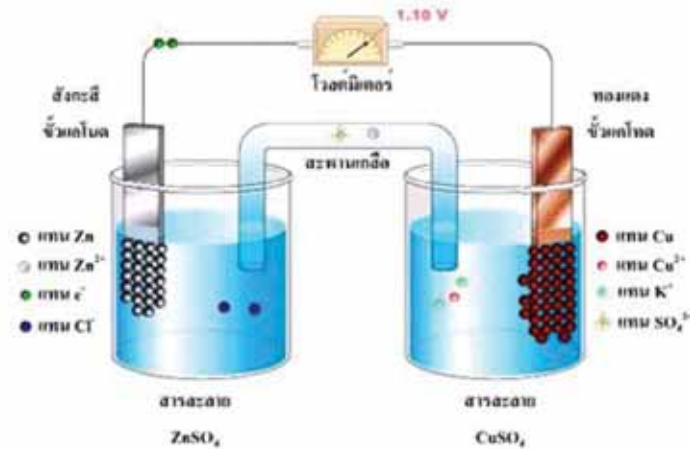
หรือที่เรียกกันทั่วไปว่า แบตเตอรี่รถยนต์ แต่ละเซลล์จะให้ศักย์ไฟฟ้า 2 โวลต์ ถ้าต้องการใช้กระแสไฟฟ้าที่มีศักย์ไฟฟ้าเท่าใด ก็นำเซลล์หลาย ๆ เซลล์มาต่อกันอย่างอนุกรม ในแต่ละเซลล์ของเซลล์สะสมไฟฟ้าแบบตะกั่ว จะประกอบด้วยแผ่นตะกั่วซึ่งมีลักษณะคล้ายฟองน้ำบรรจุในช่องว่างของแผ่นกริดส์ (gride) และแผ่นกริดส์อีกชุดหนึ่งซึ่งมีเลอ (IV) ออกไซด์บรรจุอยู่แผ่นกริดส์ทั้ง 2 ชุดอยู่ในสารละลาย  $H_2SO_4$  ซึ่งทำหน้าที่เป็นอิเล็กโทรไลต์

#### 4.4 การชุบโลหะด้วยไฟฟ้า

เป็นกระบวนการที่มีการเคลื่อนที่ของโลหะที่ต้องการชุบลงบนผิวโลหะอีกชนิดหนึ่ง การชุบโลหะ หลักการชุบโลหะด้วยกระแสไฟฟ้า มีดังนี้

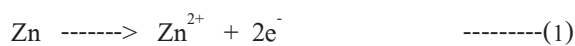
1. สิ่งที่ต้องการชุบให้ต่อกับขั้วแคโทด (ขั้วลบ) ของแบตเตอรี่
2. จะชุบด้วยโลหะอะไรก็นำโลหะนั้นต่อกับขั้วแอโนด (ขั้วบวก) ของแบตเตอรี่
3. ในอิเล็กโทรไลต์ต้องประกอบด้วย ไอออนของโลหะชนิดเดียวกันกับที่ต่อกับขั้วแอโนด



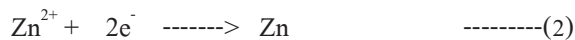


4.กระแสไฟฟ้าที่ใช้ต้องเป็นกระแสตรง

ที่ขั้วแอโนด(ขั้วบวก)โลหะ Zn จะจ่าย  $e^-$  ตามสมการ



ที่ขั้วแคโทด(ขั้วลบ)  $\text{Zn}^{2+}$  จะมารับ  $e^-$  เป็นโลหะ Zn เคลือบที่ผิวงของตะปู Fe



#### 4.5 สบู่

เป็นสารอินทรีย์ จำพวกเกลือที่ได้จากการทำปฏิกิริยาระหว่างไขมันจากพืชหรือสัตว์กับเบส เบสที่ใช้ในการทำสบู่ มีลักษณะที่ต่างกันอยู่ 2 ชนิด คือ

1.สบู่เหลว เตรียมโดยใช้กรดไขมันจากพืชหรือสัตว์ ทำปฏิกิริยากับสารละลายโพตัสเซียมไฮดรอกไซด์ (KOH) ชาวบ้านเรียกว่า ค่างคลี

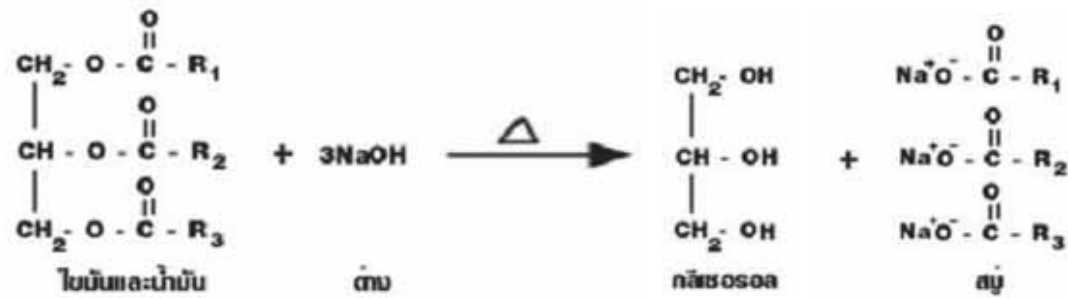
2.สบู่แข็ง เป็นสบู่ที่เตรียมขึ้นจากการใช้กรดไขมันจากพืชหรือสัตว์ ทำปฏิกิริยากับสารละลายโซเดียมไฮดรอกไซด์ หรือโซดาไฟ (NaOH) สบู่มีชื่อทางเคมีว่า โซเดียมสเตียเรต ซึ่งมีสูตรทางเคมีคือ  $\text{C}_{17}\text{H}_{35}\text{CooNa}$

#### การผลิตสบู่

การผลิตสบู่ ใช้กรดไขมันจากพืชหรือสัตว์ทำปฏิกิริยากับสารละลายเบส แล้วจะให้ผลเป็นไปตามสมการ



ในการผลิตสบู่จะเติมโซเดียมคลอไรด์(เกลือแกง) ลงไปในกรรมวิธีการผลิตเพื่อให้สบู่กับกลีเซอรอลแยกออกจากกัน ซึ่งเรียกโซเดียมคลอไรด์ว่า เป็นตัว Salting out



สารที่เติมลงในสบู่ เพื่อให้สบู่มีคุณภาพดี ได้แก่

1. สารเพิ่มความสะอาด เช่น โซดาซักผ้า โซเดียมซิลิเกต โซเดียมฟอสเฟต
2. สารฆ่าเชื้อโรค มักใส่ในสบู่ฟอกตัวเพื่อฆ่าเชื้อโรคได้ดีขึ้น
3. สารแต่งเติมกลิ่น ได้แก่ หัวน้ำหอม
4. สารดับกลิ่น ซึ่งปนหรือผสมไปพร้อมกับสารฆ่าเชื้อโรค

#### 4.6 ผงซักฟอก

ผงซักฟอกโดยทั่วไป จะมีค่าความเป็นกรด - เบส ประมาณ 9.0 - 10.6 ส่วนประกอบที่สำคัญ ได้แก่

1. ฟอสเฟต ทำให้น้ำมีสภาพเป็นเบสพอเหมาะกับการทำปฏิกิริยาของผงซักฟอก หรือกันไม่ให้สิ่งสกปรกกลับเข้ามาจับเส้นใยได้อีก
2. โซเดียมซิลิเกต ป้องกันไม่ให้ตะกอนสิ่งสกปรกจับเสื้อผ้าขณะซัก ทำให้น้ำมีสภาพเป็นเบสอ่อน
3. สารฟอกขาว เช่น เปอร์โพเรต ช่วยทำให้เสื้อผ้าที่ซักมีความขาวสะอาดขึ้น
4. โซเดียมคาร์บอนซีเมธิลเซลลูโลส (C.M.C.) ไม่ให้ผงซักฟอกเกิดตะกอนขึ้นขณะซักล้าง ช่วยจับอนุภาคสิ่งสกปรกที่หลุดออกมาไม่ให้กลับไปจับเสื้อผ้าอีก ช่วยให้รู้สึกนุ่มมือขณะซักผ้า
5. น้ำหอม สี ยาฆ่าเชื้อโรค และสารลดแรงตึงผิว



## แบบฝึกหัดบทที่ 8

### เรื่อง สมการเคมีและปฏิกิริยาเคมี

1. การทดลองใดที่ทำให้โลหะสุกก่อนได้
 

|                   |                   |
|-------------------|-------------------|
| ก. Cu ใน $ZnSO_4$ | ข. Na ใน $AgNO_3$ |
| ค. Ag ใน $CuSO_4$ | ง. Mg ใน $ZnSO_4$ |
  
2. เซลล์กานไฟฉายถ่านเปลี่ยนกล่องที่ทำด้วย Zn เป็น เหล็ก (Fe) จะมีผลอย่างไร
  - ก. ไม่มีกระแสไฟฟ้าเกิดขึ้น
  - ข. ถ่านไฟฉายมีอายุการใช้งานนานกว่าเดิม
  - ค. จะมีค่าความต่างศักย์ไฟฟ้าต่ำกว่าเดิม
  - ง. จะมีค่าความต่างศักย์ไฟฟ้าสูงกว่าเดิม
  
3. การป้องกันการสุกก่อนของเหล็ก ทำได้หลายวิธี ยกเว้นข้อใด
  - ก. การทาสีหรือน้ำมัน
  - ข. เคลือบหรือฉาบผิวโลหะบางชนิด เช่น สังกะสี
  - ค. เชื่อมด้วยโลหะที่รับอิเล็กตรอนได้ง่ายกว่าเหล็ก
  - ง. ใส่สารละลายที่ป้องกันสนิม เช่น โซเดียมไนไตรท์
  
4. หลักการที่ถูกต้องในการชุบโลหะด้วยกระแสไฟฟ้า
  - ก. สิ่งที่ต้องชุบต้องเป็นขั้วบวก
  - ข. จะชุบด้วยโลหะใดใช้โลหะนั้นเป็นขั้วลบ
  - ค. อิเล็กโตรไลต์จะต้องเป็นไอออนของโลหะชนิดเดียวกับโลหะที่จะชุบ
  - ง. การชุบโลหะด้วยกระแสไฟฟ้า ต้องใช้กระแสไฟฟ้าสลับ
  
5. ถ้าต้องการชุบสังกะสี ด้วยเงิน ควรทำการทดลองดังข้อใด
  - ก. เงินเป็น แอโนด สังกะสีเป็น แคโทด สารละลาย  $Ag^{2+}$  เป็นอิเล็กโตรไลต์
  - ข. สังกะสีเป็น แอโนด เงินเป็นแคโทด สารละลาย  $Ag^{2+}$  เป็นอิเล็กโตรไลต์
  - ค. สังกะสีเป็นแอโนด เงินเป็นแคโทด สารละลาย  $Zn^{2+}$  เป็นอิเล็กโตรไลต์
  - ง. เงินเป็น แอโนด สังกะสีเป็น แคโทด สารละลาย  $Zn^{2+}$  เป็นอิเล็กโตรไลต์

### เรื่องที่ 3 ธาตุกัมมันตภาพรังสี

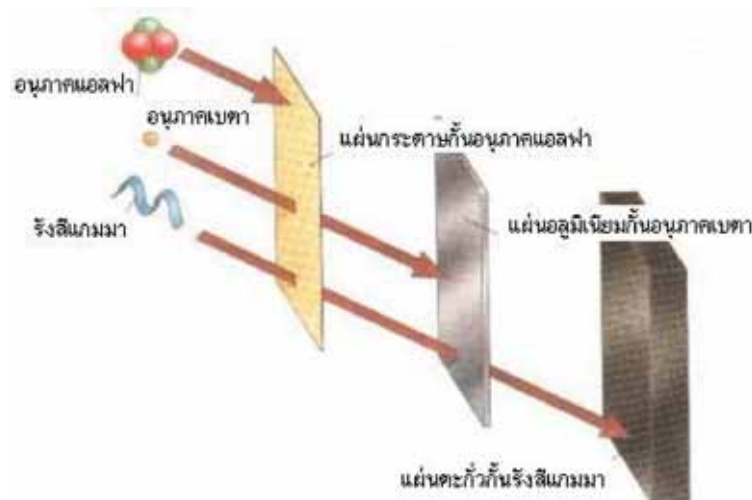
กัมมันตภาพรังสี (Radioactivity) หมายถึง รังสีที่แผ่ออกมาได้เองจากธาตุบางชนิด

ธาตุกัมมันตภาพรังสี หมายถึง ธาตุที่มีในธรรมชาติที่แผ่รังสีออกมาได้เอง

เฮนรี เบคเคอเรล นักฟิสิกส์ชาวฝรั่งเศส เป็นผู้ค้นพบกัมมันตภาพรังสีโดยบังเอิญ ในขณะที่ทำการวิเคราะห์เกี่ยวกับรังสีเอกซ์ กัมมันตภาพรังสีมีสมบัติแตกต่างจากรังสีเอกซ์ คือ มีความเข้มข้นน้อยกว่ารังสีเอกซ์ การแผ่รังสีเกิดขึ้นอย่างต่อเนื่องตลอดเวลา รังสี เป็นปรากฏการณ์ธรรมชาติ บางชนิดเป็นคลื่นแม่เหล็กไฟฟ้า เช่น รังสีเอกซ์ รังสีอัลตราไวโอเล็ต รังสีอินฟราเรด บางอย่างเป็นอนุภาค เช่น รังสีที่เกิดจากอนุภาคอิเล็กตรอน รังสีที่ได้จากธาตุกัมมันตภาพรังสีมี 3 ชนิด คือ รังสีแอลฟา รังสีเบต้า และรังสีแกมมา

ชนิดของกัมมันตภาพรังสี มี 3 ชนิด คือ

1. รังสีแอลฟา (alpha,  $\alpha$ ) คือ นิวเคลียสของอะตอมธาตุฮีเลียม  $4\text{He}^2$  มีประจุไฟฟ้า +2 มีมวลมาก ความเร็วต่ำ อำนาจทะลุทะลวงน้อย มีพลังงานสูงมากทำให้เกิดการแตกตัวเป็นไอออนได้ดีที่สุด
2. รังสีเบต้า (Beta,  $\beta$ ) มี 2 ชนิด คือ อิเล็กตรอน  $0e-1$  (ประจุลบ) และ โพซิตรอน  $0e+1$  (ประจุบวก) มีความเร็วสูงมากใกล้เคียงกับความเร็วแสง
3. รังสีแกมมา (gamma,  $\gamma$ ) คือ รังสีที่ไม่มีประจุไฟฟ้า หมายถึง โฟตอนหรือควอนตัมของแสง มีอำนาจในการทะลุทะลวงได้สูงมาก ไม่เบี่ยงเบนในสนามแม่เหล็กและสนามไฟฟ้า เป็นคลื่นแม่เหล็กไฟฟ้าที่มีความถี่สูงกว่ารังสีเอกซ์



### การเกิดกัมมันตภาพรังสี

1. เกิดจากนิวเคลียสในสภาวะพื้นฐานได้รับพลังงาน ทำให้นิวเคลียสกระโดดไปสู่ระดับพลังงานสูงขึ้น ก่อนกลับสู่สภาวะพื้นฐาน นิวเคลียสจะคายพลังงานออกมาในรูปรังสีแกมมา
2. เกิดจากนิวเคลียสที่อยู่ในสภาวะเสถียร แต่มีอนุภาคไม่สมดุล นิวเคลียสจะปรับตัวแล้วคายอนุภาคที่ไม่สมดุลออกมาเป็นอนุภาคแอลฟาหรือเบตา

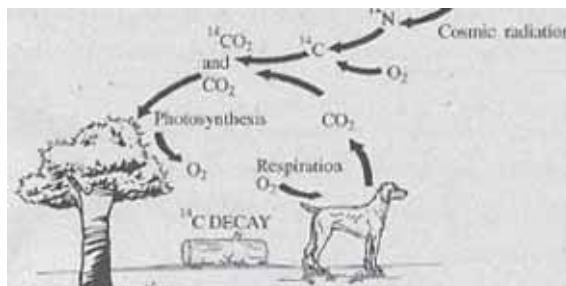
### คุณสมบัติของกัมมันตภาพรังสี

1. เดินทางเป็นเส้นตรง
2. บางชนิดเกิดการเลี้ยวเบนเมื่อผ่านสนามแม่เหล็กและสนามไฟฟ้า เช่น a, b
3. มีอำนาจในการทะลุสารต่าง ๆ ได้ดี
4. เมื่อผ่านสารต่าง ๆ จะสูญเสียพลังงานไปโดยการทำให้สารนั้นแตกตัวเป็นไอออน ซึ่งไอออนเหล่านั้นจะก่อให้เกิดปรากฏการณ์อื่น ๆ เช่น ปฏิกิริยาเคมีเกิดรอยดำบนฟิล์มถ่ายรูป

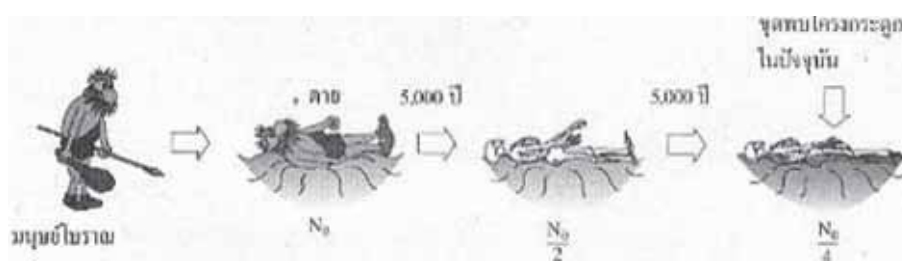
### ประโยชน์และโทษของกัมมันตภาพรังสี

#### ประโยชน์ของธาตุกัมมันตภาพรังสี

1. ด้านธรณีวิทยา มีการใช้ C-14 กำหนดหาอายุของวัตถุโบราณ หรืออายุของซากดึกดำบรรพ์ ซึ่งหาได้คั้งนี้ ในบรรยากาศมี C-14 ซึ่งเกิดจากไนโตรเจน รวมตัวกับนิวตรอนจากรังสีคอสมิกจนเกิดปฏิกิริยาแล้ว C-14 ที่เกิดขึ้นจะทำปฏิกิริยากับก๊าซออกซิเจน แล้วผ่านกระบวนการสังเคราะห์แสงของพืชและสัตว์กินพืช คนกินสัตว์และพืช ในขณะที่พืชหรือสัตว์ยังมีชีวิตอยู่ C-14 จะถูกรับเข้าไปและขับออกตลอดเวลา เมื่อสิ่งมีชีวิตตายลง การรับ C-14 ก็จะสิ้นสุดลงและมีการสลายตัวทำให้ปริมาณลดลงเรื่อย ๆ ตามครึ่งชีวิตของ C-14 ซึ่งเท่ากับ 5730 ปี



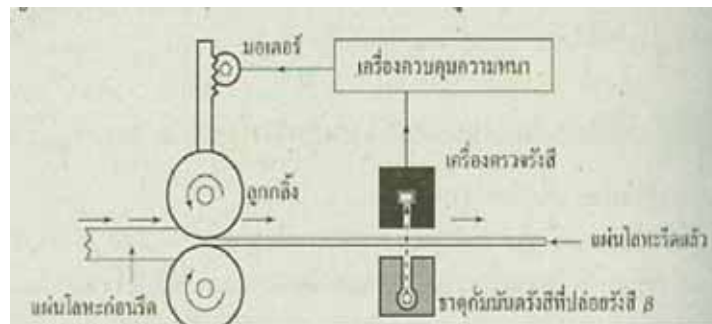
ดังนั้น ถ้าทราบอัตราการสลายตัวของ C-14 ในขณะที่ยังมีชีวิตอยู่และทราบอัตราการสลายตัวในขณะที่ต้องการคำนวณอายุวัตถุนั้นก็สามารถทำนายอายุได้ เช่น ซากสัตว์โบราณชนิดหนึ่งมีอัตราการสลายตัวของ C-14 ลดลงไปครึ่งหนึ่งจากของเดิมขณะที่ยังมีชีวิตอยู่ เนื่องจาก C-14 มีครึ่งชีวิต 5730 ปี จึงอาจสรุปได้ว่าซากสัตว์โบราณชนิดนั้นมีอายุประมาณ 5730 ปี



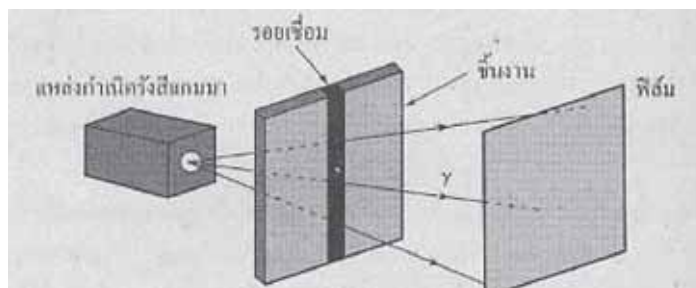
2. ด้านการแพทย์ ใช้รักษาโรคมะเร็ง ในการรักษาโรคมะเร็งบางชนิด กระทำได้โดยการฉายรังสีแกมมาที่ได้จาก โคบอลต์-60 เข้าไปทำลายเซลล์มะเร็ง ผู้ป่วยที่เป็นมะเร็งในระยะแรกสามารถรักษาให้หายขาดได้ แล้วยังใช้โซเดียม-24 ที่อยู่ในรูปของ NaCl ฉีดเข้าไปในเส้นเลือด เพื่อตรวจการไหลเวียนของโลหิต โดย โซเดียม-24 จะสลายให้รังสีเบตาซึ่งสามารถตรวจวัดได้ และสามารถบอกได้ว่าการตีบตันของเส้นเลือดหรือไม่

3. ด้านเกษตรกรรม มีการใช้ธาตุกัมมันตภาพรังสีติดตามระยะเวลาการหมุนเวียนแร่ธาตุในพืช โดยเริ่มต้นจากการดูดซึมที่รากจนกระทั่งถึงการคายออกที่ใบ หรือใช้ศึกษาความต้องการแร่ธาตุของพืช

4. ด้านอุตสาหกรรม ในอุตสาหกรรมการผลิตแผ่นโลหะ จะใช้ประโยชน์จากกัมมันตภาพรังสีในการควบคุมการรีดแผ่นโลหะ เพื่อให้ได้ความหนาสม่ำเสมอตลอดแผ่น โดยใช้รังสีเบตาซึ่งผ่านแนวตั้งฉากกับแผ่นโลหะที่รีดแล้ว แล้ววัดปริมาณรังสีที่ทะลุผ่านแผ่นโลหะออกมาด้วยเครื่องวัดรังสี ถ้าความหนาของแผ่นโลหะที่รีดแล้วผิดไปจากความหนาที่ตั้งไว้ เครื่องวัดรังสีจะส่งสัญญาณไปควบคุมความหนา โดยสั่งให้มอเตอร์กดหรือผ่อนลูกกลิ้ง เพื่อให้ได้ความหนาตามต้องการ



ในอุตสาหกรรมการผลิตถังแก๊ส อุตสาหกรรมก่อสร้าง การเชื่อมต่อท่อส่งน้ำมันหรือแก๊ส จำเป็นต้องตรวจสอบความเรียบร้อยในการเชื่อมต่อโลหะ เพื่อต้องการดูว่าการเชื่อมต่อนั้นเหนียวแน่นดีหรือไม่ วิธีการตรวจสอบทำได้ โดยใช้รังสีแกมมาซึ่งผ่านบริเวณการเชื่อมต่อ ซึ่งอีกด้านหนึ่งจะมีฟิล์มมารับรังสีแกมมาที่ทะลุผ่านออกมา ภาพการเชื่อมต่อที่ปรากฏบนฟิล์ม จะสามารถบอกได้ว่าการเชื่อมต่อนั้นเรียบร้อยหรือไม่



### โทษของธาตุกัมมันตภาพรังสี

เนื่องจากรังสีสามารถทำให้ตัวกลางที่มันเคลื่อนที่ผ่านเกิดการแตกตัวเป็นไอออนได้ รังสีจึงมีอันตรายต่อมนุษย์ ผลของรังสีต่อมนุษย์สามารถแยกได้เป็น 2 ประเภท คือ

#### 1. ผลทางพันธุกรรม

จะมีผลทำให้การสร้างเซลล์ใหม่ในร่างกายมนุษย์เกิดการกลายพันธุ์ โดยเฉพาะเซลล์สืบพันธุ์

#### 2. ความป่วยไข้จากรังสี

ส่วนผลที่ทำให้เกิดความป่วยไข้จากรังสี เนื่องจากเมื่ออวัยวะส่วนใดส่วนหนึ่งของร่างกายได้รับรังสี โมเลกุลของธาตุต่าง ๆ ที่ประกอบเป็นเซลล์จะแตกตัว ทำให้เกิดการป่วยไข้ได้

### หลักในการป้องกันอันตรายจากรังสี

1. ใช้เวลาเข้าไปใกล้บริเวณที่มีกัมมันตภาพรังสีให้น้อยที่สุด
2. พยายามอยู่ให้ห่างจากกัมมันตภาพรังสีให้มากที่สุดเท่าที่จะทำได้
3. ใช้ตะกั่ว คอนกรีต น้ำ หรือพาราฟิน เป็นเครื่องกำบังบริเวณที่มีการแผ่รังสี

### สารกัมมันตภาพรังสีกับผลกระทบต่อสิ่งแวดล้อม

สารกัมมันตภาพรังสีสามารถเข้าสู่สิ่งแวดล้อมทางบก ทางทะเล และสิ่งแวดล้อมชายฝั่งได้ ทั้งทางตรงและทางอ้อมจากกิจกรรมต่าง ๆ ของมนุษย์ เช่น การผลิตพลังงานจากสารกัมมันตภาพรังสี การทดลองนิวเคลียร์ การใช้สารกัมมันตภาพรังสี ทางการแพทย์และทางการเกษตรตลอดทั้งการปฏิบัติการต่าง ๆ ที่เกี่ยวข้องกับการจัดการและการกำจัดของเสียกัมมันตภาพรังสี รวมไปถึงการขนส่งวัสดุกัมมันตภาพรังสี ที่อาจเกิดการรั่วไหลจากอุบัติเหตุหรือการจัดเก็บที่ไม่เหมาะสม สารกัมมันตภาพรังสีดังกล่าว เมื่อเข้าสู่สิ่งแวดล้อมจะก่อให้เกิดอันตรายต่อสุขภาพของมนุษย์และต่อสิ่งแวดล้อมโดยตรงจากการปนเปื้อนในห่วงโซ่อาหาร

วิธีในการควบคุมป้องกัน ลด และขจัดภาวะมลพิษจากสารกัมมันตภาพรังสี คือ การหยุดยั้งมิให้มีการปล่อยทิ้งสารกัมมันตภาพรังสีลงสู่สิ่งแวดล้อม และการดำรงไว้ซึ่งกลไกในการกำหนดมาตรฐานและการประกันคุณภาพ ที่ใช้บังคับอยู่ในทางระหว่างประเทศ เพื่อสนับสนุนการวัดและการประเมินปริมาณกัมมันตภาพรังสีในสิ่งแวดล้อมก็เป็นกลไกสำคัญ ทั้งนี้ อาจดำเนินการโดยทบวงการพลังงานปรมาณูระหว่างประเทศ (International Atomic Energy Agency) ซึ่งเป็นองค์การระหว่างประเทศที่มี

ความเชี่ยวชาญเฉพาะทางด้านสารกัมมันตภาพรังสี รวมทั้งส่งเสริมให้รัฐและองค์การระหว่างประเทศที่มีความเชี่ยวชาญในการทำความสะอาดและการกำจัดกากปนเปื้อนของสารกัมมันตภาพรังสี ให้ความช่วยเหลือแก่รัฐที่ร้องขอ เพื่อแก้ไขปัญหาการปนเปื้อนสารกัมมันตภาพรังสีในพื้นที่ที่ได้รับผลกระทบและผลร้ายจากกัมมันตภาพรังสีดังกล่าว ซึ่งความร่วมมือในการควบคุมป้องกันและแก้ไขปัญหาสารกัมมันตภาพรังสี นอกจากจะเป็นการช่วยเหลือสิ่งแวดล้อมของโลกแล้ว ยังเป็นการช่วยเหลือเพื่อนมนุษย์มิให้ได้รับความทุกข์ ทรมานจากสารกัมมันตภาพรังสีอีกด้วย

### แบบฝึกหัด

#### เรื่องกัมมันตภาพรังสี

1. กัมมันตภาพรังสี หมายถึงอะไร
2. ชนิดของกัมมันตภาพรังสี มีกี่ชนิด อะไรบ้าง
3. จงบอกประโยชน์ของธาตุกัมมันตภาพรังสี มาอย่างน้อย 2 ด้าน

## บทที่ 9

### โปรตีน คาร์โบไฮเดรต และไขมัน

#### สาระสำคัญ

สิ่งมีชีวิตประกอบด้วย ธาตุและสารประกอบ ธาตุเป็นหน่วยเล็กที่สุดของสิ่งมีชีวิต โดยพบว่าธาตุที่เป็นองค์ประกอบของสิ่งมีชีวิตในปริมาณมาก คือ คาร์บอน ไฮโดรเจน และออกซิเจนซึ่งรวมตัวกันเป็นสารประกอบจำนวนมากในเซลล์ สารในเซลล์ของสิ่งมีชีวิตที่มี ธาตุคาร์บอนและไฮโดรเจนเป็นองค์ประกอบ เรียกว่า สารอินทรีย์ (Organic substance) ส่วนสารประกอบในเซลล์ที่ไม่มีธาตุคาร์บอนเป็นองค์ประกอบ เรียกว่า สารอนินทรีย์ (Inorganic substance)

สารอินทรีย์ (Organic substance) ที่พบในธรรมชาติทั้งหลายมีแหล่งกำเนิดจากสิ่งมีชีวิตแทบทั้งสิ้น โมเลกุลของสารอินทรีย์เหล่านี้มีต่าง ๆ กัน ตั้งแต่ขนาดเล็ก โครงสร้างแบบง่าย ๆ จนถึงขนาดใหญ่ มีโครงสร้างเป็นสายยาว ๆ หรือขดตัวเป็นรูปร่างต่าง ๆ โมเลกุลของสารอินทรีย์ที่พบในสิ่งมีชีวิตที่จัดเป็นสารชีวโมเลกุล (Biological molecule) และมีความสำคัญในกระบวนการทุกชนิดในสิ่งมีชีวิต ได้แก่ โปรตีน (Protein) คาร์โบไฮเดรต (Carbohydrate) และไขมัน (Lipid)

#### ผลการเรียนรู้ที่คาดหวัง

1. อธิบายสมบัติ ชนิด ประเภทการเกิด และประโยชน์ของโปรตีนได้
2. อธิบายสมบัติ ชนิด ประเภทการเกิด และประโยชน์ของคาร์โบไฮเดรตได้
3. อธิบายสมบัติ ชนิด ประเภทการเกิด และประโยชน์ของไขมันได้

#### ขอบข่ายเนื้อหา

เรื่องที่ 1 โปรตีน

เรื่องที่ 2 คาร์โบไฮเดรต

เรื่องที่ 3 ลิพิด

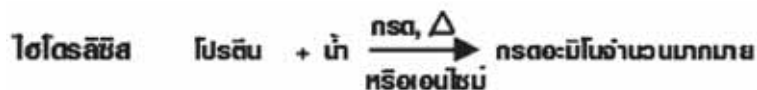
## เรื่องที่ 1 โปรตีน

โปรตีน (Protein) เป็นสารประกอบที่มีคาร์บอน (C) ไฮโดรเจน (H) ออกซิเจน (O) และ ไนโตรเจน (N) เป็นส่วนประกอบสำคัญ และนอกจากนี้โปรตีนบางชนิดอาจประกอบด้วยอะตอมของธาตุอื่น ๆ อีก เช่น กำมะถัน (S) เหล็ก (Fe) และฟอสฟอรัส (P) เป็นต้น โดยทั่วไปในเซลล์พืชและเซลล์สัตว์ มีโปรตีนอยู่ไม่ต่ำกว่าร้อยละ 50 ของน้ำหนักแห้ง

โปรตีนสร้างขึ้นจากกรดอะมิโนหลาย ๆ โมเลกุลมาเชื่อมต่อกันเป็นพอลิเมอร์ด้วยพันธะเพปไทด์ (Peptide bond) โมเลกุลของโปรตีนอาจประกอบขึ้นด้วยพอลิเพปไทด์เพียงสายเดียวหรือหลายสายเชื่อมโยงต่อกันก็ได้

### สมบัติของโปรตีน

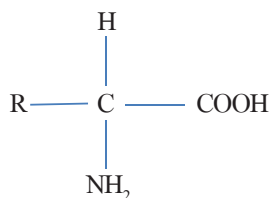
1. การละลายน้ำ ไม่ละลายน้ำ บางชนิดละลายน้ำได้เล็กน้อย
2. ขนาดโมเลกุล และมวลโมเลกุล ขนาดใหญ่มีมวลโมเลกุลมาก
3. สถานะของแข็ง
4. การเผาไหม้ เผาไหม้มีกลิ่นไหม้
5. ไฮโดรลิซิส



6. การทำลายธรรมชาติ โปรตีนบางชนิดเมื่อได้รับความร้อน หรือเปลี่ยนค่า pH หรือเติมตัวทำลายอินทรีย์บางชนิดจะทำให้เปลี่ยนโครงสร้างจับเป็นก้อนตกตะกอน

### ลักษณะโครงสร้างของโปรตีน

โปรตีนประกอบด้วยกรดอะมิโนมารวมกัน โดยใช้พันธะเพปไทด์ (Peptide bond) เป็นตัวยึดกรดอะมิโน มีสูตรทั่วไป คือ

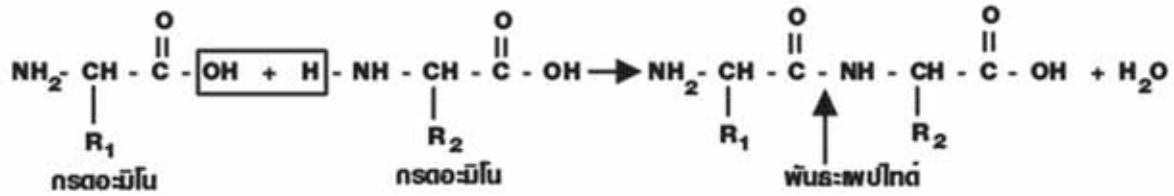


- $\text{NH}_2$  คือ หมู่อะมิโน (Amino group)
- $\text{COOH}$  คือ หมู่คาร์บอกซิล (Carboxyl group)
- R คือ ไฮโดรคาร์บอน (Hydrocarbon) หรือหมู่อื่น ๆ กรดอะมิโนต่างชนิดกันจะแตกต่างกัน



พันธะเพปไทด์ คือ พันธะโคเวเลนต์ที่เกิดขึ้นระหว่าง C อะตอมในหมู่คาร์บอกซิล ของกรดอะมิโน โมเลกุลหนึ่งซึ่ดกับ N อะตอม ในหมู่อะมิโน (-NH<sub>2</sub>) ของกรดอะมิโนอีกโมเลกุลหนึ่ง

แผนภาพแสดงการยึดเกาะของโมเลกุลของกรดอะมิโน



ที่มา (โครงสร้างของกรดอะมิโน. ออน - ไลน์. 2552)

- สารที่ประกอบด้วยกรดอะมิโน 2 โมเลกุล เรียกว่า ไดเพปไทด์
- สารที่ประกอบด้วยกรดอะมิโน 3 โมเลกุล เรียกว่า ไตรเพปไทด์
- สารที่ประกอบด้วยกรดอะมิโนตั้งแต่ 100 โมเลกุลขึ้นไป เรียกว่า พอลิเพปไทด์นี้ว่า โปรตีน

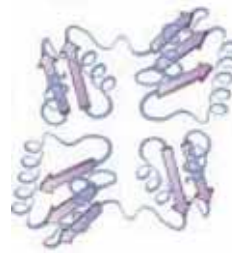
ดังนั้น โปรตีนชนิดต่าง ๆ จึงขึ้นอยู่กับจำนวนและการเรียงตัวของกรดอะมิโน กรดอะมิโนจะมีเพียง 20 ชนิด แต่จำนวนและการเรียงตัวที่ต่างกันของกรดอะมิโน ทำให้จำนวนโปรตีนในร่างกายคน มีจำนวนมากถึง 1 แสนกว่าชนิด โปรตีนแต่ละชนิดอาจประกอบไปด้วยสายพอลิเพปไทด์ 1 สาย หรือหลายสายก็ได้ แล้วแต่ชนิดของโปรตีน เช่น

โมเลกุลของอินซูลินัวประกอบด้วย สายพอลิเพปไทด์ 2 สาย

โมเลกุลของฮีโมโกลบิน ประกอบด้วย สายพอลิเพปไทด์ 4 สาย



โครงสร้างโมเลกุลของอินซูลิน



โครงสร้างโมเลกุลของฮีโมโกลบิน

ที่มา (โครงสร้างโมเลกุลของอินซูลิน. ออน - ไลน์. 2252) ที่มา (โครงสร้างโมเลกุลของฮีโมโกลบิน. ออน - ไลน์. 2252)

การที่กรดอะมิโนทั้ง 20 ชนิดต่อกันอย่างอิสระ ทำให้โปรตีนแต่ละชนิดมีลำดับและจำนวนของกรดอะมิโนแตกต่างกัน และมีคุณสมบัติแตกต่างกันด้วย

## ประเภทของโปรตีน

การแบ่งประเภทของโปรตีนมีเกณฑ์ในการแบ่งแตกต่างกัน ดังนี้

### 1) เกณฑ์การแบ่งตามหลักชีวเคมี แบ่งได้ 3 ประเภท คือ

**1.1 โปรตีนเชิงเดี่ยว (Simple protein)** เป็นโปรตีนชนิดที่ไม่ซับซ้อนประกอบด้วย กรดอะมิโนเพียงอย่างเดียว ไม่มีสารอื่นเจือปนอยู่ เช่น

- serum albumin เป็นโปรตีนในน้ำเลือด
- legumin เป็นโปรตีนในเมล็ดถั่ว
- myosin เป็นโปรตีนในกล้ามเนื้อ
- lactoglobulin เป็นโปรตีนในข้าวสาลี

**1.2 โปรตีนเชิงประกอบ (Compound protein)** เป็นโปรตีนชนิดที่ซับซ้อน ประกอบด้วยกรดอะมิโน และมีสารอื่นปนอยู่ด้วย เช่น

- phosphoprotein เป็นโปรตีนที่มีฟอสเฟตอยู่ด้วย
- lipoprotein เป็นโปรตีนที่มีไขมันรวมอยู่ด้วย เช่น ไข่แดง เยื่อหุ้มเซลล์ น้ำมัน
- glucoprotein เป็นโปรตีนที่ประกอบด้วยคาร์โบไฮเดรต พบใน น้ำลาย

**1.3 อนุพันธ์ของโปรตีน (Derived protein)** เป็นโปรตีนชนิดที่ได้จากการสลายตัวของโปรตีนเชิงเดี่ยว และโปรตีนเชิงประกอบ เช่น

myosan ได้จาก myosin ซึ่งเป็นโปรตีนเชิงเดี่ยวในกล้ามเนื้อ

### 2) เกณฑ์การแบ่งตามหน้าที่ของโปรตีน แบ่งได้ 8 ประเภท คือ

**2.1 โปรตีนที่ทำหน้าที่เป็นโครงสร้าง (Struture protein)** คือ โปรตีนที่ทำหน้าที่เป็นองค์ประกอบของโครงสร้างของร่างกาย เช่น

- เยื่อหุ้มเซลล์ ประกอบด้วยโปรตีนฝังอยู่ในพื้นที่ที่เป็นไขมัน
- ไรโบโซม เป็นแหล่งที่มีการสังเคราะห์โปรตีน ประกอบด้วย โปรตีน 50% และ RNA 50%
- collagen ในกระดูกและเนื้อเยื่อเกี่ยวพัน

**2.2 โปรตีนที่ทำหน้าที่ขนส่ง (Transport protein)** คือ โปรตีนที่ทำหน้าที่ลำเลียงแก๊สออกซิเจน และคาร์บอนไดออกไซด์ เช่น

- hemoglobin ในเม็ดเลือด ทำหน้าที่นำออกซิเจนจากปอดไปส่งทั่วร่างกาย
- transferrin ในซีรัม ทำหน้าที่ขนส่งธาตุเหล็ก

2.3 โปรตีนที่ทำหน้าที่เป็นเอนไซม์ (Enzyme protein) คือ โปรตีนที่ทำหน้าที่เกี่ยวกับการเร่งปฏิกิริยาเคมีต่าง ๆ ในร่างกาย เช่น

catalase เป็นเอนไซม์ที่เร่งปฏิกิริยาการสลายตัวของ  $H_2O_2$

lipase เป็นเอนไซม์ของปฏิกิริยาการสลายลิพิด

2.4 โปรตีนที่ทำหน้าที่เกี่ยวกับเคลื่อนไหว (Contractile protein) คือ โปรตีนที่อยู่ในเซลล์ของกล้ามเนื้อ คือ แอกทิน และไมโอซิน

2.5 โปรตีนที่ทำหน้าที่เก็บสะสม (Storage protein) คือ โปรตีนที่ทำหน้าที่สะสมอาหาร เช่น

ovalbumin ในไข่ขาว

casein และ lactoglobulin ในน้ำนม

2.6 โปรตีนที่ทำหน้าที่สารพิษ (Toxin) คือ โปรตีนที่ทำหน้าที่เป็นสารมีพิษ พบทั้งในเชื้อโรคสัตว์ และพืช เช่น พิษงู ซึ่งประกอบด้วยเอนไซม์ที่ย่อยพอกลิพิด

2.7 โปรตีนที่ทำหน้าที่ป้องกัน (Protective protein) คือ โปรตีนที่ทำหน้าที่เป็นภูมิคุ้มกันโรคให้กับร่างกาย เช่น

immunoglobulin เป็นไกลโคโปรตีน ซึ่งทำหน้าที่กำจัดสารหรือเชื้อโรคที่ผ่านเข้าสู่ร่างกาย

2.8 โปรตีนที่ทำหน้าที่ควบคุม (Control protein) คือ โปรตีนที่ทำหน้าที่ควบคุมการทำงานของเซลล์ในร่างกาย ได้แก่ พากฮอร์โมนต่าง ๆ เช่น

insulin เป็นฮอร์โมนที่ควบคุมเมตาบอลิซึมของกลูโคส

parathormone เป็นฮอร์โมนที่ควบคุมระดับสมดุลของแคลเซียมและฟอสฟอรัสในร่างกาย

growth hormone เป็นฮอร์โมนที่ควบคุมและกระตุ้นการเจริญเติบโตของเนื้อเยื่อต่าง ๆ

ในร่างกาย

3) เกณฑ์การแบ่งตามหลักโภชนาการ สามารถแบ่งได้ 2 ประเภท คือ

3.1 โปรตีนประเภทสมบูรณ์ (complete protein) คือ โปรตีนที่มีกรดอะมิโนที่จำเป็นต่อร่างกายครบทุกตัว สามารถนำมาสร้างและซ่อมแซมส่วนที่สึกหรอได้ดี ได้แก่ เนื้อสัตว์ ไข่ นม เป็นต้น

3.2 โปรตีนประเภทไม่สมบูรณ์ (incomplete protein) คือ โปรตีนที่มีกรดอะมิโนชนิดจำเป็นต่อร่างกายไม่ครบทุกตัว ซึ่งร่างกายนำมาสร้างและซ่อมแซมส่วนที่สึกหรอได้ไม่ดี ส่วนใหญ่เป็นโปรตีนจากพืช

4) เกณฑ์การแบ่งตามลักษณะโครงสร้างทั้งโมเลกุล สามารถแบ่งได้ 2 ประเภท คือ

4.1 โปรตีนลักษณะแบบเส้นใย (fibrous protein) เป็นโปรตีนที่โมเลกุลมีลักษณะเป็นเส้นยาว สายพอลิเมอร์จะเรียงตัวเป็นระเบียบมีความแข็งแรง เหนียว ยืดหยุ่นได้มาก และมักจะไม่ละลายน้ำ เช่น โปรตีนในเส้นผม โปรตีนในเส้นขน โปรตีนในเส้นเอ็น โปรตีนในเขาสัตว์ โปรตีนในเส้นไหม เป็นต้น

4.2 โปรตีนลักษณะเป็นก้อน (globular protein) เป็นโปรตีนที่มีสายพอลิเพปไทด์พันไปมา และอัดกันแน่น ทำให้มีลักษณะเป็นก้อน บางส่วนของสายพอลิเพปไทด์อาจทบกันอยู่เป็นระเบียบหรือมีลักษณะเป็นเกลียว หรือเป็นแผ่น เช่น โปรตีนพวเคนไซม์ โปรตีนพวฮีโมโกลบิน โปรตีนพวฮอร์โมน โปรตีนที่อยู่ใกล้กล้ามเนื้อ เป็นต้น

### ความสำคัญของสารอาหารประเภทโปรตีนต่อสิ่งมีชีวิต

1. เป็นสารอาหารที่ให้พลังงานแก่ร่างกาย โดยโปรตีน 1 กรัม จะให้พลังงานประมาณ 4.1 กิโลแคลอรี ซึ่งเท่ากับสารอาหารประเภทคาร์โบไฮเดรต
2. เป็นส่วนประกอบของเซลล์ โดยเป็นองค์ประกอบของเยื่อหุ้มเซลล์และโพรโทพลาสซึมของเซลล์
3. เป็นโครงสร้างของผิวหนัง เส้นผม และขน
4. ช่วยในการเจริญเติบโต และซ่อมแซมส่วนที่สึกหรอในร่างกาย โดยร่างกายจะนำโปรตีนไปใช้ในการสร้างเนื้อเยื่อใหม่
5. ช่วยในการหดตัวของกล้ามเนื้อ ทำให้สิ่งมีชีวิตสามารถเคลื่อนไหวได้
6. เป็นสารที่ทำหน้าที่สำคัญต่าง ๆ ในร่างกาย เช่น
  - ทำหน้าที่ในการลำเลียงออกซิเจนและคาร์บอนไดออกไซด์
  - สร้างภูมิคุ้มกันให้แก่ร่างกาย
  - ช่วยกระตุ้นการเกิดปฏิกิริยาเคมีต่าง ๆ ในร่างกาย
7. สามารถเปลี่ยนเป็นคาร์โบไฮเดรต และไขมันได้ โดยพบว่ากรดอะมิโนชนิดหนึ่งอาจเปลี่ยนแปลงไปเป็นกรดอะมิโนอื่น ๆ ได้

### เรื่องที่ 2 คาร์โบไฮเดรต

คาร์โบไฮเดรต (Carbohydrate) เป็นสารประกอบอินทรีย์ที่เป็นแหล่งให้พลังงานและคาร์บอนที่สำคัญของสิ่งมีชีวิตเพื่อนำไปใช้ในการดำรงชีวิตและสร้างสารอื่นๆต่อไป โมเลกุลของคาร์โบไฮเดรตประกอบด้วยอะตอมของธาตุ คาร์บอน (C) ไฮโดรเจน (H) และออกซิเจน (O) โดยมีอัตราส่วนของอะตอมไฮโดรเจนต่อออกซิเจน เท่ากับ 2:1 ( $H:O = 2:1$ ) จำนวนและการเรียงตัวของอะตอมทั้งสามธาตุนี้แตกต่างกัน จึงทำให้คาร์โบไฮเดรตมีหลายชนิด เช่น น้ำตาลกลูโคส ( $C_6H_{12}O_6$ ) น้ำตาลซูโครส ( $C_{12}H_{22}O_{11}$ ) แป้ง ( $(C_6H_{10}O_5)_n$ )

พืชสีเขียวสามารถสร้างอาหารขึ้นได้ โดยกระบวนการสังเคราะห์ด้วยแสง โดยใช้คาร์บอนไดออกไซด์และน้ำเป็นวัตถุดิบในการผลิตกลูโคส น้ำตาลอื่น ๆ แป้ง เซลลูโลส และสารอื่น ๆ คาร์โบไฮเดรตที่พบในพืช มักอยู่ในรูปของพอลิแซ็กคาไรด์ (Polysaccharides) คาร์โบไฮเดรตที่เรารู้จักกันดี คือ น้ำตาลชนิดต่าง ๆ และแป้ง

น้ำตาล มีรสหวานบางครั้ง เรียกว่า แซ็กคาไรด์ (Saccharides) มีอยู่ทั่วไปทั้งในเนื้อเยื่อของพืชและสัตว์ มนุษย์และสัตว์มีกลูโคสเป็นน้ำตาลในเลือด มีไกลโคเจนสะสมเป็นกลูโคสสำรองไว้ใช้ในเนื้อเยื่อของตับและกล้ามเนื้อ คาร์โบไฮเดรตทั้งสองชนิดนี้ เป็นสารที่เซลล์จะนำไปสลายให้ได้พลังงานที่จำเป็นสำหรับการดำรงชีวิต

### สมบัติของคาร์โบไฮเดรต

1. มีสูตรทั่วไปของคาร์โบไฮเดรต คือ  $(\text{CH}_2\text{O})_n$

#### ข้อยกเว้น

คาร์โบไฮเดรต บางชนิด ไม่มีสัดส่วนเหมือนกันได้ เช่น คีโอกซีโรโบส ( $\text{C}_5\text{H}_{10}\text{O}_4$ )

สารบางอย่างมีสูตรทั่วไปเป็น  $(\text{CH}_2\text{O})_n$  คล้ายคาร์โบไฮเดรต แต่ไม่ใช่คาร์โบไฮเดรต เช่น

กรดน้ำส้ม  $\text{C}_2\text{H}_4\text{O}_2$  กรดแลคติก  $\text{C}_3\text{H}_6\text{O}_3$

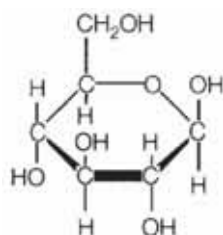
2. จัดเป็นพอลิโพลีไฮดรอกซีล
3. คาร์โบไฮเดรตส่วนใหญ่ประกอบไปด้วยแป้ง และน้ำตาล น้ำตาลเป็นคาร์โบไฮเดรตโมเลกุลเล็ก มักเรียกกลางท้ายชื่อด้วย โอส (-ose) เช่น กลูโคส (glucose) มอสโทส (motosse) แป้งเป็นคาร์โบไฮเดรตโมเลกุลใหญ่ได้แก่ ไกลโคเจน (glycogen) เซลลูโลส (cellulose)
4. คาร์โบไฮเดรตในคน และสัตว์ สามารถสะสมในร่างกายในรูปของไกลโคเจน ส่วนใหญ่เก็บสะสมไว้ที่ตับ และกล้ามเนื้อ
5. แป้งสามารถเปลี่ยนเป็นน้ำตาลได้ โดยใช้เอนไซม์ที่มีอยู่ในน้ำลาย

## ประเภทของคาร์โบไฮเดรต

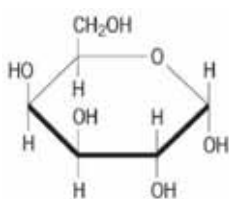
คาร์โบไฮเดรตแบ่งออกเป็น 3 พวกใหญ่ๆ คือ

1. น้ำตาลโมเลกุลเดี่ยว (Monosaccharides) เป็นคาร์โบไฮเดรตที่มีขนาดเล็กที่สุด เป็นโมเลกุลสายเดี่ยว ต่อกันเป็นลูกโซ่ยาวไม่แตกกิ่งหรือแขนง ประกอบด้วยอะตอมของคาร์บอนตั้งแต่ 3 ถึง 7 อะตอม มีสูตรโครงสร้างทั่วไป คือ  $(\text{CH}_2\text{O})_n$  โดย n แสดงจำนวนคาร์บอนอะตอมที่รู้จักกันทั่วไปเป็นคาร์โบไฮเดรตที่มีคาร์บอน 6 อะตอม เช่น กลูโคส กาแลคโทส และฟรักโตส โครงสร้างดังภาพ

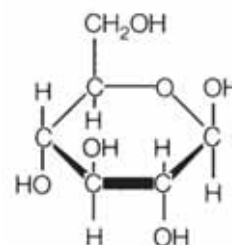
กลูโคส



กาแลคโทส



ฟรักโตส



แสดงโครงสร้างของน้ำตาลโมเลกุลเดี่ยว

ที่มา (โครงสร้างของน้ำตาลโมเลกุลเดี่ยว. ออน - ไลน์. 2552)

### น้ำตาลโมเลกุลเดี่ยวที่ควรรู้จัก ได้แก่

กลูโคส (glucose ,  $\text{C}_6\text{H}_{12}\text{O}_6$ ) พบในผักและผลไม้ทั่วไป จัดว่าเป็นน้ำตาลที่สำคัญ เพราะน้ำตาลชนิดนี้เป็นสารที่ละลายอยู่ในเส้นเลือดและสามารถลำเลียงไปสู่ส่วนต่าง ๆ ของร่างกายทันที เพื่อสร้างพลังงานให้แก่การทำงานของระบบต่าง ๆ ของร่างกาย

ฟรักโตส (fructose ,  $\text{C}_6\text{H}_{12}\text{O}_6$ ) พบในผลไม้ น้ำผึ้ง สาหรerk น้ำอสุจิ(semen) เป็นน้ำตาลที่มีความหวานมากกว่าน้ำตาลชนิดอื่น ๆ ในธรรมชาติ ละลายน้ำได้ดี

กาแลคโทส (galactose ,  $\text{C}_6\text{H}_{12}\text{O}_6$ ) เป็นน้ำตาลที่ไม่พบในธรรมชาติแต่ได้จากการสลายตัวของน้ำตาลแลคโทส (lactose) เมื่อน้ำตาลแลคโทส ซึ่งเป็นน้ำตาลในนมถูกย่อยจะได้น้ำตาลกาแลคโทส และกลูโคส เป็นส่วนประกอบสำคัญในไกลโคลิพิดของเนื้อเยื่อประสาท น้ำตาลชนิดนี้มีความหวานน้อยกว่ากลูโคส

ไรโบส (ribose ,  $\text{C}_5\text{H}_{10}\text{O}_5$ ) เป็นน้ำตาลที่เป็นส่วนประกอบโครงสร้างของกรดไรโบนิวคลีอิก หรือ RNA ซึ่งมีความสำคัญในกระบวนการสังเคราะห์โปรตีน เป็นส่วนประกอบของสารพลังงานสูง คือ ATP (adenosine triphosphate)

ดีออกซีไรโบส (deoxyribose,  $C_5H_{10}O_4$ ) เป็นน้ำตาลที่เป็นส่วนประกอบโครงสร้างของกรดดีออกซีไรโบนิวคลีอิก (deoxyribonucleic acid หรือ DNA) ซึ่งเป็นส่วนประกอบที่สำคัญในโครโมโซม โดยทำหน้าที่ควบคุมกิจกรรมต่าง ๆ ของเซลล์ เช่น การถ่ายทอดลักษณะทางพันธุกรรม

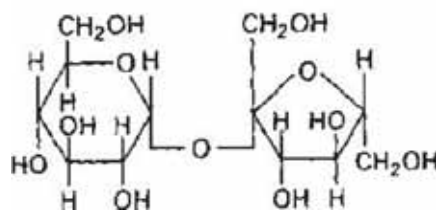
ไรบูลโลส (ribulose,  $C_5H_{10}O_5$ ) เป็นน้ำตาลที่มีความสำคัญในกระบวนการสังเคราะห์ด้วยแสงของพืช โดยทำหน้าที่รับ  $CO_2$  ในช่วงปฏิกิริยาที่ไม่ใช้แสง

2. โอลิโกแซ็กคาไรด์ (Oligosaccharides) เกิดจากน้ำตาลโมเลกุลเดี่ยวตั้งแต่ 2 - 10 โมเลกุลมารวมกันด้วยพันธะไกลโคซิดิก (glycosidic) มีสูตรทางเคมีคือ  $C_{12}H_{22}O_{11}$  โอลิโกแซ็กคาไรด์ที่พบมากที่สุดชนิดในธรรมชาติ คือ พวくだแซ็กคาไรด์ (Disaccharides) หรือน้ำตาลโมเลกุลคู่

น้ำตาลโมเลกุลคู่ เป็นน้ำตาลที่ประกอบด้วย น้ำตาลโมเลกุลเดี่ยว 2 โมเลกุลมารวมกันด้วยพันธะ โคเวเลนต์ กลายเป็นไคแซ็กคาไรด์ (น้ำตาลโมเลกุลคู่) 1 โมเลกุล โดยที่น้ำตาลโมเลกุลเดี่ยวที่มารวมกันจะเป็นโมเลกุลชนิดเดียวกัน หรือต่างชนิดก็ได้

**น้ำตาลโมเลกุลคู่ที่พบมากที่สุดชนิดในธรรมชาติ ได้แก่**

**ซูโครส** (sucrose,  $C_{12}H_{22}O_{11}$ ) แต่ละโมเลกุลประกอบด้วยกลูโคสและฟรักโทสอย่างละ 1 โมเลกุล ซูโครสมีลักษณะเป็นผลึกสีขาว ละลายน้ำได้ดี และมีรสหวาน พบในน้ำอ้อย มะพร้าว ตาล ผลไม้สุก หัวบีท โดยเฉพาะพบมากที่สุดชนิดในอ้อย จึงอาจเรียกอีกอย่างหนึ่งว่าน้ำตาลอ้อย ซูโครสที่รู้จักกันดีคือ น้ำตาลหรือน้ำตาลกรวด



แสดงโครงสร้างของน้ำตาลซูโครส

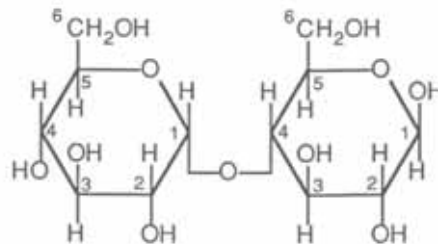
ที่มา (โครงสร้างโมเลกุลน้ำตาลซูโครส. ออน - ไลน์. 2552)

**แลคโตส** (lactose ,  $C_{12}H_{22}O_{11}$ ) เป็นน้ำตาลโมเลกุลคู่ ซึ่งแต่ละโมเลกุลประกอบด้วยกลูโคสและกาแลคโทสอย่างละ 1 โมเลกุล พบในน้ำนมของคนและสัตว์ หรืออาจพบในพืชบางชนิดของเห็ดมีครรภ์ แต่ไม่พบในพืช ดังนั้นอาจเรียกอีกอย่างว่า น้ำตาลนม (milk suger) ละลายน้ำได้น้อยกว่าซูโครส และมีความหวานน้อยกว่า



ที่มา (โครงสร้างโมเลกุลแลคโตส ออน-ไลน์. 2552)

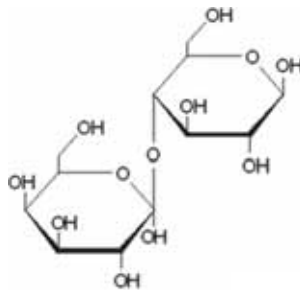
**มอลโทส** (maltose ,  $C_{12}H_{22}O_{11}$ ) เป็นน้ำตาลโมเลกุลคู่ซึ่งแต่ละโมเลกุลประกอบด้วยกลูโคส 2 โมเลกุลมารวมตัวกัน เป็นน้ำตาลที่ละลายน้ำได้ดี แต่ความหวานไม่มากนัก (มีความหวานเพียง 20% ของน้ำตาลซูโครส) เป็นน้ำตาลที่พบในธัญพืช ได้แก่ ข้าวมอลต์ แต่ไม่พบในรูปอิสระในธรรมชาติ ได้จากการย่อยสลายแป้งและไกลโคเจน



แสดงโครงสร้างของน้ำตาลมอลโทส

ที่มา (โครงสร้างน้ำตาลมอลโทส ออน-ไลน์. 2552)

**เซลโลไบโอส** (cellobiose ,  $C_{12}H_{22}O_{11}$ ) เป็นน้ำตาลโมเลกุลที่ไม่มีรูปอิสระในธรรมชาติ และไม่ใช่วัสดุประกอบ เป็นประโยชน์ต่อคน ได้จากการย่อยสลายเซลลูโลส



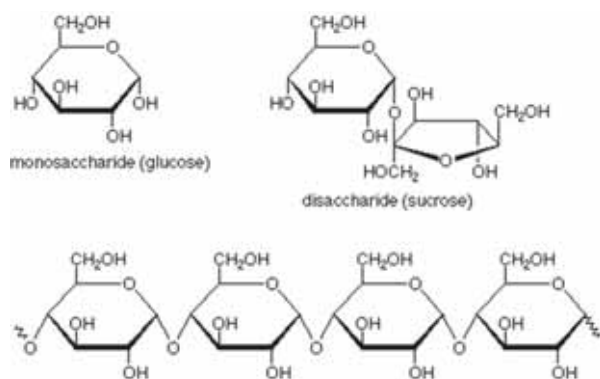
แสดงโครงสร้างของเซลโลไบโอส

ที่มา (โครงสร้างของเซลโลไบโอส ออน-



3. **พอลิแซ็กคาไรด์ หรือน้ำตาลโมเลกุลใหญ่** เกิดจากน้ำตาลโมเลกุลเดี่ยวหลาย ๆ โมเลกุลมารวมกันตั้งแต่ 11 จนถึง 1,000 โมเลกุล ต่อกันเป็นสายยาว ๆ บางชนิดเป็นสายโซ่ยาวตรง บางชนิดมีกิ่งก้านแยกออกไป พอลิแซ็กคาไรด์แตกต่างกันที่ชนิด และจำนวนของน้ำตาลโมเลกุลเดี่ยวที่เป็นองค์ประกอบ พอลิแซ็กคาไรด์ที่พบมากที่สุด ได้แก่

**แป้ง (starch)** เป็นพอลิแซ็กคาไรด์ที่พืชสามารถสังเคราะห์ได้ และสะสมในส่วนต่าง ๆ ของพืชชั้นสูง เช่น เมล็ด ราก ผล เป็นต้น โมเลกุลของแป้งแต่ละโมเลกุลประกอบขึ้นด้วยโมเลกุลของกลูโคส ต่อกันเป็นสายยาว บางส่วนแตกกิ่งก้านสาขา



แสดงโครงสร้างโมเลกุลของแป้ง

ที่มา (โครงสร้างโมเลกุลของแป้ง ออน - ไลน์, 2552)

**ไกลโคเจน (glycogen)** เป็นพอลิแซ็กคาไรด์ที่สะสมในเซลล์ของกล้ามเนื้อลาย และเซลล์ตับ เพื่อใช้ในเวลาที่ยังขาดแคลนกลูโคส มีบทบาทที่สำคัญในการรักษาระดับน้ำตาลในเลือด โมเลกุลของไกลโคเจนประกอบด้วย หน่วยย่อยที่เป็นกลูโคสเรียงตัวเป็นสายยาว ในร่างกายถ้าหากมีกลูโคสเหลือใช้ ร่างกายจะเปลี่ยนไปเป็นไกลโคเจน แล้วเก็บสะสมไว้ที่ตับกับกล้ามเนื้อ

**เซลลูโลส (cellulose)** เป็นพอลิแซ็กคาไรด์ที่เป็นองค์ประกอบที่สำคัญของผนังเซลล์พืช โดยเป็นส่วนที่สร้างความแข็งแรงให้แก่เซลล์พืช โมเลกุลของเซลลูโลสประกอบด้วยโมเลกุลของกลูโคสจำนวนมากมาย ประมาณ 1,200 - 12,500 โมเลกุล แต่มีการเรียงตัวของโมเลกุลกลูโคสแตกต่างจากโมเลกุลของแป้ง และเป็นสารที่ไม่ละลายน้ำเพราะโมเลกุลใหญ่มาก คน สัตว์เคี้ยวเอื้อง เช่น วัว ควาย สามารถผลิตเอนไซม์เซลลูเลสย่อยเซลลูโลสเป็นกลูโคสได้

**ไคติน (chitin)** เป็นพอลิแซ็กคาไรด์ที่พบในสัตว์ไม่มีกระดูกสันหลัง ไคตินจะเป็นจะเป็นส่วนที่เป็นเปลือกแข็งหุ้มตัวสัตว์ เช่น กระดองปู เปลือกกุ้ง เป็นต้น ไคตินไม่ละลายน้ำและไม่สามารถย่อยสลายด้วยน้ำย่อยของร่างกาย

**เฮปาริน (heparin)** เป็นพอลิแซ็กคาไรด์ที่พบในปอด ตับ ม้าม ผั่งเส้นเลือด เฮปารินเป็นสารที่ทำให้เลือดไม่แข็งตัว

**ลิกนิน (lignin)** เป็นพอลิแซ็กคาไรด์ที่พบในเนื้อเยื่อพืชมีความแข็งแรง โดยจะสะสมตามผนังเซลล์พืช

**เพกทิน (pectin)** เป็นพอลิแซ็กคาไรด์ที่พบในผลไม้มีลักษณะคล้ายวุ้น ประกอบด้วยโมเลกุลของกาแลคโทสหลาย ๆ โมเลกุลมารวมกัน พบในผนังเซลล์พืช เปลือกผลไม้ต่าง ๆ เช่น ส้ม มะนาว และยังพบในส่วนช่อดอกและใบที่เป็นสีเขียวของพืชด้วย

### ความสำคัญของสารอาหารประเภทคาร์โบไฮเดรตต่อสิ่งมีชีวิต

1. เป็นสารอาหารที่ให้พลังงานแก่เซลล์ เพื่อทำกิจกรรมต่าง ๆ และให้ความอบอุ่นแก่ร่างกาย โดยคาร์โบไฮเดรต 1 กรัม จะให้พลังงานประมาณ 4.1 กิโลแคลอรี
2. สามารถนำไปสังเคราะห์เป็นสารในรูปไกลโคเจนเก็บสะสมไว้ที่ตับและกล้ามเนื้อ เพื่อใช้ในยามขาดแคลน การเก็บสะสมไว้ในรูปไกลโคเจนมีปริมาณจำกัด จึงมีการสะสมไว้ในรูปของไขมันไว้ตามส่วนต่าง ๆ ของร่างกายเก็บไว้ใช้ยามขาดแคลน
3. โอลิโกแซ็กคาไรด์ และพอลิแซ็กคาไรด์ เป็นส่วนประกอบของเซลล์และเป็นโครงสร้างของเซลล์
4. ควบคุมเมตาบอลิซึมของไขมันและโปรตีนให้เป็นปกติ โดยร่างกายจะใช้คาร์โบไฮเดรตสำหรับนำไปสร้างพลังงานก่อน ถ้าไม่พอจึงจะใช้จากไขมัน และมีการป้องกันไม่ให้มีการสลายตัวของไขมันในตับมาก เพราะหากไขมันในตับไม่สามารถสลายตัวได้สมบูรณ์ทำให้เกิดสารคีโตน (ketone body) ซึ่งเป็นพิษต่อร่างกาย และถ้าหากขาดแคลนมาก ๆ จึงมีการใช้โปรตีน หากโปรตีนถูกนำมาสร้างพลังงานจะมีผลเสียต่อร่างกาย เนื่องจากบทบาทโปรตีนมีบทบาทสำคัญ เช่น สร้างเอนไซม์ สร้างซ่อมแซมส่วนที่สึกหรอ สร้างภูมิคุ้มกันต้านเชื้อโรค
5. เป็นสาระสำคัญในการสร้างสารบางชนิดในร่างกาย เช่น การสังเคราะห์ DNA RNA และ ATP จะต้องใช้น้ำตาล
6. ช่วยกระตุ้นการทำงานของลำไส้เล็ก ป้องกันไม่ให้ท้องผูก เช่น เซลลูโลสจะทำให้ร่างกายมีกากอาหาร

### เรื่องที่ 3 ลิพิด

ลิพิด (lipid) เป็นสารอินทรีย์ที่ไม่ละลายน้ำ แต่ละลายได้ดีในตัวทำละลายอินทรีย์ เช่น อีเทอร์ เบนซีน คลอโรฟอร์ม คาร์บอนเตตราคลอไรด์ อะซิโตน และแอลกอฮอล์ ประกอบด้วย คาร์บอน (C) ไฮโดรเจน (H) ออกซิเจน (O) แต่อัตราส่วนของธาตุเหล่านี้ไม่เหมือนกับคาร์โบไฮเดรต (คาร์โบไฮเดรต อัตราส่วนระหว่าง H : O = 2 : 1) จำนวนออกซิเจนจะน้อยกว่า ส่วนจำนวนคาร์บอน และไฮโดรเจนนั้นมีต่าง ๆ กันตามชนิดของไขมันนั้น ๆ

ลิพิดที่พบในธรรมชาติมักจะไม่อยู่ในสภาพอิสระ แต่จะปรากฏอยู่กับสารชีวโมเลกุลอื่น ๆ ถ้าลิพิด (glycolipid) ถ้าประกอบอยู่กับโปรตีน เรียกว่า ไลโปโปรตีน (lipoprotein)

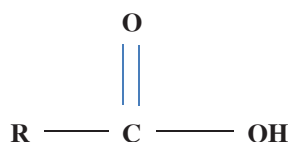
#### สมบัติของลิพิด

1. ไขมันและน้ำมันไม่ละลายน้ำ ละลายได้ดีในตัวทำละลายที่ไม่มีขั้ว เช่น เฮกเซน
2. ไขมันมีความหนาแน่นต่ำกว่าน้ำ แต่มีความหนาแน่นสูงกว่าเอทานอล
3. ไขมัน และน้ำมันเกิดกลิ่นหืนได้ โดยน้ำมันจะเกิดได้ง่ายกว่า เพราะเกิดปฏิกิริยากับ  $O_2$  ได้ง่ายกว่า
4. ในกรณีที่มีคาร์บอนอะตอมเท่ากันการเผาไหม้น้ำมันจะมีเขม่ามากกว่าการเผาไหม้ไขมัน
5. ไขมันมีลักษณะเป็นของแข็งที่อ่อน แต่น้ำมันเป็นของเหลว

#### ลักษณะโครงสร้างของลิพิด

ลิพิดทุกชนิดมีส่วนประกอบสำคัญ 2 ส่วน คือ กรดไขมัน (fatty acid) และ กลีเซอรอล (glycerol)

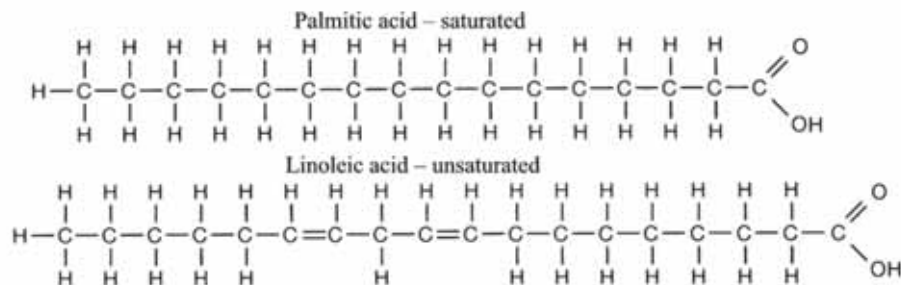
1. กรดไขมัน (fatty acid) มีสูตรโมเลกุลมีสูตรทั่วไป ดังนี้



R คือ หมู่ไฮโดรคาร์บอนที่ประกอบด้วย C กับ H ซึ่งมีจำนวนแตกต่างกันไปตามชนิดของกรดไขมัน ดังนั้นกรดไขมันมีอยู่มากมายหลายชนิด แต่ละชนิดมีจำนวนอะตอมของคาร์บอนและไฮโดรเจนใน R แตกต่างกันไป เช่น

R ของกรดปาล์มติก มี C 15 อะตอม และ H 31 อะตอม

R ของกรดไลโนเลอิก มี C 17 อะตอม และ H 31 อะตอม



### แสดงสูตรโครงสร้างของกรดอะมิโนบางชนิด

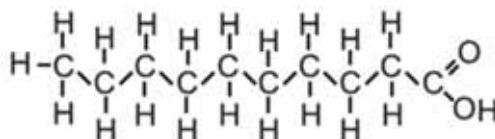
ที่ ๑ (palmitic acid structure. On - line 2009)

ถ้าพิจารณาจากความต้องการของร่างกาย สามารถแบ่งกรดไขมันออกเป็น 2 ประเภท คือ

1. กรดไขมันที่จำเป็นต่อร่างกาย (essential fatty acid) เป็นกรดไขมันที่มีประโยชน์ต่อร่างกาย แต่ร่างกายไม่สามารถสังเคราะห์ได้เอง จึงจำเป็นต้องได้รับจากอาหารโดยตรง กรดไขมันนี้มีมากในน้ำมันถั่วเหลือง น้ำมันข้าวโพด น้ำมันดอกคำฝอย น้ำมันรำ ยกเว้นน้ำมันมะพร้าว และน้ำมันปาล์ม
2. กรดไขมันที่ไม่จำเป็นต่อร่างกาย (nonessential fatty acid) เป็นกรดไขมันที่ร่างกายสามารถสังเคราะห์ขึ้นได้เอง มีอยู่ในอาหารประเภทลิพิดทั่วไป

ถ้าพิจารณาตามระดับความอิ่มตัว สามารถแบ่งเป็น 2 ประเภทคือ

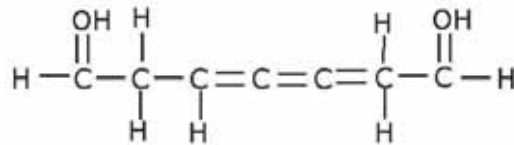
1. กรดไขมันอิ่มตัว (saturated fatty acid) เป็นกรดไขมันที่อะตอมของคาร์บอนในโมเลกุลมีแต่พันธะเดี่ยว และไม่สามารถรับอะตอมของไฮโดรเจนเข้าไปในโมเลกุลได้อีก มีจุดหลอมเหลวสูงกว่ากรดไขมันไม่อิ่มตัว พบมากในไขมันสัตว์ เนย น้ำมันจากสัตว์และน้ำมันพืชบางชนิด เช่น น้ำมันมะพร้าว จากการศึกษาด้านการแพทย์พบว่า หากรับประทานอาหารที่ประกอบด้วยน้ำมันหรือไขมันที่กรดไขมันอิ่มตัวมากเกินไป อาจจะมีผลทำให้เกิดโรคหัวใจขาดเลือดและไขมันอุดตันในเส้นเลือดได้



### ภาพแสดงสูตรโครงสร้างของกรดไขมันอิ่มตัว

ที่ ๑ (saturated fatty acid. On - line 2009)

2. กรดไขมันไม่อิ่มตัว (unsaturated fatty acid) เป็นกรดไขมันที่อะตอมของคาร์บอนบางตัว มีพันธะคู่ (double bond) และสามารถรับอะตอมของไฮโดรเจนได้อีก มีจุดหลอมเหลวต่ำ ละลายได้ง่าย กรดไขมันอิ่มตัวที่มีมากที่สุดคือ กรดโอเลอิก (oleic acid) มีมากในน้ำมันมะกอก และน้ำมันพืชทั่วไป เช่น น้ำมันถั่วเหลือง น้ำมันข้าวโพด เป็นต้น

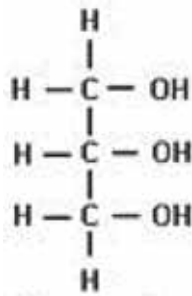


ภาพแสดงสูตรโครงสร้างของกรดไขมันไม่อิ่มตัว

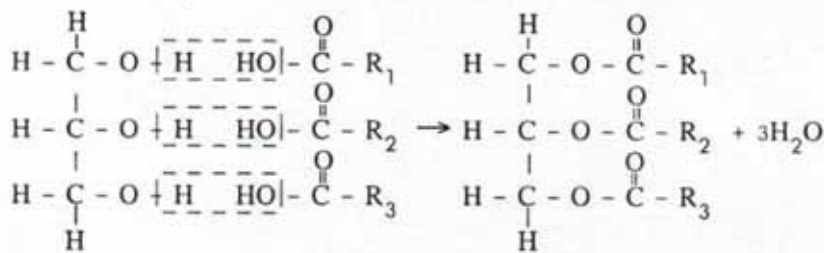
ที่มา (unsaturated fatty acid. On - line 2009)

## 2. กลีเซอรอล (glycerol)

เป็นแอลกอฮอล์รูปหนึ่ง มีสูตรโครงสร้าง ดังนี้



ในการรวมกันของโมเลกุลของกลีเซอรอลกับแต่ละโมเลกุลของกรดไขมันนั้นจะได้น้ำ 1 โมเลกุล และเรียกปฏิกิริยานี้ว่า ดีไฮเดชัน (dehydration) เช่น เมื่อกลีเซอรอล 1 โมเลกุลรวมกับกรดไขมัน 3 โมเลกุล จะเกิดน้ำ 3 โมเลกุล



กลีเซอรอล 1 โมเลกุล

กรดไขมัน 3 โมเลกุล

ไขมัน 1 โมเลกุล

น้ำ 3 โมเลกุล

## ประเภทของลิพิด

ลิพิดแบ่งออกตามลักษณะทางเคมีได้ 3 ประเภท คือ

1. **ลิพิดธรรมดา (simple lipid)** เป็นลิพิดที่ประกอบขึ้นด้วยกรดไขมันกับแอลกอฮอล์ เกิดจากการรวมตัวระหว่างกลีเซอรอล 1 โมเลกุลกับกรดไขมัน 1 - 3 โมเลกุล แล้วแต่ชนิดของลิพิดแบ่งออกเป็น

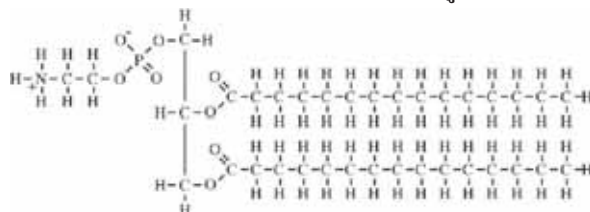
1.1 ไขมัน (fat) อาจเรียกอีกอย่างว่า กลีเซอไรด์ (glyceride) ประกอบด้วยกลีเซอรอลกับไขมันชนิดอิ่มตัว (saturated fatty acid) เป็นส่วนใหญ่ (กรดไขมัน 3 โมเลกุล กับกลีเซอรอล 1 โมเลกุล)

1.2 น้ำมัน (oil) ประกอบด้วยกลีเซอรอลกับกรดไขมันชนิดไม่อิ่มตัว (unsaturated fatty acid) เป็นส่วนใหญ่ (กรดไขมัน 3 โมเลกุล กับกลีเซอรอล 1 โมเลกุล)

1.3 ไขหรือขี้ผึ้ง (wax) ประกอบด้วยกรดไขมันกับแอลกอฮอล์ที่มีโมเลกุลใหญ่กว่ากลีเซอรอล และมีน้ำหนักโมเลกุลสูงกว่าด้วย

2. **ลิพิดเชิงประกอบ (compound lipid)** ประกอบด้วยลิพิดรวมกับสารอื่นๆ เช่น

2.1 ฟอสโฟลิพิด (phospholipid) หรือฟอสโฟกลีเซอไรด์ (phosphoglyceride) เป็นลิพิดธรรมดาที่มีหมู่ฟอสเฟตเป็นองค์ประกอบโดยเกิดจากการรวมตัวของกรดไขมัน กลีเซอรอล และหมู่ฟอสเฟต มีโครงสร้างคล้ายกับไขมันและน้ำมัน ต่างกันที่มีหมู่ฟอสเฟตไปแทนกรดไขมันอยู่หนึ่งโมเลกุล



ภาพแสดงสูตรโครงสร้างของฟอสโฟลิพิด

ที่มา (phospholipid. On - line 2009)

ฟอสโฟลิพิดเป็นส่วนประกอบหลักของเยื่อหุ้มเซลล์ เนื้อเยื่อประสาท น้ำเลือด ไข่แดง โดยเฉพาะส่วนของเยื่อหุ้มเซลล์จะมีการเรียงตัวกันเป็นแผ่นบาง ๆ 2 ชั้นซ้อนกัน ส่วนหัวที่มีหมู่ฟอสเฟตอยู่จะเป็นบริเวณที่มีประจุเมื่ออยู่ในตัวกลางที่เป็นน้ำ ส่วนนี้จะดึงดูดกับโมเลกุลของน้ำ เรียกว่า ส่วนที่ชอบน้ำ (hydrophilic part) ส่วนหางที่ไม่มีประจุจะแยกตัวออกจากน้ำ เรียกว่า ส่วนที่ไม่ชอบน้ำ (hydrophobic part)

2.2 ไกลโคลิพิด (glycolipid) เป็นลิพิดที่มีคาร์โบไฮเดรตเป็นองค์ประกอบอยู่ด้วย เช่น กาแลคโทลิพิด (galactolipid) มีน้ำตาลกาแลคโทสเป็นองค์ประกอบ พบที่เยื่อหุ้มสมอง เส้นประสาท และพบตามอวัยวะต่างๆ เช่น ตับ ไต ม้าม เป็นต้น

2.3 ลิโปโปรตีน (lipoprotein) เป็นลิพิดธรรมดาที่มีโปรตีนหรือกรดอะมิโนเป็นองค์ประกอบอยู่ด้วย ลิโปโปรตีนเป็นส่วนประกอบสำคัญของเยื่อหุ้มเซลล์และในน้ำเลือด ทำหน้าที่ลำเลียงลิพิดไปยังเซลล์ต่าง ๆ ทั่วร่างกาย

## ความสำคัญของสารอาหารประเภทลิพิดต่อสิ่งมีชีวิต

1. เป็นแหล่งพลังงานที่สำคัญของร่างกาย โดยลิพิด 1 กรัม จะให้พลังงานประมาณ 9.1 กิโลแคลอรี มากกว่าสารอาหารประเภทคาร์โบไฮเดรตและโปรตีน(ร่างกายต้องการประมาณวันละ 40 กรัม)
2. ให้กรดไขมันที่จำเป็นต่อร่างกาย คือ กรดไลโนเลอิก (linoleic)
3. ลิพิดในอาหารจะเป็นตัวทำละลาย และช่วยในการดูดซึมวิตามิน A,D,E,K เข้าสู่ร่างกาย
4. ลิพิดที่สะสมภายในร่างกาย ช่วยยึดอวัยวะภายในและป้องกันการกระทบกระเทือน
5. เป็นฉนวนป้องกันความร้อน ไม่ให้สูญเสียออกจากร่างกาย โดยสะสมไว้บริเวณใต้ผิวหนัง
6. เป็นองค์ประกอบที่สำคัญของเยื่อหุ้มเซลล์ และเกี่ยวข้องกับการควบคุมการเปลี่ยนแปลงอุณหภูมิของเซลล์
7. ควบคุมเมตาบอลิซึมของเซลล์ เป้าหมายที่ถูกคุมโดยพวกสเตอรอยด์ฮอร์โมน เช่น เอสโตรเจน และ โพรเจสเตอโรน ซึ่งเป็นฮอร์โมนในเพศหญิง จะควบคุมเมตาบอลิซึมของเซลล์ภายในรังไข่และมดลูก เป็นต้น

### กิจกรรม การตรวจสอบสารอาหาร

ให้ผู้เรียนแบ่งกลุ่มทำการทดลอง แล้วตอบคำถามท้ายการทดลอง

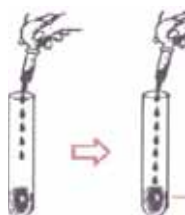
1. ใส่น้ำแป้งลงในหลอดทดลองขนาดกลาง จำนวน 3 หลอด ๆ ละ 2 ลูกบาศก์เซนติเมตร



หลอดที่ 1 หยดสารละลายไอโอดีน 1 หยด สังเกตและบันทึกผล

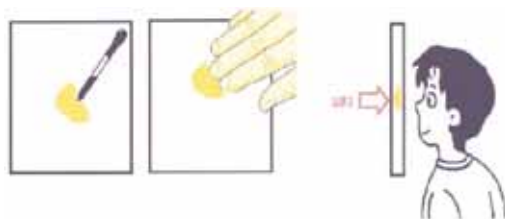


หลอดที่ 2 หยดสารละลายเบนดิกส์ 5 หยด แล้วนำไปต้ม 2 นาที สังเกตและบันทึกผล



หลอดที่ 3 หยดสารละลายคอปเปอร์ซัลเฟต 5 หยด และสารละลายโซเดียมไฮดรอกไซด์ 10 หยด สังเกตและบันทึกผล

นำแป้งมันจำนวนครึ่งช้อนเบอร์ 1 ไปถูกับกระดาษขาวประมาณ 4 - 5 ครั้ง หลังจากนั้นยกกระดาษไปทางที่มีแสงผ่าน สังเกตว่าโปร่งแสงหรือไม่บันทึกผล



2. ทำการทดลองเช่นเดียวกับข้อ 1 แต่ใช้น้ำตาลกลูโคส นมสด ไข่ขาว และน้ำมันพืช สังเกตและบันทึกผลลงในตารางบันทึกผล

| อาหาร        | การเปลี่ยนแปลงที่สังเกตได้ |                   |   |                |
|--------------|----------------------------|-------------------|---|----------------|
|              | สารละลายไอโอดีน            | สารละลายเบเนดิกต์ | สารละลายคอปเปอร์ (II) ซัลเฟต และสารละลายโซเดียมไฮดรอกไซด์ | ถูกับกระดาษขาว |
| แป้งมัน      |                            |                   |   |                |
| น้ำตาลกลูโคส |                            |                   |   |                |
| นมสด         |                            |                   |   |                |
| ไข่ขาว       |                            |                   |   |                |
| น้ำมันพืช    |                            |                   |   |                |

1. อาหารที่ทำให้สีของสารละลายไอโอดีนเปลี่ยนแปลงคือ อาหารประเภทใดและการเปลี่ยนแปลงที่สังเกตเปลี่ยนสีสารละลายไอโอดีนเป็นอย่างไร
2. อาหารที่ทำให้สีของสารละลายเบเนดิกต์เปลี่ยนแปลงคือ อาหารประเภทใดการเปลี่ยนแปลงที่สังเกตได้หลังจากการนำไปต้มเป็นอย่างไร
3. อาหารที่ทำให้สารละลายคอปเปอร์ ซัลเฟต และสารละลายโซเดียมไฮดรอกไซด์เปลี่ยนแปลงคืออาหารประเภทใด การเปลี่ยนแปลงที่สังเกตได้เป็นอย่างไร
4. อาหารที่นำไปถูกับกระดาษขาว แล้วทำให้กระดาษขาว โปร่งแสงคืออาหารประเภทใด
5. ในการทดสอบสารอาหารด้วยสารเคมี สารเคมีที่ต้องใช้พลังงานความร้อนคือ
6. จากผลการทำกิจกรรม สามารถจำแนกอาหารได้เป็นที่ประเภทอะไรบ้าง



## บทที่ 10

### ปิโตรเลียมและพอลิเมอร์

#### สาระสำคัญ

การเกิดปิโตรเลียม แหล่งปิโตรเลียม การกลั่นและผลิตภัณฑ์ปิโตรเลียม ประโยชน์ และผลจากการใช้ปิโตรเลียม

การเกิด และสมบัติของพอลิเมอร์ พอลอเมอร์ในชีวิตประจำวัน

การเกิด และผลกระทบจากการใช้พลาสติก ยาง ยางสังเคราะห์ เส้นและเส้นใยสังเคราะห์

#### ผลการเรียนรู้ที่คาดหวัง

1. อธิบายหลักการกลั่นลำดับส่วน ผลิตภัณฑ์และประโยชน์ของผลิตภัณฑ์ปิโตรเลียม ผลกระทบจากการใช้ผลิตภัณฑ์ปิโตรเลียม
2. อธิบาย ความหมาย ประเภท ชนิดการเกิดและสมบัติของพอลิเมอร์ พอลิเมอร์ในชีวิตประจำวัน ผลกระทบจากการใช้พลาสติก ยาง ยางสังเคราะห์ เส้นและเส้นใยสังเคราะห์

#### ขอบข่ายเนื้อหา

เรื่องที่ 1 ปิโตรเลียม

เรื่องที่ 2 พอลิเมอร์

## เรื่องที่ 1 ปิโตรเลียม

**ปิโตรเลียม (Petroleum)** มาจากรากศัพท์ภาษาละติน 2 คำ คือ เพทรา (Petra) แปลว่าหิน และ โอเลียม (Oleum) แปลว่าน้ำมัน รวมกันแล้วมีความหมายว่า **น้ำมันที่ได้จากหิน**

ปิโตรเลียมเป็นสารผสมของสารประกอบไฮโดรคาร์บอนและสารอินทรีย์หลายชนิดที่เกิดตามธรรมชาติทั้งในสถานะของเหลวและแก๊ส ได้แก่ น้ำมันดิบ (Crude oil) และแก๊สธรรมชาติ (Natural gas)

**น้ำมันดิบ** จากแหล่งต่าง ๆ อาจมีสมบัติทางกายภาพแตกต่างกัน เช่น มีลักษณะขุ่นเหนียว จนถึงหนักคล้ายยางมะตอย มีสีเหลือง เขียว น้ำตาลจนถึงดำ มีความหนาแน่น  $0.79 - 0.97 \text{ g/cm}^3$  น้ำมันดิบมีองค์ประกอบส่วนใหญ่เป็นสารประกอบไฮโดรคาร์บอนประเภทแอลเคน และไซโคลแอลเคน อาจมีสารประกอบของ N, S และสารประกอบออกไซด์อื่น ๆ ปนอยู่เล็กน้อย

**แก๊สธรรมชาติ (Natural gas)** มีองค์ประกอบหลักคือ สารประกอบไฮโดรคาร์บอนที่มีคาร์บอนในโมเลกุล 1 - 5 อะตอม ประมาณร้อยละ 95 ที่เหลือเป็นแก๊สไนโตรเจน และคาร์บอนไดออกไซด์ อาจมีแก๊สไฮโดรเจนซัลไฟด์ปนอยู่ด้วย แก๊สธรรมชาติอาจมีสถานะเป็นของเหลว เรียกว่า **แก๊สธรรมชาติเหลว (Condensate)** ประกอบด้วยไฮโดรคาร์บอนเช่นเดียวกับแก๊สธรรมชาติ แต่มีจำนวนอะตอมคาร์บอนมากกว่า เมื่ออยู่ในแหล่งกักเก็บใต้ผิวโลกที่ลึกมากและมีอุณหภูมิสูงมากจะมีสถานะเป็นแก๊ส แต่เมื่อนำขึ้นบนถึงระดับผิวดินซึ่งมีอุณหภูมิต่ำกว่า ไฮโดรคาร์บอนจะกลายสภาพเป็นของเหลว

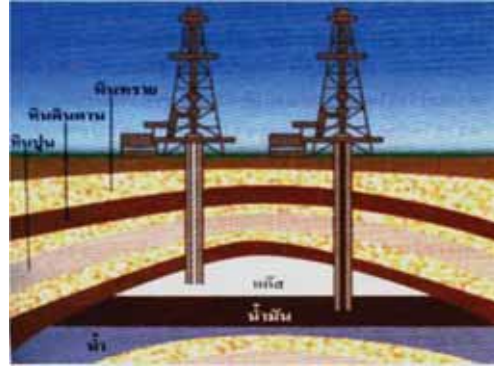
ปริมาณธาตุองค์ประกอบของน้ำมันดิบและแก๊สธรรมชาติ

| ชนิดของปิโตรเลียม | ปริมาณเป็นร้อยละโดยมวล |         |           |         |
|-------------------|------------------------|---------|-----------|---------|
|                   | C                      | H       | S         | N       |
| น้ำมันดิบ         | 82 - 87                | 12 - 15 | 0.1 - 1.5 | 0.1 - 1 |
| แก๊สธรรมชาติ      | 65 - 80                | 1 - 25  | 0.2       | 1 - 15  |

### การเกิดปิโตรเลียม

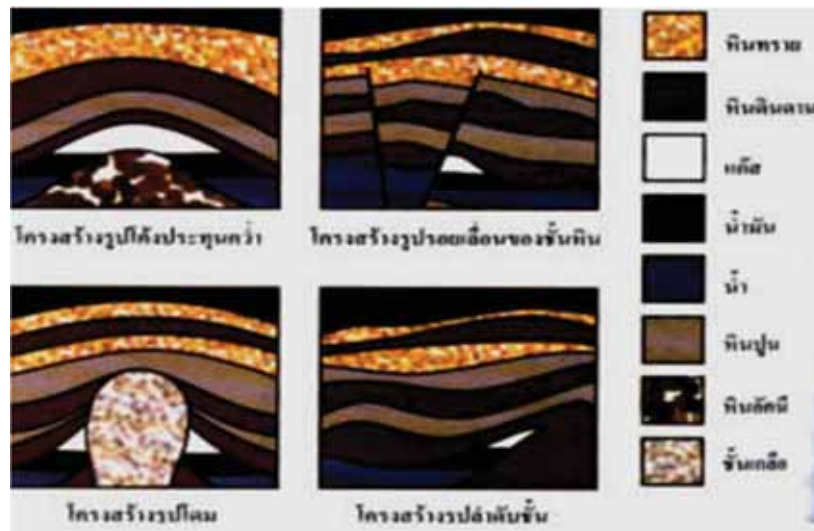
ปิโตรเลียมเกิดจากการทับถมและสลายตัวของอินทรีย์สารจากพืชและสัตว์ที่คลุกเคล้าอยู่กับตะกอนในชั้นกรวดทรายและโคลนตมใต้พื้นดิน เมื่อเวลาผ่านไปนับล้านปีตะกอนเหล่านี้จะจมตัวลงเรื่อย ๆ เนื่องจากการเปลี่ยนแปลงของผิวโลก ถูกอัดแน่นด้วยความดันและความร้อนสูง และมีปริมาณออกซิเจนจำกัด จึงสลายตัวเปลี่ยนสภาพเป็นแก๊สธรรมชาติและน้ำมันดิบแทรกอยู่ระหว่างชั้นหินที่มีรูพรุน

ปิโตรเลียมจากแหล่งต่างกันจะมีปริมาณของสารประกอบไฮโดรคาร์บอนรวมทั้งสารประกอบของกำมะถัน ไนโตรเจน และออกซิเจนแตกต่างกัน โดยขึ้นอยู่กับชนิดของซากพืชและสัตว์ที่เป็นต้นกำเนิดของปิโตรเลียม และอิทธิพลของแรงที่ทับถมอยู่บนตะกอน



### แหล่งกักเก็บปิโตรเลียม

ปิโตรเลียมที่เกิดอยู่ในชั้นหิน จะมีการเคลื่อนตัวออกไปตามรอยแตกและรูพรุนของหิน ไปสู่ระดับความลึกน้อยกว่าแล้วสะสมตัวอยู่ใน โครงสร้างหินที่มีรูพรุน มีโพรง หรือรอยแตกในเนื้อหิน ที่สามารถให้ปิโตรเลียมสะสมตัวอยู่ได้ ด้านบนเป็นหินตะกอนหรือหินดินดานเนื้อแน่นละเอียดปิดกั้นไม่ให้ปิโตรเลียมไหลลอดออกไปได้ โครงสร้างปิดกั้นดังกล่าวเรียกว่า แหล่งกักเก็บปิโตรเลียม



### การสำรวจปิโตรเลียม

การสำรวจปิโตรเลียมทำได้หลายวิธี และมีขั้นตอนต่าง ๆ ดังนี้

1. การสำรวจทางธรณีวิทยา (Geology) โดยทำแผนที่ภาพถ่ายทางอากาศ
2. สำรวจทางธรณีวิทยาพื้นผิว โดยการเก็บตัวอย่างหิน ศึกษาลักษณะของหิน วิเคราะห์ซากพืชซากสัตว์ที่อยู่ในหิน ผลการศึกษาช่วยให้คาดคะเนได้ว่ามีโอกาสพบโครงสร้างและชนิดของหินที่เอื้ออำนวยต่อการกักเก็บปิโตรเลียมในบริเวณนั้นมากหรือน้อยเพียงใด

### 3. การสำรวจทางธรณีฟิสิกส์ (Geophysics)

การวัดความเข้มสนามแม่เหล็กโลก จะบอกให้ทราบถึงขอบเขต ความหนา ความกว้างใหญ่ของแอ่ง และความลึกของชั้นหิน

การวัดค่าความโน้มถ่วงของโลก ทำให้ทราบถึงชนิดของชั้นหินใต้ผิวโลกในระดับต่าง ๆ ซึ่งจะช่วยในการกำหนดขอบเขตและรูปร่างของแอ่งใต้ผิวดิน

การวัดค่าความไหวสะเทือน (Seismic wave) จะช่วยบอกให้ทราบตำแหน่ง รูปร่างลักษณะ และโครงสร้างของหินใต้ดิน

4. การเจาะสำรวจ จะบอกให้ทราบถึงความยากง่ายของการขุดเจาะเพื่อนำปิโตรเลียมมาใช้ และบอกให้ทราบว่าสิ่งที่กักเก็บอยู่เป็นแก๊สธรรมชาติหรือน้ำมันดิบ และมีปริมาณมากน้อยเพียงใด ข้อมูลในการเจาะสำรวจจะนำมาใช้ในการตัดสินใจถึงความเป็นไปได้ในเชิงเศรษฐกิจ เมื่อเจาะสำรวจพบปิโตรเลียมในรูปแบบแก๊สธรรมชาติหรือน้ำมันดิบแล้ว ถ้าหลุมใดมีความดันภายในสูง ปิโตรเลียมจะถูกดันให้ไหลขึ้นมาเอง แต่ถ้าหลุมใดมีความดันภายในต่ำ จะต้องเพิ่มแรงดันจากภายนอกโดยการอัดแก๊สบางชนิดลงไป เช่น แก๊สธรรมชาติ แก๊สคาร์บอน ไดออกไซด์

#### การสำรวจน้ำมันดิบในประเทศไทย

มีการสำรวจครั้งแรกใน พ.ศ. 2464 พบที่อำเภอฝาง จังหวัดเชียงใหม่ และพบแก๊สธรรมชาติที่มีปริมาณมากพอในเชิงพาณิชย์ในอ่าวไทย เมื่อ พ.ศ. 2516 ต่อมาพบที่ อำเภอน้ำพอง จังหวัดขอนแก่น

ปริมาณสำรองปิโตรเลียมในประเทศไทย มีปริมาณที่ประเมินได้ ดังนี้

- น้ำมันดิบ 806 ล้านบาร์เรล
- แก๊สธรรมชาติ 32 ล้านลูกบาศก์ฟุต
- แก๊สธรรมชาติเหลว 688 ล้านบาร์เรล

แหล่งน้ำมันดิบใหญ่ที่สุดของประเทศ ได้แก่ **น้ำมันดิบเพชร** จากแหล่งสิริกิติ์ อำเภอลานกระบือ จังหวัดกำแพงเพชร แหล่งผลิตแก๊สธรรมชาติที่ใหญ่ที่สุดอยู่ในอ่าวไทยชื่อว่า **แหล่งบงกช** เจาะสำรวจพบเมื่อ พ.ศ. 2523

แหล่งสะสมปิโตรเลียมขนาดใหญ่ที่สุดของโลกอยู่ที่อ่าวเปอร์เซีย รองลงมา คือ บริเวณอเมริกา กลาง อเมริกาเหนือ และรัสเซีย ปิโตรเลียมที่พบบริเวณประเทศในจีเรียเป็นแหล่งปิโตรเลียมที่มีคุณภาพดีที่สุด เพราะมีปริมาณสารประกอบกำมะถันปนอยู่น้อยที่สุด

#### หน่วยวัดปริมาณปิโตรเลียม

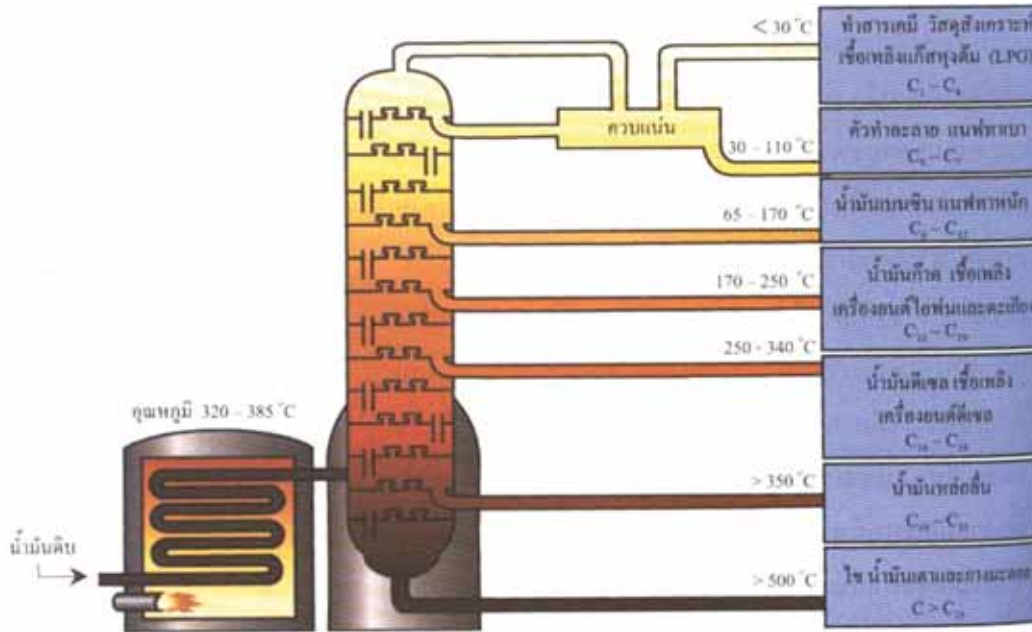
หน่วยที่ใช้วัดปริมาณน้ำมันดิบคือบาร์เรล (barrel)

1 บาร์เรล มี 42 แกลลอน หรือ 158.987 ลิตร

หน่วยที่ใช้วัดปริมาตรของแก๊สธรรมชาติ นิยมใช้หน่วยวัดเป็นลูกบาศก์ฟุต ที่อุณหภูมิ 60 องศาฟาเรนไฮต์ (15.56 องศาเซลเซียส) และความดัน 30 นิ้วของปรอท

## การกลั่นน้ำมันดิบ

น้ำมันดิบเป็นของผสมของสารประกอบไฮโดรคาร์บอนหลายชนิด ทั้งแอลเคน ไสโคลแอลเคน น้ำ และสารประกอบอื่น ๆ การกลั่นน้ำมันดิบจึงใช้การกลั่นลำดับส่วน ซึ่งมีขั้นตอนดังนี้



1. ก่อนการกลั่นต้องแยกน้ำและสารประกอบต่าง ๆ ออกจากน้ำมันดิบก่อน จนเหลือแต่สารประกอบไฮโดรคาร์บอนเป็นส่วนใหญ่

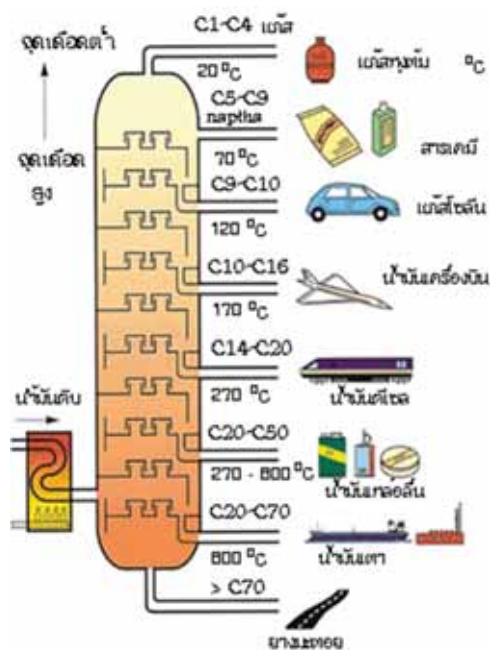
2. ส่งผ่านสารประกอบไฮโดรคาร์บอนผ่านท่อเข้าไปในเตาเผาที่มีอุณหภูมิ 320 - 385 °C น้ำมันดิบที่ผ่านเตาเผาจะมีอุณหภูมิสูง จนบางส่วนเปลี่ยนสถานะเป็นไอขึ้นไปกับของเหลว

3. ส่งสารประกอบไฮโดรคาร์บอนทั้งที่เป็นของเหลวและไอผ่านเข้าไปในหอกลั่น ซึ่งหอกลั่นเป็นหอสูงที่ภายในประกอบด้วยชั้นเรียงกันหลายสิบชั้น แต่ละชั้นจะมีอุณหภูมิแตกต่างกัน ชั้นบนมีอุณหภูมิต่ำ ชั้นล่างมีอุณหภูมิสูง ดังนั้นสารประกอบไฮโดรคาร์บอนที่มีมวลโมเลกุลต่ำและจุดเดือดต่ำจะระเหยขึ้นไป และควบแน่นเป็นของเหลวบริเวณชั้นที่อยู่ส่วนบนของหอกลั่น ส่วนสารประกอบไฮโดรคาร์บอนที่มีมวลโมเลกุลสูงและจุดเดือดสูงกว่าจะควบแน่นเป็นของเหลวอยู่ในชั้นต่ำลงมาตามช่วงอุณหภูมิของจุดเดือด สารประกอบไฮโดรคาร์บอนบางชนิดที่มีจุดเดือดใกล้เคียงกันจะควบแน่นปนกันออกมาชั้นเดียวกัน การเลือกช่วงอุณหภูมิในการเก็บผลิตภัณฑ์จึงขึ้นอยู่กับจุดประสงค์ของการใช้ผลิตภัณฑ์ที่ได้

สารประกอบไฮโดรคาร์บอนที่มีมวลโมเลกุลสูงมาก เช่น น้ำมันเตา น้ำมันหล่อลื่น และยางมะตอย ซึ่งมีจุดเดือดสูงจึงยังคงเป็นของเหลวในช่วงอุณหภูมิของการกลั่น และจะถูกแยกอยู่ในชั้นตอนล่างของหอกลั่น

## 1.1 การกลั่นลำดับส่วน (Fractional distillation)

วิธีการนี้คือการกลั่นน้ำมันแบบพื้นฐาน ซึ่งสามารถแยกน้ำมันดิบออกเป็นส่วนต่างๆ (Fractions) กระบวนการนี้ใช้หลักการจากลักษณะของส่วนต่าง ๆ ของน้ำมันดิบที่มีค่าอุณหภูมิจุดเดือด (Boiling point) ที่แตกต่างกันออกไป และเป็นผลให้ส่วนต่าง ๆ ของน้ำมันดิบนั้นมีจุดควบแน่น (Condensation point) ที่แตกต่างกันออกไปด้วย น้ำมันดิบจากถังจะได้รับการสูบผ่านเข้าไปในเตาเผา (Furnace) ที่มีอุณหภูมิสูงมากพอที่จะทำให้ทุก ๆ ส่วนของน้ำมันดิบแปรสภาพไปเป็นไอได้ แล้วไอน้ำมันดังกล่าวก็จะถูกส่งผ่านเข้าไปในหอกลั่นลำดับส่วน (Fractionating tower) ที่มีรูปร่างเป็นทรงกระบอก มีขนาดความสูงประมาณ 30 เมตร และมีขนาดเส้นผ่าศูนย์กลางประมาณ 2.5 - 8 เมตร ภายในหอกลั่นดังกล่าวมีการแบ่งเป็นห้องต่าง ๆ หลายห้องตามแนวราบ โดยมีแผ่นกั้นห้องที่มีลักษณะคล้ายถาดกลม โดยแผ่นกั้นห้องทุกแผ่นจะมีการเจาะรูเอาไว้เพื่อให้ไอน้ำมันที่ร้อนสามารถผ่านทะลุขึ้นสู่ส่วนบนของหอกลั่นได้ และมีท่อต่อเพื่อนำน้ำมันที่กลั่นตัวแล้วออกไปจากหอกลั่นเมื่อไอน้ำมันดิบที่ร้อนถูกส่งให้เข้าไปสู่หอกลั่นทางท่อ ไอจะเคลื่อนตัวขึ้นไป สู่ส่วนบนสุดของหอกลั่น และขณะที่เคลื่อนตัวขึ้นไปนั้น ไอน้ำมันจะเย็นตัวลงและควบแน่นไปเรื่อย ๆ แต่ละส่วนของไอน้ำมันจะกลั่นตัวเป็นของเหลวที่ระดับต่าง ๆ ในหอกลั่น ทั้งนี้ขึ้นอยู่กับอุณหภูมิ ของการควบแน่นที่แตกต่างกันออกไป น้ำมันส่วนที่เบากว่า (Lighter fractions) เช่น น้ำมันเบนซิน (Petrol) และพาราฟิน (Paraffin) ซึ่งมีค่าอุณหภูมิของการควบแน่นต่ำจะกลายเป็นของเหลวที่ห้องชั้นบนสุดของหอกลั่นและค้างตัวอยู่บนแผ่นกั้นห้องชั้นบนสุด น้ำมันส่วนกลาง (Medium fractions) เช่น ดีเซล (Diesel) น้ำมันแก๊ส (Gas oils) และน้ำมันเตา (Fuel oils) บางส่วนจะควบแน่นและกลั่นตัวที่ระดับต่าง ๆ ตอนกลางของ หอกลั่น ส่วนน้ำมันหนัก (Heavy fractions) เช่น น้ำมันเตา และสารตกค้างพวกแอสฟัลต์ จะกลั่นตัวที่ส่วนล่างสุดของหอกลั่นซึ่งมีอุณหภูมิสูงและจะถูกระบายออกไปจากส่วนฐานของหอกลั่น



กระบวนการกลั่นลำดับส่วนที่นำมาใช้ในอุตสาหกรรมปิโตรเลียม

ข้อเสียของกระบวนการกลั่นลำดับส่วนคือ จะได้น้ำมันเบาประเภทต่าง ๆ ในสัดส่วนที่น้อยมาก ทั้งที่น้ำมันเบาเหล่านี้ล้วนมีคุณค่าทางเศรษฐกิจสูง

## 1.2 ผลลัพธ์ที่ได้จากการกลั่นปิโตรเลียม

น้ำมันดิบหรือปิโตรเลียม มีส่วนประกอบเป็นธาตุคาร์บอน และไฮโดรเจน และอาจมีธาตุอื่น ๆ ประปนอยู่ด้วย ทั้งนี้ขึ้นอยู่กับแหล่งน้ำมันดิบแต่ละที่จะมีองค์ประกอบ แตกต่างกัน การนำน้ำมันดิบมาใช้ประโยชน์ ต้องผ่านกระบวนการกลั่นแยก ซึ่งเรียกว่า การกลั่นลำดับส่วน เพื่อแยกน้ำมันดิบออกเป็นผลิตภัณฑ์ต่างๆจำนวนมาก ทั้งนี้ ผลลัพธ์ที่ได้จากการกลั่นลำดับส่วน น้ำมันดิบ จะมีองค์ประกอบ ชนิดใดมากหรือน้อย ขึ้นอยู่กับแหล่งน้ำมันดิบ เช่น บางแหล่งกลั่นได้น้ำมันดีเซลมาก หรือบางแหล่งอาจจะได้น้ำมันเบนซินมาก เป็นต้น

ผลลัพธ์จากการกลั่นน้ำมันปิโตรเลียม เรียกว่า สารประกอบไฮโดรคาร์บอน ซึ่งประกอบด้วยธาตุไฮโดรเจน และคาร์บอน จำนวนแตกต่างกัน มีตั้งแต่โมเลกุลที่มีคาร์บอน 1 อะตอม ขึ้นไปจนถึงกว่า 50 อะตอม ถ้าโมเลกุลที่มีจำนวน 1 - 4 อะตอม จะมีสถานะเป็นแก๊ส เมื่อจำนวนคาร์บอนเพิ่มขึ้น สถานะจะเป็นของเหลว และมีความข้นเหนียวมากขึ้นตามจำนวนคาร์บอน ซึ่งโมเลกุลเหล่านี้ นำไปใช้ประโยชน์ในลักษณะแตกต่างกันดังข้อมูลในตารางนี้

### ผลลัพธ์ที่ได้จากการกลั่นปิโตรเลียม สมบัติ และการใช้ประโยชน์

| ผลิตภัณฑ์ที่ได้ | จุดเดือด (°C) | สถานะ           | จำนวน C | การใช้ประโยชน์                                    |
|-----------------|---------------|-----------------|---------|---|
| แก๊สปิโตรเลียม  | < 30          | แก๊ส            | 1 - 4   | ทำสารเคมี วัสดุสังเคราะห์ เชื้อเพลิงแก๊สหุงต้ม    |
| แนฟทาเบา        | 30 - 110      | ของเหลว         | 5 - 7   | น้ำมันเบนซิน ตัวทำละลาย                           |
| แนฟทาหนัก       | 65 - 170      | ของเหลว         | 6 - 12  | น้ำมันเบนซิน แนฟทาหนัก                            |
| น้ำมันก๊าด      | 170 - 250     | ของเหลว         | 10 - 19 | น้ำมันก๊าด เชื้อเพลิง เครื่องยนต์ไอพ่น และตะเกียง |
| น้ำมันดีเซล     | 250 - 340     | ของเหลว         | 14 - 19 | เชื้อเพลิงเครื่องยนต์ดีเซล                        |
| น้ำมันหล่อลื่น  | > 350         | ของเหลว         | 19 - 35 | น้ำมันหล่อลื่น น้ำมันเครื่อง                      |
| ไข              | > 500         | ของแข็ง         | > 35    | ใช้ทำเทียนไข เครื่องสำอาง ยา ขัดมัน ผลิตภัณฑ์ฟอก  |
| น้ำมันเตา       | > 500         | ของเหลว<br>หนืด | > 35    | เชื้อเพลิงเครื่องจักร                             |



| ผลิตภัณฑ์ที่ได้ | จุดเดือด (°C) | สถานะ           | จำนวน C | การใช้ประโยชน์   |
|-----------------|---------------|-----------------|---------|--|
| ยางมะตอย        | > 500         | ของเหลว<br>หนืด | > 35    | ยางมะตอย เป็นของแข็งที่<br>อ่อนตัวและเหนียวหนืดเมื่อ<br>ถูกความร้อน ใช้เป็นวัสดุกัน<br>ซึม |

### 1.3 ผลกระทบของการใช้ปิโตรเลียม

การเผาไหม้ปิโตรเลียมจะก่อให้เกิดมลภาวะทางอากาศ โดยการปล่อยไอเสียออกมาจาก ปล่องควันของโรงงานอุตสาหกรรม โรงจักรไฟฟ้าและจากรถยนต์ สารมลพิษดังกล่าวคือ ก๊าซซัลเฟอร์ไดออกไซด์ (SO<sub>2</sub>) ก๊าซไนโตรเจนออกไซด์ (NO) ก๊าซคาร์บอนมอนอกไซด์ (CO) สารไฮโดรคาร์บอนและ ฝุ่นละออง เขม่าต่าง ๆ

#### ภาวะมลพิษที่เกิดจากการผลิตและการใช้ผลิตภัณฑ์ปิโตรเลียม

##### สาเหตุมลพิษ

มลพิษจะเกิดได้ในหลายรูปแบบ ส่วนใหญ่จะมีสาเหตุมาจาก 2 ประการ คือ

1. การเพิ่มของประชากร
2. เทคโนโลยี

จากสาเหตุดังกล่าวจะก่อให้เกิดภาวะมลพิษ ในหลายด้าน เช่น ภาวะมลพิษทางน้ำ ภาวะมลพิษทางอากาศ

##### ภาวะมลพิษทางน้ำ

สาเหตุ การเกิดภาวะมลพิษทางน้ำที่สำคัญ 4 ประการ

1. สารแขวนลอย สารแขวนลอย คือสารผสมของสสารต่างชนิดกันที่ไม่เป็นเนื้อเดียวกันและมีอนุภาคใหญ่กว่า 1 ไมโครเมตร (1000 นาโนเมตร)
2. เชื้อโรคที่มากับน้ำ เช่น โรคฉี่หนู โรคเท้าเปื่อย
3. ปริมาณ O<sub>2</sub> ในน้ำ ออกซิเจนในน้ำมีความสำคัญต่อการดำรงชีวิตของสัตว์ และพืชในน้ำ ปริมาณการละลายของออกซิเจนในน้ำเป็นเครื่องบ่งบอกคุณภาพของน้ำในแหล่งนั้นถ้าหาก ปริมาณออกซิเจนน้อยผิดปกติ แสดงว่าน้ำเสีย ทำให้สิ่งมีชีวิตต่าง ๆ อยู่ไม่ได้ ออกซิเจนที่ละลายอยู่ในน้ำ มาจากอากาศเป็นแหล่งสำคัญ

4. สารเคมีในน้ำ จำพวกโลหะหนัก เช่น เหล็ก ตะกั่ว

##### มาตรฐานน้ำทิ้งของกระทรวงอุตสาหกรรม

- pH 5-9
- T = 40 °C
- BOD = 20 -60 mg/l



## ภาวะมลพิษทางอากาศ

สาเหตุ การเกิดภาวะมลพิษทางอากาศที่สำคัญ 4 ประการ

1. ก๊าซหรือไอของสารอินทรีย์ เช่น ไอระเหยของน้ำมันเบนซิน จะทำลายไขกระดูก เม็ดเลือดแดงแตก โรคโลหิตจาง และอาการหรือโรคทางประสาทส่วนกลาง
2. โลหะหนัก ผลของความเป็นพิษของโลหะหนักในสิ่งมีชีวิตเกิดจากกลไกระดับเซลล์ 5 แบบ คือ

1. ทำให้เซลล์ตาย
2. เปลี่ยนแปลงโครงสร้างและการทำงานของเซลล์
3. เป็นตัวการชักนำให้เกิดมะเร็ง
4. เป็นตัวการทำให้เกิดความผิดปกติทางพันธุกรรม
5. ทำความเสียหายต่อโครโมโซม ซึ่งเป็นปัจจัยทางพันธุกรรม

3. ฝุ่นละออง ฝุ่นละอองขนาดเล็กจะมีผลกระทบต่อสุขภาพเป็นอย่างมาก เมื่อหายใจเข้าไปในปอดจะเข้าไปอยู่ในระบบทางเดินหายใจส่วนล่าง โดยเฉพาะผู้ป่วยสูงอายุ ผู้ป่วยโรคหัวใจ โรคหืดหอบ

## 4. สารกัมมันตรังสี

ก๊าซที่ก่อให้เกิดมลพิษทางอากาศมีหลายชนิด เช่น CO CO<sub>2</sub> SO<sub>2</sub> NO NO<sub>2</sub> นอกจากนี้ อาจเป็นพวกไฮโดรคาร์บอน ที่มีพันธะคู่ ร่วมกับ O<sub>2</sub> ในอากาศได้สารพวกที่มีกลิ่นเหม็นพวกอัลดีไฮด์ แต่ถ้ามี NO<sub>2</sub> รวมอยู่ด้วยจะเกิดสารประกอบ Peroxy acyl nitrate (PAN) ทำให้เกิดการระคายเคืองต่อระบบหายใจ

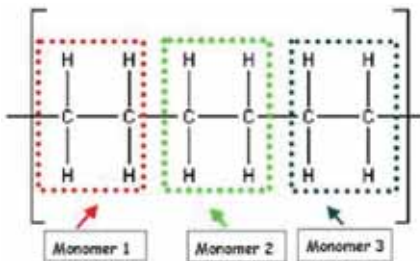


## เรื่องที่ 2 พอลิเมอร์

### 2.1 ความหมาย ประเภท ชนิด การเกิด และสมบัติของพอลิเมอร์

**พอลิเมอร์ (Polymer)** คือ สารประกอบที่มีโมเลกุลขนาดใหญ่ และมีมวลโมเลกุลมากประกอบด้วยหน่วยเล็ก ๆ ของสารที่อาจจะเหมือนกันหรือต่างกันมาเชื่อมต่อกันด้วยพันธะโควาเลนต์

**มอนอเมอร์ (Monomer)** คือ หน่วยเล็ก ๆ ของสารในพอลิเมอร์ ดังภาพ



ประเภทของพอลิเมอร์ แบ่งตามเกณฑ์ต่าง ๆ ดังนี้

1. แบ่งตามการเกิดเป็นเกณฑ์ เป็น 2 ชนิด คือ

ก. **พอลิเมอร์ธรรมชาติ** เป็นพอลิเมอร์ที่เกิดขึ้นเองตามธรรมชาติ เช่น โปรตีน แป้ง เซลลูโลส ไกลโคเจน กรดนิวคลีอิกและยางธรรมชาติ(พอลิไอโซพรีน)

ข. **พอลิเมอร์สังเคราะห์** เป็นพอลิเมอร์ที่เกิดจากการสังเคราะห์ เพื่อใช้ประโยชน์ต่าง ๆ เช่น พลาสติก ไนลอน คาร์บอน และลูไซต์ เป็นต้น

2. แบ่งตามชนิดของมอนอเมอร์ที่เป็นองค์ประกอบ เป็น 2 ชนิด คือ

ก. **โฮมอพอลิเมอร์ (Homopolymer)** เป็นพอลิเมอร์ที่ประกอบด้วยมอนอเมอร์ชนิดเดียวกัน เช่น แป้ง(ประกอบด้วยมอนอเมอร์ที่เป็นกลูโคสทั้งหมด) พอลิเอทิลีน PVC (ประกอบด้วยมอนอเมอร์ที่เป็นเอทิลีนทั้งหมด)



ข. **เฮเทอโรพอลิเมอร์ (Heteropolymer)** เป็นพอลิเมอร์ที่ประกอบด้วยมอนอเมอร์ต่างชนิดกัน เช่น โปรตีน (ประกอบด้วยมอนอเมอร์ที่เป็นกรดอะมิโนต่างชนิดกัน) พอลิเอสเทอร์ พอลิเอไมด์ เป็นต้น



3. แบ่งตามโครงสร้างของพอลิเมอร์ แบ่งออกเป็น 3 แบบ คือ

**ก. พอลิเมอร์แบบเส้น** (Chain length polymer) เป็นพอลิเมอร์ที่เกิดจากมอนอเมอร์สร้างพันธะต่อกันเป็นสายยาว โซ่พอลิเมอร์เรียงชิดกันมากกว่าโครงสร้างแบบอื่น ๆ จึงมีความหนาแน่น และจุดหลอมเหลวสูง มีลักษณะแข็ง ขุ่นเหนียวกว่าโครงสร้างอื่นๆ ตัวอย่าง PVC พอลิสไตรีน พอลิเอทิลีน ดังภาพ



**ข. พอลิเมอร์แบบกิ่ง** (Branched polymer) เป็นพอลิเมอร์ที่เกิดจากมอนอเมอร์ยึดกันแตกกิ่งก้านสาขา มีทั้งโซ่สั้นและโซ่ยาว กิ่งที่แตกจาก พอลิเมอร์ของโซ่หลัก ทำให้ไม่สามารถจัดเรียงโซ่พอลิเมอร์ให้ชิดกันได้มาก จึงมีความหนาแน่นและจุดหลอมเหลวต่ำยืดหยุ่นได้ ความเหนียวต่ำ โครงสร้างเปลี่ยนรูปได้ง่ายเมื่ออุณหภูมิเพิ่มขึ้น ตัวอย่าง พอลิเอทิลีนชนิดความหนาแน่นต่ำ ดังภาพ



**ค. พอลิเมอร์แบบร่างแห** (Cross - linking polymer) เป็นพอลิเมอร์ที่เกิดจากมอนอเมอร์ต่อเชื่อมกันเป็นร่างแห พอลิเมอร์ชนิดนี้มีความแข็งแรง และเปราะหักง่าย ตัวอย่างเบกาไลต์ เมลามีน ใช้ทำถ้วยชาม ดังภาพ



**หมายเหตุ** พอลิเมอร์บางชนิดเป็นพอลิเมอร์ที่เกิดจากสารอนินทรีย์ เช่น ฟอสฟาซีน ซิลิโคน

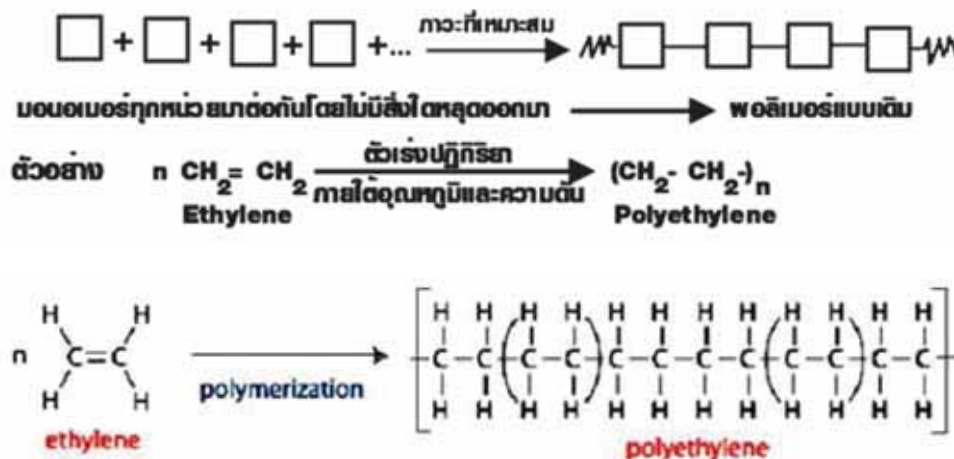
#### การเกิดพอลิเมอร์

พอลิเมอร์เกิดขึ้นจากการเกิดปฏิกิริยาพอลิเมอร์ไรเซชันของมอนอเมอร์

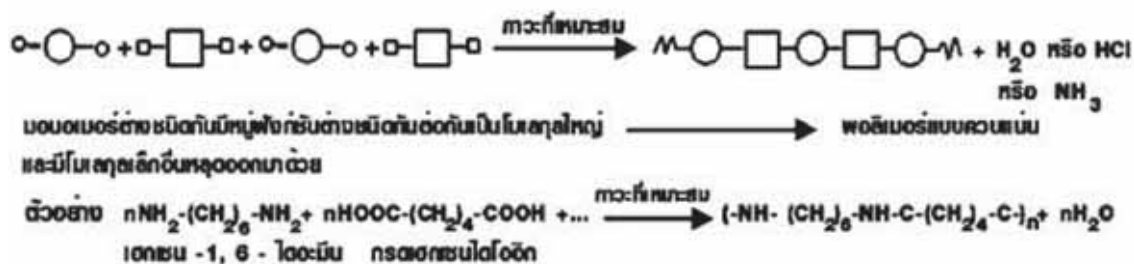
**พอลิเมอร์ไรเซชัน (Polymerization)** คือ กระบวนการเกิดสารที่มีโมเลกุลขนาดใหญ่ (พอลิเมอร์) จากสารที่มีโมเลกุลเล็ก (มอนอเมอร์)

## ปฏิกิริยาพอลิเมอร์ไรเซชัน

1. ปฏิกิริยาพอลิเมอร์ไรเซชันแบบเติม (Addition polymerization reaction) คือ ปฏิกิริยาพอลิเมอร์ไรเซชันที่เกิดจากมอนอเมอร์ของสารอินทรีย์ชนิดเดียวกันที่มี C กับ C จับกันด้วยพันธะคู่มารวมตัวกันเกิดสารพอลิเมอร์เพียงชนิดเดียวเท่านั้น ดังภาพ



2. ปฏิกิริยาพอลิเมอร์ไรเซชันแบบควบแน่น (Condensation polymerization reaction) คือ ปฏิกิริยาพอลิเมอร์ไรเซชันที่เกิดจากมอนอเมอร์ที่มีหมู่ฟังก์ชันมากกว่า 1 หมู่ ทำปฏิกิริยากันเป็นพอลิเมอร์และสารโมเลกุลเล็ก เช่น น้ำ ก๊าซแอมโมเนีย ก๊าซไฮโดรเจนคลอไรด์ เมทานอล เกิดขึ้นด้วย ดังภาพ



## คุณสมบัติของพอลิเมอร์

ชนิดของคุณสมบัติของพอลิเมอร์แบ่งอย่างกว้าง ๆ ได้เป็นหลายหมวดขึ้นกับความละเอียด ในระดับนาโนหรือไมโครเป็นคุณสมบัติที่อธิบายลักษณะของสายโดยตรง โดยเฉพาะโครงสร้างของพอลิเมอร์ในระดับกลาง เป็นคุณสมบัติที่อธิบายพื้นฐานของพอลิเมอร์เมื่ออยู่ในที่ว่าง ในระดับกว้างเป็นการอธิบายพฤติกรรมโดยรวมของ พอลิเมอร์ ซึ่งเป็นคุณสมบัติในระดับการใช้งาน

- **คุณสมบัติในการขนส่ง** เป็นคุณสมบัติของอัตราการแพร่หรือโมเลกุลเคลื่อนไปได้เร็วเท่าใดในสารละลายของพอลิเมอร์ มีความสำคัญมากในการนำพอลิเมอร์ไปใช้เป็นเชื้อหุ้ม
- **จุดหลอมเหลว** คำว่าจุดหลอมเหลวที่ใช้กับพอลิเมอร์ไม่ใช่การเปลี่ยนสถานะจากของแข็งเป็นของเหลวแต่เป็นการเปลี่ยนจากรูปผลึกหรือกึ่งผลึกมาเป็นรูปของแข็ง บางครั้งเรียกว่า จุดหลอมเหลวผลึก ในกลุ่มของพอลิเมอร์สังเคราะห์ จุดหลอมเหลวผลึกยังเป็นที่ถกเถียงในกรณีของเทอร์โมพลาสติก เช่น เทอร์โมเซต พอลิเมอร์ที่สลายตัวในอุณหภูมิสูงมากกว่าจะหลอมเหลว
- **พฤติกรรมการผสม** โดยทั่วไปส่วนผสมของพอลิเมอร์มีการผสมกันได้น้อยกว่าการผสมของโมเลกุลเล็กๆ ผลกระทบนี้เป็นผลจากข้อเท็จจริงที่ว่าแรงจับเคลื่อนสำหรับการผสมมักเป็นแบบระบบปิดไม่ใช่แบบใช้พลังงาน หรืออีกอย่างหนึ่ง วัสดุที่ผสมกันได้ที่เกิดเป็นสารละลายไม่ใช่ เพราะปฏิสัมพันธ์ระหว่างโมเลกุลที่ชอบทำปฏิริยาต่อกันแต่เป็นเพราะการเพิ่มค่าเอนโทรปีและพลังงานอิสระที่เกี่ยวข้องกับการเพิ่มปริมาตรที่ใช้งานได้ของแต่ละส่วนประกอบ การเพิ่มขึ้นในระดับเอนโทรปีขึ้นกับจำนวนของอนุภาคที่นำมาผสมกัน เพราะโมเลกุลของพอลิเมอร์มีขนาดใหญ่กว่าและมีความจำเพาะกับปริมาตรเฉพาะมากกว่าโมเลกุลขนาดเล็ก จำนวนของโมเลกุลที่เกี่ยวข้องในส่วนผสมของพอลิเมอร์มีค่าน้อยกว่าจำนวนในส่วนผสมของโมเลกุลขนาดเล็กที่มีปริมาตรเท่ากัน ค่าพลังงานในการผสมเปรียบเทียบได้ต่อหน่วยปริมาตรสำหรับส่วนผสมของพอลิเมอร์และโมเลกุลขนาดเล็ก มีแนวโน้มเพิ่มขึ้นของพลังงานอิสระในการผสมสารละลายพอลิเมอร์และทำให้การละลายของพอลิเมอร์เกิดได้น้อย สารละลายพอลิเมอร์ที่เข้มข้นพบน้อยกว่าที่พบในสารละลายของโมเลกุลขนาดเล็ก ในสารละลายที่เจือจาง คุณสมบัติของพอลิเมอร์จำแนกโดยปฏิริยาระหว่างตัวทำละลายและพอลิเมอร์ ในตัวทำละลายที่ดี พอลิเมอร์จะพองและมีปริมาตรมากขึ้น แรงระหว่างโมเลกุลของตัวทำละลายกับหน่วยย่อยจะสูงกว่าแรงภายในโมเลกุล ในตัวทำละลายที่ไม่ดี แรงภายในโมเลกุลสูงกว่าและสายจะหดตัว ในตัวทำละลายแบบชิตา หรือสถานะที่สารละลายพอลิเมอร์ซึ่งมีค่าของสัมประสิทธิ์ วิเรียลที่สองเป็นศูนย์ แรงผลักระหว่างโมเลกุลของพอลิเมอร์กับตัวทำละลายเท่ากับแรงภายในโมเลกุลระหว่างหน่วยย่อย ในสภาวะนี้ พอลิเมอร์อยู่ในรูปเกลียววอดมคติ
- **การแตกกิ่ง** การแตกกิ่งของสายพอลิเมอร์มีผลกระทบต่อคุณสมบัติทั้งหมดของพอลิเมอร์ สายยาวที่แตกกิ่งจะเพิ่มความเหนียว เนื่องจากการเพิ่มจำนวนของความซับซ้อนต่อสาย ความยาวอย่างสุ่มและสายสั้นจะลดแรงภายในพอลิเมอร์เพราะการรบกวนการจัดตัวโซ่ข้างสั้น ๆ ลดความเป็นผลึก เพราะรบกวนโครงสร้างผลึก การลดความเป็นผลึกเกี่ยวข้องกับการเพิ่มลักษณะ โปร่งใสแบบกระจก เพราะแสงผ่านบริเวณที่เป็นผลึกขนาดเล็ก ตัวอย่างที่ดีของผลกระทบนี้เกี่ยวข้องกับขอบเขตของลักษณะทางกายภาพของพอลิโอทิลีน พอลิโอทิลีนความหนาแน่นสูงมีระดับการแตกกิ่งต่ำ มีความแข็ง พอลิโอทิลีนความหนาแน่นต่ำมีการแตกกิ่งขนาดสั้นๆจำนวนมาก มีความยืดหยุ่นกว่าและใช้ในการทำฟิล์มพลาสติกดัชนีการแตกกิ่งของพอลิเมอร์เป็นคุณสมบัติที่ใช้จำแนกผลกระทบของการแตกกิ่งสายยาวต่อขนาดของโมเลกุลที่แตกกิ่งใน

สารละลาย เคนไครเมอร์เป็นกรณีพิเศษของพอลิเมอร์ที่หน่วยย่อยทุกตัวแตกต่างกัน ซึ่งมีแนวโน้มลดแรงระหว่างโมเลกุลและ

การเกิดผลึกพอลิเมอร์แบบเคนดริติกไม่ได้แตกกิ่งอย่างสมบูรณ์แต่มีคุณสมบัติใกล้เคียงกับเคนไครเมอร์ เพราะมีการแตกกิ่งมากเหมือนกัน

- **การเติมพลาสติกซีเซอร์** การเติมพลาสติกซีเซอร์มีแนวโน้มเพิ่มความยืดหยุ่นของพอลิเมอร์พลาสติกซีเซอร์ โดยทั่วไปเป็นโมเลกุลขนาดเล็กที่มีคุณสมบัติทางเคมีคล้ายกับพอลิเมอร์ เข้าเติมในช่องว่างของพอลิเมอร์ที่เคลื่อนไหวได้ดีและลดปฏิกิริยาระหว่างสาย ตัวอย่างที่ดีของพลาสติกซีเซอร์เกี่ยวข้องกับพอลิไวนิลคลอไรด์ หรือพีวีซี พีวีซีที่ไม่ได้เติมพลาสติกซีเซอร์ใช้ทำท่อ ส่วนพีวีซีที่เติม พลาสติกซีเซอร์ใช้ทำผ้า เพราะมีความยืดหยุ่นมากกว่า

## 2.2 พอลิเมอร์ในชีวิตประจำวัน

### 2.2.1 พลาสติก

**พลาสติก** เป็นสารประกอบอินทรีย์ที่สังเคราะห์ขึ้นใช้แทนวัสดุธรรมชาติ บางชนิดเมื่อเย็นก็แข็งตัว เมื่อถูกความร้อนก็อ่อนตัว บางชนิดแข็งตัวถาวร มีหลายชนิด เช่น ไนลอน ยางเทียม ใช้ทำสิ่งต่าง ๆ เช่น เสื้อผ้า ฟิล์ม ภาชนะ ส่วนประกอบเรือหรือรถยนต์

#### สมบัติทั่วไปของพลาสติก

- มีความเสถียรมากในธรรมชาติ สลายตัวยาก มีมวลน้อย และเบา
- เป็นฉนวนความร้อนและไฟฟ้าที่ดี
- ส่วนมากอ่อนตัวและหลอมเหลวเมื่อได้รับความร้อน จึงเปลี่ยนเป็นรูปต่าง ๆ ได้ตามประสงค์

#### ประเภทของพลาสติก

พลาสติกแบ่งออกเป็น 2 ประเภท คือ เทอร์โมพลาสติก และ เทอร์โมเซตติงพลาสติก


**เทอร์โมพลาสติก (Thermoplastic)** หรือเรซิน เป็นพลาสติกที่ไ้ใช้กันแพร่หลายที่สุด ได้รับความร้อนจะอ่อนตัว และเมื่อเย็นลงจะแข็งตัว สามารถเปลี่ยนรูปได้ พลาสติกประเภทนี้ โครงสร้างโมเลกุลเป็นโซ่ตรงยาว มีการเชื่อมต่อระหว่างโซ่พอลิเมอร์น้อยมาก จึงสามารถหลอมเหลว หรือเมื่อผ่านการอัดแรงมากจะไม่ทำลายโครงสร้างเดิม ตัวอย่าง พอลิเอทิลีน โพลีโพรพิลีน พอลิสไตรีน มีสมบัติพิเศษคือ เมื่อหลอมแล้วสามารถนำมาขึ้นรูปกลับมาใช้ใหม่ได้ ชนิดของพลาสติกใน ตระกูลเทอร์โมพลาสติก ได้แก่

- **โพลีเอทิลีน (Polyethylene: PE)** เป็นพลาสติกที่ไ้ใช้น้ำซึมผ่านได้เล็กน้อย แต่อากาศผ่านเข้าออกได้ มีลักษณะขุ่นและทนความร้อนได้พอควร เป็นพลาสติกที่นำมาใช้มากที่สุดในอุตสาหกรรม เช่น ท่อน้ำ ถัง ถู ขวด แทนรองรับสินค้า

- **โพลีโพรพิลีน (Polypropylene: PP)** เป็นพลาสติกที่ไ้ใช้น้ำซึมผ่านได้เล็กน้อย แข็งกว่าโพลีเอทิลีน ทนต่อสารไขมันและความร้อนสูง ใช้ทำแผ่นพลาสติกถุงพลาสติกบรรจุอาหารที่ทนร้อน หลอดดูดพลาสติก เป็นต้น



- โพลีสไตรีน (Polystyrene: PS) มีลักษณะโปร่งใส เพราะ ทนต่อกรดและด่าง ใอน้ำและอากาศซึมผ่านได้พอควร ใช้ทำชิ้นส่วนอุปกรณ์ไฟฟ้าและอิเล็กทรอนิกส์ เครื่องใช้สำนักงาน เป็นต้น
- SAN (styrene - acrylonitrile) เป็นพลาสติกโปร่งใส ใช้ผลิตชิ้นส่วน เครื่องใช้ไฟฟ้า ชิ้นส่วนยานยนต์
- ABS (acrylonitrile - butadiene - styrene) สมบัติคล้ายโพลีสไตรีน แต่ทนสารเคมีดีกว่า เหนียวกว่า โปร่งแสง ใช้ผลิตถ้วย ถาด เป็นต้น
- โพลีไวนิลคลอไรด์ (Polyvinylchloride : PVC) ใอน้ำและอากาศซึมผ่านได้พอควร แต่ป้องกันไขมันได้ดีมีลักษณะใส ใช้ทำขวดบรรจุน้ำมันและไขมันปรุงอาหาร ขวดบรรจุเครื่องดื่มที่มีแอลกอฮอล์ เช่น ไวน์ เบียร์ ใช้ทำแผ่นพลาสติก ห่อเนยแข็ง ทำแผ่นแลมินเนตชั้นในของถุงพลาสติก
- ไนลอน (Nylon) เป็นพลาสติกที่มีความเหนียวมาก คงทนต่อการเพิ่มอุณหภูมิ ทำแผ่นแลมินเนตสำหรับทำถุงพลาสติกบรรจุอาหารแบบสุญญากาศ
- โพลีเอทิลีน เทอร์ฟะธาเลต (Terylene : polyethylene terephthalate) เหนียวมาก โปร่งใส ราคาแพง ใช้ทำแผ่นฟิล์มบาง ๆ บรรจุอาหาร
- โพลีคาร์บอเนต (Polycarbonate: PC) มีลักษณะโปร่งใส แข็ง ทนแรงยึดและแรงกระแทกได้ดี ทนความร้อนสูง ทนกรด แต่ไม่ทนด่าง เป็นรอยหรือคราบอาหาร จับยาก ใช้ทำถ้วย จาน ชาม ขวดนมเด็ก และขวดบรรจุอาหารเด็ก



โครงสร้างของเทอร์โมพลาสติก (Thermoplastic)

เทอร์โมเซตติงพลาสติก (Thermosetting plastic) เป็นพลาสติกที่มีสมบัติพิเศษ คือทนทานต่อการเปลี่ยนแปลงอุณหภูมิและทนปฏิกิริยาเคมีได้ดี เกิดคราบและรอยเปื้อนได้ยาก คงรูปหลังการผ่านความร้อนหรือแรงดันเพียงครั้งเดียว เมื่อเย็นลงจะแข็งมาก ทนความร้อนและความดัน ไม่อ่อนตัวและเปลี่ยนรูปร่างไม่ได้ แต่ถ้าอุณหภูมิสูงก็จะแตกและไหม้เป็นขี้เถ้าสีดำ พลาสติกประเภทนี้โมเลกุลจะเชื่อมโยงกันเป็นร่างแหจับกันแน่น แรงยึดเหนี่ยวระหว่างโมเลกุลแข็งแรงมาก จึงไม่สามารถนำมาหลอมเหลวได้ กล่าวคือ เกิดการเชื่อมต่อข้ามไปมาระหว่างสายโซ่ของโมเลกุลของโพลิเมอร์ (cross linking among polymer chains) เหตุนี้หลังจาก พลาสติกเย็นจนแข็งตัวแล้ว จะไม่สามารถทำให้อ่อนได้อีกโดยใช้ความร้อน หากแต่จะสลายตัวทันทีที่อุณหภูมิสูงถึงระดับ การทำพลาสติกชนิดนี้ให้เป็นรูปลักษณะต่าง ๆ ต้องใช้ความร้อนสูงและโดยมากต้องการแรงอัดด้วย เทอร์โมเซตติงพลาสติก ได้แก่

- **เมลามีน ฟอรัมาลดีไฮด์ (melamine formaldehyde)** มีสมบัติทางเคมีทนแรงดันได้ 7,000 - 135,000 ปอนด์ต่อตารางนิ้ว ทนแรงอัดได้ 25,000 - 50,000 ปอนด์ต่อตารางนิ้ว ทนแรงกระแทกได้ 0.25 - 0.35 ทนทานต่อการเปลี่ยนแปลงอุณหภูมิ ทนความร้อนได้ถึง 140 องศาเซลเซียส และทนปฏิกิริยาเคมีได้ดี เกิดคราบและรอยเปื้อนยาก เมลามีนใช้ทำภาชนะบรรจุอาหารหลายชนิด และนิยมใช้กันมาก มีทั้งที่เป็นสีเขียวและลวดลายสวยงาม ข้อเสียคือ น้ำส้มสายชูจะซึมเข้าเนื้อพลาสติกได้ง่าย ทำให้เกิดรอยด่าง แต่ไม่มีพิษภัยเพราะไม่มีปฏิกิริยากับพลาสติก

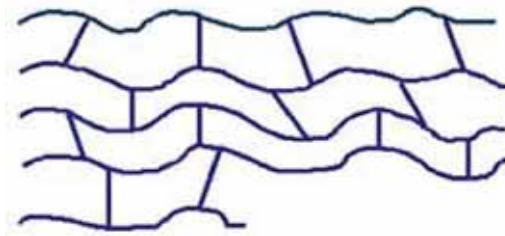
- **ฟีนอลฟอรัมาลดีไฮด์ (phenol-formaldehyde)** มีความต้านทานต่อตัวทำละลายสารละลายเกลือ และน้ำมัน แต่พลาสติกอาจพองบวมได้เนื่องจากน้ำหรือแอลกอฮอล์พลาสติกชนิดนี้ใช้ทำฝาขวดและหม้อ

- **อีพ็อกซี (epoxy)** ใช้เคลือบผิวของอุปกรณ์ภายในบ้านเรือน และท่อเก็บก๊าซ ใช้ในการเชื่อมส่วนประกอบโลหะ แก้ว และเซรามิก ใช้ในการหล่ออุปกรณ์ที่ทำจากโลหะและเคลือบผิวอุปกรณ์ ใช้ใส่ในส่วนประกอบของอุปกรณ์ไฟฟ้า เส้นใยของท่อ และท่อความดัน ใช้เคลือบผิวของพื้นและผนัง ใช้เป็นวัสดุของแผ่นกำบังนิวตรอน ซีเมนต์ และปูนขาว ใช้เคลือบผิวถนน เพื่อกันลื่น ใช้ทำโฟมแข็ง ใช้เป็นสารในการทำสีของแก้ว

- **โพลีเอสเตอร์ (polyester)** กลุ่มของโพลีเมอร์ที่มีหมู่เอสเทอร์ (-O•CO-) ในหน่วยซ้ำเป็นโพลีเมอร์ที่นำมาใช้งานได้หลากหลาย เช่น ใช้ทำพลาสติกสำหรับเคลือบผิว ขวดน้ำ เส้นใย พิล์มและยาง เป็นต้น ตัวอย่างโพลีเมอร์ในกลุ่มนี้ เช่น โพลีเอทิลีนเทเรฟทาเลต โพลีบิวทิลีนเทเรฟทาเลต และโพลีเมอร์ผลึกเหลวบางชนิด

- **ยูรีเทน (urethane)** ชื่อเรียกทั่วไปของเอทิลคาร์บาเมต มีสูตรทางเคมีคือ  $\text{NH}_2\text{COOC}_2\text{H}_5$

- **โพลียูรีเทน (polyurethane)** โพลีเมอร์ประกอบด้วยหมู่ยูรีเทน (-NH•CO•O-) เติร์มมาจากปฏิกิริยาระหว่างไดไอโซไซยาเนต (di-isocyanates) กับ ไดออล (diols) หรือ ไตรออล (triols) ที่เหมาะสม ใช้เป็นกาว และน้ำมันชักเงา พลาสติกและยาง ชื่อย่อคือ PU



โครงสร้างของเทอร์โมเซตติงพลาสติก (Thermosetting plastic)



ตาราง แสดงสมบัติบางประการของพลาสติกบางชนิด

| ชนิดของ<br>พลาสติก          | ประเภทของ<br>พลาสติก     | สมบัติบางประการ   |  | ตัวอย่างการนำไปใช้<br>ประโยชน์   |
|-----------------------------|--------------------------|---|--|--|
|                             |                          | สภาพการไหม้ไฟ   | ข้อสังเกตอื่น  |  |
| พอลิเอทิลีน                 | เทอร์โม<br>พลาสติก       | เปลวไฟสีน้ำเงินขอบ<br>เหลือง กลิ่นเหมือน<br>พาราฟิน เปลวไฟไม่ดับ<br>เอง | เก็บจัดเป็นรอย ไม่<br>ละลายในสารละลาย<br>ทั่วไป ลอยน้ำ       | ถุง ภาชนะ फिल्मถ่ายภาพ<br>ของเล่นเด็ก ดอกไม้<br>พลาสติก                                    |
| พอลิโพรพิลีน                | เทอร์โม<br>พลาสติก       | เปลวไฟสีน้ำเงินขอบ<br>เหลือง ควนขาว กลิ่น<br>เหมือนพาราฟิน              | ขีดด้วยเล็บไม่เป็นรอย<br>ไม่แตก                              | โต๊ะ เก้าอี้ เชือก พรอม<br>บรรจุภัณฑ์อาหาร<br>ชิ้นส่วนรถยนต์                               |
| พอลิสไตรีน                  | เทอร์โม<br>พลาสติก       | เปลวไฟสีเหลือง เขม่า<br>มาก กลิ่นเหมือนกำมะถัน<br>ระคาย                 | เปราะ ละลายได้ใน<br>คาร์บอนเตตระคลอไรด์<br>และโทลูอีน ลอยน้ำ | โฟม อุปกรณ์ไฟฟ้า เกล็ด<br>ของเล่นเด็ก อุปกรณ์กีฬา<br>เครื่องมือสื่อสาร                     |
| พอลิไวนิล<br>คลอไรด์        | เทอร์โม<br>พลาสติก       | ติดไฟยาก เปลวสีเหลือง<br>ขอบเขียว ควนขาว กลิ่น<br>กรดเกลือ              | อ่อนตัวได้คล้ายยาง ลอย<br>น้ำ                                | กระดาษติดผนัง ภาชนะ<br>บรรจุสารเคมี รองเท้า<br>กระเบื้องปูพื้น ฉนวนหุ้ม<br>สายไฟ ท่อพีวีซี |
| ไนลอน                       | เทอร์โม<br>พลาสติก       | เปลวไฟสีน้ำเงินขอบ<br>เหลือง กลิ่นคล้ายเขา<br>สัตว์ติดไฟ                | เหนียว ยืดหยุ่น ไม่แตก<br>จมน้ำ                              | เครื่องนุ่งห่ม ถุงน่องสตรี<br>พรอม อวน แห  |
| พอลิยูเรีย<br>ฟอร์มัลดีไฮด์ | เทอร์โมเซตติง<br>พลาสติก | ติดไฟยาก เปลวสีเหลือง<br>อ่อน ขอบฟ้าแกมเขียว<br>กลิ่นแอมโมเนีย          | แตกร้าว จมน้ำ  | เต้าเสียบไฟฟ้า วัสดุเชิง<br>วิศวกรรม   |
| อีพอกซี                     | เทอร์โมเซตติง<br>พลาสติก | ติดไฟง่าย เปลวสีเหลือง<br>ควนดำ กลิ่นคล้ายข้าว<br>คั่ว                  | ไม่ละลายในสาร<br>ไฮโดรคาร์บอนและน้ำ                          | กาว สี สารเคลือบผิวหน้า<br>วัตถุ   |
| พอลิเอสเทอร์                | เทอร์โมเซตติง<br>พลาสติก | ติดไฟยาก เปลวสีเหลือง<br>ควนกลิ่นฉุน                                    | อ่อนตัว ยืดหยุ่น   | เส้นใยผ้า  |
|                             | เทอร์โมเซตติง<br>พลาสติก | ติดไฟยาก เปลวสีเหลือง<br>ควนดำ กลิ่นฉุน                                 | เปราะ หรือแข็งเหนียว   | ตัวถังรถยนต์ ตัวถังเรือ ใช้<br>บุภายในเครื่องบิน   |

## พลาสติกรีไซเคิล (Plastic recycle)

การแปรรูปของใช้แล้วกลับมาใช้ใหม่ หรือกระบวนการที่เรียกว่า "รีไซเคิล" คือ การนำเอาของเสียที่ผ่านการใช้แล้วกลับมาใช้ใหม่ที่อาจเหมือนเดิม หรือไม่เหมือนเดิมก็ได้ ของใช้แล้วจากภาคอุตสาหกรรม นำกลับมาใช้ใหม่ ได้แก่ กระดาษ แก้ว กระจก อะลูมิเนียม และพลาสติก "การรีไซเคิล" เป็นหนึ่งในวิธีการลดขยะ ลดมลพิษให้กับสภาพแวดล้อม ลดการใช้พลังงานและลดการใช้ทรัพยากรธรรมชาติของโลกไม่ให้ถูกนำมาใช้สิ้นเปลืองมากเกินไป

### พลาสติกสลายตัวได้จริงแล้ว

หลังจากคิดค้นพัฒนามานาน 15 ปี บริษัท ICI ของอังกฤษ ก็เริ่มผลิตพลาสติกชนิดใหม่ซึ่งย่อยสลายได้โดย จุลินทรีย์ (Biodegradable) เรียกชื่อทางการค้าว่า BIOPOL และนำไปใช้งานได้อย่างจริงจังแล้วก่อนหน้านี้ แต่ก็ยังมีบางส่วนที่สลายไม่หมดสิ้น และยังไม่ใช้งานได้เหมือนที่ควร

BIOPOL ทำจาก พอลิเมอร์ธรรมชาติที่เรียกว่า Polyhydroxybutyrate (PHB) ซึ่งเมื่อย่อยสลายแล้ว จะได้ ก๊าซคาร์บอน ไดออกไซด์กับน้ำ แบคทีเรียและราที่มีอยู่ทั่วไป จะย่อยวัสดุชนิดนี้จนหมดสิ้นไปในเวลาเพียงไม่กี่สัปดาห์เท่านั้น ICI ผลิต PHB จากแบคทีเรียที่ชื่อว่า *Alcaligenes eutrophus* ซึ่งสะสมสาร PHB ไว้ในตัวมันแบบเดียวกับที่ มนุษย์เราหลายคนสะสมไขมัน ไว้ที่พุงนั่นเอง เมื่อเลี้ยงแบคทีเรียนี้ในถังที่มีกลูโคส และสารอาหารอื่นๆ มัน ก็จะผลิตสาร PHB ขึ้นมา และถ้าเติมกรดอินทรีย์บางชนิดลงไป ในขั้นตอนการผลิต นักวิทยาศาสตร์สามารถ ปรับเปลี่ยนคุณสมบัติของ BIOPOL ให้เหมาะสมกับการใช้งานต่างๆ ได้ เมื่อพลาสติกนี้สลายตัว ก๊าซคาร์บอน ไดออกไซด์ที่ปล่อยออกมาสู่บรรยากาศ มีปริมาณใกล้เคียงกับที่พืชใช้เพื่อ ผลิตเป็นกลูโคส ด้วยเหตุนี้จึงไม่มีการเพิ่มปริมาณก๊าซคาร์บอน ไดออกไซด์แก่บรรยากาศของโลก อันเป็นสาเหตุ หนึ่งที่ทำให้โลกเราร้อนขึ้น

เอื้อเพื่อข้อมูลโดย สุวิทย์ เข็มธรรมา, สถาบันส่งเสริมการสอนวิทยาศาสตร์และเทคโนโลยี (สสวท.)

การแปรรูปของใช้แล้วกลับมาใช้ใหม่มีกระบวนการอยู่ 4 ขั้นตอน ได้แก่

1. การเก็บรวบรวม
2. การแยกประเภทวัสดุแต่ละชนิดออกจากกัน
3. การผลิตหรือปรับปรุง
4. การนำมาใช้ประโยชน์ในขั้นตอนการผลิตหรือปรับปรุงนั้น วัสดุที่แตกต่างชนิดกัน จะมีกรรมวิธี

ในการผลิต แยกต่างกัน เช่น ขวด แก้วที่ต่างสี พลาสติกที่ต่างชนิด หรือกระดาษที่เนื้อกระดาษ และสีที่แตกต่างกันต้องแยกประเภทออกจากกัน

ปัจจุบันเราใช้พลาสติกฟุ่มเฟือยมาก แต่ละปีประเทศไทยมีขยะพลาสติกจำนวนมาก ซึ่งเป็นปัญหาด้านสิ่งแวดล้อมของโลก จึงมีความพยายามคิดค้นทำพลาสติกที่ย่อยสลายทางชีวภาพ (Biodegradable) มาใช้แทน แต่พลาสติกบางชนิดยังไม่สามารถย่อยสลายทางชีวภาพได้ ในทางปฏิบัติยังคงกำจัดขยะพลาสติกด้วยวิธีฝังกลบใต้ดิน และเผา ซึ่งก่อให้เกิดปัญหาด้านสิ่งแวดล้อมตามมา วิธีที่ดีที่สุดในการดูแลสิ่งแวดล้อม

เกี่ยวกับขยะพลาสติก คือ ลดปริมาณการใช้ให้เหลือเท่าที่จำเป็น และมีการนำพลาสติกบางชนิดกลับไปผ่านบางขั้นตอนในการผลิต แล้วนำกลับมาใช้งานใหม่ได้ตามเดิม อุตสาหกรรมพลาสติก ประเทศสหรัฐอเมริกา (The Society of Plastics Industry ; SPI) ได้กำหนดสัญลักษณ์เพื่อบ่งชี้ประเภทของพลาสติกกรีไซเคิล ซึ่งจะกำกับไว้ในผลิตภัณฑ์สินค้าที่ทำด้วยพลาสติก ดังต่อไปนี้

พลาสติกกลุ่มที่ 1 คือ เพท (PETE) สัญลักษณ์คือ 1 เป็นพลาสติกที่ส่วนใหญ่มีความใส มองทะลุได้ มีความแข็งแรงทนทานและเหนียวป้องกันการผ่านของก๊าซได้ดี มีจุดหลอมเหลว 250 - 260 องศาเซลเซียส มีความหนาแน่น 1.38 - 1.39 นิยมนำมาใช้ทำบรรจุภัณฑ์ต่าง ๆ เช่น ขวดน้ำดื่ม ขวดน้ำปลา ขวดน้ำมันพืช เป็นต้น



พลาสติกกลุ่มที่ 2 คือ HDPE สัญลักษณ์คือ 2 เป็นพลาสติกที่มีความหนาแน่นสูง ค่อนข้างนิ่ม มีความเหนียวไม่แตกง่าย มีจุดหลอมเหลว 130 องศาเซลเซียส มีความหนาแน่น 0.95 - 0.92 นิยมนำมาใช้ทำบรรจุภัณฑ์ทำความสะอาด เช่น แชมพู ถุงร้อนชนิดขุ่น ขวดนม เป็นต้น



พลาสติกกลุ่มที่ 3 คือ พีวีซี (PVC) สัญลักษณ์คือ 3 เป็นพลาสติกที่มีลักษณะทั้งแข็งและนิ่ม สามารถผลิตเป็นผลิตภัณฑ์ได้หลายรูปแบบ มีสีสวยแวววาว มีจุดหลอมเหลว 75 - 90 องศาเซลเซียส เป็นพลาสติกที่นิยมใช้มาก เช่น ท่อพีวีซี สายยาง แผ่นฟิล์มห่ออาหาร เป็นต้น



ลักษณะแข็งเช่น



ลักษณะนิ่มเช่น



พลาสติกกลุ่มที่ 4 คือ LDPE สัญลักษณ์คือ 4 เป็นพลาสติกที่มีความหนาแน่นต่ำ มีความนิ่มกว่า HDPE มีความเหนียวยืดตัวได้ในระดับหนึ่ง ส่วนใหญ่ใสมองเห็นได้ จุดหลอมเหลว 110 องศาเซลเซียส มีความหนาแน่น 0.92 - 0.94 นิยมนำมาใช้ทำแผ่นฟิล์ม ห่ออาหารและห่อของ



พลาสติกกลุ่มที่ 5 คือ pp สัญลักษณ์คือ 5 เป็นพลาสติกที่ส่วนใหญ่มีความหนาแน่นค่อนข้างต่ำ มีความแข็งและเหนียวคงรูปดี ทนต่อความร้อน และสารเคมี มีจุดหลอมเหลว 160 - 170 องศาเซลเซียส ความหนาแน่น 0.90 - 0.91 นิยมนำมาใช้ทำบรรจุภัณฑ์สำหรับอาหารในครัวเรือน เช่น ถู้อุ่นชนิดใส จาน ชาม อุปกรณ์ไฟฟ้าบางชนิด



พลาสติกกลุ่มที่ 6 คือ PS สัญลักษณ์คือ 6 เป็นพลาสติกที่มีความใส แข็งแต่เปราะแตกง่าย สามารถทำเป็นโฟมได้ มีจุดหลอมเหลว 70 - 115 องศาเซลเซียส ความหนาแน่น 0.90 - 0.91 นิยมนำมาใช้ทำบรรจุภัณฑ์ เช่น ถังไอศกรีม ถังไอศกรีม โฟม ฯลฯ



พลาสติกกลุ่มที่ 7 คือ อื่น ๆ เป็นพลาสติกที่นอกเหนือจากพลาสติกทั้ง 6 กลุ่ม พบมากมายหลากหลายรูปแบบ



### 2.2.2 ยางและยางสังเคราะห์

**ยางธรรมชาติ** คือวัสดุพอลิเมอร์ที่มีต้นกำเนิดจากของเหลวของพืชบางชนิด ซึ่งมีลักษณะเป็นของเหลวสีขาว คล้ายน้ำนม มีสมบัติเป็นคอลลอยด์ อณูภาคเล็ก มีตัวกลางเป็นน้ำ

#### ประวัติยางธรรมชาติ

ยางธรรมชาติเป็นน้ำยางจากต้นไม้ยืนต้น มีชื่อเรียกอีกชื่อหนึ่ง คือ ยางพาราหรือต้นยางพารา ยางพารามีถิ่นกำเนิดบริเวณลุ่มน้ำอเมซอน ประเทศบราซิล และเปรู ในทวีปอเมริกาใต้ ซึ่งชาวอินเดียนแดงเผ่ามายัน ในอเมริกากลาง ได้รู้จักการนำยางพารามาใช้ก่อนปี พ.ศ. 2000 โดยการจุ่มเท้าลงในน้ำยางดิบ เพื่อทำเป็นรองเท้า ส่วนเผ่าอื่น ๆ ก็นำยางไปใช้ประโยชน์ ในการทำผ้ากันฝน ทำขวดใส่น้ำ และทำลูกบอลขลุ่ยต่าง ๆ เป็นต้น จนกระทั่งคริสโตเฟอร์ โคลัมบัสได้เดินทางมาสำรวจทวีปอเมริกาใต้ ในระหว่างปี พ.ศ. 2036 - 2039 และได้พบกับชาวพื้นเมืองเกาะเฮติที่กำลังเล่นลูกบอลขลุ่ยซึ่งสามารถกระดอนได้ ทำให้คณะผู้เดินทางสำรวจประหลาดใจจึงเรียกว่า "ลูกบอลผีสิง"



น้ำยางจากต้นยาง

ต่อมาในปี พ.ศ. 2279 นักวิทยาศาสตร์ชาวฝรั่งเศสชื่อชาลส์ มารีเดอลา คอนตามินี (Charles Merie de la Condamine) ได้ให้ชื่อเรียกยางตามคำพื้นเมืองของชาวไมกาว่า "คาโอชู" (Caoutchouc) ซึ่งแปลว่าต้นไม้ร้องไห้ และให้ชื่อเรียกของเหลวที่มีลักษณะข้นขาวคล้ายน้ำมันซึ่งไหลออกมาจากต้นยาง เมื่อกรีดเป็นรอยแผลว่า ลาเทกซ์ (latex) และใน พ.ศ. 2369 ฟาราเดย์ (Faraday) ได้รายงานว่ายางธรรมชาติเป็นสารที่ประกอบด้วย อนุภาคมอนและไฮโดรเจน มีสูตรเคมีคือ  $C_5H_8$  หลังจากนั้น จึงได้มีการปรับปรุงสมบัติของยางพาราเพื่อให้ใช้งานได้กว้างขึ้นเพื่อตอบสนองความต้องการของมนุษย์

### การผลิตยางธรรมชาติ

แหล่งผลิตยางธรรมชาติที่ใหญ่ที่สุดในโลกคือ แถบเอเชียตะวันออกเฉียงใต้คิดเป็นร้อยละ 90 ของแหล่งผลิตทั้งหมด ส่วนที่เหลือมาจากแอฟริกากลาง ซึ่งพันธุ์ยางที่ผลิตในเอเชียตะวันออกเฉียงใต้ คือ พันธุ์ฮีเวียบราซิลเลียนซิส (Hevea brasiliensis) น้ำยางที่กรีดได้จากต้นจะเรียกว่าน้ำยางสด (field latex) น้ำยางที่ได้จากต้นยางมีลักษณะเป็นเม็ดขุ่นเล็กๆ กระจายอยู่ในน้ำ (emulsion) มีลักษณะเป็นของเหลวสีขาว มีสภาพเป็น คอลลอยด์ มีปริมาณของแข็งประมาณร้อยละ 30 - 40 pH 6.5 - 7 น้ำยางมีความหนืดประมาณ 0.975 - 0.980 กรัมต่อมิลลิลิตร มีความหนืด 12 - 15 เซนติพอยส์ ส่วนประกอบในน้ำยางสดแบ่งออกได้เป็น 2 ส่วน คือ

1. ส่วนที่เป็นเนื้อยาง 35%
2. ส่วนที่ไม่ใช่ยาง 65%
  - 2.1 ส่วนที่เป็นน้ำ 55%
  - 2.2 ส่วนของลูทอยด์ 10%

น้ำยางสดที่กรีดได้จากต้นยาง จะคงสภาพความเป็นน้ำยางอยู่ได้ไม่เกิน 6 ชั่วโมง เนื่องจากแบคทีเรียในอากาศ และจากเปลือกของต้นยางขณะกรีดยางจะลงไปปนน้ำยาง และกินสารอาหารที่อยู่ในน้ำยาง เช่น โปรตีน น้ำตาล ฟอสโฟไลปิด โดยแบคทีเรียจะเจริญเติบโตอย่างรวดเร็ว ปฏิกิริยาที่เกิดขึ้นหลังจากแบคทีเรียกินสารอาหาร คือ จะเกิดการย่อยสลายได้เป็นก๊าซชนิดต่าง ๆ เช่น ก๊าซคาร์บอนไดออกไซด์ ก๊าซมีเทน เริ่มเกิดการบูดเน่าและส่งกลิ่นเหม็น การที่มีกรดที่ระเหยง่ายเหล่านี้ในน้ำยางเพิ่มมากขึ้น จะส่งผลให้ค่า pH ของน้ำยางเปลี่ยนแปลงลดลง ดังนั้นน้ำยางจึงเกิดการสูญเสียสภาพ ซึ่งสังเกตได้จาก น้ำยางจะค่อย ๆ หนืดขึ้น เนื่องจากอนุภาคของยางเริ่มจับตัวเป็นเม็ดเล็ก ๆ และจับตัวเป็นก้อนใหญ่ขึ้น จนน้ำยางสูญเสียสภาพโดยน้ำยางจะแยกเป็น 2 ส่วน คือ ส่วนที่เป็นเนื้อยาง และส่วนที่เป็นขรุ้ม<sup>[1]</sup> ดังนั้นเพื่อป้องกันการสูญเสียสภาพของน้ำยางไม่ให้อนุภาคของเม็ดยางเกิดการรวมตัวกันเองตามธรรมชาติ จึงมีการใส่สารเคมีลงไปปนน้ำยางเพื่อเก็บรักษาน้ำยางให้คงสภาพเป็นของเหลว โดยสารเคมีที่ใช้ในการเก็บรักษาน้ำยางเรียกว่า สารป้องกันการจับตัว (Anticoagulant) ได้แก่ แอมโมเนีย โซเดียมซัลไฟด์ โพร์มาดีไฮด์ เป็นต้น เพื่อที่รักษาน้ำยางไม่ให้เสียสภาพ

การนำยางธรรมชาติไปใช้งานมีอยู่ 2 รูปแบบคือ รูปแบบน้ำยาง และรูปแบบยางแห้ง ในรูปแบบน้ำยางนั้นน้ำยางสดจะถูกนำมาแยกน้ำออกเพื่อเพิ่มความเข้มข้นของเนื้อยางชั้นตอนหนึ่งก่อนด้วยวิธีการต่าง ๆ แต่ที่นิยมใช้ในอุตสาหกรรมคือการใช้เครื่องเซนตริฟิวส์ ในขณะที่การเตรียมยางแห้งนั้นมักจะใช้วิธีการใส่กรดอะซิติกลงในน้ำยางสด การใส่กรดอะซิติกเจือจางลงในน้ำยาง ทำให้น้ำยางจับตัวเป็นก้อน เกิดการแยกชั้นระหว่างเนื้อยางและน้ำ ส่วนน้ำที่ปนอยู่ในยางจะถูกกำจัดออกไปโดยการรีดด้วยลูกกลิ้ง 2 ลูกกลิ้ง วิธีการหลัก ๆ ที่จะทำใหยางแห้งสนิทมี 2 วิธีคือ การรมควันยาง และการทำยางเครพ แต่เนื่องจากยางผลิตได้จากเกษตรกรจากแหล่งที่แตกต่างกัน ทำให้ต้องมีการแบ่งชั้นของยางตามความบริสุทธิ์ของยางนั้น ๆ

### รูปแบบของยางธรรมชาติ

ยางธรรมชาติสามารถแบ่งออกเป็นหลายประเภทตามลักษณะรูปแบบของยางดิบ ได้แก่

- น้ำยาง
  - น้ำยางสด
  - น้ำยางข้น
- ยางแผ่นผึ่งแห้ง : ยางที่ได้จากการนำน้ำยางมาจับตัวเป็นแผ่น โดยสารเคมีที่ใช้จะต้องตามเกณฑ์ที่กำหนด ส่วนการทำใหยางแห้งอาจใช้วิธีการผึ่งลมในที่ร่ม หรือ อบในโรงอบก็ได้แต่ต้องปราศจากควัน
- ยางแผ่นรมควัน
- ยางเครพ
- ยางแท่ง : ก่อนปี 2508 ยางธรรมชาติที่ผลิตขึ้นมา ส่วนใหญ่จะผลิตในรูปของยางแผ่นรมควัน ยางเครพ หรือน้ำยางข้น ซึ่งยางธรรมชาติเหล่านี้จะไม่มีการระบุมาตรฐานการจัดชั้นยางที่ชัดเจน ตามปกติจะใช้สายตาในการพิจารณาตัดสินชั้นยาง ต่อมาในปี 2508 สถาบันวิจัยยางมาเลเซีย (Rubber Research Institute of Malaysia) ได้มีการผลิตยางแท่งขึ้นเป็นแห่งแรก เพื่อเป็นการปรับปรุงและพัฒนาคุณภาพของยางธรรมชาติให้ได้มาตรฐาน เหมาะสมกับการใช้งาน จนทำใหยางแท่งเป็นยางธรรมชาติชนิดแรกที่ผลิตมาโดยมีการควบคุมคุณภาพให้ได้มาตรฐาน ตลอดจนมีการระบุคุณภาพของยางดิบที่ผลิตได้แน่นอน
- ยางแท่งความหนืดคงที่ : เป็นยางที่ผลิตขึ้น เพื่อใช้ในอุตสาหกรรมทำผลิตภัณฑ์ที่ต้องการควบคุมความหนืดของยางที่ใช้ในการแปรรูป เช่น อุตสาหกรรมยางท่อ อุตสาหกรรมทำกาว
- ยางskim : ยางskimเป็นยางธรรมชาติที่ได้จากการจับตัวน้ำยางskim (skim latex) ด้วยกรดแล้วนำยางที่ได้ไปทำการรีดแผ่นและทำให้แห้ง โดยน้ำยางskimเป็นน้ำส่วนที่เหลือจากการทำน้ำยางข้น ด้วยการนำน้ำยางสดมาทำการเซนตริฟิวส์ แยกอนุภาคเม็ดยางออกจากน้ำ ซึ่งอนุภาคเม็ดยางเบากว่าน้ำ ส่วนใหญ่จึงแยกตัวออกไปเป็นน้ำยางข้น น้ำยางข้นที่ได้มีปริมาณเนื้อยางอยู่ร้อยละ 60 – 63



ซึ่งน้ำยางสกิม คือ ส่วนที่เหลือจากการเซนตริฟิวส์แยกเนื้อยางส่วนใหญ่ออกไปแล้ว ก็ยังมีส่วนของเนื้อยางออกมาด้วย ซึ่งเป็นเนื้อยางที่มีขนาดอนุภาคเล็ก ๆ มีปริมาณเนื้อยางอยู่ร้อยละ 3 - 6



วัตถุดิบที่สำคัญที่ใช้สำหรับการผลิตพลาสติก คือ ผลิตภัณฑ์ที่ได้จากบีโตรเลียม กัทซธรรมชาติ ถ่านหิน แร่ธาตุต่างๆ เป็น ส่วนใหญ่ นอกจากนี้อาจผลิตจากน้ำมันพืช และส่วนต่างๆ ของพืชก็ได้เช่นกัน

### การผสมยางธรรมชาติกับพอลิเมอร์ชนิดอื่น

ยางธรรมชาติเป็นยางที่มีสมบัติเด่นด้านความเหนียวติดกันที่ดี, สมบัติด้านการขึ้นรูปที่ดี, ความร้อนสะสมในขณะการใช้งานต่ำ เป็นต้น แต่ก็มีสมบัติบางประการที่เป็นข้อด้อย ดังนั้น ในการแก้ไขข้อด้อยนั้นสามารถทำได้โดยการเลือกเอาสมบัติที่ดีจากยางสังเคราะห์ชนิดอื่นมาทดแทน เช่น สมบัติด้านความทนทานต่อการขีดถูของยางบิวตาไดอิน (BR), สมบัติความทนทานต่อน้ำมันของยางไนไตรล์ (NBR), สมบัติความทนทานต่อความร้อนและโอโซนของยาง EPDM เป็นต้น โดยการผสมยางธรรมชาติกับยางสังเคราะห์เหล่านี้เข้าด้วยกัน แต่การที่จะผสมให้เข้ากันได้นั้นยางสังเคราะห์ชนิดนั้น ๆ ต้องไม่มีความเป็นขั้วเหมือนกับยางธรรมชาติ จึงจะทำให้ยางผสมรวมเข้ากันเป็นเฟสเดียวกันได้ดีขึ้น เช่น ยาง BR, SBR, EPDM และ NBR (เกรดที่มีอะครีโลไนไตรล์ต่ำ ๆ) ซึ่งปัจจัยที่มีผลโดยตรงต่อสมบัติของยางผสมที่ได้นั้น มีดังนี้

ความเหนียวของยาง ยางธรรมชาติก่อนที่จะทำการผสมต้องทำการบดเพื่อลดความเหนียวในตอนเริ่มต้นการผสมให้เท่ากับยางสังเคราะห์หรือใกล้เคียง ซึ่งจะทำให้ยางทั้งสองผสมเข้ากันได้ดีขึ้น

- ระบบการวัลคาไนซ์ของยาง ระบบที่ใช้ในการวัลคาไนซ์ต้องมีความเหมือนหรือแตกต่างกันไม่มากนัก เพื่อป้องกันการแยกเฟสของยางผสมขณะที่ทำการผสมยาง
- ความเป็นขั้วของยาง ในกรณีที่ทำการผสมยางที่มีความเป็นขั้วแตกต่างกันมาก ควรพิจารณาถึงความสามารถในการกระจายตัวของสารเคมีในยางแต่ละชนิด โดยเฉพาะสารตัวเร่งและสารตัวเติม เพราะสารเหล่านี้มีแนวโน้มที่จะกระจายตัวได้ดีในยางที่มีความเป็นขั้ว ซึ่งอาจส่งผลให้ยางผสมมีสมบัติต่ำกว่าที่ควรจะเป็น หากการกระจายตัวของสารเคมีไม่ดีเท่าที่ควร

ยางสังเคราะห์ได้มีการผลิตมานานแล้ว ตั้งแต่ ค.ศ. 1940 ซึ่งสาเหตุที่ทำให้มีการผลิตยางสังเคราะห์ขึ้นในอดีต เนื่องจากการขาดแคลนยางธรรมชาติที่ใช้ในการผลิตอาวุธยุทโธปกรณ์และปัญหาในการขนส่งจากแหล่งผลิตในช่วงสงครามโลกครั้งที่ 2 จนถึงปัจจุบันได้มีการพัฒนาการผลิตยางสังเคราะห์เพื่อให้ได้ยางที่มีคุณสมบัติตามต้องการในการใช้งานที่สภาวะต่าง ๆ เช่น ที่สภาวะทนต่อน้ำมัน ทนความร้อน ทนความเย็น เป็นต้น การใช้งานยางสังเคราะห์จะแบ่งตามการใช้งานออกเป็น 2 ประเภทคือ

- ยางสำหรับงานทั่วไป (Commodity rubbers) เช่น IR (Isoprene Rubber) BR (Butadiene Rubber)
- ยางสำหรับงานสภาวะพิเศษ (Specialty rubbers) เช่น การใช้งานในสภาวะอากาศร้อนจัด หนาวจัด หรือ สภาวะที่มีการสัมผัสกับน้ำมัน ได้แก่ Silicone, Acrylate rubber เป็นต้น

การผลิตยางสังเคราะห์เป็นการผลิตโดยการทำปฏิกิริยาพอลิเมอไรเซชัน (polymerization) ซึ่งการพอลิเมอไรเซชัน คือ ปฏิกิริยาการเตรียมพอลิเมอร์ (polymer) จากมอนอเมอร์ (monomer) โดยพอลิเมอร์ในที่นี้คือ ยางสังเคราะห์ที่ต้องการผลิต ในส่วนของมอนอเมอร์ คือ สารตั้งต้นในการทำปฏิกิริยานั้นเอง

#### ชนิดของยางสังเคราะห์

**1. ยางบิวไทล์ (Butyl Rubber, IIR) :** ยางบิวไทล์เป็น โคพอลิเมอร์ระหว่างมอนอเมอร์ของ ไอโซพรีน และ ไอโซบิวทาดีน เพื่อที่จะรักษาสมบัติเด่นของ ไอโซบิวทาดีนไว้ ยางบิวไทล์จะมีปริมาณ ไอโซพรีน เพียงเล็กน้อย (ประมาณ 0.5 - 3 โมลเปอร์เซ็นต์) เพียงเพื่อให้สามารถวัลคาไนซ์ด้วยกำมะถันได้เท่านั้น เนื่องจากพอลิไอโซบิวทาดีนไม่มีพันธะคู่ที่ว่องไวต่อการทำปฏิกิริยา อย่างไรก็ตามการที่มีปริมาณ ไอโซพรีน เพียงเล็กน้อยนี้ทำให้การวัลคาไนซ์ยางบิวไทล์เป็นไปอย่างช้ามาก ทำให้เกิดปัญหาในการสุกร่วมกับยางไม่อิ่มตัวอื่น ๆ ยางบิวไทล์มีน้ำหนักโมเลกุลเฉลี่ยอยู่ในช่วง 300,000 ถึง 500,000 มีค่าความหนืดมูนี่ (ML<sub>1+4</sub> 100°C) อยู่ในช่วง 40 ถึง 70 การกระจายขนาดโมเลกุลค่อนข้างจะกว้าง ทำให้การแปรรูปยางบิวไทล์ทำได้ง่าย ยางบิวไทล์มีสมบัติที่ดีหลายประการ คือ ทนต่อการออกซิเดชัน ทนต่อโอโซน ทนต่อความดันไอน้ำได้สูง และมีความเป็นฉนวนไฟฟ้าที่ดี อย่างไรก็ตาม เนื่องจากยางบิวไทล์ปล่อยให้ก๊าซซึมผ่านได้ต่ำมาก ทำให้ตลาดส่วนใหญ่ของยางบิวไทล์ คือ ยางในรถยนต์ทุกขนาด

**2. ยางบิวตาไดอิน (Butadiene Rubber, BR) หรือ ยางบิวนา (Buna Rubber)** ผลิตจากปฏิกิริยาพอลิเมอไรเซชันแบบสารละลาย (solution polymerization) ซึ่งมีการจัดเรียงตัวได้ทั้งแบบ cis-1,4 แบบ tran-1,4 และแบบ vinyl-1,2 โดยยางชนิดนี้จะมีน้ำหนักโมเลกุลเฉลี่ยประมาณ 250,000 - 300,000 มีสมบัติเด่นด้านความยืดหยุ่น ความต้านทานต่อการขูดขีด ความสามารถในการหักงอที่อุณหภูมิต่ำ ความร้อนสะสมในยางต่ำ และเป็นยางที่ไม่มีขี้ผึ้งทนต่อน้ำมันหรือตัวทำละลายที่ไม่มีขี้ผึ้ง ยางบิวตาไดอินส่วนใหญ่ใช้ในอุตสาหกรรมยางล้อ เพราะเป็นยางที่มีความต้านทานต่อการขูดขีดสูง และมักถูกนำไปทำใส่ในลูกกอล์ฟและลูกฟุตบอล เนื่องจากมีสมบัติด้านการกระเด็นตัวที่ดี

**3. ยางสไตรีนบิวตาไดอิน (Styrene-Butadiene Rubber, SBR) :** ยางสไตรีนบิวตาไดอิน หรือยาง SBR เป็นยางสังเคราะห์ที่เตรียมขึ้น โดยการนำสไตรีนมาโคพอลิเมอไรซ์กับบิวตาไดอิน โดยวิธีพอลิเมอไรเซชันแบบอิมัลชัน (emulsion polymerization) โดยเรียกยางที่ได้ว่า E-SBR และอาจใช้วิธีพอลิเมอไรเซชันแบบสารละลาย (solution polymerization) เรียกว่า L-SBR โดยทั่วไปสัดส่วนของสไตรีนต่อบิวตาไดอินอยู่ในช่วง 23-40%

**4. ยางซิลิโคน (Silicone Rubber) :** เป็นยางสังเคราะห์ที่ใช้งานเฉพาะอย่างและราคาสูง เป็นได้ทั้งสารอินทรีย์และอนินทรีย์พร้อม ๆ กัน เนื่องจากโมเลกุลมีโครงสร้างของสายโซ่หลักประกอบด้วย ซิลิกอน (Si) กับออกซิเจน (O<sub>2</sub>) และมีหมู่ข้างเคียงเป็นสารพวกไฮโดรคาร์บอน ซึ่งต่างจากพอลิเมอร์ชนิดอื่น ๆ ทำให้ยางซิลิโคน ทนทานต่อความร้อนได้สูง และยังสามารถออกสูตรยางให้ทนทานความร้อนได้สูงประมาณ 300°C ยางซิลิโคนมีช่องว่างระหว่างโมเลกุลที่สูงและมีความทนทานต่อแรงดึงต่ำ เนื่องจากมีแรงดึงดูดระหว่างโมเลกุลต่ำมาก



5. ยางคลอโรพรีน (Chloroprene Rubber, CR) : มีชื่อทางการค้าว่า ยางนีโอพรีน (Neoprene Rubber) เป็นยางที่สังเคราะห์จากมอนอเมอร์ของคลอโรพรีน ภายใต้สภาวะที่เหมาะสม โมเลกุลของยาง CR สามารถจัดเรียงตัวได้อย่างเป็นระเบียบสามารถตกผลึกได้เมื่อดึง มีสมบัติคล้ายยางธรรมชาติ ยาง CR เป็นยางที่มีขี้ เนื่องจากประกอบด้วยอะตอมของคลอรีน ทำให้ยางชนิดนี้มีสมบัติด้านการทนไฟ, ความทนต่อสารเคมีและน้ำมัน ซึ่งผลิตภัณฑ์ยางที่ใช้งานในลักษณะดังกล่าวได้แก่ ยางซีล, ยางสายพานลำเลียงในเหมืองแร่ เป็นต้น

### 2.2.3 เส้นใยธรรมชาติและเส้นใยสังเคราะห์

เส้นใย (Fibers) คือ พอลิเมอร์ชนิดหนึ่งที่มีโครงสร้างของโมเลกุลสามารถนำมาเป็นเส้นด้าย หรือเส้นใย จำแนกตามลักษณะการเกิดได้ ดังนี้

#### ประเภทของเส้นใย

- เส้นใยธรรมชาติ ที่รู้จักกันดีและใกล้ตัว คือ  
เส้นใยเซลลูโลส เช่น ลินิน ปอ เส้นใยสับปะรด  
เส้นใยโปรตีน จากขนสัตว์ เช่น ขนแกะ ขนแพะ  
เส้นใยไหม เป็นเส้นใยจากรังไหม
- เส้นใยสังเคราะห์ มีหลายชนิดที่ใช้กันทั่วไปคือ

เซลลูโลสอะซิเตด เป็นพอลิเมอร์ที่เตรียมได้จากการใช้เซลลูโลสทำปฏิกิริยากับกรดซัลฟิวริกเข้มข้น โดยมีกรดซัลฟิวริกเป็นตัวเร่งปฏิกิริยา การใช้ประโยชน์จากเซลลูโลสอะซิเตด เช่น ผลิตเป็นเส้นใยอาร์แน 60 ผลิตเป็นแผ่นพลาสติกที่ใช้ทำแผงสวิทช์และหุ้มสายไฟ

ไนลอน (Nylon) เป็นพอลิเมอร์สังเคราะห์จำพวกเส้นใย เรียกว่า “เส้นใยพอลิเอไมด์” มีหลายชนิด เช่น ไนลอน 6,6 ไนลอน 6,10 ไนลอน 6 ซึ่งตัวเลขที่เขียนกำกับหลังชื่อจะแสดงจำนวนคาร์บอนอะตอมในมอนอเมอร์ของเอมีนและกรดคาร์บอกซิลิก ไนลอนจัดเป็นพวกเทอร์มอพลาสติก มีความแข็งแรงมากกว่าพอลิเมอร์แบบเดิมชนิดอื่น (เพราะมีแรงดึงดูดที่แข็งแรงของพันธะเพปไทด์) เป็นสารที่ติดไฟยาก (เพราะไนลอนมีพันธะ C-H ในโมเลกุลน้อยกว่าพอลิเมอร์แบบเดิมชนิดอื่น) ไนลอนสามารถทดสอบโดยผสมโซดาแลม (NaOH + Ca(OH) หรือเผาจะให้ก๊าซแอมโมเนีย

ดาคרון (Dacron) เป็นเส้นใยสังเคราะห์พวกพอลิเอสเทอร์ ซึ่งเรียกอีกชื่อหนึ่งว่า Mylar มีประโยชน์ทำเส้นใยทำเชือก และฟิล์ม

Orlon เป็นเส้นใยสังเคราะห์ ที่เตรียมได้จาก Polycrylonitrile

### 2.2.4 ผลกระทบของการใช้พอลิเมอร์

ปัจจุบันมีการใช้ผลิตภัณฑ์จากพอลิเมอร์อย่างมากมาย ทั้งในด้านยานยนต์ การก่อสร้าง เครื่องใช้เฟอร์นิเจอร์ ของเล่น รวมทั้งวงการแพทย์ และยังมีแนวโน้มที่ใช้ผลิตภัณฑ์จากพอลิเมอร์มากยิ่งขึ้น เนื่องจากวัสดุสิ่งของเครื่องใช้ต่าง ๆ ที่ผลิตจากพอลิเมอร์ไม่ว่าจะเป็นพลาสติก ยาง หรือเส้นใย เมื่อใช้แล้วมักจะสลายตัวยาก ยังเกิดสิ่งตกค้างมากขึ้นเรื่อย ๆ และสารตั้งต้นของพอลิเมอร์ส่วนใหญ่เป็นสารประกอบ

ไฮโดรคาร์บอน ซึ่งเมื่อทำปฏิกิริยากับออกซิเจนและไนโตรเจนไดออกไซด์ เกิดเป็นสารประกอบเปอร์ออกไซด์แอซิดไนเตรต (PAN) ซึ่งเป็นพิษทำให้เกิดการระคายเคืองตา และระบบทางเดินหายใจ และยังทำให้ไฮโดรเจนในชั้นบรรยากาศลดลงด้วย จะเห็นได้ว่า ผลิตภัณฑ์พอลิเมอร์แม้จะมีประโยชน์มากมาย แต่ก่อให้เกิดมลภาวะทางสิ่งแวดล้อมได้มากมายเช่นกัน ทั้งอากาศ ทางน้ำ ทางดิน สรุปได้ดังนี้

1. โรงงานอุตสาหกรรมที่ผลิตผลิตภัณฑ์พอลิเมอร์ต่าง ๆ มีการเผาไหม้เชื้อเพลิง เกิดหมอกควันและก๊าซคาร์บอนไดออกไซด์ ซึ่งเป็นก๊าซพิษ นอกจากนี้ ไฮโดรคาร์บอน ยังทำให้เกิดสารประกอบ ออกซีแอซิดไนเตรต ซึ่งเป็นพิษกระจายไปในอากาศ ทำให้สัดส่วนของอากาศเปลี่ยนแปลงไป และอุณหภูมิของอากาศเปลี่ยนแปลงไปด้วย นอกจากเกิดมลภาวะทางอากาศแล้ว ในกระบวนการผลิตของโรงงานอุตสาหกรรม มักปล่อยสารพิษลงสู่แหล่งน้ำ เช่น อุตสาหกรรมพลาสติกปล่อยสารพีซีบี (PCB-polychlorinated biphenyls) ซึ่งทำให้เกิดผมร่วน ผิวหนังพุพอง อ่อนเพลีย และสารเคมีบางอย่างละลายลงน้ำ ทำให้มีสมบัติเป็นกรด ปริมาณออกซิเจนลดลง เป็นอันตรายกับสิ่งมีชีวิตในน้ำ

2. การใช้ผลิตภัณฑ์พอลิเมอร์ของผู้บริโภค เป็นที่ทราบแล้วว่าผลิตภัณฑ์พอลิเมอร์ส่วนใหญ่สลายตัวยาก มีการนำมาใช้มากขึ้นทุกวัน ทำให้มีซากเศษผลิตภัณฑ์มากยิ่งขึ้น เกิดจากการทับถมหมักหมมบนดิน เกิดกลิ่นก๊าซฟุ้งกระจาย เพิ่มมลภาวะในอากาศ พื้นที่ดินถูกใช้ไปในการจัดเก็บทิ้งซากผลิตภัณฑ์มากขึ้น ทำให้พื้นที่สำหรับใช้สอยลดลง และดินไม่เหมาะต่อการใช้ประโยชน์เป็นมลภาวะทางดินมากขึ้น นอกจากนี้ซากผลิตภัณฑ์ บางส่วนถูกทิ้งลงในแหล่งน้ำ นอกจากทำให้น้ำเสียเพิ่มมลภาวะทางน้ำแล้ว ยังทับถมปิดกั้นการไหลของน้ำ ทำให้การไหลถ่ายเทของน้ำไม่สะดวก อาจทำให้น้ำท่วมได้

ผลิตภัณฑ์ที่ผลิตจากพอลิเมอร์ส่วนใหญ่เป็นพลาสติก หลังจากใช้งานพลาสติกเหล่านี้ไปช่วงเวลาหนึ่ง มักถูกทิ้งเป็นขยะพลาสติก ซึ่งส่วนหนึ่งถูกนำกลับมาใช้ใหม่ ในลักษณะต่าง ๆ กัน และอีกส่วนหนึ่งถูกนำไปกำจัดทิ้งโดยวิธีการต่าง ๆ การนำขยะพลาสติกไปกำจัดทิ้งโดยการฝังกลบเป็นวิธีที่สะดวกแต่มีผลเสียต่อสิ่งแวดล้อม ทั้งนี้ เพราะโดยธรรมชาติพลาสติกจะถูกย่อยสลายได้ยาก จึงทับถมอยู่ในดิน และนับวันยังมีปริมาณมากขึ้นตามปริมาณการใช้พลาสติก ส่วนการเผาขยะพลาสติกก็ก่อให้เกิดมลพิษและเป็นอันตรายอย่างมาก วิธีการแก้ปัญหาขยะพลาสติกที่ได้ผลดีที่สุดคือ การนำขยะพลาสติกกลับมาใช้ประโยชน์ใหม่ การนำขยะพลาสติกใช้แล้วกลับมาใช้ประโยชน์ใหม่มีหลายวิธี ดังนี้

### 1. การนำกลับมาใช้ซ้ำ

ผลิตภัณฑ์พลาสติกที่ใช้แล้ว เช่น สามารถนำกลับมาทำความสะอาดเพื่อใช้ซ้ำได้หลายครั้ง แต่ภาชนะเหล่านั้นจะเสื่อมคุณภาพลง และความสวยงามลดลงตามลำดับนอกจากนี้ยังต้องคำนึงถึงความสะอาดและความปลอดภัยด้วย

### 2. การหลอมขึ้นรูปผลิตภัณฑ์ใหม่

การนำขยะพลาสติกกลับมาใช้ใหม่ โดยวิธีขึ้นรูปเป็นผลิตภัณฑ์ใหม่ เป็นวิธีที่นิยมกันมาก แต่เมื่อเทียบกับปริมาณของขยะพลาสติกทั้งหมดก็ยังเป็นเพียงส่วนน้อย การนำพลาสติกใช้แล้วมาหลอมขึ้นรูปใหม่ เช่นนี้ สามารถทำได้จำกัดเพียงไม่กี่ครั้ง ทั้งนี้เพราะพลาสติกดังกล่าวจะมีคุณภาพลดลงตามลำดับ และต้อง

ผสมกับพลาสติกใหม่ในอัตราส่วนที่เหมาะสมทุกครั้ง อีกทั้งคุณภาพของผลิตภัณฑ์ที่ได้จากพลาสติกที่นำกลับมาใช้ใหม่จะต่ำกว่าผลิตภัณฑ์ที่ได้จากพลาสติกใหม่ทั้งหมด

### 3. การเปลี่ยนเป็นผลิตภัณฑ์ของเหลวและก๊าซ

การเปลี่ยนขยะพลาสติกเป็นผลิตภัณฑ์ของเหลวและก๊าซเป็นวิธีการที่ทำให้ได้สารไฮโดรคาร์บอนที่เป็นขยะเหลวและก๊าซ หรือเป็นสารผสมไฮโดรคาร์บอนหลายชนิด ซึ่งอาจใช้เป็นเชื้อเพลิงโดยตรง หรือกลั่นแยกเป็นสารบริสุทธิ์ เพื่อใช้เป็นวัตถุดิบสำหรับการผลิตพลาสติกเรซินได้เช่นเดียวกับวัตถุดิบที่ได้จากปิโตรเลียม กระบวนการนี้จะได้พลาสติกเรซินที่มีคุณภาพสูงเช่นเดียวกัน วิธีการเปลี่ยนผลิตภัณฑ์พลาสติกที่ใช้แล้วให้เป็นของเหลวนี้นี้เรียกว่า **ลิวอิแฟกชัน (Liquefaction)** ซึ่งเป็นวิธีไพโรไลซิส โดยใช้ความร้อนสูง ภายใต้บรรยากาศไนโตรเจนหรือก๊าซเฉื่อยชนิดอื่น นอกจากของเหลวแล้วยังมีผลิตภัณฑ์ข้างเคียงเป็นกากคาร์บอนซึ่งเป็นของแข็ง สามารถใช้เป็นเชื้อเพลิงได้ สำหรับก๊าซที่เกิดขึ้นจากกระบวนการไพโรไลซิส คือ ก๊าซไฮโดรคาร์บอน สามารถใช้เป็นเชื้อเพลิงได้เช่นกัน นอกจากนี้ ยังมีก๊าซอื่น ๆ เกิดขึ้นด้วย เช่น ก๊าซไฮโดรเจนคลอไรด์ ซึ่งใช้ประโยชน์ในอุตสาหกรรมบางประเภทได้

### 4. การใช้เป็นเชื้อเพลิงโดยตรง

พลาสติกประเภทเทอร์โมพลาสติกส่วนมากมีสมบัติเป็นสารที่ติดไฟและลุกไหม้ได้ดีจึงใช้เป็นเชื้อเพลิงได้โดยตรง

### 5. การใช้เป็นวัสดุประกอบ

อาจนำพลาสติกใช้แล้วผสมกับวัสดุอย่างอื่น เพื่อผลิตเป็นผลิตภัณฑ์วัสดุประกอบที่เป็นประโยชน์ได้ เช่น ไม้เทียม หินอ่อนเทียม แต่ผลิตภัณฑ์เหล่านี้อาจมีคุณภาพไม่สูงนัก



## กิจกรรมท้ายบท

### กิจกรรมที่ 1 ประชากรมนุษย์กับทรัพยากรธรรมชาติ

#### แนวคิดหลัก

การเพิ่มขึ้นของทรัพยากรมนุษย์ ทำให้ทรัพยากรธรรมชาติต่าง ๆ ถูกใช้ไปมากขึ้น โดยเฉพาะพื้นที่ป่าไม้

#### ผลการเรียนรู้ที่คาดหวัง

1. สำรวจและอภิปรายการเปลี่ยนแปลงสภาพแวดล้อมในท้องถิ่น
2. สืบค้นข้อมูลและนำเสนอจำนวนประชากรในท้องถิ่น

#### เวลาทำกิจกรรมประมาณ 2 ชั่วโมง

#### สื่อการเรียนรู้

1. วิดีทัศน์ หรือ CD-ROM เรื่องการใช้ทรัพยากรธรรมชาติ เช่น เรื่อง การใช้น้ำมัน
2. ภาพถ่ายท้องถิ่นในอดีตกับปัจจุบัน
3. ข้อมูลประชากรและข้อมูลการใช้ น้ำมันทั้งในอดีต และปัจจุบัน

#### แนวการจัดกิจกรรม

1. ครูนำเข้าสู่บทเรียนโดยให้นักเรียนพิจารณาภาพกรุงเทพมหานครบริเวณถนนเยาวราชในปัจจุบัน และในอดีตเพื่อนำไปสู่ปัญหาประชากรมนุษย์กับการใช้ทรัพยากรธรรมชาติ เช่น เรื่องการใช้ น้ำมันเปลี่ยนแปลงไปหรือไม่ อย่างไร
2. นักเรียนร่วมกันอภิปรายว่าแตกต่างกันอย่างไร อะไร เป็นสาเหตุของการเปลี่ยนแปลง โดยใช้ ข้อมูลการใช้ น้ำมันและจำนวนประชากรของประเทศไทยประกอบ
3. นักเรียนชมวีดิทัศน์ เรื่องการใช้ทรัพยากรธรรมชาติ อภิปรายและตอบคำถาม เพื่อนำไปสู่ข้อสรุปว่า จำนวนประชากรที่เพิ่มขึ้นมีผลต่อการลดลงของ ทรัพยากรธรรมชาติ เพราะมนุษย์ต้องการใช้ ทรัพยากรธรรมชาติ เช่น น้ำมันในการเป็นเชื้อเพลิงรถยนต์เพื่อไปทำงาน หรือทำกิจกรรมต่าง ๆ ฯลฯ

#### การประเมินผล

ประเมินผลจากการอภิปราย การทำใบบันทึกกิจกรรมและการตอบคำถามร่วมกัน

# ใบบันทึกกิจกรรม

ใบบันทึกกิจกรรม

ชื่อ.....ชั้น.....เลขที่.....  
วันที่.....เดือน.....ปี พ.ศ.....

## ประชากรมนุษย์กับการใช้น้ำมัน



เยาวราชในปี 2495



เยาวราชในปัจจุบัน

จากการสังเกตพบว่า.....  
.....  
.....  
.....  
.....  
.....  
.....  
.....

## เวลาทำกิจกรรม

4 ชั่วโมง

### สื่อการเรียนรู้

1. กระดาษใช้แล้วหรือหนังสือพิมพ์
2. เครื่องปั่นน้ำผลไม้
3. ตะแกรงตาถี่
4. กะละมัง
5. สีสผสมอาหาร
6. แป้งมัน

### แนวทางการจัดกิจกรรม

1. ครูสนทนากับนักเรียนเรื่องขยะในชุมชนที่นำมาทิ้งในแต่ละวัน เพื่อนำสู่ปัญหาขยะในชุมชน
2. ครูให้นักเรียนสำรวจขยะในชุมชนเป็นเวลา 1 สัปดาห์ โดยเก็บรวบรวมข้อมูล เช่น จำนวน ชนิด
3. นักเรียนนำข้อมูลเกี่ยวกับขยะที่สำรวจได้มานำเสนอในรูปแบบของแผนภูมิ
4. นักเรียนวิเคราะห์ข้อมูลเกี่ยวกับระยะเวลาในการย่อยสลายขยะ ที่สำรวจได้แล้วตอบคำถาม และอภิปรายร่วมกัน เพื่อนำไปสู่ข้อสรุปว่า “ขยะในสิ่งแวดล้อมมีหลายประเภท ทั้งที่ย่อยสลายได้เองตามธรรมชาติและขยะที่ไม่ย่อยสลาย”
5. เพื่อสร้างจิตสำนึกให้กับนักเรียนทำกระดาษรีไซเคิล โดยให้นักเรียนศึกษาวิธีการทำกระดาษและออกแบบการทดลองทำกระดาษรีไซเคิลเอง

## ใบบันทึกกิจกรรม

ใบบันทึกกิจกรรม แผ่นที่ 1

ชื่อ.....ชั้น.....เลขที่.....

วันที่.....เดือน.....ปี พ.ศ. ....

### สำรวจขยะในชุมชน



บันทึกผลการสำรวจขยะในบริเวณชุมชน

| บริเวณที่สำรวจ | ขยะที่สำรวจได้ |
|----------------|----------------|
| บริเวณที่พัก   |                |
| ตลาด           |                |
| วัด            |                |
| โรงเรียน       |                |
| สวนสาธารณะ     |                |
| อื่น ๆ         |                |



## ใบบันทึกกิจกรรม

ใบบันทึกกิจกรรม แผ่นที่ 2

ชื่อ.....ชั้น.....เลขที่.....  
วันที่.....เดือน.....ปี พ.ศ. ....

### กระดาษรีไซเคิล



#### วิธีทำ

1. นี้อกระดาษเป็นชิ้นเล็ก ๆ แฉ่น้ำจันเป็อยชู่ย
2. เทกระดาษลงในกะละมังที่มีน้ำผสมสีอยู่
3. นำตะแกรงค้อย ๆ ร่อนกระดาษให้สมำเสมอ
4. นำตะแกรงค้อย ๆ ร่อนกระดาษไปตากแดดจนแห้ง
5. ค้อย ๆ แกะกระดาษรีไซเคิลออก
6. นำกระดาษไปใช้ประโยชน์ต่อ

#### วัสดุ - อุปกรณ์

1. ตะแกรง
2. กะละมัง
3. สีผสมอาหาร
4. กระดาษใช้แล้ว
5. ....
6. ....

ติดกระดาษรีไซเคิลของนักเรียนบริเวณนี้





## แบบฝึกหัดท้ายบทที่ 10

### เรื่อง ปิโตรเลียมและพอลิเมอร์

ตอนที่ 1 จงทำเครื่องหมาย x ลงในข้อที่ถูกต้อง

- วิธีการแยกน้ำมันดิบออกเป็นส่วน ๆ คือวิธีการที่เรียกว่าอะไร
  - การกลั่นไอน้ำ
  - การกลั่นลำดับส่วน
  - การกลั่นแบบคาลาติคิ แครกกิ่ง
  - การกลั่นแบบโพลีเมอไรเซชัน
- การกลั่นน้ำมันดิบที่ อุณหภูมิสูงจะได้ผลิตภัณฑ์จำพวกใด
  - น้ำมันดีเซล
  - ไไข
  - น้ำมันเตา
  - ยางมะตอย
- ผลิตภัณฑ์ที่ได้จากการกลั่นลำดับส่วนน้ำมันดิบจะมีมากหรือน้อยขึ้นอยู่กับอะไร
  - กระบวนการกลั่น
  - อุณหภูมิ
  - แหล่งน้ำมันดิบ
  - การขนส่ง
- การกลั่นน้ำมันดิบที่อุณหภูมิ 300 °C จะได้ผลิตภัณฑ์อะไร
  - น้ำมันเตา
  - ไไข
  - น้ำมันดีเซล
  - แก๊สปิโตรเลียม
- ผลกระทบจากการใช้ปิโตรเลียมส่วนใหญ่มีสาเหตุมาจากอะไร
  - การเพิ่มของประชากร
  - อากาศร้อน
  - มีราคาแพง
  - ถูกทุกข้อ
- ค่า BOD มาตรฐานน้ำทิ้งของกระทรวงอุตสาหกรรมมีค่าอยู่ที่เท่าใด
 

|             |             |
|-------------|-------------|
| ก. 10 mg/l  | ข. 50 mg/l  |
| ค. 100 mg/l | ง. 500 mg/l |

7. ข้อใดจัดเป็นพอลิเมอร์ธรรมชาติ
- ตะกั่ว
  - แป้ง
  - เส้นด้าย
  - ผ้าไนลอน
8. พอลิเมอร์แบบใดมีคุณสมบัติ มีความหนาแน่นและจุดหลอมเหลว
- แบบเส้น
  - แบบกิ่ง
  - แบบร่างแห
  - ถูกทุกข้อ
9. เมลามีนที่ใช้ทำถ้วยชาม เป็นพอลิเมอร์ที่มีรูปร่างแบบใด
- แบบเส้น
  - แบบกิ่ง
  - แบบร่างแห
  - ถูกทุกข้อ
10. फिल्मถ่ายภาพ ดอกไม้พลาสติก ผลิตมาจากพลาสติกชนิดใด
- ไนลอน
  - อีพอกซี
  - พอลิเอสเทอร์
  - พอลิเอทิลีน

## ตอนที่ 2 จงตอบคำถามต่อไปนี้

- จงอธิบายการเกิดปิโตรเลียม และกระบวนการเกิดปิโตรเลียม
- การสำรวจทางธรณีวิทยาเพื่อหาแหล่งปิโตรเลียมช่วยให้ได้ข้อมูลในการคาดคะเนในเรื่องใด
- การสำรวจทางธรณีฟิสิกส์เพื่อหาแหล่งปิโตรเลียมได้แก่การสำรวจในเรื่องใด และข้อมูลที่ให้มีประโยชน์อย่างไร
- วัตถุดิบที่สำคัญที่ใช้สำหรับการผลิตพลาสติก คือ ผลิตภัณฑ์ที่ได้จากอะไร
- โครงสร้างของพอลิเมอร์แบ่งออกเป็นกี่แบบ อธิบายสมบัติของแต่ละแบบมาพอสังเขป

## บทที่ 11

### สารเคมีกับชีวิตและสิ่งแวดล้อม

#### สาระสำคัญ

ชีวิตประจำวันของมนุษย์ที่จะดำรงชีวิตให้มีความสุขนั้น ร่างกายต้องสมบูรณ์ แข็งแรง สิ่งที่จะมาบั่นทอนความสุขของมนุษย์ คือ สารเคมีที่เข้าสู่ร่างกาย จึงจำเป็นต้องรู้ถึงการใช้สารเคมี ผลกระทบจากการใช้สารเคมี

#### ผลการเรียนรู้ที่คาดหวัง

1. อธิบายความสำคัญและความจำเป็นที่ต้องใช้สารเคมีได้
2. อธิบายวิธีการใช้สารเคมีบางชนิดได้ถูกต้อง
3. อธิบายผลกระทบที่เกิดจากการใช้สารเคมีได้

#### ขอบข่ายเนื้อหา

เรื่องที่ 1 ความสำคัญของสารกับชีวิตและสิ่งแวดล้อม

เรื่องที่ 2 ความจำเป็นที่ต้องใช้สารเคมี

เรื่องที่ 3 การใช้สารเคมีที่ถูกต้องและปลอดภัย



เรื่องที่ 4 ผลกระทบที่เกิดจากการใช้สารเคมี

## เรื่องที่ 1 ความสำคัญของสารกับชีวิตและสิ่งแวดล้อม

### สิ่งแวดล้อม




คือ ทุกสิ่งทุกอย่างที่อยู่รอบตัวมนุษย์ทั้งที่มีชีวิตและไม่มีชีวิต รวมทั้งที่เป็นรูปธรรม (สามารถจับต้องและมองเห็นได้) และนามธรรม (ตัวอย่างเช่น วัฒนธรรมแบบแผน ประเพณี ความเชื่อ) มีอิทธิพลเกี่ยวข้องถึงกัน เป็นปัจจัยในการเกื้อหนุนซึ่งกันและกัน ผลกระทบจากปัจจัยหนึ่งจะมีส่วนเสริมสร้างหรือทำลายอีกส่วนหนึ่ง อย่างหลีกเลี่ยงมิได้ สิ่งแวดล้อมเป็นวงจรและวัฏจักรที่เกี่ยวข้องกัน ไปทั้งระบบ

### สิ่งแวดล้อมแบ่งออกเป็นลักษณะกว้าง ๆ ได้ 2 ส่วนคือ

-  สิ่งแวดล้อมที่เกิดขึ้นเองตามธรรมชาติ เช่น ป่าไม้ ภูเขา ดิน น้ำ อากาศ ทรัพยากร
-  สิ่งแวดล้อมที่มนุษย์สร้างขึ้น เช่น ชุมชนเมือง สิ่งก่อสร้าง โบราณสถาน ศิลปกรรม  
ขนบธรรมเนียม ประเพณี และวัฒนธรรม

### มนุษย์กับสิ่งแวดล้อม

มนุษย์มีความสัมพันธ์กับสิ่งแวดล้อมอย่างแนบแน่น ในอดีตปัญหาเรื่องความสมดุลของธรรมชาติตามระบบนิเวศยังไม่เกิดขึ้นมากนัก ทั้งนี้เนื่องจากผู้คนในยุคต้น ๆ นั้น มีชีวิตอยู่ใต้อิทธิพลของธรรมชาติ ความเปลี่ยนแปลงทางด้านธรรมชาติและสภาวะแวดล้อมเป็นไปอย่างค่อยเป็นค่อยไป จึงอยู่ในวิสัยที่ธรรมชาติสามารถปรับสมดุลของตัวเองได้ แต่ปัจจุบันนี้ปรากฏว่าได้เกิดมีปัญหาย่างรุนแรงด้านสิ่งแวดล้อมขึ้นในบางส่วนของโลกและปัญหาดังกล่าวนี้ ก็มีลักษณะคล้ายคลึงกันในทุกประเทศทั้งที่พัฒนาแล้วและกำลังพัฒนา

-  ปัญหาทางด้านภาวะมลพิษที่เกี่ยวกับน้ำ
-  ปัญหาทรัพยากรธรรมชาติที่เสื่อมสลายและหมดสิ้นไปอย่างรวดเร็ว เช่น น้ำมัน แร่ธาตุ พืชสัตว์ ทั้งที่เป็นอาหารและการอนุรักษ์ไว้เพื่อการศึกษา
-  ปัญหาที่เกี่ยวกับการตั้งถิ่นฐานของชุมชนมนุษย์ เช่น การวางผังเมืองและชุมชนไม่ถูกต้องทำให้เกิดการแออัดยัดเยียด ใช้ทรัพยากรผิดประเภทและเกิดปัญหาจากของเหลือทิ้งพวกขยะมูลฝอย

### สาร

หมายถึง สิ่งที่มีมวล ต้องการที่อยู่ และสามารถสัมผัสได้ หรืออาจหมายถึงสิ่งต่างๆที่อยู่รอบตัวเรามีตัวตน ต้องการที่อยู่สัมผัสได้ อาจมองเห็นหรือมองไม่เห็นก็ได้ เช่น อากาศ ดิน น้ำ เป็นต้น

### สาร

หมายถึง สารที่ทราบสมบัติ หรือสารที่จะศึกษา เป็นสารที่เฉพาะเจาะจง

### สมบัติของสาร

หมายถึง ลักษณะเฉพาะตัวของสาร เช่น เนื้อสาร สี กลิ่น รส การนำไฟฟ้า การละลายน้ำ จุดเดือด จุดหลอมเหลว ความเป็นกรด - เบส เป็นต้น

สมบัติของสารจำแนกได้ 2 ประเภท คือ

✦ สมบัติทางกายภาพ

สมบัติทางกายภาพเป็นสมบัติที่สังเกตได้จากลักษณะภายนอกหรือใช้เครื่องมือง่าย ๆ ในการสังเกต ซึ่งเป็นสมบัติที่ไม่เกี่ยวข้องกับปฏิกิริยาเคมี เช่น สี กลิ่น รส สถานะ จุดเดือด ลักษณะรูปผลึก ความหนาแน่น การนำไฟฟ้า การละลาย จุดหลอมเหลว

✦ สมบัติทางเคมี

สมบัติทางเคมีเป็นสมบัติที่เกี่ยวข้องกับโครงสร้างภายในของสาร เป็นสมบัติที่สังเกตได้เมื่อมีปฏิกิริยาเคมีเกิดขึ้น เช่น ความเป็นกรด - เบส การเกิดสนิม ความเป็นโลหะ - อโลหะ เป็นต้น

## เรื่องที่ 2 ความจำเป็นที่ต้องใช้สารเคมี

### สารในชีวิตประจำวัน

ในชีวิตประจำวัน เราจะต้องเกี่ยวข้องกับสารหลายชนิด ซึ่งมีลักษณะแตกต่างกัน สารที่ใช้ในชีวิตประจำวันจะมีสารเคมีเป็นองค์ประกอบ สารแต่ละชนิดมีสมบัติหลายประการ และนำมาใช้ประโยชน์แตกต่างกัน เราต้องจำแนกประเภทของสารเพื่อความสะดวกในการศึกษาและการนำไปใช้

### ประเภทของสารในชีวิตประจำวัน

#### 🕒 สารปรุงแต่งอาหาร

สารปรุงแต่งอาหาร หมายถึง สารที่เติมลงไปในอาหารเพื่อให้เกิดความน่ารับประทาน สารเหล่านั้นจะไปเพิ่มสี รส กลิ่นของอาหาร รวมไปถึงการใส่วิตามิน ใส่ผงชูรส ใส่เครื่องเทศด้วย เช่น

- 🕒 น้ำตาล ให้รสหวาน เกลือ น้ำปลา ให้รสเค็ม
- 🕒 น้ำส้มสายชู น้ำมะนาว ซอสมะเขือเทศ ให้รสเปรี้ยว

### ตัวอย่างของสารปรุงแต่ง

#### น้ำส้มสายชู

น้ำส้มสายชูเป็นสารเคมีที่ใช้ปรุงอาหาร ทำให้อาหารมีรสเปรี้ยว

น้ำส้มสายชูแท้ ได้จากการหมักธัญพืชหรือผลไม้ มีทั้งชนิดกลั่นและไม่กลั่น

น้ำส้มสายชูเทียม ได้จากการนำกรดน้ำส้มมาผสมน้ำเพื่อทำให้เจือจาง

น้ำส้มสายชูปลอม ทำมาจากกรดกำมะถันหรือกรดเกลือผสมน้ำให้เจือจาง จึงไม่ควรนำมาใช้ปรุงรสอาหารรับประทาน เพราะจะเป็นอันตรายต่อร่างกาย ทำให้กระเพาะเป็นแผล



## การเลือกซื้อน้ำส้มสายชู

ศึกษาฉลากชื่อสามัญทางการค้า เครื่องหมายการค้า เลขทะเบียนอาหาร เครื่องหมายมาตรฐานการค้า ผู้ผลิต ผู้แทนจำหน่าย วันหมดอายุ ปริมาตรสุทธิ สังเกตความใสไม่มีตะกอน ขวดและฝาขวดของน้ำส้มสายชูไม่สึกกร่อน

## ผงชูรส

มีชื่อทางเคมีว่า โมโนโซเดียมกลูตาเมต (Monosodium glutamate) หรือ เรียกย่อว่า MSG. มีผลึกสีขาวเป็นแท่งคล้ายกระดูก ผลิตจากมันสำปะหลังหรือกากน้ำตาล โดยทั่วไปเชื่อว่าทำให้อาหารอร่อยยังมีผงชูรสปลอมวางขายตามท้องตลาด ซึ่งผงชูรสปลอมจะเป็นอันตรายต่อสุขภาพได้ ดังนั้น จึงควรเลือกซื้ออย่างระมัดระวัง

### ผงชูรสจะมีลักษณะรูปร่างดังนี้

- เป็นผลึกสีขาวค่อนข้างใส ไม่มีควมวาว
- เป็นแท่งสี่เหลี่ยม ไม่เรียบ ปลายข้างใดข้างหนึ่งเล็กคล้ายรูปกระบอก
- เป็นแท่งสี่เหลี่ยม ไม่เรียบ แต่ปลายทั้งสองข้างใหญ่กอดตรงกลางคล้ายรูปกระดูก

ผงชูรสมีคุณสมบัติละลายได้ดีในน้ำ ทั้งยังช่วยละลายไขมันให้ผสมกลมกลืนกับน้ำ มีรสเหมือนน้ำต้มเนื้อ สามารถกระตุ้นปุ่มปลายประสาทโคนลิ้นกับลำคอ ทำให้รู้สึกอร่อยขึ้น

## 🕒 สารที่ใช้ทำความสะอาด

สารที่ใช้ทำความสะอาด หมายถึง สารที่มีคุณสมบัติในการชำระล้างสิ่งสกปรก ใช้ในการดูแลรักษา สภาพของร่างกาย เสื้อผ้า นอกจากนี้ยังช่วยให้เครื่องใช้และเครื่องสุขภัณฑ์อยู่ในสภาพดี มีความอดทน

### อันตรายจากการใช้สารที่ใช้ทำความสะอาด

- ★ จากการใช้หรือ ที่ไม่ถูกต้องผิดวัตถุประสงค์ เช่น นำผงซักฟอกมาล้างเนื้อหมู
  - ★ จากการสัมผัส ทำให้ผิวหนังบริเวณที่ได้รับการสัมผัส เกิดอาการปวดแสบปวดร้อน ระคายเคือง หรือไหม้เกรียมได้
  - ★ จากการรับประทาน ทำให้เกิดอาการปวดร้อน ภายในช่องปาก บริเวณลำคอ กล้องเสียง หลอดอาหาร ระบบทางเดินอาหาร ทำให้เกิดอาการน้ำลายฟูมปาก อาเจียน อุจจาระร่วง ถ่ายเป็นเลือด
- ความดันโลหิตลดลงอย่างรวดเร็ว ดับและไตถูกทำลายและเสียชีวิตได้ในที่สุด
- ★ ถ้าสูดควันสีขาวของกรดเข้มข้นเข้าไป จะทำให้เกิดอาการสำลัก ไอ แสบจมูก อาจเป็นแผลเปื่อย ในระบบทางเดินหายใจ ทำลายเยื่อโพรงจมูก ทำลายระบบการรับกลิ่น
  - ★ หากเข้าตาจะทำลายเยื่อบุตา มีอาการปวดร้อนบริเวณดวงตา น้ำตาไหล ในกรณีที่ได้รับสารที่มีความเข้มข้นสูง อาจรุนแรงถึงขั้นตาบอดได้



## 🕒 สารที่ใช้เป็นเครื่องสำอาง

เครื่องสำอาง หมายถึง วัตถุที่มุ่งหมายเอาไว้ทา ถู นวด โขย ฟน หยอด ไล่ออบหรือกระทำด้วยวิธีอื่นใด ต่อส่วนหนึ่งส่วนใดของร่างกายเพื่อความสะอาด ความสวยงาม หรือส่งเสริมให้เกิดความสวยงามตลอดทั้งเครื่องประทีนผิวต่าง ๆ ด้วย แต่ไม่รวมถึงเครื่องประดับและเครื่องแต่งตัวซึ่งเป็นอุปกรณ์ร่างกายภายนอก รวมทั้งวัตถุที่มุ่งหมายใช้เป็นส่วผสมในการในการผลิตเครื่องสำอาง โดยเฉพาะ

### อันตรายของเครื่องสำอาง

เครื่องสำอางอาจก่อให้เกิดอันตรายต่อผู้ใช้ ส่วนใหญ่เกิดอาการอักเสบเป็นผื่นแดง เป็นเม็ดหรือตุ่มคันเกิดอาการแพ้ต่อผิวหนัง เชื้อตา บางชนิดทำให้ผมร่วง บางชนิดทำให้เกิดอาการอักเสบรุนแรง แผลเน่าเปื่อย ก่อนตัดสินใจซื้อเครื่องสำอาง ควรเลือกเครื่องสำอางที่ผ่านการตรวจรับรองจากองค์การอาหารและยา (อย.) และทดสอบใช้ก่อนว่าเหมาะสมกับตัวเองหรือไม่ เกิดอาการแพ้หรืออักเสบหรือไม่



## 🕒 สารที่ใช้เป็นยา

สารที่ใช้เป็นยา หมายถึง สารหรือผลิตภัณฑ์ที่มีวัตถุประสงค์ในการใช้เพื่อให้เกิดการเปลี่ยนแปลงทางสรีรวิทยาของร่างกาย หรือทำให้เกิดการเปลี่ยนแปลงของขบวนการทางพยาธิวิทยาซึ่งทำให้เกิดโรค ทั้งนี้เพื่อก่อให้เกิดประโยชน์แก่ผู้ได้รับยานั้น

สารที่ถูกจัดให้เป็นยาควรมีประโยชน์ในการใช้โดยมีหลักใหญ่ 3 ประการ คือ

1. ใช้ประโยชน์ในการรักษาโรคให้หายขาด
2. ใช้ประโยชน์ในการควบคุมโรคหรือบรรเทาอาการ
3. ใช้ประโยชน์ในการป้องกันโรค

นอกจากนี้ ยายังมีประโยชน์ในการวินิจฉัยโรค เช่น การทดสอบภูวการณ์

ตั้งครรภ์โดยการใช้เอสโตรเจน (Estrogens) และการทดสอบการทำงานของระบบควบคุมการหลั่งฮอร์โมนของต่อมใต้สมองและต่อมหมวกไตโดยใช้ยาคอร์ติซอล (Cortisol)

### ข้อควรระวังในการใช้

ยาเป็นสิ่งที่ให้ทั้งคุณและโทษ กล่าวคือถ้ารู้จักใช้ก็จะให้คุณประโยชน์ แต่ถ้าใช้ไม่ถูกต้องก็จะกลายเป็นโทษหรืออันตรายต่อร่างกายจนถึงขั้นเสียชีวิตได้ การใช้ยาจึงต้องใช้ด้วยความระมัดระวังและใช้เท่าที่จำเป็นจริง ๆ



## 🕒 สารเคมีที่ใช้ในการเกษตร

สารเคมีที่ใช้ในการเกษตร หมายถึง สารเคมีที่ใช้เพื่อมุ่งหวังเพิ่มผลทางการเกษตรหรือใช้ เพื่อกำจัดแมลงศัตรูพืช แบ่งเป็น 2 ประเภท คือ สารเคมีที่ใช้ในการเพิ่มผลผลิต และสารเคมีที่ใช้ในกำจัดแมลงศัตรูพืช

### 🌱 สารเคมีที่ใช้ในการเพิ่มผลผลิต

สารเคมีที่ใช้ในการเพิ่มผลผลิต คือ วัสดุใดก็ตามที่เราใส่ลงไปบนดินไม่ว่าในทางใด โดยวัสดุนั้นมีธาตุอาหารจำเป็นสำหรับพืช ซึ่งพืชสามารถนำไปใช้ประโยชน์ได้ เราเรียกว่า “ปุ๋ย”

### 🌱 สารเคมีที่ใช้ในกำจัดแมลงศัตรูพืช

สารเคมีที่ใช้ในกำจัดแมลงศัตรูพืช หมายถึง สารเคมีหรือส่วนผสมของสารใด ๆ ก็ตาม ที่ใช้ป้องกันกำจัดทำลายหรือขับไล่ศัตรูพืช

#### อันตรายของสารกำจัดแมลงและศัตรูพืช

- ☛ เป็นอันตรายต่อผู้ใช้ ถ้าผู้ใช้ขาดความระมัดระวังหรือถ้าใช้ไม่ถูกวิธี
- ☛ สิ่งแวดล้อมเสียสมดุล ถ้าสารกระจายในอากาศ หรือสะสมตกค้างในน้ำ ในดิน
- ☛ ทำให้ร่างกายทำงานผิดปกติ ถ้ามีการสะสมสารเคมีในร่างกายมากเกินไป และอาจถึงขั้นเสียชีวิตได้



## ประเภทของสารที่ใช้ในชีวิตประจำวัน

### แบ่งตามคุณสมบัติความเป็นกรด - เบส

#### สารที่มีความเป็นกรด

สารประเภทนี้มีรสเปรี้ยวทำปฏิกิริยาเคมีกับโลหะ เช่น สังกะสีทำปฏิกิริยาเคมีกับหินปูน ตัวอย่างสารประเภทนี้ได้แก่ มะนาว น้ำส้มสายชู น้ำอ้อคลม น้ำมะขาม น้ำยาล้างห้องน้ำ เมื่อสารที่มีสมบัติเป็นกรดทดสอบด้วยกระดาษลิตมัส กระดาษลิตมัสจะเปลี่ยนจากสีน้ำเงินเป็นแดง

#### สารที่มีสมบัติเป็นเบส

สารประเภทนี้มีรสฝาด เมื่อนำมาถูกับฝ่ามือจะรู้สึกลื่นมือ ทำปฏิกิริยากับไขมัน หรือน้ำมันพืช หรือน้ำมันสัตว์ จะได้สารประเภทสบู่ ตัวอย่างสารประเภทนี้ เช่น น้ำปูนใส โซดาไฟ ผงฟู น้ำยาล้างจาน เมื่อนำสารที่มีสมบัติเป็นเบสทดสอบด้วยกระดาษลิตมัส กระดาษลิตมัสจะเปลี่ยนจากสีแดงเป็นสีน้ำเงิน



## สารที่มีความเป็นกลาง

สารประเภทนี้มีสมบัติหลายประการและเมื่อนำมาทดสอบด้วยกระดาษลิตมัสแล้ว กระดาษลิตมัส จะไม่มีการเปลี่ยนแปลง ตัวอย่างของสารประเภทนี้ เช่น น้ำ น้ำเกลือ น้ำเชื่อม เป็นต้น

## อินดิเคเตอร์สำหรับกรด - เบส

อินดิเคเตอร์เป็นสารที่ใช้ทดสอบความเป็นกรด - เบส ของสารละลายได้ ส่วนใหญ่เป็นสารอินทรีย์ มีสมบัติเป็นกรดอ่อน ซึ่งมีสีเปลี่ยนไปเมื่อความเป็นกรด - เบส ของสารละลายเปลี่ยนไป หรือค่า pH (positive potential of the hydrogen ions) ของสารละลายเปลี่ยนไป จึงใช้การเปลี่ยนสีบอกค่า pH ของสารละลายได้ อินดิเคเตอร์ที่ควรรู้จักคือ กระดาษลิตมัส สารละลาย ฟีนอล์ฟธาลีน และยูนิเวอร์ซัลอินดิเคเตอร์ (อินดิเคเตอร์ สกัดได้จากดอกไม้สีแดงและสีม่วง เช่น ดอกอัญชันและดอกค้อยดั่งให้สีม่วง ดอกชบาซ้อนและดอกกระเจี๊ยบ ให้สีแดง เป็นต้น)

## กระดาษลิตมัส

เปลี่ยนสีกระดาษลิตมัสจากน้ำเงินเป็นแดง แต่สีแดงไม่เปลี่ยนสารมีคุณสมบัติเป็นกรด

เปลี่ยนสีกระดาษลิตมัสจากแดง เป็นน้ำเงิน แต่สีน้ำเงินไม่เปลี่ยนสารมีคุณสมบัติเป็นเบส

กระดาษลิตมัสทั้งสองสีไม่เปลี่ยน สารมีคุณสมบัติเป็นกลาง

## สารละลายฟีนอล์ฟธาลีน

 สารละลายฟีนอล์ฟธาลีน เปลี่ยนสีเป็นสีชมพูม่วง สารนั้นมีสมบัติเป็นเบส

 สารละลายฟีนอล์ฟธาลีน สีไม่มีสีสารนั้นอาจเป็น กรดหรือเป็นกลางก็ได้

## ยูนิเวอร์ซัลอินดิเคเตอร์

- ค่า pH มีค่าน้อยกว่า 7 สารละลายเป็นกรด

- ค่า pH มีค่ามากกว่า 7 สารละลายเป็นเบส

- ค่า pH มีค่าเท่ากับ 7 สารละลายเป็นกลาง



## ข้อควรระวังในการใช้สารละลายกรด

กรดเป็นสารที่มีพิษต่อมนุษย์และสัตว์ เพราะมีฤทธิ์ในการกัดกร่อน ดังนั้นในการใช้สารที่มีฤทธิ์เป็นกรดในชีวิตประจำวันจะต้องใช้อย่างระมัดระวัง โดยเฉพาะภาชนะที่นำมาบรรจุสารละลายที่มีฤทธิ์เป็นกรด เช่น น้ำส้มสายชู น้ำมะนาว น้ำมะขามเปียก ควรใช้ภาชนะที่เป็นแก้วหรือกระเบื้องเคลือบ ไม่ควรใช้ภาชนะที่เป็นโลหะหรือพลาสติก โดยเด็ดขาด ส่วนสารละลายกรดที่มีผลต่อสิ่งแวดล้อมนั้น เมื่อนำมาล้างพื้นหรือสุขภัณฑ์แล้ว ไม่ควรปล่อยลงในแหล่งน้ำ นอกจากนี้สารละลายกรดยังทำลายพื้นบ้านที่เป็นหินปูน ทำให้พื้นบ้านชำรุด ดังนั้นการใช้สารละลายกรดจึงต้องใช้ให้ถูกวิธี และอ่านคำแนะนำให้เข้าใจก่อนนำไปใช้

### ข้อควรระวังในการใช้สารละลายเบส

สารละลายเบสมีฤทธิ์ในการกัดกร่อน เมื่อเบสสัมผัสกับผิวหนังจะทำให้ผิวหนังเกิดการอักเสบ ปวดแสบปวดร้อนและลอกเป็นขุย ดังนั้นควรระวังในการสัมผัสกับเบส โดยสังเกตได้ว่าเบสสัมผัสถูกส่วนใดของร่างกายจะรู้สึกคัน ๆ จึงควรรีบล้างออกด้วยน้ำสะอาดแล้วล้างออกด้วยน้ำส้มสายชูและล้างด้วยน้ำสะอาดอีกครั้ง

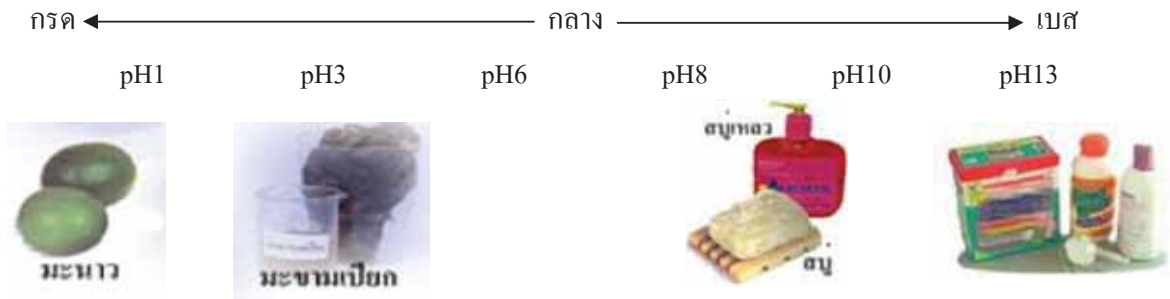
### การหาค่า pH ของสารในชีวิตประจำวัน

สารละลายกรด - เบส สามารถเปลี่ยนสีกระดาษลิตมัสได้ นอกจากนี้ยังสามารถเปลี่ยนสีของกระดาษยูนิเวอร์ซัลอินดิเคเตอร์ และสีของสารที่ได้จากส่วนต่าง ๆ ของพืช เช่น ดอก ใบ เป็นต้นสิ่งที่น่าสนใจในการตรวจสอบเพื่อจำแนกความเป็นกรด - เบสของสารละลายหรือสารละลายเบสได้ เรียกว่า อินดิเคเตอร์ การที่จะบอกว่าสารละลายมีความเป็นกรด - เบสมากน้อยเท่าใดใช้ระบุเป็นค่า pH ซึ่งกำหนดว่าสารที่มีค่า pH ที่เท่ากับ 7 มีสมบัติเป็นกลาง และถ้าค่า pH ต่ำกว่า 7 จะเป็นกรด ยิ่งค่า pH น้อย ยิ่งมีความเป็นกรดมาก ถ้าค่า pH สูงกว่า 7 จะเป็นเบส ยิ่งมีค่า pH มาก ยิ่งมีความเป็นเบสมาก

### ตัวอย่างผลการทดสอบสารละลายบางชนิดด้วยอินดิเคเตอร์ชนิดต่าง ๆ

| สารละลายตัวอย่าง | ผลที่สังเกตได้เมื่อทดสอบ   |                         |                      |                      |
|------------------|----------------------------|-------------------------|----------------------|----------------------|
|                  | กระดาษลิตมัส               | น้ำคั้นจากกะหล่ำปลีม่วง | น้ำคั้นจากดอกอัญชัญ  | น้ำคั้นจากดอกกุหลาบ  |
| 1. น้ํามะนาว     | เปลี่ยนจากสีน้ำเงินเป็นแดง | เปลี่ยนจากสีแดง         | เป็นสีน้ำเงิน        | เปลี่ยนจากสีแดง      |
| 2. น้ําผงซักฟอก  | เปลี่ยนจากสีแดงเป็นน้ำเงิน | เปลี่ยนจากสีน้ำเงิน     | เป็นสีน้ำเงิน        | เป็นสีน้ำเงิน        |
| 3. น้ําส้มสายชู  | เปลี่ยนจากสีแดงเป็นน้ำเงิน | เปลี่ยนเป็นสีแดง        | เปลี่ยนเป็นสีแดง     | ไม่เปลี่ยน           |
| 4. น้ํายาล้างจาน | เปลี่ยนจากสีแดงเป็นน้ำเงิน | เปลี่ยนเป็นสีน้ำเงิน    | เปลี่ยนเป็นสีน้ำเงิน | เปลี่ยนเป็นสีน้ำเงิน |
| 5. ยาลดกรด       | เปลี่ยนจากสีน้ำเงินเป็นแดง | เปลี่ยนเป็นสีน้ำเงิน    | เปลี่ยนเป็นสีน้ำเงิน | เปลี่ยนเป็นสีน้ำเงิน |
| 6. ผงฟู          | เปลี่ยนจากสีแดงเป็นน้ำเงิน | เปลี่ยนจากสีน้ำเงิน     | เป็นสีน้ำเงิน        | เป็นสีน้ำเงิน        |
| 7. น้ําจืด       | เปลี่ยนจากสีแดงเป็นน้ำเงิน | เปลี่ยนจากสีน้ำเงิน     | เป็นสีน้ำเงิน        | เป็นสีน้ำเงิน        |

| สีของยูนิเวอร์ซัลอินดิเคเตอร์ |     |     |     |      |     |        |       |                  |             |                     |      |      |      |      |
|-------------------------------|-----|-----|-----|------|-----|--------|-------|------------------|-------------|---------------------|------|------|------|------|
| แดง                           | แดง | แดง | แดง | ชมพู | ส้ม | เหลือง | เขียว | เขียว<br>น้ำเงิน | น้ำ<br>เงิน | น้ำ<br>เงิน<br>ม่วง | ม่วง | ม่วง | ม่วง | ม่วง |
| 0                             | 1   | 2   | 3   | 4    | 5   | 6      | 7     | 8                | 9           | 10                  | 11   | 12   | 13   | 14   |



ตัวอย่างค่า pH ของสารและสีของยูนิเวอร์ซัลอินดิเคเตอร์ตั้งแต่ pH 0-14

### เรื่องที่ 3 การใช้สารให้ถูกต้องและปลอดภัย

เมื่อนำสารต่างๆมาใช้เราต้องศึกษาข้อมูลและวิธีการใช้สารให้เข้าใจก่อนโดยปฏิบัติ ดังนี้

1. อ่านฉลากให้เข้าใจ ก่อนนำสารชนิดนั้นไปใช้ประโยชน์
2. ใช้สารอย่างถูกต้อง เหมาะสมตามวิธีแนะนำ
3. ใช้สารในปริมาณเท่าที่จำเป็น
4. ใช้สารหมดแล้วต้องกำจัดภาชนะบรรจุสารอย่างเหมาะสม

สารบางประเภทที่เรานำมาใช้ประโยชน์เป็นสารอันตราย และเป็นสารที่คงสภาพอยู่ได้นาน เช่น สารกำจัดศัตรูพืช เมื่อเกษตรกรนำมาฉีดพ่นผลิตผล จะมีสารพิษตกค้างอยู่กับผลิตผลและพื้นที่ในบริเวณที่ใช้สาร ซึ่งมีผลต่อคน สัตว์และสิ่งแวดล้อม

ดังนั้น การนำสารต่าง ๆ มาใช้โดยเฉพาะสารที่มีพิษ จึงต้องรู้จักใช้อย่างระมัดระวัง เพื่อไม่ให้เกิดอันตรายต่อตัวเอง รวมทั้งก่อให้เกิดผลกระทบต่อสิ่งแวดล้อมรอบตัวเราด้วย

## เรื่องที่ 4 ผลกระทบที่เกิดจากการใช้สารเคมี

### ของเสียเป็นอันตรายต่อสิ่งแวดล้อม

ของเหลือทิ้งจากการอุปโภค บริโภค หรือสิ่งของเสื่อมสภาพจนใช้การไม่ได้แล้วตลอดจนของที่มนุษย์ไม่ต้องการจะใช้ต่อไปแล้ว เรารวมเรียกว่า "ของเสีย" ของเสียบางชนิดไม่เป็นพิษภัยต่อมนุษย์และสิ่งแวดล้อมมากนัก เช่น ของเสียจำพวกเศษอาหาร เศษกระดาษจากบ้านเรือนที่พักอาศัย แต่ของเสียบางชนิดเป็นอันตรายต่อชีวิตของมนุษย์และสัตว์ ตลอดจนถึงสิ่งแวดล้อมอื่น ๆ อย่างมาก จำเป็นต้องเก็บหรือกำจัดทิ้งไปโดยระมัดระวังให้ถูกหลักวิชาการ อาจทำให้เกิดอันตรายต่อสุขภาพอนามัยของมนุษย์และสิ่งแวดล้อมได้



โดยเฉพาะอย่างยิ่งเมื่อมีการปนเปื้อนหรือสะสมอยู่ใน "ห่วงโซ่อาหาร" จะเป็นสาเหตุหรือทำให้เกิดการเจ็บป่วยอย่างเฉียบพลัน หรือแบบเรื้อรัง ซึ่งจะทำให้พิการหรือเสียชีวิตได้ เราเรียกของเสียประเภทนี้ว่า "ของเสียที่เป็นอันตราย" และในบางกรณีของเสียที่เป็นอันตรายอาจมีลักษณะของความเป็นอันตรายหลายประเภทรวมกัน

ของเสียที่เป็นอันตราย ได้แก่ของเสียที่มีลักษณะของความเป็นอันตรายลักษณะใดลักษณะหนึ่ง หรือหลายลักษณะรวมกัน ดังต่อไปนี้

1. ของเสียเป็นพิษ หรือเจือปน หรือมีส่วนประกอบของสารที่เป็นพิษ เช่น มีส่วนประกอบของสารปรอท ตะกั่ว แคดเมียม สารหนู ยาฆ่าแมลง เป็นต้น
2. ของเสียที่ติดไฟง่าย หรือมีส่วนประกอบของสารที่ติดไฟง่าย หรือสารไวไฟซึ่งอาจทำให้เกิดไฟไหม้ได้ ถ้าเก็บไว้ใกล้ไฟ หรือเมื่อมีอุณหภูมิสูงมาก ๆ
3. ของเสียที่มีฤทธิ์เป็นกรดหรือด่างซึ่งสามารถกัดกร่อนวัสดุต่าง ๆ ตลอดจนเนื้อเยื่อของร่างกายมนุษย์หรือสัตว์
4. ของเสียที่เมื่อทำปฏิกิริยากับสารอื่น เช่น น้ำ จะทำให้เกิดมีก๊าซพิษ ไอพิษ หรือควันพิษ หรือของเสียที่เมื่อได้รับการทำให้ร้อนขึ้นในที่จำกัดอาจเกิดการระเบิดได้
5. ของเสียที่เป็นสารกัมมันตรังสี หรือมีสารกัมมันตรังสีเจือปนอยู่
6. ของเสียที่เมื่อถูกน้ำชะล้าง จะปลดปล่อยสารที่เป็นอันตรายดังกล่าวข้างต้นออกมาได้
7. ของเสียที่มีเชื้อโรคติดต่อปะปนอยู่



เครื่องสำอางและยาที่หมดอายุ

### ผลกระทบของของเสียที่เป็นอันตรายต่อสิ่งแวดล้อม

การจัดการของเสียที่เป็นอันตรายโดยไม่ระมัดระวัง หรือไม่ถูกต้องเหมาะสมจะก่อให้เกิดปัญหาพื้นฐานที่มีผลกระทบต่อสุขภาพของมนุษย์และสิ่งแวดล้อมได้ 4 ประการคือ

1. ทำให้เกิดความเสี่ยงต่อการเกิดโรคมะเร็ง การสัมผัสหรือเกี่ยวข้องกับของเสียที่เป็นอันตราย ซึ่งประกอบด้วยสารพิษที่เป็นสารก่อมะเร็ง อาจทำให้เกิดโรคมะเร็งได้โดยเฉพาะเมื่อได้รับสารเหล่านั้นเป็นเวลาดูติดต่อกันนาน ๆ อาทิ การหายใจเอาอากาศที่มีสารพวกไดออกซิน เบนซิน ฟอรัมาลดีไฮด์เข้าไป หรือกินอาหารหรือน้ำที่ปนเปื้อนด้วยสารเคมีพวกยาฆ่าแมลง

2. ทำให้เกิดความเสี่ยงต่อการเกิดโรคอื่น การที่ได้รับสารเคมีหรือสารโลหะหนักบางชนิดเข้าไปในร่างกาย อาจทำให้เจ็บป่วยเป็นโรคต่าง ๆ จนอาจถึงตายได้ เช่น โรคทางสมองหรือทางประสาท หรือโรคที่ทำให้เกิดความผิดปกติของร่างกาย ตัวอย่างของโรคที่เกิดจากการจัดการของเสียที่เป็นอันตรายอย่างไม่ถูกต้อง เช่น โรคมินามาตะ ซึ่งเกิดจากสารปรอท โรคอิไต-อิไต ซึ่งเกิดจากสารแคดเมียมและโรคแพ้พิษสารตะกั่ว เป็นต้น

3. ทำให้เกิดผลกระทบต่อระบบนิเวศ สารโลหะหนัก หรือสารเคมีต่าง ๆ ที่เจือปนอยู่ในของเสียที่เป็นอันตราย นอกจากจะเป็นอันตรายต่อมนุษย์แล้ว ยังเป็นอันตรายต่อสิ่งมีชีวิตอื่น ๆ ทั้งพืชและสัตว์ ทำให้เจ็บป่วยและตายได้เช่นกัน หรือถ้าได้รับสารเหล่านั้นในปริมาณไม่มากพอที่จะทำให้เกิดอาการอย่างเฉียบพลัน ก็อาจมีผลกระทบต่อโครงสร้างของโครโมโซมทำให้เกิดการเปลี่ยนแปลงทางพันธุกรรม นอกจากนี้การสะสมของสารพิษไว้ในพืชหรือสัตว์แล้วถ่ายทอดไปตามห่วงโซ่อาหาร ในที่สุดอาจเป็นอันตรายต่อมนุษย์ซึ่งนำพืชและสัตว์ดังกล่าวมาบริโภค

4. ทำให้เกิดผลเสียต่อทรัพย์สินและสังคม เช่น เกิดไฟไหม้ เกิดการก่อกวนเสียหายนของวัสดุเกิดความเสื่อมโทรมของสิ่งแวดล้อม ซึ่งจะส่งผลกระทบต่อสุขภาพทางสังคมด้วย



การเกิดเพลิงไหม้โรงงานจะทำให้สารอันตรายต่าง ๆ แพร่กระจายออกไป  
**ของเสียที่เป็นอันตรายก่อให้เกิดอันตรายต่อมนุษย์และสิ่งแวดล้อมได้อย่างไร**  
 ของเสียที่เป็นอันตราย หรือสารที่เจือปนอยู่ในของเสียที่เป็นอันตรายอาจก่อให้เกิดอันตราย  
 ต่อสุขภาพอนามัยของมนุษย์และสิ่งแวดล้อมได้หลายทาง คือ

1. โดยการสัมผัสโดยตรง หากของเสียพวกกรดหรือด่างที่มีความเข้มข้นไม่มากกรดถูกร่างกาย  
 อาจทำให้ผิวหนังบริเวณที่สัมผัสเกิดการคายเคืองเป็นผื่น แต่ถ้ามีความเข้มข้นมาก ๆ อาจทำให้ผิวหนังไหม้  
 หรือเนื้อเยื่อถูกทำลายจนเกิดบาดแผลพุพอง นอกจากนี้การหายใจเข้าดมโดยไม่มีอุปกรณ์ป้องกัน เช่น  
 หน้ากาก และถุงมือ สารดังกล่าวอาจซึมเข้าทางผิวหนังได้ การกินสารเหล่านี้เข้าไปโดยตรงจะเป็นอันตราย  
 อย่างมาก และทำให้เกิดอาการอย่างเฉียบพลัน ดังนั้น ควรระมัดระวังร่างกายหรืออาหารไม่ให้สัมผัส  
 กับของเสีย ไม่ควรนำภาชนะบรรจุของเสียที่เป็นอันตรายมาใช้อีก เนื่องจากอาจมีเศษของสารอันตรายเหลือ  
 ค้างอยู่

2. โดยการสะสมอยู่ในห่วงโซ่อาหาร พืชและสัตว์จะดูดซึมหรือกินเอาสารอันตรายต่าง ๆ ที่มีสะสม  
 อยู่ในดินหรือในอาหารเข้าไป สารดังกล่าวจะไปสะสมอยู่ในส่วนต่าง ๆ ของพืชและสัตว์นั้น ๆ เนื่องจาก  
 สารอันตรายเหล่านี้สลายตัวได้ช้า ดังนั้น ในร่างกายของพืชและสัตว์จึงมีความเข้มข้นของสารเพิ่มมากขึ้น  
 เป็นลำดับ เมื่อมนุษย์กินพืชหรือสัตว์นั้นก็จะได้รับสารอันตรายเข้าไปด้วย และจะไปสะสมอยู่ในร่างกายของ  
 มนุษย์จนมีปริมาณมากและก่อให้เกิดอาการเจ็บป่วยต่าง ๆ ออกมาในที่สุด

3. โดยการปนเปื้อนต่อแหล่งน้ำที่ใช้ในการอุปโภคและบริโภค การนำของเสียที่เป็นอันตรายไปฝัง  
 โดยไม่ถูกวิธี อาจทำให้เกิดน้ำเสียที่มีสารอันตรายปนเปื้อน น้ำเสียเหล่านี้จะไหลซึมผ่านชั้นดินลงไปยัง  
 แหล่งน้ำใต้ดิน นอกจากนี้การนำของเสียที่เป็นอันตรายมากองทิ้งไว้ อาจทำให้น้ำฝนไหลชะพาเอาสาร  
 อันตรายต่าง ๆ ไปปนเปื้อนในแม่น้ำลำคลอง ดังนั้น เมื่อนำน้ำใต้ดินหรือน้ำผิวดินที่มีการปนเปื้อน  
 ของของเสียที่เป็นอันตรายมาบริโภคหรืออุปโภค เราก็อาจจะได้รับสารอันตรายต่าง ๆ เหล่านั้นเข้าไปด้วย

4. โดยการเจือปนอยู่ในอากาศ ของเสียที่เป็นอันตรายบางชนิดจะระเหยปล่อยสารต่าง ๆ ออกมา หรือปลิวฟุ้งเป็นฝุ่นผสมอยู่ในอากาศที่เราหายใจ นอกจากนี้ การเผาของเสียที่เป็นอันตรายโดยไม่มีการควบคุมปัญหาอากาศอย่างเข้มงวด อาจทำให้มีสารอันตรายปะปนอยู่ในอากาศในรูปของไอหรือฝุ่นของสารเคมีต่าง ๆ

5. โดยการระเบิดหรือไฟไหม้ การเก็บของเสียที่มีลักษณะไวไฟหรือติดไฟง่ายในสถานที่ต่าง ๆ จะต้องมีมาตรการระมัดระวังการติดไฟหรือระเบิด โดยเฉพาะอย่างยิ่ง หากสถานที่ที่เก็บมีอุณหภูมิสูงเกินกว่าจุดวาบไฟของของเสีย นอกจากนี้การนำของเสียต่างชนิดกันมาผสมกัน อาจมีปฏิกิริยาเคมีต่อกันอย่างรุนแรงจนเกิดระเบิดขึ้น ทำอันตรายต่อชีวิตและทรัพย์สินได้



สินค้าสารเคมีเมื่อถูกเพลิงไหม้จะกลายเป็นของเสียที่เป็นอันตราย

#### ผลกระทบของสารเคมีที่มีต่อสุขภาพ

ปัจจัยที่ทำให้สารเคมีมีผลต่อสุขภาพของคน จากการศึกษาของ Dr.Helen Marphy ผู้เชี่ยวชาญทางด้านพิษวิทยา จากโครงการ Community IPM จาก FAO ประเทศอินโดนีเซีย พบว่าปัจจัยที่มีความเสี่ยงของสุขภาพของคนอันดับต้น ๆ คือ

1. เกษตรกรใช้สารเคมีชนิดที่องค์กร WHO จำแนกไว้ในกลุ่ม 1a และ 1b คือ ที่มีพิษร้ายแรงยิ่ง (Extremely toxic) และมีพิษร้ายแรงมาก (Very Highly toxic) ตามลำดับ ซึ่งมีความเสี่ยงสูงทำให้เกิดการเจ็บป่วยแก่เกษตรกร ซึ่งใช้สารพิษ โดยเฉพาะสารทั้งสองกลุ่ม ดังกล่าว

2. การผสมสารเคมีหลายชนิดฉีดพ่นในครั้งเดียว ซึ่งเป็นลักษณะที่ทำให้เกิดความเข้มข้นสูง เกิดการแปรสภาพโครงสร้างของสารเคมี เมื่อเกิดการเจ็บป่วยแพทย์ไม่สามารถรักษาคนไข้ได้เนื่องจากไม่มียารักษาโดยตรง ทำให้คนไข้มีโอกาสเสียชีวิตสูง

3. ความถี่ของการฉีดพ่นสารเคมี ซึ่งหมายถึงจำนวนครั้งที่เกษตรกรฉีดพ่น เมื่อฉีดพ่นบ่อย โอกาสที่จะสัมผัสสารเคมีก็เป็นไปตามจำนวนครั้งที่ฉีดพ่น ทำให้ผู้ฉีดพ่นได้รับสารเคมีในปริมาณที่มากและสะสมในร่างกายและผลผลิต



4. การสัมผัสสารเคมีของร่างกายผู้ฉีดพ่น บริเวณผิวหนังเป็นพื้นที่ ๆ มากที่สุดของร่างกาย หากผู้ฉีดพ่นสารเคมีไม่มีการป้องกัน หรือเสื้อผ้าที่เปื้อนสารเคมี และโดยเฉพาะบริเวณที่มือและขาของผู้ฉีดพ่น ทำให้มีความเสี่ยงสูง ทั้งนี้เพราะสารเคมีป้องกันและกำจัดศัตรูพืชถูกผลิตมาให้ทำลายแมลงโดยการทะลุทะลวงหรือดูดซึมเข้าทางผิวหนังของแมลง รวมทั้งให้แมลงกินแล้วตาย ดังนั้น ผิวหนังของคนที่มีความอ่อนนุ่มกว่าผิวหนังของแมลงง่ายต่อการดูดซึมเข้าไปทางต่อมเหงื่อออกเหนือจากการสูดละอองเข้าทางจมูกโดยตรง จึงทำให้มีความเสี่ยงอันตรายมากกว่าแมลงมากมาย

5. พฤติกรรมการเก็บสารเคมี และทำลายภาชนะบรรจุไม่ถูกต้อง ทำให้อันตรายต่อผู้อยู่อาศัย โดยเฉพาะเด็ก ๆ และสัตว์เลี้ยง

### กิจกรรมที่ 1

เรื่องสารละลายที่เป็นกรด - เบส

- คำชี้แจง 1. ให้ผู้เรียนบันทึกผลการทดลองเฉพาะสารตัวอย่างที่เลือกทำการทดลอง 5 ชนิด
2. ให้ผู้เรียนสรุปผลการทดลองจากสารตัวอย่างทั้งหมดว่าเป็นกรดหรือเบสเพราะเหตุใด
3. ให้ผู้เรียนตอบคำถาม กิจกรรม pH ของสารในชีวิตประจำวัน

| ตารางบันทึกผล     | ค่า pH | การเปลี่ยนสีของกระดาษลิตมัส |           |
|-------------------|--------|-----------------------------|-----------|
|                   |        | สีแดง                       | สีน้ำเงิน |
| น้ำมะนาว          |        |                             |           |
| น้ำส้มสายชู       |        |                             |           |
| น้ำขี้เถ้า        |        |                             |           |
| สารละลายยาสีฟัน   |        |                             |           |
| น้ำยาล้างห้องน้ำ  |        |                             |           |
| น้ำสบู่           |        |                             |           |
| น้ำประปา          |        |                             |           |
| น้ำอכלม (ไม่มีสี) |        |                             |           |

สรุปผลการทดลองจากกิจกรรม

.....

.....

คำถาม

1. สารในชีวิตประจำวันแต่ละชนิด มีค่า pH เป็นอย่างไร

.....

.....



2. มีสารใดบ้างเป็นเบส สารใดบ้างเป็นกรด ทราบได้อย่างไร

.....

.....

3. ผู้เรียนมีวิธีการทดสอบความเป็นกรด - เบสของน้ำในแหล่งน้ำของชุมชนได้อย่างไร  
ถ้าต้องการทราบว่าแหล่งน้ำในชุมชนมีความเป็นกรด - เบสเพียงใด ผู้เรียนจะมีวิธีการทดสอบอย่างไร

.....

.....

4. ผู้เรียนคิดว่าจากการศึกษากิจกรรมนี้สามารถนำไปใช้ในชีวิตประจำวันได้อย่างไร

.....

.....

## กิจกรรมที่ 2

เรื่อง การตรวจหาโซเดียมเมตาฟอสเฟตในผงชูรส

อุปกรณ์

1. ผงชูรส
2. น้ำสะอาด
3. แก้ว
4. ปูนขาว
5. น้ำส้มสายชู
6. ช้อน

วิธีดำเนินการกิจกรรม

**ขั้นเตรียมน้ำปูนขาวผสมกรดน้ำส้ม**

วิธีทำน้ำยาปูนขาวผสมกรดน้ำส้ม ใช้ปูนขาวประมาณครึ่งช้อนชา ละลายในน้ำส้มสายชูประมาณ 7 ช้อนโต๊ะ คนให้ทั่วประมาณ 2 - 3 นาที แล้วทิ้งไว้ให้ตะกอนนอนก้นรินเอาน้ำยาใสข้างบนออกมาใช้ น้ำยาใสนี้คือ “น้ำปูนขาวผสมกรดน้ำส้ม”

**ขั้นตอนการทดลอง**

1. นำผงชูรสที่สงสัยประมาณ 1 ช้อนชา ละลายในน้ำสะอาดประมาณครึ่งแก้ว
2. ใส “น้ำปูนขาวผสมกรดน้ำส้ม” ลงไปประมาณ 1 ช้อนชา

(ถ้าเป็นผงชูรสแท้จะไม่มีตะกอนเกิดขึ้น แต่ถ้าเป็นผงชูรสที่มีโซเดียมเมตาฟอสเฟตผสมอยู่จะเกิดตะกอนขุ่นขาวทันที)

#### บันทึกผลการทดลอง

| ตัวอย่างผงชูรส | การเปลี่ยนแปลงเมื่อใส่หน้าปูนขาวผสมกรดน้ำส้ม |
|----------------|--|
| ผงชูรส 1       |  |
| ผงชูรส 2       |  |

#### สรุปผลการทดลองจากกิจกรรม

.....  
 .....

#### โซเดียมเมตาฟอสเฟต

โซเดียมเมตาฟอสเฟต เป็นผลึกแท่งเหลี่ยมยาวคล้ายผงชูรสมาก แต่มีลักษณะใสและเรียบกว่า ถ้าบริโภคน้ำเข้าไปแล้วจะ เกิดอาการถ่ายท้องอย่างรุนแรง

### แบบฝึกหัดบทที่ 11

#### เรื่อง สารเคมี กับชีวิตและสิ่งแวดล้อม

**คำชี้แจง** ให้นักเรียนเลือกคำตอบที่ถูกต้องเพียงข้อเดียว

- ข้อใดไม่เกี่ยวข้องกับสารเคมีที่ใช้ในชีวิตประจำวัน
  - น้ำปลา
  - ยาสีฟัน
  - ผงซักฟอก
  - ไม่มีข้อถูก
- การทดสอบความเป็นกรด - เบส ของสารเคมีใช้อุปกรณ์ข้อใด
  - กระดาษกรอง
  - กระดาษลิตมัส
  - สารละลายไอโอดีน
  - สารละลายไฮโดรคลอริก

3. ข้อใดไม่ใช่สารทำความสะอาดที่ได้จากธรรมชาติ

- ก. มะกรูด
- ข. มะนาว
- ค. มะพร้าว
- ง. มะขามเปียก

4. การสำรวจสิ่งของที่ประกอบด้วยสารเคมีที่ใช้ในชีวิตประจำวัน พบว่ามีการรับรองคุณภาพว่าปลอดภัย  
คู่ได้จากข้อใด

- ก. ยี่ห้อ
- ข. สถานที่ผลิต
- ค. ส่วนประกอบของใช้หรือรับประทาน
- ง. เครื่องหมายทะเบียนอาหารและยา

5. ข้อใดเป็นสีจากธรรมชาติที่ให้สีเหลือง

- ก. ไบยานาง
- ข. เหง้าขมิ้นชัน
- ค. ดอกกระเจี๊ยบ
- ง. ดอกอัญชัน

6. พจน์ศึกษาสารเคมีชนิดต่าง ๆ สรุปผลการทดลองและการสังเกตบันทึก เป็นตารางได้ดังนี้

| ชนิดที่ | สารละลาย            | กระดาษลิตมัส<br>สีน้ำเงิน | กระดาษลิตมัส<br>สีแดง |
|---------|---------------------|---------------------------|-----------------------|
| 1       | น้ำมะนาว            | เปลี่ยนสี                 | ไม่เปลี่ยนสี          |
| 2       | น้ำขี้เถ้า          | ไม่เปลี่ยนสี              | เปลี่ยนสี             |
| 3       | น้ำสบู่             | ไม่เปลี่ยนสี              | เปลี่ยนสี             |
| 4       | สารละลายไฮโดรคลอริก | เปลี่ยนสี                 | ไม่เปลี่ยนสี          |
| 5       | น้ำเปล่า            | ไม่เปลี่ยนสี              | ไม่เปลี่ยนสี          |

จากข้อมูลในตาราง ข้อใดสรุปถูกต้อง

- ก. น้ำมะนาว น้ำขี้เถ้าและน้ำสบู่เป็นสารเคมีที่มีฤทธิ์เป็นกรด
- ข. น้ำขี้เถ้าและน้ำสบู่เป็นสารเคมีที่มีฤทธิ์เป็นกรด
- ค. น้ำมะนาว สารละลายไฮโดรคลอริกเป็นสารเคมีที่มีฤทธิ์เป็นกรด
- ง. น้ำมะนาว สารละลายไฮโดรคลอริกเป็นสารเคมีที่มีฤทธิ์เป็นเบส

7. เครื่องหมายมาตรฐานผลิตภัณฑ์อุตสาหกรรมขององค์การอุตสาหกรรม คือข้อใด

ก.



ข.



ค.



ง.



8. ข้อใดเป็นผลกระทบที่เกิดจากสารเคมี

- ก. การปนเปื้อนต่อแหล่งน้ำที่ใช้ในการอุปโภคและบริโภค
- ข. ทำให้เกิดความเสียหายต่อการเกิดโรคมะเร็ง
- ค. ทำให้เกิดผลเสียหายต่อทรัพย์สินและสังคม
- ง. ถูกทุกข้อ

## บทที่ 12

### แรงและการเคลื่อนที่

#### สาระสำคัญ

แรง แรงที่กระทำต่อวัตถุ ความหมายของแรง การเคลื่อนที่ของวัตถุ ความเร่ง ความสัมพันธ์ระหว่างแรงและการเคลื่อนที่ของอนุภาคในสนามโน้มถ่วง และสนามแม่เหล็ก ประโยชน์ของสนามแม่เหล็ก

#### ผลการเรียนรู้ที่คาดหวัง

อธิบายเกี่ยวกับ แรง ความเร่ง ความสัมพันธ์ระหว่างแรงและการเคลื่อนที่ได้พร้อมทั้งสามารถนำความรู้เรื่องแรงไปใช้ในชีวิตประจำวันได้

#### ขอบข่ายเนื้อหา

เรื่องที่ 1 แรงและความสัมพันธ์ระหว่างการเคลื่อนที่ของอนุภาค

เรื่องที่ 2 ความสัมพันธ์ระหว่างแรงและการเคลื่อนที่ของอนุภาคในสนามโน้มถ่วง สนามแม่เหล็ก และการนำไปใช้ประโยชน์ในชีวิตประจำวัน

## เรื่องที่ 1 แรงและความสัมพันธ์ระหว่างการเคลื่อนที่ของอนุภาค

### 1. ความหมายของแรง

แรง (Force) หมายถึง สิ่งที่มากระทำหรือพยายามกระทำต่อวัตถุแล้วทำให้วัตถุเกิดการเปลี่ยนแปลงสภาพ เช่น ถ้ามีแรงมากระทำกับวัตถุที่กำลังเคลื่อนที่ อาจทำให้วัตถุนั้น เคลื่อนที่เร็วขึ้น ช้าลง หรือหยุดนิ่ง หรือเปลี่ยนทิศทาง

แรง เป็นปริมาณเวกเตอร์คือต้องบอกขนาดและทิศทาง มีหน่วยเป็น นิวตัน

### 2. การเคลื่อนที่ในแนวตรง เป็นการเคลื่อนที่ที่ไม่เปลี่ยนทิศทาง เช่น ผลไม้หล่นจากต้น

การเคลื่อนที่ คือ การเปลี่ยนตำแหน่งของวัตถุที่เกี่ยวข้องกับสิ่งต่อไปนี้

- ระยะทาง (distance) คือ ความเร็วของเส้นทางทั้งหมดเคลื่อนที่จากจุดเริ่มต้น ไปยังจุดสุดท้าย เป็นปริมาณ สเกลาร์
- การขจัดหรือกระจัด (displacement) คือ ระยะทางที่สั้นสุดจากจุดเริ่มต้น ไปยังจุดสุดท้าย มีความยาวเท่ากับความยาวของเส้นตรงจากจุดเริ่มต้น ไปยังจุดสุดท้าย เป็นปริมาณเวกเตอร์

### ความเร็วและอัตราเร็ว

ขณะที่รถยนต์กำลังวิ่ง เราจะเห็นเข็มบอกความเร็วเบนขึ้นเรื่อย ๆ แสดงว่ารถเคลื่อนที่ด้วย อัตราเร็วเพิ่มขึ้น แต่เมื่อพิจารณาถึงทิศทางรถวิ่งไปด้วย จะกล่าวได้ว่ารถเคลื่อนที่ด้วยความเร็ว (เพิ่มขึ้น) แต่เมื่อพิจารณาตามข้อเท็จจริง ผลปรากฏว่าความเร็ว ผลปรากฏว่าความเร็วของรถไม่ได้เคลื่อนที่ด้วยอัตราเร็วที่เท่ากันตลอด เช่น จากช้าแล้วเร็วขึ้นเรื่อย ๆ หรือความเร็วเพิ่มบ้างลดบ้าง จึงนิยมบอกอัตราเร็วเฉลี่ย

$$\text{อัตราเร็ว} = \frac{\text{ระยะทางที่เคลื่อนที่}}{\text{เวลาที่ใช้}}$$

$$\text{หรือ } V = \frac{S}{T}$$

การเคลื่อนที่ในแนวตรง ระยะทางและการกระจัดจะมีค่าเท่ากัน แต่การกระจัดจะต้องมีทิศทาง การเคลื่อนที่กำกับด้วยและเป็นปริมาณเวกเตอร์ ดังนั้นการกระจัดในหนึ่งหน่วยเวลา คือ ความเร็ว และมีหน่วยเป็น เมตร/วินาที สำหรับความเร็วของรถยนต์ที่เคลื่อนที่ ความเร็วจะมีการเปลี่ยนแปลงตลอดเวลา ดังนั้นจึงนิยมบอกความเร็วของรถยนต์เป็นความเร็วเฉลี่ย

$$\text{ความเร็ว} = \frac{\text{การกระจัด}}{\text{เวลาที่ใช้ในช่วงนั้น}}$$

$$\vec{v} = \frac{\vec{s}}{T}$$

ตัวอย่าง รถยนต์คันหนึ่งวิ่งได้ระยะทาง 840 เมตรในเวลา 60 วินาที รถยนต์มีอัตราเร็วเฉลี่ยเป็นเท่าใด และความเร็วเฉลี่ยเป็นเท่าใด

วิธีทำ 1. หาอัตราความเร็ว

$$\text{อัตราเร็ว (V)} = \frac{\text{ระยะทาง (S)}}{\text{เวลา}}$$

$$= \frac{840}{60}$$

$$= 14 \text{ เมตร/วินาที}$$

$$\text{อัตราเร็ว} = 14 \text{ เมตร/วินาที}$$

2. หาความเร็ว

$$\text{ความเร็ว (V)} = \frac{\text{การกระจัด (S)}}{\text{เวลา}}$$

$$= \frac{840}{60}$$

$$= 14 \text{ เมตร/วินาที}$$

$$\text{ความเร็ว} = 14 \text{ เมตร/วินาที}$$

**ความเร่ง** คือ อัตราการเปลี่ยนแปลงความเร็วต่อหน่วยเวลา หรือ หมายถึง ความเร็วที่เปลี่ยนไปในหน่วยเวลา มีหน่วยเป็นเมตรต่อวินาที<sup>2</sup> ( $m/s^2$ ) แต่เนื่องจากอัตราเร็วมีการเปลี่ยนแปลง คือ มีการเปลี่ยนขนาดของความเร็วหรือมีการเปลี่ยนแปลงทิศทางของความเร็ว หรือมีการเปลี่ยนทั้งขนาดและทิศทาง จึงนิยามบอกความเร็วของรถเป็นความเร่งเฉลี่ย

$$\text{ความเร่งเฉลี่ย} = \frac{\text{ความเร็วที่เปลี่ยนไป}}{\text{ช่วงเวลาที่ใช้}} = \frac{\text{ความเร็วปลาย} - \text{ความเร็วต้น}}{\text{ช่วงเวลาที่ใช้}}$$

เมื่อ  $u$  = ความเร็วต้น (ขณะเวลา  $t_1$ )

$v$  = ความเร็วปลาย (ขณะเวลา  $t_2$ )

$\bar{a}$  = ความเร่ง

$$\text{จะได้} \quad \bar{a} = \frac{v - u}{t}$$

ในการเคลื่อนที่ในแนวตั้งวัตถุเคลื่อนด้วยความเร็วคงตัว เรียกความเร่งในการตกของวัตถุว่าความเร่งโน้มถ่วง ซึ่งมีค่า  $9.8$  เมตรต่อวินาที<sup>2</sup> และถ้าความเร่งมีทิศทางตรงข้ามกับความเร็วต้นจะมีค่าเป็นลบ เรียกอีกอย่างหนึ่งว่า ความหน่วง

ตัวอย่าง โยนลูกบอลขึ้นไปในแนวตั้งด้วยความเร็วต้น  $4.9$  เมตรต่อวินาที นานเท่าใดลูกบอลจึงจะเคลื่อนที่ถึงจุดสูงสุด

วิธีทำ

$$\bar{a} = \frac{v - u}{t}$$

ในที่นี้ มีค่า  $9.8 m/s^2, v = 0 m/s, u = (-4.9) m/s, t = ?$

$$\text{แทนค่า} \quad 9.8 = \frac{0 - (-4.9)}{t} = \frac{4.9}{t}$$

$$t = \frac{4.9}{9.8} = \frac{1}{2}$$

เพราะฉะนั้นจะใช้เวลานาน  $\frac{1}{2}$  วินาที ตอบ



## เรื่องที่ 2 ความสัมพันธ์ระหว่างแรงและการเคลื่อนที่ของอนุภาคในสนามโน้มถ่วง

### สนามแม่เหล็กและการนำไปใช้ประโยชน์ในชีวิตประจำวัน

#### สนามของแรง

สนามของแรง หมายถึง บริเวณที่เมื่อนำวัตถุไปวางไว้แล้วเกิดแรงกระทำกับวัตถุนั้น ซึ่งจะมีค่ามากหรือน้อยขึ้นอยู่กับขนาดของสนาม ขนาดและตำแหน่งของวัตถุในที่นี้จะศึกษาสนามของแรง 3 แบบด้วยกัน คือ สนามโน้มถ่วง สนามแม่เหล็ก และสนามไฟฟ้า

สนามแรงโน้มถ่วง หมายถึงบริเวณรอบ ๆ โลกที่ส่งแรงกระทำต่อวัตถุนั้น คือ เมื่อปล่อยวัตถุจากที่สูง วัตถุจะเคลื่อนที่ตกลงสู่ผิวโลก ความเร็วของวัตถุจะเพิ่มขึ้นเรื่อย ๆ ด้วยอัตราคงที่ นั่นคือ มีความเร่งคงที่ที่เกิดจากแรงโน้มถ่วงที่กระทำต่อวัตถุ เนื่องจากโลกมีลักษณะคล้ายผลส้ม และผิวโลกไม่สม่ำเสมอจึงทำให้ค่าสนามโน้มถ่วงจะมีค่าเปลี่ยนแปลงเล็กน้อย ณ สนามที่ต่างกัน ค่าเฉลี่ยของสนามโน้มถ่วง  $g$  มีค่าประมาณ  $9.8$  นิวตัน/กิโลกรัม (N/Kg)

สนามโน้มถ่วงจะมีค่าลดลงเรื่อย ๆ เมื่อระดับสูงขึ้นไปจากผิวโลกแต่การเคลื่อนที่ขึ้นหรือลงของวัตถุที่บริเวณใกล้ผิวโลก คำนึงถึงแรงโน้มถ่วงเพียงอย่างเดียว ไม่คิดแรงอื่น วัตถุจะเคลื่อนที่ด้วยความเร่งโน้มถ่วงที่มีคุณค่าคงค่าเท่ากับ  $9.8$  เมตร/วินาที<sup>2</sup> (m/s<sup>2</sup>) ค่าความโน้มถ่วงในทศลงพิจารณาได้ 2 ลักษณะ

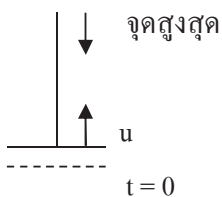
1. เมื่อวัตถุตกลงมาอย่างเสรี (free ball) ด้วยความเร่งโน้มถ่วง  $9.8$  เมตร/วินาที<sup>2</sup> หมายความว่า ความเร็วของวัตถุจะเพิ่มขึ้นวินาทีละ  $9.8$  เมตร/วินาที<sup>2</sup>

กำหนดให้  $u$  = ความเร็วต้น หน่วยเมตร/วินาที

$v$  = ความเร็วปลาย หน่วยเมตร/วินาที

$t$  = เวลาที่ใช้ในการเคลื่อนที่ หน่วยวินาที

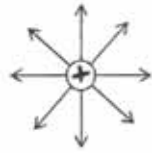
$v = 0$



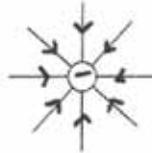
$$\text{สูตร } v = u + gt$$

## เส้นสนามไฟฟ้าในกรณีต่างๆ

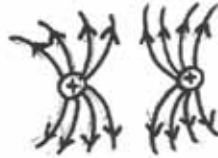
1. ประจุบวก



2. ประจุลบ



3. ประจุบวก 2 ประจุปริมาณเท่าๆกัน



4. ประจุบวก ประจุลบ ปริมาณเท่าๆกัน



5. ฝัอวาระประจุบวกในวัคตุคั่วนำ



### แรงระหว่างประจุไฟฟ้า

คูลอมบ์ สรุปไว้ว่า “แรงระหว่างประจุสองชนิดมีค่าแปรผันตรงกับผลคูณ ระหว่างประจุทั้งสองและแปรผกผันกับกำลังสองของระยะห่างระหว่างประจุทั้งสอง” และเขียนสูตรได้ดังนี้ว่า

$$F = \frac{K \cdot Q_1 \cdot Q_2}{r^2}$$

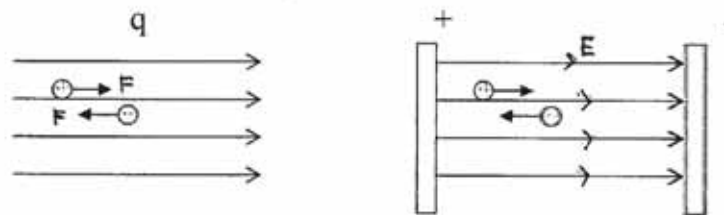
|       |                               |   |   |
|-------|-------------------------------|---|---|
| เมื่อ | F                             | = | แรงระหว่างประจุหน่วย นิวตัน (N)   |
|       | Q <sub>1</sub> Q <sub>2</sub> | = | ขนาดประจุสองชนิด หน่วย คูลอมบ์ (C)  |
|       | r                             | = | ระยะห่างระหว่างประจุทั้งสอง หน่วยเป็น เมตร (m)  |
|       | K                             | = | ค่าคงที่ = $9 \times 10^9 \frac{\text{นิวตัน(เมตร)}^2}{(\text{คูลอมบ์})^2} \left( \frac{\text{Nm}^2}{\text{C}^2} \right)$ |

### ข้อสรุป

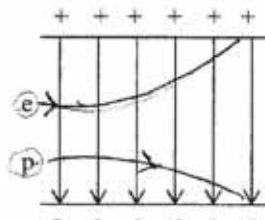
1. ประจุเดียวกันจะเกิดแรงผลักกัน
2. ประจุต่างชนิดกันจะเกิดแรงดูดกัน
3. แรงทั้งสองเป็นแรงต่างร่วมมือ มีขนาดเท่ากันแต่กระทำคนละประจุ

### แรงกระทำต่อประจุในสนามไฟฟ้าสม่ำเสมอ

1. ทิศของแรงเนื่องจากประจุบวกในสนามไฟฟ้าจะมีทิศไปทางเดียวกับสนามไฟฟ้า
2. ทิศของแรงเนื่องจากประจุลบในสนามไฟฟ้าจะมีทิศตรงข้ามกับสนามไฟฟ้า

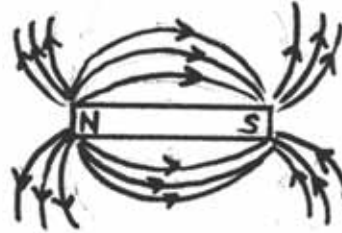


3. ในการทำให้ไอเล็กตรอนหรือโปรตอนเคลื่อนที่ในแนวตั้งฉากกับสนามไฟฟ้าที่สม่ำเสมอ แนวทางการเคลื่อนที่ของอนุภาคทั้งสองจะเบนไปจากแนวเดิม ในทิศทางตรงข้ามกัน ดังรูป



ผลจากการเรียนรู้การเบนของค้ำอเล็กตรอนในสนามไฟฟ้าและหลอดรังสีคาโทด นำไปสร้างจอเรครืออส จัลโลสโคป และจอภาพของเครื่องอัลตราซาวด์

**สนามแม่เหล็ก** เป็นบริเวณ โคครอบแท่งแม่เหล็กซึ่งแม่เหล็กสามารถจะเกิดแรงดึงดูดกับวัตถุที่ทำด้วยเหล็ก นิกเกิล และโคบอลต์ สนามแม่เหล็กมีลักษณะประกอบด้วยเส้นแม่กระจายเต็มสนามแม่เหล็ก เรียกเส้นต่างๆ เหล่านี้ว่า เส้นสนามแม่เหล็ก



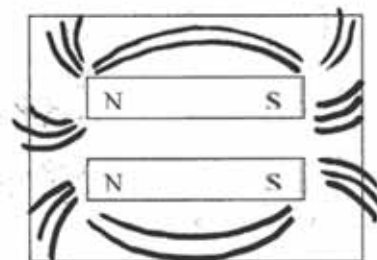

ทิศทางของเส้นสัมผัสเส้นสนามแม่เหล็ก ณ จุดใดก็คือ ทิศทางของสนามแม่เหล็ก ณ จุดนั้น โดยกำหนดว่าเส้นสนามแม่เหล็ก มีลักษณะเป็นเส้นโค้งออกจากขั้วเหนือของแท่งแม่เหล็กเข้าสู่ขั้วใต้ของแท่ง

#### การแสดงผลสนามแม่เหล็ก

แรงที่แม่เหล็กส่งออกไปรอบๆ แท่งแม่เหล็กเป็นเส้นโค้งจากขั้วหนึ่งไปสู่ขั้วหนึ่ง เราเรียกเส้นเหล่านี้ว่าเส้นสนามแม่เหล็ก ซึ่งสามารถให้เห็นด้วยการใช้ผงตะไบเหล็ก หรือ ใช้เข็มทิศ

- โดยใช้ผงตะไบเหล็กทำได้โดยการวางแท่งแม่เหล็กลงบนโต๊ะ วางแผ่นกระดาษแข็งทับแท่งแม่เหล็ก โรยผงตะไบเหล็กบนแผ่นกระดาษ เคาะแผ่นกระดาษเบาๆ จะเห็นว่าผลตะไบเหล็กบนกระดาษเรียงตัวเป็นเส้นโค้ง

แนวโค้งแต่ละแนวเรียกว่าเส้นแม่เหล็ก



รูปภาพแสดงสนามแม่เหล็ก

### ข้อสรุป

1. แนวเส้นสนามแม่เหล็กเป็นแนวโค้งจากขั้วหนึ่งไปสู่ขั้วอีกขั้วหนึ่ง
2. แนวเส้นสนามแม่เหล็กมีปริมาณหนาแน่นที่บริเวณขั้วแม่เหล็กที่ปลายแท่ง
3. เส้นสนามแม่เหล็กของขั้วต่างชนิดกันจะเสริมกัน
4. เส้นสนามแม่เหล็กของขั้วชนิดเดียวกันจะเบนออกไปคนละทาง

โดยใช้เข็มทิศ ทำได้โดยการวางแท่งแม่เหล็กลงบนแผ่นกระดาษ ใช้ดินสอดำขีดบนกระดาษรอบแท่งแม่เหล็ก เพื่อแสดงตำแหน่งของแท่งแล้วลงอักษร **N** และ **S** เพื่อแสดงให้เห็นขั้วของแม่เหล็ก วางเข็มทิศเล็กๆ ลงใกล้ขั้ว **N** ของแท่งแม่เหล็ก ใช้ดินสอดำลงจุดบนกระดาษ แสดงตำแหน่งของปลายขั้วเหนือของเข็มทิศ ถัดเข็มทิศออกไปให้ปลายขั้วเหนือของเข็มทิศที่ชี้ตรงจุดที่ได้ทำไว้แล้ว แสดงตำแหน่งของปลายขั้วเหนือของเข็มทิศที่ กระทำต่อไปเรื่อยๆ จะได้จุดเรียงต่อกันเป็นเส้นโค้งจากปลายขั้วเหนือไปยังอีกปลายขั้วหนึ่ง จะได้เส้นสนามแม่เหล็กเส้นหนึ่ง และถ้าทำลักษณะเดียวกันหลายๆ ครั้งก็จะได้เส้นสนามแม่เหล็กที่พุ่งออกมาจากขั้วเหนือไปยังขั้วใต้

#### สมบัติของเส้นสนามแม่เหล็ก

1. เส้นสนามแม่เหล็กพุ่งออกจากขั้วเหนือแม่เหล็กเข้าสู่ขั้วใต้
2. เส้นสนามแม่เหล็กแต่ละเส้นจะไม่ตัดกัน
3. เส้นสนามแม่เหล็กจากแม่เหล็กต่างชนิดกันจะเสริมเป็นแนวเดียวกัน ส่วนเส้นสนามแม่เหล็กชนิดขั้วเดียวกันจะไม่เสริมกันเป็นแนวเดียวกันแต่จะเบนออกไปคนละทาง
4. เส้นสนามแม่เหล็กสามารถพุ่งผ่านแท่งวัตถุที่ไม่ใช่สารแม่เหล็กได้โดยปกติ แต่ถ้าแท่งวัตถุนั้นเป็นแม่เหล็กจะเกิดแรงกระทำต่อตัวแท่งวัตถุนั้น



#### การเคลื่อนที่ของประจุไฟฟ้าในสนามแม่เหล็ก

1. เมื่อประจุไฟฟ้าเคลื่อนที่ในสนามแม่เหล็ก จะเกิดแรงกระทำต่อประจุไฟฟ้าทำให้เกิดการเบี่ยงเบนขึ้นแรงนี้ต่างจากเนื่องจากสนามไฟฟ้าเพราะจะกระทำต่อประจุที่มีการเคลื่อนที่เท่านั้น ประจุไฟฟ้าจะเคลื่อนที่เป็นส่วนของวงกลม แสดงให้เห็นว่า ทิศของแรงมีทิศตั้งฉาก กับความเร็วและประจุไฟฟ้า
2. เมื่อสนามแม่เหล็กเปลี่ยนทิศ ทิศการเบนของอิเล็กตรอน จะเปลี่ยนไปด้วย เนื่องจากแรงแม่เหล็กเปลี่ยนทิศ

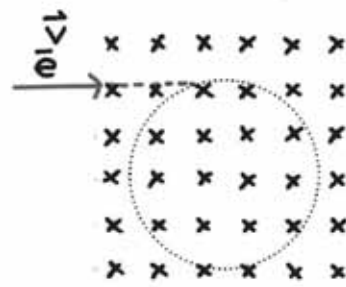
กำหนดให้ **X** แทนสนามแม่เหล็กมีทิศพุ่งเข้าตั้งฉากกับกระดาษ

- แทนสนามแม่เหล็กมีทิศพุ่งออกตั้งฉากกับกระดาษ
- e** แทนอิเล็กตรอนที่มีประจุลบ
- p** แทนโปรตอนซึ่งมีประจุบวก

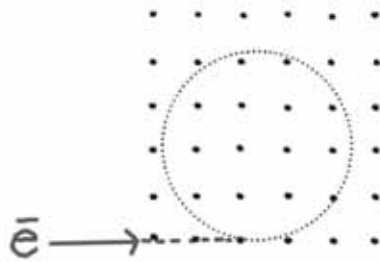
1. บริเวณสนามแม่เหล็กไม่มากมีการเคลื่อนที่ดังนี้



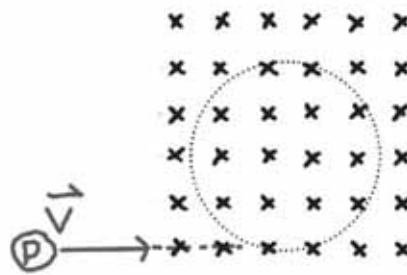
2. บริเวณสนามแม่เหล็กมาก มีการเคลื่อนที่ดังนี้



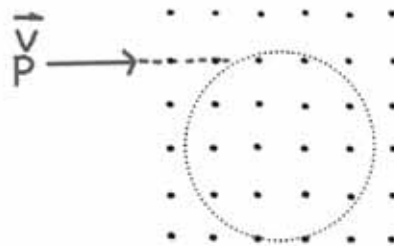
เคลื่อนที่เป็นวงกลมตามเข็มนาฬิกา



เคลื่อนที่เป็นวงกลมทวนเข็มนาฬิกา



เคลื่อนที่เป็นวงกลมทวนเข็มนาฬิกา



เคลื่อนที่เป็นวงกลมตามเข็มนาฬิกา

### ประโยชน์ของสนามแม่เหล็ก

ความรู้ที่ได้จากเรื่องการเบนของลำอิเล็กตรอนในสนามแม่เหล็ก นำมาใช้ประโยชน์ในหลอดภาพโทรทัศน์ ซึ่งมีส่วนประกอบสำคัญ 3 ส่วนดังนี้

1. ปืนอิเล็กตรอน เป็นขั้วแคโทด ทำหน้าที่ผลิตลำอิเล็กตรอน
2. ขดลวดเบี่ยงเบน ทำหน้าที่ผลิตสนามแม่เหล็กเพื่อเบี่ยงเบนลำอิเล็กตรอนให้เคลื่อนที่ที่กวาดไปบนจอภาพในแนวระดับความเร็วที่สูงมาก
3. จอเรืองแสง ฉาบด้วยสารเรืองแสงเพื่อให้อิเล็กตรอน ตกกระทบจอทำให้เกิดจุดสว่างและเกิดภาพขึ้น การดูโทรทัศน์ใกล้จอมากเกินไปเป็นอันตรายต่อประสาทตา เพราะเมื่ออิเล็กตรอนตกกระทบจอภาพจะมีรังสีเกิดขึ้น



รูปหลอดภาพของโทรทัศน์ขาว-ดำ

### ผลของสนามเหล็กต่อการเคลื่อนที่ของตัวนำที่มีกระแสไฟฟ้าไหลผ่าน

เมื่อมีกระแสไฟฟ้าไหลผ่านลงตัวนำที่มีกระแสไฟฟ้าไหลผ่าน ไปวางไว้ในสนามแม่เหล็กจะมีการเปลี่ยนแปลงเกิดขึ้น คือ ฉากผ่านตัวนำซึ่งวางติดกับสนามแม่เหล็ก จะมีแรงแม่เหล็กกระทำต่อขดลวดตัวนำ มีผลทำให้ขดลวดตัวนำเคลื่อนที่ โดยทิศทางของแรงแม่เหล็กขึ้นอยู่กับทิศทางการไหลของกระแสไฟฟ้า และสนามแม่เหล็ก ซึ่งหลักการนี้นำไปใช้ในการทำมอเตอร์ไฟฟ้า และเครื่องวัดไฟฟ้าต่างๆ เช่น การนำไปสร้างมอเตอร์ไฟฟ้า ซึ่งจะเปลี่ยนจากพลังงานไฟฟ้าเป็นพลังงานกล เช่น พัดลม ไลร์เป่าลม เป็นต้น





### การเคลื่อนที่ในแนวเส้นตรงและการกระจัดความเร็วและความเร่ง

การเคลื่อนที่แนวตรงของวัตถุ หมายถึง การเคลื่อนที่โดยไม่มีการเปลี่ยนทิศทาง เช่นการเคลื่อนที่ของผลไม้ที่หล่นจากต้น การเคลื่อนที่ของรถไฟบนราง หรือการวิ่งแข่งในลู่วิ่งของนักวิ่งเป็นต้น ปริมาณต่าง ๆ ที่เกี่ยวข้องเป็นการเคลื่อนที่ในแนวตรงมีหลายอย่างดังนี้

การเคลื่อนที่ คือ การเคลื่อนตำแหน่งของวัตถุจากตำแหน่งหนึ่งไปยังอีกตำแหน่งหนึ่ง

ระยะทาง (Distance) คือความยาวของเส้นทางทั้งหมดที่เคลื่อนที่จากจุดเริ่มต้น ไปจนถึงจุดสุดท้าย

การกระจัดหรือการขจัด (Displacement) คือระยะทางที่สิ้นสุดจากจุดเริ่มต้น ไปยังจุดสุดท้าย  
จุดสุดท้ายที่ความยาวเท่ากับ ความยาวของเส้นตรงจากจุดเริ่มต้น ไปยังจุดสุดท้าย

ความเร็ว (velocity) คือการขจัดที่วัตถุเคลื่อนที่ได้ในหนึ่งหน่วยเวลาเขียนแทนด้วย

$$\vec{v} = \frac{\vec{s}}{t}$$

ความเร็วเฉลี่ย (Average velocity) หมายถึง การเปลี่ยนแปลงการขจัดในช่วงเวลาที่วัด เขียนแทนด้วย

$$\vec{v}_{av} = \frac{\Delta \vec{s}}{\Delta t} = \frac{x_2 - x_1}{t_2 - t_1}$$

ตัวอย่าง รถยนต์คันหนึ่งวิ่งด้วยความเร็ว 20 เมตร/วินาที ไปทางทิศเหนือ นานเท่าไรจึงจะเคลื่อนที่ได้ระยะทาง 500 เมตร

| วิธีทำ                        | สูตร                 | $\vec{v} = \frac{\vec{s}}{t}$ |
|-------------------------------|----------------------|-------------------------------|
| ในที่นี้ $v = 20 \text{ m/s}$ | $s = 500 \text{ m}$  | $t = ?$                       |
| แทนค่า                        | $20 = \frac{500}{t}$ |                               |
|                               | $t = \frac{500}{20}$ |                               |
|                               | $= 25$               |                               |

รถยนต์ใช้เวลา 25 วินาที

ตัวอย่าง นกตัวหนึ่งบินด้วยความเร็ว 45 m/s ไปทางทิศตะวันตกเป็นเวลา 5 วินาที จะบินได้ระยะทางเท่าใด

วิธีทำ  $\bar{v} = \frac{\bar{s}}{t}$

ในที่นี้  $\bar{v} = 45 \text{ m/s}$      $t = 15 \text{ s}$      $\bar{s} = ?$

แทนค่า  $45 = \frac{\bar{s}}{5}$

$$\bar{s} = 45 \times 5$$

$$= 225$$

นกจะบินได้ระยะทาง 225 เมตร

อัตราเร็ว (speed) คือระยะทางที่วัตถุเคลื่อนที่ไปใน 1 หน่วยเวลา เขียนแทนด้วย

$$V = \frac{s}{t}$$

อัตราเร็วเฉลี่ย (average speed) คือการเปลี่ยนแปลงระยะทางในช่วงเวลาที่วัดเขียนแทนด้วย  $V_{av}$

$$V_{av} = \frac{\Delta s}{\Delta t} = \frac{x_2 - x_1}{t_2 - t_1}$$

ตัวอย่าง นักกีฬาว่ายน้ำด้วยอัตราเร็วเฉลี่ย  $0.5 \text{ m/s}$  เป็นเวลา  $5$  นาที นักกีฬาว่ายน้ำ จะว่ายน้ำได้ เป็นระยะทางเท่าใด

วิธีทำ 
$$V = \frac{s}{t}$$

ในที่นี้  $v = 0.5 \text{ m/s}$   $t = 5 \text{ นาที} = 5 \times 60 = 300 \text{ s}$

แทนค่า 
$$0.5 = \frac{s}{300}$$

$$S = 0.5 \times 300$$

$$= 150 \text{ m}$$

นักกีฬาว่ายน้ำได้  $150$  เมตร คอบ

**ความเร่ง (Acceleration)** คือการเปลี่ยนแปลงความเร็วของวัตถุในหนึ่งหน่วยเวลาเขียนแทนด้วย  $\vec{a}$  มี 3 แบบ

1. การเปลี่ยนขนาดของความเร็วของวัตถุ
2. การเปลี่ยนทิศทางของความเร็วของวัตถุ
3. มีการเปลี่ยนทิศทางและขนาดของความเร็ว

**ความเร่งเฉลี่ย (average acceleration)** คืออัตราส่วนระหว่างความเร็วที่เปลี่ยนไปกับช่วงเวลาที่เกิดการเปลี่ยนแปลงความเร็วนั้นๆ เขียนแทนค่าด้วย  $\vec{A}_{av}$

$$\vec{a}_{av} = \frac{\Delta \vec{v}}{\Delta t} = \frac{v_2 - v_1}{t_2 - t_1}$$

ตัวอย่าง จงหาความเร่งเฉลี่ยของเครื่องบินที่เริ่มต้นจากจุดหยุดนิ่งเวลา 0 และออกรันเวย์เมื่อผ่านไป 28 วินาที เครื่องบินมีความเร็วเป็น 246 กิโลเมตร/ชั่วโมง

วิธีทำ 
$$\bar{a}_{av} = \frac{\Delta v}{\Delta t}$$

ในที่นี้ 
$$\Delta v = 246 - 0 = 246 \text{ Km/h} = \frac{246 \times 1000}{60 \times 60} = 70 \text{ m/s}$$

$$\Delta t = t_2 - t_1 = 28 - 0 = 28 \text{ วินาที}$$

แทนค่า 
$$\bar{a}_{av} = \frac{70}{28}$$

$$= 2.5 \text{ m/s}^2$$

ตอบ ความเร่งเฉลี่ยของเครื่องบิน 2.5 เมตร/วินาที<sup>2</sup>

ตัวอย่าง รถยนต์คันหนึ่งวิ่งด้วยความเร็ว 90 กิโลเมตร/ชั่วโมง จากจุดหยุดนิ่งโดยใช้เวลา 45 วินาที จงหาความเร่งเฉลี่ยของรถยนต์คันนี้

วิธีทำ 
$$\bar{a}_{av} = \frac{\Delta v}{\Delta t}$$

ในที่นี้ 
$$\Delta v = v_2 - v_1 = 90 - 0 = 90 \text{ Km/h} = \frac{90 \times 1000}{60 \times 60} = 25 \text{ m/s}$$

แทนค่า 
$$\bar{a}_{av} = \frac{90}{25}$$

$$= \frac{18}{5}$$

$$= 3.6 \text{ m/s}^2$$

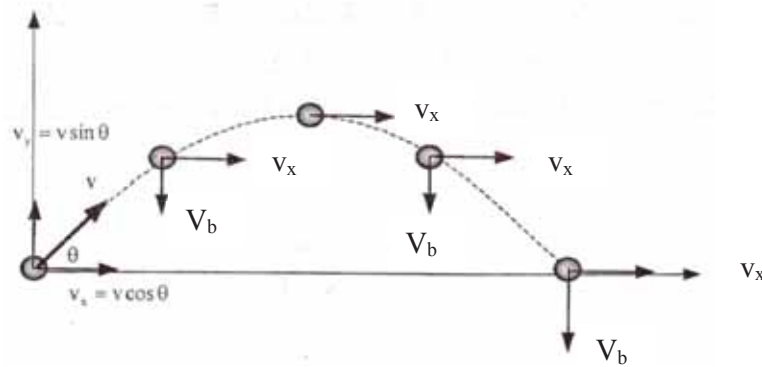
ตอบ รถยนต์มีความเร่งเฉลี่ย 3.6 เมตร/วินาที<sup>2</sup>

การเคลื่อนที่ในแนวตั้ง เป็นการเคลื่อนที่ภายใต้แรงดึงดูดของโลก ซึ่งวัตถุจะตกลงมาด้วยความเร็วสม่ำเสมอ หรือมีความเร่งคงตัวและเรียกความเร่งในการตกของวัตถุว่าความเร่งโน้มถ่วง ((gravitational acceleration)  $g$ ) ซึ่งค่า 9.8 เมตร/วินาที<sup>2</sup> และมีทิศทางตั้งสู่พื้นเสมอ เป็นค่ามาตรฐานโลก ค่าที่ใช้ในการคำนวณอาจจะใช้ค่า  $g = 10 \text{ m/s}^2$

## การเคลื่อนที่แบบต่าง ๆ

### การเคลื่อนที่แบบโพรเจกไทล์ หรือการเคลื่อนที่เป็นเส้นโค้ง

การเคลื่อนที่แบบโพรเจกไทล์ เป็นการเคลื่อนที่ 2 มิติ คือ มีการเคลื่อนที่ในแนวระดับและแนวตั้งพร้อมกันและเป็นอิสระต่อกัน รูปร่างการเคลื่อนที่เป็นรูปพาราโบลา อัตราเร็วในแนวราบมักจะคงที่ เพราะไม่มีแรงกระทำในแนวราบ อัตราเร็วในแนวตั้งเปลี่ยนไปตามความเร่ง เนื่องจากแรงโน้มถ่วงโลก ตัวอย่างการเคลื่อนที่แบบโพรเจกไทล์ที่เห็นในชีวิตประจำวันเช่น การโยนรับถังปูนของช่างก่อสร้าง การโยนผลแดงโมของคนขาย การเล่นบาสเกตบอล เทนนิส ทูม่น้ำหนัก ขว้างวัตถุ เป็นต้น



จากรูป สรุปได้ว่าวัตถุเคลื่อนที่ด้วยความเร็วต้น  $v$  ทำมุม  $\theta$  กับแนวราบ เราสามารถแตกความเร็ว  $v$  ออกไปในแนวตั้งและแนวระดับได้ดังนี้

$$\text{ความเร็วในแนวตั้ง} \quad v_y = v \sin \theta$$

$$\text{ความเร็วในแนวระดับ} \quad v_x = v \cos \theta$$

ในการคิดความเร็วในแนวตั้งของวิถีโค้ง คิดเหมือนกับการเคลื่อนที่ในแนวตั้งธรรมดา ดังนั้นถ้าเวลาเริ่มต้น  $t = 0$   $v_y = u \sin \theta$

$$\text{ถ้า } t \text{ ใดๆ } v_y = u \sin \theta \pm gt$$

สำหรับความเร็วในแนวระดับจะคงตัวตลอดเพราะไม่มีความเร่ง

$$S_x = v_x t$$

ตัวอย่าง วางลำกล้องปืนกับพื้น 4 เมตร ปากกระบอกปืนห่างจากเป้า 4 เมตร เมื่อทำการยิง ลูกปืนเคลื่อนที่ออกจากปากกระบอกปืนกระทบเป้า เป้าอยู่สูงจากพื้นเท่าใด

วิธีทำ หาเวลาในแนวระดับ

$$S_x = v_x t$$

$$4 = 4 \times t$$

$$t = 1 \text{ วินาที}$$

เวลาที่ใช้ในการเคลื่อนที่เท่ากับเวลาที่วัตถุตกลงมาในแนวตั้งคือ 1 วินาที ซึ่งลูกปืนจะเคลื่อนที่ได้ 4-h เมตร (h คือระดับที่ลูกปืนอยู่ห่างจากพื้น)

$$\text{จาก } s_y = \frac{1}{2} g t^2$$

$$6 - h = \frac{1}{2} \times 9.8 \times (1)^2$$

$$6 - h = \frac{1}{2} \times 9.8 \times (1)$$

$$6 - 4.9 = h$$

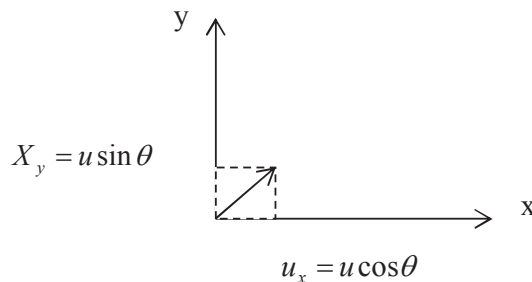
$$h = 1.1 \text{ เมตร}$$

ตอบ ขณะที่ลูกปืนกระทบเป้าที่อยู่สูงจากพื้นดิน 1.1 เมตร

ระยะทางในแนวระดับของโปรเจกไทล์

การเคลื่อนที่ในแนวระดับหรือแนวราบ

$$S_x = u_x t = u \cos \theta t$$



การเคลื่อนที่ในแนวตั้ง

กำหนดให้ปริมาณที่มีทิศขึ้นมีเครื่องหมายเป็นบวก (+)

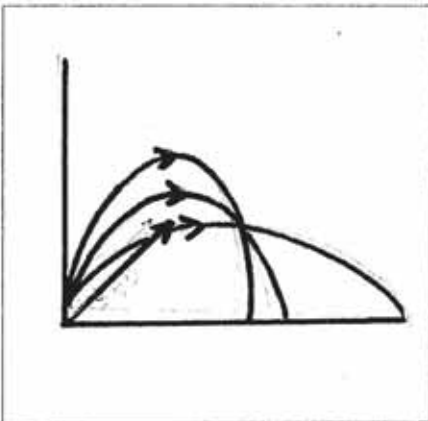
ปริมาณที่มีทิศทางลงมีเครื่องหมายเป็นลบ (-)

การเคลื่อนที่ในแนวตั้งหาได้จาก

$$s_y = u \sin \theta \pm \frac{1}{2} g t^2$$

ระยะที่ขึ้นไปได้สูงสุด เมื่อความเร็วในแนวตั้งเท่ากับ 0 จะได้ว่า

$$U \sin \theta = g t$$

การหาระยะทางที่ไกลที่สุดจากรูปเมื่อวัตถุขึ้นไปถึงจุดสูงสุด จะมีความเร็วในแนวตั้งเป็น 0  
จะได้  $s \sin \theta = g t_1$ ;  $t_1 = \frac{u \sin \theta}{g}$ แต่  $t_1$  เป็นเพียงเวลาที่วัตถุใช้ในการขึ้นถึงจุดสูงสุดเท่านั้น ซึ่งจะเป็นเวลาเพียงครึ่งหนึ่งของเวลาที่ใช้ทั้งหมด

$$t = \frac{2 u \sin \theta}{g} \quad \text{_____ 1}$$

นั่นคือเวลาทั้งหมดในการเคลื่อนที่  $t = \frac{2 u \sin \theta}{g}$ 

$$\text{จาก } s = u (\cos \theta) t$$

$$t = \frac{s}{u (\cos \theta)} \quad \text{_____ 2}$$

จาก 1 และ 2 จะได้ว่า

$$\frac{2 u \sin \theta}{g} = \frac{s}{u (\cos \theta)}$$

$$s = \frac{2 u^2 \sin \theta \cos \theta}{g}$$

$$\text{หรือ } s = \frac{u^2 \sin 2 \theta}{g}$$

ดังนั้น ค่า  $s$  จะมากที่สุดก็ต่อเมื่อ  $\sin 2\theta$  มากที่สุด และ  $\sin 2\theta$  จะมีค่ามากที่สุดคือ  $= 1$

$$\text{ระยะทางไกลที่สุด} = \frac{u^2}{g}$$

และมุมที่ยิงแล้วได้ระยะทางไกลที่สุดคือ

$$\sin 2\theta = 1 \sin 90^\circ$$

$$2\theta = 90^\circ$$

$$\theta = 45^\circ$$

มุมที่ยิงได้ระยะทางไกลที่สุด  $q = 45^\circ$

ตัวอย่าง เด็กคนหนึ่งขว้างก้อนหินได้ไกลที่สุด 40 เมตร จงหาว่าก้อนหินโค้งสูงขึ้นเท่าไร ( $g = 10 \text{ m/s}^2$ )

วิธีทำ เราทราบว่าถ้าเด็กคนนี้อีกขว้างให้ไกลที่สุดต้องปาด้วยมุม  $45^\circ$

$$\text{ระยะทางไกลที่สุด} = \frac{u^2}{g}$$

$$40 = \frac{u^2}{10}$$

$$u^2 = 400$$

$$u = 20 \text{ เมตร/วินาที}$$

$$\text{จาก } s_y = u(\cos \theta)t$$

$$40 = 20 \cos 45^\circ \times t$$

$$40 = \frac{20 \times 1 \times t}{\sqrt{2}}$$

$$t = \frac{40}{20} \times \sqrt{2}$$

$$= 2\sqrt{2} \text{ วินาที}$$

ตอบ แต่เวลา  $t$  นี้เป็นเวลาที่ใช้โปรเจกไทล์โค้งขึ้นไปแล้วกระทบดิน

$$\text{เวลาที่โปรเจกไทล์โค้งสูงสุด} = t = 2\sqrt{2}$$

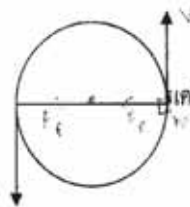


$$\begin{aligned}
 \text{จาก } h &= (u \sin \theta) t - \frac{1}{2} g t^2 \\
 &= 20 \times 1 \times 2\sqrt{2} - \frac{1}{2} \times 10 \times (\sqrt{2})^2 \\
 &= 40 - 10 \\
 &= 30 \text{ เมตร}
 \end{aligned}$$

ก้อนหินโค้งได้สูงสุด 30 เมตร

การเคลื่อนที่เป็นวงกลม

การเคลื่อนที่แบบวงกลมจะมีความเร็วเข้าสู่ศูนย์กลาง คือการเคลื่อนที่ ที่มีแรงกระทำต่อวัตถุแบบตั้งฉากกับความเร็วดตลอดเวลาโดยมีทิศของแรงพุ่งเข้าสู่ศูนย์กลาง



สมมุติว่าวัตถุ  $m$  เคลื่อนที่เป็นวงกลม จะมีแรงกระทำต่อวัตถุ ซึ่งมีทิศเข้าหาเคลื่อนที่นั้นเสมอ เรียกว่า แรงสู่ศูนย์กลาง

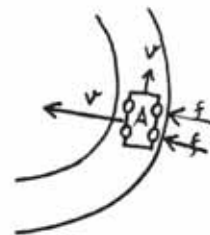
ในการเคลื่อนที่แบบวงกลม จะต้องมีแรงพอเหมาะกับความเร็วจึงจะทำให้วัตถุเคลื่อนที่ในแนวโค้งของวงกลม ด้วยรัศมีค่าหนึ่ง และมีความเร่งค่าหนึ่ง

$$\begin{aligned}
 \text{ความเร่งเข้าสู่ศูนย์กลาง} \quad a_c &= \frac{v^2}{r} \\
 \text{แรงเข้าสู่ศูนย์กลาง} \quad F_c &= m a_c = \frac{m v^2}{r}
 \end{aligned}$$

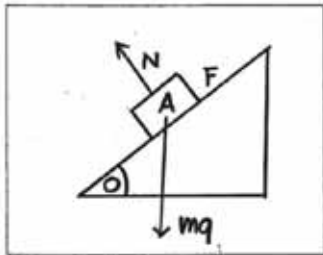
เมื่อ  $r$  คือรัศมีวงกลม

การเคลื่อนที่ของรถยนต์ควมถนนโค้ง

ขณะที่รถยนต์กำลังเลี้ยวทางโค้ง แรงเข้าสู่ศูนย์กลางทำให้รถเลี้ยวโค้งได้ คือแรงเสียดทานที่เกิดจากพื้นถนนกับด้านล่างของยาง อัตราเร่งของรถยนต์จะมีทิศทางพุ่งเข้าสู่ศูนย์กลาง และมีทิศตั้งฉากกับทิศของอัตราเร็วของรถยนต์ ความเร่งนี้เกิดจากแรงเสียดทานระหว่างล้อรถยนต์



การยกขอบถนนเพื่อช่วยในการเคลื่อนที่



เพื่อเป็นการช่วยให้รถที่เคลื่อนที่เข้าสู่ทางโค้ง สามารถเคลื่อนที่ได้ด้วยอัตราเร็วสูงขึ้น จึงนิยมยกขอบถนนให้สูงขึ้นเพิ่มเพิ่มแรง ในทิศเข้าสู่ศูนย์กลาง ความโค้ง

การเคลื่อนที่ของวัตถุต่างๆ จะมีลักษณะเฉพาะคือ เป็นการเคลื่อนที่มีหน่วยเป็นวินาที และ 1 ทางเคมเสมอ ช่วงเวลาที่ใช้ในการเคลื่อนที่ครบ 1 รอบ เรียกว่า คาบ (period) ซึ่ง มีหน่วยเป็นรอบ และจำนวนรอบที่วัตถุเคลื่อนที่ได้ในแนว 1 หน่วยเวลาเรียกว่า ความถี่ (frequency) ซึ่งมีหน่วยเป็นรอบต่อวินาทีหรือ เฮิรตซ์

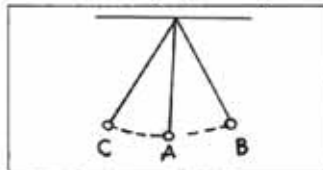
ความสัมพันธ์ระหว่าง f กับ t คือ

$$f = \frac{1}{T} \text{ หรือ } T = \frac{1}{f}$$

มีหน่วยเป็นรอบต่อวินาที หรือ เฮิรตซ์

การเคลื่อนที่แบบฮาร์มอนิกอย่างง่าย

คือการเคลื่อนที่แบบกลับไปกลับมาซ้ำรอบเดิม โดยไม่มีตาารสูญเสียพลังงาน หัวใจสำคัญคือความเร่งมีทิศตรงกันข้ามกับการขจัด ตัวอย่าง เช่น บอลคิดมีหน่วยเป็นรอบต่อวินาที กุ่ม การแกว่งชิงช้า จำนวนครั้งที่เคลื่อนที่กลับไปมาต่อวินาที i ซึ่ง มีหน่วยเป็นวินาที ต่อวินาที เวลาที่ใช้ในการเคลื่อนที่ยาวของเส้นเชือกกับความเร่งเนื่องจากแรงดึงดูดของโลกตาม สมการการแกว่งของลูกตุ้มขึ้นอยู่กับความยาวของเส้นเชือกกับความเร่งเนื่องจาก แรงดึงดูดของโลกตาม สมการ



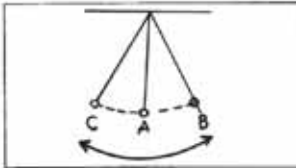
$$T = 2\pi \sqrt{\frac{L}{g}}$$

เมื่อ t = คาบของการแกว่ง

L = ความยาวของเส้นเชือก

g = ความเร่งเนื่องจากแรงดึงดูดของโลก

ตัวอย่าง ถ้าการแกว่งของนอตแบบฮาร์มอนิกอย่างง่าย จากตำแหน่ง A ไป B ใช้เวลา 0.5 วินาที ตามการแกว่งจะมีค่ากี่วินาที



พิจารณาจากรูปจะเห็นว่านอตเคลื่อนที่จาก A ไป B ซึ่งเป็นระยะทาง  $\frac{1}{4}$  ของ 1 รอบใช้เวลา 0.5 วินาที

ใน 1 รอบของการแกว่งจะใช้เวลา  $0.5 \times 4$  เท่ากับ 2 วินาที

นั่นคือคาบของการแกว่งเป็น 2 วินาที ตอบ

## แบบฝึกหัด

1. จงตอบคำถามต่อไปนี้
  - 1.1 แรงคืออะไร
  - 1.2 ความเร็วกับอัตราเร็วแตกต่างกันอย่างไร
  - 1.3 การกระจัดคืออะไร
  - 1.4 สนามโน้มถ่วงคืออะไร
  - 1.5 สนามไฟฟ้าคืออะไร
  - 1.6 ถ้าปล่อยให้ก้อนหินตกจากยอดตึกสู่พื้นดิน ความเร็วของก้อนหินเป็นอย่างไร
  - 1.7 บอกประโยชน์ของสนามโน้มถ่วง, สนามไฟฟ้า และสนามแม่เหล็กมาอย่างละ 1 ข้อ
2. ปล่อยให้ก้อนหินลงมาจากตึกฟ้าตึกแห่งหนึ่ง ก้อนหินตกถึงพื้นดินใช้เวลา 15 วินาที ตึกแห่งนี้สูงเท่าใด ( $g = 10 \text{ m/s}^2$ )

## บทที่ 13

### เทคโนโลยีอวกาศ

#### สาระสำคัญ

ห้วงอวกาศเป็นสิ่งที่ไกลเกินตัว แต่มีความจำเป็นต่อการดำรงชีวิตของมวลมนุษย์ จึงจำเป็นต้องศึกษา ห้วงอวกาศโดยนำเทคโนโลยีอวกาศ มาใช้ให้เกิดประโยชน์

#### ผลการเรียนรู้ที่คาดหวัง

1. บอกความหมาย ความสำคัญ และความเป็นมาของเทคโนโลยีอวกาศได้
2. อธิบายและระบุประเภทของเทคโนโลยีอวกาศได้
3. อธิบายการนำเทคโนโลยีอวกาศมาใช้ประโยชน์ได้
4. บอกโครงการสำรวจอวกาศที่สำคัญในปัจจุบันได้
- 5.

#### ข้อบ่งชี้เนื้อหา

- เรื่องที่ 1 ความหมาย ความสำคัญ และความเป็นมาของเทคโนโลยีอวกาศ
- เรื่องที่ 2 ประเภทของเทคโนโลยีอวกาศ
- เรื่องที่ 3 ประโยชน์ของการใช้เทคโนโลยีอวกาศ
- เรื่องที่ 4 โครงการสำรวจอวกาศที่สำคัญในปัจจุบัน

## เรื่องที่ 1 ความหมาย ความสำคัญ และความเป็นมา ของเทคโนโลยีอวกาศ

### ➤ ความหมายเทคโนโลยีอวกาศ

เทคโนโลยีอวกาศ หมายถึง การนำความรู้ที่ได้จากการสำรวจสิ่งต่าง ๆ ที่อยู่นอกโลกของเราและสำรวจโลกของเรามาใช้ประโยชน์กับมนุษย์ โดยอาศัยความรู้ด้านวิทยาศาสตร์อวกาศ ซึ่งเกี่ยวกับทางด้านดาราศาสตร์ และวิศวกรรมควบคู่กัน หรือจะให้ความหมายอีกด้านหนึ่งได้ว่า เทคโนโลยีอวกาศ หมายถึง การนำเทคโนโลยีที่สร้างขึ้น เพื่อใช้สำรวจอวกาศโดยมีวัตถุประสงค์ของการใช้งานในแต่ละครั้งแตกต่างกันไปตามความต้องการของมนุษย์ เช่น โครงการอะพอลโล มีจุดประสงค์เพื่อสำรวจดวงจันทร์ โครงการสกายแล็บ จุดประสงค์ เพื่อค้นคว้าทดลองการอยู่ในอวกาศให้นานที่สุดศึกษาเกี่ยวกับทรัพยากรธรรมชาติ การแพทย์ ฟิสิกส์ โครงการอะพอลโล-โซยุส มีจุดประสงค์ เพื่อทดสอบระบบนัดพบ และเชื่อมยานอวกาศ โครงการขนส่งอวกาศเพื่อใช้บรรทุกสิ่งของและมนุษย์ที่ไปอวกาศ และเพื่อลดค่าใช้จ่ายในการใช้ยานอวกาศ

### ➤ ความสำคัญเทคโนโลยีอวกาศ

มนุษย์ได้พยายามศึกษาค้นคว้าเกี่ยวกับจักรวาลและอวกาศ โดยมีโครงการสำรวจอวกาศ โครงการสำรวจอวกาศในหลายประเทศได้ศึกษาค้นคว้า และมีประโยชน์ทั้งทางตรงและทางอ้อม ซึ่งความก้าวหน้าทางเทคโนโลยีอวกาศมีประโยชน์มากมายในด้านต่าง ๆ เช่น การสื่อสาร การคมนาคม อุตุนิยมวิทยา การสำรวจทรัพยากรโลก การเกษตร การแพทย์ และอื่น ๆ

### ➤ ความเป็นมาเทคโนโลยีอวกาศ

ในอดีตช่วงศตวรรษที่ 14-15 เป็นยุคของการสำรวจดินแดนใหม่ ๆ เน้นนอนการสำรวจดินแดนใหม่ ๆ ต้องเดินทางไปในเส้นทางที่ไม่เคยมีการเดินทางมาก่อน เช่น การเดินทางไปในทะเลในช่วงเวลานั้นต้องอาศัยดวงดาวในการบอกทิศทางและเวลา เพราะยังไม่มีแผนที่ นอกจากนั้นทะเลก็เป็นสภาวะที่โหดร้ายสำหรับมนุษย์เคยอ่อนแอมากเมื่อต้องอยู่ในทะเลเป็นเวลานาน ในทะเลไม่มีแหล่งน้ำจืด ในทะเลมีพายุที่รุนแรง ไม่มีแหล่งเสบียง ในการเดินทางจำเป็นต้องนำไปจากแผ่นดิน จะเห็นได้ว่า การสำรวจต้องประกอบด้วยความยากลำบาก และในหลายๆ ครั้งต้องมีการแลกด้วยชีวิต แต่การสำรวจเป็นจิตวิญญาณของมนุษยชาติ และเราจะไม่สามารถเจริญมาถึงขั้นนี้ได้เลยถ้าไม่สามารถผ่านการท้าทายต่างๆ ที่ทำให้เราต้องพัฒนาเทคโนโลยีและความรู้ต่างๆ ขึ้น

ในปัจจุบัน ทะเล ไม่เป็นอะไรที่ท้าทายมากนัก ยกเว้นการสำรวจใต้ท้องมหาสมุทร ความตื่นเต้นและการท้าทายใหม่ ๆ ในปัจจุบันมาจากการสำรวจอวกาศ เริ่มตั้งแต่มีการสร้างกล้องโทรทรรศน์ เพื่อใช้ในการส่องดูวัตถุต่าง ๆ ในท้องฟ้า เริ่มมีโครงการสำรวจอวกาศ เมื่อโซเวียตส่งยานสปุตนิก 1 ขึ้นไปโคจรรอบโลกแล้วต่อมาสหรัฐอเมริกาได้ส่งดาวเทียมขึ้นทำให้เกิดการแข่งขันกันทางด้านอวกาศ โดยมีองค์การนาซาเป็นองค์การที่มีชื่อเสียงของสหรัฐอเมริกา สำนักงานใหญ่อยู่ที่กรุงวอชิงตัน ดี.ซี. มีโครงการต่าง ๆ ที่สร้างขึ้นโดยเฉพาะสำหรับการสำรวจอวกาศ

การออกไปสำรวจอวกาศ ไม่ใช่เรื่องน่าสนุกนัก อวกาศนั้นมีธรรมชาติที่โหดร้าย ไม่เป็นมิตรต่อมนุษย์เลย ในอวกาศไม่มีสิ่งปกป้องมนุษย์จากรังสีและสะเก็ดดาวต่าง ๆ ไม่มีอากาศให้มนุษย์หายใจ รวมทั้งไม่มีความดันบรรยากาศที่คอยค้ำของเหลวต่าง ๆ ภายในร่างกาย รวมทั้ง มีแรงโน้มถ่วงน้อยหรือไม่มีเลย ซึ่ง แรงโน้มถ่วงนี้เป็นปัจจัยสำคัญในระบบ ๆ ต่าง ๆ ของร่างกาย เช่น การเติบโตของกระดูก ภายในสถานีอวกาศ ตัวมนุษย์และทุกอย่างบนยานอวกาศขณะ โคจรรอบ โลกจะไม่มีน้ำหนัก (น้ำหนักเท่ากับ 0) เรียกว่าอยู่ในสภาวะไร้น้ำหนัก ร่างกายและอวัยวะทุกส่วน ของมนุษย์วิวัฒนาการขึ้นมา ภายใต้แรงโน้มถ่วงของโลก เมื่ออยู่ใน สภาวะไร้น้ำหนัก จะมีผลต่ออวัยวะต่าง ๆ เช่น หัวใจทำงานน้อยลง เพราะไม่ต้องออกแรงสูบฉีดโลหิตมากนักกล้ามเนื้อจะลีบเล็กลง เพราะไม่ต้องออกแรงเคลื่อนไหวมาก ความหนาแน่นของกระดูกลดลงเพราะไม่ต้องออกแรงพยุง ร่างกายไม่มีน้ำหนัก นักบินอวกาศ จำเป็นต้องออกกำลังกายสม่ำเสมอเพื่อให้อวัยวะ ทุกส่วน ทำงานปกติ อย่างไรก็ตาม อวกาศ ก็เป็นดินแดนท้าทายสิ้นสุดท้ายของมนุษย์ที่จะต้องค้นคว้า ศึกษา พัฒนาและสร้างเทคโนโลยีเพื่อไปสำรวจ สิ่งมีชีวิตแรกๆ ที่เดินทางไปยังอวกาศคือสุนัขชื่อว่าไลก้า โดยขึ้นไปกับยานสปุตนิก 2 และนักบินอวกาศคนแรกของโลกคือ ยูริ กาการิน ชาวสหภาพโซเวียตขึ้นไปกับยานวอสต็อก 1 โดยนักบินอวกาศคนแรกที่โคจรรอบ โลกคือ จอห์น เกลน ชาวสหรัฐอเมริกา และนักบินอวกาศหญิงคนแรกของโลกเป็นชาวโซเวียต ชื่อ วาเลนตินา เทเรชโกว่า เดินทางไปกับยานวอสต็อก ส่วนยานอวกาศที่เดินทางไปยังดวงจันทร์เป็นของสหรัฐอเมริกาโดย นีล อาร์มสตรอง เป็นคนแรกที่ได้เดินบนดวงจันทร์ โดยเดินทางไปกับยาน อพอลโล 11 มนุษย์อวกาศหรือนักบินอวกาศ ต้องฝึกให้ชินกับการเคลื่อนที่ภายใต้ความเร่ง เนื่องจากพวกเขาต้องเคลื่อนที่ที่อยู่ภายใต้ความเร่งของยานที่ต้องหนีแรงดึงดูดของโลกที่คอยดึงพวกเขาให้ตกลงมา

## เรื่องที่ 2 ประเภทของเทคโนโลยีอวกาศ

ปัจจุบันเทคโนโลยีอวกาศได้มีการพัฒนาไปเป็นอย่างมากเมื่อเทียบกับสมัยก่อน ทำให้ได้ความรู้ใหม่ๆ มากขึ้น โดยองค์การที่มีส่วนมากในการพัฒนาทางด้านนี้ คือองค์การนาซ่าของสหรัฐอเมริกาได้มีการจัดทำโครงการขึ้นมากมายทั้ง เพื่อการสำรวจดาวที่ต้องการศึกษาโดยเฉพาะและทำขึ้นเพื่อการสังเกตการณ์ทางดาราศาสตร์ การใช้ประโยชน์จากเทคโนโลยีอวกาศนั้นมีทั้งด้านการสื่อสารซึ่งทำให้การสื่อสารในปัจจุบันพัฒนาไปอย่างรวดเร็ว การสำรวจทรัพยากรโลกทำให้ทราบว่าปัจจุบันนี้โลกมีการเปลี่ยนแปลงอย่างไรบ้าง และการพยากรณ์อากาศเพื่อเตรียมพร้อมที่จะรับกับสถานการณ์ต่างๆ ที่อาจจะเกิดขึ้นต่อไปได้ ซึ่งเราสามารถจำแนกเทคโนโลยีอวกาศได้ดังต่อไปนี้

### 2.1 ดาวเทียม

ปัจจุบันดาวเทียมถูกมนุษย์ส่งไปโคจรรอบ โลกจำนวนนับไม่ถ้วนด้วยประโยชน์ต่างๆ มากมาย ดังนี้

### 2.1.1.1.1 ดาวเทียมสื่อสาร

ดาวเทียมสื่อสารเป็นดาวเทียมที่ใช้ประโยชน์ในการสื่อสารภายในและระหว่างประเทศ โดยดาวเทียมของประเทศใดประเทศหนึ่ง มักอยู่สูงในระดับประมาณ 36,000 กิโลเมตรเหนือประเทศนั้น ๆ ดาวเทียมสื่อสารจึงเป็นดาวเทียมค้างฟ้า ที่อยู่คงที่บนฟ้าของประเทศใดประเทศหนึ่งตลอดเวลา นับว่าสะดวกต่อการรับสัญญาณจากดาวเทียมเป็นอย่างยิ่งปัจจุบันมีดาวเทียมสื่อสารระหว่างประเทศของบริษัท อินเทลแซท ซึ่งส่งดาวเทียมอินเทลแซทขึ้นไปอยู่เหนือมหาสมุทรอินเดียดวงหนึ่ง เหนือมหาสมุทรแปซิฟิก ดวงหนึ่งและเหนือมหาสมุทรแอตแลนติกอีกดวงหนึ่ง ทำให้สามารถสื่อสารติดต่อระหว่างประเทศได้ทั่วโลกตลอดเวลา 24 ชั่วโมง หลายประเทศมีดาวเทียมสื่อสารภายในประเทศของตนเอง เช่น

| ประเทศ       | ชื่อดาวเทียมสื่อสาร |
|--------------|---------------------|
| ไทย          | ไทยคม               |
| อินโดนีเซีย  | ปาลาปา              |
| ฮ่องกง       | เอเชียแซท           |
| แคนาดา       | แอนิค               |
| ออสเตรเลีย   | ออสแซท              |
| สหรัฐอเมริกา | เวสตาร์             |
| ญี่ปุ่น      | ซากุระ              |
| ฝรั่งเศส     | ยูริ                |

ดาวเทียมไทยคมเป็นดาวเทียมสื่อสารดวงแรกของไทย ซึ่งออกแบบโดยบริษัทอิวจ์แอร์คราฟท์ สหรัฐอเมริกา ส่งขึ้นสู่อวกาศโดยอาศัยจรวดอารีอานขององค์การอวกาศยุโรปที่เฟรนช์กานาคาวเทียมไทยคมจึงขึ้นไปอยู่เหนือละติจูด 7 องศาเหนือและลองจิจูด 78.5 องศาตะวันออกประโยชน์ของดาวเทียมไทยคมคือช่วยการสื่อสารภายในประเทศในเรื่องโทรศัพท์ การถ่ายทอดโทรทัศน์ โทรสาร โทรพิมพ์ โดยไม่ต้องเช่าดาวเทียม ปาลาปาของอินโดนีเซีย สถานีภาคพื้นดินส่งสัญญาณขึ้นสู่อวกาศอยู่ที่ ถนนรัตนวิบูลย์ อ.เมือง จ.นนทบุรี

ดาวเทียมสื่อสาร จะทำหน้าที่ถ่ายทอดทวนสัญญาณ (Repeater) ไปยังสถานีภาคพื้นดินที่ทำการส่งและรับสัญญาณ การส่งสัญญาณจะใช้ความถี่คลื่นไมโครเวฟจากสถานีภาคพื้นดินที่ส่งสัญญาณขาขึ้นหรือ "Up Link" โดยจานรับสัญญาณบนตัวดาวเทียม จะรับคลื่นสัญญาณข้อมูลภาพและเสียงไว้ แล้วนำไปขยายให้มีความแรงของสัญญาณมากขึ้น หลังจากนั้นค่อยส่งกลับลงมายังสถานีภาคพื้นดิน

ปัจจุบันนี้ประเทศไทยมีดาวเทียมสื่อสารแห่งชาติเป็นของตนเอง นั่นคือ ดาวเทียมไทยคม ซึ่งดำเนินงานโดย บริษัท ชินเซทเทลไลท์ จำกัด (มหาชน) และขณะนี้ก็มีจำนวนทั้งสิ้น 3 ดวงได้แก่

1. ดาวเทียมไทยคม 1A ถูกส่งขึ้นสู่อวกาศเมื่อวันที่ 17 ธันวาคม 2536



2. ดาวเทียมไทยคม 2 ถูกส่งขึ้นสู่วงโคจรเมื่อวันที่ 7 ตุลาคม 2537
3. ดาวเทียมไทยคม 3 ถูกส่งขึ้นสู่วงโคจรเมื่อวันที่ 16 เมษายน 2540

### 2.1.1.2 ดาวเทียมอุตุนิยมวิทยา

- ดาวเทียมอุตุนิยมวิทยาซึ่งสามารถส่งข้อมูลทางภาพถ่าย และสัญญาณสู่พื้นดินเป็นระยะ ๆ ทำให้สามารถติดตามลักษณะของเมฆที่ปกคลุมโลก การก่อตัวและเคลื่อนตัวของพายุ การตรวจ วัดระดับของเมฆ ตรวจการแผ่รังสีของดวงอาทิตย์ วัดอุณหภูมิบนโลกหรือชั้นบรรยากาศ ซึ่งข้อมูลเหล่านี้นักพยากรณ์อากาศ จะนำมาวิเคราะห์เพื่อรายงานสภาพอากาศ และพยากรณ์อากาศให้ประชาชนได้ทราบต่อไป

- ดาวเทียมอุตุนิยมวิทยา ได้ถูกส่งขึ้นไปโคจรในอวกาศเป็นครั้งแรก เมื่อวันที่ 1 เมษายน พ.ศ. 2503 มีชื่อว่า TIROS 01 (Television and Infrared Observational Satellite) ของประเทศสหรัฐอเมริกา หากเราแบ่งดาวเทียมอุตุนิยมวิทยา ตามลักษณะการ โคจรรอบโลกของดาวเทียม สามารถแบ่งออกเป็น 2 ชนิด คือ

- ดาวเทียมอุตุนิยมวิทยาชนิดโคจรค้างฟ้า ดาวเทียมชนิดนี้จะโคจรรอบโลกใช้เวลา 24 ชั่วโมง ซึ่งเท่ากับเวลาที่โลกหมุนรอบตัวเอง โดยวงโคจรจะอยู่ในตำแหน่งเส้นศูนย์สูตรของโลก และจะโคจรไปในทางเดียวกับการโคจรรอบตัวเองของโลกด้วยความเร็วที่เท่ากัน ดังนั้น ตำแหน่งของดาวเทียมจะสัมพันธ์กับตำแหน่งบนพื้นโลกในบริเวณเดิมเสมอ ครอบคลุมพื้นที่จากขั้วโลกเหนือจรดขั้วโลกใต้ และวงโคจรมีความสูงจากพื้นโลก ประมาณ 35,800 กิโลเมตร

- ดาวเทียมอุตุนิยมวิทยาชนิดโคจรรอบโลกดาวเทียมชนิดนี้จะโคจรผ่านใกล้ขั้วโลกเหนือและขั้วโลกใต้ มีความสูงจากพื้นโลกประมาณ 850 กิโลเมตร โดยจะโคจรรอบโลกประมาณ 102 นาที ต่อ 1 รอบ ในหนึ่งวันจะโคจรรอบโลกประมาณ 14 รอบ และจะเคลื่อนที่ผ่านเส้นศูนย์สูตรในเวลาเดิม (ตามเวลาที่ท้องถิ่น) ผ่านแนวเดิม 2 ครั้ง โดยจะโคจรเคลื่อนที่จากขั้วโลกเหนือไปยังขั้วโลกใต้ 1 ครั้ง และโคจรเคลื่อนที่จากขั้วโลกใต้ ไปยังขั้วโลกเหนืออีก 1 ครั้ง การถ่ายภาพของดาวเทียมชนิดนี้ จะถ่ายภาพ และส่งสัญญาณข้อมูลสู่ภาคพื้นดินในเวลาจริง (Real Time) ในขณะที่ดาวเทียมโคจรผ่านพื้นที่นั้นๆ โดยจะครอบคลุมความกว้าง 2,700 กิโลเมตร

### 2.1.2 ดาวเทียมสำรวจทรัพยากร

ประเทศไทยได้เข้าร่วม โครงการสำรวจทรัพยากรด้วยดาวเทียมขององค์การนาซ่าเมื่อเดือนกันยายน 2514 และได้ดำเนินการจัดตั้งสถานีภาคพื้นดิน ซึ่งเป็นสถานีแห่งแรกที่สามารถรับสัญญาณจากดาวเทียมสำรวจทรัพยากรเกือบทุกดวงที่โคจรอยู่ในขณะนี้

เนื่องจากโลกที่เราอาศัยอยู่นี้มีขนาดขอบเขต และทรัพยากรที่จำกัด ทรัพยากรบางอย่างสามารถสร้างขึ้นทดแทนได้ แต่หลายอย่างก็หมดไปโดยไม่สามารถทดแทนได้ การที่จำนวนประชากรของโลกได้เพิ่มขึ้นเรื่อย ๆ นั้นทำให้มีความต้องการใช้ทรัพยากรเพื่อการที่จะดำรงชีพเพิ่มขึ้นตามไปด้วย ดังนั้นจึงต้องมีการวางแผนใช้ทรัพยากรธรรมชาติอย่างเหมาะสม และมีประสิทธิภาพ โดยการใช้ดาวเทียมเข้ามาสำรวจช่วย

การสร้างเครื่องมือทางดาราศาสตร์ เพื่อช่วยในการสังเกตการณ์ทางดาราศาสตร์ ได้เริ่มพัฒนาตั้งแต่โบราณ อุปกรณ์ส่วนใหญ่ที่อับปาร์คัส และปโทเลมีเคยใช้ และต่อมาไทโค บราเฮ ได้ปรับปรุงให้ดีขึ้นนั้น ส่วนใหญ่เป็นเครื่องมือที่แบ่งขีดใช้สำหรับเล็งวัดทิศทางของเทหวัตถุฟ้า เช่น ที่ไทโค บราเฮ ออกแบบสร้างขึ้นใช้นั้น เรียกว่า เครื่องเซกซ์แทนท์ (sextant) และเครื่องควอดแรนต์ (quadrant) เป็นเครื่องมือที่ใช้ในการสังเกต และหาพิภคของดาว ซึ่งมีแขนยาว ๆ สองแขนทำด้วยไม้ ตรีงปลายข้างหนึ่งเข้าด้วยกันให้หมุนทำมุมกัน ส่วนปลายอีกข้างหนึ่งมีศูนย์สำหรับหาพิภคของดาวติดตรึงไว้ และหมุนกวาดไปบนส่วนโค้งของวงกลมที่แบ่งขีดไว้อ่านเป็นมุมที่วัดได้ละเอียดและแม่นยำ เพื่อใช้ในการวัดความสูงของดาวจากขอบฟ้าหรือระยะเชิงมุมระหว่างดาวสองดวง

ปัจจุบันดาวเทียมสำรวจทรัพยากรธรรมชาติมีหลายดวง ได้แก่

- ❖ ดาวเทียม Spot เป็นของสถาบันพัฒนาอวกาศแห่งชาติฝรั่งเศสร่วมกับประเทศในกลุ่มยุโรป
- ❖ ดาวเทียมแลนด์แซต (Landsat) แต่เดิมเป็นขององค์การนาซ่า ต่อมาได้โอนให้แก่บริษัท EOSAT ประเทศสหรัฐอเมริกา ซึ่งเป็นของภาคเอกชน เพื่อดำเนินการในเชิงพาณิชย์
- ❖ ดาวเทียม MOS-I เป็นขององค์การพัฒนาอวกาศแห่งชาติญี่ปุ่น

## 2.2 ยานสำรวจอวกาศ

ยานอวกาศเป็นพาหนะที่ใช้สำหรับออกไปสำรวจดวงจันทร์ และดาวเคราะห์ต่าง ๆ โครงการสร้างยานอวกาศทั้งประเทศสหรัฐอเมริกาและรัสเซียได้สร้างยานอวกาศเพื่อสำรวจดวงจันทร์และดาวเคราะห์ในระบบสุริยะของเรา

- **ยานอวกาศ** หมายถึง ยานที่ออกไปนอกโลกโดยมีมนุษย์ขึ้นไปด้วยพร้อมเครื่องมือและอุปกรณ์สำหรับสำรวจ หรืออาจจะไม่มีมนุษย์ขึ้นไป แต่มีอุปกรณ์และเครื่องมือวิทยาศาสตร์เท่านั้น
- **อวกาศ** หมายถึง ที่ว่างนอกโลก นอกดวงดาว ดังนั้นจึงมีอวกาศระหว่างโลกกับดวงจันทร์ มนุษย์มีความกระหายและกระตือรือร้นในการแสวงหาความรู้จากดินแดนใหม่ๆ มาเป็นเวลานาน ภายหลังจากที่มนุษย์คิดค้นจรวดได้ เป็นแรงปรารถนาอันยิ่งใหญ่ที่จะส่ง ยานอวกาศ ไปพร้อมกับจรวด เพื่อสำรวจดินแดนอันกว้างใหญ่ในอวกาศ จวบจนกระทั่งมาถึงปัจจุบัน ความก้าวหน้าทางด้านเทคโนโลยีอวกาศดำเนินมาเรื่อยๆ หากแบ่งประเภทของการสำรวจอวกาศแล้ว สามารถแบ่งได้เป็นสองประเภทใหญ่ ๆ คือ การสำรวจอวกาศโดย ยานอวกาศ ที่ไม่มีมนุษย์ควบคุมบนยาน กับการสำรวจอวกาศ โดยยานอวกาศ ที่มีมนุษย์ควบคุมไปด้วย ยานอวกาศ มี 2 ประเภทคือ ยานอวกาศที่มีมนุษย์ควบคุมและไม่มีมนุษย์ควบคุม
- **ยานอวกาศที่ไม่มีมนุษย์ควบคุม** ส่วนใหญ่สำรวจ ดวงจันทร์ ดวงอาทิตย์ ดาวเคราะห์ และห้วงอวกาศระหว่างดาวเคราะห์ จะขอกกล่าวถึง โครงการที่สำรวจดวงจันทร์คือ

1. โครงการเรนเจอร์ ออกแบบให้ยานพุ่งชนดวงจันทร์
2. โครงการลูน่าออบิเตอร์ กำหนดให้ยานไปวนถ่ายภาพรอบดวงจันทร์
3. โครงการเซอเวเยอร์ ออกแบบให้ยานจอดลงบนพื้นอย่างนุ่มนวล

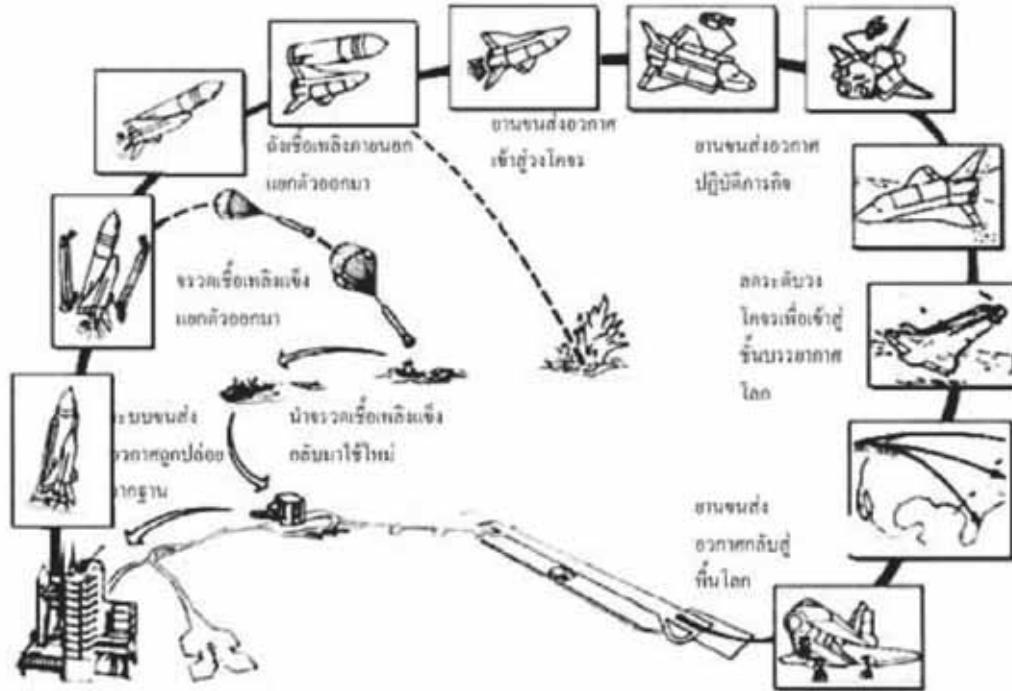
➤ **ยานอวกาศมีมนุษย์ควบคุม** เป็นของสหรัฐอเมริกา มีโครงการต่าง ๆ ดังนี้

1. โครงการเมอร์คิวรี มีจุดประสงค์ที่จะส่งมนุษย์ขึ้นไปโคจรในอวกาศ สำหรับให้มนุษย์อวกาศขึ้นไปครั้งละ 1 คน โครงการได้ยุติลงไปแล้วในปัจจุบัน
2. โครงการเจมินี มีจุดประสงค์คือ นำมนุษย์ 2 คนขึ้นไปดำรงชีพในอวกาศให้นานที่สุด ศึกษาการเชื่อมต่อกับยานลำอื่น ปรับปรุงการนำยานลงสู่พื้นและหาผลกระทบที่เกิดจากสภาวะไร้น้ำหนัก โครงการนี้ได้ยุติลงแล้ว
3. โครงการอะพอลโล มีจุดประสงค์ คือ นำมนุษย์ไปสำรวจดวงจันทร์ ใช้มนุษย์อวกาศครั้งละ 3 คน เป็นโครงการต่อจากเมอร์คิวรีและเจมินี มนุษย์อวกาศชุดแรกที่ลงบนพื้นดวงจันทร์เป็นชุดอวกาศที่เดินทางไปกับยานอะพอลโล 11 โครงการอะพอลโลเรียกว่า ประสบความสำเร็จตามเป้าหมายมาตลอด มีเพียงอะพอลโล 13 ลำเดียวที่เกิดอุบัติเหตุขณะมุ่งหน้าสู่ดวงจันทร์ อะพอลโล 17 ถือเป็นยานลำสุดท้ายที่เกิดในโครงการนี้
4. โครงการสกายแล็บ จุดประสงค์คือให้มนุษย์ขึ้นไปบนสถานีลอยฟ้า เพื่อค้นคว้าทดลองให้ได้เวลานานที่สุด เป็นโครงการที่ศึกษาเกี่ยวกับทรัพยากรธรรมชาติ การแพทย์ ฟิสิกส์ ผลกระทบของสภาพไร้น้ำหนัก
5. โครงการอะพอลโล - โซยุส มีจุดประสงค์ คือ เพื่อขึ้นไป ทดสอบระบบนัดพบและเชื่อมยานอวกาศ เป็นโครงการระหว่างสหรัฐอเมริกาและสหภาพโซเวียต

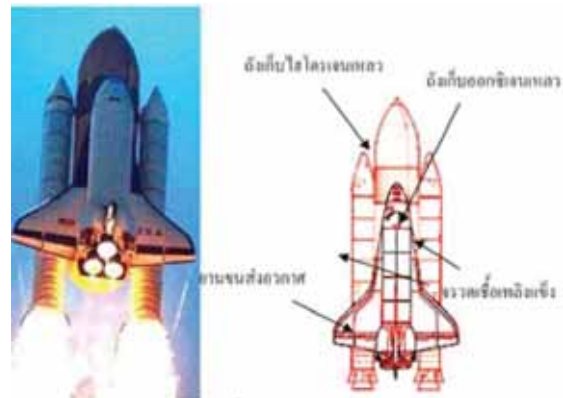
### 2.3 ยานขนส่งอวกาศ

➤ **โครงการยานขนส่งอวกาศ**

การส่งยานอวกาศไปสู่ดาวเคราะห์ต่างๆ ในระบบสุริยะ จำเป็นต้องอาศัยความรู้ทางด้านวงโคจร ในสนามแรงโน้มถ่วงอย่างแม่นยำอย่างมาก จึงต้องมีการวางแผนด้านการเดินทางของยานอวกาศอย่างละเอียดรอบคอบและระมัดระวังเป็นอย่างสูง เนื่องจากการส่งยานเพื่อไปโคจรรอบหรือลงจอดบนดาวเคราะห์ดวงหนึ่งนั้น ไม่ใช่การเดินทางอย่างตรงไปตรงมาจากโลกถึงดาวเคราะห์ดวงนั้นเลย แต่จำเป็นต้องอาศัยการเคลื่อนที่ไปตามวงโคจรรอบดวงอาทิตย์ และในบางครั้งต้องอาศัยแรงเหวี่ยงจากดาวเคราะห์ดวงอื่นเพื่อเปลี่ยนเส้นทางโคจรให้ไปถึงจุดหมายปลายทาง เพื่อให้สามารถเดินทางไปยังจุดหมายใดๆ ได้โดยไม่ต้องสิ้นเปลืองเชื้อเพลิงในการขับเคลื่อน



เพื่อความเข้าใจเบื้องต้นในเรื่องแรงเหวี่ยง เพื่อเปลี่ยนเส้นทางโคจร จะขอยกตัวอย่างเส้นทางการเคลื่อนที่ของยาน ระบบการขนส่งอวกาศเป็นโครงการที่ถูกออกแบบให้สามารถนำชิ้นส่วนบางส่วนที่ใช้ไปแล้วกลับมาใช้ใหม่อีก เพื่อเป็นการประหยัดและมีประสิทธิภาพมากที่สุด ประกอบด้วย 3 ส่วนหลัก คือ จรวดเชื้อเพลิงแข็ง ถังเชื้อเพลิงภายนอก (สารองไฮโดรเจนเหลวและออกซิเจนเหลว) และยานอวกาศ ระบบขนส่งอวกาศมีน้ำหนักรวมเมื่อขึ้นจากฐานปล่อยประมาณ 2,041,200 กิโลกรัม โดยจรวดเชื้อเพลิงแข็งจะถูกขับเคลื่อนจากฐานปล่อยให้นำพาทั้งระบบขึ้นสู่อวกาศด้วยความเร็วที่มากกว่าค่าความเร็วหลุดพ้น เมื่อถึงระดับหนึ่งจรวดเชื้อเพลิงแข็งทั้งสองข้างจะแยกตัวออกจากระบบ จากนั้นถังเชื้อเพลิงภายนอกจะแยกตัวออกจากยานอวกาศ โดยตัวยานอวกาศจะเข้าสู่วงโคจรเพื่อปฏิบัติภารกิจต่อไป ดังรูป



การปฏิบัติภารกิจสำหรับระบบขนส่งอวกาศมีหลากหลายหน้าที่ ตั้งแต่การทดลองทางวิทยาศาสตร์ (ในสภาวะไร้น้ำหนัก) การส่งดาวเทียม การประกอบกล้องโทรทรรศน์อวกาศ การส่งมนุษย์ไปบนสถานีอวกาศ ฯลฯ ยานอวกาศจึงถูกออกแบบสำหรับบรรทุกคนได้ประมาณ 7-10 คน ปฏิบัติภารกิจได้นานตั้งแต่ไม่กี่ชั่วโมงหรืออาจใช้เวลาถึง 1 เดือน

โครงการสำคัญๆ ของสหรัฐอเมริกา มีดังนี้

1. โครงการไพโอเนียร์
2. โครงการมาริเนอร์
3. โครงการไวคิง
4. โครงการวอยเอเจอร์
5. โครงการไพโอเนียร์ - วินัส
6. โครงการกาลิเลโอ

ปัจจุบันเป็นที่ทราบกันว่าโครงการแชลแลนเจอร์และโครงการโคลัมเบียประสบความสำเร็จสูงสุดเสียครั้งร้ายแรง เมื่อยานทั้งสองเกิดระเบิดขึ้นขณะอยู่บนท้องฟ้า โดยระบบขนส่งยานอวกาศแชลแลนเจอร์ระเบิดเมื่อวันที่ 28 มกราคม 2529 ระหว่างเดินทางขึ้นสู่อวกาศไม่เพียงกีดนาที่ด้วยสาเหตุจากการรั่วไหลของก๊าซเชื้อเพลิงอุณหภูมิสูงจากรอยต่อของจรวดเชื้อเพลิงแข็งด้านขวาของตัวยาน ทำให้ก๊าซอุณหภูมิสูงดังกล่าวลามไปถึงถังเชื้อเพลิงภายนอกที่บรรจุไฮโดรเจนเหลว จึงเกิดการเผาไหม้อย่างรุนแรงและเกิดระเบิดขึ้น คร่าชีวิตนักบินอวกาศ 7 คน ส่วนระบบขนส่งอวกาศโคลัมเบียเกิดระเบิดขึ้นเมื่อวันที่ 1 กุมภาพันธ์ 2546 (17 ปี หลังการระเบิดของยานแชลแลนเจอร์) โดยวิศวกรนาซาเชื่อว่าอาจเพราะตัวยานมีการใช้งานยาวนานจนอาจทำให้แผ่นกันความร้อนที่หุ้มยานชำรุด ทำให้เกิดระเบิดขึ้นหลังจากนักบินกำลังพยายามร่อนลงสู่พื้นโลก แต่ทั้งสองเหตุการณ์ในสหรัฐอเมริกายังไม่ร้ายแรงเท่าเหตุการณ์ระเบิดของจรวดของสหภาพโซเวียตขณะยังอยู่ที่ฐาน เมื่อวันที่ 24 ตุลาคม 2503 โดยมีผู้เสียชีวิตจากเหตุการณ์ดังกล่าวถึง 165 คน โศกนาฏกรรมเหล่านี้ที่เกิดขึ้นแม้จะทำให้เกิดความสูญเสียทั้งชีวิตและทรัพย์สิน แต่มนุษย์ก็ยังไม่เลิกล้มโครงการอวกาศ ยังมีความพยายามคิดและสร้างเทคโนโลยีใหม่ ๆ เพื่อความปลอดภัยและลดค่าใช้จ่ายให้มากขึ้น ด้วยเป้าหมายหลักของโครงการขนส่งอวกาศในอนาคต คือ การสร้างสถานีอวกาศถาวรและการทดลองทางวิทยาศาสตร์อื่น ๆ

#### 2.4 สถานีทดลองอวกาศ

ประเทศที่บุกเบิกการใช้สถานีอวกาศในการปฏิบัติงาน ได้แก่ สหรัฐอเมริกาและสหภาพโซเวียต

##### ➤ โครงการสกายแลบ

สหรัฐอเมริกาได้ส่งยานสกายแลบขึ้นโคจรเมื่อวันที่ 14 พฤษภาคม พ.ศ. 2516 ยานสกายแลบหนัก 85 ตัน มีความยาว 82.2 ฟุต เส้นผ่าศูนย์กลาง 22 ฟุต มีขนาดใหญ่เท่ากับบ้าน 3 ห้องนอน ขนาดเล็กโคจรรอบโลกระดับความสูงประมาณ 435 กิโลเมตรเหนือพื้นโลก โคจรรอบโลกใช้เวลา 93 นาที

##### ➤ โครงการอพอลโล

สหรัฐอเมริการและสหภาพโซเวียตได้มีโครงการอวกาศร่วมกัน โครงการหนึ่งคือโครงการอะพอลโลโซยุซ ซึ่งมีจุดมุ่งหมาย เพื่อขึ้นไปทดสอบระบบนัดพบและต่อเชื่อมยานอวกาศของสหรัฐและรัสเซียเข้าด้วยกัน ทั้งนี้เพื่อนำผลการทดลองมาพัฒนาใช้กับยานอวกาศที่มนุษย์ควบคุม ตลอดจนโครงการสถานีอวกาศของประเทศทั้งสอง

สหภาพโซเวียตได้ส่งยานอวกาศโซยุสขึ้นจากฐานไบโคนูร์ ในคาซัคสถานของ เมื่อวันที่ 15 กรกฎาคม พ.ศ. 2518 โดยมีอเล็กซี เลโอนอฟ เป็นผู้บังคับการยานอวกาศ และวาเลรี กูนาซอฟ เป็นนักบินผู้ช่วย ต่อมาอีก 6 ชั่วโมง ในวันที่ 16 กรกฎาคม พ.ศ. 2518 สหรัฐอเมริกาได้ส่งยานอวกาศอะพอลโลโดยจรวดแซทเทิร์น-1บี ขึ้นจากฐานที่ศูนย์อวกาศเคนเนดี โดยพลอากาศจัตวาโทมัส พี. สเตฟฟอร์ด เป็นผู้บังคับการยานอวกาศ แวนซ์ ดี. แบรินค์ เป็นผู้ควบคุมยานอวกาศและโคเนลด์ เค. สเตตัน เป็นผู้ควบคุมการต่อเชื่อม มีการทดลองปฏิบัติการด้านวิศวกรรมศาสตร์และวิทยาศาสตร์ รวมทั้งร่วมให้สัมภาษณ์หนังสือพิมพ์ผ่านโทรทัศน์กลับมายังพื้นผิวโลก ยานอะพอลโล ปลดแยกตัวออกจากกันในวันที่ 19 กรกฎาคม พ.ศ. 2518 ยานโซยุสกลับคืนสู่พื้นโลกในวันที่ 21 กรกฎาคม พ.ศ. 2518 โดยที่ยานอะพอลโลโคจรปฏิบัติการทดลองต่อจนถึงวันที่ 24 กรกฎาคม พ.ศ. 2518 จึงกลับคืนสู่พื้นโลกที่มหาสมุทรแปซิฟิก

#### ➤ โครงการสถานีอวกาศเมียร์

เมื่อหลุดจากยุคของสถานีอวกาศโซยุสของสหภาพโซเวียต และสถานีอวกาศสกายแลบของสหรัฐอเมริกา ก็เข้าสู่ยุคของสถานีอวกาศเมียร์ (Mir space station) ของรัสเซีย ซึ่งวัตถุประสงค์ของสถานีอวกาศเมียร์ยังคงคล้ายคลึงกับสถานีอวกาศโซยุส นั่นคือ ใช้เป็นสถานที่ศึกษาการใช้ชีวิตในห้วงอวกาศระยะยาว รวมทั้งใช้สังเกตปรากฏการณ์ในห้วงอวกาศ และใช้ทำการทดลองทางวิทยาศาสตร์ผสมกันไปทั้งกิจกรรมทหารและพลเรือน ด้วยเหตุที่สหภาพโซเวียตให้ความสนใจบุกเบิกอวกาศทางด้านสถานีอวกาศ ซึ่งจะเป็นรากฐานความรู้สำหรับการสร้างอาณานิคมในอวกาศต่อไป

สถานีอวกาศเมียร์ เป็นสถานีอวกาศแบบแยกส่วน มีส่วนประกอบหลักทั้ง 7 ส่วน หรือเรียกว่า 7 โมดูล (Module) โดยโมดูลหลัก (Mir core module) ที่เป็นแกนให้โมดูลอื่น ๆ มาต่อด้านนั้นถูกส่งตามขึ้นไปภายหลัง สถานีอวกาศเมียร์ทั้งระบบมีน้ำหนักรวมกันประมาณ 130 ตัน ในส่วนของโมดูลแกนนั้นขนาดกว้างประมาณ 4.2 เมตร ยาวประมาณ 13 เมตร ซึ่งประมาณเท่ากับตึกแถว ชั้นเดียว 1 คูหา มีมนุษย์ประจำการในระยะยาวได้ 2-3 คน

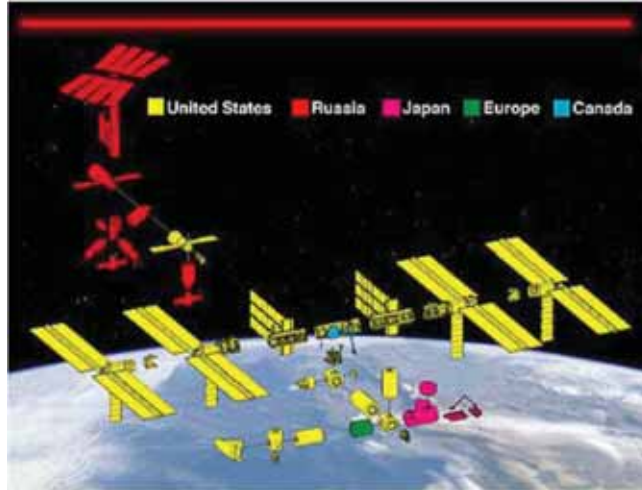
#### ➤ โครงการสถานีทดลองอวกาศนานาชาติ



โครงการสถานีอวกาศนานาชาติ (ISS - International Space Station) สถานีอวกาศนานาชาติ



เป็นโครงการที่เกิดจากความร่วมมือระหว่างชาติ 16 ประเทศ นำโดยประเทศสหรัฐอเมริกา แคนาดา ญี่ปุ่น รัสเซีย 11 ประเทศยุโรป และบราซิล โดยใช้เที่ยวบินทั้งสิ้น 44 เที่ยวบิน เพื่อที่จะนำชิ้นส่วนแต่ละชิ้นของ สถานีอวกาศไปประกอบกันเป็น สถานีอวกาศนานาชาติ ซึ่งประกอบด้วยห้องปฏิบัติการทางวิทยาศาสตร์ ที่ใหญ่ที่สุดในอวกาศ เท่าที่มนุษย์เคยมีมา



หลักการของการนำชิ้นส่วนแต่ละชิ้น ไปประกอบกัน เป็นสถานีอวกาศขนาดใหญ่นี้ ประเทศรัสเซียเป็นผู้บุกเบิก และมีประสบการณ์ด้านนี้มากที่สุดโดยเฉพาะการขึ้นไปอาศัยอยู่ในสถานีอวกาศ เป็นระยะเวลาสั้น ประเทศรัสเซีย มีประสบการณ์ด้านนี้ กว่า 30 ปีแล้ว โดยเฉพาะกับโครงการ สถานีอวกาศเมียร์ (Mir's Space Station) โครงการสถานีอวกาศนานาชาติ นี้ เริ่มส่งชิ้นส่วนแรก ตั้งแต่ช่วงปลายปี พ.ศ. 2541 (ค.ศ.1998) และคาดว่าจะ จะแล้วเสร็จในปี พ.ศ. 2549 (ค.ศ.2006) ซึ่งเมื่อเสร็จแล้ว จะมีขนาดยาวประมาณ 88 เมตร (290 ฟุต) และความกว้างส่วนปีกประมาณ 109 เมตร (356 ฟุต) ซึ่งใหญ่กว่า สนามฟุตบอลเล็กน้อย โดยมีน้ำหนักรวม เกือบ 473 ตัน (ประมาณ 1 ล้านปอนด์) โดยมีนักบินอวกาศ และเจ้าหน้าที่ประจำ 7 คน โคจรรอบโลกด้วยความสูงเกือบ 400กิโลเมตร ใช้เวลาโคจรรอบโลกประมาณ 92 นาที 24 วินาทีต่อรอบ โดยที่ 2 ใน 3 ของแต่ละรอบ จะอยู่ด้านสว่าง ขณะที่อีก 1 ใน 3 ของรอบ จะอยู่ด้านมืด จากนั้น สถานีอวกาศนานาชาติจะรองรับการปฏิบัติการทดลอง และวิจัยทางวิทยาศาสตร์ โดยแบ่งปฏิบัติการทดลองออกเป็น 6 ส่วนใหญ่ๆ ดังนี้

#### ➤ ส่วนประกอบต่างๆ ของสถานีอวกาศนานาชาติ

ตัวสถานีอวกาศนานาชาติ ประกอบด้วยชิ้นส่วนหลัก ดังนี้ **Zarya Control Module:** เป็นชิ้นส่วนแรกของสถานีอวกาศนานาชาติ ออกแบบโดยประเทศสหรัฐอเมริกา แต่สร้าง และส่งขึ้นไปในอวกาศ โดยประเทศ รัสเซีย มีอีกชื่อหนึ่งว่า "FGB:



Function Cargo Block" ทำหน้าที่เป็นแหล่งกำเนิด พลังงานให้กับ สถานีในช่วงเริ่มต้น มีน้ำหนัก 19,323 กิโลกรัม มีความยาว 12.6 เมตร



กว้าง 4.1 เมตร ถูกส่งออกไปโคจรรอบโลก ที่ระดับความสูง 386.2 กิโลเมตร เมื่อวันที่ 20 พฤศจิกายน 2541 (ค.ศ.1998) โดยที่ชื่อยาน "Zarya" หมายถึง "อาทิตย์ขึ้น" (Sunrise) **Unity Module:** เป็นชิ้นส่วนที่สอง ของสถานีอวกาศนานาชาติ ออกแบบ และสร้าง โดยประเทศสหรัฐอเมริกา ถูกส่งขึ้นไปในอวกาศ เมื่อวันที่ 4 ธันวาคม 2541 (ค.ศ.1998) โดยเชื่อมต่อกับ Zarya Module ทำหน้าที่เป็นส่วนต่อเชื่อมระหว่างส่วนพักอาศัย กับส่วนห้องปฏิบัติการต่าง ๆ โดยมีช่องสำหรับต่อกับ โมดูลอื่น ๆ ได้ 6 ช่อง (docking port) มีความยาว 5.5 เมตร เส้นผ่านศูนย์กลาง 4.6 เมตร



**Zvezda Service Module:** เป็นชิ้นส่วนที่สาม ของสถานีอวกาศนานาชาติ ออกแบบ และสร้างโดยประเทศสหรัฐอเมริกา ถูกส่งขึ้นไปในอวกาศ เมื่อวันที่ 11 กรกฎาคม 2543 (ค.ศ.2000) โดยเชื่อมต่อกับ 2 โมดูลแรก ทำหน้าที่ระบบควบคุม, ที่พักอาศัย และระบบพลังงานหลัก แทน Zarya ซึ่งจะเหลือเป็นเพียงแค่ทางผ่าน ระหว่างห้องปฏิบัติการกับที่พักอาศัยเท่านั้น



โฉมหน้าของนักบินอวกาศ 3 คนแรกที่จะได้ประจำอยู่ บนสถานีอวกาศนานาชาติ โดยคนแรก เป็นนักบินอวกาศ ชาวสหรัฐอเมริกา และทำหน้าที่ผู้บังคับการ ชื่อ Bill Shepherd ส่วนอีก 2 คน เป็นนักบินอวกาศ ชาวรัสเซีย ชื่อ Yuri Gidzenko และวิศวกรชาวรัสเซีย ชื่อ Sergei Krikalev ออกเดินทางเมื่อวันที่ 31 ตุลาคม 2543 (ค.ศ. 2000) โดยภารกิจหลัก คือการทดสอบสถานีอวกาศนานาชาติ มีกำหนด 4 เดือน (Image by: NASA) **The U.S. Destiny Laboratory**

**Module** เป็นห้องปฏิบัติการ ทางวิทยาศาสตร์ห้องแรกและเป็นห้องปฏิบัติการศูนย์กลาง ที่ถูกส่งขึ้นไปเมื่อวันที่ 7 กุมภาพันธ์ 2544 (ค.ศ.2001) ที่ผ่านมานอกจากเป็นห้องทดลองแล้ว ยังทำหน้าที่เชื่อมต่อ ควบคุมและส่งพลังงาน ให้กับห้องปฏิบัติการอีกด้วยโดยห้องปฏิบัติการนี้ มีขนาดยาว 8.5 เมตรเส้นผ่านศูนย์กลาง 4.3 เมตร ส่วนประกอบหลักเป็น อลูมิเนียม **The Second Crew:**



โฉมหน้าของนักบินอวกาศ ชุดที่สองที่ได้ประจำอยู่บนสถานีอวกาศนานาชาติ โดยคนแรก เป็นนักบินอวกาศ ชาวรัสเซีย ทำหน้าที่ ผู้บังคับการ ชื่อ (Commander) Yury Usachev ส่วนอีก 2 คน เป็นนักบินอวกาศ ชาวสหรัฐอเมริกา ชื่อ (Flight Engineer) James Voss และ (Flight Engineer) Susan Helms ออกเดินทางเมื่อวันที่ 8 มีนาคม 2544 (ค.ศ. 2001) (Image by: NASA)

**Space Station Remote Manipulator System (SSRMS):** เป็นส่วนแขนกล (Robotic System) ทำหน้าที่สำหรับใช้ประกอบ, เคลื่อนที่, ซ่อมบำรุง สำหรับ





ชิ้นส่วนที่จะถูกส่งขึ้นมา ในอนาคต นอกจากนี้ ยังไว้สำหรับเป็นตัวจับยึด เพื่อซ่อมดาวเทียม หรืออุปกรณ์อื่น ๆ ซึ่งแขนกลนี้ มีความยาวถึง 17 เมตร ให้การสนับสนุนโดย ประเทศแคนาดา มีกำหนดจะส่งขึ้นไป วันที่ 19 เมษายน 2544 (ค.ศ.2001)

### เรื่องที่ 3 ประโยชน์ของการใช้เทคโนโลยีอวกาศ

#### 3.1 ปรัชญาการณ์บนโลก

##### ❖ การใช้ประโยชน์จากดาวเทียมสื่อสาร

เนื่องจากดาวเทียมสื่อสารจะทำหน้าที่ถ่ายทอดสัญญาณไปยังสถานีภาคพื้นดินที่ทำการส่งและรับสัญญาณ ปัจจุบันประเทศไทยมีดาวเทียมสื่อสารแห่งชาติเป็นของตนเองนั่นคือ ดาวเทียม ไทยคม ซึ่งดำเนินงานโดย บริษัท ชินเซทเทลไลท์ จำกัด (มหาชน) ซึ่งได้รับอนุมัติจากรัฐบาลให้เป็นผู้ดำเนินโครงการดาวเทียมแห่งชาติ ได้ลงนามในสัญญาจ้างจัดสร้างดาวเทียม “ไทยคม 1A” และ “ไทยคม 2” กับบริษัท ฮิวจ์แอร์คราฟท์ จำกัด (ปัจจุบันเปลี่ยนชื่อเป็นบริษัท โบอิง) ประเทศสหรัฐอเมริกา และยังคงนามในสัญญาว่าจ้างกับ บริษัทแอเรียนสเปซ จำกัด เป็นผู้จัดส่งดาวเทียม ซึ่งดาวเทียมทั้งสองดวงนี้ มีคุณลักษณะและคุณสมบัติเหมือนกันทุกประการ โดยเป็นดาวเทียมที่มีความสามารถหมุนรอบตัวเองคล้ายลูกข่าง ขณะนี้มีจำนวนทั้งสิ้น 3 ดวง ได้แก่ ดาวเทียมไทยคม 1A ดาวเทียมไทยคม 2 และดาวเทียมไทยคม 3 ซึ่งดาวเทียมทั้ง 3 ดวงเป็นดาวเทียมสื่อสารที่มีบทบาทสำคัญในการพัฒนาเครือข่ายการสื่อสารของประเทศไทย ให้มีเทคโนโลยีรุคหน้าทัดเทียมกับประเทศต่าง ๆ อีกทั้งยังช่วยตอบสนองการใช้งานด้านการสื่อสาร โทรคมนาคม และการกระจายเสียงโทรทัศน์ของประเทศไทยที่มีการขยายตัวเพิ่มขึ้นอย่างรวดเร็ว ซึ่งเราจะเรียกดาวเทียมในลักษณะนี้ว่า Spinners พระบาทสมเด็จพระปรมินทรมหาภูมิพลอดุลยเดช (รัชกาลที่ 9) โปรดเกล้าฯ พระราชทานชื่อดาวเทียมสื่อสารแห่งชาติดวงแรกว่า “ไทยคม” (THAICOM) โดยดาวเทียมไทยคม 1 ถูกยิงขึ้นจากฐานยิงจรวดแอเรียนสเปซ เมืองคูรู ประเทศเฟรนช์กิอานา เมื่อวันที่ 17 ธันวาคม 2536 ประโยชน์ของดาวเทียมไทยคมทั้ง 3 ดวง เป็นดาวเทียมสื่อสารที่มีบทบาทสำคัญ ในการพัฒนาเครือข่ายการสื่อสารของประเทศไทย ให้มีเทคโนโลยีรุคหน้าทัดเทียมกับประเทศต่าง ๆ อีกทั้งยังช่วยตอบสนองการใช้งานด้านการสื่อสาร โทรคมนาคม และการกระจายเสียงโทรทัศน์ของประเทศไทยที่มีการขยายตัวเพิ่มขึ้นอย่างรวดเร็ว

##### ❖ การใช้ประโยชน์จากเทคโนโลยีอวกาศทางอุตุนิยมวิทยา

ดาวเทียมอุตุนิยมวิทยานี้ใช้สำหรับการตรวจสอบประกอบทางอุตุนิยมวิทยาในระยะไกล (Meteorology Information Remote Sensing) เช่น การตรวจเมฆ ทิศทางการเคลื่อนที่ของเมฆตรวจอุณหภูมิยอดเมฆ อุณหภูมิพื้นโลก อุณหภูมิผิวน้ำทะเล และความชื้นของบรรยากาศโลก ตามระดับความสูงต่างๆ , ตรวจโอโซน และรังสีจากดวงอาทิตย์ หิมะและน้ำแข็งที่ปกคลุมโลก เป็นต้น รวบรวมข้อมูลรับ-ส่งข้อมูลทางด้านอุตุนิยมวิทยา ที่ตรวจได้จากสถานีเคลื่อนที่ หรือสถานีตรวจอัตโนมัติ ทั้งภาคพื้นดินและใน

น้ำ เช่น ทุ่นลอย เรือ รวมทั้งเครื่องบิน นอกจากนี้ยังใช้ในการกระจายข่าว (Direct Broadcast) ส่งข่าวสารทางด้านอุดมศึกษา ไปยังประเทศสมาชิกหรือผู้ใช้ข้อมูลโดยตรง

#### ❖ ประโยชน์จากดาวเทียมสำรวจทรัพยากร

เนื่องจาก โลกที่เราอาศัยอยู่นี้มีขนาดขอบเขต และทรัพยากรที่จำกัด ทรัพยากรบางอย่างสามารถสร้างขึ้นมาทดแทนได้ แต่หลายอย่างก็หมดไปโดยไม่สามารถทดแทนได้ การที่จำนวนประชากรของโลกได้เพิ่มขึ้นเรื่อยๆ นั้นทำให้มีความต้องการใช้ทรัพยากร เพื่อการที่จะดำรงชีพเพิ่มขึ้นตามไปด้วย ดังนั้น จึงต้องมีการวางแผนใช้ทรัพยากรธรรมชาติอย่างเหมาะสม และมีประสิทธิภาพ โดยการใช้ดาวเทียมเข้ามาสำรวจช่วย

○ ดาวเทียมสำรวจทรัพยากรให้ข้อมูลที่สามารถนำไปใช้ศึกษาวิจัย ในสาขาวิชาต่าง ๆ เพื่อใช้ประโยชน์ในการพัฒนาประเทศ ดังนี้

1. ด้านการใช้ที่ดิน ศึกษาการเปลี่ยนแปลงสภาพการใช้ที่ดินในลักษณะต่าง ๆ เช่น การทำเกษตรกรรม เขื่อนกั้นน้ำ การขยายแหล่งชุมชน สร้างถนน การก่อสร้าง ซึ่งกรรมที่ดินเป็นหน่วยงานหลักในเรื่องนี้
2. ด้านการเกษตร ศึกษาสำรวจพื้นที่เพาะปลูกที่เกี่ยวกับการเพาะปลูกพืชเศรษฐกิจ เช่น ข้าว นา ปรง พื้นที่ปลูกยางพารา พื้นที่ปลูกอ้อย พื้นที่ปลูกมันสำปะหลัง พื้นที่ปลูกน้ำมันปาล์ม สำรวจพื้นที่ที่มีความชื้นสูงเพื่อใช้ในการปลูกพืชในฤดูแล้ง
3. ด้านป่าไม้ ศึกษาพื้นที่ป่าไม้ทั่วประเทศ การกำหนดระดับความสำคัญของพื้นที่ต้นน้ำลำธารต่าง ๆ เพื่อการใช้ที่ดิน การทำป่าไม้และการทำเหมืองแร่ การสำรวจและการจัดทำแผนที่ป่าชายเลน ป่าเสื่อมโทรม
4. ด้านการประมง ศึกษาสำรวจหาบริเวณพื้นที่เพาะเลี้ยงสัตว์น้ำชายฝั่งประเภทต่าง ๆ
5. ด้านอุทกศาสตร์ ศึกษาเกี่ยวกับแหล่งน้ำในทะเล น้ำบนดินและน้ำใต้ดิน เพื่อใช้พิจารณาการหมุนเวียนของแหล่งน้ำ การจัดสรรน้ำ การปรับปรุงแหล่งน้ำ และชลประทาน การศึกษารูปแบบการระบายน้ำ ปริมาณคุณภาพของน้ำ การศึกษาสำรวจบริเวณที่จะเกิดสภาวะน้ำท่วม
6. ด้านธรณีวิทยา ศึกษาทำแผนที่ธรณีวิทยา โครงสร้างประเทศไทย ซึ่งเป็นข้อมูลพื้นฐานในการพัฒนาประเทศส่วนอื่น ๆ เช่น แหล่งน้ำบาดาล การสร้างเขื่อน การหาแหล่งแร่ การหาเชื้อเพลิงธรรมชาติ
7. ด้านสมุทรศาสตร์ ศึกษาทิศทางการหมุนเวียนของกระแสน้ำทะเล และคุณภาพของน้ำทะเล การแพร่กระจายของตะกอนแขวนลอยที่เกิดจากบริเวณที่มีการทำเหมืองแร่ ตลอดจนการศึกษาถึงการแพร่กระจายในบริเวณปากแม่น้ำที่สำคัญต่าง ๆ การทำแผนที่ชายฝั่งทะเลในการศึกษาแนวปะการัง
8. ด้านสิ่งแวดล้อม ศึกษาปัญหาผลกระทบเป็นพิษ เพื่อวางแผนจัดการด้านสิ่งแวดล้อม เช่น ปัญหาสิ่งแวดล้อมจากการขยายตัวของเมือง ต่าง ๆ ปัญหาผลกระทบจากน้ำเสีย พื้นที่ป่าไม้บริเวณต้นน้ำลำธารถูกทำลาย หรือถูกบุกรุกแล้ววางไป ควันพิษ ตรวจสอบผลเสียที่เกิดจากสิ่งแวดล้อมเป็นพิษ
9. ด้านการทำแผนที่ นำข้อมูลมาใช้ในการทำแผนที่ภูมิประเทศได้ถูกต้องเป็นที่ยอมรับ ทำให้ได้แผนที่ทันสมัยสามารถนำไปแก้ไขแผนที่ภูมิประเทศเพื่อแสดงสิ่งเปลี่ยนแปลงไป

### 3.2 ปραกฏการณ์ในอวกาศ

#### ➤ ยานขนส่งอวกาศ (Space Shuttle)

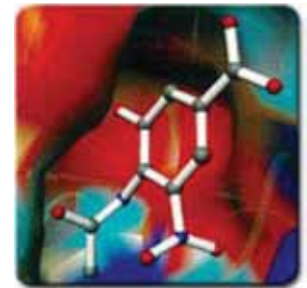
เพื่อใช้เป็นพาหนะสำหรับบรรทุกสิ่งของและมนุษย์ที่ไปบนอวกาศ และเพื่อลดค่าใช้จ่ายในการใช้ประโยชน์จากอวกาศออกแบบสำหรับคนได้มากถึง 7 คน ในกรณีฉุกเฉินอาจเพิ่มได้เป็น 10 คน ปฏิบัติงานนานครั้งละ 7 วัน พร้อมทั้งจะใช้งานได้อีกภายใน 14 วัน ถ้าจำเป็นอาจโคจรอวกาศได้นานถึง 1 เดือน ยานลำแรกของโครงการชื่อ เอ็นเตอร์ไพรส์ ต่อจากนั้นแบ่งเป็นโคลัมเบีย 7 เทียว แชลเลนเจอร์ 10 เทียว ดิสคัฟเวอรี 6 เทียว แอตแลนติส 6 เทียว ยานขนส่งอวกาศนำกลับมาใช้ใหม่ในการบินครั้งต่อไป โครงการยานขนส่งของสหรัฐอเมริกา จนถึงปัจจุบัน มีด้วยกัน 6 ลำคือ

1. เอ็นเตอร์ไพรส์ (Enterprise) เป็นยานทดสอบเบื้องต้น,
2. โคลัมเบีย (Columbia)
3. ดิสคัฟเวอรี (Discovery)
4. แอตแลนติส (Atlantis)
5. แชลเลนเจอร์ (Challenger) ระเบิดขณะขึ้นสู่อวกาศวันที่ 28 มกราคม 2529,
6. เอนดีฟเวอรี (Endeavour)

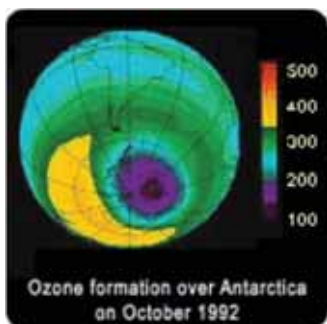
#### ➤ สถานีอวกาศนานาชาติ (ISS - International Space Station)

ประโยชน์ที่ได้จากสถานีอวกาศนานาชาติจะรองรับการปฏิบัติการทดลอง และวิจัยทางวิทยาศาสตร์ โดยแบ่งปฏิบัติการทดลองออกเป็น 6 ส่วนใหญ่ๆ ดังนี้

**1. Life Sciences:** เป็นการศึกษาการพัฒนาการ ของสิ่งมีชีวิต ภายใต้สภาวะไร้แรงโน้มถ่วง ความแตกต่างระหว่างการใช้ชีวิตในอวกาศ สถานีอวกาศ และบนโลก เพื่อนำความรู้ที่ได้ เตรียมตัวสำหรับ การเดินทาง และอาศัยในอวกาศในอนาคต



**2. Earth Sciences:** เนื่องจากวงโคจร ของสถานีอวกาศนานาชาติ สามารถ



ครอบคลุมพื้นที่กว่า 75% บนพื้นผิวโลกและเป็นส่วนที่มนุษย์เรา อาศัยอยู่กว่า 95% ทำให้เราสามารถศึกษาชั้นบรรยากาศ สภาพอากาศ การเปลี่ยนแปลง สภาพป่าที่อยู่อาศัย ทรัพยากร ทรัพยากรน้ำ ทะเลในระดับมหภาค ซึ่งมีผลต่อมวลมนุษย์ได้ การศึกษาดังกล่าว จะนำไปสู่การวางแผน ที่มีผลต่อการดำรงชีวิตอยู่ได้ ของมนุษย์บนโลก ในระยะยาว

3. **Space Sciences:** เป็นการศึกษาด้านอวกาศโดยเฉพาะอย่างยิ่ง การศึกษาไปในทุกๆทิศทาง ในด้านต่างๆเพื่อให้มีความเข้าใจ เกี่ยวกับอวกาศ มากยิ่งขึ้น



4. **Microgravity Sciences:** เป็นการทำการทดลองทฤษฎี



ทางฟิสิกส์ที่มีอยู่ ในสภาพไร้น้ำหนัก ถ่วง ว่าผลที่ได้ จะแตกต่างจากบนโลก

อย่างไร ซึ่งอาจนำมาถึงการค้นพบ ทฤษฎีใหม่ๆ ที่จะเป็นพื้นฐาน ในการไขปริศนา ความลับด้านอวกาศ ในอนาคต ไม่ว่าจะเป็นด้าน ฟิสิกส์พื้นฐาน ด้านชีววิทยา วัสดุ กลศาสตร์ของไหล การเกิดปฏิกิริยา เป็นต้น

5. **Engineering Research and Technology Development:** เป็นการค้นคว้า วิจัยและพัฒนา ด้านวิศวกรรม และเทคโนโลยี ที่ใช้ในกิจการด้านอวกาศ, การขนส่ง, โครงสร้าง, กลไก และพลังงาน โดยใช้ สถานีอวกาศ นานาชาตินี้ เป็นที่สำหรับออกแบบ สร้าง และใช้งานจริง โดยมีเป้าหมายให้ อุปกรณ์หรือเครื่องมือที่ออกแบบ และสร้างขึ้น ใช้งานได้ อย่างมีประสิทธิภาพ โดยที่ต้นทุนในการดำเนินการ และบำรุงรักษาต่ำ และสามารถใช้เป็น ต้นแบบด้านเทคโนโลยีได้ ในอนาคต



6. **Space product development:** เป็นการค้นคว้าวิจัย และพัฒนา เพื่อหาเทคโนโลยีที่ได้



สำหรับการ พัฒนาคุณภาพ ของการผลิต เชิงอุตสาหกรรมบนโลกทุก ปฏิบัติการในการค้นคว้า และวิจัยที่จะเกิดขึ้น ในสถานีอวกาศนานาชาติ ทั้งหมด จะเป็นการทดลองในสภาวะ ไร้น้ำหนักถ่วงทั้งหมด เพื่อศึกษา ความแตกต่าง และผลกระทบที่เกิดขึ้นจากการทดลอง ว่าให้ผลแตกต่างจาก บนโลกอย่างไร และจะเป็นการทดลองที่จะให้ผลเอื้ออำนวยต่อมวล มนุษยชาติ อย่างมหาศาลในเร็ววัน

## เรื่องที่ 4 โครงการสำรวจสถานีอวกาศที่สำคัญในปัจจุบัน

➤ ปัจจุบันเทคโนโลยีอวกาศช่วยมนุษยชาติในสิ่งต่อไปนี้ในแง่ของการทดลองและวิจัยที่ลดสิ่งรบกวน เช่น กฎข้อที่ 1 วัตถุจะคงสภาพการเคลื่อนที่ของมันตราบใดที่ไม่มีแรงภายนอกมารบกวน กฎข้อที่ 1 ของ นิวตัน ไม่มีทางทำได้บนผิวโลกเพราะแรงโน้มถ่วงของโลกจะทำให้การเคลื่อนที่ของวัตถุเป็นแบบโปรเจกไทล์ ถ้าจะทดลองกฎของนิวตัน ให้เห็นจะ ๆ ต้องออกไปทดลองในอวกาศ และยังมี การทดลองทางฟิสิกส์อีกมากมาย ที่จำเป็นต้องขจัดแรงโน้มถ่วงออกไป เช่น การเกิดผลึก การทดลองตัวนำยิ่งยวด และอื่นๆ อีกมากมาย รวมไปถึง กล้องโทรทรรศน์อวกาศที่ไม่ต้องกังวลกับการรบกวนของบรรยากาศ นอกจากนี้ยังมีการทดลองสร้าง Biosphere อีกด้วย

➤ เพื่อศึกษาถึง โครงสร้าง (Structure) และ หน้าที่ (Function) ของเอกภพ เพื่อนำไปสู่แนวทางในการจัดการกับรูปแบบและแนวทางที่ควรจะเป็นไปได้ของกิจกรรมต่าง ๆ ของมนุษย์ที่พึงจะกระทำต่อ เอกภพ นักวิทยาศาสตร์เขาจะคิด และมองไกลไม่ใช่คิดแค่รุ่นเราเท่านั้น สักวันหากชาวโลกยังอยู่ ต้องอพยพหนีไปจักรวาลอื่นแน่นอน เมื่อดวงอาทิตย์หมดอายุ หรือโลกหมดสภาพ ถูกอุกกาบาตชน

➤ เพื่อพัฒนาเทคโนโลยีต่าง ๆ ที่จำเป็น และเหมาะสม กับรูปแบบ หรือวิถีทางในการดำเนินชีวิตและรักษาเผ่าพันธุ์ของมนุษยชาติ แม้แต่การพัฒนาอาวุธต่าง ๆ ก็ถูกรวมในหัวข้อนี้ สงครามก็ถูกรวมเข้าไปในหัวข้อนี้ด้วย นักปรัชญาเขามองสงคราม มีทั้งข้อดีข้อเสีย ไม่แน่ว่าอนาคต ฮิตเลอร์อาจถูกยกย่องก็ได้ เช่น โครงการสตาร์วอร์

➤ วงการแพทย์และสุขอนามัย ยาวบางอย่างตอนนี้ถูกนำไปวิจัยในอวกาศ (ในระดับของปฏิบัติ) โรคบางอย่างถูกเชื่อมโยงไปยังการรักษาในอวกาศ นั่นคือนำไปสู่ขั้นตอนการในอวกาศในอนาคต ตอนนี้ก็มีรายการจับจองทัวร์อวกาศแล้ว

➤ การศึกษาถึงกำเนิดเอกภพ ศึกษาจุดเริ่มต้นของเอกภพ และทำนายถึงจุดจบของเอกภพ ซึ่งจะนำไปสู่ความเข้าใจภาวะและความจำเป็นในการคงอยู่ของเราเอง

## โครงการสำรวจสถานีอวกาศในอนาคต

➤ โครงการสกายแลบและยานขนส่งอวกาศของประเทศสหรัฐอเมริกาและโครงการสถานีโซยุสของสหภาพโซเวียต ได้ทำการทดลองผลิตและสร้างสิ่งประดิษฐ์บางสิ่งบางอย่างที่ทำได้ยากหรือทำไม่ได้บนพื้นโลก เช่นการผลิตสารประกอบที่เบาแต่แข็งแรง การสร้างวัคซีนให้บริสุทธิ์ เป็นต้น

➤ การที่จะสร้างสิ่งต่าง ๆ เหล่านี้ออกมาในด้านอุตสาหกรรมจำเป็นต้องมีโรงงานในอวกาศ ไม่ใช่ขึ้นไปทดลองกับยานอวกาศในแต่ละครั้ง และ โรงงานอุตสาหกรรมนี้อาจจะเริ่มจากโรงงานขนาดเล็กก็ได้ ตามโครงการนี้สหรัฐอเมริกาจะใช้ยานขนส่งอวกาศนำส่วนต่าง ๆ ของโรงงานอุตสาหกรรมอวกาศขึ้นไป ตามที่จะบรรทุกไปได้ในห้องเก็บสินค้า และนำขึ้นไปต่อเข้าด้วยกันในวงโคจรรอบโลก และจะได้โรงงานในอวกาศที่สมบูรณ์ ซึ่งมีแหล่งผลิต ห้องเก็บวัตถุดิบและที่พักสำหรับคนงานที่จะอยู่ปฏิบัติการในอวกาศ รวมทั้งแผงรับแสงอาทิตย์เพื่อผลิตกระแสไฟฟ้าสำหรับโรงงาน

➤ ความคิดที่จะสร้างโรงงานอุตสาหกรรมในอวกาศ โรงไฟฟ้าในอวกาศ จึงได้เกิดขึ้น โดยนักฟิสิกส์แห่งมหาวิทยาลัยปรีนซ์ตัน ชื่อ เกรราร์ด เค โอนิล (Gerrard K. O'Neil) หลังจากโอนิลได้เผยแพร่ความคิดของเขาต่อสาธารณชน ได้มีนักวิทยาศาสตร์จากมหาวิทยาลัยต่าง ๆ ในสหรัฐอเมริกาให้ความสนใจและร่วมมือกันศึกษาถึง โครงสร้างของเมืองอวกาศในอนาคต

➤ การออกแบบสถานีอวกาศขนาดใหญ่หรือเมืองอวกาศนั้น นักวิทยาศาสตร์จะต้องแก้ปัญหาเกี่ยวกับการดำรงชีวิตอยู่ในบริเวณที่มีสภาพไร้น้ำหนัก ที่ไม่ได้อยู่ภายใต้อิทธิพลของแรงโน้มถ่วงของโลก ตัวอย่างเช่น ถ้าหากเราอยู่ในสภาพไร้น้ำหนัก เป็นระยะเวลาสั้น ๆ ในบริเวณที่จำกัดแล้วอาจจะไม่มีผลต่อร่างกายมากนัก แต่ถ้าต้องอาศัยอยู่ในบริเวณที่กว้าง ๆ เป็นระยะเวลานาน ๆ จะเกิดความวุ่นวายเกี่ยวกับการเคลื่อนที่ และไม่สามารถอาศัยอยู่ได้

➤ นักวิทยาศาสตร์กลุ่มหนึ่งจึงได้เสนอความคิดการออกแบบสถานีอวกาศให้มีลักษณะเป็นวงกลมรูปวงแหวนที่สามารถหมุนรอบตัวเองได้ซึ่งจะทำให้เกิดแรงหนีศูนย์กลางขึ้น ลักษณะเช่นนี้จะทำให้คนเราสามารถเคลื่อนที่ไปมาได้ทางด้านที่เป็นของวงแหวน โดยการหันศีรษะเข้าหาจุดศูนย์กลางของสถานีอวกาศ นักวิทยาศาสตร์ได้เสนอว่า หากสถานีอวกาศวงแหวนมีขนาดเส้นผ่าศูนย์กลาง 2 กิโลเมตร จะต้องหมุนในอัตรา 1 รอบ ในเวลา 1 นาที 3 วินาที สถานีอวกาศขนาดใหญ่จะต้องมีบรรยากาศคล้ายโลก โดยที่อากาศในสถานีอวกาศจะต้องมีแก๊สออกซิเจนในอัตราส่วนเท่ากับที่มีอยู่ในบรรยากาศโลก และมีแก๊สไนโตรเจนในอัตราส่วนครึ่งหนึ่งของอัตราส่วนไนโตรเจนในบรรยากาศของโลก ดังนั้น ความดันบรรยากาศของสถานีอวกาศจะเป็นครึ่งหนึ่งของความดันบรรยากาศที่ระดับน้ำทะเล

### โครงการอวกาศที่สำคัญและน่าสนใจ

| วัน/ เดือน/ ปี   | เหตุการณ์ด้านอวกาศที่สำคัญ  |
|------------------|---|
| 4 ตุลาคม 2500    | สหภาพโซเวียตส่งดาวเทียม สпутนิก 1 โคจรรอบโลกเป็นครั้งแรก จนเสร็จสิ้นภารกิจเมื่อ 4 มกราคม 2501   |
| 3 พฤศจิกายน 2500 | สหภาพโซเวียตส่งดาวเทียม สпутนิก 2 พร้อมสุนัขตัวแรกชื่อ ไลก้า ซึ่งถูกส่งไปอยู่ในอวกาศ ดาวเทียมสputนิก 2 หลุดจากวงโคจรในวันที่ 13 เมษายน 2501 |
| 31 มกราคม 2501   | สหรัฐอเมริกาส่งดาวเทียม เอกพลอเรอร์ 1 ขึ้นสู่วงโคจรพร้อมกับการทดลองทางวิทยาศาสตร์เกี่ยวกับการค้นพบแถบรังสีของโลก                            |
| 5 มีนาคม 2501    | สหรัฐฯ ประสบความล้มเหลวในการส่งดาวเทียม เอกพลอเรอร์ 2   |
| 17 มีนาคม 2501   | ดาวเทียมแวนการ์ด 1 ถูกส่งขึ้นไปในวงโคจร   |
| 15 พฤษภาคม 2501  | ดาวเทียม สputนิก 3 ถูกส่งขึ้นไปในวงโคจร   |
| 1 ตุลาคม 2501    | สหรัฐฯ ก่อตั้งองค์การนาซา   |
| 11 ตุลาคม 2501   | ยานไพโอเนียร์ 1 ของสหรัฐฯ ถูกส่งขึ้นไปในระดับ 70,700 ไมล์   |
| 2 มกราคม 2502    | โซเวียตส่งยานลูน่าร์ 1 ไปโคจรรอบดวงอาทิตย์  |



| วัน/ เดือน/ ปี    | เหตุการณ์ด้านอวกาศที่สำคัญ   |
|-------------------|--|
| 3 มีนาคม 2502     | ยานไพโอเนียร์ 4 ของสหรัฐฯ ถูกส่งไปเพื่อทดสอบเส้นทางสู่ดวงจันทร์ ก่อนจะเข้าสู่วงโคจรรอบดวงอาทิตย์   |
| 12 สิงหาคม 2502   | โซเวียตส่งยานลูน่าร์ 2 ไปสัมผัสพื้นผิวของดวงจันทร์ได้เป็นลำแรก   |
| 4 ตุลาคม 2502     | โซเวียตส่งยานลูน่าร์ 3 ไปโคจรรอบดวงจันทร์และถ่ายภาพด้านที่หันออกจากโลก ได้ข้อมูลประมาณ 70 เปอร์เซ็นต์  |
| 12 เมษายน 2504    | ยูริ กาการิน นักบินอวกาศคนแรกของโซเวียต ถูกส่งขึ้นไปโคจรรอบโลกพร้อมกับยานวอสต็อก 1   |
| 5 พฤษภาคม 2504    | สหรัฐฯ ส่ง อลัน เชพาร์ด นักบินอวกาศคนแรกของอเมริกาขึ้นไปกับยานเมอร์คิวรี ฟรีดอม 7  |
| 14 ธันวาคม 2505   | ยานมาริเนอร์ 2 ของสหรัฐฯ บินผ่านดาวศุกร์   |
| 16 มิถุนายน 2506  | วาเลนตินา เทอเรชโกวา นักบินอวกาศหญิงคนแรกถูกส่งขึ้นไปพร้อมกับยานวอสต็อก 7  |
| 14 กรกฎาคม 2507   | ยานมาริเนอร์ 4 ของสหรัฐฯ ถ่ายรูปดาวอังคารในระยะใกล้  |
| 16 พฤศจิกายน 2507 | ยานวินัส 3 ของโซเวียต เป็นยานลำแรกที่สัมผัสพื้นผิวของดาวศุกร์  |
| 3 กุมภาพันธ์ 2509 | ยานลูน่าร์ 9 ของโซเวียต เป็นยานลำแรกที่ลงจอดบนพื้นผิวของดวงจันทร์อย่างนุ่มนวล  |
| 2 มิถุนายน 2509   | ยานเซอร์เวเยอร์ 1 ของสหรัฐฯ ลงจอดบนพื้นผิวดวงจันทร์อย่างนุ่มนวล  |
| 24 เมษายน 2510    | เกิด โศกนาฏกรรมทางอวกาศกับยานโซยุส 1 ของโซเวียต ทำให้วลาดิเมียร์ โคมารอฟ เสียชีวิตด้วยสาเหตุที่ยานกระแทกกับพื้น โลกระหว่างเดินทางกลับ เนื่องจากระบบชูชีพไม่ทำงาน |
| 21 ธันวาคม 2511   | ยานอะพอลโล 8 นำนักบินอวกาศ 3 คนแรกไปโคจรรอบดวงจันทร์   |
| 20 กรกฎาคม 2512   | สหรัฐฯ ส่ง นีล อาร์มสตรอง และ เอ็ดวิน อัลดริน ขึ้นไปเหยียบบนพื้นผิวดวงจันทร์เป็นครั้งแรก   |

### คำถามประกอบกิจกรรม

1. มนุษย์ใช้ประโยชน์จากดาวเทียมในเรื่องใดบ้าง อย่างไร
2. นักศึกษาคิดว่า ยานขนส่งอวกาศมีความจำเป็นต่อมนุษย์ในด้านใดบ้าง เพราะเหตุใด
3. ผลกระทบของเทคโนโลยีอวกาศที่มีต่อการดำรงชีวิตของมนุษย์มีอะไรบ้าง อย่างไร

### กิจกรรมเสนอแนะ

1. นักศึกษาค้นคว้าความรู้เรื่อง การใช้ประโยชน์จากเทคโนโลยีอวกาศ แล้วนำผลงานที่ได้จากการศึกษาค้นคว้ามาอภิปรายร่วมกัน
2. แบ่งกลุ่มนักศึกษาทำกิจกรรม เรื่อง การใช้ประโยชน์จากเทคโนโลยีอวกาศ เมื่อดำเนินการทดลองเสร็จแล้วให้จัดทำรายงานและผลการทดลองและนำข้อมูลมาอภิปรายร่วมกัน
3. นักศึกษาไปศึกษานอกสถานที่ เช่น ศูนย์วิทยาศาสตร์เพื่อการศึกษารังสิต หรือ สถานีโทรทัศน์ที่อยู่ใกล้โรงเรียน เป็นต้น หลังจากนั้นให้นักศึกษาเขียนรายงานสรุปความรู้ที่ได้รับจากการไปทัศนศึกษา

### คำถามสรุป

1. จงอธิบายการทำงานของดาวเทียมสื่อสาร ที่โคจรในระดับต่ำและระดับสูง พร้อมยกตัวอย่างประกอบ
2. นักศึกษาคิดว่าเราได้ประโยชน์จากภาพถ่ายดาวเทียมสำรวจทรัพยากรธรรมชาติในการอนุรักษ์ทรัพยากรธรรมชาติลักษณะใด
3. ดาวเทียมไทยคมให้ประโยชน์กับประเทศไทยลักษณะใด
4. การที่มนุษย์ส่งยานอวกาศไปศึกษาดวงจันทร์ หรือดาวเคราะห์ต่างๆ จะมีประโยชน์ต่อมนุษย์ในด้านใดบ้าง
5. นักศึกษาคิดว่า การสร้างโรงงานอุตสาหกรรมในอวกาศเพื่อให้มนุษย์ใช้ในการปฏิบัติงานในอวกาศมีความเป็นไปได้หรือไม่ จงอธิบาย



## แบบทดสอบที่ 1

ชื่อ-สกุล.....เลขที่.....ระดับชั้น.....ปี.....

1. ปัจจุบันนี้ประเทศไทยมีดาวเทียมสื่อสารแห่งชาติเป็นของตนเอง ชื่อว่า \_\_\_\_\_  
ซึ่งดำเนินงาน โดย บริษัท \_\_\_\_\_ และขณะนี้มีจำนวนทั้งสิ้น  
กี่ดวงได้แก่ดาวเทียมดวงใดบ้าง และแต่ละดวงถูกส่งขึ้นในปีใด (3 คะแนน)  
ตอบ 1. \_\_\_\_\_ ( 1 คะแนน)  
2. \_\_\_\_\_ ( 1 คะแนน)  
3. \_\_\_\_\_ ( 1 คะแนน)
2. ตำแหน่งของดาวเทียมอุตุนิยมวิทยาชนิดใดที่สัมพันธ์กับตำแหน่งบนพื้น โลกในบริเวณเดิมเสมอ  
(3 คะแนน) ตอบ ชนิดของดาว ได้( 1 คะแนน) \_\_\_\_\_  
ตอบการทำงานของดาวได้( 1คะแนน) \_\_\_\_\_  
ตอบตำแหน่งที่ดาวเทียมดวงนี้อยู่ ( 1 คะแนน) \_\_\_\_\_
3. ข้อมูลภาพถ่ายชั้นบรรยากาศของโลก และถ่ายทอดข้อมูลจากสถานีภาคพื้นดิน ทำการตรวจอากาศ  
ของโลกประจำวัน ข้อมูลเหล่านี้ ได้จากดาวเทียมประเภทใด ตอบ(1 คะแนน)  
\_\_\_\_\_
4. ดาวเทียม Spot เป็นของสถาบันพัฒนาอวกาศแห่งชาติฝรั่งเศสร่วมกับประเทศในกลุ่มยุโรป เป็น  
ดาวเทียมที่ใช้ประโยชน์ทางด้านใด ตอบ( 1 คะแนน)  
\_\_\_\_\_
5. ข้อมูลด้านการใช้ที่ดิน ด้านอุทกศาสตร์ ด้านป่าไม้ ด้านการประมง ด้านการเกษตร ได้จาก  
ดาวเทียมประเภทใด ตอบ( 1 คะแนน) \_\_\_\_\_
6. ยานอวกาศ หมายถึง(1 คะแนน) \_\_\_\_\_  
\_\_\_\_\_  
อวกาศ หมายถึง ( 1 คะแนน) \_\_\_\_\_
7. ยานอวกาศ มี \_\_\_\_\_ ประเภทคือ ( 2 คะแนน) \_\_\_\_\_
8. ระบบการขนส่งอวกาศเป็น โครงการที่ถูกออกแบบให้สามารถนำชิ้นส่วนบางส่วนที่ใช้ไปแล้ว  
กลับมาใช้ใหม่อีกเพื่อเป็นการประหยัดและมีประสิทธิภาพมากที่สุด ประกอบด้วย \_\_\_\_\_ ส่วนหลัก  
คือ ( 2 คะแนน) \_\_\_\_\_
9. เป้าหมายหลักของโครงการขนส่งอวกาศในอนาคตคือ \_\_\_\_\_  
( 2 คะแนน) \_\_\_\_\_

## แบบทดสอบที่ 2

ชื่อ-สกุล.....เลขที่.....ระดับชั้น.....ปี.....

1. ปรัชญาการณับน โลก เกี่ยวข้องกับเทคโนโลยีประเภทบ้าง ยกตัวอย่าง

ตอบ \_\_\_\_\_

2. ปรัชญาการณับนในอวกาศเกี่ยวข้องกับเทคโนโลยีประเภทใดบ้าง จงยกตัวอย่าง

ตอบ \_\_\_\_\_

เช่น

\_\_\_\_\_ เป็นต้น

3. โครงการใดเป็นโครงการที่ประสบความสำเร็จครั้งร้ายแรง เมื่อยานเกิดระเบิดขึ้น ขณะอยู่บนท้องฟ้าคือโครงการใด \_\_\_\_\_ และเกิดจากสาเหตุใด

\_\_\_\_\_

4. โครงการยานขนส่งอวกาศคือ \_\_\_\_\_

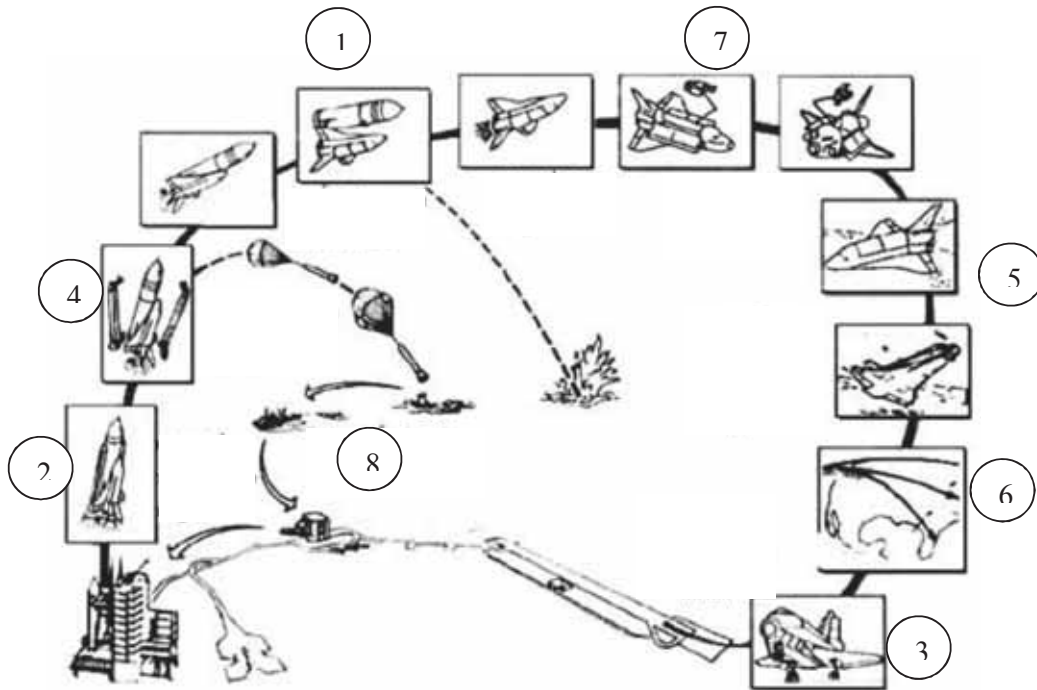
5. ยานสำรวจอวกาศหมายถึง \_\_\_\_\_

\_\_\_\_\_

### แบบทดสอบ ที่ 3

ชื่อ-สกุล.....เลขที่.....ระดับชั้น.....ปี.....

ให้นักศึกษาดูรูปภาพแล้วนำหมายเลข เดิมลงในกล่องสี่เหลี่ยมผืนผ้าหน้าข้อความข้างล่าง (8 คะแนน)



- 1..... ถึงเชื้อเพลิงแข็งแยกตัวออกมา
- 2.....ยานขนส่งอวกาศเข้าสู่วง โคจร
- 3..... ลดระดับวง โคจรเพื่อเข้าสู่ชั้นบรรยากาศ
- 4..... ถึงเชื้อเพลิงภายนอกแยกตัวออกมา
- 5..... ยานขนส่งอวกาศปฏิบัติการกิจ
- 6..... ยานขนส่งอวกาศกลับสู่พื้น โลก
- 7..... นำจรวดเชื้อเพลิงแข็งกลับมาใช้ใหม่
- 8..... ยานอวกาศถูกปล่อยออกจากฐาน

## แบบทดสอบที่ 4

ชื่อ-สกุล.....เลขที่.....ระดับชั้น.....ปี.....

1. โครงการอะพอลโล มีจุดประสงค์  
เพื่อ \_\_\_\_\_
2. โครงการสกายแล็บ เพื่อจุดประสงค์ใด  
เพื่อ \_\_\_\_\_  
เช่น \_\_\_\_\_
3. โครงการอะพอลโล-โซยุส มีจุดประสงค์เพื่อ  
ตอบ  
\_\_\_\_\_
4. โครงการขนส่งอวกาศมีขึ้นเพื่อ  
ตอบ  
\_\_\_\_\_
5. ดาวเทียมไทยคม 1 ถูกยิงขึ้นจากฐานยิงจรวดเอเรียนสเปซ เมืองคูรู ที่ประเทศใด  
ตอบ  
\_\_\_\_\_
6. ดาวเทียมไทยคมทั้ง 3 ดวง เป็นดาวเทียมประเภทใด  
ตอบ \_\_\_\_\_
7. การก่อตัวและเคลื่อนตัวของพายุ เราสามารถทราบได้จากดาวเทียมประเภทใด  
ตอบ \_\_\_\_\_
8. ดาวเทียมอูดินิยมวิทยา ได้ถูกส่งขึ้นไปโคจรในอวกาศเป็นครั้งแรก เมื่อวันที่ 1 เมษายน พ.ศ. 2503  
มีชื่อว่า TIROS 01 (Television and Infrared Observational Satellite) เป็นของประเทศ  
ตอบ \_\_\_\_\_
9. ดาวเทียมอูดินิยมวิทยาชนิดที่โคจรรอบโลกโดยจะโคจรรอบโลก จากทิศใต้ไปทิศใต้  
ตอบ \_\_\_\_\_
10. ดาวเทียม Spot เป็นของสถาบันพัฒนาอวกาศแห่งชาติฝรั่งเศสร่วมกับประเทศในกลุ่มยุโรป  
ใช้ประโยชน์ทางด้านใด  
ตอบ \_\_\_\_\_

## แบบฝึกหัดที่ 5

1. ประเทศใดได้สร้างยานอวกาศเพื่อสำรวจดวงจันทร์และดาวเคราะห์ในระบบสุริยะ เป็นชาติแรก  
ตอบ \_\_\_\_\_
2. โครงการใดที่ ออกแบบให้ยานพุ่งชนดวงจันทร์  
ตอบ \_\_\_\_\_
3. โครงการใด กำหนดให้ยานไปวนถ่ายภาพรอบดวงจันทร์  
ตอบ \_\_\_\_\_
4. โครงการใด ออกแบบให้ยานจอดลงบนพื้นอย่างนุ่มนวล  
ตอบ \_\_\_\_\_
5. โครงการอะพอลโล มีจุดประสงค์คือ นำมนุษย์ไปสำรวจดวงจันทร์ ใช้มนุษย์อวกาศ  
ครั้งละ 3 คน เป็นโครงการต่อจากเมอร์คิวรีและเจมินี มนุษย์อวกาศชุดแรกที่หยุดบนพื้นดวงจันทร์  
เป็นชุดอวกาศที่เดินทางไปกับยานอะพอลโล 11 โครงการอะพอลโลเรียกว่าประสบความสำเร็จตาม  
เป้าหมายมาตลอด มีเพียงลำเดียวที่เกิดอุบัติเหตุขณะมุ่งหน้าสู่ดวงจันทร์ ยานที่ว่าคือยานอะไร  
ตอบ \_\_\_\_\_
6. โครงการยานขนส่งของสหรัฐอเมริกา จนถึงปัจจุบัน มีด้วยกัน \_\_\_\_\_ ลำประกอบด้วย  
\_\_\_\_\_  
\_\_\_\_\_  
\_\_\_\_\_  
\_\_\_\_\_

## กระบวนการวัดและประเมินผลรายวิชาวิทยาศาสตร์

## 1. วิธีวัด

การทดสอบด้วยแบบทดสอบก่อนเรียนและหลังเรียน

ให้ปฏิบัติกิจกรรมการทดลอง (กระบวนการกลุ่ม)

ให้ปฏิบัติกิจกรรมสืบค้น (กระบวนการกลุ่ม)

ให้อภิปรายกลุ่มย่อยและนำเสนอผลงาน

ตรวจผลงาน

## 2. เครื่องมือวัด

แบบทดสอบก่อนเรียนและหลังเรียน

แบบบันทึกผลจากการสังเกตการปฏิบัติงานกลุ่ม

แบบบันทึกผลจากการสังเกตด้านทักษะกระบวนการทางวิทยาศาสตร์

แบบบันทึกผลจากการประเมินเจตคติทางวิทยาศาสตร์  
 ใบบงาน

### กิจกรรมเสริมการเรียนรู้เพิ่มเติม

1. นักศึกษาจัดหาวารสาร เช่น วารสารวิทยาศาสตร์ ดาราศาสตร์ ฯลฯ ที่มีบทความเกี่ยวกับ  
 ยานอวกาศ ดาวเทียม และความก้าวหน้าทางด้านอวกาศมาให้นักเรียนอ่าน แล้วร่วมกันอภิปราย  
 พร้อมทั้งสรุปประเด็นสำคัญ

2. ครูจัดทำสไลด์หรือวีดิทัศน์เกี่ยวกับดาวเทียมและยานอวกาศมาฉายให้นักเรียนชม

3. ให้นักเรียนเลือกทำโครงการต่อไปนี้ (เลือก 1 ข้อ)

1) โครงการศึกษาค้นคว้า เรื่อง ประวัติการพัฒนายานขนส่งอวกาศ

2) โครงการศึกษาค้นคว้า เรื่อง การใช้ชีวิตและการทำงานของนักบินอวกาศ

### สื่อ/แหล่งการเรียนรู้

1. แบบทดสอบก่อนเรียนและหลังเรียน

2. สไลด์หรือวีดิทัศน์ที่เกี่ยวข้องกับบทเรียน

3. สื่อ สิ่งพิมพ์ และเว็บไซต์ต่าง ๆ ทางอินเทอร์เน็ตที่เกี่ยวข้อง

4. ห้องสมุด

5. หนังสือวิทยาศาสตร์ รายวิชา โลก ดาราศาสตร์ และอวกาศ ชั้น ม. 4-6 สำนักพิมพ์

วัฒนาพานิช

6. หนังสือปฏิบัติการวิทยาศาสตร์ รายวิชา โลก ดาราศาสตร์ และอวกาศ ชั้น ม. 4-6  
 สำนักพิมพ์วัฒนาพานิช

## บทที่ 14

### อาชีพช่างไฟฟ้า

#### สาระสำคัญ

การเลือกอาชีพช่างไฟฟ้านั้น หมายถึงการประกอบอาชีพที่น่าสนใจและมีรายได้ดีอีกอาชีพหนึ่ง ช่างไฟฟ้ามีหลายประเภท และหน้าที่ของช่างไฟฟ้าก็แตกต่างกันมาก ช่างไฟฟ้าที่ทำงานในสถานก่อสร้างขนาดใหญ่ก็ใช้เครื่องมือและทักษะต่างๆที่แตกต่างไปจากช่างไฟฟ้าที่ทำงานในโรงงานอุตสาหกรรมขนาดใหญ่ อย่างไรก็ตามก็ถือว่ากล่าวโดยทั่วๆ ไปแล้ว ช่างไฟฟ้าทุกประเภทจะต้องมีความรู้พื้นฐานทางด้านไฟฟ้า มีความสามารถอ่านแบบพิมพ์เขียนวงจรไฟฟ้าและสามารถซ่อมแซมแก้ไขอุปกรณ์เครื่องใช้ไฟฟ้าได้ แหล่งงานของช่างไฟฟ้า ส่วนใหญ่ในปัจจุบันนี้ทำงานให้กับผู้รับเหมางานด้านไฟฟ้า หรือไม่ก็ทำในโรงงานอุตสาหกรรมขนาดใหญ่ นอกจากนั้นมีช่างไฟฟ้าอีกจำนวนไม่น้อยที่ทำงานอย่างอิสระเป็นผู้รับเหมารอง และมีช่างไฟฟ้าจำนวนหนึ่งทำงานให้กับองค์กรของรัฐบาลหรือทางธุรกิจ ซึ่งเป็นงานที่ให้บริการแก่หน่วยงานของตน แม้ว่าแหล่งงานของช่างไฟฟ้าจะมีอยู่ทั่วประเทศ แต่แหล่งงานส่วนใหญ่จะอยู่ในเขตอุตสาหกรรม หรือเขตพื้นที่ที่กำลังพัฒนา

#### ผลการเรียนรู้ที่คาดหวัง

สามารถอธิบาย ออกแบบ วางแผน ทดลอง ทดสอบ ปฏิบัติการเรื่องไฟฟ้าได้อย่างถูกต้องและปลอดภัย คิด วิเคราะห์ เปรียบเทียบข้อดี ข้อเสีย ของการต่อวงจรไฟฟ้าแบบอนุกรม แบบขนาน แบบผสม ประยุกต์และเลือกใช้ความรู้ และทักษะอาชีพช่างไฟฟ้า ให้เหมาะสมกับด้านบริหารจัดการและการบริการ

#### ขอบข่ายเนื้อหา

1. ประเภทของไฟฟ้า
  2. วัสดุอุปกรณ์เครื่องมือช่างไฟฟ้า
  3. วัสดุอุปกรณ์ที่ใช้ในวงจรไฟฟ้า
- การต่อวงจรไฟฟ้าอย่างง่าย
4. กฎของโอห์ม
  5. การเดินสายไฟฟ้าอย่างง่าย
  6. การใช้เครื่องใช้ไฟฟ้าอย่างง่าย
  7. ความปลอดภัยและอุบัติเหตุจากอาชีพช่างไฟฟ้า
  8. การบริหารจัดการและการบริการ
  9. โครงการวิทยาศาสตร์สู่อาชีพ
  10. คำศัพท์ทางไฟฟ้า

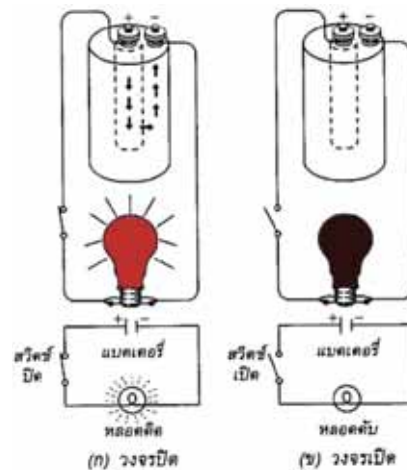
## 1. ประเภทของไฟฟ้า แบ่งได้เป็น 2 แบบ ดังนี้

1.1 ไฟฟ้าสถิต เป็นไฟฟ้าที่เก็บอยู่ภายในวัตถุ ซึ่งเกิดจากการเสียดสีของวัตถุ 2 ชนิด มาถูกัน เช่น แท่งอำพันจะถ่ายอิเล็กตรอนให้แก่ผ้าขนสัตว์ แท่งอำพันจึงมีประจุลบ และผ้าขนสัตว์มีประจุบวก



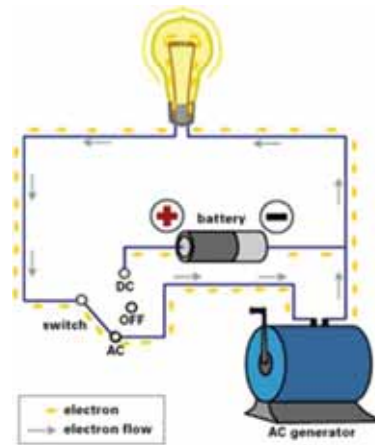
1.2 ไฟฟ้ากระแส เป็นไฟฟ้าที่เกิดจากการไหลของอิเล็กตรอนจากแหล่งกำเนิดไฟฟ้า โดยไหลผ่านตัวนำไฟฟ้าไปยังที่ที่ต้องการใช้กระแสไฟฟ้า ซึ่งเกิดขึ้นได้จากแรงกดดัน ความร้อน แสงสว่าง ปฏิกิริยาเคมี และอำนาจแม่เหล็กไฟฟ้า ไฟฟ้ากระแสแบ่งเป็น 2 แบบ ดังนี้

1) ไฟฟ้ากระแสตรง (Direct Current : DC) เป็นไฟฟ้าที่มีทิศทางการไหลของกระแส และขนาดคงที่ตลอดเวลา แหล่งกำเนิดไฟฟ้ากระแสตรงที่รู้จักกันดี เช่น แบตเตอรี่ ถ่านไฟฉาย การเปลี่ยนกระแสไฟฟ้าเป็นไฟฟ้ากระแสตรง (DC) ต้องใช้ตัวแปลงไฟ (Adapter)



2) ไฟฟ้ากระแสสลับ (Alternating Current : AC) เป็นไฟฟ้าที่มีทิศทางการไหลของกระแสสลับไปสลับมา และขนาดเปลี่ยนแปลงตลอดเวลา ไฟฟ้ากระแสสลับได้นำมาใช้ภายในบ้านกับงานต่าง ๆ เช่น ระบบแสงสว่าง เครื่องรับวิทยุ โทรทัศน์ พัดลม เป็นต้น





## 2. วัสดุอุปกรณ์เครื่องมือช่างไฟฟ้า

วัสดุอุปกรณ์ที่ใช้ในการปฏิบัติงานช่างไฟฟ้า ที่ควรรู้มีดังนี้

### 2.1 ไขควง แบ่งเป็น 2 แบบ คือ

#### 1) ไขควงแบบปากแบน



#### 2) ไขควงแบบฟิลลิป หรือสี่แฉก



ขนาดและความหนาของปากไขควงทั้งสองแบบจะมีขนาดต่าง ๆ กัน ขึ้นอยู่กับขนาดของหัวสกรูที่ใช้ในการคลาย หรือขันสกรู โดยปกติการขันสกรูจะหมุนไปทางขวาตามเข็มนาฬิกา ส่วนการคลายสกรูจะหมุนไปทางซ้ายทวนเข็มนาฬิกา

ไขควงอีกประเภทหนึ่ง เป็นไขควงเฉพาะงานไฟฟ้า คือ ไขควงวัดไฟฟ้า ซึ่งเป็นไขควงที่มีหลอดไฟอยู่ที่ด้าม ใช้ในการทดสอบวงจรไฟฟ้า

**2.2 มีด** มีดที่ใช้กับการปฏิบัติงานไฟฟ้าส่วนใหญ่เป็นมีดพับ หรือคัตเตอร์ ใช้ในการลอกฉนวน ตัด หรือควั่น ฉนวนของสายไฟฟ้า



วิธีการใช้มีดอย่างถูกต้องในการปอกสายไฟฟ้า

1. ใช้มีดควั่นรอบ ๆ เปลือกหุ้มภายนอก
2. ผ่าเปลือกที่หุ้มระหว่างกลางสาย
3. แยกสายออกจากกัน

2.3 คีม เป็นอุปกรณ์ที่ใช้ในการบีบ ตัด ม้วนสายไฟฟ้า สามารถแบ่งออกได้ ดังนี้

1) คีมตัด เป็นคีมตัดแบบด้านข้าง ใช้ตัดสายไฟฟ้าสายเกลียว สายเกลียวอ่อน และสายส่งกำลังไฟฟ้าที่มีขนาดเล็ก



2) คีมปากจิ้งจก เป็นคีมที่ใช้สำหรับงานจับ ดึง หรือขมวดสายไฟเส้นเล็ก



3) คีมปากแบน เป็นคีมใช้ตัด บีบ หรือขมวดสายไฟ



4) คีมปากกลม เป็นคีมที่ใช้สำหรับทำหูสาย (ม้วนหัวสาย สำหรับงานยึดสายไฟเข้ากับหลักสาย)



5) **คีมปกอสาย** ใช้สำหรับปกกนวนของสายไฟฟ้า สายเกลียวอ่อน และสายส่งกำลังไฟฟ้า คีมปกกนวนจะใช้กับสายไฟที่มีขนาดของลวดตัวนำเฉพาะเท่านั้น คีมปกกสายควรหุ้มด้วยฉนวน เช่น พลาสติก เพื่อป้องกันไฟฟ้ารั่ว หรือไฟฟ้าดูด



2.4 **สว่าน** ใช้ในการเจาะยึดอุปกรณ์ไฟฟ้า เช่น สวิตช์ โคมไฟฟ้า เป็นไม้ ซึ่งยึดด้วยน็อต หรือ สกรู จำเป็นต้องเจาะรู การเจาะสามารถทำได้โดยใช้สว่าน หรือบิตหล่า

สว่านที่ใช้มี 3 แบบ คือ

1) สว่านข้อเสื่อ



2) สว่านเฟือง



3) สว่านไฟฟ้า



การเลือกใช้สว่าน และดอกสว่าน ควรเลือกใช้ให้เหมาะสมกับขนาดของอุปกรณ์ไฟฟ้า และขนาดของงาน การเจาะประเภทเบา ๆ เช่น การเจาะเป็นไม้ สามารถใช้สว่านเฟือง หรือสว่านข้อเสื่อได้ ถ้าเป็นการเจาะโลหะ หรือคอนกรีต หรือพื้นปูน ต้องใช้สว่านไฟฟ้า

2.5 ค้อน ใช้ในงานตอกตะปู เพื่อยึดเข็มขัดรัดสาย (clip) ให้ติดกับผนัง หรืองานนำศูนย์ สำหรับการเจาะโลหะ คอนกรีต พื้นปูน ค้อนที่ใช้จะมีขนาด และน้ำหนักแตกต่างกัน แต่ที่นิยมใช้จะมีน้ำหนัก 200 กรัม

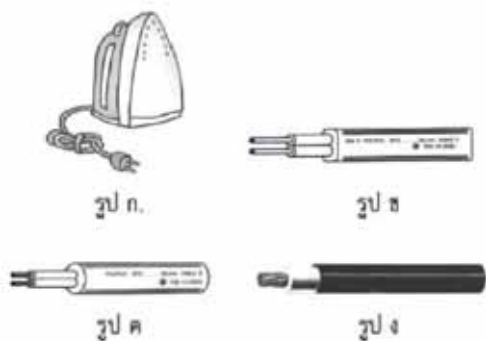


**ข้อควรระวัง** ในการใช้งานหัวค้อนจะต้องอัดเข้ากับด้ามค้อนที่เป็นไม้ให้แน่น และหัวค้อนจะต้องผ่านการชุบผิวแข็งมาเรียบร้อยแล้ว

### 3. วัสดุอุปกรณ์ที่ใช้ในวงจรไฟฟ้า

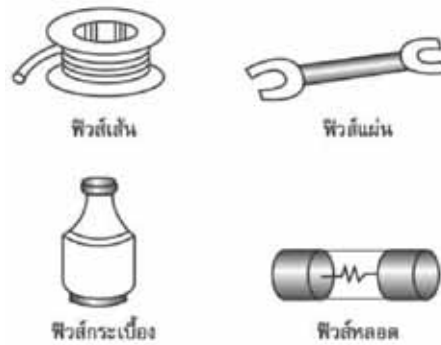
3.1 สายไฟ เป็นอุปกรณ์สำหรับส่งพลังงานไฟฟ้าจากที่หนึ่ง ไปยังอีกที่หนึ่ง โดยกระแสไฟฟ้าจะนำพลังงานไฟฟ้าผ่านไปตามสายไฟจนถึงเครื่องใช้ไฟฟ้า สายไฟทำด้วยสารที่มีคุณสมบัติเป็นตัวนำไฟฟ้า (ยอมให้กระแสไฟฟ้าไหลผ่านได้ดี) ได้แก่

- 1) สายไฟแรงสูง ทำด้วยอะลูมิเนียม เพราะอะลูมิเนียมมีราคาถูก และน้ำหนักเบากว่าทองแดง
- 2) สายไฟทั่วไป (สายไฟในบ้าน) ทำด้วยโลหะทองแดง เพราะทองแดงมีราคาถูกกว่าโลหะเงิน

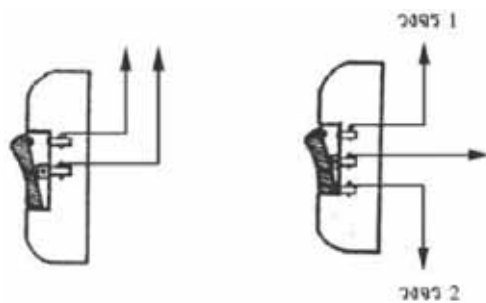


- ก. สายทนความร้อน มีเปลือกนอกเป็นฉนวนที่ทนความร้อน เช่น สายเตารีด
- ข. สายคู่ ใช้เดินในอาคารบ้านเรือน
- ค. สายคู่ มีลักษณะอ่อน ใช้กับเครื่องใช้ไฟฟ้าภายในบ้าน เช่น วิทยุ โทรทัศน์
- ง. สายเดี่ยว ใช้เดินในท่อร้อยสาย

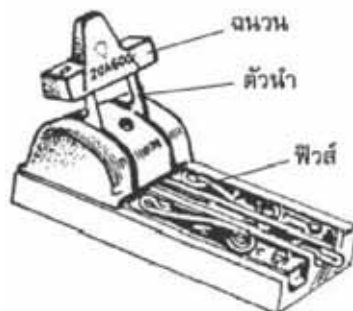
3.2 พิวส์ เป็นอุปกรณ์ที่ทำหน้าที่ป้องกันไม่ให้กระแสไฟฟ้าไหลผ่านเข้ามามากเกินไป ถ้ามีกระแสผ่านมามากฟิวส์จะตัดวงจรไฟฟ้าโดยอัตโนมัติ พิวส์ทำด้วยโลหะผสมระหว่างตะกั่ว กับดีบุก และบิสมัทผสมอยู่ ซึ่งเป็นโลหะที่มีจุดหลอมเหลวต่ำ มีความต้านทานสูง และมีรูปร่างแตกต่างกันไปตามความต้องการใช้งาน



3.3 สวิตช์ เป็นอุปกรณ์ที่ตัดหรือต่อวงจรไฟฟ้าในส่วนที่ต้องการ ทำหน้าที่คล้ายสะพานไฟ โดยต่ออนุกรมเข้ากับเครื่องใช้ไฟฟ้า สวิตช์มี 2 ประเภท คือ สวิตช์ทางเดียว และสวิตช์สองทาง



3.4 สะพานไฟ เป็นอุปกรณ์สำหรับตัด หรือต่อวงจรไฟฟ้า ประกอบด้วย ฐาน และคันโยกที่มีลักษณะเป็นขาโลหะ 2 ขา ซึ่งมีที่จับเป็นฉนวน เมื่อสับคันโยกลงไปในช่องที่ทำด้วยตัวนำไฟฟ้า กระแสไฟฟ้าจากมาตรไฟฟ้าจะไหลเข้าสู่วงจรไฟฟ้า และเมื่อยกคันโยกขึ้นกระแสไฟฟ้าจะหยุดไหล



3.5 สตาร์ทเตอร์ (Starter) หมายถึง อุปกรณ์นอกเหนือสวิตช์หลัก ทำหน้าที่ต่อหรือตัดวงจรอุ่นไส้ก่อนของหลอด สตาร์ทเตอร์แบ่งเป็น 2 ประเภท คือ



ประเภท 1 สตาร์ทเตอร์ไม่มีขีดจำกัดระยะเวลาการทำงาน


ประเภท 2 สตาร์ทเตอร์มีขีดจำกัดระยะเวลาการทำงาน ซึ่งแบ่งเป็น 3 ชนิด ดังต่อไปนี้

- 1) ชนิดไม่สามารถตั้งใหม่ได้
- 2) ชนิดตั้งใหม่ได้
- 3) ชนิดตั้งใหม่ได้อัตโนมัติโดยการกระตุ้นด้วยสวิตช์หลัก หรือวิธีการอื่นๆ ที่ออกแบบไว้โดยมี

วัตถุประสงค์เพื่อการจุดหลอด

**3.6 บัลลาสต์ (Ballast)** ทำหน้าที่เพิ่มความต่างศักย์ไฟฟ้า มีความต้านทานต่อไฟฟ้ากระแสสลับสูง บัลลาสต์ที่ใช้แบ่งออกเป็น 2 ประเภท คือ 1.บัลลาสต์แม่เหล็กไฟฟ้า 2.บัลลาสต์อิเล็กทรอนิกส์

**1) บัลลาสต์แม่เหล็กไฟฟ้า (Electromagnetic Ballast)** เป็นบัลลาสต์ที่ใช้ขดลวดพันรอบแกนเหล็ก เพื่อทำงานเป็น Reactor ต่ออนุกรมกับหลอด



ภาพแสดงบัลลาสต์แม่เหล็กไฟฟ้า

**2) บัลลาสต์อิเล็กทรอนิกส์ (Electronic Ballast)** เป็นบัลลาสต์ที่ใช้วงจรอิเล็กทรอนิกส์ทำงานจะมีราคาค่อนข้างแพง แต่มีข้อดีกว่าบัลลาสต์แม่เหล็กไฟฟ้าหลายข้อคือ ช่วยเพิ่มประสิทธิภาพของหลอด ไม่เกิดการกระพริบหรือเกิดแสงวาบ สามารถเปิดติดทันทีไม่ต้องใช้สตาร์ทเตอร์ เพิ่มอายุการใช้งานของหลอด และไม่ต้องปรับปรุงเรื่องตัวประกอบกำลัง (Power Factor P.F.) นอกจากนี้ยังไม่มีเสียงรบกวน และน้ำหนักเบาอีกด้วย



ภาพแสดงบัลลาสต์อิเล็กทรอนิกส์

### 3.7 มิเตอร์ไฟฟ้า

เราสามารถตรวจสอบกระแสไฟฟ้าในเส้นลวดได้ โดยแขวนแท่งแม่เหล็กใกล้ๆเส้นลวด แล้วสังเกตการเบนของแท่งแม่เหล็ก แนวความคิดนี้นำไปสู่การสร้างเครื่องวัด(มิเตอร์) การเบนของเข็มบนสเกลจะบอกปริมาณของกระแสไฟฟ้าเป็นเครื่องวัดความต่างศักย์ไฟฟ้าได้



แกลแวนอมิเตอร์ (Galvanometer) เป็นเครื่องมือที่ใช้ตรวจหากระแสตรงใช้หลักการของผลทางแม่เหล็ก เครื่องมือที่ง่ายที่สุดคือเข็มทิศวางไว้ใกล้เส้นลวดเพื่อตรวจดูว่ามีกระแสไฟฟ้าไหลผ่านเส้นลวดหรือไม่ แกลแวนอมิเตอร์แบบขดลวดเคลื่อนที่ใช้หลักการผลทางมอเตอร์ในการแสดงการเบนของเข็ม

แอมมิเตอร์ (Ammeter) เป็นเครื่องมือใช้วัดกระแสไฟฟ้า ทำด้วยแกลแวนอมิเตอร์ชนิดขดลวด มีการออกแบบทำให้เข็มเบนไปตามสเกลในการวัดกระแสไฟฟ้าค่าสูงๆ ต้องเพิ่มขั้วเข้าไปเพื่อให้กระแสไฟฟ้าสูงทำให้เข็มเบนเต็มสเกลใหม่

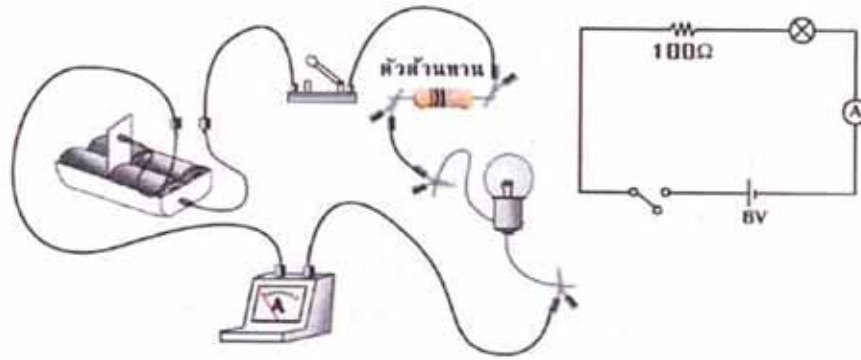
โวลต์มิเตอร์ (Voltmeter) เป็นเครื่องมือที่ใช้วัดความต่างศักย์ไฟฟ้าระหว่างจุด 2 จุด ทำจากแกลแวนอมิเตอร์ที่ต่ออนุกรมกับความต้านทานสูงความต่างศักย์ขนาดหนึ่งให้กระแสไฟฟ้าที่ทำให้เข็มเบนไปเต็มสเกล ในการวัดความต่างศักย์สูงมากๆ ต้องใช้มัลติโพลเลอร์

มัลติมิเตอร์ (Multimeter) เป็นแกลแวนอมิเตอร์ที่ต่อกับขั้ว(คูแอมมิเตอร์)และมัลติโพลเลอร์ (คูโวลต์มิเตอร์) ใช้วัดกระแสไฟฟ้าและความต่างศักย์ไฟฟ้า

มิเตอร์ชนิดแท่งแม่เหล็กเคลื่อนที่ (Moving iron meter) เป็นมิเตอร์ที่ใช้วัดกระแสไฟฟ้า ซึ่งทำให้เกิดการเหนี่ยวนำแม่เหล็กในแท่งเหล็ก 2 อัน ดูดหรือผลักกัน ทำให้เกิดการเบนของแท่งเหล็กนั้น

### 4. การต่อวงจรไฟฟ้า

วงจรไฟฟ้าเป็นเส้นทางเคลื่อนที่ของประจุไฟฟ้า การเคลื่อนที่จะเกิดขึ้นได้จะต้องมีแหล่งกำเนิดพลังงานไฟฟ้าต่อเชื่อมเข้ากับเส้นลวดตัวนำ และอุปกรณ์ไฟฟ้าหนึ่ง หรือสองชนิด เช่น สวิตช์ความต้านทาน แอมมิเตอร์ โวลต์มิเตอร์ หรือหลอดไฟฟ้า เป็นต้น กระแสไฟฟ้าจะไหลออกจากแหล่งกำเนิดไปโดยรอบวงจรที่ต่อเชื่อมกัน



วงจรไฟฟ้าที่มีอุปกรณ์ต่อเชื่อมกัน และแผนผังวงจรไฟฟ้า

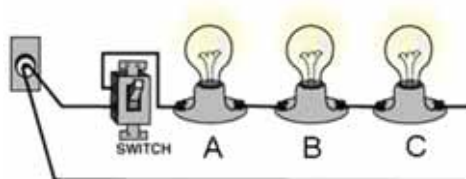
นักวิทยาศาสตร์นิยมใช้สัญลักษณ์เป็นตัวแทนอุปกรณ์ไฟฟ้าต่าง ๆ ในวงจรไฟฟ้าเพื่อให้ง่ายและทำความเข้าใจได้ในเวลาอันรวดเร็ว โดยใช้สัญลักษณ์ที่แทนอุปกรณ์ไฟฟ้าต่าง ๆ แสดงไว้ดังตาราง

| ชื่อ            | สัญลักษณ์ |
|-----------------|-----------|
| 1. เซลล์ไฟฟ้า   |           |
| 2. แบตเตอรี่    |           |
| 3. สายไฟ        |           |
| 4. สวิตช์       |           |
| 5. ความต้านทาน  |           |
| 6. แอมมิเตอร์   |           |
| 7. โวลต์มิเตอร์ |           |
| 8. หลอดไฟฟ้า    |           |

การต่อวงจรไฟฟ้าแบบต่าง ๆ มี 2 ลักษณะ ดังนี้

### 1. การต่อวงจรไฟฟ้าแบบอนุกรม

การต่อแบบอนุกรมเป็นวงจรที่มีอุปกรณ์ไฟฟ้าเชื่อมต่อกันกับแหล่งกำเนิดไฟฟ้า จากอุปกรณ์หนึ่งไปยังอุปกรณ์อื่น ๆ โดยตรง มีรูปแบบเป็นวงจรเดียว ข้อเสียของการต่ออุปกรณ์ไฟฟ้าแบบอนุกรมก็คือ ถ้าอุปกรณ์ใดอุปกรณ์หนึ่งเสียก็จะทำให้กระแสไฟฟ้าในวงจรหยุดไหลไม่สามารถใช้อุปกรณ์อื่นได้



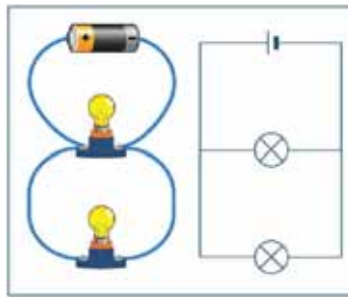


### สรุปลักษณะสำคัญของการต่อความต้านทานแบบอนุกรม

1. สามารถหาค่าความต้านทานได้โดยการรวมกัน ดังนั้นความต้านทานรวมจะมีค่ามากขึ้น
2. ปริมาณกระแสไฟฟ้าที่ไหลผ่านตัวต้านทานแต่ละตัวเท่ากับกระแสไฟฟ้าในวงจร
3. ความต่างศักย์ระหว่างปลายทั้งสองของตัวต้านทานจะเท่ากับผลบวกของความต่างศักย์ไฟฟ้าระหว่างปลายทั้งสองของตัวต้านทานจะเท่ากับผลบวกของความต่างศักย์ไฟฟ้าระหว่างปลายทั้งสองของตัวต้านทานแต่ละตัว

### 2. การต่อวงจรไฟฟ้าแบบขนาน

การต่อแบบขนานเป็นวงจรไฟฟ้าที่แยกอุปกรณ์แต่ละชนิดในการเชื่อมต่อกันกับแหล่งกำเนิดไฟฟ้า มีลักษณะของรูปแบบวงจรหลาย ๆ วงจร ในวงจรรวมดังแผน ข้อดีของการต่ออุปกรณ์ไฟฟ้าแบบขนานก็คือ ถ้าอุปกรณ์ใดอุปกรณ์หนึ่งเสีย หรือชำรุด อุปกรณ์อื่นก็ยังมิมีกระแสไฟฟ้าไหลผ่านได้



การต่อหลอดไฟฟ้า 2 หลอด ที่ต่อโดยให้ขั้วทั้งสองของหลอดไฟฟ้าหลอดหนึ่งเชื่อมขั้วทั้งสองของอีกหลอดหนึ่ง เราเรียกว่า การต่อแบบขนาน กระแสไฟฟ้าจากแหล่งกำเนิดที่ไหลเข้าไปในวงจรจะถูกแบ่งให้ไหลเข้าไปในอุปกรณ์ไฟฟ้าต่าง ๆ ด้วยปริมาณที่ไม่เท่ากัน ขึ้นอยู่กับความต้านทานของอุปกรณ์ไฟฟ้า ถ้าอุปกรณ์ไฟฟ้ามีความต้านทานสูง ก็จะมีปริมาณกระแสไฟฟ้าไหลอย่างน้อย แต่ถ้าอุปกรณ์ไฟฟ้ามีความต้านทานต่ำ จะมีปริมาณกระแสไฟฟ้าไหลผ่านมาก และกระแสไฟฟ้าที่ไหลผ่านอุปกรณ์ไฟฟ้าแต่ละอันรวมกันแล้วจะเท่ากับกระแสไฟฟ้าที่ไหลออกจากแหล่งกำเนิด เราใช้หลักการและความสัมพันธ์จากกฎของโอห์มมาคำนวณหาความต้านทาน และปริมาณกระแสไฟฟ้าที่ไหลในวงจรเมื่อต่อหลอดไฟฟ้าแบบขนานได้

### สรุปสาระสำคัญของการต่อความต้านทานแบบขนาน

1. ความต้านทานรวมของวงจรมีค่าน้อยลง และน้อยกว่าความต้านทาน ตัวที่น้อยที่สุดที่นำมาต่อขนานกัน
2. ปริมาณกระแสไฟฟ้ารวมของวงจรมีค่าเท่ากับผลบวกของกระแสไฟฟ้าของวงจย่อย
3. ความต่างศักย์ระหว่างปลายทั้งสองของตัวต้านทานแต่ละตัวมีค่าเท่ากัน และเท่ากับความต่างศักย์ไฟฟ้าระหว่างปลายทั้งสองของตัวต้านทานที่ต่อขนานกัน

## 5. กฎของโอห์ม

กระแสไฟฟ้าที่ไหลในวงจรไฟฟ้าได้นั้น เกิดจากแรงดันไฟฟ้าที่จ่ายให้กับวงจร และปริมาณกระแสไฟฟ้าภายในวงจรจะถูกจำกัดโดยความต้านทานไฟฟ้าภายในวงจรวางจรไฟฟ้านั้น ๆ ดังนั้น ปริมาณกระแสไฟฟ้าภายในวงจรจะขึ้นอยู่กับแรงดันไฟฟ้า และค่าความต้านทานของวงจร ซึ่งวงจรวางจรนี้ เรียกว่า กฎของโอห์ม กล่าวว่าการไหลของกระแสไฟฟ้าที่ไหลในวงจรจะแปรผันตรงกับแรงดันไฟฟ้า และแปรผกผันกับความต้านทานไฟฟ้า โดยเขียนความสัมพันธ์ได้ดังนี้

$$\text{Current} = \frac{\text{Voltage}}{\text{Resistance}}$$

$$I = \frac{V}{R}$$

### ตัวอย่าง

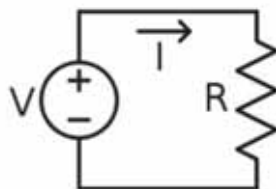
จงคำนวณหาค่าปริมาณกระแสไฟฟ้าของวงจรไฟฟ้าที่มีแรงดันไฟฟ้าขนาด 50 โวลต์ และมีค่าความต้านทานของวงจรเท่ากับ 5 โอห์ม

|        |         |                           |
|--------|---------|---------------------------|
| วิธีทำ | จากสูตร | $I = \frac{V}{R}$         |
|        | แทนค่า  | $I = \frac{50V}{5\Omega}$ |
|        |         | $I = 10 \text{ แอมแปร์}$  |

### อุปกรณ์ทดลอง

1. เครื่องจ่ายไฟฟ้ากระแสตรงปรับค่าได้ 0.30 V
2. มัลติมิเตอร์
3. ตัวต้านทานขนาดต่าง ๆ จำนวน 3 ตัว
4. สายไฟ

### การทดลอง



1. นำตัวต้านทานแหล่งจ่ายไฟฟ้ากระแสตรงที่ปรับค่าได้ต่อวงจร ดังรูป
2. ปรับค่าโวลต์ที่แหล่งจ่ายไฟประมาณ 5 ค่า และแต่ละครั้งที่ปรับค่าโวลต์ให้วัดค่ากระแสไฟฟ้าที่ไหลผ่านวงจร บันทึกผลการทดลอง
3. หาหาค่าระหว่าง V กับ I

4. นำค่าที่ได้ไปเขียนกราฟระหว่าง  $V$  กับ  $I$  ดังรูป
5. หาค่าความชันต์เปรียบเทียบกับค่าที่ได้ในข้อ 3 เปรียบเทียบตัวต้านทาน และทำการทดลองเช่นเดียวกันกับข้อ 1 – 4

คำถาม ค่า  $\frac{V}{I}$  ที่ทดลองได้เป็นไปตามกฎของโอห์มหรือไม่ เพราะเหตุใด

## 6. การเดินสายไฟฟ้า

วิธีการเดินสายไฟฟ้า แบ่งออกได้ 2 แบบ คือแบบเดินบนผนังและแบบฝังในผนัง

### 6.1 การเดินสายไฟบนผนัง

การเดินสายไฟแบบนี้จะมองเห็นสายไฟ อาจทำให้ดูไม่เรียบร้อย ไม่สวยงาม หากช่วงเดินสายไฟไม่เรียบตรง ยิ่งจะเสริมให้ดูไม่เรียบร้อยตกแต่งห้องให้ดูสวยงามยาก มีข้อดีที่ค่าใช้จ่ายถูกกว่าแบบฝังในผนัง สามารถตรวจสอบและซ่อมแซมได้ง่าย

#### ขั้นตอนที่ 1

กำหนดรูปแบบจุดตำแหน่งของปลั๊กที่ต้องการเพิ่ม และแนวการเดินสายไฟ ควรให้อยู่ในแนวเดิมของสายที่เดินอยู่แล้ว ในกรณีที่มีสายแบบเดินลอยอยู่แล้วให้ใช้แนวสายไฟเดิมก็ได้ แล้วค่อยแยกเข้าตำแหน่งที่ต้องการ

#### ขั้นตอนที่ 2

การเดินแนวใหม่ ควรเดินลากจากจุดต่อขึ้นบนเพดาน ก่อนแล้วจึงเดินลงตำแหน่งที่ต้องการวัดระยะจากขอบผนัง แล้วตีแนวสายไฟด้วยด้ายตีเส้น

#### ขั้นตอนที่ 3

ตอกตะปูเข็มขัดสายไฟตามแนวที่ตีเส้นเข้าที่ผนัง และแนวที่จะลงตำแหน่งที่ติดตั้งใหม่ด้วย โดยพับเข็มขัดทับหัวตะปูเพื่อจับขณะตอก

#### ขั้นตอนที่ 4

เว้นระยะห่างของเข็มขัดรัดสายไฟประมาณ 10-15 ซม. ในส่วน โคนหรือหักมุมของเพดานให้ตอกเข็มขัดถี่ประมาณช่องละ 1-2 ซม. เพื่อที่จะรัดสายไฟให้แนบสนิท กับผนังไม่โก่งงอ

#### ขั้นตอนที่ 5

ติดตั้งเต้าเสียบที่ตำแหน่งใหม่ เจาะยึดด้วยล๊อคด้วยสว่านไฟฟ้าและขันด้วยสกรู ยึดให้แน่นหากเป็นผนังไม้ควรวาดโครงไม้ทาบในผนังก่อนเพื่อความแข็งแรง

#### ขั้นตอนที่ 6

เดินสายไฟในแนวตอกเข็มขัดไว้และรัดสายไฟเข้ากับ เข็มขัดให้แน่น ต่อสายใส่เข้ากับเต้าเสียบใหม่ให้เรียบร้อยประกอบเข้าปลั๊ก

## ขั้นตอนที่ 7

ปิดเมนสวิตช์ก่อนเช็คว่าไม่มีไฟเข้าปลั๊กที่จะต่อพ่วง โดยใช้ไขควงเช็คไฟเช็คว่าไม่มีแสงไฟในค้ำไขควง แล้วจึงทำการพ่วงสายไฟเข้ากับปลั๊กเดิม และทดลองเปิดสวิตช์แล้วใช้ไขควงเช็คไฟที่ปลั๊กจุดใหม่

### 6.2 การเดินแบบฝังในผนัง

การเดินแบบฝังในผนังเป็นการเดินสายไฟโดยร้อยสายผ่านท่อสายไฟซึ่งฝังในผนังอาคาร ทำให้ดูเรียบร้อยและตกแต่งห้องได้ง่ายเพราะมองไม่เห็นสายไฟจากภายนอก การเดินท่อร้อยสายต้องทำควบคู่ไปพร้อมการก่อ - ฉาบ ไม่ควรประหยัดหรือปล่อยให้มีการลักไก่โดยการเดินสายไฟแบบฝังในผนัง โดยไม่ร้อยใส่ท่อร้อยสายไฟ เพราะหากเกิดไฟรั่วอาจเกิดอุบัติเหตุกับผู้อยู่อาศัยเมื่อไปสัมผัสกำแพง การติดตั้งมีค่าใช้จ่ายสูงกว่าแบบเดินสายบนผนัง การติดตั้งมีความยุ่งยากและซับซ้อน การเปลี่ยนแปลงและซ่อมแซมภายหลังจากที่ได้ติดตั้งไปแล้วทำได้ยากและเสียค่าใช้จ่ายมากกว่าแบบแรกมาก

การเดินสายไฟมักจะใช้วิธีเดินสาย ลอยตามผนังอาคาร ขณะที่การเดินท่อน้ำจะเดินท่อลอยตามขอบพื้นและขอบผนังเมื่อใช้งานไป หากเกิดการชำรุดเสียหายขึ้นการตรวจสอบและการซ่อมแซมก็สามารถทำได้ไม่ยาก แต่ในปัจจุบันบ้านเรือนสมัยใหม่ มีความพิถีพิถัน ในด้านความสวยงามมากขึ้น การเดินสายไฟมักจะใช้วิธีเดินสายร้อยท่อ ซึ่งฝังอยู่ในผนัง หรือเหนือเพดานขณะที่การเดินท่อน้ำ จะใช้วิธีเดินท่อน้ำ อยู่ภายในผนัง หรือใต้พื้น เพื่อซ่อนความรุงรัง ของสายไฟ และท่อน้ำเอาไว้ การเดินสายไฟและท่อน้ำแบบฝังนี้แม้จะเพิ่มความสวยงาม และความเป็นระเบียบเรียบร้อย ให้แก่ตัวบ้าน แต่ก็มีย่อเสียแฝงอยู่ เพราะถ้าเกิดปัญหาไฟช็อต ไฟรั่ว หรือท่อน้ำรั่ว ซึ่งอาจจะมีสาเหตุมาจาก การใช้วัสดุที่ด้อยคุณภาพ การติดตั้งอย่างผิดวิธี หรือการชำรุดเสียหายอันเนื่องมาจากการใช้งานก็ตาม การตรวจสอบ หรือการซ่อมแซมย่อมทำได้ลำบาก อาจถึงขั้นต้องทำ การรื้อฝ้าเพดานรื้อกำแพงหรือพื้นที่บางส่วนเพื่อทำการตรวจสอบและ แก้ไขปัญหาที่เกิดขึ้น ซึ่งทำให้เกิด ความเสียหายต่อตัวบ้าน เสียเวลา และเสียค่าใช้จ่ายสูง ในการวางระบบไฟฟ้า วิธีหลีกเลี่ยงปัญหาข้างต้นอย่างง่ายวิธีหนึ่งก็คือการเลือกเดินสายไฟแบบลอย ซึ่งอาจจะดูไม่เรียบร้อยนัก และเหมาะสำหรับ อาคารบ้านเรือนขนาดเล็กเท่านั้น แต่สำหรับผู้ที่ต้องการความประณีตสวยงามหรือบ้านขนาดใหญ่ที่มีการเดินสายไฟ เป็นจำนวนมาก การเดินสายไฟแบบฝัง จะมีความเหมาะสมกว่า อย่างไรก็ตาม ปัญหาต่างๆ ดังกล่าวอาจจะป้องกันหรือทำให้ ลดน้อยลงได้โดยการเลือกใช้วัสดุที่มีคุณภาพ ใช้วัสดุที่ถูกต้อง และมีขนาดที่เหมาะสม รวมทั้งมีการติดตั้งอย่างถูกวิธีและมีระบบแบบแผน

### ข้อแนะนำในการออกแบบระบบวงจรไฟฟ้าภายใน

ระบบวงจรไฟฟ้าภายในบ้านควรแยกวงจรควบคุมพื้นที่ต่างๆ เป็นส่วนๆ เช่น แยกตามชั้นหรือแยกตามประเภทของการใช้ไฟฟ้า ทำให้ง่ายต่อการซ่อมแซมในกรณีไฟฟ้าขัดข้อง ห้องควรแยกไว้ตะหาก เพราะหากต้องดับไฟในบ้าน เพื่อซ่อมแซมจะได้ไม่ต้องดับไฟห้องครัวที่มีตู้เย็นที่แช่อาหารไว้ อาหารจะได้ไม่เสีย

## 7. การใช้เครื่องใช้ไฟฟ้าอย่างง่าย

### ไฟฟ้าแสงสว่าง

- ติดตั้งจำนวนหลอดไฟฟ้าเท่าที่จำเป็นและเหมาะสมกับการใช้งาน
- ใช้หลอดไฟฟ้าชนิดที่ไส้แสงสว่างมากแต่กินไฟน้อย และมีอายุการใช้งานยาวนานกว่า เช่น หลอดฟลูออเรสเซนต์ หลอดคอมแพคท์ เป็นต้น
- ทำความสะอาดหลอดไฟฟ้าหรือโคมไฟเป็นประจำ
- ตกแต่งภายในอาคารสถานที่โดยใช้สีอ่อน เพื่อเพิ่มการสะท้อนของแสง
- ปิดสวิตช์หลอดไฟฟ้าทุกดวงเมื่อเลิกใช้งาน

### พัดลม

- เลือกขนาดและแบบให้เหมาะสมกับการใช้งาน
- ปรับระดับความเร็วลมพอสมควร
- เปิดเฉพาะเวลาที่จำเป็นเท่านั้น
- หมั่นบำรุงดูแลรักษาให้อยู่ในสภาพที่ดี

### เครื่องรับโทรทัศน์

- ควรเลือกขนาดที่เหมาะสมกับครอบครัวและพื้นที่ในห้อง
- ควรเลือกชมรายการเดียว หรือเปิดเมื่อถึงเวลาที่มีรายการที่ต้องการชม
- ถอดปลั๊กเครื่องรับโทรทัศน์ทุกครั้งเมื่อไม่มีคนชม

### เครื่องเป่าผม

- ควรเช็ดผมให้หมาดก่อนใช้เครื่องเป่าผม
- ควรขยี้และสาบผมไปด้วยขณะใช้เครื่องเป่าผม
- เป่าผมด้วยความร้อนเท่าที่จำเป็น

### เตารีดไฟฟ้า

- พรมน้ำเสื้อผ้าน้ำแต่พอสมควร
- ปรับระดับความร้อนให้เหมาะสมกับชนิดของเสื้อผ้า
- เริ่มต้นรีดผ้าบาง ๆ ขณะที่เตารีดยังร้อนไม่มาก
- เสื้อผ้าควรมีปริมาณมากพอสมควรในการรีดแต่ละครั้ง
- ถอดปลั๊กก่อนเสร็จสิ้นการรีด 2-3 นาที เพราะยังคงความร้อนเหลือพอ

### หม้อชงกาแฟ

- ใส่น้ำให้มีปริมาณพอสมควร
- ปิดฝาให้สนิทก่อนต้ม
- ปิดสวิตซ์ทันทีเมื่อน้ำเดือด

### หม้อหุงข้าวไฟฟ้า

- เลือกใช้ขนาดที่เหมาะสมกับครอบครัว
- ถอดปลั๊กออกเมื่อข้าวสุกหรือ ไม่มีความจำเป็นต้องอุ่นให้ร้อนอีกต่อไป

### ตู้เย็น

- เลือกใช้ขนาดที่เหมาะสมกับครอบครัว
- ตั้งวางตู้เย็นให้ห่างจากแหล่งความร้อน
- ไม่ควรนำอาหารที่ร้อนเข้าตู้เย็นทันที
- ไม่ควรใส่อาหารไว้ในตู้เย็นมากเกินไป
- หมั่นละลายน้ำแข็งออกสัปดาห์ละครั้ง
- หมั่นทำความสะอาดแผงระบายความร้อน
- ไม่ควรเปิดประตูตู้เย็นบ่อย ๆ หรือปล่อยให้เปิดทิ้งไว้
- ดูแลยางขอบประตูตู้เย็นให้ปิดสนิทเสมอ

### เครื่องทำความร้อน

- เลือกใช้ขนาดที่เหมาะสมกับครอบครัว
- ไม่ควรปรับระดับความร้อนสูงจนเกินไป
- ควรปิดวาล์วบ้างเพื่อรักษาน้ำร้อนไว้ขณะอาบน้ำ
- ไม่ควรใช้เครื่องทำความร้อนในฤดูร้อน
- ปิดวาล์วน้ำและสวิตซ์ทันทีเมื่อเลิกใช้งาน

### เครื่องปรับอากาศ

- ห้องที่ติดตั้งเครื่องปรับอากาศ ควรใช้ฝ้าเพดานที่มีคุณสมบัติเป็นฉนวนป้องกันความร้อน
- เลือกขนาดของเครื่องให้เหมาะสมกับขนาดพื้นที่ห้อง
- เลือกใช้เครื่องปรับอากาศที่ได้รับการรับรองคุณภาพและช่วยประหยัดพลังงาน
- ปรับระดับอุณหภูมิและปริมาณลมให้เกิดความรู้สึกสบายในแต่ละฤดูกาล
- หมั่นดูแลบำรุงรักษาและทำความสะอาดชิ้นส่วนอุปกรณ์และเครื่องให้อยู่ในสภาพที่ดีอยู่เสมอ

- ดูแลประตูหน้าต่างให้ปิดสนิทเสมอ
- ใช้พัดลมระบายอากาศเท่าที่จำเป็น
- ปิดเครื่องก่อนเลิกใช้พื้นที่ปรับอากาศประมาณ 2-3 นาที

#### เครื่องซักผ้า

- ในการซักแต่ละครั้งควรให้ปริมาณเสื้อผ้าพอเหมาะกับขนาดเครื่อง
- ควรใช้วิธีผึ่งแดดแทนการใช้เครื่องอบผ้าแห้ง
- ศึกษาและปฏิบัติตามวิธีการในคู่มือการใช้

### 8. ความปลอดภัยและอุบัติเหตุจากอาชีพช่างไฟฟ้า

- 1) ก่อนลงมือปฏิบัติงานกับอุปกรณ์ไฟฟ้า ให้ตรวจหรือวัดด้วยเครื่องมือวัดไฟฟ้าว่าในสายไฟหรืออุปกรณ์นั้นมีไฟฟ้าหรือไม่
- 2) การทำงานกับอุปกรณ์ไฟฟ้าในขณะที่ปิดสวิตช์ไฟหรือตัดไฟฟ้าแล้ว ต้องต่อสายอุปกรณ์นั้นลงดินก่อนทำงานและตลอดเวลาที่ทำงาน
- 3) การต่อสายดินให้ต่อปลายทางด้าน " ดิน " ก่อนเสมอจากนั้นจึงต่อปลายอีกข้างเข้ากับอุปกรณ์ไฟฟ้า
- 4) การสัมผัสกับอุปกรณ์ไฟฟ้าแรงดันต่ำใดๆ หากไม่แน่ใจให้ใช้อุปกรณ์ทดสอบไฟวัดก่อน
- 5) การจับต้องอุปกรณ์ที่มีไฟฟ้า จะต้องทำโดยอาศัยเครื่องมือ-อุปกรณ์ และวิธีการที่ถูกต้องเท่านั้น
- 6) เครื่องมือเครื่องใช้ที่ทำงานกับอุปกรณ์ไฟฟ้า เช่น คีม ไขควง ต้องเป็นชนิดที่มีฉนวนหุ้ม 2 ชั้นอย่างคิ
- 7) ขณะทำงานต้องมั่นใจว่า ไม่มีส่วนใดส่วนหนึ่งของร่างกายหรือเครื่องมือที่ใช้สัมผัสกับส่วนอื่นของอุปกรณ์ที่มีกระแสไฟด้วยความพลั้งเผลอ
- 8) การใช้กุญแจป้องกันการสับสวิตช์ การแขวนป้ายเตือนห้ามสับสวิตช์ตลอดจนการปลดกุญแจและป้ายต้องกระทำโดยบุคคลคนเดียวกันเสมอ
- 9) การขึ้นที่สูงเพื่อทำงานกับอุปกรณ์ไฟฟ้าต้องใช้เข็มขัดนิรภัย หากไม่มีการใช้เชือกขนาดใหญ่คล้องเอาไว้กับโครงสร้างหรือส่วนหนึ่งส่วนใดของอาคาร
- 10) การทำงานเกี่ยวกับไฟฟ้าหากเป็นไปได้ควรมีผู้ช่วยเหลืออยู่ด้วย

#### 8.1 ข้อควรระวังในการทำงานเกี่ยวกับไฟฟ้าทั่วไป

- เมื่อพบว่าฝากรอบ หรือกล่องสวิตช์ชำรุด หรือแตกเสียหาย และควรรีบเปลี่ยนและซ่อมแซมทันที
- รักษาความสะอาดของพื้นบริเวณที่ซึ่งสวิตช์อยู่ใกล้ ๆ
- หมั่นสำรวจตรวจตราภายในแผงสวิตช์ ตู้ควบคุมทางไฟฟ้า ไม่ให้มีเศษผงทองแดงหรือโลหะที่นำไฟฟ้าอยู่และอย่านำชิ้นส่วนอุปกรณ์ภายในตู้ควบคุม เช่น ฟิวส์ ออกจากตู้ควบคุม

- การเปลี่ยนฟิวส์ ควรใช้ฟิวส์เฉพาะงานนั้น ๆ และก่อนเปลี่ยนต้องสับสวิตช์ (ให้วงจรไฟฟ้าเปิดให้เรียบร้อยก่อน)

- อย่าใช้ฝากรอบที่ทำด้วยสารที่สามารถลวกติดไฟได้ เปิดฝากรอบสวิตช์

- สวิตช์แต่ละอัน ควรมีป้ายแสดงรายละเอียดดังนี้

\* ใช้กับกระแสไฟตรง หรือกระแสสลับ

\* ความต่างศักย์ทางไฟฟ้า (หรือแรงดัน/แรงเคลื่อนไฟฟ้า)

\* กระแสไฟฟ้า

\* เครื่องมือเครื่องใช้ทางไฟฟ้าที่ต่อกับสวิตช์นั้น

\* ชื่อผู้รับ

- ต้องสับสวิตช์ให้วงจรไฟฟ้าเปิด เมื่อต้องการตรวจสอบหรือซ่อมแซมเครื่องจักรแล้วให้ทำสัญลักษณ์หรือป้ายที่สวิตช์ว่า "กำลังซ่อม"- ก่อนสับสวิตช์ให้วงจรไฟฟ้าปิด ต้องแน่ใจว่าทุกอย่างเรียบร้อย และได้รับสัญญาณถูกต้อง และก่อนเปิดทดลองเดินเครื่องควรตรวจดูว่าเครื่องจักรนั้นไม่มีวัตถุอื่นใดติดหรือขัดอยู่

- การส่งสัญญาณเกี่ยวกับเปิด-ปิดสวิตช์ ควรทำด้วยความระมัดระวัง

- อย่าปิด-เปิดสวิตช์ขณะมือเปียกน้ำ

- การสับสวิตช์ให้วงจรไฟฟ้าปิดต้องแน่ใจว่าสัญญาณนั้นถูกต้อง

- การขันสลักเกลียวเพื่อยึดสายไฟฟ้า ต้องขันให้แน่น

- อุปกรณ์ไฟฟ้าที่ชำรุดอย่าฝืนใช้งานจะเกิดอันตรายได้

## 8.2 ข้อที่ไม่ควรกระทำในการปฏิบัติงานเกี่ยวกับไฟฟ้า

- ไม่ควรถอดปลั๊กไฟด้วยการดึงสายไฟ

- ไม่ควรใช้เครื่องมือและอุปกรณ์ไฟฟ้าที่ชำรุด

- ไม่ควรใช้ปลั๊กไฟที่ชำรุด

- ไม่ควรต่อพ่วงไฟเกินกำลัง

- ไม่ควรต่อปลั๊กผิดประเภท

- ไม่ควรซ่อมแซมอุปกรณ์ไฟฟ้าด้วยตนเองถ้าหากไม่มีความรู้อย่างแท้จริง

## 8.3 ความปลอดภัยเกี่ยวกับตัวผู้ปฏิบัติงาน

### การแต่งกาย

- เครื่องแบบที่เหมาะสมในการปฏิบัติงานเกี่ยวกับเครื่องจักร คือ เสื้อและกางเกงที่เป็นชิ้นเดียวกัน ซึ่งอยู่ในสภาพที่เรียบร้อย เสื้อผ้าที่ฉีกขาดไม่ควรนำมาใช้ เพราะจะทำให้เข้าไปติดกับเครื่องจักรที่กำลังหมุนได้



- ดัดกระดูกทุกเมื่อดูให้เรียบร้อย
- ไม่ควรใส่เครื่องประดับ เช่น สร้อยคอ นาฬิกา แหวน
- ต้องใส่รองเท้าหุ้มส้น หรือรองเท้าบูต เพื่อป้องกันเศษโลหะที่มุด
- ควรสวมแว่นตา เพื่อป้องกันเศษโลหะกระเด็นเข้าตา เช่น การเจียรไนงาน หรือแสงจากการเชื่อมโลหะ

- ควรสวมหมวกในกรณีที่ต้องปฏิบัติงานเกี่ยวกับการทำไฟ
- ไม่ควรไว้ผมยาวหรือมีเก๋นั้นควรสวมหมวก
- สภาพการทำงานที่มีเสียงดัง ควรสวมที่ครอบหู



## 9. การบริหารจัดการและการบริการที่ดี

บริการที่ดี หมายถึง ความตั้งใจและความพยายามในการให้บริการต่อผู้รับบริการ มีระดับการปฏิบัติ ดังนี้

**ระดับที่ 1** สามารถให้บริการแก่ผู้รับบริการ ด้วยความเต็มใจ

- ให้บริการที่เป็นมิตรภาพ
- ให้ข้อมูลข่าวสารที่ถูกต้องชัดเจนแก่ผู้รับบริการ
- แจ้งให้ผู้รับบริการทราบความคืบหน้าในการดำเนินเรื่อง หรือขั้นตอนงานต่าง ๆ ที่ให้บริการอยู่
- ประสานงานให้แก่ผู้รับบริการ ได้อย่างต่อเนื่องและรวดเร็ว

**ระดับที่ 2** ช่วยแก้ปัญหาให้แก่ผู้รับบริการ

- ช่วยแก้ปัญหาหรือหาแนวทางแก้ไขปัญหาที่เกิดขึ้นแก่ผู้รับบริการอย่างรวดเร็วไม่บ่ายเบี่ยง ไม่แก้ตัว หรือปิดการะ
- ผู้รับบริการได้รับความพึงพอใจและนำข้อขัดข้องที่เกิดจากการให้บริการไปพัฒนาให้การบริการดียิ่งขึ้น

**ระดับที่ 3** ให้บริการที่เกินความคาดหวัง แม้ต้องใช้เวลาหรือความพยายามอย่างมาก

- ให้ความแก่ผู้รับบริการเป็นพิเศษ เพื่อช่วยแก้ปัญหาให้แก่ผู้รับบริการ

- นำเสนอวิธีการในการให้บริการที่ผู้รับบริการจะได้รับประโยชน์สูงสุด
- ระดับที่ 4 เข้าใจและให้บริการที่ตรงตามความต้องการที่แท้จริงของผู้รับบริการได้**
- พยายามทำความเข้าใจด้วยวิธีต่าง ๆ เพื่อให้บริการได้ตรงตามความต้องการที่แท้จริงของผู้รับบริการ
  - ให้คำแนะนำที่เป็นประโยชน์แก่ผู้รับบริการ เพื่อตอบสนองความต้องการ
- ระดับที่ 5 ให้บริการที่เป็นประโยชน์อย่างแท้จริงให้แก่ผู้รับบริการ**
- คิดถึงประโยชน์ของผู้รับบริการในระยะยาว
  - เป็นที่ปรึกษาที่มีส่วนช่วยในการตัดสินใจที่ผู้รับบริการไว้วางใจ
  - สามารถให้ความเห็นที่แตกต่างจากวิธีการหรือขั้นตอนที่ผู้รับบริการต้องการให้สอดคล้องกับความจำเป็น ปัญหา โอกาส เพื่อประโยชน์อย่างแท้จริงของผู้รับบริการ

## 10. โครงการงานวิทยาศาสตร์สู่อาชีพ

อาชีพช่างไฟฟ้า เป็นอาชีพสำคัญจำเป็นกับสังคมเทคโนโลยีในทุกยุคทุกสมัย ผู้มีอาชีพช่างไฟฟ้า ต้องมีความชำนาญเฉพาะทาง มีความคิดริเริ่มสร้างสรรค์ สร้างผลงาน นอกเหนือจากการติดตั้ง ซ่อมแซม อุปกรณ์ไฟฟ้า และยังสามารถสร้างสรรค์ผลงานเป็นอุปกรณ์เครื่องใช้ไฟฟ้า สำหรับครัวเรือน เพื่อความสะดวกสบายในชีวิตประจำวันของมนุษย์ ดังนั้น ช่างไฟฟ้า นอกจากเป็นอาชีพเพื่อบริการ ยังนำไปสู่เพื่อการพาณิชย์ได้ดี โดยผู้เรียนนำความรู้ ผลงาน จากโครงการเรื่องไฟฟ้าไปต่อยอดสู่อาชีพได้อย่างหลากหลาย อาทิเช่น การประดิษฐ์โคมไฟเพื่อประดับตกแต่ง โคมไฟเพื่ออ่านหนังสือ เครื่องเตือนภัยน้ำท่วมอย่างง่าย ฯลฯ

### ตัวอย่างที่ 1 การประดิษฐ์โคมไฟเพื่อประดับตกแต่ง

#### วัสดุที่ใช้

|                              |                         |
|------------------------------|-------------------------|
| 1. สวิตช์ไฟ สำหรับเปิดปิด    | ราคาประมาณ 30 บาท       |
| 2. หลอดไฟฟลูออเรสเซนต์แบบยาว | ราคาประมาณ 79 บาท       |
| 3. แผ่นซีดี 61 แผ่น          | นำกลับมาใช้ใหม่ (reuse) |
| 4. สายไฟ 1.8 เมตร            | ราคาประมาณ 30 บาท       |

#### วิธีทำโคมไฟจากแผ่นซีดี


วิธีทำโคมไฟจากแผ่นซีดี แผ่นซีดีที่เสียแล้วใครจะเชื่อว่าสามารถนำมาทำโคมไฟอันสวยงามมีระดับ อย่างที่ใครนึกไม่ถึงมาก่อน สนใจละซิ ลองมาทำดูว่าเขากันอย่างไรทำให้ได้โคมไฟสวยสะดุดใจ โดยใช้ต้นทุนประมาณ 139 บาท ดังนี้



หลอดไฟที่ใช้



ถอดส่วนประกอบหลอดไฟออก เพื่อจะได้แยกเอาสวิทช์กับหลอดไฟ  
ไว้สำหรับติดนอกกล่องโคมไฟ



นำมากระยะว่าสวิตซ์ กับหลอดไฟจะอยู่ตำแหน่งไหน



ตัดแผ่นไม้อัดหนาขนาด 3/8 นิ้ว เป็นรูปวงกลมขนาด แผ่นซีดี จำนวน 18 แผ่น



แผ่นไม้อัดที่ตัดออกมา



ทำด้วยกาวยร้อน แล้วใช้สกรูอัดให้แน่น ทิ้งไว้ให้กาวยแห้ง ประมาณ 20 นาที



ใช้สว่านเจาะช่องตรงกลางไม้ให้ใส่หลอดไฟได้ เจาะช่องให้สายไฟ กับสวิตช์ไฟใส่ได้



วางหลอดไฟใส่ลงไปในห้องนี้



ใส่สวิตช์ไฟ กับสายไฟตามช่องที่เจาะไว้



เจาะรูตรงกลางแผ่นซีดี ให้กว้างพอที่จะใส่หลอดไฟได้





เจาะให้ใส่หลอดไฟได้แบบนี้



จับแผ่นซีดีสองแผ่น มาจับคู่ประกบกัน โดยหันด้านที่มีฉนวนออกทั้งสองด้าน แล้วใช้กาวร้อนทา ทั้งไว้ให้แห้ง แล้วเจาะรู 3 รู ไว้สำหรับใส่หลอดยาวเป็นเสามา 3 ขา ดังภาพ ชั้นแรกใส่แผ่นเดียว จากนั้น ค่อยใส่วงแหวน รองเพื่อให้เป็นชั้นๆ มีช่องว่างให้แสงกระจายออก ไล่ไปเรื่อย ๆ จนถึงชั้นสุดท้าย ใช้แผ่น ซีดี 4 แผ่นทากาวประกบกัน ปิดเป็นฝาข้างบน



เวลาจะเปลี่ยนหลอดไฟข้างใน ก็ไขน็อตออก แล้วหยิบหลอดไฟมาเปลี่ยน



ประกอบเสร็จแล้ว เมื่อเปิดไฟ จะได้ภาพดังนี้

ที่มา <http://www.yousaytoo.com/tensionnot/how-to-make-a-cool-cd-lamp/4877>

## ตัวอย่างที่ 2 สิ่งประดิษฐ์เครื่องเตือนภัยน้ำท่วมอย่างง่าย

### วัสดุที่ใช้

1. สวิตช์และกริ่งไฟฟ้าแบบไร้สาย ราคาประมาณ 100-150 บาท
2. เศษโฟม นำกลับมาใช้ใหม่ (reuse)
3. ถังพลาสติก นำกลับมาใช้ใหม่ (reuse)

### วิธีทำ

1. หาซื้อกริ่งประตูบ้านแบบไร้สายมีขายเกือบทุกห้าง (ราคาประมาณ 100 – 150) เอาแบบกดค้างแล้วร้องต่อเนื่อง นอนหลับแล้วจะได้ตื่น (บางยี่ห้อกดค้างแล้วร้องครั้งเดียว)
2. หาอุปกรณ์ดังนี้ ตะกร้าทรงเตี้ย แผ่นโฟม ซองซิปล้นน้ำ เทปกาว กาวสองหน้า ก้อนอิฐหรือหิน



3. นำกริ่งตัวลูก (สวิตช์ที่กดกริ่ง) มาติดกาวสองหน้าบริเวณที่กดให้ที่กดสูงขึ้น (ไม่ต้องลอกกระดาษอีกด้านออก) แล้วใส่ซองซิปล้นน้ำให้น้ำเข้า



4. ตัดโฟมให้มีขนาดเล็กกว่าตะกร้าเล็กน้อย นำกริ่งตัวลูกที่อยู่ในซองซิปล้นน้ำไปวางกลางโฟมแล้วติดเทปกาวบนโฟม





5. หาที่เหมาะสมวางโฟมที่พื้น ที่ต้องการทราบว่ามีน้ำท่วมแล้วเช่นประตูรั้ว ครอบโฟมด้วยตระกร้า ทับตระกร้าด้วยอิฐหรือหิน (ระยะสัญญาณประมาณ 100 เมตรจากตัวแม่)



6. เสียบปลั๊กตัวแม่ (สัญญาณกระดิ่ง) ไว้ในบ้าน



7. เมื่อน้ำท่วมโฟมจะลอยตัวดันสวิทช์ที่กดกริ่งกับกั้นตระกร้าที่ถูกทับไว้ด้วยอิฐหรือหิน ทำให้สัญญาณร้องเตือน



ที่มา <http://www.oknation.net/blog/print.php?id=653105>

## 11. คำศัพท์ทางไฟฟ้า

ช่างไฟฟ้าทุกคนจะต้องเข้าใจคำจำกัดความทั่วไปของคำศัพท์ที่ใช้ในทางช่างไฟฟ้า เพื่อให้การสั่งวัสดุอุปกรณ์ และการอ่านรายละเอียดของวัสดุอุปกรณ์ของบริษัทผู้ผลิตอย่างมีประสิทธิภาพ ผู้สั่งและผู้อ่านจะต้องมีความคุ้นเคยกับภาษาที่ใช้ในทางช่างไฟฟ้าด้วย ดังนั้น จึงควรอ่านคำจำกัดความแต่ละคำอย่างละเอียดให้เข้าใจ และควรพลิกดูคำเหล่านี้ทุกครั้งเมื่อมีความจำเป็นนอกจากนี้ยังมีรายละเอียดเกี่ยวกับคำนิยามของคำศัพท์เหล่านี้เพิ่มเติมในท้ายเล่มของหนังสือเล่มนี้ด้วย

**พลังงาน (energy) :** ความสามารถในการทำงาน

**กำลังม้า (horsepower) :** หน่วยวัดการทำงานของเครื่องจักรกลพวกมอเตอร์และเครื่องยนต์ เราจะใช้อักษรย่อ HP หรือ hp แทน โดยทั่วไปกำลังม้านี้จะใช้บ่งบอกเอาท์พุทของมอเตอร์ไฟฟ้า

**ไฟฟ้า (electricity) :** การเคลื่อนที่ของอิเล็กตรอนผ่านตัวนำไฟฟ้า

**ตัวนำไฟฟ้า (conductor) :** สสารที่ยอมให้กระแสไฟฟ้าไหลผ่านตัวมันเองได้ง่าย

**ความนำไฟฟ้าหรือความเป็นสื่อไฟฟ้า (conductance) :** ความสะดวกสบายต่อการไหลผ่านของกระแสไฟฟ้าในวงจร

**ฉนวนไฟฟ้า (insulator) :** วัสดุที่มีคุณสมบัติต้านทานการไหลของกระแสไฟฟ้า อาจจะกล่าวได้ว่าสสารนั้น ขัดขวางการเคลื่อนที่ของอิเล็กตรอน

**อำนาจแม่เหล็ก (magnetism) :** คุณสมบัติอย่างหนึ่งของสสารที่แสดงอำนาจดึงดูดเหล็กได้

**ขั้วไฟฟ้า (polarity) :** คุณสมบัติของประจุไฟฟ้าที่แสดงออกมา ซึ่งจะมีค่าเป็นบวกหรือเป็นลบ

**แม่เหล็กไฟฟ้า (electromagnet) :** ขดลวดตัวนำไฟฟ้าที่แสดงอำนาจหรือคุณสมบัติทางแม่เหล็กเมื่อมีกระแสไฟฟ้า ไหลผ่านขดลวดนั้น

**ขดปฐมภูมิ (primary) :** ขดลวดของหม้อแปลงไฟฟ้า ซึ่งต่ออยู่กับแหล่งจ่ายไฟฟ้าและรับพลังงาน นั่นก็คือด้านรับไฟฟ้าเข้าของหม้อแปลงไฟฟ้า

**ขดทุติยภูมิ (secondary) :** ขดลวดของหม้อแปลงไฟฟ้าที่ติดอยู่กับโหลด (ภาระทางไฟฟ้า) โดยจะรับพลังงานด้วยหลักการเหนี่ยวนำทางอำนาจแม่เหล็กไฟฟ้าจากขดลวดปฐมภูมิไปสู่โหลดนั้นก็คือด้านจ่ายไฟออกของหม้อแปลงไฟฟ้า

**กำลังไฟฟ้า (electric power) :** อัตราการผลิตหรือใช้พลังงานทางไฟฟ้าในหนึ่งหน่วยเวลา

**วัตต์ (watt) :** หน่วยวัดกำลังไฟฟ้า เราใช้เรียนอักษรย่อตัวพิมพ์ใหญ่ W แทน กำลังไฟฟ้ามีจะเป็นอักษรบอกพลังงานไฟฟ้าที่มีอุปกรณ์ไฟฟ้าแต่ละตัวในการทำงาน อย่างเช่น หลอดไฟ 1,000 วัตต์ เครื่องปั่นขนมปัง 1,000 วัตต์

**กิโลวัตต์ (kilowatt) :** หน่วยกำลังไฟฟ้าที่มีค่าเท่ากับ 1,000 วัตต์ เราใช้ตัวย่อว่า KW เพราะเหตุว่าในทางปฏิบัตินั้น โหลด หรือภาระทางไฟฟ้ามีจำนวนมากๆ จึงมีค่าวัตต์สูงๆ หน่วยวัตต์ซึ่งทำให้การเรียกหรือบันทึกค่ายุ่งยากและเสียเวลา เราจึงนิยมใช้กิโลวัตต์ซึ่งเป็นหน่วยที่ใหญ่ขึ้นนี้แทน และยังมีหน่วยใหญ่กว่ากิโลวัตต์อีกก็คือ เมกกะวัตต์ (megawatt) ซึ่งเท่ากับ 1,000 กิโลวัตต์ หรือเขียนย่อๆ ว่า 1 MW

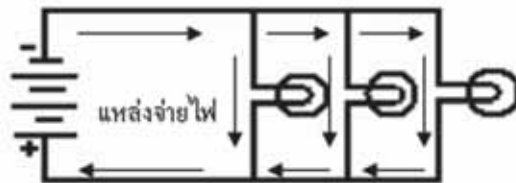
**กิโลวัตต์ – ชั่วโมง (kilowatt – hour) :** หน่วยวัดการใช้กำลังไฟฟ้าในเวลา 1 ชั่วโมง เราจำใช้อักษรย่อพิมพ์ตัวใหญ่ KWH แทน ปกติแล้วการใช้พลังงานไฟฟ้าตามบ้านจะวัดค่าออกจากเครื่องวัดพลังงาน (หรือที่เราเรียกกันว่า หม้อมิเตอร์) มีหน่วยเป็นกิโลวัตต์ – ชั่วโมง หรือที่เรียกกันว่า ยูนิต (unit) แล้วคิดราคาไฟฟ้าที่เราต้องจ่ายเท่ากับ จำนวนยูนิตที่เราต้องใช้คูณด้วยราคาไฟฟ้าต่อหนึ่งยูนิต

**ไฟฟ้ากระแสสลับ (alternating current) :** ระบบไฟฟ้าที่ทิศทางการวิ่งของอิเล็กตรอนมีการสลับไปมาตลอดเวลา เราใช้สัญลักษณ์แทนด้วยอักษรตัวพิมพ์ใหญ่ AC และมักนิยมใช้เป็นระบบไฟฟ้าตามบ้าน อาคาร โรงงานทั่ว ๆ ไป

**ไฟฟ้ากระแสตรง (direct current) :** ระบบไฟฟ้าที่อิเล็กตรอนมีการวิ่งไปทางเดียวกันตลอดเวลา และต่อเนื่องกัน มักจะพบว่าใช้กันอยู่ทั่ว ๆ ไป ก็คือ เครื่องชาร์จแบตเตอรี่ ถ่านไฟฉาย แบตเตอรี่รถยนต์ เป็นต้น ใช้อักษรตัวพิมพ์ใหญ่ DC เป็นสัญลักษณ์แทน

**วงจรไฟฟ้า (circuit) :** ทางเดินไฟฟ้าที่ต่อถึงกัน และไฟฟ้าไหลผ่านได้ดี วงจรอนุกรมหรือวงจรอันดับ (series circuit) : วงจรไฟฟ้าที่มีทางเดินไฟฟ้าได้เพียงทางเดียว จากแหล่งจ่ายไฟฟ้าผ่านวงจรไฟฟ้าไปครบวงจรอีกขั้วของแหล่งจ่ายไฟ และในวงจรนี้อาจจะมีอุปกรณ์พวกฟิวส์ สวิตช์ เซอร์กิต – เบรกเกอร์ โดยต่อเป็นวงจรอันดับเข้าไปเพื่อป้องกัน และควบคุมวงจร

**วงจรขนาน (parallelcircuit):** วงจรไฟฟ้าที่มีทางเดินไฟฟ้าของกระแสไฟฟ้าผ่านได้มากกว่า 1 ทางเดินขึ้นไป และจะมีอุปกรณ์เช่นพวกเด้าเสียบหลอดไฟต่อขนานกัน และข้อดีของวงจรก็คือ ถ้าอุปกรณ์ตัวหนึ่งตัวใดไม่ทำงาน ขัดข้องหรือเสียบขึ้นมา วงจรทางเดินไฟฟ้าจะไม่ขนาน ซึ่งตรงกันข้ามกับวงจรอนุกรม อุปกรณ์ในวงจรขนานตัวอื่นๆ ยังคงทำงานได้ต่อไปดังรูปที่2



รูปวงจรขนาน

**วงจรเปิด (open circuit) :** สภาพการณ์ที่ทางเดินไฟฟ้าเกิดขาดวงจร เกินวงจร หรือไม่ครบวงจรทำให้กระแสไฟฟ้าไหลไม่ได้

**วงจรลัด (short circuit) :** สภาพการณ์ที่เกิดมีการลัดวงจรทางเดินของกระแสไฟฟ้า อันเนื่องมาจากรอยต่อของสายต่างๆ พลาดถึงกัน มีกระแสไฟฟ้ารั่วต่อถึงกัน เป็นต้น

**แอมแปร์ (ampere) :** หน่วยการวัดค่าอัตราการไหลของไฟฟ้าที่ผ่านตัวนำ เราใช้อักษรย่อตัวพิมพ์ใหญ่ A หรือ amp แทน ปกติแล้วหน่วยแอมแปร์นี้นิยมใช้ระบุขอบของการใช้กระแสไฟฟ้าด้านสูงสุดในการทำงานของอุปกรณ์เครื่องใช้ไฟฟ้านั้นอย่างปลอดภัย อย่างเช่น เต้าเสียบ 15 แอมแปร์ ฟิวส์ 30 แอมแปร์

**เฮิรตซ์ (hertz) :** หน่วยความถี่มีค่าเป็นรอบต่อวินาที การที่อิเล็กตรอนวิ่งไปในทิศทางหนึ่งแล้ววกกลับมาสู่แหล่งจ่ายไฟฟ้าจากนั้นก็จะมีอิเล็กตรอนวิ่งออกมาจากแหล่งจ่ายไฟไปในทิศทางหนึ่งวกกลับมาโดยทิศทางการวิ่งของอิเล็กตรอนทั้ง 2 ครั้งวิ่งสวนทางกัน (หรือพูดอีกนัยหนึ่งก็คือ วิ่งสลับไปสลับมานั่นเอง) เราเรียกว่า 1 รอบ ความถี่ของระบบไฟฟ้าบ้านเราใช้ความถี่ 50 เฮิรตซ์ ใช้สัญลักษณ์ HZ แสดงแทน

**โอห์ม (ohm) :** หน่วยความต้านทานทางไฟฟ้าใช้สัญลักษณ์แทนด้วยตัวโอเมก้า ( $\Omega$ ) ความต้านทานจะพยายามต่อต้านการไหลของกระแสไฟฟ้า ความต้านทานเป็นได้ทั้งผู้ทำงานให้หรือขัดขวางการทำงานให้ผู้ใช้ไฟ มันทำงานให้ในขณะที่ใช้มันเป็นฉนวนหรือใช้ควบคุมวงจร ตัวอย่างเช่น เทปพันสายไฟ เต้าเสียบที่ทำจากพลาสติก จะป้องกันอันตรายให้กับผู้ใช้ไฟได้ และใช้ความต้านทานแบบปรับค่าได้ (rheostat) ปรับความสว่างของหลอดไฟฟ้า แต่มันจะขัดขวางการทำงานเมื่อผู้ใช้ไฟ ใช้สายไฟเส้นเล็ก และยาวมากๆ หรือมีสนิมตามจุดสัมผัสต่างๆ ของตัวนำ จะเป็นสาเหตุของการเพิ่มค่าความต้านทาน ทำให้เกิดความร้อนมากเกินไป พร้อมทั้งเกิดการสูญเสียกำลังไฟฟ้าไปในสายตัวนำด้วย

**กฎของโอห์ม (Ohm's law) :** กฎที่ว่าด้วยความสัมพันธ์ระหว่างแรงดัน กระแส และความต้านทานในวงจรไฟฟ้า กฎนี้กล่าวว่า ค่ากระแสไฟฟ้า (I) จะเป็นสัดส่วนโดยตรงกับค่าแรงดันไฟฟ้า (E) และเป็นสัดส่วนผกผันกับค่าความต้านทาน (R) สูตร  $I = E / R$

**โวลต์ (volt) :** หน่วยวัดแรงดันไฟฟ้า แรงดันไฟฟ้าหรือแรงดันที่ทำให้เกิดมีการเคลื่อนที่ของอิเล็กตรอนภายในตัวนำไฟฟ้า เราใช้ตัวย่อแทนแรงดันไฟฟ้าด้วย V, E หรือ EMF ปกติจะใช้ E และ EMF แทนแรงดันที่เกิดจากการเคลื่อนที่ของประจุไฟฟ้าหรือ electromotive force (ซึ่งเป็นอีกนิยามหนึ่งของคำว่า โวลต์) เช่นเดียวกับคำว่า แอมแปร์แรงดันซึ่งระบุไว้ที่ตัวอุปกรณ์เครื่องใช้ไฟฟ้าจะเป็นตัวกำหนดขอบเขตการใช้แรงดันไฟฟ้าขณะทำงานได้โดยปลอดภัย เช่น มอเตอร์ 220 โวลต์ เครื่องเป่าผม 110 โวลต์ เราจะต้องใช้อุปกรณ์ไฟฟ้ากับแรงดันไฟฟ้าตามที่ระบุไว้เท่านั้น

**แอมมิเตอร์ (ammeter) :** เป็นเครื่องวัดทางไฟฟ้าชนิดหนึ่ง ใช้วัดค่ากระแสไฟฟ้าที่ไหลในวงจรที่เราต้องการวัด โดยปกติเราจะใช้เครื่องมือนี้ต่ออนุกรมกับวงจรที่เราต้องการวัดค่ากระแส แต่ก็มีเครื่องมือวัดชนิดพิเศษที่ไม่ต้องต่อวงจรอันดับเข้ากับวงจรไฟฟ้านั้น จะได้กล่าวถึงในบทต่อไป

**โอห์มมิเตอร์ (ohm meter) :** เป็นเครื่องวัดทางไฟฟ้าชนิดหนึ่ง ใช้วัดค่าความต้านทานไฟฟ้าเวลาใช้จะต้องไม่มีการจ่ายไฟจากแหล่งจ่ายไฟใดในวงจรไฟฟ้านั้น

**โวลต์มิเตอร์ (volt meter) :** เป็นเครื่องมือวัดทางไฟฟ้าชนิดหนึ่ง ใช้วัดค่าแรงดันไฟฟ้า

**มัลติมิเตอร์ (multimeter) :** เป็นเครื่องมือวัดทางไฟฟ้าชนิดหนึ่งที่สามารถวัดค่าแรงดัน กระแสและความต้านทานได้ในเครื่องวัดตัวเดียวกัน

**National Electric Code :** เป็นหนังสือคู่มือรวบรวมข้อแนะนำและกฎข้อบังคับในการติดตั้งอุปกรณ์ไฟฟ้าให้มีความปลอดภัย แม้ว่าจะมีเนื้อหาหายากแต่หนังสือคู่มือนี้ก็ไม่มีความมุ่งหมายสำหรับการสอน หรือใช้แก่บุคคลที่ไม่เคยผ่านการอบรมมาก่อน ส่วนของไทยเราก็มีคู่มือพวกนี้หลายแห่งด้วยกัน เช่น

คู่มือของการไฟฟ้านครหลวง การพลังงานแห่งชาติ การไฟฟ้าส่วนภูมิภาค ซึ่งหลักการและกฎข้อบังคับส่วนใหญ่ก็คล้าย ๆ กับของ NEC (National Electric Code) ของต่างประเทศนั่นเอง

**สวิตช์อัตโนมัติหรือเซอร์กิตเบรกเกอร์ (circuit breaker) :** เป็นอุปกรณ์ป้องกันที่ใช้จำกัดกระแสไฟฟ้าสูงสุดในวงจร เมื่อกระแสเกินค่าจำกัดเซอร์กิตเบรกเกอร์จะเปิดวงจรไม่ให้กระแสไฟฟ้าไหลสู่วงจรอีก จนกว่าจะกดปุ่มทำงานใหม่ ปัจจุบันใช้แทนสวิตช์ฟิวส์กันมาก เนื่องจากสามารถต่อวงจรเข้าไปใหม่ได้ทันที ในขณะที่ฟิวส์ต้องสลับเปลี่ยนตัวใหม่เข้าไปแทน และยังในระบบไฟฟ้า 3 เฟสด้วยแล้วถ้าเกิดขาดที่ฟิวส์เพียงเส้นเดียวเหลือไฟฟ้ามาแค่ 2 เฟสเท่านั้น อาจเกิดการเสียหายไหม้ขึ้นที่มอเตอร์ 3 เฟสได้ หลักการทำงานของเซอร์กิตเบรกเกอร์จะทำงานโดยอาศัยอำนาจแม่เหล็ก เมื่อมีกระแสไฟฟ้าในวงจรไหลเข้ามามาก ๆ สนามแม่เหล็กจะดึงสวิตช์ให้ตัววงจรออก และบางแบบจะมีตัวป้องกันกระแสเกินขนาดด้วยความร้อนต่อรวมมาด้วยโดยอาศัยการที่มีกระแสไหลผ่านความต้านทานของตัว ไบเมทัลลิก (bimetallic) (ไบเมทัลลิก เป็นโลหะที่ขยายตัวเมื่ออุณหภูมิสูงขึ้นและหดตัวเมื่ออุณหภูมิต่ำลง) เมื่อกระแสไหลผ่านมากจะเกิดความร้อนมาก ตัวไบเมทัลลิกจะขยายตัวดึงให้สวิตช์ตัววงจรออก เราใช้ตัวอักษรย่อแทนเซอร์กิตเบรกเกอร์ด้วย CB

**ฟิวส์ (fuse)** เป็นอุปกรณ์ป้องกันที่ใช้จำกัดกระแสไฟฟ้าสูงสุดในวงจร เมื่อกระแสเกินค่าจำกัดฟิวส์จะเกิดความร้อนมากขึ้นจนกระทั่งหลอมละลายขาดจากกัน วงจรก็จะเปิด ฟิวส์จะต้องอย่างอนุกรมกับวงจร

**หม้อแปลง (transformer) :** เป็นอุปกรณ์ที่ใช้เปลี่ยนแรงดันไฟฟ้าให้สูงขึ้นหรือต่ำลง เพื่อให้ตรงกับแรงดันที่ใช้กับอุปกรณ์ไฟฟ้าต่างๆ เช่น มีเครื่องซักผ้าแรงดัน 110 โวลต์ แต่มีไฟฟ้าแรงดัน 220 โวลต์ เราก็ต้องใช้หม้อแปลงแรงดัน 220 โวลต์ ให้เป็นแรงดัน 110 โวลต์ จึงจะใช้เครื่องซักผ้าได้ นอกจากนี้เรายังนิยมใช้หม้อแปลงกับเครื่องติดต่อกายใน และระบบเสียงกริ่งเรียก เป็นต้น

**เฟส (phase) :** หมายถึงชนิดของระบบไฟฟ้าที่ใช้มีทั้งระบบ 1 เฟส 2 สาย และ 3 เฟส 4 สาย อุปกรณ์ไฟฟ้า 1 เฟส 2 สาย จะใช้ตามบ้านที่อยู่อาศัย ส่วนระบบไฟฟ้า 3 เฟส 4 สาย นิยมใช้กับธุรกิจใหญ่กับโรงงานอุตสาหกรรม

## ภาคผนวก

### 1. แนวทางการพัฒนาศักยภาพทางวิทยาศาสตร์เพื่อการประกอบอาชีพ

การประกอบอาชีพมีความสำคัญต่อการดำรงชีวิตของมนุษย์เป็นอันมาก ทั้งนี้ เพราะอาชีพไม่ใช่จะสนองตอบความต้องการของมนุษย์เพียงด้านเศรษฐกิจเท่านั้น แต่ยังสนองความต้องการด้านอื่น เช่น ด้านสังคม และจิตใจ เป็นต้น การเลือกอาชีพจึงมีความสำคัญต่อชีวิตของบุคคล ถ้าเราเลือกอาชีพได้เหมาะสมก็มีแนวโน้มที่จะประสบความสำเร็จในการประกอบอาชีพที่มีความเจริญก้าวหน้าเป็นอันมาก ในทางตรงกันข้าม ถ้าเลือกอาชีพได้ไม่เหมาะสมโอกาสที่จะประสบความสำเร็จในการประกอบอาชีพก็มีไม่มากนัก ซึ่งได้กำหนดแนวทางแห่งหลักสูตรของ 5 กลุ่มอาชีพ ดังนี้

ตาราง วิเคราะห์การพัฒนาศักยภาพทางวิทยาศาสตร์เพื่อการประกอบอาชีพ

| ด้านกลุ่มอาชีพ | ลักษณะอาชีพ   | เนื้อหาตามสาระ   | อาชีพที่เกี่ยวข้อง   |
|----------------|---|--|--|
| 1. เกษตรกรรม   | <p>1. กสิกรรม หมายถึง การเพาะปลูกพืช เช่น การทำนา การทำสวน การทำไร่ เป็นต้น</p> <p>2. ปศุสัตว์ หมายถึง การประกอบอาชีพเลี้ยงสัตว์บนบก เช่น เลี้ยงวัว เลี้ยงหมู หรือเลี้ยงสัตว์จำพวกสัตว์ปีก เป็นต้น</p> <p>3. การประมง หมายถึง การประกอบอาชีพการเกษตรทางน้ำ เช่น การเลี้ยงสัตว์น้ำ การจับสัตว์น้ำ เป็นต้น</p> <p>4. ด้านป่าไม้ หมายถึง การประกอบอาชีพเกี่ยวกับป่า เช่น การปลูกป่าไม้ เศรษฐกิจ การนำผลผลิตจากป่ามาแปรรูปให้เกิดประโยชน์ เป็นต้น</p> | <p>1. กระบวนการทางวิทยาศาสตร์ ในการนำความรู้เกี่ยวกับกระบวนการทางวิทยาศาสตร์และโครงการไปใช้ เทคโนโลยีกับชีวิต</p> <p>2. สิ่งมีชีวิตและสิ่งแวดล้อม ในการจัดกลุ่มของสิ่งมีชีวิตระบบนิเวศ</p> <p>ทรัพยากรธรรมชาติ สิ่งแวดล้อม การอนุรักษ์</p> <p>ภูมิปัญญาท้องถิ่น และเทคโนโลยีชีวภาพ</p> <p>3. พลังงานในชีวิตประจำวัน และการอนุรักษ์พลังงาน</p> <p>4. ดาราศาสตร์เพื่อชีวิต</p> <p>ความสัมพันธ์ระหว่างดวงอาทิตย์ โลก และดวงจันทร์ และปรากฏการณ์</p> | <p>1. ปศุสัตว์</p> <p>ตัวอย่าง อาชีพทางการปศุสัตว์</p> <p>ฟาร์มขนาดใหญ่ ได้แก่ เลี้ยงไก่พันธุ์พื้นเมือง</p> <p>เลี้ยงหมู เลี้ยงโคเนื้อ โคนม เลี้ยงผึ้ง เลี้ยงแพะ เลี้ยงกบ</p> <p>เลี้ยงหอยแมลงภู่แบบแขวนเชือก</p> <p>หอยนางรม เลี้ยงไหมเกษตร</p> <p>เลี้ยงปลาในกระชัง ปลาตุ๊ก ปลาตะเพียน เลี้ยงเป็ดเทศ เป็นต้น</p> <p>2. ไร่ ทำสวน</p> <p>3. ทำนา</p> <p>ตัวอย่าง อาชีพการทำไร่ทำสวน</p> <p>เช่น การทำไร่อ้อย</p> <p>ไร่กระชาย สวนส้มโอ สวนมะม่วง สวนมังคุด สวนทุเรียน</p> <p>สวนมะลิ สวนไม้ดอกไม้ประดับ</p> <p>ปลูกพืชสวนครัว เป็นต้น</p> |

| ด้านกลุ่มอาชีพ | ลักษณะอาชีพ   | เนื้อหาตามสาระ   | อาชีพที่เกี่ยวข้อง   |
|----------------|---|--|--|
| 2. อุตสาหกรรม  | <p>1. อาชีพช่างอุตสาหกรรม เกษตร เช่นฟาร์มโคนม การปลูกพืชไร่ดิน โรงงานผลิตลำไยกระป๋อง และอุตสาหกรรมแปรรูป ผลิตผลทางเกษตรฯลฯ</p> <p>2. อาชีพช่างอุตสาหกรรม ผลิตสินค้าสำเร็จรูป เช่น โรงงานผลิตเครื่องใช้ไฟฟ้า โรงงานผลิตเฟอร์นิเจอร์ โรงงานผลิตรถจักรยาน ฯลฯ</p> <p>3. อาชีพช่างอุตสาหกรรม ผลิตวัตถุดิบ เช่น โรงงานผลิตยางดิบ โรงงานผลิตน้ำมันปาล์ม</p> <p>4. อาชีพช่างอุตสาหกรรม ผลิตสินค้าอุตสาหกรรม เช่น โรงงานผลิตเส้นใยสังเคราะห์ โรงงานผลิตเหล็กรีดร้อนและเหล็ก รีดเย็น</p> <p>5. อาชีพช่างอุตสาหกรรม น้ำมัน เช่น การสำรวจ แหล่งน้ำมันและการขุดเจาะ น้ำมัน โรงกลั่นน้ำมัน เพื่อผลิตน้ำมันชนิดต่าง ๆ ฯลฯ</p> <p>6. อาชีพช่างอุตสาหกรรม เครื่องจักรกล เช่น โรงงานผลิต คอมเพลสเซอร์ เครื่องปรับอากาศ</p> | <p>1. กระบวนการทาง วิทยาศาสตร์ ในการนำ ความรู้เกี่ยวกับกระบวนการ ทางวิทยาศาสตร์และ โครงการไปใช้ เทคโนโลยี กับชีวิต</p> <p>2. สิ่งมีชีวิตและสิ่งแวดล้อม ในการจัดกลุ่มของสิ่งมีชีวิต ระบบนิเวศ ทรัพยากร - ธรรมชาติ และสิ่งแวดล้อม และการอนุรักษ์ ภูมิปัญญาท้องถิ่น และ เทคโนโลยีชีวภาพ</p> <p>3. สารเพื่อชีวิต ธาตุ สารประกอบ สารละลาย สาร และผลิตภัณฑ์ในชีวิต</p> <p>สารสังเคราะห์ ผลกระทบ ที่เกิดจากสาร และผลิตภัณฑ์ ที่มีต่อสิ่งแวดล้อม</p> <p>4. แรงและพลังงานเพื่อชีวิต การอนุรักษ์พลังงาน และ พลังงานทดแทน</p> | <p>1. การผลิตสินค้า แปรรูป ผลิตภัณฑ์ อุตสาหกรรมหรือ หัตถกรรมในครัวเรือน</p> <p>2. การผลิตสินค้าจำพวกอะไหล่ อุปกรณ์ไฟฟ้า และซ่อมบำรุง</p> <p>3. การผลิตสินค้าในครัวเรือน เช่น น้ำมัน พืช ปาล์ม ฯลฯ</p> <p>4. การผลิตเครื่องนอน การผลิต ตู้กดน้ำ</p> <p>5. การผลิตสินค้าพลาสติก พวงชักฟอก ขวดน้ำ ฯลฯ</p> <p>6. การรับช่วงงานบางขั้นตอนของ การผลิตมาดำเนินการ ตัวอย่าง การผลิตสินค้าด้าน อุตสาหกรรมในครัวเรือน เช่น ทอ ผ้าตีนจก,ผ้ามัดหมี่,ผ้าไหม จักรสาน ,ทอเสื่อ เย็บผ้าใบ ทำยางแผ่น ทำเสื่อขัดผ้าปาติก ประดิษฐ์ที่ติดผม ประดิษฐ์สิ่งของจากกระดาษ-สา ประดิษฐ์ของที่ระลึกและของ ชำร่วย ร้อยพวงมาลัยดอกพุดส่ง</p> |

| ด้านกลุ่มอาชีพ | ลักษณะอาชีพ  | เนื้อหาตามสาระ   | อาชีพที่เกี่ยวข้อง  |
|----------------|--|--|---|
|                | โรงงานผลิตปื้มน้ำ<br>โรงงานผลิตเครื่องยนต์เล็ก<br>โรงงานประกอบ<br>รถจักรยานยนต์ เป็นต้น<br>7. อาชีพช่างอุตสาหกรรม<br>รถยนต์ เช่น โรงงาน<br>ประกอบรถยนต์ โรงงาน<br>ประกอบตัวถังรถยนต์ ฯลฯ |  | ร้านขายพวงมาลัย เย็บเสื้อ<br>สำเร็จรูป เสาถ่าน ทำไม้กรอก<br>อีสาน ทำขนมจีน<br>เป็นต้น   |
| 3. พาณิชยกรรม  | การค้าและบริหารที่เกี่ยวข้องกับ<br>การค้าทุกชนิดไม่ว่าจะเป็น<br>การค้าปลีก คำส่ง<br>การส่งออก การธนาคาร<br>การประกันภัย และ<br>ปัญญาประดิษฐ์ในวงการ<br>คอมพิวเตอร์เพื่อพาณิชย<br>กรรม    | 1. กระบวนการทาง<br>วิทยาศาสตร์ ในการนำ<br>ความรู้เกี่ยวกับกระบวนการ<br>ทางวิทยาศาสตร์และ<br>โครงการไปใช้<br>2. สิ่งมีชีวิตและสิ่งแวดล้อม<br>ในการจัดกลุ่มของสิ่งมีชีวิต<br>ระบบนิเวศ ทรัพยากร-<br>ธรรมชาติและสิ่งแวดล้อม<br>และการอนุรักษ์<br>3. พลังงานในชีวิตประจำวัน<br>และการอนุรักษ์พลังงาน<br>4. เทคโนโลยี | 1.ค้าขายสินค้า รับทำจ้างบัญชี<br>2.บริการ<br>ผลิตอาหารสำเร็จรูป เช่น - ค้าขาย<br>ของที่ระลึก ขายสินค้าพื้นเมือง<br>ขายกล้วยเดี่ยว ขายอาหาร<br>ขายสินค้าเบ็ดเตล็ด<br>ขายของชำ ขายสินค้าสำเร็จรูป<br>ขายขนม ขายผลไม้<br>ขายอาหารและเครื่องคัม<br>ขายลอตเตอรี่ ขายตุ๊กตา<br>ขายปาต่องโก๋ ขายอาหารทะเลสด<br>3.เป็นคนกลางรับซื้อ - ขาย<br>ตัวอย่าง อาชีพค้าขาย เช่น อาชีพ<br>พ่อค้า แม่ค้าคนกลาง การบริการ<br>ลูกค้า ขายสัตว์เลี้ยง ขายตัว<br>เครื่องบิน ขายเฟอร์นิเจอร์<br>4. เวชภัณฑ์ เช่น ขายยา<br>ขายเครื่องสำอาง ขาย<br>เครื่องประดับทำด้วยเงิน<br>ขายทองรูปพรรณ ขายดอกไม้สด<br>ขายแก๊สหุงต้ม<br>ขายตรงเครื่องสำอาง<br>ขายผลผลิตทางการเกษตร |



| ด้านกลุ่มอาชีพ       | ลักษณะอาชีพ  | เนื้อหาตามสาระ  | อาชีพที่เกี่ยวข้อง  |
|----------------------|--|---|---|
|                      |  |   | สินค้าอุตสาหกรรมที่ตนเองเป็นผู้ผลิต เป็นต้น   |
| 4. ความคิดสร้างสรรค์ | <p>กลุ่มอาชีพที่ส่งเสริมความคิดสร้างสรรค์” (Creative Profession)</p> <p>1) ประเภทรดกทางวัฒนธรรม (Heritage or Cultural Heritage) เป็นกลุ่มอุตสาหกรรมที่เกี่ยวข้องเกี่ยวกับประวัติศาสตร์ โบราณคดี วัฒนธรรม ประเพณี ความเชื่อ และสภาพสังคม เป็นต้น แบ่งออกเป็น 2 กลุ่ม คือ กลุ่มการแสดงออกทางวัฒนธรรมแบบดั้งเดิม (Traditional Cultural Expression) เช่น ศิลปะและงานฝีมือ เทศกาลงานและงานฉลอง เป็นต้น และกลุ่มที่ตั้งทางวัฒนธรรม (Cultural Sites) เช่น โบราณสถาน พิพิธภัณฑสถาน หอสมุด และการแสดงนิทรรศการ เป็นต้น</p> <p>2) ประเภทศิลปะ (Arts) เป็นกลุ่มอุตสาหกรรมสร้างสรรค์บนพื้นฐานของศิลปะ และวัฒนธรรม แบ่งออกเป็น 2 กลุ่ม คือ งานศิลปะ (Visual Arts)</p> | <p>1. กระบวนการทางวิทยาศาสตร์ ในการนำความรู้เกี่ยวกับกระบวนการทางวิทยาศาสตร์และโครงการไปใช้ เทคโนโลยีกับชีวิต</p> <p>2. สิ่งมีชีวิตและสิ่งแวดล้อม ในการจัดกลุ่มของสิ่งมีชีวิต ระบบนิเวศ ทรัพยากรธรรมชาติ และสิ่งแวดล้อมและการอนุรักษ์</p> <p>3. สารเพื่อชีวิต ธาตุ สารประกอบ สารละลาย สารและผลิตภัณฑ์ในชีวิต สารสังเคราะห์ ผลกระทบที่เกิดจากสาร และผลิตภัณฑ์ที่มีต่อสิ่งแวดล้อม</p> <p>4. แรงและพลังงานเพื่อชีวิต การอนุรักษ์พลังงาน และพลังงานทดแทน</p> <p>5. พลังงานในชีวิตประจำวัน และการอนุรักษ์พลังงาน</p> | <p>แบ่งออกเป็น 9 กลุ่มได้แก่</p> <p>1) งานฝีมือและหัตถกรรม (Crafts)</p> <p>2) งานออกแบบ (Design)</p> <p>3) แฟชั่น (Fashion)</p> <p>4) ภาพยนตร์และวิดีโอ (Film &amp; Video)</p> <p>5) การกระจายเสียง (Broadcasting)</p> <p>6) ศิลปะการแสดง (Performing Arts)</p> <p>7) ธุรกิจโฆษณา (Advertising) และ</p> <p>ธุรกิจการพิมพ์ (Publishing)</p> <p>9) สถาปัตยกรรม (Architecture)</p> |

| ด้านกลุ่มอาชีพ | ลักษณะอาชีพ   | เนื้อหาตามสาระ | อาชีพที่เกี่ยวข้อง |
|----------------|---|----------------|--------------------|
|                | <p>เช่น ภาพวาด รูปปั้น<br/>ภาพถ่าย และวัตถุโบราณ<br/>เป็นต้น รวมทั้ง<br/>ศิลปะการแสดง<br/>(Performing Arts) เช่น<br/>การแสดงดนตรี การแสดง<br/>ละคร การเต้นรำ โอเปร่า<br/>ละครสัตว์ และการเชิดหุ่น<br/>กระบอก เป็นต้น</p> <p>3) ประเภทสื่อ (Media)<br/>เป็น กลุ่มสื่อผลิตงาน<br/>สร้างสรรค์ที่สื่อสารกับคน<br/>กลุ่มใหญ่ แบ่งออกเป็น 2<br/>กลุ่ม คือ งานสื่อสิ่งพิมพ์<br/>(Publishing and Printed<br/>Media) เช่น หนังสือ<br/>หนังสือพิมพ์ และสิ่งตีพิมพ์<br/>อื่นๆ เป็นต้น และงานโสต<br/>ทัศน์ (Audiovisual) เช่น<br/>ภาพยนตร์ โทรทัศน์ วิทยุ<br/>และการออกอากาศอื่น ๆ<br/>เป็นต้น</p> <p>4) ประเภทสร้างสรรค์<br/>งาน (Functional Creation)<br/>เป็นกลุ่มของสินค้าและ<br/>บริการที่ตอบสนองความ<br/>ต้องการของลูกค้าที่<br/>แตกต่างกัน แบ่งออกเป็น<br/>3 กลุ่ม คือ<br/>กลุ่มการออกแบบ (Design)<br/>เช่น การออกแบบภายใน</p> |                |                    |

| ด้านกลุ่มอาชีพ                       | ลักษณะอาชีพ  | เนื้อหาตามสาระ   | อาชีพที่เกี่ยวข้อง  |
|--------------------------------------|--|--|---|
|                                      | <p>กราฟิก แฟชั่น อัญมณี และของเด็กเล่น เป็นต้น</p> <p>ส่วนกลุ่ม New Media ได้แก่ ซอฟต์แวร์ วิดีโอเกม และเนื้อหาดิจิทัล เป็นต้น</p> <p>และกลุ่มบริการทางความคิดสร้างสรรค์ (Creative Services) ได้แก่ บริการทางสถาปัตยกรรม โฆษณา วัฒนธรรมและนันทนาการ งานวิจัยและพัฒนา และบริการอื่นที่เกี่ยวข้องกับดิจิทัล และความคิดสร้างสรรค์ เป็นต้น</p>   |  |   |
| <p>5. บริหารจัดการและ<br/>บริการ</p> | <p>อาชีพการให้บริการ (Service Sector) เป็นอาชีพที่ผู้ประกอบการมีสินค้าเป็นการบริการ เพื่ออำนวยความสะดวกให้แก่ผู้ซื้อบริการหรือลูกค้า คุณภาพของสินค้าบริการ คือความพึงพอใจจากการใช้บริการนั้น ๆ รายได้คือค่าตอบแทนที่ได้จากการบริการ การประกอบอาชีพประเภทนี้ต้องการเงินลงทุน ไม่มากนักเมื่อเทียบกับการลงทุนด้านการผลิตสินค้า กระบวนการไม่ซับซ้อน เพียงแต่ผู้ให้บริการต้องเป็นผู้ที่มี</p> | <ol style="list-style-type: none"> <li>1. กระบวนการทางวิทยาศาสตร์ ในการนำความรู้เกี่ยวกับกระบวนการทางวิทยาศาสตร์และโครงการไปใช้ เทคโนโลยีกับชีวิต</li> <li>2. สิ่งมีชีวิตและสิ่งแวดล้อม ในการจัดกลุ่มของสิ่งมีชีวิตระบบนิเวศ</li> <li>3. สารเพื่อชีวิต ธาตุสารประกอบ สารละลาย สารและผลิตภัณฑ์ในชีวิต สารสังเคราะห์ ผลกระทบที่เกิดจากสาร และผลิตภัณฑ์ที่มีต่อสิ่งแวดล้อม</li> </ol> | <p>ตัวอย่าง อาชีพบริการ</p> <p>ช่างซ่อม เช่น ช่างซ่อมมอเตอร์ไซค์ ช่างซ่อมรถยนต์ ช่างเคาะปะผุและพ่นสีรถยนต์ ช่างซ่อมเบาะรถยนต์ ช่างซ่อมโทรทัศน์ วิทยุ</p> <p>ช่างซ่อมเครื่องใช้ไฟฟ้า</p> <p>ช่างเชื่อมโลหะ ช่างทำหลังคาอะลูมิเนียม</p> <p>เสริมสวยความงาม เช่น ช่างตัดเย็บเสื้อผ้า ช่างเสริมสวย - ช่างแต่งหน้า นวดหน้า ช่างทำผม</p> <p>ช่างตัดผมบุรุษ ช่างศิลป์ ช่างเขียนภาพเหมือน ช่างศิลป์ทำโปสเตอร์ โฆษณา ช่างก่อสร้าง ช่างจัดดอกไม้สด,ดอกไม้แห้ง</p> |

| ด้านกลุ่มอาชีพ | ลักษณะอาชีพ  | เนื้อหาตามสาระ   | อาชีพที่เกี่ยวข้อง  |
|----------------|--|--|---|
|                | <p>ความรู้ความสามารถและมีประสบการณ์ หรือเชี่ยวชาญในอาชีพ</p> | <p>4. แรงแและพลังงานเพื่อชีวิต การอนุรักษ์พลังงาน และพลังงานทดแทน พลังงานไฟฟ้า พลังงานแสง พลังงานเสียง พลังงานในชีวิตประจำวันและการอนุรักษ์พลังงาน</p> | <p>รับจ้างทั่วไป เช่น รับเลี้ยงเด็กอ่อน บริการซักอบรีด บริการให้เช่า วีดีโอ,หนังสืออ่านเล่น บ้านพัก ตากอากาศ,หอพัก สกูตเตอร์ขาย หาด,รถเช่า ขับรถแท็กซี่,มอเตอร์ไซค์รับจ้าง,รถรับจ้างระหว่างหมู่บ้าน,สามล้อ บริการถ่ายเอกสาร,รับพิมพ์รายงาน เล่นดนตรีในร้านอาหาร รับเหมาแกะ หอยนางรม รับเหมาสับตระไคร้ ส่งโรงงาน รับเหมาก่อสร้าง เป็นต้น</p> |

## เฉลยแบบทดสอบ

### เฉลยแบบทดสอบบทที่ 1 เรื่อง ทักษะกระบวนการทางวิทยาศาสตร์

- |       |       |       |       |       |
|-------|-------|-------|-------|-------|
| 1. ข  | 2. ข  | 3. ง  | 4. ค  | 5. ค  |
| 6. ก  | 7. ข  | 8. ค  | 9. ก  | 10. ง |
| 11. ก | 12. ก | 13. ก | 14. ค | 15. ง |
| 16. ง | 17. ง | 18. ค | 19. ข | 20. ค |
| 21. ก | 22. ข | 23. ข | 24. ค | 25. ง |
| 26. ง | 27. ง | 28. ง | 29. ง | 30. ข |

### เฉลยแบบทดสอบเรื่อง ทักษะวิทยาศาสตร์

- |      |      |      |        |       |
|------|------|------|--------|-------|
| 1. ค | 2. ข | 3. ง | 4. จ   | 5. ข  |
| 6. ง | 7. ก | 8. จ | 9. ข,ก | 10. ง |

### เฉลยแบบทดสอบบทที่ 2 เรื่อง การทำโครงการวิทยาศาสตร์

- |     |     |     |     |     |     |     |     |     |      |
|-----|-----|-----|-----|-----|-----|-----|-----|-----|------|
| 1.ข | 2.ก | 3.ค | 4.ค | 5.ค | 6.ข | 7.ข | 8.ก | 9.ค | 10.ก |
|-----|-----|-----|-----|-----|-----|-----|-----|-----|------|

### เฉลยแบบทดสอบบทที่ 7 เรื่อง กัมมันตภาพรังสี

- |     |     |     |     |     |     |     |     |     |      |
|-----|-----|-----|-----|-----|-----|-----|-----|-----|------|
| 1.ค | 2.ข | 3.ก | 4.ค | 5.ง | 6.ก | 7.ง | 8.ค | 9.ง | 10.ค |
|-----|-----|-----|-----|-----|-----|-----|-----|-----|------|

### เฉลยแบบฝึกหัดเรื่อง กัมมันตภาพรังสี

- กัมมันตภาพรังสี (Radioactivity) หมายถึง รังสีที่แผ่ออกมาได้เองจากธาตุบางชนิด  
ธาตุกัมมันตภาพรังสี หมายถึง ธาตุที่มีในธรรมชาติที่แผ่รังสีออกมาได้เอง
- มี 3 ชนิด คือ
  - รังสีแอลฟา (alpha, a)
  - รังสีเบต้า (Beta, b)
  - รังสีแกมมา (gamma, g)

### 3. ประโยชน์ของธาตุกัมมันตภาพรังสี

1. ด้านธรณีวิทยา มีการใช้ C-14 กำหนดหาอายุของวัตถุโบราณ ถ้าทราบอัตราการสลายตัวของ C-14 ในขณะที่ยังมีชีวิตอยู่และทราบอัตราการสลายตัวในขณะที่ต้องการคำนวณอายุวัตถุนั้น ก็สามารถทำนายอายุได้ เช่น ซากสัตว์โบราณชนิดหนึ่งมีอัตราการสลายตัวของ C-14 ลดลงไปครึ่งหนึ่งจากของเดิม ขณะที่ยังมีชีวิตอยู่ เนื่องจาก C-14 มีครึ่งชีวิต 5730 ปี จึงอาจสรุปได้ว่าซากสัตว์โบราณชนิดนั้นมีอายุประมาณ 5730 ปี

2. ด้านการแพทย์ ใช้รักษาโรคมะเร็ง ในการรักษาโรคมะเร็งบางชนิด กระทำได้โดยการฉายรังสีแกมมาที่ได้จาก โคบอลต์-60 เข้าไปทำลายเซลล์มะเร็ง

3. ด้านเกษตรกรรม มีการใช้ธาตุกัมมันตภาพรังสีติดตามระยะเวลาการหมุนเวียนแร่ธาตุในพืช โดยเริ่มต้นจากการดูดซึมที่รากจนกระทั่งถึงการคายออกที่ใบ หรือใช้ศึกษาความต้องการแร่ธาตุของพืช

4. ด้านอุตสาหกรรม ในอุตสาหกรรมการผลิตแผ่นโลหะ จะใช้ประโยชน์จากกัมมันตภาพรังสีในการควบคุมการรีดแผ่นโลหะ เพื่อให้ได้ความหนาสม่ำเสมอตลอดแผ่น

#### เฉลยแบบฝึกหัดบทที่ 8 เรื่อง สมการเคมีและปฏิกิริยาเคมี

1. ง                      2. ค                      3. ค                      4. ค                      5. ก

#### เฉลยแบบฝึกหัดบทที่ 10 เรื่อง ปิโตรเลียมและพอลิเมอร์

##### เฉลย ตอนที่ 1

1. ข                      2. ง                      3. ค                      4. ค                      5. ก  
6. ข                      7. ข                      8. ก                      9. ค                      10. ง

##### เฉลย ตอนที่ 2

1. ปิโตรเลียมเกิดจากการทับถมและสลายตัวของอินทรีย์สารจากพืชและสัตว์ที่คลุกเคล้าอยู่กับตะกอนในชั้นกรวดทรายและโคลนตมใต้พื้นดิน เมื่อเวลาผ่านไปนับล้านปีตะกอนเหล่านี้จะจมตัวลงเรื่อย ๆ เนื่องจากการเปลี่ยนแปลงของผิวโลก ถูกอัดแน่นด้วยความดันและความร้อนสูง และมีปริมาณออกซิเจนจำกัด จึงสลายตัวเปลี่ยนสภาพเป็นแก๊สธรรมชาติและน้ำมันดิบแทรกอยู่ระหว่างชั้นหินที่มีรูพรุน

2. ช่วยให้คาดคะเนได้ว่ามีโอกาสพบโครงสร้างและชนิดของหินที่เอื้ออำนวยต่อการกักเก็บปิโตรเลียมในบริเวณนั้นมากหรือน้อยเพียงใด

3. การวัดความเข้มสนามแม่เหล็กโลก จะบอกให้ทราบถึงขอบเขต ความหนา ความกว้างใหญ่ของแอ่ง และความลึกของชั้นหิน การวัดค่าความโน้มถ่วงของโลก ทำให้ทราบถึงชนิดของชั้นหินใต้ผิวโลกในระดับต่าง ๆ ซึ่งจะช่วยในการกำหนดขอบเขตและรูปร่างของแอ่งใต้ผิวดิน การวัดค่าความไหวสะเทือน (Seismic wave) จะช่วยบอกให้ทราบตำแหน่ง รูปร่างลักษณะ และโครงสร้างของหินใต้ดิน

4. ผลิตภัณฑ์ที่ได้จากปิโตรเลียม แก๊สปิโตรเลียม แก๊สธรรมชาติ ถ่านหิน แร่ธาตุต่าง ๆ เป็นส่วนใหญ่ นอกจากนี้อาจผลิตจากน้ำมันพืชและส่วนต่างๆ ของพืช

5. พอลิเมอร์แบบเส้น (Chain length polymer) มีความหนาแน่น และจุดหลอมเหลวสูง มีลักษณะแข็ง ขุ่นเหนียวกว่าโครงสร้างอื่นๆ ตัวอย่าง PVC พอลิสไตรีน พอลิเอทิลีน

พอลิเมอร์แบบกิ่ง (Branched polymer) มีความหนาแน่นและจุดหลอมเหลวต่ำยืดหยุ่นได้ ความเหนียวต่ำ โครงสร้างเปลี่ยนรูปได้ง่ายเมื่ออุณหภูมิเพิ่มขึ้น

พอลิเมอร์แบบร่างแห (Cross-linking polymer) มีความแข็งแรง และเปราะหักง่าย ตัวอย่าง เบกาไลต์ เมลามีน ใช้ทำถ้วยชาม

เฉลยแบบฝึกหัดท้ายบทที่ 11 เรื่อง สารเคมีกับชีวิตและสิ่งแวดล้อม

- |       |      |      |      |      |
|-------|------|------|------|------|
| 1. ง  | 2. ข | 3. ค | 4. ง | 5. ข |
| 6. ค. | 7. ข | 8. ง |      |      |

เฉลยแบบฝึกหัดท้ายบทที่ 13 เรื่อง เทคโนโลยีอวกาศ

เฉลยแบบทดสอบที่ 1

ชื่อ-สกุล.....เลขที่.....ระดับชั้น.....ปี.....

1. ปัจจุบันประเทศไทยมีดาวเทียมสื่อสารแห่งชาติเป็นของตนเอง นั่นคือ ดาวเทียมไทยคม ซึ่งดำเนินงานโดย บริษัท ชินเซทเทลไลท์ จำกัด (มหาชน) และขณะนี้มีจำนวนทั้งสิ้น 3 ดวง ได้แก่ ดาวเทียมดวงใดบ้าง และแต่ละดวงถูกส่งขึ้นในปีใด ( 3 คะแนน)

- ตอบ 1. ดาวเทียมไทยคม 1A ถูกส่งขึ้นสู่วงโคจรเมื่อวันที่ 17 ธันวาคม 2536 ( 1 คะแนน)  
 2. ดาวเทียมไทยคม 2 ถูกส่งขึ้นสู่วงโคจรเมื่อวันที่ 7 ตุลาคม 2537 ( 1 คะแนน)  
 3. ดาวเทียมไทยคม 3 ถูกส่งขึ้นสู่วงโคจรเมื่อวันที่ 16 เมษายน 2540 ( 1 คะแนน)

2. ตำแหน่งของดาวเทียมอุตุนิยมวิทยาชนิดใดที่สัมพันธ์กับตำแหน่งบนพื้น โลกในบริเวณเดิมเสมอ ( 4 คะแนน)

ตอบ ดาวเทียมอุตุนิยมวิทยาชนิดโคจรค้างฟ้า ( 1 คะแนน) ดาวเทียมชนิดนี้จะโคจรรอบโลกใช้เวลา 24 ชั่วโมง ซึ่งเท่ากับเวลาที่โลกหมุนรอบตัวเอง ( 1 คะแนน) โดยวงโคจรจะอยู่ในตำแหน่งเส้นศูนย์สูตรของโลก และจะโคจรไปในทางเดียวกับการโคจรรอบตัวเองของโลกด้วยความเร็วที่เท่ากัน ดังนั้นตำแหน่งของดาวเทียม จะสัมพันธ์กับตำแหน่งบนพื้น โลกในบริเวณเดิมเสมอ ครอบคลุมพื้นที่จากขั้วโลกเหนือจรดขั้วโลกใต้ และวงโคจรมีความสูงจากพื้นโลก ประมาณ 35,800 กิโลเมตร ( 2 คะแนน)

- ข้อมูลภาพถ่ายชั้นบรรยากาศของโลก และถ่ายทอดข้อมูลจากสถานีภาคพื้นดิน ทำการตรวจอากาศของโลกประจำวัน ข้อมูลเหล่านี้ ได้จากดาวเทียมประเภทใด ตอบ ดาวเทียมอุตุนิยมวิทยา
- ดาวเทียม Spot เป็นของสถาบันพัฒนาอวกาศแห่งชาติฝรั่งเศสร่วมกับประเทศในกลุ่มยุโรป เป็นดาวเทียมที่ใช้ประโยชน์ทางด้านใด ตอบ ดาวเทียมสำรวจทรัพยากรธรรมชาติ
- ข้อมูลด้านการใช้ที่ดิน ด้านอุทกศาสตร์ ด้านป่าไม้ ด้านการประมง ด้านการเกษตร ได้จากดาวเทียมประเภทใด ตอบ ดาวเทียมสำรวจทรัพยากรธรรมชาติ
- ยานอวกาศ หมายถึง ยานที่ออกไปนอกโลกโดยมีมนุษย์ขึ้นไปด้วยพร้อมเครื่องมือและอุปกรณ์สำหรับสำรวจ หรืออาจจะไม่มีมนุษย์ขึ้นไป แต่มีอุปกรณ์และเครื่องมือวิทยาศาสตร์เท่านั้น
- อวกาศ หมายถึง ที่ว่างนอกโลก นอกดวงดาว ดังนั้นจึงมีอวกาศระหว่างโลกกับดวงจันทร์
- ยานอวกาศ มี 2 ประเภทคือ ยานอวกาศที่มีมนุษย์ควบคุมและไม่มีมนุษย์ควบคุม

- ระบบการขนส่งอวกาศเป็นโครงการที่ถูกออกแบบให้สามารถนำชิ้นส่วนบางส่วนที่ใช้ไปแล้วกลับมาใช้ใหม่อีกเพื่อเป็นการประหยัดและมีประสิทธิภาพมากที่สุด ประกอบด้วย 3 ส่วนหลัก คือ จรวดเชื้อเพลิงแข็ง ถังเชื้อเพลิงภายนอก (สำรองไฮโดรเจนเหลวและออกซิเจนเหลว) และยานอวกาศ
- เป้าหมายหลักของโครงการขนส่งอวกาศในอนาคตคือการสร้างสถานีอวกาศถาวรและการทดลองทางวิทยาศาสตร์อื่น ๆ

### เฉลย แบบทดสอบที่ 2

1. ปรากฏการณ์บนโลก เกี่ยวข้องกับเทคโนโลยีเกี่ยวข้องกับเทคโนโลยีประเภทบ้าง ยกตัวอย่าง ดาวเทียมอุตุนิยมวิทยา ดาวเทียมสื่อสาร ดาวเทียมสำรวจทรัพยากร

2. ปรากฏการณ์ในอวกาศเกี่ยวข้องกับเทคโนโลยีประเภทใดบ้างยกตัวอย่าง  
ตอบ โครงการสำรวจอวกาศที่สำคัญในปัจจุบัน เช่น

1. โครงการเรนเจอร์ ออกแบบให้ยานพุ่งชนดวงจันทร์
2. โครงการลูน่าออบิเตอร์ กำหนดให้ยานไปวนถ่ายภาพรอบดวงจันทร์
3. โครงการเซอเวเยอร์ ออกแบบให้ยานจอดลงบนพื้นอย่างนุ่มนวล
4. ยานอวกาศมีมนุษย์ควบคุม เป็นของสหรัฐอเมริกา มีโครงการต่างๆ ดังนี้
5. โครงการเมอคิวรี มีจุดประสงค์ที่จะส่งมนุษย์ขึ้นไปโคจรในอวกาศ สำหรับให้มนุษย์ใช้งาน เป็นต้น
3. โครงการแชลแลนเจอร์และโครงการ โคลัมเบียประสบความสำเร็จร้ายแรง เมื่อยานทั้งสองเกิดระเบิดขึ้นขณะอยู่บนท้องฟ้า โดยระบบขนส่งอวกาศแชลแลนเจอร์ระเบิดเมื่อวันที่ 28 มกราคม 2529 ระหว่างเดินทางขึ้นสู่อวกาศไม่เพียงกินชาติด้วยสาเหตุจากการรั่วไหลของก๊าซเชื้อเพลิง
4. โครงการยานขนส่งอวกาศ คือ เพื่อใช้เป็นพาหนะสำหรับบรรทุกสิ่งของและมนุษย์ที่ไปบนอวกาศ และเพื่อลดค่าใช้จ่าย ในการใช้ประโยชน์จากอวกาศ
5. ยานสำรวจอวกาศหมายถึง เป็นยานอวกาศพาหนะที่ใช้สำหรับออกไปสำรวจดวงจันทร์และดาวเคราะห์ต่าง ๆ โครงการสร้างยานอวกาศทั้งประเทศสหรัฐอเมริกาและรัสเซียได้สร้างยานอวกาศเพื่อสำรวจดวงจันทร์และดาวเคราะห์ในระบบสุริยะของเรา

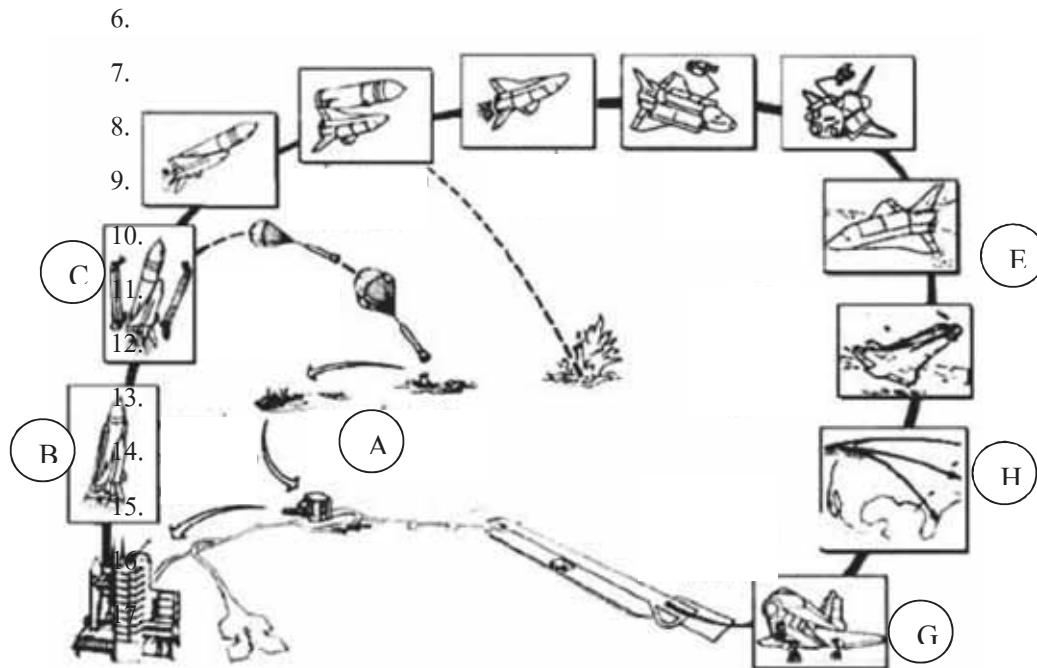
### เฉลย แบบทดสอบ ที่ 3

ให้นักศึกษาดูรูปภาพแล้วนำตัวอักษร (A – H) เติมลงในหน้าข้อความข้างล่าง (8 คะแนน)

D

F





- 1...D..... ถังเชื้อเพลิงแข็งแยกตัวออกมา  
 2...H.....ยานขนส่งอวกาศเข้าสู่วงโคจร  
 3...F.....ลดระดับวงโคจรเพื่อเข้าสู่ชั้นบรรยากาศ  
 4...C..... ถังเชื้อเพลิงภายนอกแยกตัวออกมา  
 5...E..... ยานขนส่งอวกาศปฏิบัติการกิจ  
 6...G..... ยานขนส่งอวกาศกลับสู่พื้นโลก  
 7...A..... นำจรวดเชื้อเพลิงแข็งกลับมาใช้ใหม่  
 8...B..... ยานอวกาศถูกปล่อยออกจากฐาน

#### เฉลย แบบทดสอบที่ 4

ชื่อ-สกุล.....เลขที่.....ระดับชั้น.....ปี.....

1. โครงการอะพอลโล มีจุดประสงค์เพื่อ ตอบ สำรวจดาวเคราะห์ดวงใด สำรวจดวงจันทร์
2. โครงการสกายแล็บ เพื่อจุดประสงค์ใด ตอบ เพื่อค้นคว้าทดลองการอยู่ในอวกาศให้ยาวนานที่สุดศึกษาเกี่ยวกับ เช่น ทรัพยากรธรรมชาติ การแพทย์ ฟิสิกส์
3. โครงการอะพอลโล-โซยุส มีจุดประสงค์เพื่อ ตอบ ทดสอบระบบนัดพบ และเชื่อมยานอวกาศ
4. โครงการขนส่งอวกาศเพื่อ ตอบ ใช้บรรทุกสิ่งของและมนุษย์ที่ไปอวกาศ และเพื่อลดค่าใช้จ่ายในการใช้ยานอวกาศ

5. ดาวเทียมไทยคม 1 ถูกยิงขึ้นจากฐานยิงจรวดแอเรียลสเปซ เมืองคูรู ที่ประเทศไค ตอบ ประเทศเฟรนช์กียานา เมื่อวันที่ 17 ธันวาคม 2536
6. ดาวเทียมไทยคมทั้ง 3 ดวง เป็นดาวเทียมประเภทใด ตอบ ดาวเทียมสื่อสาร
7. การก่อตัวและเคลื่อนตัวของพายุ เราสามารถทราบได้จากดาวเทียมประเภทใด ตอบ ดาวเทียมอุตุนิยมวิทยา
8. ดาวเทียมอุตุนิยมวิทยา ได้ถูกส่งขึ้นไปโคจรในอวกาศเป็นครั้งแรก เมื่อวันที่ 1 เมษายน พ.ศ. 2503 มีชื่อว่า TIROS 01 (Television and Infrared Observational Satellite) เป็นของประเทศใด ตอบ ของประเทศสหรัฐอเมริกา
9. ดาวเทียมอุตุนิยมวิทยานิกที่โคจรรอบโลกโดยจะโคจรรอบโลก จากทิศใต้ไปทิศใต้ ตอบ จะโคจรผ่านใกล้ขั้วโลกเหนือและขั้วโลกใต้ และมีความสูงจากพื้นโลกประมาณกี่กิโลเมตร ตอบ 850 กิโลเมตร
10. ดาวเทียม Spot เป็นของสถาบันพัฒนาอวกาศแห่งชาติฝรั่งเศสร่วมกับประเทศในกลุ่มยุโรป ใช้ประโยชน์ทางด้านใด ตอบ สำรวจทรัพยากรธรรมชาติ

#### เฉลยแบบฝึกหัดที่ 5

1. ประเทศใดได้สร้างยานอวกาศเพื่อสำรวจดวงจันทร์และดาวเคราะห์ในระบบสุริยะ เป็นชาติแรก ตอบ สหรัฐอเมริกาและรัสเซีย
2. โครงการใดที่ออกแบบให้ยานพุ่งชนดวงจันทร์ ตอบ โครงการเรนเจอร์
3. โครงการใด กำหนดให้ยานไปวนถ่ายภาพรอบดวงจันทร์ ตอบ โครงการลูน่าออบิเตอร์
4. โครงการใด ออกแบบให้ยานจอดลงบนพื้นอย่างนุ่มนวล ตอบ โครงการเซอเวเยอร์
5. โครงการอะพอลโล มีจุดประสงค์คือ นำมนุษย์ไปสำรวจดวงจันทร์ ใช้มนุษย์อวกาศครั้งละ 3 คน เป็นโครงการต่อจากเมอคิวรีและเจมินี มนุษย์อวกาศชุดแรกที่หยุดบนพื้นดวงจันทร์เป็นชุดอวกาศที่เดินทางไปกับยานอะพอลโล 11 โครงการอะพอลโลเรียกว่าประสบความสำเร็จตามเป้าหมายมาตลอด มีเพียงลำเดียวที่เกิดอุบัติเหตุขณะมุ่งหน้าสู่ดวงจันทร์ ยานที่ว่าคือยานอะไร ตอบ อะพอลโล 13
6. โครงการยานขนส่งของสหรัฐอเมริกา จนถึงปัจจุบัน มีด้วยกัน 6 ลำคือ
  1. เอนเตอร์ไพรส์ (Enterprise) เป็นยานทดสอบเบื้องต้น,
  2. โคลัมเบีย (Columbia)
  3. ดิสคัฟเวอรี (Discovery)
  4. แอตแลนติส (Atlantis)
  5. แชลเลนเจอร์ (Challenger) ระเบิดขณะขึ้นสู่อวกาศวันที่ 28 มกราคม 2529,
  6. เอนดีฟเวอรี (Endeavour)

## บรรณานุกรม

การใช้สารเคมีอย่างปลอดภัย. [On-line]. Available form สืบค้นวันที่ 28 สิงหาคม 2552 จาก

<http://nates.psu.ac.th/.../510.../12.chemical%20safty%20uses.htm>

การถ่ายถอดยีนและโครโมโซม.[On-line]. Available from URL

<http://www.sahavicha.com/?name=knowledge&file=readknowledge&id=537> เข้าถึงเมื่อ  
17 มิถุนายน 2552

การแบ่งเซลล์. [On-line]. Available from URL(online) Available URL

[http://student.nu.ac.th/phitsanu\\_edu/lesson/lesson\\_3.htm](http://student.nu.ac.th/phitsanu_edu/lesson/lesson_3.htm) เข้าถึงเมื่อ 17 มิถุนายน 2552

การไฟฟ้าแห่งประเทศไทย. (2551). *ระบบไฟฟ้า การเดินสายไฟฟ้าภายในบ้านแบบติดตั้งลอยตัว*.  
กรุงเทพฯ.

----- (2551). *ระบบไฟฟ้า การเดินสายไฟฟ้าภายในอาคารแบบติดตั้งลอยตัว*. กรุงเทพฯ.

การศึกษาทางไกล,สถาบัน. สำนักบริหารงานการศึกษานอกโรงเรียน, กระทรวงศึกษาธิการ.

**ชุดการเรียนทางไกล หมวดวิชาวิทยาศาสตร์ รหัส วท. 30 (SC 30) ระดับมัธยมศึกษาตอนปลาย.**

กรุงเทพมหานคร : องค์การรับส่งสินค้าและพัสดุภัณฑ์ (ร.ส.พ.), 2547.

การศึกษานอกโรงเรียน,กรม. **ชุดวิชาการศึกษานอกโรงเรียน หมวดวิชาวิทยาศาสตร์ ระดับมัธยมศึกษา  
ตอนปลาย.** กรุงเทพฯ : เหมการพิมพ์, 2546.

ของเสียที่เป็นอันตรายต่อสิ่งแวดล้อม. [On-line]. Available form สืบค้นวันที่ 28 สิงหาคม 2552

จินดา ภัทรพงษ์ และอัจฉริยา ทองป่อง. (2551). *สื่อและสาระการเรียนรู้วิทยาศาสตร์ ระดับมัธยมศึกษา  
ตอนต้น การศึกษานอกโรงเรียน*. พิมพ์ที่ 3 กรุงเทพฯ. หน้า 221-223.

โครงสร้างของกรดอะมิโน. [On-line]. Available form <http://www.geocities.com/cartoon/532000/amino.html/>.  
(วันที่ค้นข้อมูล : 13 สิงหาคม 2552).

โครงสร้างน้ำตาลโมลกุลเดี่ยว. [On-line]. Available form

<http://www.chemicalformula.org/images/glucose.jpg>. (วันที่ค้นข้อมูล : 15 สิงหาคม 2552).

โครงสร้างพื้นฐานของเซลล์. [On-line]. Available from URL [http://www.geocities.com/p\\_ook\\_kung/cellstructure.htm](http://www.geocities.com/p_ook_kung/cellstructure.htm)

โครงสร้างโมลกุลของแป้ง. [On-line]. Available form <http://chemistry2.csudh.edu/rpendarvis/1feb23.gif>.

(วันที่ค้นข้อมูล : 15 สิงหาคม 2552).

โครงสร้างโมลกุลของอินซูลิน. [On-line]. Available form <http://th.wikipedia.org/wiki/> (วันที่ค้นข้อมูล :  
15 สิงหาคม 2552).

โครงสร้างโมลกุลของอีโมโกลบิน. [On-line]. Available form <http://images.google.co.th/imag>.

(วันที่ค้นข้อมูล : 13 สิงหาคม 2552).

โครงสร้างโมเลกุลซูโครส. [On-line]. Available form

<http://www.unisanet.unisa.edu.au/08365/timages/sucrose.jpg>.

(วันที่ค้นข้อมูล : 15 สิงหาคม 2552).

โครงสร้างโมเลกุลเซลโลไบโอส. [On-line]. Available form [http://www.thuisexperimenteren.nl/science/reageerbuisproeven/fehling/lactose\\_2.gif](http://www.thuisexperimenteren.nl/science/reageerbuisproeven/fehling/lactose_2.gif).

(วันที่ค้นข้อมูล : 15 สิงหาคม 2552).

โครงสร้างโมเลกุลแลคโทส. [On-line]. Available form [http://www.7Lactose\\_Haworth.svg.png](http://www.7Lactose_Haworth.svg.png).

(วันที่ค้นข้อมูล : 15 สิงหาคม 2552).

เซลล์ โครงสร้าง และหน้าที่ของเซลล์ [On-line]. Available from URL

<http://edtech.kku.ac.th/~s48221275012/485050153-3/12.html>

เซลล์และการแบ่งเซลล์. [On-line]. Available from URL <http://www.muic>

[hatyai.ac.th/redesign/download/cell\\_grade7.ppt#267](http://www.muic.hatyai.ac.th/redesign/download/cell_grade7.ppt#267), 11, ภาพนิ่ง 11

ชาติลีซีเมีย. [On-line]. Available from URL: <http://healthnet.md.chula.ac.th>. (วันที่ค้นข้อมูล : 5 มกราคม 2551).

บงกช อนันตโชติชัย. วิทยาศาสตร์ ระดับมัธยมศึกษาตอนปลาย. กรุงเทพฯ : ดอง ไลฟ์ เอ็ด จำกัด, 2551.

บัญชา แสนทวีและคณะ. หนังสือเรียนสาระการเรียนรู้พื้นฐาน เล่ม 1 สิ่งมีชีวิตกับกระบวนการดำรงชีวิต.

กรุงเทพฯ : วัฒนาพานิช, 2549.

บัญชา แสนทวี และคณะ. (2550). *สื่อการเรียนรู้การศึกษานอกโรงเรียน (กศน.) หมวดวิชาวิทยาศาสตร์ SC 20*

*ระดับมัธยมศึกษาตอนต้น. บริษัทวัฒนาพานิช จำกัด, กรุงเทพฯ. หน้า 241.*

บัญญัติ ดายพยัคฆ์ และคณะ. หมวดวิชาวิทยาศาสตร์ ระดับมัธยมศึกษาตอนปลาย. กรุงเทพฯ : บริษัท

สำนักพิมพ์บรรณกิจ 1991 จำกัด, 2546.

แบบสืบเสาะหาความรู้ เล่ม 1. กรุงเทพฯ : บริษัท เจเนอรัลบุ๊ก เซนเตอร์ จำกัด, 2531.

ประทุม โพธิ์งาม. *คู่มือจัดกิจกรรมการเรียนรู้ความหลากหลายทางชีวภาพ. ลำปาง :*

*ศูนย์วิทยาศาสตร์เพื่อการศึกษาลำปาง, 2551.*

ประวิตร ชูศิลป์, รศ. และ สุวัฒน์ นิชมคำ, รศ. *ทฤษฎีและทางปฏิบัติในการสอนวิทยาศาสตร์*

*ผลกระทบของสารเคมีที่มีต่อสุขภาพ. [On-line]. Available form สืบค้นวันที่ 28 สิงหาคม 2552*

จาก <http://www.doae.go.th/report/sukda/pol/page01.html>

ผลไม้. [On-line]. Available from URL <http://www.moac.infia.net/module/new>.

(วันที่ค้นข้อมูล : 5 มกราคม 2551).

พรพรรณ เลิศทวีสินธุ์. *การใช้ประโยชน์จากจุลินทรีย์ในอุตสาหกรรม. กรุงเทพฯ : องค์การค้ำของ*

*คุรุสภา, 2544.*

พะเยาว์ ยินดีและคณะ. *หนังสือเรียนสาระการเรียนรู้พื้นฐาน ชีววิทยา. กรุงเทพฯ : พัฒนาคุณภาพวิชาการ,*

*2546.*

พัชรี พิพัฒวรรณกุล. *สื่อเสริมสาระการเรียนรู้พื้นฐานและเพิ่มเติม ชีววิทยา. กรุงเทพฯ : ฟิสิกส์เซ็นเตอร์, 2546.*

- พัชรี พิพัฒรรณกุล. หนังสือเสริมประสบการณ์ ชีววิทยา 2. กรุงเทพฯ : ฟิสิกส์เซ็นเตอร์, 2542.
- วินัย วิทยาลัย .เคมี ม.6 เล่ม 2 035 . กรุงเทพฯ : หจก.สำนักพิมพ์ฟิสิกส์เซ็นเตอร์ , 2540.
- ศึกษานิเทศกร, กระทรวง. โครงการงานวิทยาศาสตร์ . กรุงเทพฯ : โรงพิมพ์คุรุสภาลาดพร้าว, 2544.
- ศึกษานิเทศกร, กระทรวง. หนังสือเรียนวิชาเคมี 1 (ว 432). กรุงเทพฯ : โรงพิมพ์คุรุสภาลาดพร้าว, 2541.
- ศึกษานิเทศกร, กระทรวง. หนังสือเรียนวิชาเคมี 2 (ว 036). กรุงเทพฯ : โรงพิมพ์คุรุสภาลาดพร้าว, 2542.
- สมบัติของโปรตีน. [On-line]. Available form: <http://thapring.com/Pingpong-web/Biomolecules-web/Protein-04.html>.  
(วันที่ค้นข้อมูล : 13 สิงหาคม 2552).
- สราวุธ ญาณยุท. (2547). หนังสือเรียนสาระการเรียนรู้พื้นฐาน กลุ่มสาระการเรียนรู้ช่วงชั้นที่ 3 ระดับมัธยมศึกษาตอนต้น การงานอาชีพและเทคโนโลยี งานช่าง. สำนักพิมพ์แม็ก จำกัด. หน้า 59-62.
- ส่งเสริมการสอนวิทยาศาสตร์และเทคโนโลยี, สถาบัน. คู่มือการทำและการจัดแสดงโครงการงานวิทยาศาสตร์และเทคโนโลยี, กรุงเทพฯ : สถาบันการสอนวิทยาศาสตร์และเทคโนโลยี, 2531.
- สารในชีวิตประจำวัน. [On-line]. Available form สืบค้นวันที่ 25 สิงหาคม 2552 จาก  
[http:// ednet.kku.ac.th/sumcha/chem/pages/links.htm](http://ednet.kku.ac.th/sumcha/chem/pages/links.htm)
- สารปรุงแต่งอาหาร. [On-line]. Available form สืบค้นวันที่ 24 สิงหาคม 2552 จาก  
[http://ednet.kku.ac.th/sumcha/chem/pages/content-pb1\\_6](http://ednet.kku.ac.th/sumcha/chem/pages/content-pb1_6)
- สำนักงาน กศน. (2547). ชุดการเรียนรู้ทางไกล หมวดวิชาพัฒนาอาชีพ รหัส พอ20 ระดับมัธยมศึกษาตอนต้น. โรงพิมพ์องค์การรับส่งสินค้าและพัสดุภัณฑ์, กรุงเทพฯ. หน้า 70, 79 – 81.
- (2553). หนังสือเรียนสาระทักษะความรู้พื้นฐาน รายวิชาวิทยาศาสตร์ พว.11001 หลักสูตร การศึกษานอกระบบ ระดับการศึกษาขั้นพื้นฐาน พุทธศักราช 2551. พิมพ์ครั้งที่ 1/2553. บริษัท เอกพิมพ์ไท จำกัด กรุงเทพฯ. หน้า 159 – 160.
- สุชาติ วงศ์สุวรรณ.(2546). การเรียนรู้สำหรับศตวรรษที่ 21 การเรียนรู้ที่ผู้เรียนเป็นผู้สร้างความรู้ด้วยตนเอง โครงการเอกสารประกอบการอบรมเชิงปฏิบัติการ การพัฒนาการจัดกระบวนการเรียนรู้แบบบูรณาการ. โรงเรียนหาดใหญ่วิทยาลัยสมบูรณกุลกันยา จังหวัดสงขลา.
- สุนทร .เคมี เล่ม 2 ว 036 . กรุงเทพฯ : สำนักพิมพ์พัฒนศึกษา, 2545.
- สุรศักดิ์ อมรรัตนศักดิ์. คณิตศาสตร์ 2. กรุงเทพฯ : ศูนย์ส่งเสริมวิชาการ, ม.ป.ป.
- สุวัฒน์ คล่องดี. เทคนิคการสอนโครงการงานวิทยาศาสตร์ (ฉบับประสบการณ์). 2534, เอกสารเผยแพร่.
- ไสว พักขาว. โครงการงานวิทยาศาสตร์. กรุงเทพฯ : เอ็มพันธ์, 2540.
- หลักฐานการเจริญเติบโตของเอ็มบริโอ. [ออนไลน์]. เข้าถึงได้จาก : <http://Sema.go.th>.  
(วันที่ค้นข้อมูล : 15 ธันวาคม 2550).
- หลักฐานความคล้ายคลึงของโครงสร้าง. [On-line]. Available from URL <http://ebook.nfe.go.th/ebook/html>. (วันที่ค้นข้อมูล : 15 ธันวาคม 2550).

หน่วยศึกษานิเทศ, กรมอาชีวศึกษา. **โครงการวิทยาศาสตร์**. 2544, เอกสารเผยแพร่.

อร่าม คุ่มทรัพย์. **วิทยาศาสตร์ ม.ปลาย**. นนทบุรี : บริษัท ปิยมิตร มัลติมีเดีย จำกัด , 2546. ตำราญ พฤษย์  
**อาณาจักรพืช**. [On-line]. Available from URL <http://images.google.co.th>. (วันที่ค้นข้อมูล : 17 มกราคม 2550).

**อาณาจักรสัตว์**. [On-line]. Available from URL <http://images.google.co.th>. (วันที่ค้นข้อมูล : 17 มกราคม 550).

**Archaeopteryx**. [On-line]. Available from : <http://www.clamisela.com/200/photo/cg4/archaeopteryx.jpg>.

(cited 2008 Dec 15).

**DNA**. [On-line]. Available from : <http://www.allposters.com>. (cited 2009 Jan 10).

**Fungi**. [On-line]. Available from : <http://www.willams class.com/sixth science work>.

(cited 2009 Jan 17).

**Homologous structure**. [On-line]. Available from : <http://taggart.glg.edu/isb 200/HoMol.GIF>.

(cited 2008 Dec 15).

**Monera**. [On-line]. Available from : <http://web.kku.ac.th/tunproject/jan46/new/spirah.jpg>.

(cited 2009 Jan 17).

**phospholipid**. [On-line]. Available from : <http://www.indiana.edu/~oso/Fat/FatImg/lecithin.jpg>

(cited 2009 Aug 17).

**Protista**. [On-line]. Available from : <http://www.vcharkarn.com/upbads/21/21202.jpg>.

(cited 2009 Jan 17).

**Pteranodon**. [On-line]. Available from : <http://www.upload.wikimedia.org/wiki/image.Pteranodon>. (cited 2008

Dec 15).

**saturated fatty acid**. [On-line]. Available from : <http://bioweb.wku.edu/courses>

[/bioweb.wku.edu/courses/biol115/Wyatt/Biochem/Lipid/saturated\\_FA.gif](http://bioweb.wku.edu/courses/biol115/Wyatt/Biochem/Lipid/saturated_FA.gif). (cited 2009 Aug 17).

**Sex chromosome**. [On-line]. Available from : <http://www.geocities.com>. (cited 2009 Jan 11).

**Trisomy 21**. [On-line]. Available from : <http://www.csulb.edu/kmacd/361> (cited 2009 Jan 11).

## คณะผู้จัดทำ

### ที่ปรึกษา

- |                          |  |
|--------------------------|--|
| 1. นายประเสริฐ บุญเรือง  | เลขาธิการ กศน.                               |
| 2. นายชัยศ อิมสุวรรณ     | รองเลขาธิการ กศน.                            |
| 3. นายวัชรินทร์ จำปี     | รองเลขาธิการ กศน.                            |
| 4. นางวัทนี จันทร์โอกุล  | ผู้เชี่ยวชาญเฉพาะด้านพัฒนาสื่อการเรียนการสอน |
| 5. นางชุลีพร ผาคินินนาท  | ผู้เชี่ยวชาญเฉพาะด้านเผยแพร่ทางการศึกษา      |
| 5. นางอัญชลี ธรรมวิธิกุล | หัวหน้าหน่วยศึกษานิเทศก์                     |
| 6. นางศุภธินี งามเขตต์   | ผู้อำนวยการกลุ่มพัฒนาการศึกษานอกโรงเรียน     |

### ผู้เขียนและเรียบเรียง

- |                            |   |
|----------------------------|---|
| 1. นายสงค์ ประดิษฐสุวรรณ   | ผู้อำนวยการอุทยานวิทยาศาสตร์ พระจอมเกล้า<br>ฉ. หว่ากอ จ.ประจวบคีรีขันธ์ |
| 2. นายประกิต จันทร์ศรี     | ผู้อำนวยการศูนย์วิทยาศาสตร์เพื่อการศึกษา<br>สมุทรสาคร                   |
| 3. นายชัยกิจ อนันตนิรติสัย | ผู้อำนวยการศูนย์วิทยาศาสตร์เพื่อการศึกษาตรัง                            |
| 4. นายสุชาติ มาลากรรณ์     | ผู้อำนวยการศูนย์วิทยาศาสตร์เพื่อการศึกษา<br>พระนครศรีอยุธยา             |

### ผู้บรรณาธิการ และพัฒนาปรับปรุง

- |                            |   |
|----------------------------|---|
| 1. นายสงค์ ประดิษฐสุวรรณ   | ผู้อำนวยการอุทยานวิทยาศาสตร์ พระจอมเกล้า<br>ฉ. หว่ากอ จ.ประจวบคีรีขันธ์ |
| 2. นายประกิต จันทร์ศรี     | ผู้อำนวยการศูนย์วิทยาศาสตร์เพื่อการศึกษา<br>สมุทรสาคร                   |
| 3. นายชัยกิจ อนันตนิรติสัย | ผู้อำนวยการศูนย์วิทยาศาสตร์เพื่อการศึกษาตรัง                            |
| 4. นายสุชาติ มาลากรรณ์     | ผู้อำนวยการศูนย์วิทยาศาสตร์เพื่อการศึกษา<br>พระนครศรีอยุธยา             |
| 5. นางสาวสุรีพร เจริญนิช   | ข้าราชการบำนาญ  |
| 6. นางธัญญวดี เหล่าพณิชย์  | ข้าราชการบำนาญ  |
| 7. นางเอื้อจิตร สมจิตต์ชอบ | ข้าราชการบำนาญ  |
| 8. นางสาวชนิตาจิตต์ธรรม    | ข้าราชการบำนาญ  |
| 9. นางสาวอนงค์ เชื้อนนท์   | สำนักงาน กศน เขตบางเขน  |
| 11. นางคุษฎี ศรีวัฒนาโรทัย | กลุ่มพัฒนาการศึกษานอกโรงเรียน   |

- |                     |         |                               |
|---------------------|---------|-------------------------------|
| 12. นางพรทิพย์      | เข้มทอง | กลุ่มพัฒนาการศึกษานอกโรงเรียน |
| 13. นางสาวเยาวรัตน์ | คำตรง   | กลุ่มพัฒนาการศึกษานอกโรงเรียน |

#### คณะทำงาน

- |                    |                |                               |
|--------------------|----------------|-------------------------------|
| 1. นายสุรพงษ์      | มันมะโน        | กลุ่มพัฒนาการศึกษานอกโรงเรียน |
| 2. นายศุภโชค       | ศรีรัตนศิลป์   | กลุ่มพัฒนาการศึกษานอกโรงเรียน |
| 3. นางสาววรรณพร    | ปัทมานนท์      | กลุ่มพัฒนาการศึกษานอกโรงเรียน |
| 4. นางสาวศรีัญญา   | กุลประดิษฐ์    | กลุ่มพัฒนาการศึกษานอกโรงเรียน |
| 5. นางสาวเพชรินทร์ | เหลืองจิตวัฒนา | กลุ่มพัฒนาการศึกษานอกโรงเรียน |

#### คณะกรรมการปรับสาระความรู้พื้นฐาน รายวิชาวิทยาศาสตร์ เพื่อการประกอบอาชีพ

- |                 |                |  |
|-----------------|----------------|--|
| 1. นายสงค์      | ประดิษฐสุวรรณ  | ผู้อำนวยการศูนย์วิทยาศาสตร์เพื่อการศึกษาพระจอมเกล้า<br>ฉนวนกิ่งกอบ ประจวบคีรีขันธ์ |
| 2. นายมาโนชฐ์   | ลากจิตร        | รองผู้อำนวยการศูนย์วิทยาศาสตร์เพื่อการศึกษา นครราชสีมา                             |
| 3. นางจันทร์ศรี | อาจสุโพธิ์     | รองผู้อำนวยการศูนย์วิทยาศาสตร์เพื่อการศึกษา อุบลราชธานี                            |
| 4. นางณัฐพร     | มณูประเสริฐ    | ครูชำนาญการพิเศษ ศูนย์วิทยาศาสตร์เพื่อการศึกษา ขอนแก่น                             |
| 5. นางอัญญาทิศา | คชเสนีย์       | ครูชำนาญการพิเศษ ศูนย์วิทยาศาสตร์เพื่อการศึกษา สมุทรสาคร                           |
| 6. นายชัยพัฒน์  | พันธุ์วัฒนสกุล | นักวิชาการศึกษานอกโรงเรียน<br>กลุ่มพัฒนาการศึกษานอกโรงเรียน                        |

#### ผู้พิมพ์ต้นฉบับ

- |                 |                |                               |
|-----------------|----------------|-------------------------------|
| นางสาวเพชรินทร์ | เหลืองจิตวัฒนา | กลุ่มพัฒนาการศึกษานอกโรงเรียน |
|-----------------|----------------|-------------------------------|

#### คณะกรรมการและพัฒนาปรับปรุง ครั้งที่ 2

- |                 |                |   |
|-----------------|----------------|---|
| 1. นายสงค์      | ประดิษฐสุวรรณ  | ผู้อำนวยการอุทยานวิทยาศาสตร์พระจอมเกล้า<br>ฉนวนกิ่งกอบ จังหวัดประจวบคีรีขันธ์ |
| 2. นายมาโนชฐ์   | ลากจิตร        | รองผู้อำนวยการศูนย์วิทยาศาสตร์เพื่อการศึกษา นครราชสีมา                        |
| 3. นางจันทร์ศรี | อาจสุโพธิ์     | รองผู้อำนวยการศูนย์วิทยาศาสตร์เพื่อการศึกษา อุบลราชธานี                       |
| 4. นางณัฐพร     | มณูประเสริฐ    | ครูชำนาญการพิเศษ ศูนย์วิทยาศาสตร์เพื่อการศึกษา ขอนแก่น                        |
| 5. นางอัญญาทิศา | คชเสนีย์       | ครูชำนาญการพิเศษ ศูนย์วิทยาศาสตร์เพื่อการศึกษา สมุทรสาคร                      |
| 6. นายชัยพัฒน์  | พันธุ์วัฒนสกุล | นักวิชาการศึกษานอกโรงเรียน<br>กลุ่มพัฒนาการศึกษานอกโรงเรียน                   |



## คณะผู้ปรับปรุงข้อมูลเกี่ยวกับสถาบันพระมหากษัตริย์ ปี พ.ศ. 2560

### ที่ปรึกษา

- |                |          |  |
|----------------|----------|--|
| 1. นายสุรพงษ์  | จำจด     | เลขาธิการ กศน.   |
| 2. นายประเสริฐ | หอมดี    | ผู้ตรวจราชการกระทรวงศึกษาธิการ ปฏิบัติหน้าที่<br>รองเลขาธิการ กศน. |
| 3. นางตรีนุช   | สุขสุเดช | ผู้อำนวยการกลุ่มพัฒนาการศึกษาจากระบบ<br>และการศึกษาตามอัธยาศัย     |

### ผู้ปรับปรุงข้อมูล

- |             |           |                             |
|-------------|-----------|-----------------------------|
| นางสาวอนงค์ | เขื่อนนท์ | กศน.เขตบางเขน กรุงเทพมหานคร |
| นางทิพวัลย์ | ศรีนวล    | กศน.เขตบางเขน กรุงเทพมหานคร |

### คณะทำงาน

- |                   |               |   |
|-------------------|---------------|---|
| 1. นายสุรพงษ์     | มันมะโน       | กลุ่มพัฒนาการศึกษาจากระบบและการศึกษา<br>ตามอัธยาศัย |
| 2. นายสุภโชค      | ศิริรัตนศิลป์ | กลุ่มพัฒนาการศึกษาจากระบบและการศึกษา<br>ตามอัธยาศัย |
| 3. นางสาวเบญจวรรณ | อำไพศรี       | กลุ่มพัฒนาการศึกษาจากระบบและการศึกษา<br>ตามอัธยาศัย |
| 4. นางเยาวรัตน์   | ปิ่นมณีวงศ์   | กลุ่มพัฒนาการศึกษาจากระบบและการศึกษา<br>ตามอัธยาศัย |
| 5. นางสาวสุกลาง   | เพชรสว่าง     | กลุ่มพัฒนาการศึกษาจากระบบและการศึกษา<br>ตามอัธยาศัย |
| 6. นางสาวทิพวรรณ  | วงศ์เรือน     | กลุ่มพัฒนาการศึกษาจากระบบและการศึกษา<br>ตามอัธยาศัย |
| 7. นางสาวนภาพร    | อมรเดชาวัฒน์  | กลุ่มพัฒนาการศึกษาจากระบบและการศึกษา<br>ตามอัธยาศัย |
| 8. นางสาวชมพูนท   | สังข์พิชัย    | กลุ่มพัฒนาการศึกษาจากระบบและการศึกษา<br>ตามอัธยาศัย |

C  
8  
+ 0  
2 1

555268746  
01



ออกแบบโดย : ศุภโชค ศรีรัตนศิลป์

9834560878234567

9834560878234567  
+62-1547